

# السسلطان مذكرات

## الدراسات الإجتهاعية

الصف السادس الابتدائى

الفصل الدراسى الأول



إعداد

محمد فتحى

012 000 28 345

EL.Sulttan

الفصل

الدراسى الأول

# السلاطان مذكرات

## الدراسات الإجتهاعية

### الصف السادس الابتدائى

- شرح وافى ومبسط لجميع النقاط.
- أسئلة على أهم النقاط.
- مراجعة شاملة بعد كل درس.

مُحَمَّدٌ فَتْحِيهَا



مذكرات السلطان

[www.facebook.com/EL.Sulttan](http://www.facebook.com/EL.Sulttan)

## خصائص البيئات المصرية

### البيئة

هى المكان الذى نعيش فيه ويضم مظاهر طبيعية ومظاهر حضارية وتتوافر به مقومات استمرار الحياة من (مأكل ومشرب وملبس ومسكن) وتناثر به ونؤثر فيه.



### خصائص البيئات المصرية

#### ١ التنوع

■ تتنوع البيئات المصرية حيث يوجد:

- البيئة الزراعية.
- البيئة الصناعية.
- البيئة الصحراوية.
- البيئة الساحلية.

بم تفسر: تنوع البيئات المصرية؟

- كـ بسبب: (١) اتساع مساحة مصر تزيد بقليل عن مليون كم<sup>٢</sup>.  
 (٢) تنوع مظاهر السطح (جبال - هضاب - منخفضات - بحار - نهر النيل).  
 (٣) تنوع الموارد الطبيعية (معادن - مصادر طاقة - نباتات) وغيرها.

ما النتائج المترتبة على: تنوع البيئات المصرية؟

- كـ ترتب على ذلك: (١) تنوع الثروات الطبيعية.  
 (٢) تنوع الانتاج الاقتصادى.

#### ٢ التداخل

\* تتداخل البيئات المصرية حيث نجد:

- البيئة الصناعية داخل البيئة الزراعية.
- البيئة الزراعية داخل البيئة الصحراوية.
- البيئة الصناعية داخل البيئة الساحلية.

بم تفسر: تداخل البيئات المصرية؟

كـ بسبب: عدم وجود حدود فاصلة تفصل بينها.

#### ٣ التكامل

بم تفسر: أهمية التكامل بين البيئات المصرية؟

كـ لأن: كل بيئة تمد البيئات الأخرى بما تحتاج إليه من منتجات.

- فنجد: • البيئة الزراعية: تمدنا بـ (المحاصيل الزراعية والمنتجات الحيوانية).
- البيئة الصناعية: تمدنا بـ (الصناعات المختلفة والآلات).
- البيئة الصحراوية: تمدنا بـ (المعادن المختلفة اللازمة للصناعة).
- البيئة الساحلية: تمدنا بـ (الثروات المائية كالأسمك والأملاح).

## أسئلة

### أكمل:

- ١) البيئة تضم مظاهر ..... ومظاهر ..... ومقومات .....
- ٢) من خصائص البيئات المصرية ..... و..... و.....
- ٣) البيئة ..... تمدنا بالمعادن.
- ٤) تمدنا البيئة الزراعية ب..... و.....
- ٥) تمدنا البيئة ..... بالأسماك والأملاح.

### بم تفسر:

- ١) تنوع البيئات في مصر؟

.....  
 .....  
 .....

- ٢) تداخل البيئات المصرية مع بعضها؟

.....  
 .....

- ٣) أهمية تكامل البيئات المصرية مع بعضها؟

.....  
 .....

### ما النتائج المترتبة على:

- ١) تنوع البيئات المصرية؟

.....  
 .....

- ٢) تداخل البيئات المصرية مع بعضها؟

.....  
 .....

### أكتب ما تشير إليه الجمل الآتية:

- ١) بيئة تمدنا بالمعادن ومصادر الطاقة. (.....)
- ٢) بيئة تمدنا بالأملاح والأسماك. (.....)
- ٣) أشياء لازمة لوجود الحياة. (.....)
- ٤) بيئة تمدنا بالمنتجات الحيوانية. (.....)

### ما المقصود بالمصطلحات الآتية:

البيئة:

.....  
 .....  
 .....

## خصائص البيئة الزراعية

### البيئة الزراعية

هي البيئة التي يتوافر بها مقومات الزراعة (تربة خصبة - مياه عذبة) وما يرتبط بها من أعمال أخرى.

\* أستقر المصريون القدماء على (ضفتى نهر النيل - الدلتا) وارتبط استقرارهم بالزراعة ووجودهم في البيئة الزراعية.

تتنوع الزراعة في مصر حسب نوع الري كما يلي:

### أنواع الزراعة

#### الزراعة المطرية

هي الزراعة التي تقوم على مياه الأمطار الشتوية وتوجد في الساحل الشمالى (بيئة ساحلية).

#### الزراعة المروية

هي الزراعة التي تقوم على مياه نهر النيل أو المياه الجوفية.

#### الزراعة على المياه الجوفية

توجد في: الواحات بالصحراء الغربية. تعتمد على: مياه الآبار والعيون. (بيئة صحراوية).

#### الزراعة على مياه نهر النيل

توجد في: السهول الفيضية الخصبة. بالوادي والدلتا ومنخفض الفيوم. مساحتها: ٨,٥ مليون فدان.

### السهل الفيضى

أرض مستوية تتكون على جانبي النهر نتيجة الرواسب الطينية التي ينقلها نهر النيل من منابعه.

### أولاً مناطق الزراعة المروية في مصر

#### ١ الدلتا

- \* تبدو في شكل مثلث قاعدته على ساحل البحر المتوسط ورأسه شمال مدينة القاهرة.
- مساحة الأراضي الزراعية بها أكثر من ٥٥% من جملة مساحة الأراضي الزراعية في مصر.
- عدد محافظتها ١١ محافظة.



بورسعيد - الإسماعيلية - الدقهلية - الشرقية  
دمياط - القليوبية - الغربية - المنوفية  
كفر الشيخ - البحيرة - الإسكندرية  
وأجزاء من الجيزة.

بم تفسر: لا تصلح الزراعة في الأطراف الشمالية للدلتا؟  
كـ سبب: ارتفاع نسبة الملوحة وكثرة المستنقعات.



مذكرات السلطان

www.facebook.com/EL.Sulttan



### ٢ وادي النيل

- \* **يمتد وادي النيل طولياً لأكثر من ١٠٠٠ كم** وتوجد به الأراضي الفيضية الخصبة على جانبي نهر النيل من أسوان إلى القاهرة.
- **مساحة الأراضي الزراعية به: ٢٨٪** من مساحة الأراضي الزراعية في مصر (نصف مساحة الأراضي الزراعية بالدلتا).
- **عدد محافظات ٩ محافظات:** الجيزة - الفيوم - بني سويف - المنيا - أسيوط - سوهاج - قنا - الأقصر - أسوان
- **بم تفسر: لا توجد أراضي زراعية داخل محافظة القاهرة؟**
- **بم سبب: الزحف العمراني عليها.**

### ٣ منخفض الفيوم

\* **يقع في الصحراء الغربية شمال غرب وادي النيل وهو أقرب المنخفضات الصحراوية إلى وادي النيل.**



- \* **يتصل بنهر النيل عن طريق ترعة بحر يوسف** التي تجلب مياه نهر النيل والترية الطينية إلى داخل منخفض الفيوم عبر **فتحة اللاهون**.
- \* **توجد بحيرة قارون** شمال منخفض الفيوم وترتفع بها نسبة الأملاح.
- **بم تفسر: يتميز منخفض الفيوم عن باقي المنخفضات الصحراوية؟**
- **كأن (١):** ترتبه طينية خصبة وتتكون من رواسب نهر النيل.
- **(٢) مياهه تأتي من مياه نهر النيل.**

## ثانياً الخصائص الطبيعية للبيئة الزراعية

### ١ السطح

- **الوادي والدلتا:** تتميز البيئة الزراعية في وادي النيل والدلتا باستواء السطح مما يسهل قيام الزراعة به.
- **منخفض الفيوم:** تظهر فيه الأراضي الزراعية على شكل **مدرجات واسعة**.

• **ما النتائج المترتبة على: الأراضي الزراعية في منخفض الفيوم على شكل مدرجات؟**

• **بم ترتب على ذلك:** استخدام السواقي لرفع المياه لرى الأراضي الزراعية.



السواقي

### ٢ المناخ

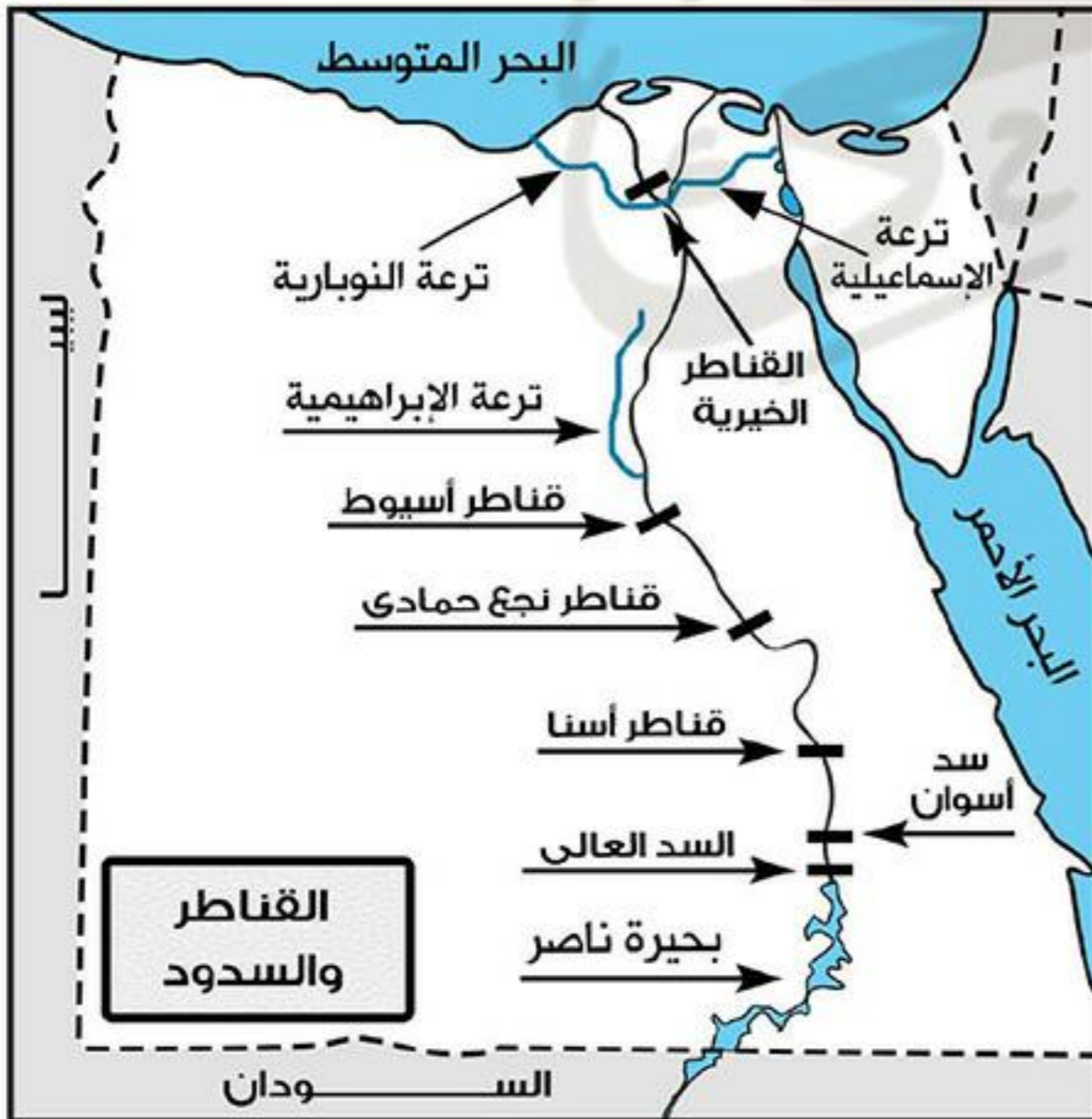
- **يتميز مناخ مصر بالاعتدال:** الحرارة: مرتفعة صيفاً ومعتدلة شتاءً.
- **الأمطار:** قليلة (**لذلك** تعتمد الزراعة على مياه نهر النيل).
- \* **تعتمد الزراعة في الساحل الشمالي على مياه الأمطار الشتوية** «بيئة ساحلية».

## ٣ مصادر المياه

\* تعتمد الزراعة في الوادي والدلتا ومنخفض الفيوم على مياه نهر النيل لذلك أقامت الدولة العديد من مشروعات الري لتوصيل مياه نهر النيل للأراضي الزراعية عن طريق شبكات ري.

## أهم مشروعات الري

السدود	القناطر	الترع
هو بناء هندسي يشيد على الأنهار للحماية من خطر الفيضان وتوفير المياه لاستخدامها وقت انخفاض منسوب مياه النهر.	هي حاجز مائي أنشئ بغرض رفع منسوب المياه أمامها لنقلها للأراضي مرتفعة المنسوب.	هي قناة مائية يتم حفرها لتوصيل المياه من النهر إلى الأراضي الزراعية.
<b>السدود</b>	<b>أهم القناطر</b>	<b>أهم الترع</b>
• <b>السد العالي:</b> في أسوان.	• <b>في الدلتا:</b> • القناطر الخيرية: على رأس الدلتا. • <b>في الوادي:</b> • قناطر إسنا. • قناطر أسيوط.	• <b>في الدلتا:</b> • ترعة الإسماعيلية: شرق الدلتا. • ترعة النوبارية: غرب الدلتا. • <b>في الوادي:</b> • ترعة الإبراهيمية: غرب الوادي.



بم تفسر: أهمية السد العالي لمصر؟

ما النتائج المترتبة على: بناء السد العالي؟

• ترتب على ذلك: (١) حماية مصر من خطر الفيضان.

(٢) تخزين مياه الفيضان لاستخدامها وقت الحاجة.

(٣) ساعد على زيادة مساحة الأراضي الزراعية.

(٤) توليد الطاقة الكهربائية.

## ٤ التربة

- تربة الوادي والدلتا ومنخفض الفيوم تربة طينية خصبة كونها نهر النيل من رواسبه على جانبيه منذ آلاف السنين.
- تتكون التربة من: - نسبة كبيرة من الصلصال.
- نسبة قليلة من الرمال.
- تتميز التربة بأنها: خصبة - سميكة - سوداء اللون.
- \* لذلك تربة الوادي والدلتا ومنخفض الفيوم مهمة لقيام النشاط الزراعي.

## ٥ النباتات الطبيعية والحيوان البرية

■ **النبات الطبيعي:** ينمو على ضفاف نهر النيل وجوانب الترع.

■ **بم تفسر:** ندرة النبات الطبيعي في البيئة الزراعية؟

■ **بم بسبب:** كثافة النشاط الزراعي الذي يمارسه الإنسان منذ آلاف السنين.

■ **الحيوان البري:** يندر وجود الحيوان البري في البيئة الزراعية مثل الثعلب والذئب.

■ **بم تفسر:** ندرة الحيوانات البرية في البيئة الزراعية؟

■ **بم لأنها:** اتجهت نحو الصحراء.

## ثالثاً الخصائص البشرية للبيئة الزراعية



## أسئلة

**أكمل:**

- (١) من أنواع الزراعة في مصر زراعة ..... وزراعة .....
- (٢) تدخل مياه نهر النيل إلى منخفض الفيوم عن طريق ..... عبر فتحة .....
- (٣) لا يمكن الاعتماد على مياه بحيرة قارون في زراعة منخفض الفيوم لأن مياهها .....
- (٤) تضم دلتا النيل ..... محافظة و ..... من مساحة الأراضي الزراعية في مصر.
- (٥) تقوم الزراعة على مياه الأمطار في ..... وتسمى بالزراعة .....
- (٦) تقوم الزراعة في واحة سيوة بالصحراء الغربية اعتماداً على المياه .....

**بم تفسر:**

- (١) تنوع البيئات المصرية؟
- (٢) لا تجود زراعة الأراضي شمال الدلتا؟
- (٣) اختفاء الأراضي الزراعية في القاهرة؟
- (٤) قيام الزراعة في منخفض الفيوم رغم وقوعه في الصحراء؟
- (٥) أهمية ترعة بحر يوسف؟

**اكتب ما تشير إليه الجمل الآتية:**

- (١) تبدو في شكل مثلث قاعدته في الشمال ورأسه شمال مدينة القاهرة. (.....)
- (٢) آلات يستخدمها المزارعين في منخفض الفيوم لرفع المياه للأراضي الزراعية. (.....)
- (٣) أراضي خصبة تمتد على جانبي النهر تكون من الرواسب الطينية التي يجلبها نهر النيل لمنابعه. (.....)



**ما النتائج المترتبة على :**

- (١) سقوط الأمطار الشتوية على الساحل الشمالى ؟
- (٢) استواء سطح الوادى والدلتا ؟
- (٣) بناء السد العالى ؟

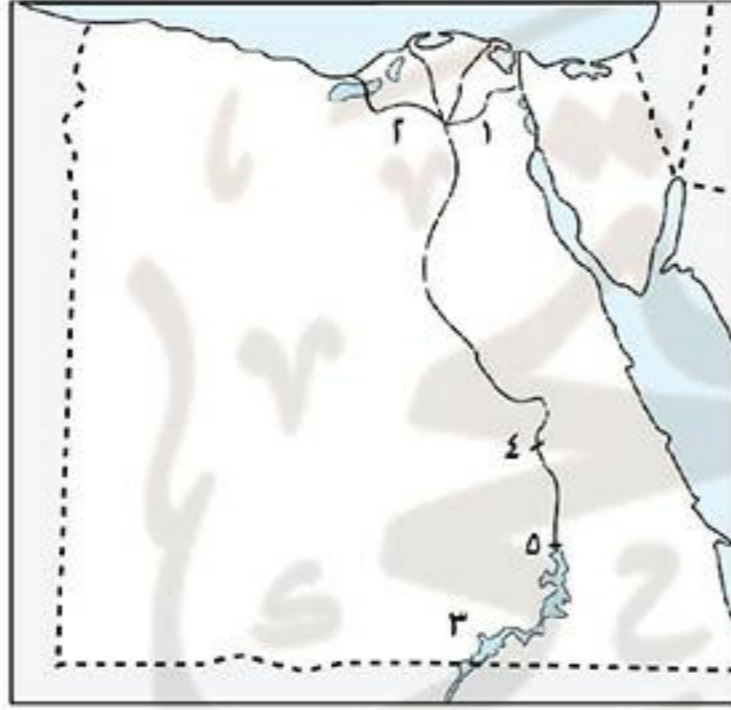
**ضع علامة (✓) أو (×):**

- (١) تبلغ مساحة الأراضى الزراعية التى تعتمد فى الزراعة على مياه نهر النيل نحو ٥,٥ مليون فدان. ( )
- (٢) يفضل الزراعة فى جميع أراضى الدلتا لأن تربتها خصبة. ( )
- (٣) يتصل منخفض الفيوم بنهر النيل عن طريق بحيرة قارون. ( )

**ما المقصود بالمصطلحات الآتية:**

- (١) السهل الفيضى: .....
- (٢) بيئة زراعية: .....

**اختبار**



**أكتب ما تشير إليه الأرقام الآتية:**

١. ترعة .....
٢. ترعة .....
٣. بحيرة .....
٤. قناطر .....
٥. السد .....

**بم تفسر:**

- (١) تداخل البيئات المصرية مع بعضها البعض ؟
- (٢) الزراعة فى مصر لا تعتمد على الأمطار إلا فى الساحل الشمالى ؟
- (٣) ندرة الحيوانات البرية والنباتات الطبيعية فى البيئة الزراعية ؟
- (٤) لا تستخدم مياه بحيرة قارون فى الري ؟
- (٥) يعد منخفض الفيوم بيئة زراعية رغم وقوعه فى الصحراء ؟

**أكمل:**

- (١) يعد منخفض الفيوم منخفض ..... رغم إنه يتصل بنهر النيل عن طريق .....
- (٢) تتميز البيئة الزراعية باستواء سطحها فى ..... بينما تظهر على شكل مدرجات فى .....
- (٣) تقوم الزراعة المروية اعتماداً على مياه ..... والمياه .....

**أكتب ما تشير إليه الجمل الآتية:**

- (١) سهل يتكون من الرواسب الطينية التى يأتى بها نهر النيل من منابعه. (.....)
- (٢) قناة مائية يتم حفرها لتوصيل المياه من النهر إلى الأراضى الزراعية. (.....)
- (٣) بناء هندسى أنشئ بغرض رفع منسوب المياه لنقلها للأراضى الزراعية المرتفعة. (.....)
- (٤) بناء هندسى تم بناءه على مجرى نهر النيل بغرض توفير المياه. (.....)

## سكان البيئة الزراعية

\* بلغ عدد سكان مصر عام ٢٠٠٦م نحو ٧٢,٨ مليون نسمة موزعين كالآتي:



## أولاً مناطق تركز سكان البيئة الزراعية

## محافظات زراعية

هي المحافظات التي يعمل معظم سكانها بالزراعة وتربية الحيوان.

## محافظات حضرية

هي المحافظات التي يعمل معظم سكانها بالصناعة والخدمات.

\* يتركز السكان: في المحافظات القريبة من مجرى نهر النيل وفرعى دمياط ورشيد.

\* يقل السكان: كلما اتجهنا نحو الصحراء.

**بم تفسر:** يتركز سكان البيئة الزراعية في المناطق القريبة من نهر النيل؟

**كـ بسبب:** وجود (تربة خصبة - مياه عذبة) مما يساعد على قيام الزراعة.

**بم تفسر:** يقل تركز سكان البيئة الزراعية كلما اتجهنا نحو الصحاري؟

**كـ بسبب:** قلة جودة التربة.

## ١ الدلتا (الوجه البحري)

• يتركز بها في محافظات الدلتا أكبر عدد من سكان البيئة الزراعية.

\* تناقصت مساحة الأراضي الزراعية في الدلتا نتيجة الزحف العمراني على الأراضي الزراعية.

**بم تفسر:** تناقص مساحة الأراضي الزراعية في الدلتا؟

**كـ بسبب:** الزحف العمراني على الأراضي الزراعية.

## ٢ وادي النيل - منخفض الفيوم (الوجه القبلي)

• يقل السكان في وادي النيل ومنخفض الفيوم عن الدلتا.

**بم تفسر:** قلة عدد السكان في الوادي ومنخفض الفيوم عن الدلتا؟

**كـ بسبب:** ضيق مساحة الأراضي الزراعية.

## الزيادة الطبيعية للسكان في البيئة الزراعية

\* ترتفع الزيادة الطبيعية لسكان المحافظات الزراعية عن المحافظات الحضرية.

**بم تفسر:** ارتفاع معدل الزيادة الطبيعية للسكان في البيئة الزراعية؟

**كـ بسبب:** (١) الزواج المبكر.

(٢) تعدد الزوجات.

(٣) كثرة الإنجاب.

## ثانياً خصائص سكان البيئة الزراعية

## ١ الخصائص الاجتماعية

• تتمثل في العادات الإيجابية والسلبية لسكان البيئة الزراعية.

العادات السلبية	العادات الإيجابية
(١) الزواج المبكر للإناث: مما يؤثر سلباً على صحة المرأة.	(١) التمسك بالأرض الزراعية.
(٢) الحرص على إنجاب أكبر عدد من الذكور.	(٢) التعاون فيما بينهم.
(٣) تفضيل الذكور على الإناث.	(٣) التزاوج بين الناس.
(٤) استخدام الأطفال في أعمال الزراعة.	(٤) احترام الكبير.

## ٢ الخصائص التعليمية

## الأمية

عدم معرفة الشخص القراءة والكتابة.

\* تزداد نسبة الأمية في الريف عن المدن وتصل إلى ٥٠٪ من سكان الريف.  
\* نتيجة لجهود الدولة وزيادة عدد المدارس بالريف بدأ يتشع التعليم بين سكان الريف.

## ٣ الخصائص الاقتصادية

## البطالة

عدد الأفراد الذين في سن العمل ولا يعملون.

■ من الخصائص الاقتصادية لسكان البيئة الزراعية:

- انتشار البطالة.
- انخفاض مستوى دخل الفرد.
- انخفاض مستوى المعيشة.

## الهجرة

## الهجرة

هي انتقال الأفراد من مكان لآخر سواء داخل الدولة أو خارجها لفترة زمنية طويلة.

\* يهاجر الكثير من شباب البيئة الزراعية خاصة الذكور إلى داخل أو خارج الدولة بسبب المشكلات الاقتصادية خاصة البطالة.

ما النتائج المترتبة على: الهجرة من الريف إلى المدن/ الهجرة الداخلية ؟  
\* ترتب على ذلك: (١) زيادة عدد سكان المدن.

- (٢) ظهور العشوائيات على أطراف المدن.
- (٣) زيادة نسبة الذكور في المدن.
- (٤) تناقص نسبة العاملين في مجال الزراعة.

## العشوائيات

هي المناطق التي بنيت بدون تخطيط من الدولة عن طريق وضع اليد وعادة تظهر حول أطراف المدن.

www.facebook.com/EL.Sulttan

انتظر مذكرات المراجعة  
تابعنا على صفحتنا

## ثالثاً بعض المشكلات السكانية بالبيئة الزراعية وجهود الدولة لحلها

المشكلة	جهود الدولة لحلها
<b>البطالة</b>	(١) إنشاء الجمعيات التعاونية الزراعية لتقديم القروض للمزارعين و مدهم بالأسمدة والبذور والمبيدات وشراء منتجاتهم. (٢) تقديم مشروعات تنمية صغيرة ومتوسطة للشباب. (٣) توفير فرص عمل للخريجين.
<b>الأمية</b>	(١) الاهتمام بزيادة أعداد المدارس. (٢) إنشاء مراكز لتعليم الكبار.
<b>مشكلات صحية</b> ناجمة عن استخدام مياه الترع والمصارف الملوثة.	(١) إقامة مراكز صحية (مستوصفات). (٢) الاهتمام بالصرف الصحى. (٣) توصيل الكهرباء والمياه النقية إلى الريف.
<b>تهجير سكان النوبة</b> بعد بناء السد العالى حيث غمرت بحيرة ناصر أراضيهم وقراهم.	(١) قامت وزارة الإسكان بإنشاء قرى سكنية بديلة لهم مثل: (قرية إبريم - قرية أبو سمبل - قرية وادى العرب). (٢) قامت وزارة الصناعة بإنشاء منطقة الصناعات الصغيرة لتشغيل الشباب.

## أسئلة

## أكمل:

- (١) يوجد في البيئة الزراعية نحو ..... من سكان مصر.
- (٢) يزداد تركيز السكان في البيئة الزراعية بالقرب من ..... وفرعى ..... و.....
- (٣) يزداد معدل الزيادة الطبيعية في ..... عن .....
- (٤) من الخصائص الاقتصادية في البيئة الزراعية انخفاض مستوى ..... وانخفاض مستوى .....
- (٥) تنتج المشكلات الصحية في البيئة الزراعية نتيجة استخدام مياه ..... و.....
- (٦) تقوم الزراعة اعتماداً على مياه الأمطار في .....
- (٧) تدخل مياه نهر النيل إلى منخفض الفيوم عن طريق ترعة ..... عبر فتحة .....
- (٨) تقع ترعة ..... شرق الدلتا بينما تقع ترعة ..... غرب الدلتا.
- (٩) أصبحت ..... عاصمة الدولة العثمانية عام ١٤٥٣ م.
- (١٠) انتصر العثمانيون على المهاليك في معركة ..... في صحراء العباسية بمصر عام ١٥١٧ م.
- (١١) تولى السلطان قنصوة الغورى قيادة جيش المهاليك في معركة ..... عام ١٥١٦ م.

## بم تفسر:

- (١) تنوع البيئات المصرية ؟
- (٢) هجرة سكان الريف إلى المدن ؟
- (٣) ضعف وانهار دولة المهاليك ؟

- ٤) ارتفاع معدل المواليد في البيئة الزراعية ؟  
 ٥) ندرة النباتات الطبيعية في البيئة الزراعية ؟  
 ٦) ازدهار دولة المماليك ؟

### أكتب المفهوم الذى تشير إليه العبارات الآتية:

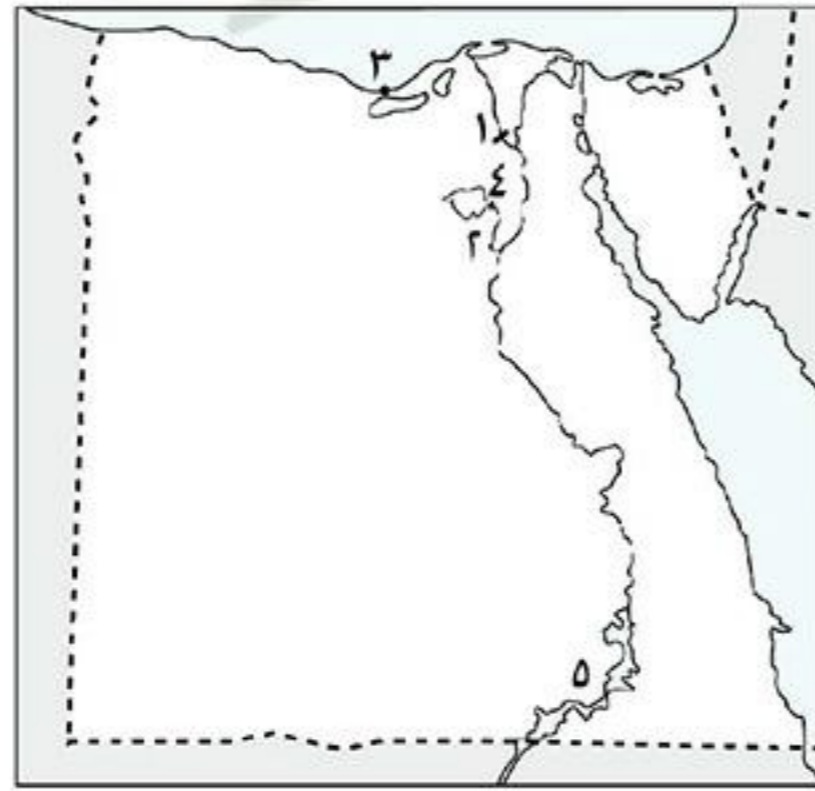
- ١) غلمان تم جلبهم بواسطة التجار وتولوا حكم مصر عقب انهيار الدولة الأيوبية. (.....)  
 ٢) عدد الأشخاص الذين في سن العمل ولا يعملون. (.....)  
 ٣) بناء هندسى على مجرى النهر لاتقاء خطر الفيضان. (.....)  
 ٤) طريق بحرى يدور حول قارة أفريقيا من جهة الغرب والجنوب. (.....)  
 ٥) مناطق بنيت بدون تخطيط من الحكومة عن طريق وضع اليد وتظهر حول المدن. (.....)  
 ٦) سهل يتكون على كلا جانبي النهر من الرواسب الطينية التى ينقلها نهر النيل من منابعه. (.....)

### ما النتائج المترتبة على:

- ١) هجرة السكان من الريف إلى المدن ؟  
 ٢) هزيمة المماليك في معركة الريدانية ١٥١٧م ؟  
 ٣) تنوع البيئات المصرية ؟

### قارن بين: العادات الإيجابية والعادات السلبية لسكان البيئة الزراعية.

العادات السلبية	العادات الإيجابية



### أكتب ما تشير إليه الأرقام الآتية:

١. القناطر .....  
 ٢. ترعة .....  
 ٣. مدينة .....  
 ٤. منطقة زراعية.....  
 ٥. بحيرة .....

### ضع علامة (✓) أو (×) مع التصويب:

- ١) قتل السلطان قنصوة الغورى في معركة الريدانية. ( )  
 ٢) تعتمد الزراعة في الساحل الشمالى على المياه الجوفية. ( )  
 ٣) ارتفاع نسبة الأمية من الخصائص الاقتصادية لسكان البيئة الزراعية. ( )  
 ٤) المحافظات الحضرية هى التى يعمل معظم سكانها بالزراعة وتربية الحيوان. ( )  
 ٥) انتصر المماليك على العثمانيين في معركة الريدانية. ( )

## الأنشطة الإقتصادية فى البيئة الزراعية

### النشاط الإقتصادى

هو استخدام الإنسان للموارد المتاحة لسد احتياجاته من مأكّل ومشرب وملبس.

**بم تفسر:** تنوع الأنشطة الإقتصادية فى البيئة الزراعية؟  
**كـ بسبب:** تنوع الموارد الطبيعية.

### أولاً الأنشطة الإقتصادية فى البيئة الزراعية

#### ١ النشاط الزراعى وتربية الحيوان

■ **النشاط الزراعى هو:** زراعة الأرض وإنتاج المحاصيل، وتربية الحيوانات وتربية الدواجن.



**بم تفسر:** عمل السكان بالنشاط الزراعى؟

**كـ بسبب توافر:** (١) التربة الفيضية الخصبة.  
(٢) موارد المياه من نهر النيل وفرعى دمياط ورشيد وشبكة الترعى.  
(٣) وسائل النقل.

■ **أهم المحاصيل الزراعية بالبيئة الزراعية:**

- حبوب الغذائية: القمح - الذرة - الأرز.
- محاصيل سكرية: قصب السكر - بنجر السكر.
- محاصيل منسوجات: القطن - الكتان.
- \* هناك محاصيل أخرى مثل: البرسيم (وهو غذاء للحيوان).
- الفول و العدس.
- أشجار الفاكهة مثل: المانجو - الليمون.



■ **تربية الحيوان:** تربية فى الحظائر أو الحقول.

• أهم الحيوانات: أبقار - جاموس - أغنام.

**بم تفسر:** أهمية تربية الحيوانات فى البيئة الزراعية؟

**كـ بسبب:** سد حاجة الإنسان من اللحوم والألبان والجلود.

#### ٢ صيد الأسماك

■ يتم صيد الأسماك فى البيئة الزراعية من مصايد:

- نهر النيل وفرعى دمياط ورشيد.
- الترعى والبحيرات مثل بحيرة قارون.
- المزارع السمكية التى أنشئت لزيادة الإنتاج السمكى.





الفخار



السجاد اليدوي

### ٣ الصناعات الحرفية

■ أهم الصناعات الحرفية هي:

- صناعة الأثاث.
- صناعة السجاد اليدوي.
- صناعة الفخار.
- الصناعات الغذائية مثل (حفظ وتعليب التمور).

بم تفسر: تنوع الصناعات الحرفية في البيئة الزراعية؟

كـ بسبب: تنوع الموارد الطبيعية.



البيوت بمنطقة النوبة

### ٤ النشاط السياحي

■ يوجد في البيئة الزراعية مناطق لجذب السياح هي:

- محافظة الفيوم: بحيرة قارون - عين السيلين - السواقي.
- محافظة الشرقية: آثار حضارة تل بسطة.
- منطقة النوبة: يوجد بها آثار تعكس شكل التراث النوبي من مباني وأثاث ومشغولات وزخارف تجذب السياح.

### ثانياً المشكلات المرتبطة باستخدام موارد البيئة الزراعية

\* ظهرت بعض المشكلات في البيئة الزراعية نتيجة الاستخدام السيء للموارد الطبيعية ومنها:

المشكلة	الأسباب	جهود الدولة لحلها
تناقص مساحة الأراضي الزراعية	(١) تجريف التربة لصناعة الطوب الأحمر. (٢) التوسع (الزحف) العمراني والبناء على الأراضي الزراعية.	(١) سن قوانين تجرم تجريف التربة. (٢) تشجيع المزارعين على التوسع الأفقي والرأسي للأراضي الزراعية.
الصرف الزراعي الزائد	- نظام الري الدائم والإسراف في استخدام مياه الري. مما يؤدي إلى: تدهور التربة الزراعية.	(١) إنشاء مصارف حديثة. (٢) إدخال نظام ري حديث مثل الري بالرش والتنقيط.
التلوث البيئي	الإسراف في استخدام الأسمدة الكيماوية والمبيدات الحشرية.	(١) تشجيع المزارعين على استخدام الأسمدة العضوية بدلاً من الأسمدة الكيماوية.

#### مصرف

هو قناة يتم حفرها عند منسوب أقل من منسوب الترغ والأراضي الزراعية لصرف المياه الزائدة عن التربة.

#### تجريف التربة

هو إزالة الطبقة السطحية من تربة الأرض الزراعية مما يؤدي إلى تدهور إنتاجها.

## أسئلة عامة على الدرس

## أكمل:

- (١) من محاصيل الحبوب ..... و..... و.....
- (٢) من مصائد الأسماك فرعى ..... و.....
- (٣) من محاصيل المنسوجات ..... و.....
- (٤) من المناطق الأثرية في محافظة الشرقية .....
- (٥) أدى نظام الري ..... إلى زيادة الصرف الزراعي و..... التربة.
- (٦) تقوم الدولة بتشجيع المزارعين على التوسع ..... وللأرض الزراعية.
- (٧) لزيادة الانتاج السمكى تقوم الدولة بإنشاء .....

## بم تفسر:

- (١) تنوع الصناعات الحرفية بالبيئة الزراعية ؟
- (٢) تعتبر محافظة الفيوم منطقة جذب سياحي ؟
- (٣) معظم سكان البيئة الزراعية يعملون بالزراعة ؟
- (٤) تدهور وتناقص مساحة الأراضي الزراعية ؟
- (٥) اهتمام الحكومة بإنشاء المزارع السمكية ؟

## أكتب ما تشير إليه الجمل الآتية:

- (١) إزالة الطبقة السطحية للأرض الزراعية مما يؤدي لتدهورها.
- (٢) زراعة الأرض وإنتاج المحاصيل وتربية الحيوانات والدواجن.
- (٣) قناة يتم حفرها عند منسوب أقل من منسوب الترعرع والأرض الزراعية.
- (٤) استخدام الإنسان للموارد المتاحة لسد احتياجاته من مأكلاً ومشرباً وملبساً.
- (٥) تقوم الحكومة بإنشاءها لزيادة الإنتاج السمكى.

## ضع علامة (✓) أو (×) مع التصويب:

- ( ) (١) القمح والشعير والكتان من الحبوب الغذائية.
- ( ) (٢) تشجع الحكومة على إدخال نظم ري حديثة مثل الري الدائم.
- ( ) (٣) من الصناعات الحرفية بالبيئة الزراعية الفخار والحديد والصلب.
- ( ) (٤) من المعالم السياحية بمحافظة الشرقية عين السيلين.
- ( ) (٥) يعتمد نشاط صيد الأسماك في البيئة الزراعية على سواحل البحار.
- ( ) (٦) تعتبر آثار حضارة تل بسطة من أهم المناطق السياحية بمحافظة الفيوم.

## ما النتائج المترتبة على:

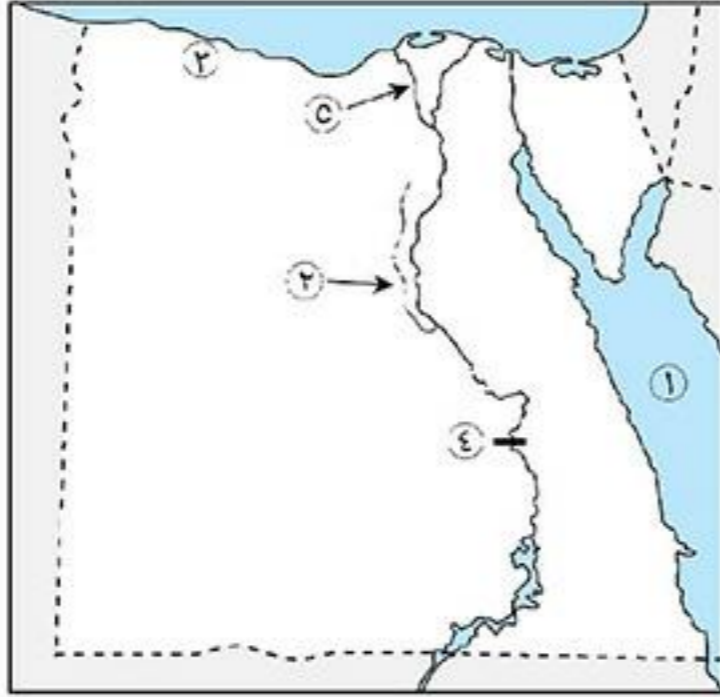
- (١) تجريف التربة الزراعية ؟
- (٢) الإسراف في استخدام مياه الري ؟

## أذكر:

- (١) اثنين من جهود الدولة لحل مشكلات البيئة الزراعية ؟



## اختبار



## أكتب ما تشير إليه الأرقام الآتية:

- (١) البحر .....
- (٢) ترعة .....
- (٣) منطقة زراعية .....
- (٤) قناطر .....
- (٥) منطقة زراعية .....

## ما النتائج المترتبة على :

- (١) الحكم العثماني لمصر ؟
- (٢) هجرة سكان الريف إلى المدن ؟
- (٣) ترحيل السلطان سليم الأول أمهر الصناع والحرفيين إلى الأستانة ؟
- (٤) استخدام الأسمدة والمبيدات الحشرية بكثرة ؟

## أكمل:

- (١) تزيد مساحة الأراضي الزراعية في الدلتا إلى ..... بينما في الوادي إلى ..... من مساحة الأراضي الزراعية في مصر.
- (٢) من الخصائص التعليمية للبيئة الزراعية ..... نسبة .....
- (٣) يعتبر مشكلة تهجير سكان النوبة وغرق أراضيهم من المشكلات ..... في البيئة الزراعية.
- (٤) من العادات الإيجابية في البيئة الزراعية عدم ..... و ..... فيما بينهم.
- (٥) في بداية القرن الـ ١٦ اتجه السلطان ..... بغزواته نحو الشرق.
- (٦) تدهورت الأحوال الاقتصادية للمالِك بعد ..... عام ١٤٩٨ م.
- (٧) من المنخفضات الصحراوية التي تصلح للزراعة .....
- (٨) قتل السلطان قنصوة الغوري في معركة ..... عام .....
- (٩) كان ..... يدعو الديوان للانعقاد.

## أذكر عملاً واحداً لكل من:

- (١) السلطان محمد الثاني ؟
- (٢) الأمير عثمان بن أرطغرل ؟
- (٣) السلطان سليم الأول ؟
- (٤) طومان باي ؟

## ضع علامة (✓) أو (×) مع التصويب:

- ( ) (١) القمح والشعير والكتان من الحبوب الغذائية.
- ( ) (٢) تشجع الحكومة على إدخال نظم ري حديثة مثل الري الدائم.
- ( ) (٣) من الخصائص التعليمية لسكان البيئة الزراعية ارتفاع نسبة الأمية في المدن.
- ( ) (٤) من المعالم السياحية بمحافظة الشرقية عين السيلين.
- ( ) (٥) كانت مدة حكم الديوان تتراوح ما بين عام إلى ٣ أعوام.

## العوامل الطبيعية والبشرية للصناعة

## الصناعة

هي تحويل المواد الخام إلى سلع ومنتجات لسد احتياجات السكان.

\* **البيئة الصناعية:** هي المناطق التي تقوم فيها الصناعة ويعمل معظم سكانها بالصناعة.

\* **تتطلب الصناعة عدة مقومات لقيامها هي:**

- |  |   |
|--|---|
| <b>عوامل طبيعية</b>  | <b>عوامل بشرية</b>  |
| <ul style="list-style-type: none"> <li>• الموقع الجغرافي.</li> <li>• الظروف المناخية.</li> <li>• المواد الخام.</li> <li>• مصادر الطاقة.</li> </ul> | <ul style="list-style-type: none"> <li>• أيدي عاملة وخبرة فنية.</li> <li>• رأس المال.</li> <li>• النقل والمواصلات.</li> <li>• السوق.</li> </ul> |

## أولاً عوامل قيام الصناعة الطبيعية

## ١ الموقع الجغرافي

■ عند إنشاء المصانع يجب مراعاة أن تكون:

- بعيدة عن المناطق السكنية، لعدم تعرضها للتلوث.
- قريبة من مصادر الطاقة والمواد الخام والأسواق.



## ٢ الظروف المناخية

■ يجب مراعاة اتجاه الرياح عند إقامة المصانع حتى لا تتجه الأدخنة والملوثات الصناعية نحو المناطق السكنية.

## ٣ المواد الخام

■ تحتاج الصناعة إلى مواد خام متنوعة ومنها:

<b>مواد خام صخرية</b>	<b>مواد خام معدنية</b>	<b>مواد خام حيوانية</b>	<b>مواد خام زراعية</b>
صخور الرخام.	حديد - فوسفات - منجنيز.	لحوم - ألبان - جلود حيوانات.	القمح - الذرة - القطن - قصب السكر.

## ٣ مصادر الطاقة

■ تحتاج الصناعة إلى مصادر الطاقة المختلفة لإدارة المصانع مثل:

- مصادر طاقة غير متجددة: الفحم والبتروول ومشتقاته والغاز الطبيعي.
- مصادر طاقة متجددة (نظيفة): الطاقة الشمسية - طاقة الرياح.



**بم تفسر: أهمية الطاقة المتجددة؟**

**كأنها:** طاقة نظيفة تحمي البيئة من التلوث.



## ثانياً عوامل قيام الصناعة البشرية

### ١ الأيدي العاملة والخبرة الفنية

■ لنجاح أي صناعة يجب توافر أيدي عاملة فنية مدربة.

### ٢ رأس المال

■ رأس المال من الأمور الأساسية لقيام الصناعة وتحسين نوعيتها لشراء الآلات ودفع أجور العمال.

### ٣ النقل والمواصلات



بم تفسر: أهمية وسائل النقل والمواصلات للصناعة؟

■ لأنها: تقوم بنقل العمال والمواد الخام والمنتجات بأسعار رخيصة.

\* يوجد في مصر شبكة متطورة من طرق النقل بالسيارات والسكك الحديدية والنهرية والبحرية.

### ٤ السوق

#### ينقسم السوق إلى

#### سوق خارجية

هي طلب الدول الأخرى للمنتجات الصناعية المصرية مثل الدول العربية والأفريقية.

#### سوق محلية

هي طلب السكان المحليين للمنتجات الصناعية.

## أهمية البيئة الصناعية

بم تفسر: أهمية البيئة الصناعية؟

■ لأنها: (١) توفر فرص عمل وتقلل البطالة حيث يعمل بها عدد كبير من السكان.

(٢) توفر المنتجات الصناعية المختلفة لسد حاجة السكان.

(٣) تسهم في زيادة الدخل القومي والحصول على العملات الأجنبية من خلال تصدير المنتجات للخارج.

(٤) تسهم في ارتفاع المستوى الاجتماعي والتعليمي والثقافي للسكان.

■ من مجالات العمل المتاحة في البيئة الصناعية:

◀ العمل في المصانع والمنشآت الصناعية.

◀ العمل في التجارة والبنوك.

◀ العمل في النقل والمواصلات.

## العلاقة بين البيئة الزراعية والبيئة الصناعية

ما توفره البيئة الصناعية للبيئة الزراعية	ما توفره البيئة الزراعية للبيئة الصناعية
<ul style="list-style-type: none"> <li>المنتجات الصناعية التي يحتاجها سكان البيئة الزراعية مثل: <ul style="list-style-type: none"> <li>الأجهزة الكهربائية.</li> <li>المنتجات الصناعية الغذائية.</li> <li>الأسمدة الكيماوية والأدوية.</li> <li>الآلات الزراعية مثل آلات حصد المحاصيل.</li> </ul> </li> </ul>	<ol style="list-style-type: none"> <li>المواد الخام الزراعية اللازمة للصناعة مثل القطن.</li> <li>الأيدي العاملة.</li> <li>المنتجات الغذائية لإشباع العاملين بالصناعة وأسرهم.</li> </ol>

## خصائص سكان البيئة الصناعية

■ يتميز سكان البيئة الصناعية بعدة خصائص هي:

- الاهتمام بتعليم الأطفال ورفاهيتهم.
- ارتفاع نسبة التعليم وانخفاض نسبة الأمية.
- مشاركة المرأة في العمل.
- المشاركة في النقابات العمالية التي تحافظ على مصالحهم.

## عادات وتقاليد العاملين في البيئة الصناعية

عادات سلبية	عادات إيجابية
<ol style="list-style-type: none"> <li>التدخين داخل المصانع.</li> <li>ترك المخلفات الصناعية بدون معالجة.</li> </ol>	<ol style="list-style-type: none"> <li>التعاون بين العاملين.</li> <li>الانتظام في العمل.</li> <li>احترام مواعيد العمل.</li> </ol>

## أسئلة عامة علم الدرس

**أكمل:**

- يجب مراعاة أن تكون المصانع بعيدة عن ..... وقريبة من .....
- تعتبر مصادر الطاقة من عوامل قيام الصناعة .....
- تعتبر رأس المال من عوامل قيام الصناعة .....
- من مصادر الطاقة التقليدية ..... و..... و.....
- من المواد الخام الحيوانية ..... و..... و.....
- من العوامل البشرية لقيام الصناعة ..... والنقل والمواصلات و.....
- من مصادر الطاقة المتجددة ..... و.....
- تسهم الصناعة في زيادة ..... والحصول على .....

- ٩) تساعد وسائل النقل في نقل ..... و.....  
 ١٠) طلب السكان المحليين للمنتجات الصناعية المصري يقصد به السوق .....  
 ١١) من العادات الإيجابية لسكان البيئة الصناعية الانتظام في ..... واحترام .....  
 ١٢) يعتبر الحديد والمنجنيز من المواد الخام .....

**بم تفسر:**

- ١) مراعات اتجاه الرياح عند إنشاء المصانع ؟  
 ٢) انخفاض نسبة الأمية في البيئة الصناعية ؟  
 ٣) حاجة المناطق الصناعية لرؤوس الأموال ؟  
 ٤) أهمية الطاقة النظيفة ؟  
 ٥) أهمية البيئة الزراعية للبيئة الصناعية ؟

**أكتب ما تشير إليه الجمل الآتية:**

- ١) مناطق تقوم فيها الصناعة ويعمل معظم سكانها بالصناعة. (.....)  
 ٢) تحويل المواد الخام إلى سلع ومنتجات لسد احتياجات السكان. (.....)  
 ٣) طلبات الدول العربية والأجنبية للمنتجات المصرية. (.....)  
 ٤) طلبات السكان المحليين للمنتجات المصرية. (.....)  
 ٥) هيئة يشارك فيها العمال للحفاظ على حقوقهم. (.....)

**ما المقصود بالمصطلحات الآتية:**

- ١) البيئة الصناعية: .....
- ٢) الصناعة: .....

**ما النتائج المترتبة على:**

- ١) تصدير مصر للمنتجات الصناعية ؟  
 ٢) تنوع المواد الخام ؟  
 ٣) بناء المصانع في المناطق السكنية ؟

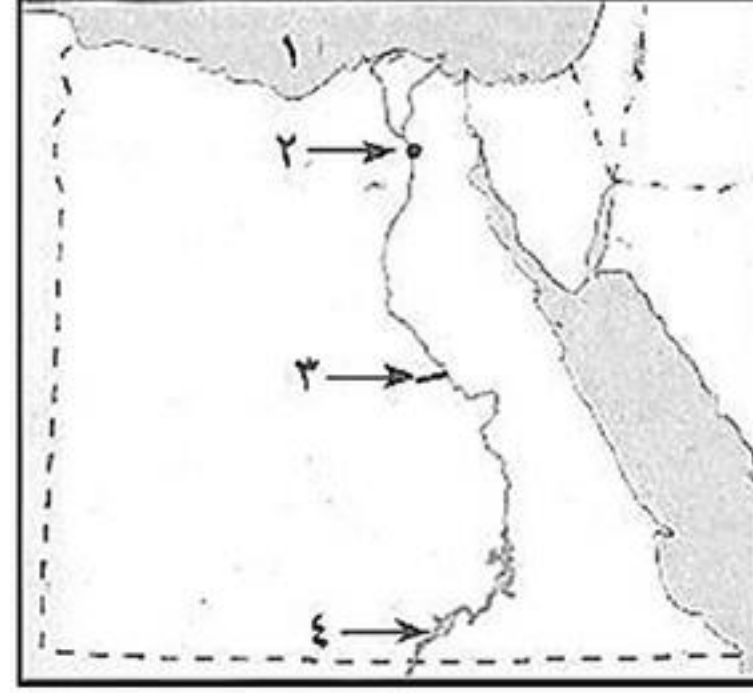
**قارن بين:**

- ١) العادات السلبية لسكان البيئة الزراعية وسكان البيئة الصناعية ؟  
 ٢) المقومات الطبيعية والبشرية لقيام الصناعة ؟

**ضع علامة (✓) أو (×) مع التصويب:**

- ١) من العوامل البشرية لقيام الصناعة السوق ورأس المال ومصادر الطاقة. ( )  
 ٢) تحتاج الصناعة مواد خام معدنية مثل الفحم. ( )  
 ٣) يتميز سكان البيئة الصناعية بعدم مشاركة المرأة في العمل. ( )  
 ٤) ترتفع نسبة الأمية في البيئة الصناعية. ( )  
 ٥) توفر البيئة الزراعية للبيئة الصناعية الأيدي العاملة. ( )  
 ٦) الماشية والأغنام مصدر للمواد الخام الحيوانية. ( )  
 ٧) من مجالات العمل المتاحة في البيئة الزراعية العمل بالتجارة وفي البنوك. ( )

## اختبار



## أكتب ما تشير إليه الأرقام الآتية:

١. البحر.....
٢. مدينة.....
٣. قناة.....
٤. بحيرة.....

## بم تفسر:

- ١) تداخل البيئات المصرية مع بعضها البعض؟
- ٢) الزراعة في مصر لا تعتمد على الأمطار إلا في الساحل الشمالى؟
- ٣) ضعف وانحيار الدولة المملوكية؟
- ٤) تدهور الحياة الفنية في مصر أثناء الحكم العثمانى؟

## أكتب ما تشير إليه الجمل الآتية:

- ١) سهل يتكون من الرواسب الطينية التى يأتى بها نهر النيل من منابعه.
- ٢) قوات عثمانية تركها السلطان سليم الأول في مصر.
- ٣) غلمان تم جلبهم بواسطة التجار وتولوا حكم مصر عقب انهيار الدولة الأيوبية.
- ٤) تجهيز الجيش وتوجيهه لأهداف حربية.
- ٥) فرض دولة سيادتها على دولة أخرى واستغلالها.

## أكمل:

- ١) تألفت هيئات الحكم المحلية أثناء الحكم العثمانى من ..... قوى.
- ٢) أبحرت الحملة الفرنسية من ميناء ..... في جنوب فرنسا ١٧٩٨ م.
- ٣) يقصد بالأمية عدم معرفة ..... و.....
- ٤) تعتمد الزراعة في الواحات على مياه ..... و ..... والتي تعرف بالمياه الجوفية.

## اختر الإجابة الصحيحة:

- ١) أصبحت مصر ولاية عثمانية بعد موقعة ..... ١٥١٧ م.
- ٢) تنسب الدولة العثمانية إلى مؤسسها.
- ٣) تمدنا البيئة ..... بالمعادن.
- ٤) من المواد الخام الحيوانية .....
- ٥) من الخصائص الاقتصادية لسكان البيئة الزراعية. (الأمية - انخفاض مستوى دخل الفرد - التعاون - التمسك بالأرض الزراعية)
- ٦) قائد الأسطول الإنجليزي في معركة أبو قير البحرية هو .....

## برهن تاريخياً على صحة العبارات الآتية:

- ١) لم تكن الحملة الفرنسية على مصر مجرد حملة للغزو والاحتلال فقط؟
- ٢) أدت موقعة الريدانية إلى زوال الدولة المملوكية؟

## الصناعة والمناطق الصناعية

\* عرفت مصر الصناعة منذ عهد المصريين القدماء (الفراعنة) ثم في عهد محمد علي حيث:

الصناعة في العصر الحديث	الصناعة في العصر القديم
<p>بدأت النهضة الصناعية على يد محمد علي مؤسس مصر الحديثة وازدهرت الصناعات السابقة وعرفوا صناعة السكر وصناعة السفن وصناعة المواد الكيماوية.</p>	<p>عرفت مصر صناعة:</p> <ul style="list-style-type: none"> <li>• الأدوات الزراعية.</li> <li>• الخزف.</li> <li>• الزيوت.</li> <li>• المعدات الحربية.</li> <li>• المنسوجات.</li> <li>• الحلي.</li> </ul>

\* يوجد حالياً في مصر قاعدة صناعية تزداد يوماً بعد يوم وتتعدد الصناعات بها.

### تصنف الصناعات حسب درجة تطورها إلى:



### أهم الصناعات في مصر

<p><b>الصناعات الكيماوية</b></p> <ul style="list-style-type: none"> <li>• الصابون والعمطور.</li> <li>• الأسمدة والأدوية.</li> </ul>	<p><b>الصناعات الهندسية والكهربائية</b></p> <ul style="list-style-type: none"> <li>• السيارات والآلات.</li> <li>• الثلاجات والأجهزة الإلكترونية.</li> </ul>	<p><b>الصناعات المعدنية</b></p> <ul style="list-style-type: none"> <li>• الحديد والصلب.</li> <li>• الألومنيوم.</li> </ul>	<p><b>صناعة الغزل والنسيج</b></p> <ul style="list-style-type: none"> <li>• الملابس الجاهزة.</li> <li>• المفروشات.</li> </ul>	<p><b>الصناعات الغذائية</b></p> <ul style="list-style-type: none"> <li>• السكر.</li> <li>• حفظ وتعليب الفاكهة والخضروات.</li> </ul>
---	---	---	--	---



■ تتشر هذه الصناعات في مصر في العديد من المناطق الصناعية مثل:

المنطقة	الصناعات
المحلة الكبرى	صناعات غذائية - غزل ونسيج.
العاشر من رمضان	صناعات غذائية - غزل ونسيج.
السادس من أكتوبر	صناعات غذائية - غزل ونسيج - صناعات هندسية.
حلوان	صناعات غذائية - غزل ونسيج - صناعات كيمياوية - حديد وصلب.
نجع حمادى	غزل ونسيج - ألومنيوم - صناعات هندسية.

**بم تفسر:** اهتمام الدولة بإنشاء مناطق صناعية جديدة؟

كـ من أجل: (١) تطوير الصناعات وزيادة عدد المصانع.

(٢) توفير فرص عمل.

(٣) زيادة الصادرات والحصول على العملات الأجنبية.

(٤) زيادة الدخل القومي.

### أسئلة عامة على الدرس

**أكمل:**

- (١) من الصناعات الهندسية صناعة .....
- (٢) من الصناعات الحرفية صناعة .....
- (٣) عرفت مصر الصناعة منذ عهد .....
- (٤) بدأت الصناعة ..... في عهد محمد على.
- (٥) تعتبر صناعة الحديد والصلب والألومنيوم من الصناعات .....
- (٦) صناعة السكر من الصناعات .....
- (٧) صناعة الأدوية والعطور من الصناعات .....
- (٨) تصنف الصناعات حسب درجة تطورها إلى صناعات يدوية وصناعات ..... وصناعات .....
- (٩) صناعة السيارات من الصناعات .....

**بم تفسر:**

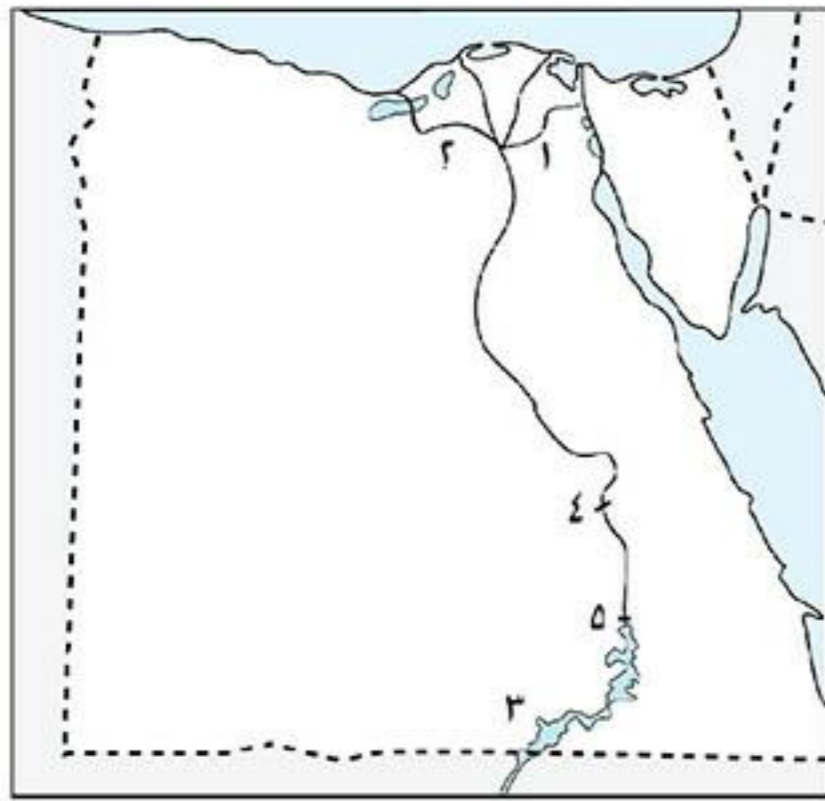
- (١) تنوع الصناعات بمصر؟
- (٢) يقل الاعتماد على العمالة البشرية في الصناعات الحديثة؟
- (٣) اهتمام الدولة بإنشاء المناطق الصناعية؟

**أكتب ما تشير إليه الجمل الآتية:**

- (١) صناعات تعتمد على العمل اليدوى وتحتاج إلى رأس مال قليل.
- (٢) يتم فيها تحويل المواد الخام لصورة أخرى مثل صناعة حفظ وتعليب الفاكهة وحلج القطن.
- (٣) صناعة يتم الاعتماد فيها على الآلات الحديثة وتتم داخل المصانع.



## اختبار



## أكتب ما تشير إليه الأرقام الآتية:

١. ترعة .....
٢. ترعة .....
٣. بحيرة .....
٤. قناطر .....
٥. السد .....

## ما النتائج المترتبة على:

- (١) هجرة السكان من الريف إلى المدن؟
- (٢) تجريف التربة الزراعية؟
- (٣) موقعة أبو قير البحرية؟
- (٤) موقعة الريدانية؟

## بم تفسر:

- (١) ضعف وانهيار دولة المماليك؟
- (٢) تدهور الحياة الفنية أثناء الحكم العثماني لمصر؟
- (٣) لا تجود الزراعة شمال الدلتا؟
- (٤) قلة مساحة الأراضي الزراعية في مدينة القاهرة؟

## أكمل:

- (١) تنسب الدولة العثمانية لمؤسسها .....
- (٢) انتصر العثمانيون على المماليك في معركة ..... عام ١٥١٦م.
- (٣) قام السلطان ..... بترحيل أمهر الصناعات والحرفيين إلى ..... عاصمة الدولة العثمانية.
- (٤) أبحرت الحملة الفرنسية من ميناء ..... في فرنسا عام .....م.
- (٥) يقصد بالأمية عدم معرفة ..... و.....
- (٦) فشلت الحملة الفرنسية على الشام لعدم تمكنها من فتح مدينة .....

## أكتب ما تشير إليه الجمل الآتية:

- (١) فرق عسكرية من هيئات الحكم العثماني من مهامها الدفاع عن البلاد. (.....)
- (٢) استيلاء دولة على دولة أخرة قهراً. (.....)
- (٣) تجهيز الجيش وتوجيهه لأهداف حربية. (.....)
- (٤) بناء هندسى تم بناءه على مجرى نهر النيل بغرض توفير المياه. (.....)

## أختر الإجابة الصحيحة:

- (١) تولى المماليك حكم مصر عقب انهيار الدولة. (العثمانية - المملوكية - الأيوبية - الفاطمية)
- (٢) نجح الفرنسيون في احتلال مدينة الإسكندرية بعد مقاومة حاكمها. (عمر مكرم - محمد كريم - الشيخ السادات)
- (٣) من المواد الخام الحيوانية. (القطن - الجلود - الحديد - الرخام)
- (٤) من الصناعات الكيماوية صناعة. (الحديد والصلب - السيارات - الأدوية - الثلجات)

## مشكلات البيئة الصناعية وكيفية التغلب عليها

\* تتعرض البيئة الصناعية والبيئات المجاورة لها للتلوث، كما تتعرض الصناعة والبيئة الصناعية للعديد من المشكلات.

### ١ المشكلات التي تواجه الصناعة في مصر



- ١) ارتفاع أسعار المواد الخام ومستلزمات الإنتاج.
- ٢) ارتفاع أسعار مصادر الطاقة.
- ٣) نقص الكوادر الفنية.
- ٤) انخفاض جودة المنتجات الصناعية.
- ٥) التهرب الجمركي.
- ٦) قلة إقبال رؤوس الأموال على الاستثمار الصناعي.

### مظاهر اهتمام الدولة بالصناعة

■ تهتم الدولة بالصناعة عن طريق:

- ١) الانفتاح على العالم الخارجي: بتشجيع العرب والأجانب على الاستثمار في مجال الصناعة.
- ٢) فتح أسواق داخلية وخارجية جديدة.
- ٣) الاهتمام بالتعليم الفني والصناعي بهدف تخريج عمالة فنية مدربة.
- ٤) محاولة تقليص حجم الواردات المصنعة من الخارج.



### ٢ مشكلات البيئة الصناعية في مصر

- ١) مشكلة التلوث البيئي: } ← تلوث الهواء: بسبب انبعاث الأبخرة والغازات من مداخن المصانع.  
← تلوث الماء: بسبب إلقاء مخلفات المصانع السائلة في المجارى المائية ونهر النيل  
فتلوث الماء وتموت الأسماك والكائنات الحية التي في المياه.

#### استنزاف

هو الإفراط وسوء استخدام الموارد الطبيعية بشكل يؤدي إلى نفاذها.

- ٢) استنزاف الموارد الطبيعية نتيجة الاستخدام غير المنتظم.
- ٣) ازدحام المدن وانتشار المناطق العشوائية: بسبب هجرة سكان الريف إلى المحافظات الصناعية.

### جهود الدولة لعلاج مشكلات البيئة الصناعية

- ١) تركيب مرشحات على مداخن المصانع وعمل فلاتر لمنع الغبار المنبعث من مصانع الأسمنت.
- ٢) تطوير الصناعة وتعديل خطوط الإنتاج لتقليل العوادم والمخلفات.
- ٣) نقل المصانع التي تضر بالبيئة خارج المناطق السكنية والإكثار من المساحات الخضراء كالحدايق لامتصاص الغازات الضارة.
- ٤) الحد من الهجرة وبناء مدن سكنية جديدة لسكان العشوائيات.
- ٥) إنشاء وزارة للبيئة لإصدار القوانين والتشريعات لحماية البيئة من الأخطار.

## أسئلة عامة علم الدرس

## أكمل:

- (١) استنزاف الموارد الطبيعية نتيجة الاسراف في .....
- (٢) التكلفة الزائدة في اسعار مصادر الطاقة من مشكلات .....
- (٣) من جهود الدولة لحل مشكلات البيئة الصناعية نقل المصانع بعيداً عن .....
- (٤) قامت الدولة بإنشاء ..... لإصدار القوانين والتشريعات التي لحماية البيئة من الأخطار.
- (٥) لعلاج مشكلة الغبار المتصاعد من مصانع الأسمنت تركيب ..... على مداخن المصانع.
- (٦) إلقاء مخلفات المصانع السائلة يؤدي إلى تلوث .....
- (٧) انبعاث الأبخرة والغازات من مداخن المصانع يؤدي إلى تلوث .....
- (٨) من مشكلات الصناعة المصرية ارتفاع أسعار ..... و .....

## بم تفسر:

- (١) تلوث مياه نهر النيل وموت الأسماك والكائنات الحية ؟
- (٢) تلوث الهواء ؟
- (٣) قيام الدولة بإنشاء وزارة البيئة ؟
- (٤) انتشار المناطق العشوائية في البيئة الصناعية ؟
- (٥) اهتمام الدولة بالتعليم الفني والصناعي ؟
- (٦) اهتمام الدولة بتطوير الصناعة وتعديل خطو الإنتاج ؟

## ضع علامة (✓) أو (×) مع التصويب:

- (١) الاهتمام بالتعليم الفني يهدف إلى تخريج عمالة غير مدربة. ( )
- (٢) من مشكلات البيئة الصناعية التهرب الجمركي. ( )
- (٣) الاستنزاف يعنى استهلاك الموارد بانتظام للحفاظ عليها. ( )
- (٤) المساحات الخضراء وسيلة لعلاج مشكلات البيئة الصناعية. ( )
- (٥) من مشكلات البيئة الصناعية زيادة الإقبال على الاستثمار الصناعي. ( )
- (٦) انخفاض جودة المنتجات الصناعية من مشكلات البيئة الزراعية. ( )
- (٧) من جهود الدولة لحل مشكلات الصناعة الاهتمام بالتعليم الفني والصناعي. ( )

## ما النتائج المترتبة على:

- (١) انبعاث الأبخرة والغازات من مداخن المصانع ؟
- (٢) الإكثار من المساحات الخضراء في البيئة الصناعية ؟
- (٣) إلقاء مخلفات المصانع السائلة في المجارى المائية ونهر النيل ؟

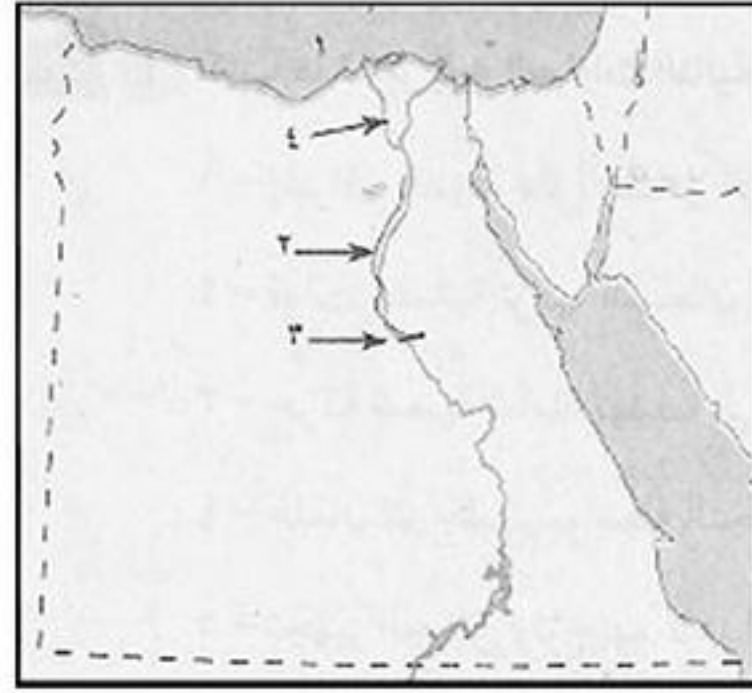
## ماذا يحدث لو:

- (١) لم يوجد في مصر صناعة ؟

## اختر الإجابة الصحيحة:

- (١) من مشكلات التلوث البيئي ..... (ارتفاع أسعار المواد الخام - انبعاث الأبخرة - هجرة سكان الريف - كل ما سبق)
- (٢) من جهود الدولة لحل مشكلات الصناعة .... (الاهتمام بالتعليم الفني والصناعي - وقف الهجرة - نقل المصانع - كل ما سبق)
- (٣) من مشكلات البيئة الصناعية .... (استنزاف الموارد - التهرب الجمركي - إلقاء مخلفات المصانع - كل ما سبق)

## اختبار



## أكتب ما تشير إليه الأرقام الآتية:

١. البحر.....
٢. ترعة.....
٣. قناطر.....
٤. فرع.....

## بم تفسر:

- (١) إرسال فرنسا حملتها على مصر عام ١٧٩٨ م؟
- (٢) ازدهار دولة المماليك وتمتعها بالثراء الاقتصادي؟
- (٣) تسمية الدولة العثمانية بهذا الاسم؟
- (٤) خصوبة التربة في الوادي والدلتا ومنخفض الفيوم؟
- (٥) ندرة النبات الطبيعي في البيئة الزراعية؟

## ما النتائج المترتبة على:

- (١) تنوع الأنشطة الاقتصادية في البيئة الصناعية؟
- (٢) إزالة الطبقة السطحية من التربة الزراعية؟
- (٣) الحملة الفرنسية على مصر من الناحية العلمية؟
- (٤) مذبحه القلعة مارس ١٨١١ م؟

## أكمل:

- (١) تعتمد الزراعة في ..... على مياه الأمطار الشتوية.
- (٢) ترتفع نسبة ..... في تربة الوادي والدلتا.
- (٣) كان من مهام الوالي إرسال ..... المفروض على البلاد إلى .....
- (٤) عقد مينو مع ممثل الجيش الإنجليزي اتفاقية لخروج ..... من مصر.

## أكتب ما تشير إليه الجمل الآتية:

- (١) حركة شعبية شاملة تهدف إلى التغيير الجذري الشامل والمنظم لأوضاع المجتمع. (.....)
- (٢) بناء هندسي أنشئ بغرض رفع منسوب المياه لنقلها للأراضي الزراعية المرتفعة. (.....)
- (٣) إقليم يحكمه أجنبي يتوطنه أو يكتفى باستغلاله عسكرياً أو اقتصادياً. (.....)
- (٤) تجهيز الجيش وتوجيهه لأهداف حربية. (.....)

## ما المقصود بـ:

- (١) السد؟
- (٢) المماليك؟
- (٣) حملة؟

## ماذا يحدث لو:

- (١) لم يقف زعماء الشعب بجانب محمد علي في بداية حكمه؟
- (٢) نجحت فرنسا في جعل مصر قاعدة للإمبراطورية الفرنسية في الشرق؟

## دخول العثمانيين مصر

\* كانت مصر تحت حكم المماليك قبل أن يسيطر عليها العثمانيين.

## أولاً دولة المماليك



■ **المماليك:** هم غلمان كان يتم جلبهم بواسطة التجار ويشترتهم السلاطين والأمراء، ويلحقونهم بمدارس خاصة، وتولوا الحكم عقب انهيار الدولة الأيوبية.

■ امتدت دولة المماليك في: مصر - الشام - أطراف الجزيرة العربية واليمن.

بم تفسر: ازدهار دولة المماليك؟

كـ بسبب: موقعها الجغرافي المسيطر على طرق التجارة بين أوروبا والشرق.

بم تفسر: ضعف وانهيار دولة المماليك؟

كـ بسبب: (١) حدوث أزمة مالية و سوء الأحوال الاقتصادية بعد اكتشاف البرتغاليين طريق رأس الرجاء الصالح عام ١٤٩٨م.

(٢) سوء الأوضاع السياسية وضعف القوة العسكرية بسبب الفتن والاضطرابات بين فرق المماليك المختلفة.

## من أمثلة الطرق التجارية البحرية

■ طريق رأس الرجاء الصالح (قديماً):

هو طريق بحري يدور حول قارة أفريقيا من الغرب والجنوب للوصول إلى الهند بقارة آسيا اكتشفه البرتغاليون أواخر القرن الخامس عشر الميلادي عام ١٤٩٨م.

■ قناة السويس (حديثاً): وهي تربط بين البحرين الأحمر والمتوسط.



## ثانياً الدولة العثمانية

■ **العثمانيون:** هم قبائل من آسيا الوسطى، عُرفوا بالعثمانيين نسبة إلى مؤسس دولتهم عثمان بن أرطغرل.

■ نشأتها: في أواخر القرن الـ ١٣ الميلادي.

■ توسعاتها: • في عهد السلطان محمد الثاني (محمد الفاتح) تم فتح القسطنطينية عاصمة

الدولة البيزنطية (إستانبول حالياً) عام ١٤٥٣م واتخذها العثمانيون عاصمة لهم.

• مع بداية القرن الـ ١٦ الميلادي اتجه السلطان سليم الأول بغزواته نحو المشرق العربي.



السلطان سليم الأول



www.facebook.com/EL.Sulttan

انتظر مذكرات المراجعة

تابعنا على صفحتنا

## مراسل سيطرة العثمانيين على الشام و مصر

ثالثاً

مصر: معركة الريدانية ١٥١٧م	الشام: معركة مرج دابق ١٥١٦م	
العثمانيين ضد المماليك بقيادة (سليم الأول) بقيادة (طومان باي)	العثمانيين ضد المماليك بقيادة (سليم الأول) بقيادة (قنصوة الغوري)	الأطراف
صحراء العباسية عند الريدانية.	مرج دابق شمال سوريا.	المكان
رغبة السلطان سليم الأول في ضم مصر لأنها: (١) مقر الدولة المملوكية. (٢) مفتاح المشرق العربي.	(١) ضعف دولة المماليك. (٢) رغبة السلطان سليم الأول في توسيع حدود دولته وضم بلاد الشام.	الأسباب
(١) هزيمة المماليك وانتهاء دولتهم. (٢) دخول العثمانيين القاهرة عام ١٥١٧م وأصبحت مصر ولاية عثمانية.	(١) هزيمة المماليك وانتصار العثمانيين. (٢) سقوط بلاد الشام في يد العثمانيين وانفتح الطريق أمامهم لضم مصر.	النتائج



بم تفسر: هزيمة جيوش المماليك أمام العثمانيين؟

- بسبب: (١) عدم الاستقرار الداخلي وخيانة بعض أمراء المماليك.  
(٢) التدهور الاقتصادي للدولة المملوكية.  
(٣) اعتماد المماليك على نظم حربية تقليدية.

## أسئلة عامة على الدرس

## أكمل:

- ١) حكم المماليك مصر والشام بعد انهيار الدولة .....
- ٢) اكتشف ..... طريق رأس الرجاء الصالح عام ١٤٩٨ م.
- ٣) أستطاع السلطان محمد الثانى فتح ..... عاصمة الدولة البيزنطية عام ١٤٥٣ م.
- ٤) أتجه السلطان العثمانى ..... بغزواته نحو المشرق العربى بداية القرن ١٦ الميلادى.
- ٥) أنتصر العثمانيين على المماليك فى موقعتى ..... و .....
- ٦) يطلق على العثمانيين هذا الاسم نسبة إلى الأمير ..... مؤسس دولتهم.
- ٧) أصبحت مصر ولاية عثمانية بعد معركة .....
- ٨) هُزم المماليك فى معركة الريدانية بقيادة السلطان .....
- ٩) العثمانيون هما قبائل من .....

## بم تفسر:

- ١) ازدهار دولة المماليك ؟
- ٢) ضعف القوة العسكرية للمماليك ؟
- ٣) هزيمة المماليك أمام العثمانيين ؟
- ٤) انهيار دولة المماليك ؟
- ٥) يلقب السلطان محمد الثانى بالسلطان محمد الفاتح ؟
- ٦) الزحف العثمانى نحو مصر ؟

## ضع علامة (✓) أو (×) مع التصويب:

- ١) تولى قيادة الجيوش المملوكية فى معركة الريدانية السلطان قنصوة الغورى. ( )
- ٢) من الطرق التجارية البحرية الحديثة قناة السويس. ( )
- ٣) سيطر العثمانيون على الشام بعد معركة الريدانية. ( )
- ٤) مؤسس الدولة العثمانية هو السلطان سليم الأول. ( )
- ٥) أصبحت القسطنطينية عاصمة الدولة البيزنطية بعد أن فتحها السلطان محمد الثانى. ( )
- ٦) ضمت الدولة المملوكية بلاد الشام وأطراف شبه الجزيرة العربية فقط. ( )

## ما النتائج المترتبة على:

- ١) اكتشاف البرتغاليين طريق رأس الرجاء الصالح ؟
- ٢) معركة مرج دابق ١٥١٦ م ؟

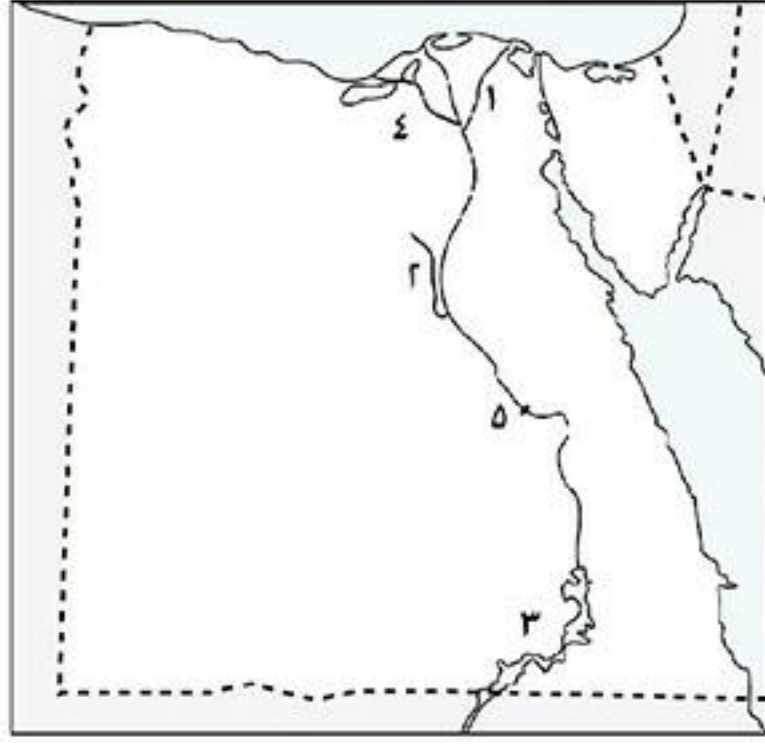
## اختر الإجابة الصحيحة:

- ١) العثمانيون قبائل من .....
- ٢) أتجه السلطان ..... فى غزواته نحو المشرق العربى مع بداية القرن ١٦ م.  
(أوروبا - آسيا الوسطى - أفريقيا - أستراليا)
- ٣) اكتشف طريق رأس الرجاء الصالح .....  
(محمد الفاتح - طومان باى - سليم الأول - قنصوة الغورى)  
(البريطانيون - البرتغاليون - العثمانيون - الفرنسيون)

## أذكر عملاً واحداً لكل من:

- ١) السلطان محمد الفاتح ؟
- ٢) طومان باى ؟

## اختبار



## أكتب ما تشير إليه الأرقام الآتية:

- (١) فرع .....
- (٢) ترعة .....
- (٣) بحيرة .....
- (٤) ترعة .....
- (٥) قناطر .....

## أختَر الإجابة الصحيحة:

- (١) دخل العثمانيون القاهرة عام ..... م.
- (٢) عرف السلطان العثماني محمد الثاني بالفتح لأنه فتح .....
- (٣) تم اكتشاف طريق رأس الرجاء الصالح على يد البرتغاليين عام .....
- (٤) يظهر النبات الطبيعي في البيئة الزراعية على جوانب .....
- (١٥١٤-١٥١٥-١٥١٦-١٥١٧)
- (القاهرة- الشام- القسطنطينية- الحجاز)
- (١٥٠٩-١٤٩٨-١٥١٦-١٥١٧)
- (المدن- الأراضي الزراعية- نهر النيل والترع)

## قارن بين:

الزراعة المطرية	الزراعة المرورية

## ما المقصود بالمصطلحات الآتية:

- (١) ممالك؟
- (٢) رأس الرجاء الصالح؟
- (٣) ترعة؟
- (٤) سد؟

## ما النتائج المترتبة على:

- (١) ظهور سطح منخفض الفيوم على شكل مدرجات؟
- (٢) كثافة النشاط الزراعي بالبيئة الزراعية منذ آلاف السنين؟
- (٣) معركة مرج دابق؟

## ضع علامة (✓) أو (×) مع التصويب:

- ( ) (١) تولى قيادة الجيوش المملوكية في معركة الريدانية السلطان قنصوة الغورى.
- ( ) (٢) يمكن زراعة جميع أراضي الدلتا لأن تربتها فيضية خصبة.
- ( ) (٣) من الطرق التجارية البحرية الحديثة قناة السويس.
- ( ) (٤) سيطر العثمانيون على الشام بعد معركة الريدانية.
- ( ) (٥) تظهر أراضي منخفض الفيوم الزراعية على شكل مدرجات.
- ( ) (٦) مؤسس الدولة العثمانية هو السلطان سليم الأول.
- ( ) (٧) أصبحت القسطنطينية عاصمة الدولة البيزنطية بعد أن فتحها السلطان محمد الثاني.



## نظام الحكم العثماني في مصر

\* بعد أن نجح السلطان سليم الأول في ضم مصر ارتبطت مصر بنظم الإدارة العثمانية وترتب على ذلك: فقدت مصر استقلالها وتحولت إلى ولاية عثمانية.

### أولاً هياكل الحكم العثماني في مصر

\* كان نظام الحكم العثماني لمصر استبدادياً واعتمد على القوة لضمان استمرار سيطرتهم على مصر وتألفت هيئات الحكم من:

#### ١ الوالي (الباشا)



- وظيفته: هو نائب السلطان في الولاية.
- مقر حكمه: القلعة.
- مدة حكمه: من ١ : ٣ سنوات (مدة حكم الوالي كانت قصيرة حتى لا ينفرد بالحكم).
- مهام الوالي: (١) الإشراف على تنفيذ أوامر وقرارات السلطان العثماني.
- (٢) إرسال الخراج المفروض على الولاية إلى السلطان.
- (٣) الحفاظ على الأمن في الولاية.
- (٤) دعوة الديوان للانعقاد.

#### ٢ الديوان

- يتكون من: كبار (ضباط الحامية العثمانية - الموظفين - العلماء - الأعيان).
- وظيفة الديوان: له سلطة مراقبة الوالي.

#### ٣ الحامية العثمانية

- تتكون من: فرق عسكرية من الجيش.
- وظيفة الحامية: الدفاع عن البلاد.

#### ٤ المماليك

- وظيفتهم: حكم الأقاليم في البلاد.

**بم تفسر:** اعتماد العثمانيين على المماليك في حكم الأقاليم؟  
**كم بسبب:** خبرتهم الطويلة في حكم البلاد.

## ثانياً أحوال مصر فيه ظل الحكم العثماني

\* تدهورت أحوال مصر الاقتصادية والاجتماعية والعلمية والثقافية في ظل الحكم العثماني.

## ١ الحياة الاقتصادية

\* أدت السياسة العثمانية في مصر إلى تدهور الأحوال الاقتصادية.

بم تفسر: تدهور الأحوال الاقتصادية لمصر أثناء الحكم العثماني؟

كـ بسبب: (١) إهمال الزراعة.

(٢) تأخر الصناعة.

(٣) كساد التجارة.

## ٢ الحياة الاجتماعية

\* كانت الحياة الاجتماعية في مصر أثناء الحكم العثماني: تفرق بين الحكام والمحكوم حيث:

• الحكام: يتمتعون بالثروة والنفوذ.

• المحكومين (المصريين): حُرِّموا من خيرات بلادهم.

## ٣ الحياة العلمية والثقافية

بم تفسر: تدهور الحياة العلمية والثقافية في مصر أثناء الحكم العثماني؟

كـ بسبب: (١) اقتصار التعليم في الأزهر على حفظ القرآن الكريم ودروس الفقه والتشريع.

(٢) عدم الاهتمام بالعلوم العقلية مثل الرياضيات والطبيعة.

(٣) تدهور الحياة الأدبية وتوقف نشاط التأليف.

## ٤ الحياة الفنية

\* كانت مصر تمتلك ثروة من الفنون والعمارة والآثار في زمن سلاطين المماليك لكنها تدهورت.

بم تفسر: تدهور الحياة الفنية في مصر أثناء الحكم العثماني؟

كـ بسبب: (١) قيام السلطان سليم الأول بترحيل أمهر الصناع والحرفيين إلى الأستانة عاصمة الدولة العثمانية.

(٢) استيلاء العثمانيين على الكثير من التحف الثمينة والمخطوطات النادرة.

(٣) تأخر الحرف والصناعات.

## نتائج الحكم العثماني لمصر

ما النتائج المترتبة على: الحكم العثماني لمصر؟

كـ ترتب على ذلك: (١) معاناة بعض طوائف المجتمع المصري من مشكلات مثل: الجهل والفقر والمرض.

(٢) ساد الجمود والتقليد والتخلف كافة نواحي الحياة.

## أسئلة عامة علم الدرس

## أكمل:

- ١) تمثلت هيئات الحكم العثماني لمصر في ..... و الديوان و ..... والماليك.
- ٢) كان مقر الوالي العثماني لمصر في .....
- ٣) كان نظام الحكم العثماني لمصر ..... واعتمد على ..... لضمان سيطرتهم على مصر.
- ٤) انقسمت الحياة الاجتماعية في مصر أثناء الحكم العثماني إلى طبقة ..... وطبقة .....
- ٥) اقتصر التعليم في الأزهر أثناء الحكم العثماني لمصر على حفظ ..... ودروس .....
- ٦) قام السلطان ..... بترحيل أمهر الصناع والحرفيين.
- ٧) كانت عاصمة الدولة البيزنطية قبل عام ١٤٥٣ م هي ..... ثم تحولت إلى .....
- ٨) كان من وظائف ..... دعوة الديوان للانعقاد.
- ٩) كانت مدة حكم الوالي في مصر تتراوح من ..... إلى .....

## بم تفسر:

- ١) تدهور الحياة العلمية في مصر أثناء الحكم العثماني؟
- ٢) قصر مدة حكم الوالي في مصر أثناء الحكم العثماني؟
- ٣) اعتماد العثمانيين على الماليك في حكم الأقاليم في مصر؟
- ٤) تدهور الحياة الفنية في مصر أثناء الحكم العثماني؟
- ٥) تدهور الحياة الاقتصادية في مصر أثناء الحكم العثماني؟

## ماذا يحدث إذا:

- ١) اهتم العثمانيون بالتعليم والثقافة في مصر؟

## برهن تاريخياً على صحة العبارات الآتية:

- ١) كانت الحياة الاجتماعية في مصر العثمانية قائمة على النظام الطبقي؟

## ما النتائج المترتبة على:

- ١) نظام الحكم العثماني لمصر؟
- ٢) ترحيل السلطان سليم الأول أمهر الصناع والحرفيين إلى الآستانة؟

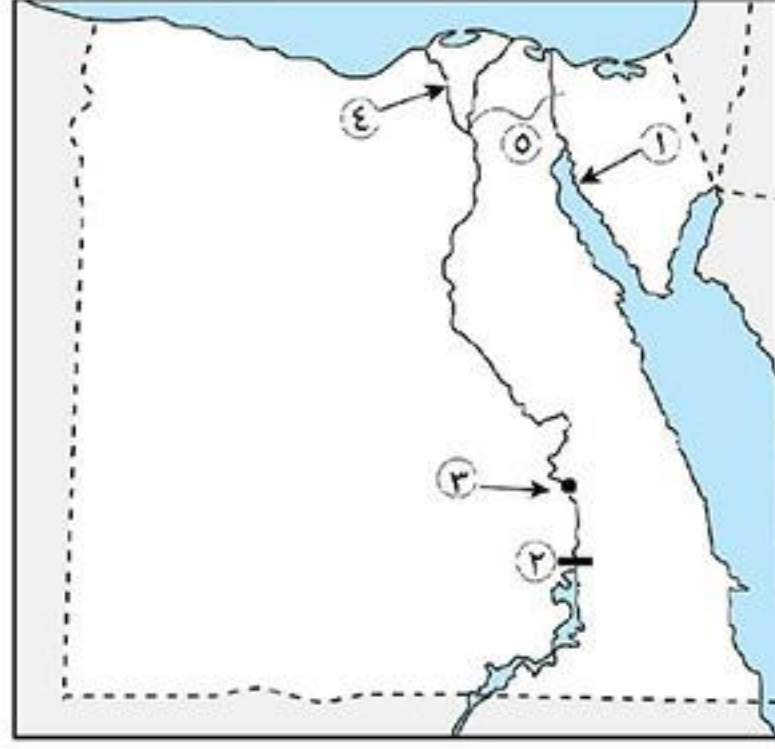
## لمن تنسب الأعمال الآتية:

- ١) نائب السلطان في الولاية؟
- ٢) إدارة وحكم الأقاليم المصرية أثناء الحكم العثماني؟
- ٣) له سلطة مراقبة الوالي؟
- ٤) القيام بالدفاع عن البلاد؟

## اختر الإجابة الصحيحة:

- ١) تألفت هيئات الحكم المحلية في مصر خلال الحكم العثماني من ..... قوى. (ثلاث - أربع - خمس - ست)
- ٢) في مصر العثمانية لم يعد هناك اهتمام بالعلوم ..... (الطبيعية - العقلية - الرياضيات - كل ما سبق)
- ٣) في مصر العثمانية انقسم المجتمع المصري إلى ..... اجتماعية. (طبقتين - ثلاث طبقات - طبقة واحدة)
- ٤) إهمال الزراعة وتأخر الصناعة وكساد التجارة من أسباب تدهور ..... (الحياة الفنية - الحياة العلمية - الحياة الاقتصادية - الحياة الاجتماعية)

## اختبار

**أكتب ما تشير إليه الأرقام الآتية:**

- (١) خليج .....
- (٢) السد .....
- (٣) مدينة .....
- (٤) فرع .....
- (٥) ترعة .....

**أكمل العبارات الآتية:**

- (١) هناك بعض المناطق لا تجود بها الزراعة مثل الأطراف ..... للدلتا.
- (٢) يترتب على الهجرة من الريف إلى المدن ظهور .....
- (٣) تضم محافظة الفيوم معالم سياحية مثل ..... و..... و.....
- (٤) عُرف العثمانيون بهذا الاسم نسبة إلى ..... مؤسس دولتهم.
- (٥) كان ..... نائب للسلطان ومقره .....

**صنف العادات الاجتماعية الآتية لسكان البيئة الزراعية:**

(احترام الكبير - تفضيل الذكور على الإناث - الزواج المبكر - التعاون فيما بينهم)

عادات سلبية	عادات إيجابية

**رتب الأحداث التاريخية الآتية:**

معركة الريدانية - فتح القسطنطينية - معركة مرج دابق - تأسيس الدولة العثمانية - اكتشاف طريق رأس الرجاء الصالح.

**بم تفسر:**

- (١) يقل عدد السكان في البيئة الزراعية في المناطق الممتدة ناحية الصحراء؟
- (٢) استخدام المزارعين في منخفض الفيوم السواقي؟
- (٣) هزيمة المماليك أمام العثمانيون؟
- (٤) تعرض المماليك لأزمة مالية؟

**أكتب المصطلح العلمي لكل من:**

- (١) أرض مستوية تتكون على جانبي النهر من التربة الطينية التي يأتي بها نهر النيل من منابعه.
- (٢) فتح مدينة القسطنطينية واتخاذها عاصمة للدولة العثمانية.
- (٣) كان يقوم بتنفيذ قرارات السلطان العثماني وحفظ الأمن في الولاية.
- (٤) انتقال الأفراد من مكان إلى آخر سواء داخل أو خارج الدولة.

**ما النتائج المترتبة على:**

- (١) الهجرة من الريف إلى المدن؟
- (٢) تنوع البيئات المصرية؟
- (٣) هزيمة المماليك في معركة مرج دابق ١٥١٦م؟

## دخول الحملة الفرنسية مصر (١٧٩٨م - ١٨٠١م)



نابليون بونابرت

\* قامت فرنسا بإعداد حملة عسكرية على مصر واعتبرت ذلك سراً لا يعلمه إلا قائد الحملة نابليون بونابرت.

**بم تفسر:** تكتم الحكومة الفرنسية أمر الحملة على مصر؟  
**بسبب:** خوفها من تسرب أخبار الحملة إلى إنجلترا فتعرض الحملة لمهاجمة الأسطول الإنجليزي الذي كان يراقب الملاحة في البحر المتوسط.

### أسباب الحملة الفرنسية على مصر

الأسباب غير المعلنة (الحقيقية)	الأسباب المعلنة
<ol style="list-style-type: none"> <li>قطع الطريق بين إنجلترا ومستعمراتها في الهند.</li> <li>إقامة إمبراطورية فرنسية في الشرق يكون مركزها مصر.</li> <li>تعويض فرنسا عن فقدان مستعمراتها في حروبها مع إنجلترا.</li> </ol>	<ol style="list-style-type: none"> <li>تأديب المماليك والقضاء على قوتهم.</li> <li>حماية التجار الفرنسيين من ظلم المماليك.</li> <li>ادعاء الحكومة الفرنسية رغبتها في إنشاء حكومة وطنية يكون الحكم فيها للمصريين.</li> </ol>

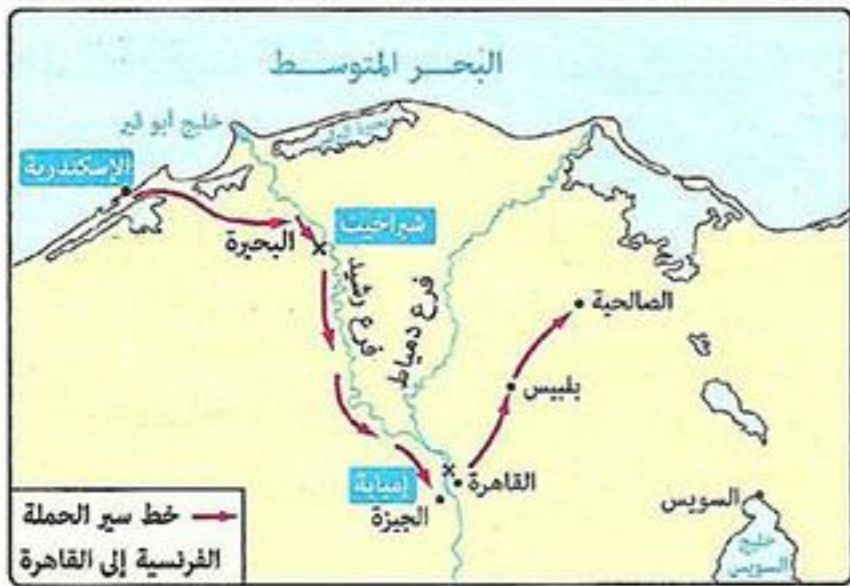
### مفاهيم

- حملة:** تجهيز الجيش وتوجيهه لأهداف حربية.
- احتلال:** استيلاء دولة على دولة أخرى قهراً.
- مستعمرة:** إقليم يحكمه أجنبي يتوطنه أو يكتفى باستغلاله عسكرياً أو اقتصادياً.

### التجهيز للحملة

\* تم تجهيز الحملة بكافة المعدات والأدوات والأسلحة، وضمت علماء في مختلف العلوم والفنون بجانب مجموعة من كتّاب ورسامين ومصورين.

### خط سير الحملة الفرنسية (١٧٩٨م)



■ أبحرت الحملة من ميناء طولون في فرنسا مايو ١٧٩٨م، واستولت على جزيرة مالطة ومنها إلى جزيرة كريت (وذلك لتضليل الأسطول الإنجليزي) ثم وصلت إلى الإسكندرية يوليو ١٧٩٨م.

■ قاوم أهالي الإسكندرية الفرنسيين بقيادة حاكم الإسكندرية السيد محمد كُريم وكان ذلك بداية الاحتلال الفرنسي لمصر.

■ بعد ذلك واجهت الحملة الفرنسية المماليك في شبراخيت وإمبابة وانتصرت عليهم، وفر المماليك إلى الصعيد ودخل الفرنسيون القاهرة.

## موقعة أبو قير البحرية (أغسطس ١٧٩٨م)



معركة أبو قير البحرية

■ وصلت رسالة من القائد الفرنسي **كليب** بالإسكندرية إلى قائد الحملة الفرنسية **نابليون بونابرت**، تفيد بتحطم الأسطول الفرنسي بأبو قير على يد الأسطول الإنجليزي بقيادة **نلسون**.

**ما النتائج المترتبة على: معركة أبو قير البحرية أغسطس ١٧٩٨م؟**

- ١) انقطاع الصلة بين الحملة الفرنسية في مصر وبين فرنسا.
- ٢) إضعاف قوة جنود الحملة الفرنسية وروحهم المعنوية.
- ٣) اعتماد الحملة الفرنسية على موارد مصر لسد احتياجاتهم.

## أسئلة عامة علم الدرس

**أكمل:**

- ١) قاوم أهالي الإسكندرية الحملة الفرنسية بقيادة .....
- ٢) من الأسباب المعلنة للحملة الفرنسية على مصر تأديب .....
- ٣) وصلت الحملة الفرنسية إلى ميناء الإسكندرية في يوليو عام .....
- ٤) انتصر الأسطول الإنجليزي على الأسطول الفرنسي في معركة .....
- ٥) جعلت فرنسا أمر الحملة الفرنسية سراً حتى لا تتعرض الحملة لمهاجمة .....
- ٦) أبحرت الحملة الفرنسية من ميناء ..... في فرنسا ثم استولت على جزيرة ..... ثم جزيرة كريت ثم وصلت الإسكندرية.

**بم تفسر:**

- ١) انقطاع الصلة بين فرنسا والحملة الفرنسية في مصر؟
- ٢) مجيء الحملة الفرنسية إلى مصر كان له أسباب حقيقية؟
- ٣) تكتم فرنسا أمر الحملة الفرنسية على مصر؟

**أكتب المفهوم الذي تشير إليه العبارات الآتية:**

- ١) إقليم يحكمه أجنبي يتوطنه أو يكتفى باستغلاله عسكرياً أو اقتصادياً. (.....)
- ٢) تجهيز الجيش وتوجيهه لأهداف حربية. (.....)
- ٣) استيلاء دولة على دولة أخرى قهراً. (.....)

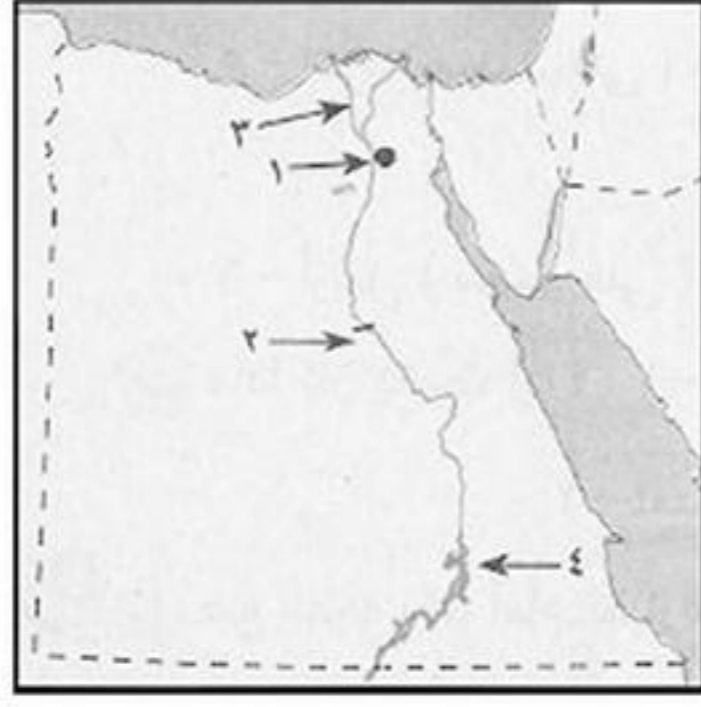
**ما النتائج المترتبة على:**

- ١) رغبة فرنسا في تكوين إمبراطورية في الشرق؟
- ٢) معركة أبو قير البحرية أغسطس ١٧٩٨م؟

**لمن تنسب الأعمال الآتية:**

- ١) قائد الحملة الفرنسية على مصر عام ١٧٩٨م؟
- ٢) قائد الأسطول الإنجليزي الذي استطاع تدمير الأسطول الفرنسي في موقعة أبو قير البحرية؟
- ٣) قاد مقاومة أهالي الإسكندرية ضد الفرنسيين؟
- ٤) فروا بعد معركة إمبابة إلى الصعيد؟
- ٥) أرسل رسالة إلى نابليون يخبره بتحطيم الأسطول الفرنسي في أبو قير؟

## اختبار



## أكتب ما تشير إليه الأرقام الآتية:

١. مدينة .....
٢. قناة .....
٣. فرع .....
٤. بحيرة .....

## ما النتائج المترتبة على:

- (١) هجرة السكان من الريف إلى المدن؟
- (٢) تجريف التربة الزراعية؟
- (٣) نظام الحكم والإدارة العثماني لمصر من الناحية الاقتصادية؟

## أكمل:

- (١) هناك بعض المناطق التي لا تجود زراعتها في الأطراف ..... للدلتا.
- (٢) يترتب على الهجرة من الريف إلى المدن ظهور .....
- (٣) اتجه السلطان ..... بغزواته نحو المشرق العربي في بداية القرن ١٦ الميلادي.
- (٤) حدثت أول مواجهة بين المماليك والفرنسيين في معركة .....

## أكتب ما تشير إليه الجمل الآتية:

- (١) إزالة الطبقة السطحية من التربة الزراعية مما يؤدي إلى تدهورها. (.....)
- (٢) المناطق التي بنيت بدون تخطيط من الدولة. (.....)
- (٣) فتح مدينة القسطنطينية واتخاذها عاصمة لدولته. (.....)
- (٤) تزعم أهالي الإسكندرية في مقاومتهم للاحتلال الفرنسي. (.....)

## بم تفسر:

- (١) يقل عدد السكان في المناطق الممتدة ناحية الصحراء؟
- (٢) أهمية وسائل النقل والمواصلات للصناعة؟
- (٣) تنوع البيئات المصرية؟

## اختر الإجابة الصحيحة:

- (١) تحطم الأسطول الفرنسي في موقعة. (ديو البحرية - أبو قير البحرية - أبو قير البرية - شبراخيت)
- (٢) نجح الفرنسيون في احتلال مدينة الإسكندرية بعد مقاومة حاكمها. (الشيخ السادات - عمر مكرم - محمد كريم)
- (٣) أرادت فرنسا احتلال مصر لقطع الطريق بين إنجلترا ومستعمراتها في. (الصين - أستراليا - الهند - اليابان)
- (٤) قائد الأسطول الإنجليزي في معركة أبو قير البحرية. (ديزيه - مينو - فريزر - نلسون)

## ضع علامة (✓) أو (×) مع التصويب:

- ( ) (١) من الأسباب الحقيقية للحملة الفرنسية تهديد مصالح إنجلترا في الهند.
- ( ) (٢) انتهت معركة شبراخيت بانتصار المماليك على الفرنسيين.
- ( ) (٣) دخل الفرنسيون القاهرة بدون مقاومة في يوليو ١٧٩٨ م.
- ( ) (٤) بعد معركة إمبابه فر المماليك نحو الصعيد.
- ( ) (٥) كان من أسباب هزيمة المماليك أمام الفرنسيين أتباع المماليك أسلوب الكر والفر.
- ( ) (٦) استطاع نلسون قائد الأسطول الفرنسي تدمير الأسطول الإنجليزي في معركة أبو قير البحرية.

## أحوال مصر تحت الاحتلال الفرنسي

\* كشف الاحتلال الفرنسي عن أطماعه فقام المصريين بعدة ثورات ضده.

## ١ ثورة القاهرة الأولى (أكتوبر ١٧٩٨م)



الجامع الأزهر

الجامع الأزهر.	<b>مركزها</b>
(١) فرض الفرنسيون الضرائب على المصريين للحصول على التمويل اللازم خاصة بعد تدمير الأسطول الفرنسي. (٢) تفتيش الفرنسيون للبيوت. (٣) هدم أبواب الحارات والمساجد.	<b>أسبابها</b>
• سخط الأهالي على الفرنسيين وقاموا بثورة واتخذوا الجامع الأزهر مركزاً للثورة. • استخدم نابليون الشدة والعنف ضد الثوار. • دخل نابليون وجنوده الجامع الأزهر بخيولهم مما أثار الشعور الديني لدى المصريين. • ألقى القبض على زعماء الثورة وكانوا من مشايخ الأزهر وحكم على ٦ بالإعدام باستثناء الشيخ السادات.	<b>أحداثها</b>
<b>بم تفسر:</b> استثنى نابليون الشيخ السادات من حكم الإعدام؟ <b>كـ بسبب:</b> مكانة الشيخ العلمية والأدبية عند المصريين فخشي نابليون من رد فعلهم.	
(١) إلغاء ديوان القاهرة وإنشاء ديوان آخر ضم كل الأجانب المقيمين في مصر. (٢) فرض غرامات مالية على العلماء والتجار. (٣) بدأ الفرنسيون بتحصين القاهرة.	<b>نتائجها</b>

## ثورة

هي حركة شعبية شاملة تهدف إلى التغيير الجذري الشامل والمنظم للأوضاع السياسية والاقتصادية والاجتماعية السائدة في المجتمع.

## ٢ حملة نابليون على بلاد الشام (فبراير ١٧٩٩م)

■ **الأسباب:** ارتبطت الحملة الفرنسية على الشام بـ:

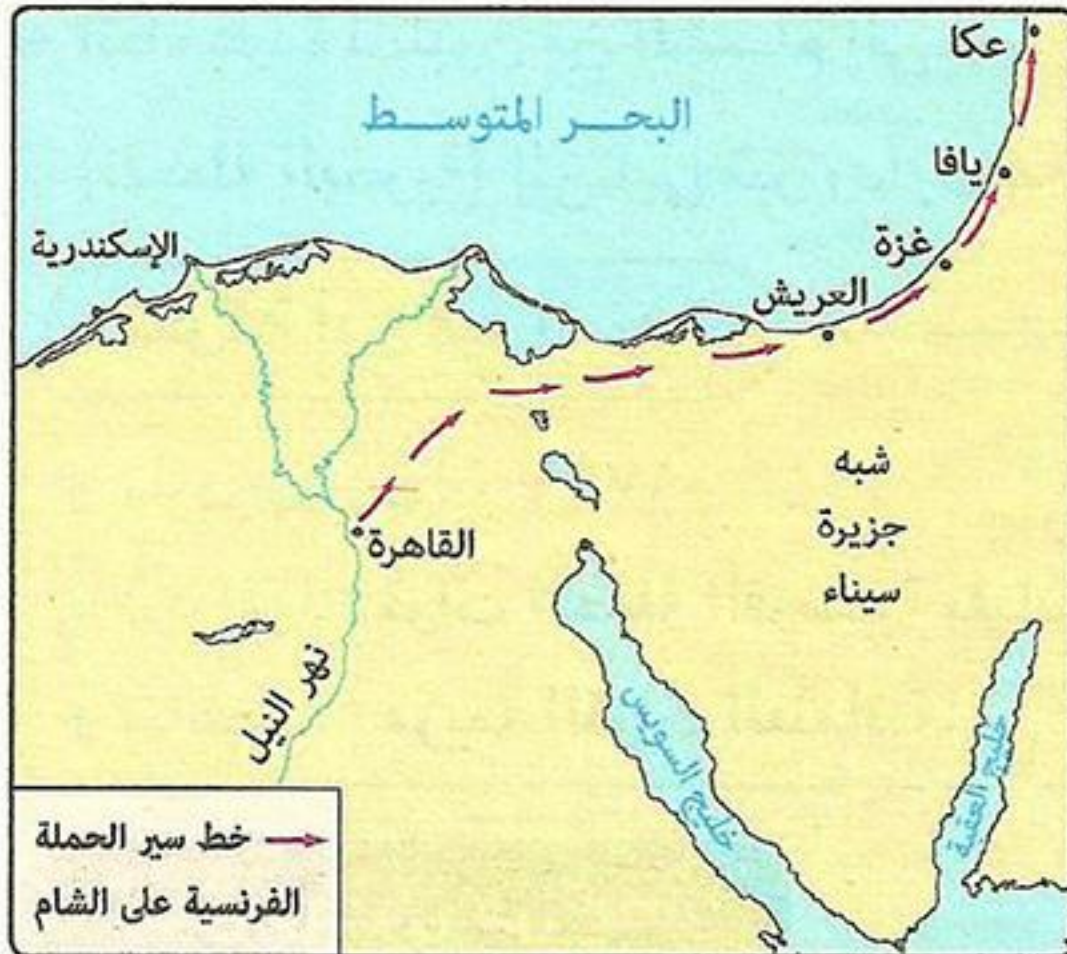
- (١) نتائج موقعة أبو قير البحرية.
- (٢) تحالف إنجلترا مع الدولة العثمانية وإعدادهم حملة مشتركة لطردهم الفرنسيين من مصر.

■ **خط سير الحملة:** • أعد نابليون جيشاً واتجه به إلى الشام.

• وصل نابليون مدينة عكا وحاصرها وفشل في فتحها.

**بم تفسر:** فشل الحملة الفرنسية في فتح عكا؟

- (١) قوة أسوارها.
- (٢) بسالة أهل عكا في الدفاع عن مدينتهم.
- (٣) خسارة نابليون أعداد كبيرة من جنوده لتفشي مرض الطاعون.







الجنرال كليبر

## ٣ معركة أبو قير البرية (يوليو ١٧٩٩م)

\* عند عودة نابليون من الشام دارت معركة أبو قير البرية يوليو ١٧٩٩م.

• **الأطراف:** الفرنسيون × العثمانيين.

• **النتائج:** هزيمة العثمانيين وأسر قائدهم.

\* بعد المعركة قرر نابليون العودة سرّاً إلى فرنسا وعين كليبر قائداً للحملة الفرنسية في مصر.

## ٤ اتفاقية العريش (يناير ١٨٠٠م)

• **الأطراف:** كليبر (الفرنسيون) × العثمانيين (الأتراك).

• **بنود الاتفاقية:** تم الاتفاق على جلاء الفرنسيين عن مصر بأسلحتهم ومعداتهم على نفقة الدولة العثمانية،

بناء على ذلك تقدم العثمانيين نحو القاهرة.

• **موقف إنجلترا:** رفضت إنجلترا (بريطانيا) الاتفاقية وأصرّت على أن يسلم الفرنسيين أنفسهم كأسرى حرب.

• **النتائج:** (١) فشلت الاتفاقية لرفض كليبر موقف إنجلترا.

(٢) محاربة كليبر للقوات العثمانية في ضواحي القاهرة وهزيمتهم وتقهقرهم إلى الشام.

## ٥ ثورة القاهرة الثانية (مارس ١٨٠٠م)



السيد عمر مكرم

مركزها	حى بولاق.
قائدها	عمر مكرم.
أسبابها	الإجراءات العقابية التي اتخذها كليبر ضد أهالي القاهرة.
أحداثها	<ul style="list-style-type: none"> <li>اندلعت الثورة في حى بولاق حيث يوجد به مخازن تموين الجيش الفرنسي.</li> <li>قام الثوار بقتل الحامية الفرنسية وتحطيم أبواب المخازن واستولوا على ما فيها.</li> <li>استمرت الثورة أكثر من شهر وتصدى لها كليبر بالقوة.</li> <li>أمر كليبر بتدمير حى بولاق بالمدافع وقتل بعض الثوار ومنع الغذاء عن سكان القاهرة.</li> </ul>
نتائجها	<ul style="list-style-type: none"> <li>(١) زاد كليبر من فرض الضرائب والإتاوات ومصادرة الأموال والممتلكات.</li> <li>(٢) زيادة سخط الشعب المصرى على كليبر والفرنسيين.</li> </ul>



\* بعد أن هدأت الأوضاع بدأ كليبر يقوم ببعض الإصلاحات لتلبية حاجة الجيش الفرنسي فأنشأ الحصون في القاهرة والإسكندرية.

\* أثناء تفقد كليبر للإصلاحات قام شاب سوري (سليمان الحلبي) بقتل كليبر.

\* تولى مينو (أقدم ضباط الحملة الفرنسية) قيادة الحملة في مصر بعد مقتل كليبر.

## نهاية الاحتلال الفرنسي لمصر (١٨٠١م)



الجنرال مينو

## فشلت الحملة الفرنسية على مصر وذلك لعدة أسباب هي:

- (١) لم تحقق الحملة الفرنسية أهدافها في جعل مصر قاعدة لإمبراطورية فرنسية في شرق.
- (٢) تفوق إنجلترا البحري وحصارها للشواطئ المصرية.
- (٣) تعدد ثورات المصريين.
- (٤) مقاومة المماليك والعثمانيين.

\* لهذه الأسباب تم توقيع اتفاقية بين: مينو مع ممثل الجيش الإنجليزي.

\* كانت هذه الاتفاقية بمثابة استسلام الفرنسيين وخروجهم من مصر بكامل أسلحتهم على متن السفن الإنجليزية في سبتمبر ١٨٠١م.

## نتائج الحملة الفرنسية على مصر

النتائج العلمية	النتائج السياسية	النتائج الحربية
(١) اكتشاف حجر رشيد وفك رموز الكتابة المصرية القديمة. (٢) تأليف كتاب وصف مصر. (٣) إنشاء المجمع العلمي المصري كمقر لأجراء الأبحاث العلمية. (٤) دراسة مشروع توصيل البحرين الأحمر والمتوسط.	(١) لفتت الحملة أنظار العالم الغربي وخاصة إنجلترا لأهمية موقع مصر. (٢) أظهرت للمجتمع المصري عزله عما يجري في العالم. (٣) إيقاظ الوعي القومي لدى المصريين.	(١) فشلت الحملة في جعل مصر قاعدة لإمبراطورية فرنسية في الشرق. (٢) فشلت الحملة في قطع الطريق بين إنجلترا ومستعمراتها في الهند. (٣) نجحت الحملة في إضعاف قوة المماليك.

## لاحظ!

- ← فشلت الحملة في تحقيق أهدافها العسكرية.
- ← النتائج العلمية للحملة هي أهم النتائج.

## أسئلة عامة على الدرس

## أكمل:

- (١) كانت الحملة الفرنسية على الشام بقيادة .....
- (٢) زعيم ثورة القاهرة الثانية هو .....
- (٣) كان مركز ثورة القاهرة الأولى ..... بينما مركز ثورة القاهرة الثانية .....
- (٤) أهم نتائج الحملة الفرنسية على مصر هي النتائج .....
- (٥) أعدم نابليون ستة من زعماء ثورة القاهرة الأولى باستثناء .....

- ٦) تعاونت ..... مع الدولة العثمانية لإخراج الحملة الفرنسية من مصر بالقوة.  
 ٧) في يناير ١٨٠٠م عقد كليبر اتفاقية مع ..... ولكنها فشلت.  
 ٨) ساعد اكتشاف ..... على فك رموز الكتابة المصرية القديمة.  
 ٩) أعدم نابليون ٦ من زعماء ومشايخ ثورة القاهرة ..... باستثناء الشيخ .....

**بم تفسر:**

- ١) قيام نابليون بإلغاء ديوان القاهرة الذي ضم المشايخ والعلماء؟  
 ٢) فشل اتفاقية العريش يناير ١٨٠٠م؟  
 ٣) فشل الحملة الفرنسية على الشام؟  
 ٤) النتائج العلمية للحملة الفرنسية من أهم النتائج؟  
 ٥) فشل الحملة الفرنسية على مصر من الناحية الحربية؟

**أكتب ما تشير إليه الجمل الآتية:**

- ١) مدينة في الشام فشل نابليون في اقتحامها لقوة أسوارها وبسالة أهلها. (.....)  
 ٢) معركة برية دارت بين الفرنسيين والعثمانيين في الإسكندرية هزم فيها العثمانيين. (.....)  
 ٣) شاب سوري كان يدرس بالأزهر قام بطعن كليبر بخنجر فقتله. (.....)  
 ٤) أقدم ضباط الحملة الفرنسية وتولى قيادة الحملة بعد مقتل كليبر. (.....)  
 ٥) رفضت اتفاقية العريش بين كليبر والعثمانيين يناير ١٨٠٠م. (.....)

**ما النتائج المترتبة على:**

- ١) ثورة القاهرة الأولى أكتوبر ١٧٩٨م؟  
 ٢) اكتشاف حجر رشيد؟

**ضع علامة (✓) أو (×) مع التصويب:**

- ١) من الوجهة الحربية حققت الحملة الفرنسية أهدافها. ( )  
 ٢) تولى الجنرال مينو قيادة الحملة الفرنسية بعد رحيل نابليون سراً إلى فرنسا. ( )  
 ٣) كان حى بولاق مركز ثورة القاهرة الأولى. ( )  
 ٤) فرض الفرنسيون الضرائب على المصريين قبل موقعة أبو قير البحرية. ( )  
 ٥) لم ترحب الحكومة الإنجليزية باتفاقية العريش يناير ١٨٠٠م. ( )  
 ٦) بعد ثورة القاهرة الأولى ألغى كليبر ديوان القاهرة وشكل ديوان آخر من الأجنب. ( )

**برهن تاريخياً على صحة ما يأتي:**

- ١) كان للحملة الفرنسية فوائد علمية وثقافية على مصر؟

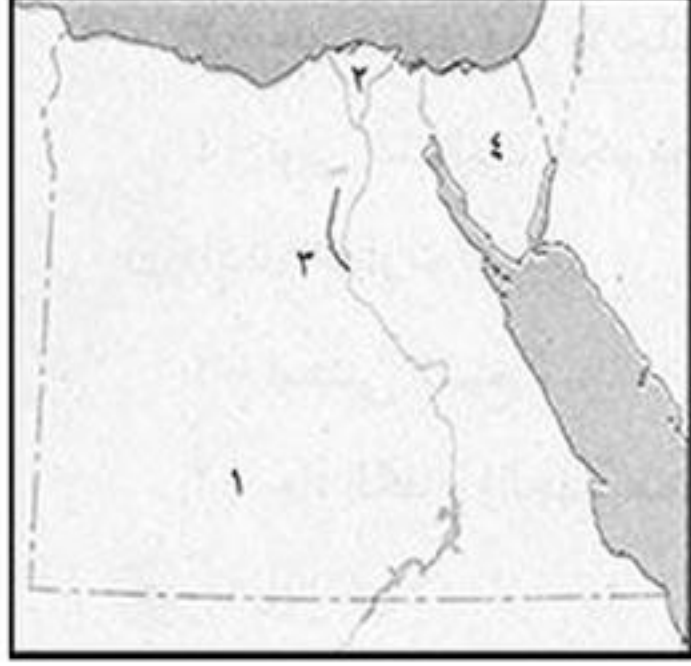
**ماذا يحدث إذا:**

- ١) وافقت بريطانيا على اتفاقية العريش يناير ١٨٠٠م؟  
 ٢) استطاع نابليون فتح مدينة عكا؟

**اختر الإجابة الصحيحة:**

- ١) انطلقت ثورة القاهرة الأولى من .....  
 ٢) اكتشاف حجر رشيد وفك رموز الكتابة المصرية القديمة من النتائج ..... للحملة الفرنسية.  
 (الحربية - السياسية - العلمية - الاجتماعية)  
 ٣) قائد ثورة القاهرة الثانية هو .....  
 (الشيخ السادات - محمد كريم - عمر مكرم - نابليون)

## اختبار



## أكتب ما تشير إليه الأرقام الآتية:

١. الصحراء .....
٢. منطقة زراعية .....
٣. ترعة .....
٤. شبه جزيرة .....

## بم تفسر:

- (١) إقامة الدولة العديد من مشروعات الري على مجرى نهر النيل؟
- (٢) أهمية رأس المال في البيئة الصناعية؟
- (٣) قيام ثورة القاهرة الثانية؟
- (٤) اهتمام الدولة بالتوسع في إنشاء المزارع السمكية؟
- (٥) آثار نابليون الشعور الديني لدى المصريين؟
- (٦) استثناء نابليون الشيخ السادات من حكم الاعدام؟

## أكمل:

- (١) تسهم الصناعة في زيادة ..... المصري.
- (٢) يزدهر النشاط السياحي في منطقة ..... في محافظة الشرقية.
- (٣) يعاني سكان البيئة الزراعية من مشكلات مثل الأمية و.....
- (٤) يعتبر الموقع الجغرافي من المقومات ..... لقيام الصناعة.
- (٥) اكتشاف حجر رشيد من أبرز النتائج ..... للحملة الفرنسية.
- (٦) فشل نابليون في فتح مدينة ..... في الشام.
- (٧) تمدنا البيئة الزراعية بالخصائص الزراعية والمنتجات .....

## صوب ما تحته خط:

- (١) مصادر الطاقة من العوامل البشرية في قيام الصناعة.
- (٢) تنسب الدولة العثمانية إلى مؤسسها سليم الأول.
- (٣) تولى المماليك حكم مصر عقب انهيار الدولة الفاطمية.
- (٤) تتميز تربة الوادي والدلتا بأنها تربة رملية.

## ما النتائج المترتبة على:

- (١) تنوع البيئات المصرية؟
- (٢) اكتشاف البرتغاليين طريق رأس الرجاء الصالح ١٤٨٩ م؟

## أكتب ما تشير إليه الجمل الآتية:

- (١) انتقال الأفراد من مكان لآخر سواء داخل الدولة أو خارجها لفترة طويلة.
  - (٢) تحويل المواد الخام إلى سلع ومنتجات لسد احتياجات السكان.
  - (٣) قام بفتح القسطنطينية عاصمة الدولة البيزنطية عام ١٤٥٣ م.
  - (٤) قاوم الحملة الفرنسية في الإسكندرية.
- (.....)
- (.....)
- (.....)
- (.....)

## محمد علي والياً على مصر

\* بعد رحيل الحملة الفرنسية عن مصر عام ١٨٠١م، عانت مصر من الفوضى حيث تصارعت عدد من القوى على الانفراد بحكم مصر وهم:

الزعامة الشعبية

الإنجليز

المماليك

العثمانيون

## ١ العثمانيون

- رأت الدولة العثمانية أنها صاحبة الحق في السيادة على مصر باعتبار مصر ولاية عثمانية.
- خلال فترة الفوضى قام السلطان العثماني بتعيين عدد كبير من الولاة قُتل بعضهم بسبب المؤامرات التي دُبرت للتخلص منهم.

## ٢ المماليك

- تطلع المماليك للانفراد بحكم مصر.
  - رأى المماليك أحقيتهم في حكم مصر لأنهم تصدوا للفرنسيين في معارك عديدة.
- بهم تفسر:** لم يتمكن المماليك من الوصول للسلطة بعد رحيل الحملة الفرنسية؟  
 كـ بسبب: (١) الصراع فيما بينهم للوصول للسلطة.  
 (٢) نهب ثروات البلاد دون النظر للمصلحة العامة.

## ٣ الإنجليز

- لم تفكر بريطانيا في جلاء قواتها من مصر بعد رحيل الحملة الفرنسية وأرادت احتلال مصر لتأمين طرق مواصلاتها إلى أكبر مستعمراتها في الهند.

## ٤ الزعامة الشعبية (قوة الشعب المصري)

- وسط الصراع بين العثمانيون والمماليك والإنجليز ظهرت قوى جديدة هي قوة الشعب المصري بقيادة الزعامة الشعبية التي قاومت الاحتلال الفرنسي في ثورتى القاهرة الأولى والثانية وعلى رأسهم المشايخ والعلماء.
- كان للزعامة الشعبية دور في:
  - بث الروح الوطنية في مواجهة الغزو الأجنبي وطرده من البلاد.
  - الضغط على الدولة العثمانية للموافقة على تولية محمد علي حكم مصر وفقاً لشروطهم.

## ثورة الشعب المصري وتولية محمد علي حكم مصر ١٨٠٥م

- بعد رحيل الحملة الفرنسية من مصر قام السلطان العثماني بتعيين عدد من الولاة لحكم مصر، ولكنهم فشلوا في إدارة شؤون البلاد بسبب: (١) عجزوا عن دفع رواتب الجنود المتأخرة.
- (٢) أرهقوا الأهالي بفرض الضرائب.
- \* فثار الأهالي ضد الولاة وحدثت اضطرابات كثيرة في مصر.

## ■ موقف زعماء الشعب:

- اجتمع زعماء الشعب من علماء ونقباء الطوائف بدار المحكمة في ١٣ مايو ١٨٠٥م وقرروا عزل الوالي العثماني خورشيد باشا وتولية محمد علي حكم مصر.
- توجه عمر مكرم نقيب الأشراف والشيخ عبدالله الشراوي كبير العلماء إلى بيت محمد علي وألبسوا لباس الولاية وأخذوا عليه عهداً: (ألا يفعل شيئاً إلا بعد الرجوع إليهم).
- رفض السلطان العثماني في البداية تولية محمد علي لكنه وافق تحت ضغط الشعب والعلماء.



محمد علي

## الصعوبات التي واجهت محمد علي في بداية حكمه

المماليك

الزعامة الشعبية

حملة فريزر (مارس ١٨٠٧م)

## ١ حملة فريزر (مارس ١٨٠٧م)

- الأسباب: رغبة إنجلترا في خلع محمد علي والسيطرة على مصر.
- خط سير الحملة: أرسلت بريطانيا حملة إلى مصر بقيادة فريزر، استولت الحملة على الإسكندرية ثم زحفت إلى رشيد.
- الأحداث: • استولت حملة فريزر على الإسكندرية وروعت الأهالي، فكتب الأهالي إلى السيد عمر مكرم فأرسل إليهم يدعوهم للتوجه إلى رشيد.
- تجمع آلاف الأهالي لمواجهة الجيش البريطاني عند رشيد والحماد.
- استطاع الأهالي هزيمة القوات البريطانية.
- النتائج: (١) هزيمة حملة فريزر بسبب مقاومة أهالي رشيد والحماد.
- (٢) جلاء القوات الإنجليزية عن مدينة الإسكندرية في سبتمبر ١٨٠٧م.



## ٢ التخلص من الزعامة الشعبية

- بعد استقرار الأمور لمحمد علي داخل البلاد قرر التخلص من منافسيه وعلى رأسهم العلماء مستغلاً الخلاف بينهم فقام بالآتي:
- (١) نفى السيد عمر مكرم نقيب الأشراف إلى دمياط.
- (٢) عزل الشيخ عبدالله الشراوي من منصبه.
- \* رغم الجهود التي بذلوها لتولية محمد علي حكم مصر.



السيد عمر مكرم



القلعة

### ٣ المماليك (مذبحة القلعة/ مارس ١٨١١م)

- دبر محمد على مكيدة في مارس ١٨١١م للتخلص من المماليك حيث:
  - دعا زعماء المماليك إلى القلعة للاحتفال بتعيين طوسون (ابن محمد على) القيادة العامة لحملة الحجاز ثم قتل عدد كبير منهم.
  - تعقب ابنه إبراهيم المماليك الناجين من المذبحة وقضى على عدد منهم وفر الباقون إلى السودان.
  - \* بذلك وطد محمد على حكمه على مصر ليتفرغ لتنفيذ سياساته في حكم مصر.

### أسئلة عامة علم الدرس

#### أكمل:

- (١) تولى محمد على حكم مصر في مايو عام .....م.
- (٢) دبر محمد على ..... للتخلص من المماليك عام .....م.
- (٣) أرسلت بريطانيا حملة ..... عام ١٨٠٧م لاحتلال مصر وخلع .....
- (٤) عقب رحيل الحملة الفرنسية تصارع على حكم مصر المماليك و..... والزعماء الشعبية.
- (٥) في عام ١٨٠٥م قرر زعماء الشعب المصري عزل الوالى ..... وتعيين محمد على بدلاً منه.
- (٦) كافح أهالى مدينتى ..... و..... حملة فريزر مارس ١٨٠٧م.
- (٧) تخلص محمد على من الزعامة الشعبية بنفى عمر مكرم إلى ..... وعزل ..... من منصبه.
- (٨) طمع الإنجليز في بسط نفوذهم على مصر لتأمين طرق مواصلاتهم إلى .....

#### بم تفسر:

- (١) هزيمة حملة فريزر ١٨٠٧م؟
- (٢) قيام محمد على بمذبحة القلعة ١٨٠١١م؟
- (٣) فشل المماليك في الوصول للحكم بعد رحيل الحملة الفرنسية؟

#### أختر الإجابة الصحيحة:

- (١) تولى القيادة العامة لحملة الحجاز عام ١٨١١م.
  - (٢) تخلص محمد على من المماليك في مذبحة القلعة عام.
  - (٣) ظهرت بسالة أهالى رشيد والحماة في صد حملة.
  - (٤) دبر محمد على مذبحة القلعة للتخلص من.
  - (٥) تولى محمد على حكم مصر عام ١٨٠٥م بعد عزل .....
- (إبراهيم باشا - طوسون باشا - خسرو باشا - خورشيد باشا)  
 (١٨٠٥م - ١٨٠٩م - ١٨١١م - ١٨٤٨م)  
 (نابليون - نلسون - كليبر - فريزر)  
 (الزعامة الشعبية - المماليك - الإنجليز - الفرنسيين)  
 (طاهر - أحمد - خسرو - خورشيد)

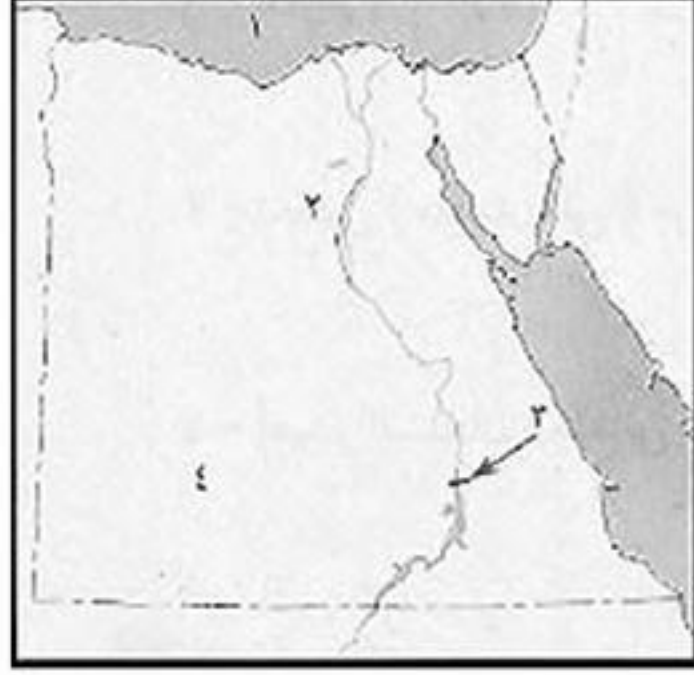
#### ما النتائج المترتبة على:

- (١) المذبحة التى ارتكبتها محمد على عام ١٨١١م؟
- (٢) رغبة محمد على فى الانفراد بحكم مصر؟

#### ماذا يحدث إذا:

- (١) فشل محمد على فى المؤامرة التى دبرها عام ١٨١١م؟
- (٢) نجحت حملة فريزر مارس ١٨٠٧م؟

## اختبار



## أكتب ما تشير إليه الأرقام الآتية:

١. البحر .....
٢. ترعة .....
٣. السد .....
٤. الصحراء .....

## بم تفسر:

- (١) تكتمت الحكومة الفرنسية أخبار حملتها على مصر عام ١٧٩٨ م؟
- (٢) تنوع البيئات المصرية؟
- (٣) تدهور الحياة الفنية أثناء الحكم العثماني لمصر؟

## برهن:

- (١) كانت مصر مسرحاً للقوى المتصارعة على الحكم بعد جلاء الحملة الفرنسية؟

## أكمل:

- (١) تعتمد الزراعة في ..... على المياه الجوفية.
- (٢) فتح العثمانيون مدينة ..... عاصمة الدولة ..... عام ١٤٥٣ م.
- (٣) نشأت الدولة ..... أواخر القرن ١٣ الميلادي.
- (٤) يترتب على الهجرة ارتفاع نسبة ..... في المدن.
- (٥) توجد ترعة الإسماعيلية شرق .....
- (٦) تناقص نسبة العاملين بالنشاط الزراعي بسبب .....
- (٧) يعد ..... نائب السلطان في الولاية ومقره القلعة.
- (٨) اندلعت ثورة القاهرة الثانية أثناء قيادة ..... للحملة الفرنسية.

## أكتب ما تشير إليه الجمل الآتية:

- (١) طريق بحري يدور حول قارة إفريقيا من جهتي الغرب والجنوب. (.....)
- (٢) نائب السلطان العثماني في الولاية ومقره القلعة. (.....)
- (٣) استيلاء دولة على دولة أخرى قهراً. (.....)
- (٤) حركة شعبية شاملة تهدف للتغيير الجذري والشامل للنظم السياسية والأوضاع الاجتماعية. (.....)
- (٥) مناطق بنيت بدون تخطيط من الدولة وعادة تظهر حول أطراف المدن. (.....)
- (٦) تجهيز الجيش وتوجيهه لأهداف حربية. (.....)

## ما النتائج المترتبة على:

- (١) الهجرة من الريف إلى المدن؟
- (٢) تنوع الموارد الطبيعية والبشرية في البيئة الزراعية؟
- (٣) موقعة أبو قير البحرية؟

## ما رأيك في:

- (١) إنشاء مصنع في اتجاه الرياح؟



## محمد علي وبناء دولة مصر الحديثة (١٨٠٥ - ١٨٤٨م)



محمد علي باشا

\* بعد استقرار الأمور لمحمد علي في حكم مصر بدأ في رسم سياسة مصر الداخلية والخارجية من أجل بناء مصر الحديثة على النسق الأوربي وخاصة الفرنسي.

### أولاً سياسة محمد علي الداخلية

#### ١ التنظيم الإداري

- أهتم محمد علي بالتنظيم الإداري ليتمكن من السيطرة الكاملة على البلاد وقام بالآتي:
  - (١) قسم البلاد إلى: ٧ مديريات، يتبع كل مديرية عدد من المراكز، وتنقسم المراكز إلى عدة أقسام تضم عدة قرى.
  - (٢) جعل الحكومة المركزية: على رأس النظام الإداري.
    - مقرها: في القلعة.
    - مهامها: إصدار جميع الأوامر للنظام الإداري كله.
  - (٣) أنشأ عدة مجالس ودواوين: لتعاونه في إدارة شئون الحكم مثل الديوان العالى ومقره القلعة.

#### ٢ السياسة الاقتصادية

- \* اهتم محمد علي بالسياسة الاقتصادية لتحقيق الاستقلال السياسي لمصر عن طريق:
  - الاكتفاء الذاتي.
  - زيادة موارد الدولة.
  - جعل صادرات مصر أكثر من وارداتها.
- \* طبق محمد علي في الاقتصاد نظام الاحتكار (أي إشراف الدولة على مصادر الاقتصادى المصرى).

#### ١ الزراعة

- اهتم محمد علي بتنمية الزراعة وتطويرها وقام بالآتي:
  - (١) أدخل أنواع جديدة من القطن فأصبح القطن المصرى: منافساً للأقطان العالمية - أساس ثروة مصر الزراعية).
  - (٢) اهتم بزراعة أشجار التوت لتربية دودة القز ونتاج الحرير الطبيعي.
  - (٣) اهتم بزراعة أشجار النخيل والزيتون وقصب السكر والخضروات والفواكه والحبوب الغذائية.
  - (٤) اهتم بمشروعات الري فحفر الترغ والقنوات مثل ترعة المحمودية وأنشأ الجسور.
- \* أهم مشروعات الري التي قام بها محمد علي هي: القناطر الخيرية.



القناطر الخيرية

## ٢ الصناعة

- اهتم محمد على بإقامة صناعات تعتمد على المواد المتوفرة في مصر.
- أنشأ مصانع: الغزل والنسيج - الملابس - معامل السكر في الوجه القبلي - الأسلحة.
- \* ارتبط التقدم الصناعي بالنهوض بالجيش بهدف سد احتياجات الجيش من ملابس وأسلحة وغيرها.

## ٣ التجارة

- ازدهرت التجارة الداخلية والخارجية في عهد محمد على وأصبحت مصر مركزاً تجارياً مهماً بسبب:
  - (١) تقدم الزراعة والصناعة.
  - (٢) الاستقرار الداخلى.



قصر الجوهرة

## ٣ العمران والعمارة

- اهتم محمد على بالعمران والعمارة وظهر ذلك في:
  - تنمية المدن والقرى وتطويرها.
  - إنشاء العديد من المباني مثل: قصر الجوهرة.
  - مسجد محمد على.
  - الدفتر خانة بالقلعة.

## ٤ التعليم والثقافة

- اهتم محمد على بالتعليم فقام بالآتى:
  - (١) أنشأ المدارس الابتدائية والمدارس التجهيزية (التي تقابل المرحلة الثانوية) لأعداد التلاميذ للالتحاق بالمدارس العليا.
  - (٢) أنشأ مدارس حديثة مثل: (الحربية - الطب البشرى - الطب البيطرى - الصيدلة - الزراعة - المهندسخانة).
  - (٣) أنشأ المطبعة الأميرية في بولاق وأصدر صحيفة الوقائع المصرية.
  - (٤) اهتم بترجمة الكتب والمؤلفات في مختلف العلوم.
  - (٥) أرسل البعثات إلى الخارج وخاصة إلى فرنسا.

## ٥ الجيش والبحرية

- أدرك محمد على أن نجاح مشروعاته الداخلية والخارجية مرتبط بالآتى:
  - بناء جيش قوى منظم ومدرب على أحدث الأساليب الأوروبية ومزود بالأسلحة الحديثة.
  - أهتم بإنشاء أسطول حربي لذلك أنشأ:
    - ترسانة لصناعة السفن في الاسكندرية.
    - المدارس الحربية مثل (المشاة - المدفعية - الفرسان).



## ثانياً سياسة محمد علي الخارجية

كانت سياسة محمد علي الخارجية تهدف إلى تدعيم استقلال مصر عن الدولة العثمانية عن طريق خوض حروب خارجية في: (الجزيرة العربية - السودان - الشام - بلاد المورة باليونان).

ما النتائج المترتبة على: سياسة محمد علي الخارجية التوسعية؟

كما ترتب على ذلك: الصدام مع أطماع الدول الاستعمارية في المنطقة خاصة إنجلترا وفرنسا فقاموا بفرض معاهدة لندن ١٨٤٠م واضطر محمد علي لقبولها.



محمد علي يوافق على معاهدة لندن ١٨٤٠م

## شروط معاهدة لندن ١٨٤٠م

- (١) إعادة بلاد الشام والجزيرة العربية إلى السلطان العثماني.
- (٢) تثبيت محمد علي في حكم مصر.
- (٣) إعلان خضوع محمد علي للباب العالي (السلطان العثماني).

## فرمان يونيو ١٨٤١م

أصدر السلطان العثماني فرمان يونيو ١٨٤١م ويقضى ب: «حق وراثته الحكم لأكبر أبناء محمد علي سناً من الذكور، إلى جانب حكم السودان».

## ثالثاً خلفاء محمد علي

أهم الأعمال	مدة حكمه	الحاكم
	تولى الحكم عدة أشهر عام ١٨٤٨م.	إبراهيم باشا ابن محمد علي
• تولى الحكم عقب وفاة إبراهيم باشا.	١٨٤٨ - ١٨٥٤م	عباس باشا الأول ابن طوسون باشا وحفيد محمد علي
• تولى الحكم عقب وفاة عباس باشا الأول. • أعطى امتياز حفر قناة السويس للمهندس الفرنسي فرديناند دليسبس في نوفمبر ١٩٥٤م.	١٨٥٤ - ١٨٦٣م	محمد سعيد باشا (ابن محمد علي)
• سعى لتحقيق نهضة حقيقية في البلاد. • قام بالعديد من المشروعات العمرانية والاقتصادية. • اهتم بالتعليم. • أقام إمبراطورية مصرية امتدت حتى مديرية خط الاستواء. * نتيجة لإنجازات الخديو إسماعيل تحركت الدول الأوروبية ضده فقامت إنجلترا بالضغط على السلطان العثماني لعزله وتولية ابنه الخديوي توفيق.	١٨٦٣ - ١٨٧٩م	الخديوي إسماعيل ابن إبراهيم باشا وحفيد محمد علي
• تولى الحكم بعد عزل أبيه الخديو إسماعيل.	١٨٧٩ - ١٨٩٢م	الخديوي توفيق ابن الخديو إسماعيل

## أسئلة عامة علم الدرس

## أكمل:

- ١) قسم محمد على البلاد إلى ..... مديريات والمديريات إلى ..... ثم إلى ..... تضم عدة قرى.
- ٢) أراد محمد على بناء مصر الحديثة على النسق الأوربي خاصة النسق .....
- ٣) اهتم محمد على بالتعليم فأنشأ المدارس والمطبعة الأميرية في ..... وأرسل البعثات خاصة إلى .....
- ٤) نتيجة لتوسعات محمد على تدخلت إنجلترا وفرنسا وفرضوا عليه معاهدة ..... عام .....
- ٥) أنشأ محمد على الحكومة المركزية وكان مقرها في ..... بينما الديوان العالى كان مقره .....
- ٦) اهتم محمد على بمشروعات الري فقام بحفر ترعة ..... وأنشأ ..... على النيل.
- ٧) أنشأ محمد على ترسانة لصناعة السفن في .....
- ٨) خاض محمد على عدة حروب خارجية في شبه الجزيرة العربية و ..... والشام و ..... في اليونان.
- ٩) من القصور التي أنشأها محمد على قصر .....

## بم تفسر:

- ١) أقام محمد على حكومة مركزية مقرها القاهرة؟
- ٢) إنشاء محمد على الديوان العالى؟
- ٣) دخول محمد على في حروب عديدة؟
- ٤) اهتمام محمد على بالتنظيم الإدارى لمصر؟
- ٥) اهتمام محمد بالنظام الاقتصادى؟
- ٦) اهتمام محمد على بإنشاء العديد من المصانع؟

## ما النتائج المترتبة على:

- ١) توسعات محمد على الخارجية؟
- ٢) فرمان السلطان العثمانى سنة ١٨٤١م؟
- ٣) اهتمام محمد على بزراعة القطن؟
- ٤) قيام الخديوى إسماعيل بعدة إنجازات داخل مصر وخارجها؟
- ٥) اهتمام محمد على بالأسطول؟

## أكتب ما تشير إليه الجمل الآتية:

- ١) محصول مصرى أصبح في عهد محمد على أساس الثروة الزراعية لمصر. (.....)
- ٢) نظام طبقه محمد على في الاقتصاد المصرى لتحقيق الاستقلال السياسى لمصر. (.....)
- ٣) معاهدة فرضتها إنجلترا وفرنسا على محمد على عام ١٨٤٠م. (.....)
- ٤) جعل وراثه الحكم لأكبر أبناء محمد على سنأ من الذكور. (.....)
- ٥) نجح في إقامة إمبراطورية مصرية امتدت حتى مديريةه خط الاستواء. (.....)
- ٦) قصر أنشأه محمد على في القلعة. (.....)
- ٧) منح المهندس الفرنسى فرديناند دليسبس امتياز حفر قناة السويس. (.....)
- ٨) تولى حكم مصر بعد عزل الخديوى إسماعيل. (.....)
- ٩) صحيفة أصدرت في عهد محمد على. (.....)
- ١٠) جعل وراثه حكم مصر في أكبر أبناء محمد على سنأ من الذكور. (.....)

## اختبار



## أكتب ما تشير إليه الأرقام الآتية:

- (١) منطقة زراعية .....
- (٢) البحر .....
- (٣) قناطر .....
- (٤) الصحراء .....

## أكمل العبارات الآتية:

- (١) تضم محافظة الفيوم معالم سياحية مثل السواقي و..... و.....
- (٢) الصناعات التي يقل فيها الاعتماد على العمالة البشرية هي الصناعات .....
- (٣) تهدف الدولة من إنشاء المناطق الصناعية إلى زيادة .....
- (٤) اهتم محمد على بالتنظيم الإداري فقسم البلاد إلى .....

## صوب ما تحته خط:

- (١) بنى محمد على قصر القبة في القلعة.
- (٢) اندلعت ثورة القاهرة الأولى في حي بولاق.
- (٣) تخلص محمد على من الزعامة الشعبية بنفى الشيخ عبدالله الشرقاوى إلى دمياط.

## بم تفسر:

- (١) اهتمام الدولة بإنشاء مناطق صناعية ؟
- (٢) الأسباب الحقيقية لحملة نابليون على مصر ؟
- (٣) قيام ثورة القاهرة الأولى في أكتوبر ١٧٩٨ م ؟
- (٤) وجود مشكلة الصرف الزراعى الزائد ؟
- (٥) أهمية البيئة الصناعية لمصر ؟

## أكتب المصطلح العلمى لكل من:

- (١) إزالة الطبقة السطحية من تربة الأراضى الزراعية مما يؤدي إلى تدهورها. (.....)
- (٢) سوء استخدام الموارد الطبيعية بشكل يؤدي إلى نفادها. (.....)
- (٣) وزارة أنشئت لإصدار القوانين والتشريعات لحماية البيئة. (.....)
- (٤) زراعة الأرض وإنتاج المحاصيل وتربية الحيوانات والدواجن. (.....)
- (٥) كان يقوم بتنفيذ قرارات السلطان العثمانى وإرسال الخراج وحفظ الأمن. (.....)

## وضح ما يأتى بمثال:

- (١) ارتكب نابليون وجنوده أسوأ عمل فى حق المصريين والإسلام؟

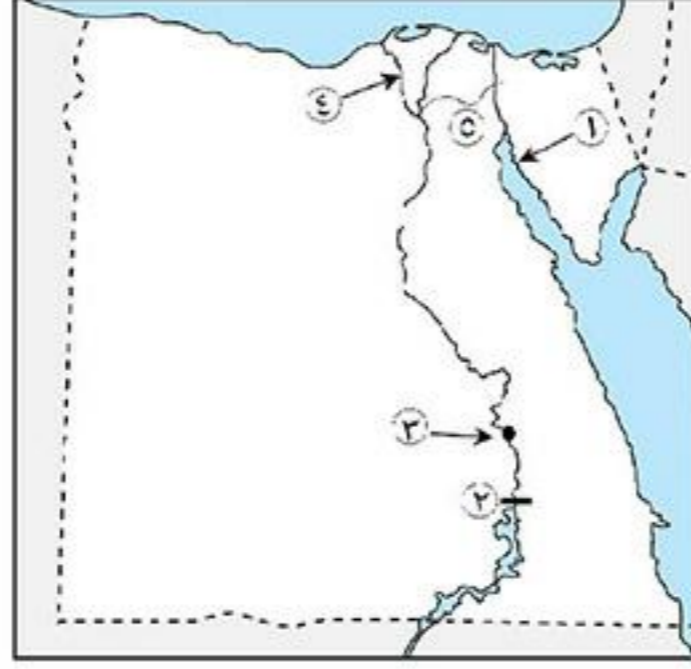
## برهن على:

- (١) تعاني الصناعة فى مصر من عدة مشكلات ؟

## رتب الأحداث التاريخية الآتية من الأقدم للأحدث:

- (١) اتفاقية العريش - مذبحه القلعة - رحيل الفرنسيين عن مصر - معركة الريدانية.
- (٢) مذبحه القلعة - حملة الشام - معركة إمبابه - تولية محمد على.

## مراجعة عامة



## أكتب ما تشير إليه الأرقام الآتية:

- ١) خليج .....
- ٢) السد .....
- ٣) مدينة .....
- ٤) فرع .....
- ٥) ترعة .....

## أكمل العبارات الآتية:

- ١) هناك بعض المناطق لا تجود بها الزراعة مثل الأطراف ..... للدلتا.
- ٢) تعتمد الزراعة في ..... على مياه الأمطار الشتوية.
- ٣) ترتفع نسبة ..... في تربة الوادي والدلتا.
- ٤) عُرف العثمانيون بهذا الاسم نسبة إلى ..... مؤسس دولتهم.
- ٥) أصبحت مصر ولاية ..... منذ عام ١٥١٧ م.
- ٦) تتميز البيئة الزراعية بـ ..... سطحها في الوادي والدلتا.
- ٧) تعتمد الزراعة في ..... على المياه الجوفية.
- ٨) ترتفع نسبة ..... في تربة الوادي والدلتا.
- ٩) يتصل منخفض الفيوم بنهر النيل عن طريق .....
- ١٠) تدهورت الحالة الاقتصادية في مصر بعد اكتشاف طريق .....
- ١١) تولى المماليك حكم مصر والشام عقب انهيار .....
- ١٢) كانت مصر قبل حكم العثمانيين تحت حكم دولة .....

## صوب ما تحته خط:

- ١) تنسب الدولة العثمانية إلى مؤسسها سليم الأول.
- ٢) تولى المماليك حكم مصر وبلاد الشام عقب انهيار الدولة الفاطمية.
- ٣) تنسب الدولة العثمانية إلى مؤسسها سليم الأول.
- ٤) تتميز تربة الوادي والدلتا بأنها تربة رملية.
- ٥) انتهت دولة المماليك بعد معركة مرج دابق.
- ٦) اتجه السلطان سليم الأول في غزواته إلى المغرب العربي مع بداية القرن السادس عشر الميلادي.
- ٧) قُتل طومان باي في موقعة مرج دابق.

## قارن بين: الزراعة على مياه نهر النيل – الزراعة على مياه الأمطار

الزراعة على مياه الأمطار	الزراعة على مياه نهر النيل

**بم تفسر:**

- (١) ازدهار دولة المماليك وتمتعها بالثراء الاقتصادي؟
- (٢) استخدام المزارعين في منخفض الفيوم السواقي؟
- (٣) ضعف وانهيار دولة المماليك؟
- (٤) ندرة النبات الطبيعي والحيوانات البرية في البيئة الزراعية؟
- (٥) قلة الزراعة في الأطراف الشمالية من الدلتا؟
- (٦) تداخل البيئات المصرية؟
- (٧) قيام الزراعة في الساحل الشمالى بالبيئة الساحلية؟
- (٨) إنشاء القناطر؟
- (٩) أهمية التكامل بين البيئات؟
- (١٠) يعد منخفض الفيوم بيئة زراعية رغم وقوعه في الصحراء الغربية؟

**أكتب المصطلح العلمى لكل من:**

- (١) طريق بحرى يدور حول قارة إفريقيا من جهتى الغرب والجنوب. (.....)
- (٢) فتح مدينة القسطنطينية واتخاذها عاصمة للدولة العثمانية. (.....)
- (٣) سهل يتكون من ترسيب التربة الطينية التى ينقلها نهر النيل من منابعه. (.....)
- (٤) قناة مائية يتم حفرها لتوصيل المياه من النهر إلى الأراضى الزراعية. (.....)
- (٥) بناء هندسى على مجرى النهر لاتقاء أخطار الفيضانات. (.....)

**ما النتائج المترتبة على:**

- (١) هزيمة المماليك في موقعة مرج دابق؟
- (٢) اتصال منخفض الفيوم بوادى النيل؟
- (٣) اكتشاف طريق رأس الرجاء الصالح؟
- (٤) هزيمة القوات المملوكية في موقعة الريدانية ١٥١٧م؟

**ضع علامة (✓) أو (×) مع التصويب:**

- ( ) (١) أصبحت مصر ولاية عثمانية عام ١٥١٧م.
- ( ) (٢) تم فتح القسطنطينية على يد السلطان عثمان بن أرطغرل.
- ( ) (٣) تنوع البيئات المصرية أدى إلى تنوع الثروات البشرية.
- ( ) (٤) تمدنا البيئة الصناعية بالحصلات الزراعية والمنتجات الحيوانية.
- ( ) (٥) يعد منخفض الفيوم بيئة زراعية رغم وقوعه في الصحراء الغربية.
- ( ) (٦) لا توجد الزراعة في الأطراف الشمالية للدلتا.
- ( ) (٧) يتميز مناخ البيئة الزراعية في مصر بالبرودة صيفاً وشدة الحرارة شتاءً.
- ( ) (٨) منخفض الفيوم أقرب المنخفضات الصحراوية إلى وادى النيل.
- ( ) (٩) تقع ترعة النوبارية شرق الدلتا.

## فهرس الموضوعات

الصفحة	الموضوع
١	◀ درس تمهيدى: البيئات المصرية .....
	◀ الوحدة الأولى: البيئة الزراعية
٣	الدرس الأول: خصائص البيئة الزراعية .....
٨	الدرس الثانى: سكان البيئة الزراعية .....
١٢	الدرس الثالث: الأنشطة الاقتصادية فى البيئة الزراعية .....
	◀ الوحدة الثانية: البيئة الصناعية
١٦	الدرس الأول: العوامل الطبيعية والبشرية للصناعة .....
٢١	الدرس الثانى: الصناعة والمناطق الصناعية .....
٢٤	الدرس الثالث: مشكلات الصناعة والبيئة الصناعية وكيفية التغلب عليها .....
	◀ الوحدة الثالثة: مصر فى ظل الحكم العثمانى
٢٧	الدرس الأول: دخول العثمانيين مصر .....
٣١	الدرس الثانى: نظام الحكم العثمانى فى مصر .....
	◀ الوحدة الرابعة: الحملة الفرنسية على مصر
٣٥	الدرس الأول: دخول الحملة الفرنسية مصر (١٧٩٨م - ١٨٠١م) .....
٣٨	الدرس الثانى: أحوال مصر تحت الاحتلال الفرنسى .....
٤٣	الدرس الثالث: (محمد على) والياً على مصر .....
٤٧	الدرس الثالث: (محمد على) وبناء دول مصر الحديثة (١٨٠٥م - ١٨٤٨م) .....



[www.facebook.com/EL.Sulttan](http://www.facebook.com/EL.Sulttan)

انتظر مذكرات المراجعة

تابعنا على صفحتنا



إهداء إلى الجمعيات الخيرية

# السُلطان



012 000 28 345



[www.facebook.com/EL.Sulttan](http://www.facebook.com/EL.Sulttan)