

١- أكمل العبارات الآتية بكلمات مناسبة :

- ١ - من العادات الإيجابية لسكان البيئة الزراعية .....
- ٢ - يعد الرخام من المواد الخام ..... اللازمة للصناعة .
- ٣ - يترتب على الهجرة الداخلية ارتفاع نسبة ..... بالمدن .
- ٤ - يتصل منخفض الفيوم بنهر النيل عن طريق .....

ب) ما رأيك في المواقف التالية ؟ :

- ١ - استخدام الفلاح للألات الحديثة في الزراعة .
- ٢ - بناء مصنع في اتجاه الرياح .

ج) ما النتائج المترتبة على : - الهجرة من الريف إلى المدن ؟

ثانياً : التاريخ

١- أكمل العبارات الآتية بكلمات مناسبة :

- ١ - أنشأ محمد على المطبعة الأميرية في .....
- ٢ - حدثت مواجهة بين الفرنسيين وزعماء المماليك عند ..... بالجيزة .
- ٣ - تحطم الأسطول الفرنسي في موقعة ..... عام ١٧٩٨ م .
- ٤ - عزل محمد على الشيخ ..... من منصبه .

ب) يَم تفسر ؟ - - ضعف وانهار دولة المماليك .

ج) قارن بين : ثورتى القاهرة الأولى والثانية ، من حيث :

( الأسباب والنتائج وقائد الحملة الفرنسية التى وقعت فى عهده ) .

١- لمن تنسب الأعمال التالية ؟ :

- ١ - نجح فى إقامة إمبراطورية امتدت إلى مديريةية خط الاستواء .
- ٢ - قاد الحملة الإنجليزية على مصر عام ١٨٠٧ م .

ب) اكتب كلمة ( صح ) أمام العبارة الصحيحة ، وكلمة ( خطأ ) أمام العبارة غير الصحيحة مع التصويب :

- ١- كان نظام الحكم العثماني عادلاً .
- ٢ - أعطى ( سعيد باشا ) امتياز حفر قناة السويس للمهندس البريطاني ديليسبس .
- ٣ - تزعم عمر مكرم المقاومة المصرية ضد الحملة الفرنسية فى الإسكندرية .
- ٤ - فرَّ المماليك الباقون من مذبحه القلعة إلى السودان .

ج) ( كانت مصر ولا تزال تمثل البصخرة التى تتحطم عليها آمال الطغاة وأحلام الطامعين ) .

على ضوء العبارة السابقة أجب عما يأتى :

- ١ - تكلم عن سياسة ( محمد على ) الخارجية التوسعية .
- ٢ - برهن على فشل الحملة الفرنسية من الوجهة الحربية .

رابعاً :

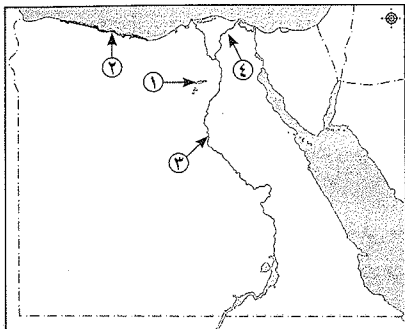
امتحانات المحافظات المختلفة لعام ٢٠١٧م

( يجيب عنها التلميذ )

الأسئلة التى تم تمييزها بالعلامة ( \* ) تم تعديلها طبقاً لآخر تعديل فى المنهج

١ محافظة القاهرة

أولاً : الجغرافيا



١ أمامك خريطة صماء لجمهورية مصر العربية .

اكتب مدلول الأرقام الموقعة عليها :

- ١ - منطقة تنتشر بها الزراعة المروية .....
- ٢ - منطقة تنتشر بها الزراعة المطرية .....
- ٣ - محافظة زراعية بالوادي .....
- ٤ - منطقة بها أكبر عدد من سكان البيئة الزراعية .....

ب) اكتب كلمة ( صواب ) أو كلمة ( خطأ ) أمام ما يناسب

كل من العبارات الآتية :

- ١ - تنوع الثروات المعدنية والإنتاج الاقتصادى كان نتيجة لتنوع البيئات المصرية . ( )
- ٢ - تظهر الأراضى الزراعية بمنطقة الفيوم على شكل مدرجات واسعة . ( )
- ٣ - تروى ترعة الإسماعيلية الأراضى الزراعية فى غرب الوادى . ( )
- ٤ - توجد بمحافظة الشرقية معالم سياحية متعددة مثل عين السيليين . ( )
- ٥ - توفر البيئة الزراعية للبيئة الصناعية المنتجات الغذائية . ( )
- ٦ - تحتاج الصناعات الحديثة إلى عدد كبير من العمال . ( )

ج) صنّف عوامل قيام الصناعة الآتية فى الجدول التالى إلى طبيعية أو بشرية :

( رأس المال - الظروف المناخية - السوق - الموقع الجغرافى ) .

العوامل الطبيعية	العوامل البشرية
.....	.....
.....	.....
.....	.....

٢ اكتب المصطلح المناسب لكل من :

- ١ - يقصد بها الأفراد الذين فى سن العمل ولا يعملون . (.....)
- ٢ - قناة يتم حفرها عند منسوب الترعى والأراضى لصرف المياه الزائدة عن حاجة التربة . (.....)

ب) يَم تفسر ؟ :

- ١ - أهمية تربة الوادى والدلتا ومنخفض الفيوم لقيام النشاط الزراعى .
- ٢ - لجوء كثير من الشباب من البيئة الزراعية للهجرة داخل الدولة أو خارجها .
- ٣ - أهداف الدولة من إنشاء المناطق الصناعية .

ج) ما هى مقترحاتك لمواجهة مشكلات البيئة الصناعية فى مصر ؟

## ثانياً : التاريخ

١ أكمل العبارات الآتية بكلمات مناسبة :

- ١- تم فتح القسطنطينية في عهد السلطان العثماني .....
  - ٢- كان من أسباب حدوث انهيار دولة المماليك اكتشاف ..... طريق رأس الرجاء الصالح .
  - ٣- من الأسباب الحقيقية للحملة الفرنسية على مصر قطع الطريق بين ..... ومستعمراتها في .....
  - ٤- أدت سياسة ( محمد علي ) الخارجية التوسعية إلى صدام مع الدول الاستعمارية .
- ب رتب الأحداث التاريخية الآتية من القديم إلى الحديث :
- ( موقعة أبي قير البحرية - تولي محمد علي حكم مصر - حملة فريزر - معركة الريدانية )

ج ماذا يحدث إذا ؟ : لم يتم فك رموز حجر رشيد .

د إلى من تنسب الأعمال الآتية ؟ :

- ١- انتصر على القوات المملوكية في معركة مرج دابق وضم بلاد الشام . (.....)
- ٢- كان من مهامها الدفاع عن البلاد في ظل الحكم العثماني لمصر . (.....)
- ٣- نجح في إقامة إمبراطورية مصرية امتدت إلى مديرية خط الاستواء . (.....)

ب « تعاطفت الروح الوطنية ضد الاحتلال الفرنسي فقام الشعب المصري بثورتين » في ضوء العبارة أجب عما يأتي :

١- ما أسباب اندلاع ثورة القاهرة الأولى ؟ ٢- ما نتائج ثورة القاهرة الثانية ؟

ج أيد بالدليل صحة أو خطأ العبارة الآتية :

- ١- كانت الحياة الاجتماعية في مصر أثناء الحكم العثماني بها تفرقة وحرمان للأغلبية .
- ٢- وضح بمثال اهتمام محمد علي بالعمارة والعمارة .

## ٢ محافظة الجيزة

## أولاً : الجغرافيا

١ أمامك خريطة صماء لمصر ، اكتب مدلول الأرقام

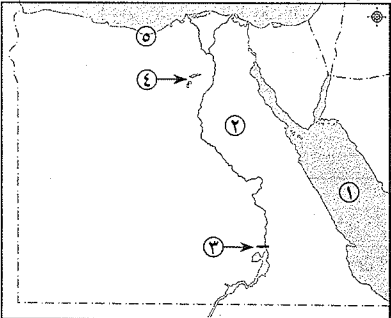
الموقعة عليها :

- ١- البحر .....
- ٢- الصحراء .....
- ٣- السد .....
- ٤- منخفض .....
- ٥- محافظة حضرية .....

ب اكتب ما تشير إليه العبارات الآتية :

- ١- المكان الذي نعيش فيه ويضم مظاهر طبيعية وحضرية .
- ٢- أرض مستوية تتكون على كلا جانبي النهر من ترسيب الرواسب الطينية .
- ٣- الأفراد الذين في سن العمل ولا يعملون .
- ٤- إزالة الطبقة السطحية من التربة مما يؤدي إلى تدهور إنتاجها .
- ٥- الإفراط وسوء استخدام الموارد الطبيعية بشكل يؤدي إلى نفاذها .

- (.....)
- (.....)
- (.....)
- (.....)
- (.....)



٢ اكتب كلمة ( صح ) أمام العبارات الصحيحة وكلمة ( خطأ ) أمام العبارات غير الصحيحة :

- ١- تتميز البيئة الزراعية في الوادي والدلتا باستواء سطحها . ( )
- ٢- يترتب على الهجرة من الريف إلى المدن تناقص عدد سكان المدن . ( )
- ٣- يقوم نشاط الأسماك في البيئة الزراعية على مصايد نهر النيل فقط . ( )
- ٤- يجب عند إقامة المصانع مراعاة اتجاهات الرياح . ( )
- ٥- التدخين من العادات الإيجابية بالبيئة الصناعية . ( )
- ٦- تهدف الدولة من إنشاء المناطق الصناعية إلى زيادة الدخل القومي . ( )

ب بم تفسر ؟ : ( يكتفى بذكر سبب واحد )

- ١- ندرة النباتات الطبيعية في البيئة . ٢- أهمية وسائل النقل والمواصلات في الصناعة .

## ثانياً : التاريخ

ا اختر الإجابة الصحيحة مما بين الأقواس :

- ١- أصبحت مصر ولاية عثمانية عام ١٥١٧ م بعد موقعة : ( ديو البحرية - جالديران - أبي قير البحرية - الريدانية )
- ٢- احتل الفرنسيون الإسكندرية عام ١٧٩٨ م بعد مقاومة حاكمها : ( عبدالله الشراوى - الشيخ السادات - محمد كريم - على بك الكبير )
- ٣- تأليف كتاب وصف مصر من أبرز نتائج الحملة الفرنسية : ( السياسية - العلمية - الحرية - الاجتماعية )
- ٤- أرسلت بريطانيا حملة إلى مصر في مارس ١٨٠٧ م بقيادة : ( فريزر - كرومر - ميتو - ديليسيس )
- ٥- اهتم محمد علي بالتعليم فأرسل بعثات إلى الخارج وخاصة : ( إنجلترا - أسبانيا - فرنسا - إيطاليا )

ب لمن تنسب الأعمال الآتية ؟ :

- ١- فتح القسطنطينية عام ١٤٥٣ م واتخذها العثمانيون عاصمة لهم . (.....)
- ٢- عقد مع العثمانيين اتفاقية العريش عام ١٨٠٠ م . (.....)
- ٣- تزعم ثورة القاهرة الثانية في حى بولاق . (.....)
- ٤- تولي القيادة العامة للحجاز عام ١٨١١ م . (.....)
- ٥- اهتم بالعمارة فأنشأ العديد من القصور مثل قصر الجوهرة . (.....)

ا صوب ما تحته الخط في العبارات الآتية :

- ١- انهزم المماليك على يد القوات العثمانية بقيادة السلطان محمد الفاتح . (.....)
- ٢- يشرف على تنفيذ القرارات الصادرة من السلطان العثماني الديوان . (.....)
- ٣- قامت فرنسا بإعداد حملة على مصر سرًا بقيادة نلسون . (.....)
- ٤- اجتمع زعماء الشعب بدار المحكمة عام ١٨٠٥ م وقرروا عزل خسرو باشا . (.....)
- ٥- أنشأ محمد علي الديوان العالى ومقره الأستانة . (.....)
- ٦- قام السلطان العثماني بعزل إسماعيل وتولية ابنه إبراهيم . (.....)

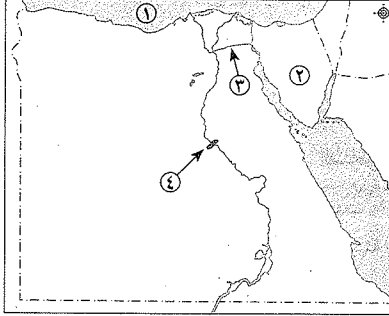
ب ما النتائج المترتبة على ؟ :

- ١- الحكم العثماني على مصر . ٢- ثورة القاهرة الأولى أكتوبر ١٧٩٨ م .



## محافظة القليوبية

أولاً : الجغرافيا



١ أمامك خريطة صماء لمصر ، اكتب في كراسة إجابتك

مدلول الأرقام الموقعة عليها :

١ - البحر .....

٢ - شبه جزيرة .....

٣ - ترعة .....

٤ - قناطر .....

ب اكتب المفهوم العلمي الذي تشير إليه العبارات الآتية :

١ - زراعة الأرض وإنتاج المحاصيل وتربية الحيوانات والدواجن .

٢ - إزالة الطبقة السطحية من التربة مما يؤدي إلى تدهور إنتاجها .

٣ - صناعات تعتمد على العمل اليدوي وتحتاج لرأس مال قليل .

٤ - الإفراط في استخدام الموارد الطبيعية بشكل يؤدي إلى نفاذها .

ج وضع : العلاقة بين البيئة الزراعية والصناعية .

١ اكتب كلمة ( صح ) أو ( خطأ ) أمام ما يناسبها من العبارات الآتية :

١ - تتميز أراضي الدلتا بوجود تضاريس مرتفعة .

٢ - احترام الكبير والتعاون من العادات الإيجابية .

٣ - تضم محافظة الفيوم معالم سياحية متعددة مثل آثار حضارة تل بسطة .

٤ - يجب عند إقامة المصانع مراعاة اتجاهات الرياح .

٥ - تعد صناعة السيارات والآلات من الصناعات المعدنية .

٦ - قامت الدولة بإنشاء وزارة الزراعة لإصدار القوانين لحماية البيئة من الأخطار .

ب ما النتائج المترتبة على ؟ : ١ - تنوع البيئات المصرية . ٢ - الهجرة من الريف إلى المدن .

ثانياً : التاريخ

١ اختر الإجابة الصحيحة مما بين القوسين لكل عبارة من العبارات الآتية :

١ - فتحت القسطنطينية عاصمة الدولة البيزنطية في عهد السلطان :

( سليم الأول - محمد الفاتح - بايزيد الثاني - طومان باي )

٢ - تحطم الأسطول الفرنسي في موقعة أبي قير البحرية على يد قائد الأسطول الإنجليزي :

( كليبر - بونايرت - مينو - نلسون )

٣ - تخلص محمد علي من ..... في مذبحة القلعة عام ١٨١١ م :

( الزعامة الشعبية - الإنجليز - المماليك - جنود الألبان )

٤ - أصدر السلطان العثماني فرماناً بضم حكم ..... لـ « محمد علي » عام ١٨٤١ م :

( محمد علي - محمد علي - محمد علي - محمد علي )

ب بم تفسر ؟ :

١ - ازدهار دولة المماليك في مصر . ٢ - تكتمت الحكومة الفرنسية أخبار حملتها على مصر عام ١٧٩٨ م .

٣ - فشل حملة نابليون على الشام .

١ إلى من تنسب الأعمال الآتية ؟ :

١ - قاد ثورة القاهرة الثانية ضد الفرنسيين .

٢ - قاد الحملة الإنجليزية على مصر عام ١٨٠٧ م .

٣ - أنشأ ترسانة لصناعة السفن بالإسكندرية .

٤ - نجح في إقامة إمبراطورية امتدت إلى مديرية خط الاستواء .

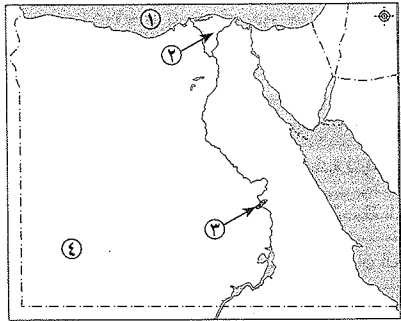
ب برهن على صحة العبارات الآتية تاريخياً :

١ - تدهورت الحياة العلمية والثقافية في مصر في العهد العثماني . ٢ - اهتمام محمد علي بالزراعة .

ج ما رأيك في ؟ : آثار الحملة الفرنسية العلمية والثقافية .

## محافظة الغربية

أولاً : الجغرافيا



١ أمامك خريطة صماء لمصر ، اكتب مدلول الأرقام

الموقعة عليها :

١ - البحر .....

٢ - منطقة زراعية فيضية .....

٣ - قناطر .....

٤ - الصحراء .....

ب بم تفسر ؟ :

١ - قيام الزراعة في الساحل الشمالي لمصر .

٢ - اهتمام الدولة بإنشاء وزارة لشئون البيئة .

٣ - يعد منخفض الفيوم بيئة زراعية رغم وقوعه في الصحراء الغربية .

١ اكتب كلمة ( صواب ) أو كلمة ( خطأ ) أمام ما يناسب كلاً من العبارات الآتية :

١ - من مشكلات البيئة الزراعية البطالة والامية .

٢ - من محاصيل الحبوب القمح والأرز والكتان .

٣ - تتنوع الصناعات بتنوع المواد الخام .

٤ - الزواج المبكر من العادات الإيجابية في البيئة الزراعية .

٥ - يفضل بناء المناطق الصناعية بالقرب من المناطق السكنية .

٦ - من الصناعات الكيماوية الأسمدة والصابون .

ب ما النتائج المترتبة على ؟

- ١ - استخدام الأسمدة والمبيدات بكثرة في تسميد التربة .
- ٢ - توسع الدولة في إنشاء المناطق الصناعية

### ثانيًا : التاريخ

١ تخير الإجابة الصحيحة مما بين القوسين فيما يلي وضع خطًا تحتها :

١ - فُتحت القسطنطينية عاصمة الدولة البيزنطية في عهد السلطان :

( سليم الأول - محمد الفاتح - بايزيد الثاني - طومان باي )

٢ - كان نظام الحكم العثماني في مصر قائمًا على النظام :

( الديمقراطي - الحزبي - الاستبدادي - العادل )

٣ - هُزمت الجيوش المملوكية في عام ١٥١٧ م عند :

( الريديانية - مرج دابق - جالديران - ديو البحرية )

٤ - تم تحطيم الأسطول الفرنسي في موقعة :

( ديو البحرية - طولون - أبي قير البحرية - عكا )

٥ - تم عقد اتفاقية العريش عام ١٨٠٠ م بين العثمانيين والقائد :

( مينو - نابليون - نلسون - كليبر )

٦ - قام محمد علي بنفي نقيب الأشراف السيد ..... إلى دمياط .

( محمد كريم - عمر مكرم - عبد الله الشراوى - مراد بك )

ب اكتب ما تشير إليه العبارات الآتية :

١ - فرق عسكرية ومن مهامها الدفاع عن البلاد .

( ..... )

٢ - طريق بحري يدور حول قارة أفريقيا من جهتي الغرب والجنوب .

( ..... )

٣ تخير من القائمة (ب) ما يناسبها من القائمة (أ) وضع ذلك في المكان المناسب :

العمود (أ)	العمود (ب)
١ - تنتسب الدولة العثمانية لمؤسسها	- القلعة .
٢ - من الأسباب المعلنة للحملة الفرنسية على مصر تأديب .	- الأيوبية .
٣ - قام الشاب السوري سليمان الحلبي بقتل القائد الفرنسي .	- عثمان بن أرطغرل .
٤ - كان مركزًا للمقاومة أثناء ثورة القاهرة الأولى .	- المماليك .
٥ - تولى المماليك حكم مصر بعد انهيار الدولة .	- كليبر .
٦ - تخلى محمد علي من المماليك سنة ١٨١١ في مذبحه .	- الأزهر الشريف .

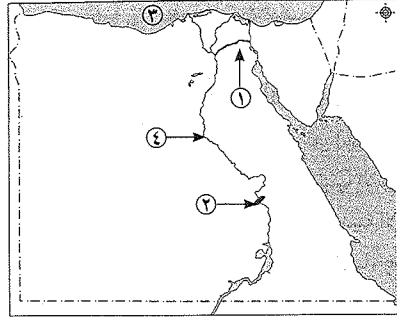
ب ماذا كان يحدث إذا ؟

١ - استخدم المماليك أسلحة متطورة في حروبهم مع قوات الدولة العثمانية .

٢ - لم يقف زعماء الشعب بجانب محمد علي في بداية حكمه .

## ٥ محافظة البحيرة

### أولًا : الجغرافيا



١ أمامك خريطة صماء لمصر ، اكتب مدلول الأرقام

الموجودة عليها :

١ - ترعة .....

٢ - قناطر .....

٣ - البحر .....

٤ - نهر .....

ب بم تفسر ؟ :

١ - يُعد منخفض الفيوم بيئة زراعية رغم وقوعه في الصحراء الغربية .

٢ - أهمية البيئة الصناعية لمصر .

٣ - معدل الزيادة السكانية الطبيعية في البيئة الزراعية أعلى من المناطق الحضرية .

٤ صوب الكلمات التي تحتها خط في كل عبارة من العبارات الآتية :

١ - تعتمد الزراعة في الواحات بالصحراء الغربية على مياه الأمطار الشتوية .

٢ - تُعتبر صناعة الأسمدة من الصناعات المعدنية .

٣ - احترام الكبير إحدى العادات الإيجابية لسكان البيئة الصناعية .

٤ - تُعد وسائل النقل والمواصلات في مصر من العوامل الطبيعية لقيام الصناعة .

٥ - تُعتبر صناعة حلج القطن من الصناعات الحرفية .

٦ - ارتفاع نسبة الأمية من أهم خصائص سكان البيئة الصناعية .

ب ١ - ما المقصود بكل من المفاهيم الآتية ؟ : - الهجرة . - تجريف التربة .

٢ - ما أهم مشكلات البيئة الصناعية في مصر ؟

### ثانيًا : التاريخ

١ اختر الإجابة الصحيحة مما بين القوسين فيما يلي :

١ - كانت مصر قبل حكم العثمانيين تحت حكم :

( الأمويين - العباسيين - الأيوبيين - المماليك )

٢ - أصبحت مصر ولاية عثمانية بعد معركة ..... ١٥١٧ م .

( جالديران - ديو البحرية - الريديانية - مرج دابق )

٣ - تأليف كتاب وصف مصر من النتائج ..... للحملة الفرنسية على مصر ١٧٩٨ م .

( الاجتماعية - الحرية - السياسية - العلمية والثقافية )

٤ - كان نظام الحكم العثماني لمصر :

( استبداديًا - برلمانيًا - مختلطًا - ديمقراطيًا )

٥ - تولى محمد علي حكم مصر بعد عزل والي العثماني : ( أحمد باشا - خسرو باشا - طاهر باشا - خورشيد باشا )

٦ - أرسلت بريطانيا حملة إلى مصر مارس عام ١٨٠٧ م بقيادة :

( ستانلي - فريزر - كرومر - نلسون )

ب بم تفسر : ١ - فشل حملة نابليون بونابرت على الشام فبراير ١٧٩٩ م ؟

٢ - ما نتائج الحكم العثماني على مصر ؟



١ اكتب ما تشير إليه كل عبارة من العبارات الآتية :

- ١ - إقليم يحكمه أجنبي يتوطنه أو يكتفى باستغلاله اقتصادياً أو عسكرياً .
- ٢ - طريق تجارى بحرى يدور حول قارة أفريقيا من الغرب والجنوب ، اكتشفه البرتغاليون عام ١٤٩٨ م .
- ٣ - نائب السلطان العثماني في مصر ومقره القلعة .

ب اكتب كلمة ( صح ) أمام العبارة الصحيحة ، وكلمة ( خطأ ) أمام العبارة غير الصحيحة فيما يلي :

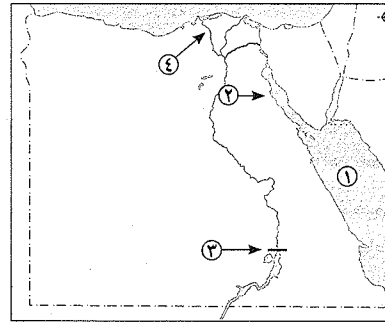
- ١ - قام محمد علي بنفي نقيب الأشراف عمر مكرم إلى أسيوط .
- ٢ - احتلت الحملة الفرنسية مدينة الإسكندرية بعد مقاومة أهلها وحاكمها محمد كريم في يوليو ١٧٩٨ م .
- ٣ - دبر محمد علي مكيدة للقضاء على المماليك في مذبحه القلعة مارس ١٨١١ م .

ج « لم تحقق الحملة الفرنسية أهدافها في مصر وعادت إلى فرنسا عام ١٨٠١ م » . في ضوء العبارة السابقة أجب :

- ١ - ما الأسباب الحقيقية « غير المعلنة » للحملة الفرنسية على مصر ١٧٩٨ م ؟
- ٢ - ما نتائج ثورة القاهرة الثانية مارس ١٨٠٠ م ؟

### ١ محافظة الإسكندرية

أولاً : الجغرافيا



١ أمامك خريطة صماء لمصر ، اكتب ما تدل عليه الأرقام الآتية :

- ١ - البحر .....
- ٢ - خليج .....
- ٣ - السد .....
- ٤ - فرع .....

ب بم تفسر ؟ :

- ١ - تداخل البيئات المصرية .
- ٢ - إنشاء المزارع السمكية .
- ٣ - اهتمام الدولة بالتعليم الفني والصناعي .

٢ اكتب كلمة ( صح ) أمام العبارة الصحيحة وكلمة ( خطأ ) أمام العبارة غير الصحيحة فيما يلي :

- ١ - يزيد عدد السكان في البيئة الزراعية بالمناطق القريبة من الصحارى .
- ٢ - أدت الهجرة من الريف إلى المدن إلى ظهور العشوائيات .
- ٣ - تشجع الدولة المزارعين على استخدام الأسمدة العضوية بدلاً من الأسمدة الكيماوية .
- ٤ - الموقع الجغرافي من العوامل البشرية اللازمة لقيام الصناعة .
- ٥ - صناعة حلج القطن من الصناعات اليدوية .
- ٦ - يؤدي انبعاث الأبخرة والغازات من مداخن المصانع إلى تلوث الهواء .

ب قارن بين : العادات الإيجابية لكل من سكان البيئة الزراعية ، وسكان البيئة الصناعية .

ثانياً : التاريخ

٣ اختر الإجابة الصحيحة مما بين القوسين :

- ١ - فتحت القسطنطينية في عهد السلطان : ( سليمان القانوني - محمد الثاني - طومان باي - بايزيد الثاني )
- ٢ - اكتشف ..... طريق رأس الرجاء الصالح ١٤٩٨ م . ( المصريون - المماليك - البرتغاليون - الإنجليز )
- ٣ - الدفاع عن البلاد كانت مهمة : ( الديوان - السناجق - العلماء - الحامية العثمانية )
- ٤ - اقتصر التعليم في الأزهر على حفظ القرآن الكريم ودروس الفقه ، و .....

( الرياضيات - التشريع - الكيمياء - الطبيعة )

- ٥ - عقد القائد ..... اتفاقية العريش مع العثمانيين : ( ديزيه - مينو - نلسون - كليبر )
- ٦ - أدخل محمد علي إلى مصر أنوعاً جديدة من : ( القطن - الأرز - الذرة - الفول )

٤ ما النتائج المترتبة على : ١ - هزيمة المماليك عند الريدانية ١٥١٧ م . ٢ - اكتشاف حجر رشيد .

٤ صوب ما تحته خط :

- ١ - تولى المماليك حكم مصر عقب انهيار الدولة الفاطمية .
- ٢ - قام السلطان عبد الحميد بتحويل أمهر الصناعات إلى الأستانة .
- ٣ - اندلعت ثورة القاهرة الثانية في حي إمبابة .
- ٤ - تم نفي نقيب الأشراف عبد الله الشوقاوي إلى دمياط .
- ٥ - أنشأ محمد علي ترسانة لصناعة السفن بالسويس .
- ٦ - أعطى عباس باشا امتياز حفر قناة السويس للمهندس الفرنسي ديليسيس .

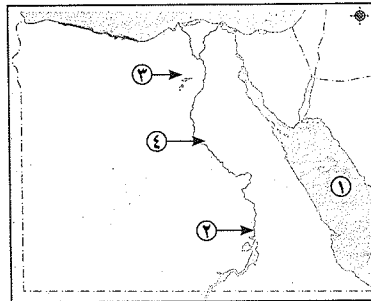
٤ « كشف الاحتلال الفرنسي عن أطماعه الحقيقية مما أدى إلى إيقاظ الروح الوطنية في مصر » .

في ضوء هذه العبارة ، أجب :

- ١ - ما المقصود بـ : ( الاحتلال ) ؟
- ٢ - اذكر الأسباب الحقيقية للحملة الفرنسية على مصر ؟
- ٣ - ما رأيك في : دخول الفرنسيين الجامع الأزهر وهم يركبون الخيل ؟

### ٧ محافظة المنومية

أولاً : الجغرافيا



١ أمامك خريطة صماء لمصر ، اكتب مدلول الأرقام

الموقعة عليها :

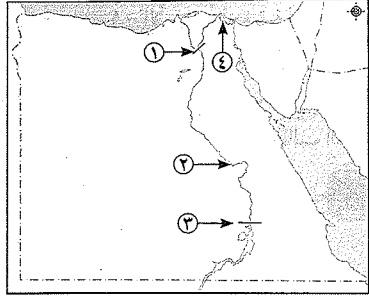
- ١ - البحر .....
- ٢ - السد .....
- ٣ - منخفض .....
- ٤ - نهر .....

ب بم تفسر ؟ : ١ - تنوع البيئات في مصر .

٢ - تناقص مساحة الأراضي الزراعية في مصر .

## محافظة الدقهلية

أولاً : الجغرافيا



أمامك خريطة صماء لمصر .

اكتب في كراسة إجابتك ما تشير إليه الأرقام :

١ - القناطر .....

٢ - منطقة صناعية .....

٣ - السد .....

٤ - بحيرة .....

ب بم تفسر ... ؟ :

١ - تُعد النوبة منطقة جذب سياحي .

٢ - يختلف منخفض الفيوم عن باقي المنخفضات الصحراوية الأخرى .

٣ - إنشاء الدولة العديد من المناطق الصناعية .

ا اختر الإجابة الصحيحة مما بين القوسين لكل مما يأتي :

١ - من مظاهر اهتمام الدولة بمحو الأمية زيادة : ( فرص العمل - المراكز الصحية - عدد المدارس - الصرف الصحي )

٢ - يستخدم رأس المال في الصناعة بغرض : ( شراء الآلات - دفع أجور العمال - تحسين جودة الصناعة - كل ما سبق )

٣ - ترتب على الهجرة من الريف إلى المدن :

( زيادة العمالة في الريف - ظهور العشوائيات - قلة العمالة الصناعية - زيادة الإنتاج الزراعي )

٤ - من الصناعات الحديثة صناعة : ( حلج القطن - السيارات - حفظ الفاكهة - الفخار )

ب ما المقصود بكل من المفاهيم الجغرافية التالية :

١ - تجريف التربة . ٢ - الاستنزاف . ٣ - السهل الفيضي . ٤ - الصناعة .

ثانياً : التاريخ

ا أعد كتابة العبارات الآتية بعد تصويب ما تحته خط :

١ - اكتشف الإنجليز طريق رأس الرجاء الصالح عام ١٤٩٨ م .

٢ - أبحرت الحملة الفرنسية من ميناء طولون بشمال فرنسا .

٣ - اندلعت ثورة القاهرة الثانية من الأزهر الشريف .

٤ - استولت حملة فريزر على مدينة رشيد في مارس ١٨٠٧ م

ب ما النتائج التي ترتبت عن كل مما يأتي ؟ :

١ - تحطيم الأسطول الفرنسي في موقعة أبي قير البحرية ١٧٩٨ م . ٢ - الحكم العثماني على مصر .

٣ - اتفاقية العريش ( يناير ١٨٠٠ م ) . ٤ - سياسة محمد علي الخارجية التوسعية .

ا لمن تنسب كل من الأعمال التالية ؟ :

١ - قيادة المماليك في موقعة الريدانية ١٥١٧ م . (.....)

٢ - قيادة مقاومة الحملة الفرنسية بالإسكندرية ١٧٩٨ م . (.....)

ا اختر الإجابة الصحيحة مما بين الأقواس :

١ - تقع ترعة الإسماعيلية ..... الدلتا .

( شمال - شرق - جنوب - غرب )

٢ - تضم محافظة الفيوم معالم سياحية مثل :

( بحيرة المنزلة - الأهرامات - بحيرة قارون - بحيرة ناصر )

٣ - من محاصيل الحبوب الغذائية في مصر :

( القطن - القمح - البنجر - الكتان )

٤ - توفر البيئة الصناعية للبيئة الزراعية :

( المواد الخام - الأيدي العاملة - المنتجات الصناعية المختلفة - المنتجات الغذائية الزراعية )

٥ - تتمثل الخصائص الاقتصادية لسكان البيئة الزراعية في : ( الزواج المبكر - انتشار البطالة - الأمية - التعاون )

٦ - تعتمد البيئة الزراعية في الوادي والدلتا على مياه : ( الأمطار - نهر النيل - المياه الجوفية - تحلية مياه البحر )

ب اكتب المفهوم المناسب لكل من العبارات الآتية :

١ - قناة مائية يتم حفرها لتوصيل المياه من النهر إلى الأراضي الزراعية .

(.....)

٢ - صناعة تعتمد على الآلات وتقل فيها الأيدي العاملة .

(.....)

ثانياً : التاريخ

ا أكمل العبارات الآتية بكلمات مناسبة :

١ - كانت مصر قبل حكم العثمانيين تحت حكم .....

٢ - أصبحت مصر ولاية عثمانية بعد موقعة .....

٣ - كان يلقب نائب السلطان العثماني في مصر بلقب .....

٤ - فشلت الحملة الفرنسية على الشام في فتح مدينة .....

٥ - تم نفي الزعيم عمر مكرم إلى مدينة .....

٦ - أقام محمد علي ترسانة لصناعة السفن في .....

ب إلى من تنسب الأعمال الآتية ؟ :

١ - قام بترحيل أمهر الصناعات والحرفيين إلى الأستانة .

(.....)

٢ - تخلص من المماليك في مذبحه القلعة ١٨١١ م .

(.....)

ا اكتب كلمة ( صح ) أمام العبارة الصحيحة ، وكلمة ( خطأ ) أمام العبارة غير الصحيحة مع تصويب الخطأ :

١ - تنسب الدولة العثمانية إلى مؤسسها السلطان محمد الفاتح .

( )

٢ - تم عقد اتفاقية العريش بين الدولة العثمانية وكليبر .

( )

٣ - تولى محمد علي حكم مصر بعد عزل الوالي العثماني عمر مكرم .

( )

٤ - تولى الخديوي توفيق حكم مصر بعد عزل الخديوي إسماعيل .

( )

ب ما النتائج المترتبة على ؟ :

١ - الحكم العثماني لمصر . ٢ - موقعة أبي قير البحرية ١٧٩٨ م .

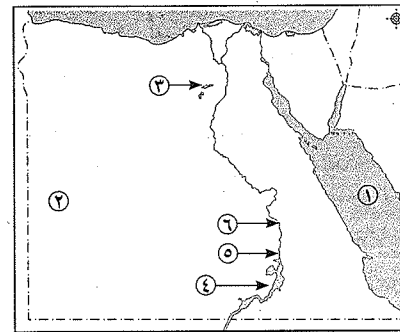
ج ماذا كان يحدث إذا ؟ : - لم يكتشف البرتغاليون طريق رأس الرجاء الصالح .



- ٣- فتح القسطنطينية عاصمة الدولة البيزنطية ١٤٥٣ م .  
٤- تشجيع المصريين على التوجه إلى رشيد لملاقاة الجيش البريطاني ١٨٠٧ م .  
ب « تعرضت مصر طوال تاريخها للعديد من الأخطار ، ولكنها نجحت في التصدي لها » . في ضوء العبارة وضع :  
١- الأسباب الحقيقية للحملة الفرنسية على مصر .  
٢- نتائج ثورة القاهرة الأولى ١٧٩٨ م ؟  
٣- مظاهر اهتمام محمد علي بالجيش والبحرية .  
٤- اكتب مطلباً من مطالب الجيش والشعب في مظاهرة عابدين .

## ٩ محافظة دمياط

## أولاً : الجغرافيا



أمامك خريطة صماء لمصر .

اكتب ما تدل عليه الأرقام في ورقة إجابتك :

- ١- البحر .....  
٢- الصحراء .....  
٣- منخفض .....  
٤- بحيرة .....  
٥- السد .....  
٦- قناطر .....

ب اكتب شيئاً واحداً لكل مما يأتي في ورقة إجابتك :

- ١- تندر النباتات الطبيعية في البيئة الزراعية .  
٢- اهتمام الدولة بالتوسع في إنشاء المزارع السمكية .  
٣- يعد رأس المال أساسياً في قيام الصناعة .  
٤- الاهتمام بتطوير الصناعة وتعديل خطوط الإنتاج .

اكتب كلمة ( صح ) أمام العبارة الصحيحة وكلمة ( خطأ ) أمام العبارة غير الصحيحة في ورقة إجابتك :

- ١- تتداخل البيئات المصرية ولا توجد حدود فاصلة بينها .  
٢- توجد بحيرة قارون جنوب منخفض الفيوم .  
٣- تقع ترعة الإبراهيمية شرق الدلتا .  
٤- البنجر من المحاصيل المنتجة للسكر .  
٥- تسهم الصناعة في زيادة الدخل القومي المصري .  
٦- صناعة السيارات من الصناعات البسيطة .

ب اكتب المفهوم العلمي أو المصطلح الجغرافي الدال على كل عبارة من العبارات التالية :

- ١- قناة مائية يتم حفرها لتوصيل المياه من النهر إلى الأراضي الزراعية .  
٢- يعني إزالة الطبقة السطحية من التربة مما يؤدي إلى تدهور إنتاجها .  
٣- تحويل المادة الخام إلى سلع ومنتجات لسد احتياجات السكان .  
٤- صناعات تعتمد على العمل اليدوي وتحتاج إلى رأس مال قليل .

## ثانياً : التاريخ

ا صوب الكلمات التي فوق الخط مما يأتي ، ثم اكتبها في ورقة إجابتك :

- ١- اكتشف طريق رأس الرجاء الصالح البريطانيون .  
٢- حكم المماليك مصر والشام بعد انهيار الدولة الفاطمية .  
٣- سيطر العثمانيون على بلاد الشام بعد هزيمة المماليك عند الريدانية .  
٤- استولت الحملة الفرنسية على جزيرة مالطة ثم جزيرة قبرص .  
٥- اندلعت ثورة القاهرة الثانية بسبب الإجراءات التي اتخذها مينو .  
٦- اهتم محمد علي بإرسال البعثات التعليمية إلى الخارج وخاصة إنجلترا .

ب انسخ كل عمل من الأعمال التالية إلى صاحبه :

- ١- يشرف على تنفيذ القرارات الصادرة من السلطان العثماني .  
٢- تزعم المقاومة الشعبية ضد الحملة الفرنسية في الإسكندرية .  
٣- تولى قيادة الحملة الفرنسية بعد مقتل كليبر .  
٤- تخلص من المماليك في مذبح القلعة .

ا اختر للعبارات التالية ما يناسب كلاً منها من بين القوسين :

- ١- كانت مصر قبل حكم العثمانيين تحت حكم : ( المماليك - الفاطميين - الصفويين - الأيوبيين )  
٢- أبحرت الحملة الفرنسية سراً إلى مصر من ميناء : ( مرسيليا - طولون - جنوة - ليون )  
٣- وصلت الحملة الفرنسية في يوليو عام ١٧٩٨ م إلى ميناء : ( دمياط - بورسعيد - السويس - الإسكندرية )  
٤- فشلت الحملة الفرنسية على الشام في فتح مدينة : ( العريش - حيفا - يافا - عكا )  
٥- في مايو عام ١٨٠٥ م قرر الشعب المصري عزل : ( إبراهيم باشا - خورشيد باشا - توفيق باشا - إسماعيل باشا )

ب « بعد أن تولى محمد علي الحكم اهتم بتنظيم الإدارة فقسم البلاد إلى مديريات وعلى رأس هذا النظام الإداري الحكومة المركزية وأنشأ عدة مجالس ودواوين منها الديوان العالى ، كما طبق نظام الاحتكار وأقام العديد من المشروعات » .

في ضوء العبارة السابقة ، أجب عن الأسئلة التالية في ورقة إجابتك :

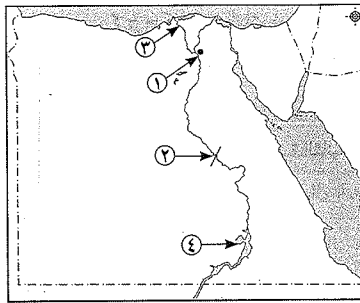
- ١- من الذى تولى القيادة العامة لحملة الحجاز ؟  
٢- لماذا اهتم محمد علي بتنظيم الإدارة ؟  
٣- أين كان مقر الحكومة المركزية ؟  
٤- ما المقصود بنظام الاحتكار ؟





### محافظة كفر الشيخ

#### أولاً : الجغرافيا



أمامك خريطة صماء لمصر ، اكتب مدلول الأرقام

الموقعة على الخريطة :

- ١ - مدينة .....
- ٢ - قناطر .....
- ٣ - فرع .....
- ٤ - بحيرة .....

بم تفسر ... ؟ :

- ١ - تعتبر محافظة الفيوم محافظة جذب سكاني .
- ٢ - تناقص مساحة الأراضي الزراعية في مصر .
- ٣ - اهتمام الدولة بإنشاء المصانع وتنوعها .

اكتب كلمة ( صح ) أمام العبارة الصحيحة وكلمة ( خطأ ) أمام العبارة غير الصحيحة :

- ١ - البطالة والأمية من مشكلات البيئة الزراعية .
- ٢ - الزواج المبكر من العادات الإيجابية لسكان البيئة الزراعية .
- ٣ - ارتفاع متوسط دخل الفرد أحد الخصائص الاقتصادية للبيئة الزراعية .
- ٤ - يفضل بناء المناطق الصناعية بالقرب من المساكن .
- ٥ - الانفتاح على العالم الخارجى يشجع على الاستثمار فى مجال الصناعة .
- ٦ - الاستنزاف يعنى تقليل الاستهلاك والاستخدام الأمثل للموارد .

ما المقصود بكل مما يأتي ؟ : ١ - البطالة . ٢ - الصناعة .

#### ثانياً : التاريخ

اختر الإجابة الصحيحة مما بين القوسين :

- ١ - تم فتح القسطنطينية عاصمة الدولة البيزنطية فى عهد السلطان :  
( سليم الأول - محمد الفاتح - بايزيد الثانى - طومان باى )
- ٢ - انهزمت الجيوش المملوكية فى عام ١٥١٧ م عند :  
( الريدانية - مرج دابق - جالديران - أبى قير )
- ٣ - كان مقر الحكومة المركزية فى عهد محمد على فى مدينة :  
( الإسكندرية - الفيوم - القاهرة - المنصورة )
- ٤ - تولى حكم مصر عام ١٨٦٣ م الخديو :  
( عباس - سعيد - إسماعيل - توفيق )
- ٥ - تولى المماليك حكم مصر عقب انهيار الدولة :  
( العثمانية - الأيوبية - الفاطمية - الصقوية )
- ٦ - قام الشاب السورى سليمان الحلبي بقتل القائد الفرنسى :  
( نابليون - كليبر - مينو - نلسون )

ما النتائج المترتبة على ... ؟ : اكتشاف طريق رأس الرجاء الصالح عام ١٤٩٨ م ؟

أكمل العبارات الآتية بوضع الكلمات المناسبة :

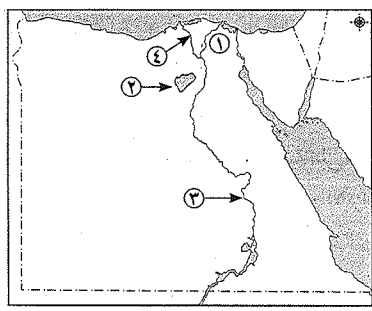
- ١ - أبحرت الحملة الفرنسية من ميناء طولون واستولت على جزيرة ..... عام ١٧٩٨ م .
- ٢ - أنشأ محمد على ترسانة لصناعة السفن فى .....
- ٣ - قاوم أهل الإسكندرية الحملة الفرنسية بزعامة السيد .....
- ٤ - يعد الوالى العثمانى نائباً للسلطان فى الولاية وكان مقره .....
- ٥ - اهتم محمد على بالزراعة فأدخل محاصيل جديدة مثل .....
- ٦ - كان يتم جلبهم بواسطة التجار ويشتريهم السلاطين والأمراء .....

رتب الأحداث الآتية من الأقدم إلى الأحدث :

( ثورة القاهرة الثانية - نهاية حكم محمد على - الحملة الفرنسية على مصر - فتح القسطنطينية )

### محافظة الشرقية

#### أولاً : الجغرافيا



أمامك خريطة صماء لمصر ، اكتب مدلول الأرقام

الموقعة عليها :

- ١ - محافظة .....
- ٢ - منخفض .....
- ٣ - قناطر .....
- ٤ - فرع .....

بم تفسر ... ؟ :

- ١ - تعد الدلتا من مناطق التركيز السكاني .
- ٢ - تنوع الصناعات الحرفية فى البيئة الزراعية .
- ٣ - أهمية رأس المال فى قيام الصناعة .
- ٤ - اهتمام الدولة بإنشاء مناطق صناعية .

اختر الإجابة الصحيحة مما بين الأقواس :

١ - تعتمد البيئة الزراعية فى الوادى والدلتا ومنخفض الفيوم الجديد على مياه :

( الأمطار - الأنهار - الآبار والعيون - نهر النيل )

٢ - من الحبوب الغذائية فى مصر :

( قصب السكر - القطن - الأرز - البنجر )

٣ - من الصناعات البسيطة صناعة :

( حلج القطن - السجاد اليدوى - الفخار - الأسمدة )

٤ - من جهود الدولة لحل مشكلات البيئة الصناعية :

( نقل المصانع التى تضر البيئة - إنشاء وزارة للبيئة - وقف الهجرة - كل ما سبق )

قارن بين : سكان البيئة الزراعية والصناعية من حيث العادات الإيجابية .

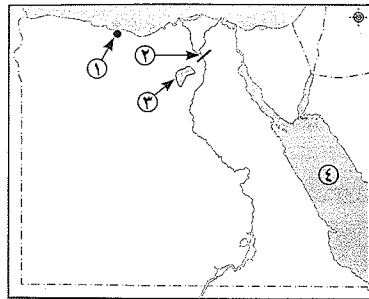
أعط تعريفاً صحيحاً لكل من المفاهيم التالية :

- ١ - تجريف الأرض .
- ٢ - الاستنزاف .





## محافظة الإسماعيلية



أولاً : الجغرافيا

أمامك خريطة صماء لمصر ، اكتب مدلول الأرقام

الموقعة عليها :

- ١ - محافظة حضارية .....
- ٢ - القناطر .....
- ٣ - منخفض .....
- ٤ - البحر .....

ب اكتب المفهوم أو المصطلح العلمي للعبارة التالية بعد نقلها في كراسة إجابتك :

- ١ - إزالة الطبقة السطحية من التربة مما يؤدي إلى تدهور إنتاجها . (.....)
- ٢ - هو الإفراط وسوء استخدام الموارد الطبيعية بشكل يؤدي إلى نفاذها . (.....)
- ٣ - يقصد بها الأفراد الذين في سن العمل ولا يعملون . (.....)

اكتب كلمة ( صح ) أمام العبارة الصحيحة وكلمة ( خطأ ) أمام العبارة غير الصحيحة في كل مما يأتي :

- ١ - يعد رأس المال أساسياً في قيام الصناعة وتحسين نوعيتها . ( )
- ٢ - تعتمد البيئة الزراعية في الوادي والدلتا ومنخفض الفيوم على مياه الآبار والعيون . ( )
- ٣ - من الحبوب الغذائية في مصر القمح والأرز والذرة . ( )
- ٤ - السوق المحلية يقصد بها طلب السكان المحليين للمنتجات الصناعية . ( )

ب بم تفسر ... ؟ :

- ١ - يجب عند إقامة المصانع مراعاة اتجاهات الرياح .
- ٢ - لا تجود الزراعة في الأطراف الشمالية لدلتا مصر .
- ٣ - يقل عدد السكان في وادي النيل ومنخفض الفيوم عن الدلتا .

ثانياً : التاريخ

أكمل العبارات الآتية بكلمات مناسبة :

- ١ - حرص « محمد علي » على بناء مصر الحديثة على النسق الأوربي وخاصة .....
- ٢ - ثورة القاهرة الأولى استخدم نابليون الشدة والعنف في معاملة .....
- ٣ - دخل الفرنسيون مدينة القاهرة بعد معركة شبراخيت ومعركة .....
- ٤ - أدت سياسة الدولة العثمانية في مصر إلى تدهور الأحوال .....

ب صوب الكلمات التي تحتها خط وكتابة العبارة كاملة في كراسة إجابتك فيما يلي :

- ١ - خلفاء محمد علي في حكم مصر إبراهيم باشا وعباس باشا ثم عدلي باشا . (.....)
- ٢ - من النتائج الحربية للحملة الفرنسية على مصر أنها أضعفت قوة ونفوذ العثمانيين . (.....)
- ٣ - الحامية العثمانية فرقة عسكرية من مهامها الدفاع عن الحاكم . (.....)

ح اكتب كلمة ( صح ) أمام العبارة الصحيحة ، وكلمة ( خطأ ) أمام العبارة غير الصحيحة فيما يلي :

- ١ - تنوع البيئات الطبيعية أدى إلى تنوع الثروات الطبيعية والنشاط الاقتصادي . ( )
- ٢ - تربة وادي النيل ودلتاه تربة رملية . ( )
- ٣ - تساهم البيئة الصناعية في ارتفاع المستوى الاجتماعي والثقافي للسكان . ( )
- ٤ - صناعة الثلاجات من أنواع الصناعات المعدنية . ( )

ثانياً : التاريخ

أكمل العبارات التالية بكلمات مناسبة :

- ١ - فتحت مدينة القسطنطينية عاصمة الدولة البيزنطية عام ١٤٥٣ م في عهد السلطان .....
- ٢ - كان من مهام والي العثماني إرسال .....
- ٣ - قاوم .....
- ٤ - نجحت الحملة الفرنسية في إضعاف قوة ونفوذ .....
- ٥ - كانت حملة .....

ب لمن تنسب الأعمال التالية ... ؟ :

- ١ - اكتشاف طريق رأس الرجاء الصالح عام ١٤٩٨ م . (.....)
- ٢ - أرسل أمير الصناع والحرفيين إلى الأستانة . (.....)
- ٣ - قائد الحملة الفرنسية على مصر عام ١٧٩٨ م . (.....)
- ٤ - عقد اتفاقية العريش مع الأتراك في يناير عام ١٧٩٨ م . (.....)
- ٥ - أنشأ قصر الجوهرة . (.....)

ب ما النتائج المترتبة على ... ؟ :

- ١ - هزيمة المماليك في معركة الريدانية عام ١٥١٧ م .
- ٢ - ثورة القاهرة الأولى في أكتوبر عام ١٧٩٨ م .
- ٣ - سياسة محمد علي الخارجية التوسعية .

ب اكتب ما تشير إليه العبارات التالية :

- ١ - استيلاء دولة على بلد آخر قهراً . (.....)
- ٢ - حركة شعبية شاملة تهدف إلى التغيير الجذري الشامل والمنظم في الأوضاع السائدة في المجتمع . (.....)
- ٣ - أحد أحياء القاهرة وكان مركز ثورة القاهرة الثانية في مارس عام ١٨٠٠ م . (.....)

ح صوب الكلمات التي تحتها خط في الجمل التالية :

- ١ - كانت أحوال مصر الاقتصادية والاجتماعية والعلمية في ظل الحكم العثماني متقدمة . (.....)
- ٢ - تحطم الأسطول المصري في معركة أبي قير البحرية في أغسطس عام ١٧٩٨ م . (.....)
- ٣ - قام محمد علي بنفي عمر مكرم إلى الإسكندرية . (.....)
- ٤ - أعطى سعيد باشا امتياز حفر قناة السويس للمهندس نوبار باشا في نوفمبر عام ١٨٥٤ م . (.....)



## ثانيًا: التاريخ

٣ ضع كلمة ( صح ) أمام العبارة الصحيحة وكلمة ( خطأ ) أمام العبارة غير الصحيحة :

- ١ - أصبحت القسطنطينية عاصمة للدولة العثمانية في عهد السلطان محمد الفاتح . ( )  
 ٢ - نجح الفرنسيون في احتلال مدينة الإسكندرية بعد مقاومة حاكمها السيد محمد كريم . ( )  
 ٣ - أعطى إسماعيل باشا امتياز حفر قناة السويس للمهندس ديليبس . ( )

ب اكتب ما تشير إليه العبارات التالية :

- ١ - إقليم يحكمه أجنبي يتوطنه أو يكتفى باستغلاله اقتصاديًا أو عسكريًا . (.....)  
 ٢ - حركة شعبية شاملة تهدف إلى التغيير الجذري الشامل والمنظم في الأوضاع السياسية والاقتصادية والاجتماعية السائدة في المجتمع . (.....)

ح ما النتائج المترتبة على ... ؟ :

١ - ترحيل أمهر الصناع إلى الأستانة . ٢ - التقدم الزراعي والصناعي في عهد محمد علي .

د اختر الكلمة الصحيحة مما بين القوسين لكل عبارة مما يأتي :

- ١ - فشلت حملة نابليون على الشام بسبب عدم قدرته على فتح : ( يافا - العريش - عكا - حيفا )  
 ٢ - تولى القيادة العامة لحملة الحجاز : ( إبراهيم باشا - طوسون باشا - عباس باشا - خورشيد باشا )  
 ٣ - اهتم محمد علي بالزراعة وغرس أشجار ..... لتربية دودة القز . ( النخيل - الفواكه - الزيتون - التوت )

ه لمن تنسب الأعمال الآتية ؟ :

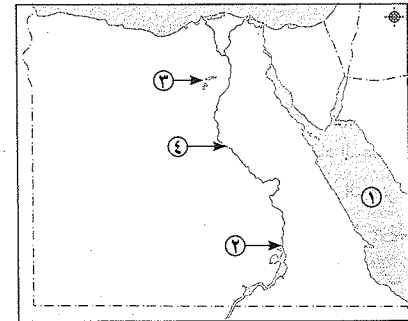
- ١ - قام بقتل كليبر في يونيو ١٨٠٠ م . (.....)  
 ٢ - نجح في إقامة إمبراطورية مصرية امتدت إلى مديريةية خط الاستواء . (.....)  
 ح قارن بين كل من : موقعي مرج دابق والريدانية من حيث : الأطراف ، وأهم النتائج .  
 د دلل تاريخيًا على صحة العبارة الآتية : ( كان للحملة الفرنسية نتائج علمية وثقافية هامة ) .

## ١٤ محافظة السويس

أولًا : الجغرافيا

١ أمامك خريطة صماء لجمهورية مصر العربية ،

اكتب مدلول الأرقام الموقعة عليها :



- ١ - البحر .....  
 ٢ - السد .....  
 ٣ - منخفض .....  
 ٤ - نهر .....

ب ما المقصود بالمفاهيم التالية ؟ :

\* ١ - تملح التربة . ٢ - شعاب مرجانية .

ح بم تفسر ... ؟ :

١ - إنشاء سد الروافعة على وادي العريش . ٢ - أهمية التلال الجيرية بالساحل الشمالي الغربي لمصر .

٤ تخير الكلمة الصحيحة من بين الأقواس فيما يلي :

- ١ - قائد الحملة الفرنسية على مصر عام ١٧٩٨ م : ( نلسون - نابليون بونابرت - مينو - شامليون )  
 ٢ - كان نظام الحكم العثماني لمصر : ( شيوعيًا - ديمقراطيًا - استبداديًا - جمهوريًا )  
 ٣ - هُزم السلطان المملوكي طومان باي في موقعة : ( إمبابة - شراخيت - مرج دابق - الريدانية )  
 ٤ - تم عقد اتفاقية العريش عام ١٨٠٠ م بين العثمانيين والقائد : ( كليبر - مينو - فرنك - طومان باي )

ب اذكر سببًا واحدًا لكل من :

١ - قيام محمد علي بمذبحة القلعة . ٢ - فشل الحملة الإنجليزية على مصر عام ١٨٠٧ م .

## ١٣ محافظة بورسعيد

أولًا : الجغرافيا

١ أمامك خريطة صماء لمصر ، اكتب مدلول الأرقام

الموقعة عليها :

- ١ - بحيرة .....  
 ٢ - قناطر .....  
 ٣ - ترعة .....  
 ٤ - منطقة صناعية .....

ب أعط تعريفًا صحيحًا لكل مما يأتي : ١ - سهل فيضي . ٢ - مصرف . ٣ - سوق محلي .

ح بم تفسر ؟ : ١ - ظهور العشوائيات في المدن . ٢ - تنوع الصناعات الحرفية في البيئة الزراعية .

٣ - ضرورة الإكثار من المساحات الخضراء في البيئة الصناعية .

د أكمل العبارات الآتية بما يناسبها من كلمات :

١ - يتركز سكان البيئة الزراعية في الوجه ..... ويقولون في الوجه .....

٢ - توجد السواقي في محافظة ..... أما حضارة تل بسطة توجد في محافظة .....

٣ - الدولة تشجع المزارعين على استخدام الأسمدة ..... كبديل أفضل من الأسمدة .....

ب هناك علاقة بين البيئة الزراعية والبيئة الصناعية فيما توفره كل بيئة للأخرى ، صنف ما يلي حسب

البيئة التي توفره ( الأدوية - الأيدي العاملة - الأسمدة - المواد الخام ) :

البيئة الزراعية	البيئة الصناعية
.....	.....
.....	.....

ح صوب ما تحته خط فيما يلي :

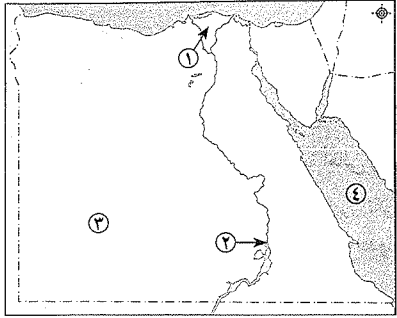
- ١ - تنتشر البطالة في البيئة الصناعية . (.....)  
 ٢ - حلج القطن من الصناعات الحرفية . (.....)  
 ٣ - بدأت الصناعات الحديثة في مصر منذ عهد محمد نجيب . (.....)  
 د ماذا يحدث إذا ؟ : تم بناء المصانع دون مراعاة اتجاهات الرياح . (.....)



## محافظة جنوب سيناء

10

## أولاً : الجغرافيا



أمامك خريطة صماء لجمهورية مصر العربية

اكتب، مدلول الأرقام الموقعة عليها في كراسة

إجابتك:

- ١ - بيئة زراعية فيضية .....
- ٢ - السد .....
- ٣ - الصحراء .....
- ٤ - البحر .....

ب أعط تعريفاً لكل من المفاهيم الآتية :

- ١ - تعريف الأرض . (.....)
- ٢ - الصناعة . (.....)

جـ بم تفسر ... ؟ :

- ١ - قلة عدد السكان في وادي النيل عن الدلتا .
- ٢ - الاهتمام بإنشاء مزارع سمكية في البيئة الزراعية .

أ أكمل العبارات الآتية بما يناسبها من كلمات ، وانقلها في كراسة إجابتك :

- ١ - يتصل نهر النيل بمنخفض الفيوم عن طريق .....
- ٢ - التعاون في المجتمع الريفي من العادات .....
- ٣ - توجد آثار حضارة تل بسطة في محافظة .....
- ٤ - تسهم الصناعة في زيادة ..... القومي .
- ٥ - يجب بناء المصانع بعيداً عن المناطق .....

ب « تعاني البيئة الزراعية والصناعية في مصر العديد من المشكلات » .

في ضوء العبارة السابقة ، أجب عما يأتي :

- ١ - ما مقترحاتك لحل مشكلات البيئة الزراعية .
- ٢ - ما النتائج التي ترتبت على هجرة سكان الريف إلى البيئة الصناعية .

## ثانياً : التاريخ

أ اكتب كلمة ( صح ) أمام العبارة الصحيحة وكلمة ( خطأ ) أمام العبارة غير الصحيحة فيما يلي :

- ١ - هزم العثمانيون أمام المماليك في موقعة مرج دابق شمال سوريا . ( )
- ٢ - كان نظام الحكم العثماني في مصر استبدادياً . ( )
- ٣ - سكان البيئة الصحراوية ينتقلون من مكان لآخر بحثاً عن العشب والماء . ( )
- ٤ - أقام محمد علي معامل السكر في الوجه البحري . ( )

أ أكمل العبارات الآتية بكلمات مناسبة :

- ١ - تقوم الزراعة في الواحات اعتماداً على مياه .....
- ٢ - تؤدي السيول إلى تدمير المباني والطرق مما يؤدي إلى تعطيل حركة .....
- ٣ - \* توجد رأس بناس في .....
- ٤ - من العادات السلبية لسكان البيئة الساحلية الهجرة .....
- ٥ - \* تعرض المناطق الساحلية للبحر المتوسط لرياح شديدة وأمطار غزيرة تُعرف ب .....
- ٦ - من أكبر بحيرات مصر الشمالية إنتاجاً للأسماك بحيرة .....

ب ( بلادنا الحبيبة مصر تتمتع ببيئة صحراوية وبيئة ساحلية متميزة ومن واجبنا الحفاظ عليها ) .

في ضوء العبارة السابقة أجب عما يأتي :

- ١ - ما مقترحاتك لحل المشكلات الاقتصادية في البيئة الصحراوية ؟
- ٢ - اذكر أسباب تلوث المياه الشاطئية .

## ثانياً : التاريخ

أ اكتب كلمة ( صح ) أمام العبارة الصحيحة وكلمة ( خطأ ) أمام العبارة غير الصحيحة :

- ١ - انضم أحمد عرابي للجيش المصري في عهد سعيد باشا . ( )
- ٢ - وقفت فرنسا إلى جانب الحركة الوطنية المصرية بعد الاتفاق الودي عام ١٩٠٤م . ( )
- ٣ - غيرت حرب أكتوبر ١٩٧٣م نظرة العالم للجيش المصري . ( )

ب اكتب ما تشير إليه كل عبارة من العبارات الآتية :

- ١ - خروج القوات المحتلة من أراضي الدولة التي احتلتها نهائياً . (.....)
- ٢ - مجموع المبادئ والقواعد التي تحدد نظام الحكم في الدولة . (.....)
- ٣ - توزيع الثروات القومية بين المواطنين توزيعاً عادلاً . (.....)
- ٤ - من أبرز شهداء حرب الاستنزاف الذي استشهد وسط قواته . (.....)

جـ ماذا يحدث إذا : لم يتم تأميم شركة قناة السويس ١٩٥٦م ؟

أ اختر الإجابة الصحيحة مما بين القوسين فيما يلي :

١ - \* دعا إلى إنشاء مدارس ليلية لتعليم العمال الزعيم :

- ( محمد عبده - علي الروبي - عبد العال حلمي - محمد فريد )
- ٢ - قاد ثورة ١٩١٩م الزعيم : ( سعد زغلول - محمد كريم - عمر مكرم - علي فهمي )
- ٣ - ارتبط استقلال الاقتصاد المصري ب : ( أحمد عرابي - طلعت حرب - ديلسيس - مصطفى كامل )
- ٤ - أسس الرئيس جمال عبد الناصر : ( جريدة اللواء - الحزب الوطني - تنظيم الضباط الأحرار - جمعية مصر الفتاة )

٥ - انطلقت ثورة ٢٥ يناير ٢٠١١م في الميادين العامة خاصة ميدان :

- ( روكسي - العتبة - التحرير - طلعت حرب )

ب بم تفسر : الصدام بين أعضاء الوفد المصري وسلطات الاحتلال البريطاني ١٩١٨م ؟

ت اكتب ما تشير إليه العبارات الآتية ؟ :

- ١- غلماناً تم جلبهم بواسطة التجار اشتراهم السلاطين وتولوا الحكم بعد انهيار الدولة الأيوبية . (.....)
  - ٢- أحد هيئات الحكم العثماني من مهامها الدفاع عن البلاد . (.....)
  - ٣- حركة شعبية شاملة تهدف إلى التغيير الجذري للأوضاع السياسية والاقتصادية والاجتماعية السائدة في المجتمع . (.....)
  - ٤- تعقب المماليك الفارين من مذبحه القلعة وقضى على عدد منهم . (.....)
- ح ما رأيك في :- موقف أهالي رشيد من حملة فريزر .

تخير الإجابة الصحيحة مما بين القوسين فيما يلي :

١- تم فتح القسطنطينية عاصمة الدولة البيزنطية على يد السلطان العثماني :

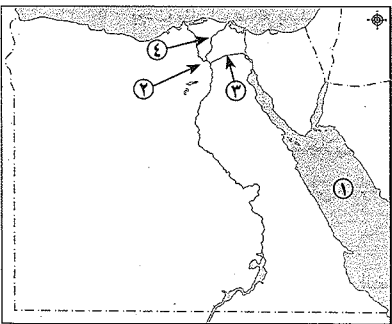
- ١- عثمان بن أرطغرل - سليم الأول - محمد الفاتح - سليمان القانوني
- ٢- هُزم السلطان المملوكي طومان باي في موقعة : (إمبابة - مرج دابق - شبراخت - الريدانية)
- ٣- من الأسباب المعلنة للحملة الفرنسية علي مصر تأديب : (المماليك - الإنجليز - المصريين - العثمانيين)
- ٤- أعدم نابليون عدداً من مشايخ الأزهر باشتناء الشيخ : (عبدالله الشرفاوي - السادات - محمد كُريم - عمر مكرم)
- ٥- أرسل محمد علي حملة لبلاد الحجاز بقيادة ابنه : (إسماعيل - إبراهيم - طوسون - سعيد)
- ٦- تخلص محمد علي من الزعامة الشعبية بنفي عمر مكرم إلى : (دمياط - الصعيد - القاهرة - الإسكندرية)

ب ما النتائج المترتبة على ؟ :

- ١- ترحيل السلطان سليم الأول أمهر الصناع إلى الأستانة .
- ٢- اهتمام محمد علي بالتعليم والثقافة .

### محافظة الفيوم

أولاً : الجغرافيا



١ أمامك خريطة صماء لمصر، اكتب مدلول الأرقام الموقعة عليها :

- ١- البحر .....
- ٢- قناطر .....
- ٣- ترعة .....
- ٤- منطقة زراعية .....

ب ما النتائج المترتبة على ؟ :

- ١- الإسراف في الأسمدة الكيماوية .
- ٢- إنشاء الدولة وزارة البيئة في الحكومة المصرية .

ح اكتب ما تشير إليه العبارات الآتية :

- ١- قناة يتم حفرها عند منسوب أقل من منسوب الترع والأراضي الزراعية . (.....)
- ٢- الإفراط وسوء استخدام الموارد الطبيعية بشكل يؤدي إلى نفادها . (.....)

٢ اختر الإجابة الصحيحة مما بين القوسين :

- ١- تتركز صناعة ..... في نجع حمادى . (الألومنيوم - أجهزة السيارات - العطور - الحديد والصلب)
  - ٢- الرخام من المواد الخام : (الزراعية - الحيوانية - الصخرية - المعدنية)
  - ٣- تظهر الأراضي الزراعية على أشكال مدرجات واسعة في : (الجيزة - شبه جزيرة سيناء - الفيوم - الدلتا)
  - ٤- من أجل حل مشكلة الأمية قامت الدولة بزيادة أعداد : (المدارس - المزارع - المصانع - المستشفيات)
- ب صوب ما فوق الخط :

- ١- تتميز تربة الوادي والدلتا بأنها تربة رملية . (.....)
  - ٢- حفر الخشب من الصناعات الحديثة . (.....)
- ح بم تفسر ... ؟ : ١- أهمية رأس المال للصناعة . ٢- تناقص مساحة الأراضي الزراعية في السنوات الأخيرة .

### ثانياً : التاريخ

٣ اكتب كلمة (صح) أو كلمة (خطأ) أمام العبارة الدالة على ذلك :

- ١- ازدهرت الحياة الثقافية والعلمية في مصر في ظل الحكم العثماني . ( )
- ٢- نجحت الحملة الفرنسية في جعل مصر قاعدة للإمبراطورية الفرنسية في الشرق . ( )
- ٣- كان للزعامة الشعبية والعلماء دور مهم في تولية «محمد علي» حكم مصر . ( )
- ٤- أنشأ محمد علي ترسانة لصناعة السفن في بحيرة قارون . ( )

ب انسب كل عمل من الأعمال الآتية إلى صاحبه :

- ١- قام بترحيل أمهر الصناع المصريين إلى الأستانة . (.....)
- ٢- تخلص من المماليك في مذبحه القلعة . (.....)
- ٣- تزعم أهل الإسكندرية في مقاومة الحملة الفرنسية . (.....)
- ٤- قاد ثورة القاهرة الثانية ضد الفرنسيين . (.....)

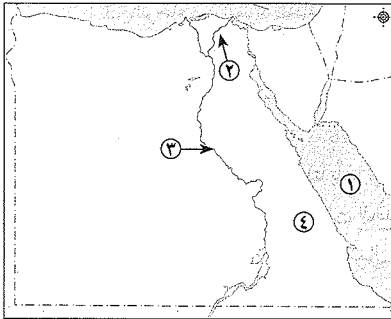
٤ اختر الإجابة الصحيحة مما بين القوسين :

- ١- الدولة الأوروبية التي أرسلت حملة فريزر على مصر عام ١٨٠٧ م : (إيطاليا - فرنسا - أسبانيا - بريطانيا)
  - ٢- نشأت الدولة ..... في أواخر القرن الثالث عشر الميلادي .
  - ٣- قامت ثورة القاهرة الأولى عام ١٧٩٨ م في عهد القائد : (شامبليون - مينو - كليبر - نابليون)
  - ٤- ارتبطت النهضة الصناعية في عصر محمد علي بالنهوض بـ : (التعليم - العمران - التجارة - الجيش)
  - ٥- كان مقر الحكومة المركزية في عهد محمد علي في : (الفيوم - أسوان - الإسكندرية - القاهرة)
  - ٦- أعطى ديليسبس امتياز حفر قناة السويس : (محمد علي - إسماعيل - إبراهيم - سعيد)
- ب صوب ما تحته خط :

- ١- تقلصت مشروعات محمد علي الإصلاحية نتيجة معاهدة الجلاء ١٨٤٠ م . (.....)
- ٢- تولى محمد علي حكم مصر بعد عزل خسرو باشا . (.....)
- ٣- كانت مدة حكم السناجق في مصر تتراوح بين عام وثلاثة أعوام . (.....)
- ٤- عقد كليبر مع الإنجليز معاهدة العريش ١٨٠٠ م . (.....)

## ١٧ محافظة بنى سويف

أولاً : الجغرافياً



١ أمامك خريطة صماء ، اكتب مدلول الأرقام الموقعة عليها :

- ١ - البحر .....
- ٢ - فرع .....
- ٣ - نهر .....
- ٤ - الصحراء .....

ب بم تفسر ... ؟ :

١ - أهمية وسائل النقل في البيئة الصناعية .

٢ - تداخل البيئات المصرية . ٣ - تناقص مساحة الأراضي الزراعية .

١ اكتب كلمة ( صح ) أمام العبارة الصحيحة وكلمة ( خطأ ) أمام العبارة غير الصحيحة :

- ١ - تتنوع الصناعات بتنوع المواد الخام . ( )
- ٢ - تعتمد الزراعة في الواحات على مياه الآبار والعيون . ( )
- ٣ - يراعى عند بناء المصانع اتجاهات الرياح . ( )
- ٤ - الزواج المبكر من العادات الإيجابية لسكان البيئة الزراعية . ( )

ب ما النتائج المترتبة على ... ؟ : ( يكتفى بنتيجة واحدة للإجابة )

١ - إنشاء الدولة للمناطق الصناعية . ٢ - تنوع البيئات المصرية .

ثانياً : التاريخ

١ تخير الإجابة الصحيحة مما بين القوسين :

- ١ - تولى ..... حكم مصر عام ١٨٠٥ م . ( خورشيد باشا - محمد على - خسرو باشا - إبراهيم باشا )
- ٢ - أبحرت الحملة الفرنسية سراً إلى مصر من ميناء : ( مرسليليا - طولون - جنوة - ليون )
- ٣ - أصبحت مصر ولاية عثمانية بعد موقعة ..... عام ١٥١٧ م . ( شبراخيت - مرج دابق - الريدانية - أبو قير )
- ٤ - تولى المماليك حكم مصر عقب انهيار الدولة : ( العثمانية - الأيوبية - الفاطمية - الصفوية )

ب ماذا يحدث إذا ؟ : ( يكتفى بإجابة واحدة فقط )

١ - لم يتم اكتشاف طريق رأس الرجاء الصالح عام ١٤٩٨ م .

٢ - نالت مشاريع الري والزراعة الاهتمام المنشود من حكام الدولة العثمانية في مصر .

١ اكمل العبارات الآتية بكلمة مناسبة :

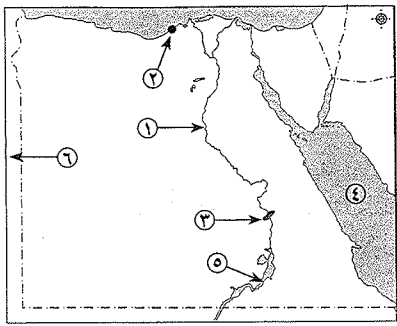
- ١ - عقد مينو مع ممثل الجيش الإنجليزي اتفاقية لخروج الجيش ..... من مصر .
- ٢ - تخلص محمد على من ..... في مذبحة القلعة عام ١٨١١ م .
- ٣ - اكتشاف حجر رشيد من أبرز النتائج ..... للحملة الفرنسية .

ب رتب الأحداث التاريخية الآتية من الأقدم إلى الأحدث :

( بداية حكم محمد على - الحملة الفرنسية على مصر - معركة مرج دابق - فتح القسطنطينية )

## ١٨ محافظة المنيا

أولاً : الجغرافياً



١ أمامك خريطة صماء لمصر ، اكتب مدلول الأرقام

الموقعة عليها :

- ١ - نهر .....
- ٢ - محافظة حضرية .....
- ٣ - قناطر .....
- ٤ - البحر .....
- ٥ - بحيرة .....
- ٦ - دولة .....

١ اكتب ما تدل عليه العبارات الآتية :

- ١ - انتقال الأفراد من مكان لآخر سواء داخل الدولة أو خارجها لفترة طويلة . ( )
- ٢ - تحويل المواد الخام إلى سلع ومنتجات لسد احتياجات السكان . ( )

١ اكمل بوضع الكلمة المناسبة مما بين القوسين مكان النقط فيما يلي :

( التدريب - التربة - المعيشة - الجمركى - العمل - الشمالى - اليدوى - الحيوانية )

- ١ - من المشكلات التى تواجه الصناعة فى مصر التهرب .....
- ٢ - تمدنا البيئة الزراعية بالحصائل الزراعية والمنتجات .....
- ٣ - نظام الري الدائم والإسراف فى استخدام مياه الري يؤدي إلى تدهور .....
- ٤ - من العادات الإيجابية لسكان البيئة الصناعية الانظام فى .....
- ٥ - تنتشر الزراعة المطرية على الساحل .....
- ٦ - تعتمد الصناعات الحرفية على العمل .....
- ٧ - من الخصائص الاقتصادية لسكان البيئة الزراعية انخفاض مستوى .....

ب بم تفسر ... ؟ :

- ١ - لا توجد الزراعة فى الأطراف الشمالية للدلتا .
- ٢ - يعد رأس المال أساسياً فى قيام الصناعة وتحسين نوعيتها . ٣ - تراجع المساحة الزراعية فى الدلتا .

ثانياً : التاريخ

١ اكتب كلمة ( صح ) أمام العبارة الصحيحة ، وكلمة ( خطأ ) أمام العبارة غير الصحيحة فيما يلي :

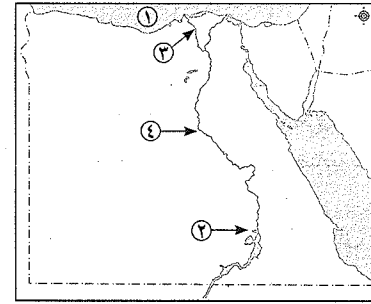
- ١ - انتصر السلطان العثمانى سليم الأول على السلطان المملوكى طومان باى فى معركة الريدانية عام ١٥١٧ م . ( )
- ٢ - ازدهرت الحياة الثقافية والعلمية فى مصر أثناء الحكم العثمانى . ( )
- ٣ - من الأسباب الحقيقية للحملة الفرنسية إقامة مستعمرة فرنسية فى الشرق مركزها مصر . ( )
- ٤ - اندلعت ثورة القاهرة الأولى فى حى بولاق . ( )
- ٥ - عانت مصر من حالة الفوضى الشديدة بعد رحيل الحملة الفرنسية . ( )



- ٦ - ازدهرت التجارة الداخلية والخارجية في عهد محمد علي .  
 ٧ - تولى سعيد باشا الحكم بعد وفاة إبراهيم باشا ابن محمد علي .  
 ب من هو ... ؟ :  
 ١ - قام بفتح القسطنطينية عاصمة الدولة البيزنطية عام ١٤٥٣ م .  
 ٢ - قاوم الحملة الفرنسية في الإسكندرية .  
 ٣ - خلف كليبر في قيادة الحملة الفرنسية .  
 اختر الإجابة الصحيحة مما بين القوسين فيما يلي :  
 ١ - أصدر محمد علي صحيفة ..... المصرية .  
 ٢ - من النتائج العلمية والثقافية للحملة الفرنسية تأليف كتاب : ( وصف الشرق - الأيام - وصف مصر - وصف فرنسا )  
 ٣ - قام السلطان العثماني سليم الأول بترحيل أمهر الصناعات و ..... إلى الأستانة .  
 ( الحرفيين - الكتاب - الفنانين - الرسامين )  
 ٤ - اتجه الزحف العثماني نحو مصر باعتبارها المقر الرئيسي للسيادة : ( العثمانية - المملوكية - الصفوية - التركية )  
 ٥ - دبر محمد علي في مارس ١٨١١ م مكيدة للقضاء على : ( المصريين - علماء الأزهر - الفرنسيين - المماليك )  
 ٦ - فشل نابليون في فتح مدينة ..... بالشام .  
 ( عكا - يافا - حيفا - صيدا )  
 ب رتب الأحداث التالية من القديم إلى الحديث :  
 ١ - حملة فريزر على مصر . ٢ - موقعة أبي قير . ٣ - تولية محمد علي حكم مصر . ٤ - ثورة القاهرة الثانية .

١٩ محافظة أسبوط

أولاً : الجغرافيا



- ١ أمامك خريطة صماء لمصر ، اكتب مدلول الأرقام الموقعة عليها :  
 ١ - البحر .....  
 ٢ - السد .....  
 ٣ - فرع .....  
 ٤ - نهر .....  
 ب اذكر تفسيراً واحداً لكل من العبارات الآتية :  
 ١ - تنوع البيئات المصرية . ٢ - تعد وسائل النقل والمواصلات من العوامل المهمة في الصناعة .  
 اختر الإجابة الصحيحة مما بين القوسين :  
 ١ - من الخصائص الاقتصادية لسكان البيئة الزراعية في مصر :  
 ( التعاون - الأمية - انخفاض مستوى دخل الفرد - التمسك بالأرض الزراعية )  
 ٢ - أهم محاصيل الحبوب الغذائية في مصر :  
 ( قصب السكر - القطن - القمح - الكتان )  
 ٣ - الصابون من الصناعات :  
 ( الغذائية - المعدنية - الكهربائية - الكيميائية )  
 ٤ - من المشكلات التي تواجه الصناعة في مصر :  
 ( الأمية - تلوث الزراعة - التهرب الجمركي - البطالة )  
 ب ما المقصود بالمفاهيم الآتية ؟ : ١ - الأمية . ٢ - المصروف .

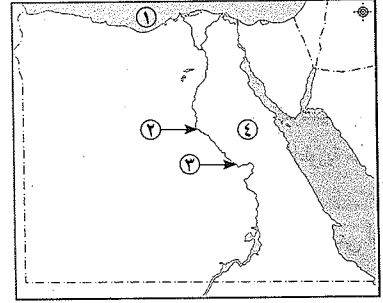


ثانياً : التاريخ

- ١ اكتب كلمة ( صح ) أمام العبارة الصحيحة ، وكلمة ( خطأ ) أمام العبارة غير الصحيحة فيما يلي :  
 ١ - أبحرت الحملة الفرنسية سراً من ميناء طولون جنوب فرنسا في مايو عام ١٧٩٨ م .  
 ٢ - قامت ثورة القاهرة الأولى بزعامة السيد عمر مكرم في حي بولاق .  
 ٣ - تم تحطيم الأسطول الفرنسي على يد قائد الأسطول الإنجليزي فريزر في موقعة أبي قير البحرية عام ١٧٩٨ م .  
 ٤ - طبق محمد علي نظام الاحتكار .  
 ب اذكر نتيجة واحدة لكل مما يأتي :  
 ١ - اكتشاف البرتغاليون طريق رأس الرجاء الصالح .  
 ٢ - هزيمة المماليك بقيادة طومان باي في معركة الريدانية عام ١٥١٧ م .  
 أكمل العبارات الآتية بما يناسبها :  
 ١ - فشل نابليون في فتح ..... لقوة أسوارها وبسالة أهلها .  
 ٢ - اجتمع زعماء الشعب والعلماء بدار المحكمة في مايو عام ١٨٠٥ م وقرروا عزل ..... باشا وتولى محمد علي .  
 ٣ - نجح الخديوي إسماعيل في إقامة إمبراطورية مصرية في أفريقيا امتدت إلى مديرية .....  
 ٤ - تصدى أهالي الإسكندرية بقيادة ..... للحملة الفرنسية .  
 ب اذكر عملاً واحداً لكل من ... ؟ : ١ - الوالي . ٢ - الديوان .  
 ج ما النتائج المترتبة على ... ؟ :  
 ١ - تأميم شركة قناة السويس عام ١٩٥٦ م . ٢ - قرار مجلس الأمن الدولي رقم ٣٣٨ .  
 ٣ - ثورة ٢٥ يناير عام ٢٠١١ م .

٢٠ محافظة سوهاج

أولاً : الجغرافيا



- ١ أمامك خريطة صماء لجمهورية مصر العربية ، وضع ما تدل عليه الأرقام الموقعة عليها :  
 ١ - البحر .....  
 ٢ - نهر .....  
 ٣ - مدينة صناعية للألمونيوم .....  
 ٤ - الصحراء .....  
 ب بم تفسر ... ؟ :  
 ١ - يُعد منخفض الفيوم بيئة زراعية رغم وقوعه في الصحراء الغربية .  
 ٢ - ارتفاع معدل الزيادة السكانية الطبيعية في البيئة الزراعية .  
 ٣ - أهمية البيئة الصناعية في مصر .



٢

اكتب كلمة ( صح ) أمام العبارة الصحيحة ، وكلمة ( خطأ ) أمام العبارة غير الصحيحة أمام العبارات الآتية :

- ١- توجد حدود فاصلة بين البيئات المصرية . ( )
- ٢- القمح والأرز والذرة من محاصيل الحبوب الغذائية في البيئة الزراعية . ( )
- ٣- رأس المال من العوامل الطبيعية لقيام الصناعة . ( )
- ٤- توفر البيئة الزراعية للبيئة الصناعية المواد الخام للعديد من الصناعات . ( )
- ٥- من خصائص البيئة الزراعية المشاركة في النقابات العمالية . ( )
- ٦- صناعة الأجهزة الكهربائية والكمبيوتر من الصناعات البسيطة . ( )

ب ما النتائج المترتبة على ... ؟ :

- ١- هجرة سكان الريف إلى المدن في مصر .
- ٢- الاستخدام السيئ للموارد الطبيعية .

### ثانيًا : التاريخ

اكمل العبارات الآتية :

- ١- اجتمع زعماء الشعب والعلماء وبقاء الطوائف بدار ..... في ١٣ مايو سنة ١٨٠٥ م لتولية محمد علي .
- ٢- من الأسباب المعلنة للحملة الفرنسية على مصر تأديب .....
- ٣- تزعم ..... ثورة القاهرة الثانية مارس ١٨٠٠ م .
- ٤- قام سليمان الحلبي بقتل القائد الفرنسي .....
- ٥- أعطى ..... امتياز حفر قناة السويس لفرديناند ديليسبس ١٨٥٤ م .
- ٦- فشل القائد الفرنسي ..... في فتح عكا ١٧٩٩ م .

ب إلى من تنسب الأعمال الآتية ... ؟ :

- ١- قام بتحويل الصناعات المهورة من مصر إلى الأستانة . ( )
- ٢- قائد الأسطول الإنجليزي الذي حطم الأسطول الفرنسي في موقعة أبي قير البحرية ١٧٩٨ م . ( )

ا اختر الإجابة الصحيحة من بين القوسين في كل عبارة من العبارات الآتية :

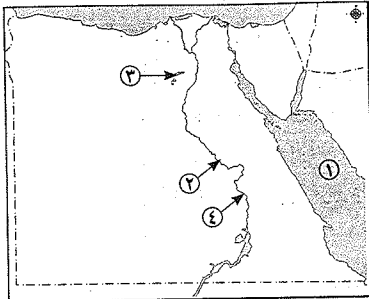
- ١- تنسب الدولة العثمانية إلى مؤسسها : ( محمد الفاتح - بايزيد الثاني - عثمان بن أرطغرل - عبد الحميد الثاني )
- ٢- أرسلت ..... إلى مصر حملة فرينزر ١٨٠٧ م . ( إنجلترا - فرنسا - اليونان - البرتغال )
- ٣- أصبحت مصر ولاية عثمانية بعد موقعة ..... ١٥١٧ م . ( مرج دابق - الريدانية - ديو البحرية - إمبابية )
- ٤- أبحرت الحملة الفرنسية سرًا إلى مصر من ميناء ..... مايو ١٧٩٨ م . ( مرسيليا - جنوة - طولون - ليون )
- ٥- نجح في إقامة إمبراطورية مصرية امتدت إلى مديريةية خط الاستواء : ( سعيد باشا - عباس باشا - إبراهيم باشا - الخديوي إسماعيل )
- ٦- أهم المدارس الحربية التي أنشأها محمد علي : ( المشاة - المدفعية - الفرسان - كل ما سبق )

ب ما النتائج المترتبة على ... ؟ :

- ١- الحكم العثماني على مصر .
- ٢- الحملة الفرنسية على مصر من الناحية العلمية والثقافية .

### محافظة قنا

أولًا : الجغرافيا



أمامك خريطة صماء لمصر، اكتب مدلول الأرقام

الموقعة عليها :

- ١- البحر .....
- ٢- منطقة صناعية .....
- ٣- منخفض .....
- ٤- قناطر .....

ب اكتب ما تشير إليه العبارات من مفاهيم أو مصطلحات جغرافية :

- ١- أرض مستوية تتكون على جانبي النهر من الرواسب الطينية . ( )
- ٢- إزالة الطبقة السطحية من التربة . ( )
- ٣- عدم معرفة القراءة والكتابة . ( )
- ٤- سوء استخدام الموارد الطبيعية بشكل يؤدي إلى نفادها . ( )

ح ما العلاقة بين رأس المال وقيام الصناعة ؟

ا اختر الإجابة الصحيحة من بين القوسين :

- ١- الزراعة على المياه الجوفية توجد في : ( الوادي - الدلتا - الواحات - الساحل الشمالي )
- ٢- عادة إيجابية في البيئة الزراعية : ( التعاون - تفضيل الذكور - زيادة الإنجاب - عمل الأطفال )
- ٣- من الصناعات الحرفية اليدوية في مصر : ( الفخار - السيارات - الأجهزة الكهربائية - السكر )
- ٤- توفر البيئة الزراعية للبيئة الصناعية : ( الأسمدة - الآلات الزراعية - المواد الخام - الأدوية )

ب ما النتائج المترتبة على ... ؟ :

- ١- تنوع البيئات المصرية .
- ٢- الزواج المبكر للإناث في البيئة الزراعية .
- ٣- اتباعات الأبخرة والغازات من مداخن المصانع .

### ثانيًا : التاريخ

صوب ما تحته خط في العبارات الآتية :

- ١- فتح العثمانيون الأندلس عام ١٤٥٣ م .
- ٢- أبحرت الحملة الفرنسية على مصر من ميناء مرسيليا .
- ٣- قسم محمد علي مصر إلى تسع مديريات .
- ٤- طبق محمد علي نظام الالتزام في الاقتصاد المصري .

ب بم تفسر ... ؟ :

- ١- ازدهار دولة المماليك في مصر والشام .
- ٢- فشل حملة فرينزر على مصر عام ١٨٠٧ م .
- ٣- إنشاء محمد علي المدارس الابتدائية والتجهيزية .

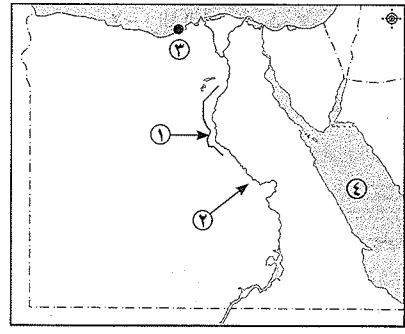


س ١ لمن تنسب الأعمال الآتية ؟ :

- ١ - قام بترحيل أمهر الصناع والحرفيين من مصر إلى الأستانة .
  - ٢ - قاوم الحملة الفرنسية على مصر عام ١٧٩٨ م في الإسكندرية .
  - ٣ - قيادة الحملة الفرنسية بعد مقتل كليبر .
  - ٤ - إقامة إمبراطورية مصرية امتدت إلى مديريةية خط الاستواء .
- ب رتب الأحداث الآتية من الأقدم إلى الأحدث :
- ( معركة الريدانية - معركة مرج دابق - معاهدة لندن - موقعة أبي قير البحرية ) .
- ج ما رأيك في الأحداث الآتية ؟ : ١ - نظام الحكم العثماني لمصر . ٢ - اهتمام محمد علي بمشروعات الري .

٢٢ محافظة أسوان

أولاً : الجغرافيا



- أمامك خريطة صماء لمصر، اكتب مدلول الأرقام الموقعة عليها :
- ١ - ترعة .....
  - ٢ - منطقة تركز صناعة الألومنيوم .....
  - ٣ - من مناطق التركز السكاني مدينة .....
  - ٤ - البحر .....

ب بم تفسر ... ؟ : ( يكتفى بذكر سبب واحد فقط )

- ١ - عند إقامة المصانع يجب مراعاة اتجاه الرياح .
  - ٢ - تعاني البيئة الصناعية من مشكلات التلوث البيئي .
  - ٣ - معدل الزيادة السكانية الطبيعية في البيئة الزراعية أعلى من معدلها في المناطق الحضرية .
- اكتب كلمة ( صح ) أمام العبارة الصحيحة ، وكلمة ( خطأ ) أمام العبارة غير الصحيحة :

- ١ - يمكن أن نجد البيئة الزراعية داخل البيئة الصحراوية .
  - ٢ - تتميز أراضي الدلتا بوجود تضاريس مرتفعة بها .
  - ٣ - من الصناعات الكيميائية صناعة الصابون والعطور .
  - ٤ - أنشأت الدولة المناطق الصناعية لزيادة الصادرات المصرية .
  - ٥ - أهم الحبوب الغذائية في مصر : القمح - الأرز - الذرة .
  - ٦ - شجعت الدولة استخدام الأسمدة الكيماوية في تسميد التربة .
- ب اكتب ما تشير إليه كل عبارة من العبارات التالية :
- ١ - المكان الذي يعيش فيه ويضم مظاهر طبيعية ومظاهر حضارية ويتوفر به مقومات الحياة .
  - ٢ - يقصد به الأفراد الذين في سن العمل ولا يعملون .
  - ٣ - استخدام الإنسان للموارد المتاحة لسد احتياجاته من مأكّل ومشرب وملبس .
  - ٤ - يقصد بها طلب السكان المحليين للمنتجات الصناعية .

ثانياً : التاريخ

س ٢ أكمل ما يأتي بكلمات مناسبة :

- ١ - تدهورت الحالة الاقتصادية لمصر بعد اكتشاف طريق .....
  - ٢ - كان نظام الحكم العثماني في مصر قائماً على نظام .....
  - ٣ - من الأسباب المعلنة للحملة الفرنسية على مصر تأديب .....
  - ٤ - من النتائج العلمية والثقافية للحملة الفرنسية تأليف كتاب .....
  - ٥ - اجتمع زعماء الشعب والعلماء بدار .....
  - ٦ - أنشأ محمد علي العديد من القصور مثل قصر .....
- ب ما النتائج المترتبة على ... ؟ : ( يكتفى بذكر نتيجة واحدة فقط )

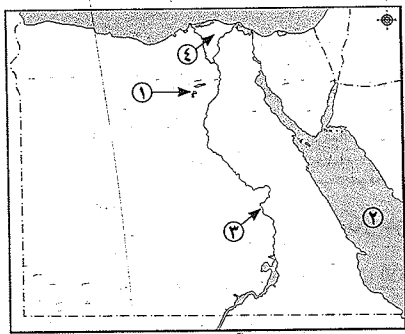
- ١ - معركة الريدانية عام ١٥١٧ م .
  - ٢ - سياسة محمد علي الخارجية التوسعية .
- ب رتب الأحداث التاريخية التالية من القديم إلى الحديث :
- ( ثورة القاهرة الأولى - فتح القسطنطينية - مذبحة القلعة - حملة فريزر ) .

ب إلى من تنسب الأعمال الآتية ؟ :

- ١ - قائد الأسطول الإنجليزي الذي قام بتحطيم الأسطول الفرنسي في أبي قير البحرية عام ١٧٩٨ م .
  - ٢ - تزعم ثورة القاهرة الثانية ضد الاحتلال الفرنسي .
  - ٣ - قام بترحيل أمهر الصناع والحرفيين إلى الأستانة عاصمة الدولة العثمانية .
  - ٤ - نجح في إقامة إمبراطورية مصرية امتدت إلى مديريةية خط الاستواء .
- ج ماذا يحدث إذا ... ؟ : - رحبت الحكومة البريطانية بعقد اتفاقية العريش عام ١٨٠٠ م .

٢٣ محافظة الأقصر

أولاً : الجغرافيا



- أمامك خريطة صماء لمصر، اكتب مدلول الأرقام الموقعة عليها :
- ١ - منخفض .....
  - ٢ - البحر .....
  - ٣ - السد .....
  - ٤ - منطقة زراعية فيضية .....

ب بم تفسر ... ؟ :

- ١ - ندرة النباتات الطبيعية في البيئة الزراعية .
- ٢ - اهتمام الدولة بالتعليم الفني والصناعي .





ح صنف الصناعات التالية حسب درجة تطورها في الجدول المبين :

(صناعة حلج القطن - صناعة الآلات والسيارات - صناعة الفخار)

صناعات حرفية (يدوية)	صناعات بسيطة	صناعات حديثة
.....	.....	.....
.....	.....	.....

أكمل العبارات الآتية :

- 1- الزواج المبكر للإناث في البيئة الزراعية من العادات .....
- 2- الموقع الجغرافي من العوامل ..... لقيام الصناعة .
- 3- تعتمد الزراعة في الساحل الشمالي من مصر على مياه ..... الشتوية .
- 4- تتكون التربة الزراعية الفيضية في مصر من نسبة كبيرة من ..... ونسبة أقل من الرمال .

ب اكتب ما تشير إليه كل عبارة من العبارات الآتية :

- 1- يقصد بها عدد الأفراد الذين هم في سن العمل ولا يعملون .
- 2- تحويل المادة الخام إلى سلع ومنتجات لسد احتياجات السكان .
- 3- يعني إزالة الطبقة السطحية من التربة مما يؤدي إلى تدهور إنتاجها .

ح اكتب كلمة ( صح ) أمام العبارة الصحيحة ، وكلمة ( خطأ ) أمام العبارة غير الصحيحة :

- 1- تسهم الصناعة في زيادة الدخل القومي لمصر .
- 2- توفر البيئة الزراعية للبيئة الصناعية الأيدي العاملة .
- 3- تضم محافظة الفيوم بعض المعالم السياحية مثل بحيرة قارون .

ثانيًا : التاريخ

أ اختر الإجابة الصحيحة من بين الأقواس :

- 1- تأسست هيئات الحكم العثماني في مصر من ..... قوى :
- 2- طبق محمد علي نظام ..... وهو إشراف الدولة على الاقتصاد :

(الالتزام - الاحتكار - الرأسمالية - الديمقراطية)

- 3- انطلقت ثورة القاهرة الثانية ضد الاحتلال الفرنسي من حي : (بولاق - الأزهر - المطرية - العباسية)
- 4- قام محمد علي بنفي عمر مكرم تقيب الأشراف إلى : (رشيد - دمياط - الصعيد - الإسكندرية)

ب رتب الأحداث التاريخية الآتية من الأقدم إلى الأحدث :

( تولية محمد علي حكم مصر - موقعة أبي قير البحرية - اتفاقية العريش - الحملة الفرنسية على مصر ) .

ح وضح رأيك في : - دخول نابليون وجنوده للجامع الأزهر وهم يركبون الخيل .

أ صوب ما تحته خط في العبارات الآتية :

- 1- قام السلطان العثماني محمد الفاتح بترحيل أمهر الصناع إلى الأسنانة .
- 2- كانت معركة مرج دابق الحد الفاصل لنهاية دولة المماليك .

3- أبحرت الحملة الفرنسية في مايو 1798 م من ميناء مرسيليا جنوب فرنسا .

4- استثنى نابليون من أحكام الإعدام الشيخ عمر مكرم لمكانته العلمية والأدبية .

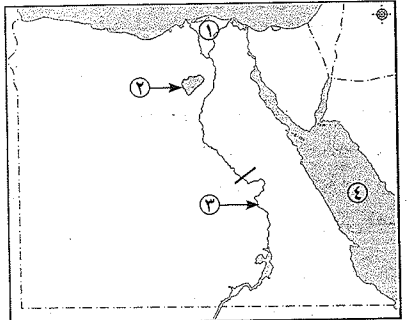
ب لمن تنسب الأعمال الآتية ؟ :

- 1- قائد فرنسي اعتنق الإسلام وتزوج من امرأة مسلمة من أبناء رشيد .
- 2- نجح في إقامة إمبراطورية مصرية امتدت إلى مديرية الاستواء .
- 3- اكتشاف طريق رأس الرجاء الصالح .

ح ما النتائج المترتبة على ... ؟ :- سياسة محمد علي الخارجية التوسعية .

### ٢٤ محافظة الوادي الجديد

أولًا : الجغرافيا



أ أمامك خريطة صماء لمصر ، اكتب مدلول الأرقام

الموقعة عليها :

- 1- منطقة زراعية فيضية .....
- 2- منخفض .....
- 3- قناطر .....
- 4- البحر .....

ب اختر الإجابة الصحيحة من بين الأقواس :

- 1- تمدنا البيئة ..... بالمعادن .
- 2- تقوم الزراعة بالوادي الجديد على مياه :
- 3- من المحاصيل المنتجة للسكر :
- 4- تُعد صناعة الألمنيوم من الصناعات :

( الصحراوية - الساحلية - الزراعية - الصناعية )

( الأمطار - الأنهار - البحار - الآبار والعيون )

( القطن - البنجر - القمح - الذرة )

( الهندسية - الكيميائية - المعدنية - الكهربائية )

ح « ترتبط البيئة الزراعية بالبيئة الصناعية » .. في ضوء العبارة ، اذكر :

- 1- اثنتين من مشكلات البيئة الصناعية .
- 2- ما توفره البيئة الزراعية للبيئة الصناعية .

أ اكتب المفهوم الذي تشير إليه العبارات الآتية:

- 1- بناء هندسي يشيد على الأنهار لتجنب أخطار الفيضانات .
- 2- مناطق بُنيت بدون تخطيط من الدولة .
- 3- المناطق التي تقوم بها الصناعة ويعمل سكانها بالصناعة .
- 4- الإفراط وسوء استخدام الموارد الطبيعية بشكل يؤدي لنيّادها .

ب بم تفسر ... ؟ :

- 1- تناقص مساحة الأراضي الزراعية بمصر .
- 2- ارتفاع معدل الزيادة السكانية الطبيعية بالبيئة الزراعية .
- 3- اهتمام مصر بزيادة الصادرات .



## ثانياً: التاريخ

١. اكتب كلمة (صح) أمام العبارات الصحيحة، وكلمة (خطأ) أمام العبارات غير الصحيحة:

- ١- تم فتح القسطنطينية عام ١٤٥٣ م في عهد السلطان سليم الأول . ( )
- ٢- تألفت هيئات الحكم العثماني في مصر من ثلاث قوى . ( )
- ٣- ازدهرت أحوال مصر في جميع المجالات في ظل الحكم العثماني . ( )
- ٤- من الأسباب الحقيقية للحملة الفرنسية على مصر تهديد إنجلترا في الشرق . ( )
- ٥- تزعم عمر مكرم المقاومة المصرية للحملة الفرنسية في الإسكندرية . ( )
- ٦- كان للزعامة الشعبية دور في تولية محمد علي الحكم في مصر عام ١٨٠٥ م . ( )

ب ما النتائج المترتبة على ... ؟ :

- ١- ضعف دولة المماليك . ( )
- ٢- ثورة القاهرة الأولى ( أكتوبر ١٧٩٨ م ) . ( )
- ٣- سياسة محمد علي التوسعية الخارجية . ( )

١. أكمل ما يأتي بكلمات مناسبة :

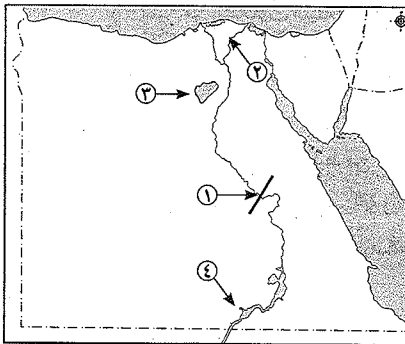
- ١- تدهورت الحالة الاقتصادية لمصر بعد اكتشاف ..... ١٤٩٨ م .
- ٢- كانت مصر قبل الحكم العثماني تحت حكم .....
- ٣- هُزمت القوات المملوكية أمام العثمانيين في معركة ..... ١٥١٧ م .
- ٤- جاءت الحملة الفرنسية على مصر عام ١٧٩٨ م بقيادة .....
- ٥- كان الكفاح ضد الحملة الإنجليزية عام ١٨٠٧ م على مصر على يد أبناء مدينتي الحماد و .....
- ٦- أنشأ محمد علي ترسانة لبناء السفن في .....

ب دلل تاريخياً على صدق العبارات الآتية :

- ١- كان للحملة الفرنسية على مصر بعض الآثار الإيجابية .
- ٢- اهتم محمد علي بمشروعات الري .

## ٢٥ محافظة البحر الأحمر

### أولاً: الجغرافيا



١. أمامك خريطة صماء لمصر، اكتب ما تشير

إليه الأرقام :

- ١- مركز لصناعة الألمونيوم مدينة .....
- ٢- فرع .....
- ٣- منخفض .....
- ٤- بحيرة .....

ب بم تفسر ... ؟ :

- ١- لا توجد الزراعة في الأطراف الشمالية للدلتا .
- ٢- إنشاء المزارع السمكية .
- ٣- الإكثار من المساحات الخضراء والحدائق في البيئة الصناعية .

٢. تخير الإجابة الصحيحة من بين القوسين :

- ١- من محافظات الوادي الزراعية : (الإسماعيلية - قنا - الإسكندرية - دمياط)
- ٢- من المعالم السياحية لمحافظة الفيوم : (تل بسطة - السواقي - معبد الكرنك - متحف النوبة)
- ٣- معدل الزيادة السكانية في البيئة الزراعية بالنسبة للمناطق الحضرية : (تساوي - أقل - أعلى - مساوية)
- ٤- من المناطق الصناعية في مصر : (حلوان - المحلة الكبرى - العاشر من رمضان - جميع ما سبق)

ب اكتب المصطلح العلمي لما يلي :

- ١- أفراد في سن العمل ولا يعملون . ( )
- ٢- الإفراط وسوء استخدام الموارد الطبيعية بشكل يؤدي إلى نفاذها . ( )
- ٣- قناة يتم حفرها عند منسوب أقل من منسوب الترع والأراضي لصرف المياه الزائدة . ( )

## ثانياً: التاريخ

١. اكتب كلمة (صح) أمام العبارة الصحيحة، وكلمة (خطأ) أمام العبارة غير الصحيحة:

- ١- يدور طريق رأس الرجاء الصالح حول القارة الأفريقية . ( )
- ٢- أقام محمد علي صناعات تعتمد على مواد خام مستوردة من الخارج . ( )
- ٣- ترتب على اكتشاف حجر رشيد فك رموز الكتابة المصرية القديمة . ( )
- ٤- فشلت الحملة الفرنسية في فتح مدينة عكا . ( )

ب اذكر نتيجة واحدة لكل مما يأتي :

- ١- تحطم الأسطول الفرنسي في موقعة أبي قير البحرية . ( )
- ٢- قيام السلطان سليم الأول بترحيل أمهر الصناع والحرفيين إلى الأستانة . ( )

٤. صوب ما تحته خط في العبارات الآتية :

- ١- نجح محمد علي في إقامة إمبراطورية مصرية امتدت إلى مديرية خط الاستواء . ( )
- ٢- أرسلت فرنسا حملة إلى مصر بقيادة فرينر . ( )
- ٣- سيطرت الدولة العثمانية على بلاد الشام بعد معركة الريدانية . ( )
- ٤- مهمة الديوان الدفاع عن البلاد أثناء الحكم العثماني . ( )

ب اذكر اسم الشخصية المناسبة لكل عبارة مما يأتي :

- ١- تم في عهده إنشاء المطبعة الأميرية في بولاق . ( )
- ٢- من زعماء ثورة القاهرة الأولى الذي خشى نابليون مكانته ولم يتم إعدامه . ( )



- إجابات الأنشطة المصاحبة من كتاب الأنشطة والتدريبات على الدروس .
- إجابات تدريبات الكتاب المقرر على الدروس .
- إجابات تدريبات سلاح التلميذ على الدروس .
- إجابات تدريبات الكتاب المقرر على الوحدات .
- إجابات تدريبات سلاح التلميذ على الوحدات .
- إجابات التدريبات العامة لموقع وزارة التربية والتعليم للفصل الدراسي الأول .
- إجابات نماذج امتحانات موقع وزارة التربية والتعليم للفصل الدراسي الأول .

### محافظة القاهرة

امتحان الصف السادس الابتدائي ( دمج )

#### أولاً : الجغرافيا

أكمل العبارات الآتية بكلمات مناسبة مما بين القوسين فيما يأتي :

( المبيدات - القطن - الحيوانات - البطالة - الإنتاج الاقتصادي )

- ١ - أدى تنوع البيئات في مصر إلى تنوع .....
- ٢ - يهاجر السكان من الريف إلى المدن بسبب انتشار .....
- ٣ - من محاصيل المنسوجات في مصر .....
- ٤ - من أسباب التلوث البيئي في مصر .....
- ٥ - تتعدد المواد الخام اللازمة للصناعة ومنها المواد الخام .....

اختر الإجابة الصحيحة مما بين القوسين :

- ١ - تمدنا البيئة ..... بالمعادن المختلفة . ( الزراعة - الصناعية - الصحراوية - الساحلية )
- ٢ - تقوم الزراعة على مياه الأمطار في ..... مصر . ( شرق - غرب - جنوب - شمال )
- ٣ - من العادات السلبية في البيئة الزراعية : ( التعاون - احترام الكبير - التزاور فيما بينهم - زيادة الإنتاج )
- ٤ - من العوامل البشرية لقيام الصناعة : ( الموقع الجغرافي - المناخ - رأس المال - المواد الخام )
- ٥ - تعتبر صناعة الألومنيوم أحد أنواع الصناعات : ( المعدنية - الهندسية والكهربائية - الكيميائية - الغذائية )

#### ثانياً : التاريخ

اكتب كلمة ( صح ) أمام العبارات الصحيحة ، وكلمة ( خطأ ) أمام العبارات غير الصحيحة:

- ١ - تولى الجنرال مينو قيادة الحملة بعد مقتل كليبر . ( )
- ٢ - بعد مذبحة القلعة فر الباقون من المماليك إلى ليبيا . ( )
- ٣ - تألفت هيئات الحكم العثماني بمصر من خمس قوى . ( )
- ٤ - اهتم محمد علي بإرسال البعثات إلى الخارج وخاصة إيطاليا . ( )
- ٥ - نجحت الحملة الفرنسية في تحقيق أهدافها السياسية . ( )

اختر من المجموعة (ب) الكلمة المناسبة أمام عبارات المجموعة (أ) :

العمود (ب)	العمود (أ)
١ - عمر مكرم .	١ - أصبحت مصر ولاية عثمانية بعد معركة .....
٢ - محمد علي .	٢ - خرجت الحملة الفرنسية من ميناء ..... جنوب فرنسا .
٣ - فريزر .	٣ - اندلعت ثورة القاهرة الثانية من حى بولاق بزعامة .....
٤ - طولون .	٤ - أرسلت بريطانيا حملة إلى مصر في مارس ١٨٠٧ بقيادة .....
٥ - الريدانية .	٥ - اهتم ..... ببناء مصر الحديثة على النسق الأوربي .