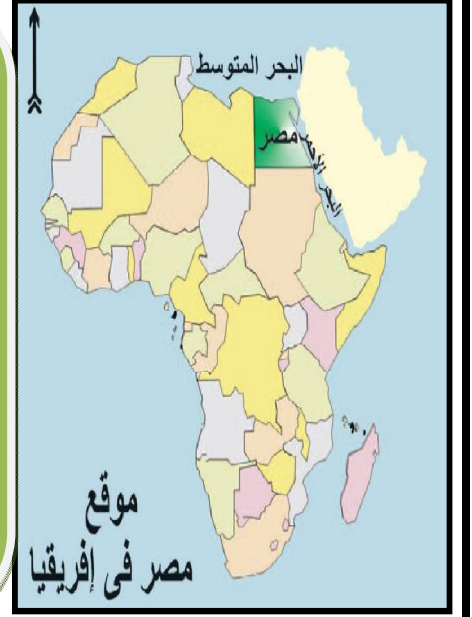


المذكرة الأفضل
للف الرابع
الابتدائي
ترم أول



الدراسات الاجتماعية

من غير تعقيد

تجميع وتنسيق / بيومي سمير

ت / ٠١٠٦٤٥٤٩٤٦٤

شكر خاص لاصحاب الفضل في هذه المذكرة

الأستاذ/ مصطفى شاهين

الأستاذ/ عبدالرازق العربي ٠١٠٠٨١٩٧٠٥٨

الوحدة الأولى : الدراسات الاجتماعية أهميتها وأدواتها

– ماذا نقصد بالدراسات الاجتماعية ؟

مفهوم الدراسات الاجتماعية :

هى المواد الدراسية التى تهتم بدراسة الإنسان وعلاقته بالبيئة المحيطة به وتأثيره فيها وتأثره بها سواء كانت قرية أو مدينة أو دولة أو العالم كله ، كما تهتم بحياة الإنسان فى الماضى والحاضر والتخطيط للمستقبل .
أو : هى المواد التى تهتم بدراسة الإنسان وعلاقته بالمجتمع الذى يعيش فيه .

البيئة :

هى كل ما يحيط بالإنسان من ظواهر طبيعية ومظاهر حضارية .

ما الموضوعات التى ندرسها فى مادة الدراسات الاجتماعية ؟

أولاً : الظروف الطبيعية للبيئة المحيطة بنا :

(١) التضاريس :

تعريفها : هى أشكال سطح الأرض المختلفة .

أمثلة : الجبال – الهضاب – السهول – الوديان – البحار – المحيطات .

ملاحظات هامة :

(١) لنهر النيل فرعان هما : (فرع دمياط وفرع رشيد)

(٢) من أشهر الجبال المصرية : (جبال البحر الأحمر – جبل سانت كاترين – جبل المغارة – جبل العوينات)

(٣) من المدن الساحلية المصرية :

♣ على البحر المتوسط : الإسكندرية – بورسعيد – العريش .

♣ على البحر الأحمر : الغردقة – سفاجا – السويس .

(٢) المناخ :

تعريفه : هو دراسة حالة الجو فى مدة طويلة (شهر – فصل – سنة)

ملحوظة هامة :

يمكن تقسيم المناطق حسب طبيعة المناخ إلى :

(١) المناطق الحارة : توجد فى جنوب مصر (الصعيد) .

(٢) المناطق المطيرة : توجد فى شمال مصر .

(٣) المناطق الجافة : توجد فى الصحراء .

(٤) المناطق الباردة والثلوج : غير موجودة فى مصر .

(٣) النبات الطبيعي :


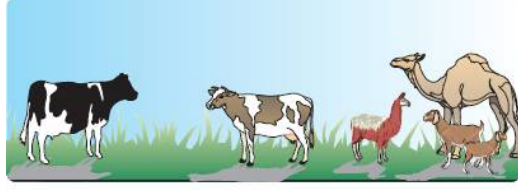
تعريفه : هو النبات الذى ينمو بشكل طبيعي دون أن يزرعه الإنسان .

أنواعه حسب كمية الأمطار :

(١) الغابات : عندما تكون الأمطار غزيرة .

(٢) الحشائش : عندما تكون الأمطار متوسطة .

(٣) النباتات الصحراوية : عندما تقل الأمطار .



ثانياً: التعرف على شعوب العالم :

هناك علاقة متبادلة بين الإنسان والبيئة التى يعيش فيها حيث تؤثر البيئة على ملابسه ولون بشرته .

أمثلة : (١) فى المناطق الحارة : يرتدى الناس الملابس الخفيفة .

(٢) فى المناطق الباردة : يرتدى الناس الملابس الثقيلة .



السكان	الحرفة
السواحل	الصيد - صناعة السفن .
القرى	الزراعة - تربية الحيوان - الدواجن .
الصحارى	الرعى - استخراج المعادن .
الغابات	تقطيع الأشجار وتصنيعها .

ثالثاً: التعرف على تاريخنا وما تركه أجدادنا من تراث :

من خلال تجاربنا وخبراتنا عبر التاريخ نحن لنا :

(١) ماضى : نفتخر ونعتز به .

(٢) حاضر : ننتمى إليه .

(٣) مستقبل : نخطط له .



رابعاً: الأدوات التى تستخدم فى تعلم الدراسات الاجتماعية :


(١) الخرائط والكرات الأرضية والصور والرسوم والجداول .

(٢) الكمبيوتر .

(٣) الرحلات والزيارات .

(٤) الكتب والأطالس والموسوعات ودوائر المعارف .

(٥) أدوات القياس ، مثل : (الترمومتر - دوارى الرياح) .



هو مجموعة من الخرائط بمختلف أنواعها ومقاييسها لأى مكان من سطح الأرض .

الأطلس :

س : بم تفسر :

(١) أهمية دراسة مادة الدراسات الاجتماعية ؟

ج : لأنها تهتم بدراسة الإنسان وعلاقته بالبيئة المحيطة به وتأثير الإنسان في البيئة وتأثره بها سواء كانت قرية أو مدينة أو دولة وتهتم بدراسة حياة الإنسان في الماضي والحاضر والتخطيط للمستقبل .

(٢) تنوع النبات الطبيعي ؟

ج : لتنوع كميات الأمطار فحيث تغزر الأمطار تنمو الغابات وحيث تندر الأمطار تنمو نباتات الصحارى وفى المناطق متوسطة الأمطار تنمو الحشائش .

(٣) اختلاف وتنوع ملابس ولون بشرة الشعوب المختلفة ؟

ج : لأن البيئة تؤثر فى تشكيلها.



س ١ : أكمل العبارات الآتية :

- ١ - تهتم الدراسات الاجتماعية بدراسة وعلاقته بالبيئة المحيطة به.
- ٢ - تهتم الدراسات الاجتماعية بحياة الإنسان في الماضي والحاضر والتخطيط
- ٣ - أشكال سطح الأرض المختلفة هي
- ٤ - المناخ هو حالة الجو فى مدة
- ٥ - النبات الطبيعي هو النبات الذى ينمو دون تدخل
- ٦ - تنمو فى المناطق متوسطة الأمطار.
- ٧ - الحرفة الرئيسية لسكان القرى هي
- ٨ - الخرائط والرسوم والكتب والأطالس من الأدوات التى تستخدم فى تعلم

س ٢ : اختر الإجابة الصحيحة مما بين القوسين :

- ١ - النبات الطبيعي الذى ينمو فى المناطق غزيرة الأمطار (الحشائش - الزهور - الغابات - القطن)
- ٢ - من الأحوال الطبيعية التى تهتم بها الدراسات الاجتماعية (المناخ - الموصلات - الزراعة)
- ٣ - من الأدوات التى تستخدم فى الدراسات الاجتماعية (الآلة الحاسبة - الخرائط - البرجل - المثلث)
- ٤ - الحرفة التى تشتهر بها المناطق الساحلية هي (الرعى - الصناعة - الزراعة - الصيد)
- ٥ - المناخ هو دراسة حالة الجو فى (ساعة - يوم - فصل - أسبوع)
- ٦ - كل ما يأتى من صور النبات الطبيعي عدا (قصب السكر - الصبار - الحشائش - الغابات)
- ٧ - يطلق على أشكال سطح الأرض (الجيولوجيا - التضاريس - المناخ - الطقس)
- ٨ - تهتم الدراسات الاجتماعية بحياة الإنسان فى (الماضى - الحاضر - المستقبل - كل ما سبق)

س ٣ : ضع علامة (✓) أو علامة (×) أمام ما يأتى :

- ١ - تهتم الدراسات الاجتماعية بدراسة توزيع السكان فى العالم .
- ٢ - تنتشر حرفة الصناعة فى مناطق الغابات .
- ٣ - يؤثر الإنسان فى البيئة التى تحيط به ويتأثر بها .
- ٤ - تفيد الدراسات الاجتماعية فى التعرف على أحوال المناخ والتضاريس .
- ٥ - تقتصر الدراسات الاجتماعية على الموضوعات الطبيعية .
- ٦ - القمح والأرز من صور النبات الطبيعي .
- ٧ - تهتم الدراسات الاجتماعية بحياة الإنسان فى الحاضر فقط .

٨ - تفيد الرحلات والزيارات فى تعلم الدراسات الاجتماعية .

٩ - الغابات الطبيعية تنمو فى المناطق نادرة الأمطار.

١٠ - النبات الطبيعي ينمو بمجرد سقوط الأمطار دون تدخل الإنسان.

١١ - تهتم الدراسات الاجتماعية بدراسة حياة الشعوب وما تقوم به من أعمال .

س ٤ : أذكر المفهوم أو المصطلح المناسب للعبارة الآتية :

١ - النبات الذى ينمو بمجرد سقوط الأمطار دون تدخل الإنسان .

٢ - أشكال سطح الأرض من جبال وهضاب وسهول وأحواض .

٣ - نوع النبات الطبيعي الذى ينمو فى المناطق غزيرة الأمطار.

٤ - الظواهر التى تهتم بها مادة الدراسات الاجتماعية ولا دخل للإنسان بها مثل المناخ .

٥ - دراسة حالة الجو فى مدة طويلة شهر أو فصل أو سنة .

٦ - المواد الدراسية التى تهتم بدراسة كل شىء عن حياة الإنسان فى الماضى والحاضر وعلاقته بالبيئة المحيطة.

٧ - الحرفة التى تسود مناطق القرى وترتبط بالأرض .

٨ - نوع النبات الذى ينمو فى المناطق متوسطة الأمطار .

٢- ما الخريطة ؟

الخريطة :


تعريفها : هى رسم توضيحي لتفاصيل أى جزء من سطح الأرض باستخدام مجموعة من الرموز والعلامات وبمقياس رسم محدد .

بعض أن أنواع الرموز المستخدمة فيها :

(١) أشكال هندسية :

(٣) ألوان وظلال

(٢) أشكال طبيعية :



ألوانها :

اللون	يستخدم فى تلوين	أمثلة
البنى	المناطق المرتفعة	الجبال والتلال
الأصفر	المناطق متوسطة الارتفاع	الهضاب
الأخضر	المناطق المنخفضة	السهول
الأزرق	المسطحات المائية	البحار والمحيطات والأنهار والخلجان

تذكرك الأسئلة

س ١ : أكمل العبارات الآتية :

- ١ - الخريطة مجموعة من الرموز التي توضح الظواهر الموجودة في
- ٢ - الدوائر والمربعات والمثلثات من الرموز المستخدمة في الخريطة.
- ٣ - إذا أردنا أن نعبر عن موقع المطار على الخريطة يمكن أن نرسم
- ٤ - تستخدم الألوان في خرائط لتحديد أشكال السطح
- ٥ - في الخرائط الطبيعية نلون البحار باللون

س ٢ : اختر الإجابة الصحيحة مما بين القوسين :

- ١ - اللون الأزرق في خرائط التضاريس يدل على (المسطحات المائية - الزراعة - السهول - الجبال)
- ٢ - من أنواع الرموز المستخدمة في الخرائط (الألوان - الأشكال الطبيعية - الأشكال الهندسية - كل ما سبق)
- ٣ - نجد مجموعة الخرائط المتنوعة في (القواميس - المجلات - الأطالس - الصحف)
- ٤ - المرتفعات في خرائط التضاريس تلون باللون (الأزرق - الأخضر - البني - الأسود)
- ٥ - من الرموز والأشكال الهندسية المستخدمة في الخرائط (السفينة - الطائرة - السيارة - الدائرة)
- ٦ - رسم سفينة في الخرائط يدل على موقع (ميناء بحري - ميناء جوي - مصنع - مزرعة)

س ٣ : ضع علامة (✓) أو علامة (×) أمام ما يأتي :

- ١ - توضح الخريطة الظواهر الموجودة في الطبيعة .
- ٢ - من الأشكال الهندسية المستخدمة في الخرائط السيارة والطائرة .
- ٣ - غالباً يحدد موقع المدينة أو العاصمة بدائرة أو مربع .
- ٤ - يستخدم رمز السفينة ليدل على موقع الميناء الجوي .
- ٥ - الأطالس يضم العديد من الخرائط مختلفة الخطوط والألوان .
- ٦ - تستخدم الألوان للتعبير عن أشكال السطح في الخرائط .
- ٧ - غالباً يستخدم اللون الأخضر للبحار والمحيطات .
- ٨ - تساعد الرموز والألوان في فهم الخرائط .

س ٤ : أذكر المفهوم أو المصطلح المناسب للعبارات الآتية :

- ١ - مجموعة من الخطوط والألوان والرموز توضح الظواهر الموجودة في الطبيعة .
- ٢ - يحتوي على مجموعة من الخرائط المتنوعة لأي مكان على سطح الأرض وقد يكون متخصصاً .
- ٣ - اللون الذي يستخدم للتعبير عن المسطحات المائية في الخرائط .

(٣) كيف تقرأ الخريطة ؟

نقرأ الخريطة عن طريق معرفة :

(١) عنوان الخريطة :

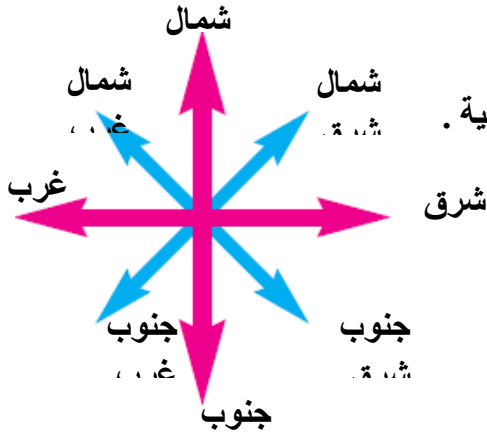
يوضح ما تحتويه الخريطة من بيانات .

(٢) معانى الرموز الموجودة فى الخريطة (مفتاح الخريطة) :

تعريفه : مستطيل يرسم فى أسفل الخريطة به بعض الألوان والرموز التى تدل على شئ مبين عليها .
أهميته : (يساعدك مفتاح الخريطة على قراءتها وفهمها) .

(٣) اتجاه الشمال :

عبارة عن سهم يشير إلى اتجاه الشمال يرسم فى أحد أركان الخريطة وعن طريقه يمكن تحديد الجهات الأصلية الباقية وأيضاً الجهات الفرعية .



الجهات الفرعية	الجهات الأصلية
الشمال الشرقى : يوجد بين الشمال والشرق .	الشمال
الشمال الغربى : يوجد بين الشمال والغرب .	الجنوب
الجنوب الغربى : يوجد بين الجنوب والغرب .	الشرق
الجنوب الشرقى : يوجد بين الجنوب والشرق .	الغرب

(٤) مقياس الرسم :

تعريفه : هو النسبة بين المسافة على الخريطة وما يقابلها على الطبيعة .
أهميته : (مقياس الرسم يساعد على تصغير أى مساحة أو مسافة على الطبيعة لرسمها على الخريطة) .
أمثلة : (١) إذا كان طول نهر ما على الطبيعة ١٠٠ متر ، ورسم فى الخريطة بطول ١٠ سم ، بذلك يكون مقياس الرسم ١ : ١٠٠٠ سم .
(٢) إذا كانت المسافة بين القاهرة والإسكندرية ٢٢٠ كيلو متر لو رسمنا خريطة للطريق بين المدينتين ، وفرضنا أن كل ١ سنتيمتر على الخريطة = ٢٠ كيلو متر على الطبيعة فإن :
طول الطريق بين المدينتين على الخريطة = $220 \div 20 = 11$ سنتيمتر .

أنواع مقياس الرسم

(١) مقياس كتابى : كل ١ سنتيمتر = ٢٠ كيلو متر

(٢) مقياس بيانى : (١ : ٢٠٠٠٠٠)

(٣) مقياس خطى : ٢٠ ٤٠ ٦٠ ٨٠

ملاحظات هامة :

- (١) لا توجد خريطة بدون مقياس رسم .
- (٢) يختلف مقياس الرسم من خريطة لأخرى حسب وظيفتها .
- أمثلة : الخرائط التفصيلية : تحتاج لمقياس رسم كبير مثل خرائط المدن .

❖ الخرائط العامة : ذات مقياس رسم صغير مثل خرائط الدول والقارات .

س : بم تفسر :

(١) وضع سهم في أحد أركان الخريطة ؟

ج : لأن السهم يوضح اتجاه الشمال وبالتالي نستطيع تحديد باقى الاتجاهات الأصلية والفرعية.

(٢) ضرورة وضع مفتاح للخريطة ؟

ج : لأنه يوضح معانى الرموز الموجودة بالخريطة ودليل الألوان وبذلك نستطيع فهم الخريطة وقراءتها.

(٣) لا نستطيع الاستغناء عن مقياس الرسم فى الخرائط ؟

ج : لأن مقياس الرسم يحدد النسبة بين المسافة على الخريطة وما يقابلها فى الطبيعة وبالتالي تحديد المسافات بين المدن والدول .

س : ماذا يحدث لو :

(١) رسمت الخرائط دون وضع السهم الذى يشير إلى الشمال ؟

ج : لا نستطيع تحديد الاتجاهات على الخريطة أو ما يقابلها على الطبيعة.

(٢) رسمت الخرائط دون تحديد مقياس الرسم ؟

ج : لا نستطيع معرفة المسافات وما يقابلها فى الطبيعة .

(٣) تم تحديد اتجاه الشمال على الخريطة ؟

ج : نستطيع معرفة باقى الجهات الأصلية لأن اتجاه الشمال يقابله اتجاه الجنوب وجهة اليمين يكون الشرق وجهة اليسار يكون الغرب.

(٤) لم يحدد مفتاح الخريطة ؟

ج : لا نستطيع معرفة معانى الرموز ودلالة الألوان ولا نستطيع قراءة الخرائط أو فهمها.

بنك الأسئلة

س ١ : أكمل العبارات الآتية :

١ - الخريطة توضح تفاصيل سطح الأرض باستخدام مجموعة من

٢ - السهم الذى يرسم فى الخريطة يوضح دائما اتجاه

٣ - المستطيل الذى يوضح معانى الرموز الموجودة فى الخريطة يعرف بـ الخريطة .

٤ - رأس السهم فى الخريطة يشير إلى اتجاه الشمال وذيله يشير إلى

٥ - الشمال والجنوب الشرق والغرب تعرف باسم الجهات

٦ - الذى يقع بين الشمال واتجاه الغرب هو اتجاه

٧ - الخرائط العامة للدول والقارات تستخدم مقياس رسم

٨ - مقياس الرسم هو النسبة بين المسافة على الخريطة وما يقابلها على

س ٢ : اختر الإجابة الصحيحة مما بين القوسين :

١ - يحدد اتجاه الشمال دائما باستخدام (عصا - دائرة - سهم - مربع)

٢ - يوجد بين الجهات الأصلية جهات فرعية . (ثلاث - أربع - خمس - ست)

٣ - الاتجاه الذى يوجد بين الجنوب والشرق هو (شمال - غرب - شرق - غرب)

- (الشمال الشرقى - الشمال الغربى - الجنوب الشرقى - الجنوب الغربى)
- ٤ - يستخدم المقياس الكبير فى خرائط (تفصيلية - المدن - القارات - عامة)
- ٥ - توجد الرموز والألوان فى مربع بالخريطة هو
- (عنوان الخريطة - مقياس الرسم - مفتاح الخريطة - موضوع الخريطة)
- ٦ - يمكن معرفة جميع الجهات الأصلية إذا عرف اتجاه (الشرق - الغرب - الشمال - الجنوب)
- ٧ - النسبة بين المسافة على الخريطة وما يقابلها على الطبيعة هى
- (اتجاه الشمال - مفتاح الخريطة - مقياس الرسم - دليل الألوان)
- ٨ - اتجاه الشمال الشرقى من الجهات (الأصلية - الفرعية - غير الفرعية - غير المعروفة)
- ٩ - تسمى الجهة التى تقع بين جهة الشمال وجهة الغرب بـ
- (الشرق الغربى - الشمال الغربى - الجنوب الغربى - الجنوب الشرقى)
- ١٠ - من الجهات الفرعية (الشمال - الشمال الجنوبى - الشرق - الجنوب الشرقى)

س ٣ : ضع علامة (✓) أو علامة (×) أمام ما يأتى :

- ١ - لرسم الخرائط الصغيرة لا نحتاج مقياس رسم .
- ٢ - توجد بين الجهات الأربعة الأصلية أربع جهات فرعية .
- ٣ - بمعرفة اتجاه الشمال نستطيع تحديد باقى الجهات الأصلية .
- ٤ - رأس السهم فى الخريطة يشير إلى الشرق حيث تشرق الشمس .
- ٥ - مفتاح الخريطة يوضح معانى الألوان والرموز الموجودة بها .
- ٦ - خرائط الدول والقارات تستخدم مقياس رسم كبيراً .
- ٧ - يساعد مقياس الرسم فى معرفة موضوع الخريطة وفهمها .
- ٨ - الجنوب الشرقى من الجهات الأصلية .
- ٩ - يمكن استخدام الرموز والألوان معا فى الخريطة .

س ٤ : أذكر المفهوم أو المصطلح المناسب للعبارات الآتية :

- ١ - اتجاه يشير إليه السهم الموجود فى أحد أركان الخريطة .
- ٢ - مستطيل يوجد فى أحد جوانب الخريطة يضم الرموز والألوان .
- ٣ - النسبة بين المسافة على الخريطة وما يقابلها على الطبيعة .
- ٤ - يدل على موضوع الخريطة وما تحويه من بيانات .
- ٥ - اتجاهات الشمال والجنوب والشرق والغرب .
- ٦ - الجهات التى تقع بين الجهات الأصلية مثل الشمال الشرقى والشمال الغربى .

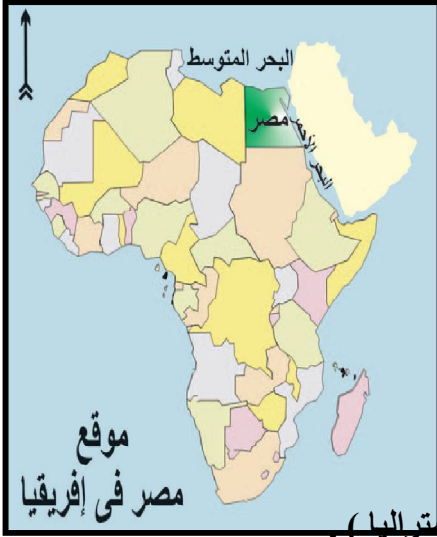
**

الوحدة الثانية : الطبيعة فى بلدى

١

– موقع مصر وأهميته الجغرافية والتاريخية

تحديد موقع مصر :



✪ يتكون العالم من مجموعة من القارات تكون اليابس .

مصر :

✪ تتوسط ثلاث قارات هي : (آسيا – إفريقيا – أوروبا) .

✪ تقع فى الركن الشمالى الشرقى من قارة إفريقيا .

✪ تطل على بحرين من أهم بحار العالم :
 ← البحر الأحمر فى الشرق
 ← البحر المتوسط فى الشمال .

القارات :

✪ القارة : هي مساحة واسعة من اليابس تضم عدداً من الدول داخلها .

✪ قارات العالم القديم : (آسيا – إفريقيا – أوروبا) .

✪ القارات المكتشفة حديثاً : (أمريكا الشمالية – أمريكا الجنوبية – أستراليا) .

س : بم تفسر :

(١) تسمى قارات (آسيا – إفريقيا – أوروليم) ابقارات العالم القديم ؟

ج : لأن الإنسان سكن فيها وعمرها منذ القدم حتى اكتشف باقى القارات .

(٢) يطلق اسم العالم الجديد على قارات الأمريكتين وأستراليا ؟

ج : لأنها اكتشفت حديثاً وتم تعميمها بالسكان واستغلالها اقتصادياً .

(٣) تعتبر مصر دولة إفريقية ؟

ج : لأنها تقع فى الركن الشمالى الشرقى من قارة إفريقيا .

الأهمية الجغرافية لموقع مصر :

(١) تقع مصر على بحرين من أهم بحار العالم هما البحر الأحمر فى الشرق والبحر المتوسط فى الشمال .

(٢) ساعد على زيادة أهمية موقع مصر الربط بين البحرين الأحمر والمتوسط بواسطة قناة السويس التى تمر بها مئات السفن المحملة بالسلع والبضائع والبتروال لتنتقل من البحر الأحمر وتوجه إلى قارة أوروبا عبر البحر المتوسط والمحيط الأطلنطى .

س : بم تفسر : زيادة أهمية موقع مصر بعد حفر قناة السويس ؟

ج : لأنها ربطت بين البحر الأحمر والبحر المتوسط .

الأهمية التاريخية لموقع مصر :

قبل حفر قناة السويس كانت السفن تضطر لـ :

(١) الدوران حول قارة إفريقيا قاطعة آلاف الكيلومترات فى رحلة قد تستغرق

عدة شهور ويعرف هذا الطريق باسم (رأس الرجاء الصالح) .

(٢) التوقف فى ميناء الإسكندرية أو دمياط لتفرغ حمولتها ثم تنقل هذه الحمولة

تجميع وتنسيق بيومى سمير / ت/ ٠١٠٦٤٥٤٩٤٦٤ هدية مجا



بعد ذلك بواسطة القوافل إلى ميناء القلزم (السويس حالياً) على خليج
السويس لتحميلها السفن مرة أخرى لتستكمل رحلتها .

س : بم تفسر : طمع الاستعمار الفرنسي والاستعمار الإنجليزي في السيطرة
على مصر ؟

ج : بهدف السيطرة على طرق التجارة التي تمر عبر مصر .

أو : لازدياد أهمية موقعها خاصة بعد شق قناة السويس أهم طريق تجارة عالمي .

س : ماذا يحدث لو : لم يتم حفر قناة السويس ؟

ج : كانت ستظل التجارة تستخدم طريق رأس الرجاء الصالح والدوران حول إفريقيا .

س : ما النتائج المترتبة على :

(١) شق قناة السويس ؟

ج : ربطت بين البحرين الأحمر والمتوسط وقصرت المسافة بين الشرق والغرب، وأدت إلى ازدهار التجارة وازدياد
أهمية موقع مصر .

(٢) موقع مصر الفريد بين دول العالم ؟

ج : تعرضت مصر لأطماع الدول الاستعمارية وخاصة فرنسا وإنجلترا للسيطرة عليها .

ملاحظات هامة

(١) مساحة قارات العالم : أفريقيا (٣٠ مليون كم ٢) – آسيا (٤٠ مليون كم ٢) – أوروبا (١٠ مليون كم ٢) .
(٢) كوبري السلام المعلق فوق قناة السويس : أقيم حديثاً في عهد الرئيس محمد حسني مبارك بالتعاون مع اليابان
ويربط بين محافظات مصر ومحافظتي شمال وجنوب سيناء .

بنك الأسئلة

س ١ : أكمل العبارات الآتية :

- ١ – تقع مصر في الركن من قارة إفريقيا .
- ٢ – تطل مصر من جهة الشرق على البحر
- ٣ – تتوسط مصر ثلاث قارات هي إفريقيا وآسيا و
- ٤ – يطلق على قارات أستراليا والأمريكتين اسم العالم
- ٥ – ربطت قناة السويس بين البحرين الأحمر و
- ٦ – كانت السفن قبل حفر قناة السويس تدور حول قارة
- ٧ – الاسم الحالي لميناء القلزم هو
- ٨ – كانت السفن تأتي من أوروبا وتفرغ حمولتها في ميناء الإسكندرية أو
- ٩ – زادت أهمية مصر بعد شق قناة السويس وتعرضت لأطماع الدول
- ١٠ – الطريق البديل لقناة السويس كان يعرف بطريق

س ٢ : اختر الإجابة الصحيحة مما بين القوسين :

- ١ – تقع مصر عند ملتقى

(قارتين – ثلاث قارات – أربع قارات – خمس قارات)

- ٢ - كانت السفن تأتي من أوروبا وتدور حول إفريقيا للوصول إلى قارة
- (آسيا - أستراليا - أمريكا الشمالية - أمريكا الجنوبية)
- ٣ - تقع مصر في الركن الشمالي من قارة
- (آسيا - أوروبا - إفريقيا - أستراليا)
- ٤ - كانت السفن تفرغ حمولتها في الإسكندرية ثم تنقل براً إلى
- (دمياط - بورسعيد - رشيد - السويس)
- ٥ - يضم العالم الجديد الأمريكتين و
- (آسيا - أوروبا - إفريقيا - أستراليا)
- ٦ - زادت أهمية موقع مصر بعد
- (شق ترعة السلام - بناء السد العالي - حفر قناة السويس - حرب أكتوبر)
- ٧ - كانت أهم طرق التجارة العالمية تمر بموانئ
- (ليبيا - تونس - سوريا - مصر)
- ٨ - يتكون يابس العالم من مجموعة من
- (الدول - القارات - الجزر - المحيطات)
- ٩ - ميناء السويس حالياً هو ميناء
- (إيلات - عيذاب - الروم - القلزم)
- ١٠ - الآتي من قارات العالم القديم عدا
- (أستراليا - آسيا - أوروبا - إفريقيا)
- ١١ - الطريق البديل عن قناة السويس هو طريق
- (قناة بنما - قناة كيبل - رأس الرجاء الصالح - سيناء)

س ٣ : ضع علامة (✓) أو علامة (*) أمام ما يأتي :

- ١ - قصرت قناة السويس المسافة بين الشرق والغرب .
- ٢ - كانت السفن تفرغ حمولتها في دمياط ثم تنقل بالقطار إلى السويس قديماً .
- ٣ - موقع مصر يتوسط العالم .
- ٤ - زادت أهمية موقع مصر بعد شق قناة السويس .
- ٥ - من القارات التي اكتشفت حديثاً أوروبا .
- ٦ - تقع مصر شمال غرب قارة إفريقيا .
- ٧ - ربطت قناة السويس بين البحرين الأحمر والأبيض .
- ٨ - طريق رأس الرجاء الصالح أقصر مسافة من طريق قناة السويس .
- ٩ - تتجه ناقلات البترول من أوروبا إلى الخليج العربي عبر قناة السويس .
- ١٠ - أطلق اسم القلزم قديماً على ميناء بورسعيد .
- ١١ - كانت السفن تدور حول قارة إفريقيا للوصول إلى آسيا قبل حفر قناة السويس .
- ١٢ - يطلق على أوروبا والأمريكتين اسم العالم الجديد لتقدمهما .

س ٤ : أذكر المفهوم أو المصطلح المناسب للعبارات الآتية :

- ١ - مساحات واسعة من اليابس فوق سطح الأرض .
- ٢ - الاسم الذي أطلق على قارات الأمريكتين وأستراليا .
- ٣ - الاسم الذي أطلق على قارات إفريقيا وآسيا وأوروبا .
- ٤ - الطريق البديل لقناة السويس وكان يدور حول إفريقيا .
- ٥ - المدينة التي أطلق عليها قديماً اسم ميناء القلزم

(٢) الحدود الجغرافية لمصر

لكل دولة فى العالم حدود تميزها وتفصلها عن جيرانها وتحفظ حقوقها داخل هذه الحدود .

أنواع الحدود :

(٢) حدود بشرية	(١) حدود طبيعية
♣ هى فواصل سياسية وضعها الإنسان بين حدود من صنع الإنسان .	♣ هى فواصل طبيعية تفصل بين الـ ♣ مثل (الجبال - المسطحات المائية

حدود مصر



الحدود الشرقية	♣ حد طبيعى : البحر الأحمر . ♣ حد بشرى : فلسطين المحتلة .
الحدود الغربية	♣ حد بشرى : ليبيا الدولة العربية الشقيقة (تتفق مع خط طول ٢٥ شرقاً) .
الحدود الشمالية	♣ حد طبيعى : البحر المتوسط .
الحدود الجنوبية	♣ حد بشرى : السودان الدولة العربية الشقيقة (تتفق مع دائرة عرض ٢٢ شمالاً) .

س : بم تفسر :

(١) تظهر معظم الحدود العربية فى شكل خطوط مستقيمة لا تعتمد على ظاهرات طبيعية ؟

ج : لأن هذه الحدود حدود مصطنعة وضعها الاستعمار لتقسيم الوطن العربى .

(٢) أغلب الإغارات الاستعمارية على مصر عبر التاريخ قد وفدت عبر شبه جزيرة

سيناء ؟

ج : لأن الحدود الطبيعية ساعدت على حماية مصر من الأطماع الاستعمارية من بقية الجهات .

(٣) قلة المشكلات على الحدود بين مصر وجيرانها ؟

ج : لأن حدود مصر واضحة ومعترف بها دولياً .

(٤) الحد الشمالى لمصر حد طبيعى واضح ؟

ج : لأنه يسير مع البحر المتوسط الذى تطل عليه مصر .

ملحوظة هامة : من الشعوب الاستعمارية التى هاجمت مصر : (الهكسوس - الفرس - التتار) .

الظواهر الطبيعية التى ساعدت فى نشأة وبناء الحضارة المصرية

(١) نهر النيل : ساعد نهر النيل ودلتاه وتربته الخصبة على :

♣ استقرار الإنسان المصرى واشتغاله بالزراعة .

♣ ظهور القرى والمدن .

(٢) البحرين الأحمر والمتوسط : ربطا مصر بالعالم الخارجى من خلال أسطولها

الذى وصل إلى : (١) بلاد بونت (الصومال حالياً) .

(٢) بلاد الفينيقيين (بلاد سوريا ولبنان حالياً) .

(٣) الصحراء المصرية : الغنية بالموارد المعدنية بمختلف أنواعها .

(٤) قوة وعزيمة الإنسان المصري .

س : بم تفسر :

(١) ارتباط مصر تجارياً ببلاد بونت وبلاد الفينيقيين ؟

ج : لمساهمة البحران المتوسط والأحمر في ربط مصر بالعالم الخارجى من خلال أسطولها الذى وصل إلى بلاد بونت والفينيقيين .

(٢) نشأة الحضارة المصرية القديمة ؟

ج : لمساعدة نهر النيل ودلتاه والسهول الفيضية للنهر فى استقرار الإنسان المصري واشتغاله بالزراعة وظهور القرى والمدن ونشأة دولة من أقدم الدول فى التاريخ .

بنك الأسئلة

س ١ : أكمل العبارات الآتية :

- ١ - لكل دولة فى العالم تميزها وتفصلها عن جيرانها .
- ٢ - تقع دولة ليبيا مصر .
- ٣ - يطلق على الحدود البحرية والجبلية والنهرية حدوداً
- ٤ - يعتبر البحر المتوسط الحد لمصر .
- ٥ - حدود مصر الشمالية حدود طبيعية وحدودها الجنوبية
- ٦ - تمتد حدود مصر مع ليبيا مع خط طول شرقاً .
- ٧ - تفصل دائرة عرض ٢٢° شمالاً مصر عن دولة
- ٨ - أغلب الغارات التى وفدت على مصر جاءت عبر
- ٩ - وصل الأسطول المصري القديم إلى بلاد بونت عن طريق البحر
- ١٠ - تتمثل حدود مصر الشرقية فى البحر الأحمر والحدود مع دولة
- ١١ - الدولة التى تقع جنوب مصر هى دولة

س ٢ : اختر الإجابة الصحيحة مما بين القوسين :

- ١ - لكى نميز الدول عن بعضها وتفصلها عن جيرانها نضع (جدراناً - موانع - حدوداً - أسواراً)
- ٢ - الظواهر الآتية تمثل حدوداً طبيعية ما عدا (الحدود الفلكية - الجبال - الأنهار - الحدود البحرية)
- ٣ - معظم حدود الدول العربية حدود (قوية - طبيعية - ثابتة - مصنعة)
- ٤ - تعد حدود مصر الشرقية (طبيعية - هندسية - بشرية - طبيعية وبشرية معا)
- ٥ - تتفق الحدود الجنوبية لمصر مع دولة السودان مع دائرة عرض (١٢° شمالاً - ١٢° جنوباً - ٢٢° شمالاً - ٢٢° جنوباً)
- ٦ - من الإغارات الاستعمارية التى وفدت عبر سيناء الآتى ما عدا (الهكسوس - التتار - الروم - الفرس)
- ٧ - بلاد بونت قديماً هى حالياً . (السودان - الصومال - الشام - ليبيا)
- ٨ - حدود مصر الشمالية تعد حدوداً طبيعية (جبلية - نهريّة - فلكية - بحرية)
- ٩ - تقع فلسطين بالنسبة لمصر فى الركن (الشمالى الشرقى - الغربى - الجنوبى - الشمالى)
- ١٠ - ربط الأسطول المصري قديماً مصر عبر البحر المتوسط ببلاد (بونت - بابل - فينيقيا - روما)
- ١١ - تمتد حدود مصر الغربية مع خط ٢٥° شرقاً الذى يفصلها عن (فلسطين - السودان - ليبيا - لبنان)
- ١٢ - البحار والجبال والأنهار تعد حدوداً (من صنع الإنسان - طبيعية - بشرية - هندسية)

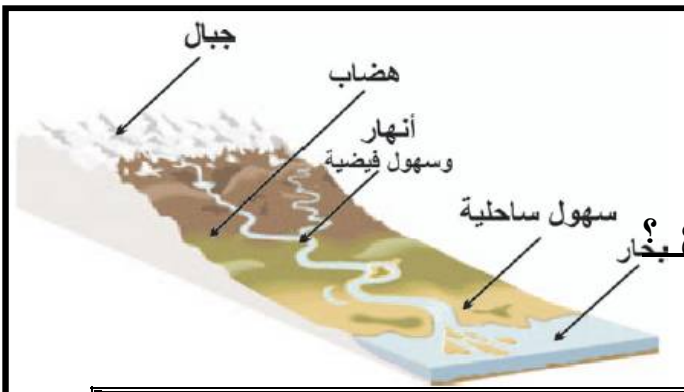
س ٣ : ضع علامة (✓) أو علامة (x) أمام ما يأتي :

- ١ - حدود مصر الشمالية من صنع الإنسان .
- ٢ - تميز الحدود الدول وتفصلها عن جيرانها وتحفظ حقوقها .
- ٣ - تقع دولة السودان شمال مصر .
- ٤ - حدود مصر الغربية حدود سياسية بشرية .
- ٥ - تمثل الحدود الشمالية لمصر حدودًا طبيعية ثابتة .
- ٦ - معظم حدود الدول العربية تسير مع ظاهرات طبيعية ثابتة .
- ٧ - حمت الحدود الطبيعية مصر من الأطماع الاستعمارية .
- ٨ - أغلب الإغارات الاستعمارية عبر التاريخ وفدت عبر الحدود الغربية .
- ٩ - ساهم نهر النيل في استقرار الإنسان المصري وظهور أقدم دولة في التاريخ .
- ١٠ - تتفق حدود مصر الجنوبية مع دائرة عرض ٣٢° شمالاً .
- ١١ - تتمثل الحدود الشرقية لمصر في كل من البحر الأحمر والحدود مع السعودية .
- ١٢ - يمثل البحر المتوسط الحد الجنوبي لمصر .
- ١٣ - هناك مشكلات عديدة على الحدود بين مصر وجيرانها .
- ١٤ - من الغارات الاستعمارية التي وفدت عبر سيناء غارات الفرس .
- ١٥ - الأراضي الواقعة شرق خط طول ٢٥° شرقًا تابعة لمصر .

س ٤ : أذكر المفهوم أو المصطلح المناسب للعبارات الآتية :

- ١ - حدود من صنع الإنسان لا تلتزم بظاهرة طبيعية .
- ٢ - دائرة عرض تعد الحدود الجنوبية لمصر مع السودان .
- ٣ - حدود تسير مع جبال أو أنهار أو بحار .
- ٤ - خطوط تفصل بين الدول وتحفظ حقوقها وتميزها عن غيرها .
- ٥ - وفدت عن طريقها الإغارات الاستعمارية إلى مصر .
- ٦ - خط طول يمثل الحد الغربي لمصر مع ليبيا .

(٣) سطح مصر وتنوعه



السطح :

هو شكل الأرض بما تضمه من

- ♣ مرتفعات (جبال - هضاب - تلال) .
- ♣ سهول (ساحلية - فيضية) .
- ♣ منخفضات .

س : بم تفسر : يتميز سطح مصر بالتنوع

ج : لأنه يضم العديد من أشكال السطح مثل : السهول والجبال والهضاب والمنخفضات .

مواصفاته	شكل السطح
♣ أرض شديدة الارتفاع ولها قمة .	الجبل
♣ أرض مرتفعة ومنتسعة ومستوية . ♣ مرتفعات ذات قمم مدببة يقل ارتفاعها عن ١٠٠٠ متر .	الهضبة

♣ أرض مرتفعة قليلاً ولها قمة .	التل
♣ مساحة واسعة من الأرض قليلة الارتفاع مستوية أو شبه مستوية تمتد بطول سواحل البحار والمحيطات .	السهل الساحلى
♣ أرض منخفضة تحت منسوب سطح البحر .	السهل الفيضى
♣ مساحة من الأرض تنخفض عما حولها مثل منخفض القطارة .	المنخفض

أشكال السطح فى مصر

أولاً : المرتفعات : (١) سلسلة جبال البحر الأحمر . (٢) جبال شبه جزيرة سيناء . (٣) جبل العوينات .

ثانياً : الهضاب : (١) هضبة الجلف الكبير . (٢) هضبة مارمريكا .

ثالثاً : السهول

(١) السهول الساحلية : المطلة على البحرين الأحمر والمتوسط وهى متسعة على البحر المتوسط (٢) وضيقة على

البحر الأحمر بسبب امتداد جبال البحر الأحمر بطوله .
(٢) السهول الفيضية : تمتد بطول نهر النيل (الأراضي الممتدة بطول وادى النيل ودلتاه) .

رابعاً : المنخفضات

تعريفها : هى الأراضي الواقعة تحت منسوب سطح البحر .
أشهرها فى مصر : منخفض القطارة (يزيد عمقه على ١٣٠ متر تحت منسوب سطح البحر) .

س : بم تفسر :

(١) تكون السهول الفيضية ؟

ج : بفعل إرسابات النهر .

(٢) ضيق السهول الساحلية بجوار البحر الأحمر ؟

ج : بسبب امتداد جبال البحر الأحمر بالقرب من البحر .

(٣) اتساع السهل الساحلى شمال مصر ؟

ج : لعدم وجود جبال بالقرب من البحر .

معلومات وأنشطة إثرائية :

(١) جبل سانت كاترين : أعلى قمة فى مصر (فى القسم الجنوبى لشبه جزيرة سيناء) يزيد ارتفاعها على ٢٥٠٠ متراً عن منسوب سطح الأرض .

(٢) منخفض القطارة : أقل الأجزاء انخفاضاً يزيد عمقه على ١٣٠ متراً تحت منسوب سطح البحر .

بنك الأسئلة

س ١ : أكمل العبارات الآتية :

- ١ - شكل الأرض يضم المرتفعات مثل الجبال والتلال و
- ٢ - الأرض السهلية إما سهول ساحلية أو سهول
- ٣ - الجبل هو الأرض المرتفعة ولها
- ٤ - السهل الفيضي هو الذي كونه بإرساباته.
- ٥ - السهل الساحلي هو الأراضي المنخفضة بجوار
- ٦ - تضم مصر سلسلة من الهضاب منها هضبة جنوب غربها .
- ٧ - تقع جبال شبه جزيرة سيناء فى مصر .
- ٨ - تتميز السهول الساحلية لمصر المطلة على البحر المتوسط ب

س ٢ : اختر الإجابة الصحيحة مما بين القوسين :

- ١ - الأرض القليلة الارتفاع ولها قمة هى (الدلتا - السهل - الهضبة - التل)
- ٢ - توجد شرق مصر جبال (الجلف الكبير - البحر الأحمر - سيناء - المقطم)
- ٣ - يقع جبل العوينات فى الركن من مصر . (الجنوبي الغربى - الجنوبي الشرقى - الشمالى - الغربى)
- ٤ - أكثر أراضي مصر انخفاضا تحت سطح البحر (سيوة - القطار - الخارجة - الفيوم)
- ٥ - تقع هضبة مارمريكا (شمال سيناء - شمال الصحراء الشرقية - شمال الصحراء الغربية - جنوب مصر)
- ٦ - تنتشر بالصحراء الغربية (السهول الفيضية - الجبال - الأودية - الواحات)
- ٧ - تمتد بطول نهر النيل (السهول الفيضية - السهول الساحلية - الجبال - الأحواض)
- ٨ - الأرض المرتفعة و سطحها مستو أو شبه مستو (الهضاب - التلال - الجبال - السهول)
- ٩ - تمتد بطول ساحل البحر الأحمر (الوادى والدلتا - جبال البحر الأحمر - جبال سيناء - الصحراء الغربية)
- ١٠ - أعلى جبال مصر هو جبل (العوينات - الشايب - حماطة - سانت كاترين)

س ٣ : ضع علامة (✓) أو علامة (x) أمام ما يأتى :

- ١ - يعد جبل سانت كاترين أحد القمم الجبلية بالصحراء الغربية .
- ٢ - يضم سطح مصر السهول بأنواعها والهضاب والجبال والمنخفضات .
- ٣ - السهل الساحلي هو الذي يتكون على جانبي النهر بإرساباته .
- ٤ - جبل العوينات يقع أقصى جنوب شرق الصحراء الغربية .
- ٥ - تتميز السهول الساحلية بجوار البحر الأحمر بقلّة الاتساع .
- ٦ - السهل الفيضي فى مصر يتمثل فى الوادى والدلتا .
- ٧ - ينخفض القطار عما حوله من يابس وعن مستوى البحر .
- ٨ - تقع هضبة الجلف الكبير ومارمريكا فى الصحراء الغربية .
- ٩ - أعلى أجزاء مصر هو جبل العوينات .

س ٤ : اختر من المجموعة (أ) ما يناسب عبارات المجموعة (ب) :


(أ)	(ب)
١ - الجبل	أ - أرض منخفضة بجوار البحار .
٢ - التل	ب - أرض منخفضة كونها النهر بإرساباته .
٣ - الهضبة	ج - ينخفض عما حوله وأحياناً تحت سطح البحر .
٤ - السهل الفيضى	د - أرض مرتفعة سطحها مستو أو شبه مستو .
٥ - المنخفض	هـ - أرض مرتفعة ولها قمة .
	و - أرض قليلة الارتفاع لها قمة .

الوحدة الثالثة : السكان فى بلدى

(١) نمو السكان فى مصر

التعداد السكانى

تعريفه : هو العملية التى تهدف إلى حصر كل السكان وتعرف أعدادهم فى وقت وزمن محدد .



أهميته / فائدته : من خلاله نستطيع أن :

- (١) نحدد احتياجاتنا من المدارس فى جميع مراحلها .
- (٢) نحدد احتياجاتنا من الأراضى الزراعية والمصانع .
- (٣) نحدد احتياجاتنا من الخدمات .
- (٤) نتنبأ بأعداد السكان التى سيصل إليها بلدنا فى المستقبل .

ملاحظات هامة :

- (١) مصر من أوائل الدول التى نفذت نظام التعدادات السكانية فى العصر الحديث .
- (٢) أجرى أول تعداد فى مصر فى عام ١٨٨٢ م .
- (٣) تقوم مصر بعمل تعداد لسكانها مرة كل ١٠ سنوات .
- (٤) بلغ عدد سكان مصر حسب تعداد ١٩٩٦ نحو ٦٠ مليون نسمة .
- (٥) الزيادة الطبيعية : هى الفرق بين المواليد والوفيات أو : هى ارتفاع نسبة المواليد وانخفاض نسبة الوفيات

س : بم نفسر :

(١) تفيدنا التعدادات المختلفة فى التنبؤ بأعداد السكان فى المستقبل ؟

ج : من أجل التخطيط لهذا المستقبل تخطيطاً سليماً .

(٢) تعتبر مصر من الدول التى تتميز بارتفاع نسبة نمو السكان ؟ / معدل نمو السكان سريع فى مصر ؟

ج : لارتفاع نسبة المواليد وانخفاض نسبة الوفيات .

(٣) يختلف نسبة النمو السكانى فى مصر من محافظة إلى أخرى ؟

ج : بسبب الزيادة الطبيعية والهجرة .

(٤) أهمية قيام الدول بالتعداد ؟

ج : لمعرفة احتياجات البلاد من المدارس والغذاء والمصانع والأراضى الزراعية واحتياجات السكان من الخدمات المختلفة وكذلك التنبؤ بعدد السكان فى المستقبل والتخطيط للمستقبل .

الهجرة

تعريفها : هي انتقال الأفراد من مكان إلى آخر .

أنواعها : (١) هجرة داخلية : هي انتقال الأفراد من مكان إلى آخر داخل حدود الدولة .

(٢) هجرة خارجية : هي انتقال الأفراد من دولة إلى أخرى .

أسباب الهجرة الداخلية : (١) البحث عن فرص عمل أفضل (أسباب اقتصادية) .

(٣) التعليم .

وجه المقارنة	المحافظات الجاذبة للسكان	المحافظات الطاردة للسكان
التعريف	هي المحافظات المستقبلية للسكان من مناطق أخرى .	هي المحافظات التي يخرج منها سكانها .
أمثلة	القاهرة – الإسكندرية .	محافظات الحدود – بعض محافظات الصعيد .

س : بم نفسره :

(١) **تعتبر محافظات الحدود المصرية من المحافظات الطاردة للسكان ؟**

ج : بسبب ظروفها المناخية والصحراوية القاسية وقلة الخدمات وفرص العمل .

(٢) **يضطّر سكان أى مكان إلى الهجرة منه إلى أماكن أخرى ؟ / هجرة بعض الأفراد من محافظة إلى أخرى**

؟

ج : للبحث عن فرص عمل أفضل و للتعليم .

(٣) **تهدف مصر إلى إعادة توزيع السكان بين المحافظات المصرية ؟**

ج : للاستفادة من موارد هذه المحافظات .

(٤) **تسعى الدولة إلى تحسين ظروف المعيشة فى المحافظات الطاردة لكى تصبح محافظات جاذبة للسكان ؟**

ج : لتخفيف العبء عن المحافظات الجاذبة ، ولإعادة توزيع السكان فى مصر بشكل يسمح بالاستفادة بكل مواردها .

(٥) **دراسة الدولة أسباب الهجرة الداخلية ؟**

ج : لعلاج أسباب الطرد وتخفيف العبء عن المحافظات الجاذبة للسكان، والعمل على إعادة توزيع السكان بصورة

تسمح بالاستفادة بكل مواردها .

(٦) **اختلاف نمو السكان فى محافظات مصر ؟**

ج : هناك محافظات ينمو سكانها سريعا بسبب الزيادة الطبيعية وانتقال الأفراد إليها وهى المحافظات الجاذبة للسكان

وهناك محافظات ينمو سكانها بمعدل أقل لخروج أبنائها إلى محافظات أخرى وهى المحافظات الطاردة للسكان .

بنك الأسئلة

س ١ : أكمل العبارات الآتية :

١ – آخر تعداد لمصر عام ٢٠٠٦ بلغ عدد السكان حوالي مليون نسمة.

٢ – تقوم مصر بإجراء التعداد السكاني مرة كل.....

٣ – أول تعداد أجرى في مصر كان في عام

- ٤ - قد تحدث الزيادة السكانية بسبب آخر غير الزيادة الطبيعية وهو
- ٥ - المحافظات التي تستقبل المهاجرين من مناطق أخرى تسمى المحافظات
- ٦ - محافظات الحدود وبعض محافظات الصعيد تعتبر محافظات
- ٧ - قيام الدولة بحصر سكانها من حيث أعدادهم وتركيبهم حسب السن والنوع هو

س ٢ : اختر الإجابة الصحيحة مما بين القوسين :

- ١ - يفيد التعداد في معرفة احتياجات البلاد من (المدارس - المصانع - الخدمات - كل ما سبق)
- ٢ - تقوم مصر بإجراء التعداد السكاني مرة كل (٥ سنوات - ١٠ سنوات - ١٥ سنة - ٢٠ سنة)
- ٣ - أول تعداد سكاني لمصر كان مع
(الحملة الفرنسية - الاحتلال البريطاني - حكم محمد علي - ثورة يوليو)
- ٤ - كان عدد سكان مصر في أول تعداد لها عام ١٨٨٢م حوالى
(٧ ملايين - ١٠ ملايين - ١٧ مليونًا - ٢٠ مليونًا)
- ٥ - السبب الرئيسي لزيادة سكان مصر هو (الهجرة - الزيادة غير الطبيعية - الزيادة الطبيعية - التعليم)
- ٦ - من المحافظات الطاردة للسكان (الوادى الجديد - القاهرة - بورسعيد - الإسكندرية)
- ٧ - من أهم أسباب الهجرة داخل مصر الأسباب (السياسية - الثقافية - الاقتصادية - الاجتماعية)
- ٨ - آخر تعداد للسكان تم إجراؤه في مصر عام (٢٠٠٠م - ٢٠٠٢م - ٢٠٠٤م - ٢٠٠٦م)
- ٩ - من المحافظات الجاذبة للسكان (مطروح - الإسكندرية - سوهاج - أسيوط)
- ١٠ - زيادة المواليد عن الوفيات تعتبر
(كثافة سكانية - زيادة طبيعية - زيادة غير طبيعية - كارثة طبيعية)
- ١١ - الزيادة غير الطبيعية تكون نتيجة (زيادة المواليد - زيادة الوفيات - الحروب - الهجرة)

س ٣ : ضع علامة (✓) أو علامة (x) أمام ما يأتي :

- ١ - تقوم مصر بإجراء التعداد مرة كل خمس سنوات .
- ٢ - يشمل التعداد كل المعلومات عن السكان من حيث العدد والسن والنوع والمهنة .
- ٣ - القاهرة من المحافظات الطاردة للسكان .
- ٤ - تؤدي الهجرة الداخلية إلى زيادة عدد السكان في المحافظات المستقبلية .
- ٥ - تعد محافظات الحدود من المحافظات الجاذبة للسكان .
- ٦ - مصر من أقدم الدول التي عرفت نظام التعداد .
- ٧ - معدل النمو السكاني في القاهرة أعلى من معدل النمو في باقي المحافظات .
- ٨ - يفيد التعداد في معرفة احتياجات الحاضر والاستعداد للمستقبل .
- ٩ - السفر للتعليم أحد أسباب الهجرة بين محافظات مصر .
- ١٠ - من أهم أسباب الهجرة داخل مصر غرض البحث عن عمل .

س ٤ : أذكر المفهوم أو المصطلح المناسب للعبارات الآتية :

- ١ - انتقال الأفراد من دولة إلى أخرى .
- ٢ - الفرق بين نسبة المواليد ونسبة الوفيات .
- ٣ - حصر السكان للتعرف على أعدادهم وتركيبهم حسب السن والنوع والمهنة .
- ٤ - محافظة تستقبل القادمين إليها من محافظات أخرى .
- ٥ - محافظة يخرج أبنائها إلى المحافظات الأخرى للبحث عن عمل أو للتعليم .
- ٦ - عملية أقل دقة من التعداد تقوم بها مصر سنويًا لحساب الزيادة السكانية .
- ٧ - انتقال الأفراد من مكان إلى آخر لفترة زمنية محددة .

٨ - انتقال الأفراد من محافظة إلى أخرى للبحث عن عمل أو التعليم داخل الدولة .

(٢) توزيع السكان على خريطة مصر

المنطقة	السكان
الصحارى	مناطق خالية أو شبه خالية من السكان .
الجبال	يندر بها السكان .
وادي النيل ودلتاه	أكثر مناطق مصر ازدحاماً بالسكان .
السواحل المصرية	توجد أعداد متوسطة من السكان على السواحل المصرية سواء على البحر المتوسط أو البحر الأحمر .

ملحوظة هامة

يزداد عدد السكان فى المناطق :

- (١) الغنية بالمياه (أمطار - أنهار - مياه جوفية) .
- (٢) المعتدلة المناخ وسواحل البحار والمحيطات .
- (٣) الغنية بالثروة المعدنية (ينتشر بها النشاط التعدينى الصناعى) .

أى : يزداد عدد السكان فى المناطق الغنية بـ :

(المياه - الأرض الخصبة - المعادن) .

س : بم تفسر :

(١) زيادة أعداد السكان فى المناطق الصناعية ؟

ج : بسبب انتشار النشاط الصناعى وتوافر الخدمات وفرص العمل .

(٢) انخفاض أعداد السكان فى المناطق الرعوية ؟

ج : بسبب الظروف الصحراوية القاسية وقلة المياه والتنقل المستمر .

(٣) زيادة أعداد السكان فى المناطق الغنية بموارد المياه ؟

ج : بسبب قيام الزراعة .

(٤) زيادة أعداد السكان فى وادي النيل ودلتاه ؟

ج : لتوافر المياه والأرض الخصبة الصالحة للزراعة .

(٥) قلة أعداد السكان فى المناطق الحارة ؟

ج : بسبب الظروف المناخية القاسية وعدم تحمل السكان لدرجة الحرارة المرتفعة .

(٦) شبه جزيرة سيناء من المناطق الجاذبة للسكان فى مصر ؟

ج : لأنها غنية بالثروة المعدنية وينتشر بها النشاط التعدينى والصناعى والمشاريع الحديثة وسواحلها الجميلة .

(٧) ندرة السكان أو اختفاءهم فى الصحراء الغربية والشرقية باستثناء الواحات ؟

ج : بسبب انتشار الجبال والظروف الصحراوية الصعبة

(٨) زيادة أعداد السكان على سواحل البحر الأحمر والبحر المتوسط ؟

ج : بسبب اعتدال المناخ وسقوط بعض الأمطار الشتوية .

(٩) قلة السكان شرق مصر ؟

ج : لوجود الجبال ووعورة السطح.

(١٠) تجمع بعض السكان في الصحراء الغربية ؟

ج : لوجود المياه الجوفية في الواحات.

(١١) قلة أعداد السكان غرب مصر ؟

ج : لندرة موارد المياه حيث تشغل الصحراء الغربية معظم الأجزاء الغربية من مصر .

(١٢) اختلاف توزيع السكان في مصر ؟

ج : لاختلاف السطح، حيث يزدحم السكان في الوادي والدلتا، ويقلون فوق الجبال، ويندرون في الصحارى.

بنك الأسئلة

س ١ : أكمل العبارات الآتية :

- ١ - يندر السكان في الصحارى وكذلك فوق
- ٢ - أكثر مناطق مصر ازدحاما بالسكان هي
- ٣ - يتجمع بعض السكان في الصحراء الغربية داخل
- ٤ - يتجمع السكان لاستخراج المعادن مثل بعض مناطق
- ٥ - يتجمع السكان في سواحل البحر الأحمر والبحر المتوسط بأعداد

س ٢ : اختر الإجابة الصحيحة مما بين القوسين :

- ١ - يفضل السكان مناطق
- ٢ - من المناطق نادرة السكان
- ٣ - يتجمع السكان في الوادي والدلتا لوجود
- ٤ - أكثر مناطق مصر ازدحاما بالسكان
- ٥ - يتجمع السكان لوجود الثروة المعدنية في
- ٦ - يكثر السكان في ساحل البحر المتوسط بسبب
- ٧ - توجد أعداد قليلة من السكان في الصحراء الغربية لوجود
- ٨ - يتأثر توزيع السكان في مصر باختلاف

س ٣ : ضع علامة (✓) أو علامة (×) أمام ما يأتي :

- ١ - تجمع السكان في الواحات لوجود الأمطار الغزيرة .
- ٢ - يتوزع السكان في كل أجزاء مصر بصورة متساوية .
- ٣ - يؤثر اختلاف السطح في توزيع السكان .
- ٤ - تنخفض الكثافة غرب مصر لوجود الجبال .
- ٥ - الوادي والدلتا أكثر مناطق مصر ازدحاما بالسكان .

- ٦ - يزداد عدد السكان في المناطق الغنية بالماء العذب .
٧ - يتجمع السكان في سيناء في مناطق الثروة المعدنية .
٨ - توجد أعداد قليلة من السكان في الصحراء الشرقية لوجود الواحات .

س ٤ : اختر من المجموعة (أ) ما يناسب عبارات المجموعة (ب) :

(أ)	(ب)
١ - الوادي والدلتا ٢ - سيناء ٣ - الصحراء الغربية ٤ - ساحل البحر المتوسط ٥ - جبال البحر الأحمر	أ - ينذر بها السكان لوعورة السطح . ب - يتجمع به السكان لاعتدال المناخ . ج - ينذر السكان لوجود الغابات . د- يتجمع بها السكان حيث الثروة المعدنية . هـ - يعدان أكثر مناطق مصر سكاناً . و- يتركز السكان داخلها في الواحات .

(٣) كثافة السكان في مصر

الكثافة السكانية :

تعريفها : هي قسمة عدد السكان على جملة المساحة .

مثال : إذا كان عدد سكان مصر ٧٨.٧ مليون نسمة و مساحة مصر مليون كيلومتر مربع فإن :

$$\text{كثافة السكان} = \frac{٧٨.٧٠٠٠٠٠}{١٠٠٠٠٠٠} = ٧٨.٧ \text{ نسمة في الكيلو متر المربع .}$$

ملاحظات هامة :

(١) تختلف كثافة السكان من مكان لآخر تبعاً لاختلاف طبيعة سطح الأرض حيث :

♣ يقلون : في الصحارى والجبال .

♣ يكثرون : في السهول والأودية .

(٢) محافظة مطروح : تمتد معظم مساحتها داخل الصحراء الغربية ولكنها تمتد أيضاً على ساحل البحر المتوسط

(٣) محافظة البحر الأحمر : تضم جبال البحر الأحمر وتمتد أيضاً بطول ساحله .

(٤) محافظة كفر الشيخ :

♣ تقع على فرع رشيد وساحل البحر المتوسط .

♣ عدد سكانها : ٢.٧ مليون نسمة .

♣ أرضها : خصبة وبها مياه عذبة ولا يوجد بها جبال .

س : بم تفسر :

(١) ارتفاع الكثافة في الوادي والدلتا ؟

ج : بسبب ازدهام السكان لوجود نهر النيل والتربة الخصبة وقيام الزراعة .

(٢) لا تدل الكثافة العامة على توزيع السكان في مصر ؟

ج : لأن الكثافة العامة منخفضة ٧٥ نسمة في كم ٢ في حين هناك مناطق تصل الكثافة إلى آلاف النسمات في كم ٢ ، كذلك هناك مناطق نادرة السكان .

(٣) انخفاض الكثافة فى محافظة الوادى الجديد ؟

ج : لاتساع المساحة وقلة السكان لقلة موارد المياه .

(٤) القاهرة والإسكندرية من المحافظات المرتفعة الكثافة جدا ؟

ج : لأنها من المحافظات الجاذبة للسكان لتوافر فرص العمل بهما يأتى آلاف المهاجرين من المحافظات الأخرى ، ولقيام الصناعة والتجارة وتركز الخدمات .

بنك الأسئلة

س ١ : أكمل العبارات الآتية :

- ١ - قدر عدد سكان مصر عام ٢٠٠٨ م بحوالى مليون نسمة .
- ٢ - الكثافة العامة للسكان هي جملة السكان على جملة
- ٣ - أعلى محافظات مصر كثافة هي التي تقع فى و
- ٤ - عند حساب الكثافة الفعلية تحذف المناطق
- ٥ - الكثافة العامة لمصر أو الحسابية عام ٢٠٠٨ م حوالى

س ٢ : اختر الإجابة الصحيحة مما بين القوسين :

- ١ - قدرت الكثافة العامة لمصر عام ٢٠٠٨ م بحوالى
- (٧٥ نسمة كم ٢ - ٧٥٠ نسمة كم ٢ - ١٧٥٠ نسمة كم ٢)
- ٢ - تعد من أعلى محافظات مصر كثافة (الوادى الجديد - البحر الأحمر - سيناء - بورسعيد)
- ٣ - تنخفض الكثافة فى محافظة (القاهرة - الإسكندرية - مطروح - الجيزة)
- ٤ - لحساب الكثافة الفعلية تحذف المناطق
- (المأهولة بالسكان - المزدحمة بالسكان - المعتدلة الحرارة - غير المأهولة بالسكان)
- ٥ - هذه المحافظات مرتفعة الكثافة عدا (القليوبية - أسيوط - سيناء - القاهرة)
- ٦ - قدر عدد سكان مصر بـ ٧٥ مليون نسمة عام (٢٠٠٥ م - ٢٠٠٦ م - ٢٠٠٧ م - ٢٠٠٨ م)
- ٧ - قسمة عدد السكان على المساحة الكلية هي (الكثافة العامة - الكثافة الفعلية - التعداد - النمو السكانى)

س ٣ : ضع علامة (✓) أو علامة (×) أمام ما يأتى :

- ١ - يتساوى توزيع كثافة السكان فى مصر .
- ٢ - تصل الكثافة العامة لمصر عدة آلاف فى الكيلو متر المربع .
- ٣ - تنخفض الكثافة فى محافظات الحدود لاتساع المساحة .
- ٤ - تعد القاهرة من أعلى محافظات مصر كثافة .
- ٥ - تتميز مناطق الوادى والدلتا بانخفاض الكثافة .
- ٦ - تحسب الكثافة الفعلية بقسمة عدد السكان على المساحة الكلية .
- ٧ - يؤثر اختلاف السطح فى الكثافة السكانية .
- ٨ - قدر عدد سكان مصر عام ٢٠٠٨ م بحوالى ٨٥ مليون نسمة .
- ٩ - تنخفض الكثافة ويندر السكان غرب مصر .
- ١٠ - تنوع الموارد الطبيعية يؤدى إلى جذب السكان وارتفاع الكثافة .
- ١١ - تفيد الكثافة العامة فى التعرف على توزيع السكان فى مصر .

س ٤ : أذكر المفهوم أو المصطلح المناسب للعبارات الآتية :

- ١ - عدد السكان الذين يعيشون فوق وحدة مساحة من الأرض .
- ٢ - ناتج قسمة عدد السكان على المساحة الكلية .
- ٣ - ناتج قسمة عدد السكان على المساحة بعد حذف المناطق غير المأهولة بالسكان .

الوحدة الرابعة : نشأة الحضارة المصرية القديمة درس تمهيدى : معلومات تاريخية



الإنسان قبل معرفة الكتابة :

س : من أين نعرف أخبار الذين عاشوا قبل معرفة للإنسان للكتابة ؟

ج : من خلال ما تركوه من آثار .


قسم المؤرخون تاريخ الإنسانية إلى :

(١) عصور ما قبل التاريخ : هي الفترة الزمنية التي عاش بها الإنسان

(٢) قبل معرفة الكتابة .

(٢) العصور التاريخية : تبدأ عندما توصل الإنسان إلى معرفة الكتابة .

عصور ما قبل التاريخ



(١) العصر الحجري القديم

في هذا العصر كانت الأدوات التي استخدمها الإنسان من الحجر واستخدم الحجر كما هو أو حاول نحته ببساطة .

هو إزالة بعض الأجزاء من الحجر .

النحت



(٢) العصر الحجري الحديث

في هذا العصر كانت الأدوات التي استخدمها الإنسان من الحجر ولكن تعلم نحت الحجارة بدقة وطوعها حسب استخداماته .

(٣) عصر المعادن

(أ) عصر البرونز



في هذا العصر صنع الإنسان أدواته من معدن البرونز (نحاس + قصدير) مما جعل الأدوات أكثر صلابة .

(ب) عصر الحديد :

فى هذا العصر صنع الإنسان أدواته من الحديد .


معرفة الإنسان للكتابة

س : بم تفسر : للمصريين القدماء فضل كبير على الإنسانية ؟

ج : لأنهم أسهموا فى التوصل إلى الكتابة الهيروغليفية واستخدموها فى تسجيل مظاهر حياتهم .

مراحل تطور الكتابة :

(١) الصور (إنسان - حيوانات - طيور - الأفرح - المناسبات المختلفة)
(٢) الحروف الهجائية (اللغة الهيروغليفية) .



ملاحظات هامة :

- (١) ساعدت الكتابة الهيروغليفية المصريين القدماء على تسجيل أحداثهم وأخبارهم وما وصلوا إليهم من تقدم فى مختلف المجالات (الطب - العلوم - الهندسة - الفلك - الكيمياء - الأدب)
- (٢) تطورت الكتابة الهيروغليفية إلى الكتابة الهيراطيقية ثم إلى الكتابة الديموطيقية .
- (٣) ساعد اكتشاف حجر رشيد على فك رموز الكتابة الهيروغليفية ومن ثم معرفة تاريخ مصر القديم .
- (٤) الكتابة الهيروغليفية : هى الكتابة التى عبر بها المصرى القديم عن أفكاره بواسطة الصور وسجل بها أخباره على جدران المعابد واللوحات الحجرية والخشبية والنصوص الدينية .
- (٥) حجر رشيد: يوجد فى المتحف البريطانى ويشتمل على :
[١٤ سطرا بالكتابة الهيروغليفية - ٣٢ سطرا بالكتابة الديموطيقية - ٤٥ سطرا بالكتابة الإغريقية اليونانية القديمة] .

(١) استقرار الإنسان المصرى فى الوادى

حياة التنقل والترحال :



- كان الإنسان فى العصور القديمة :
- (١) يعيش فوق الهضاب ولا يستقر فى مكان واحد (حياة غير مستقرة) .
 - (٢) دائم التنقل والترحال للبحث عن الغذاء وصيد الحيوانات ويأوى إلى الكهوف (حياة مملوءة بالخوف والقلق) .

هو فجوة داخل الجبل استخدمها الإنسان قديماً لىنام فيه .

الكهف :

س : بم تفسر :

(١) كان الإنسان فى العصور القديمة دائم التنقل والترحال ؟

ج : للبحث عن الغذاء وصيد الحيوانات للارتفاع بها .

(٢) كان الإنسان فى العصور القديمة يصيد الحيوانات ؟

ج : للارتفاع بها .

(٣) لجأ المصري القديم إلى الكهوف ؟

ج : لينام فيها ويحتمى بها من برودة الليل وحرارة الشمس ومن الحيوانات المفترسة .

حياة الاستقرار :

- (١) عندما قل سقوط المطر وساد الجفاف واختفت النباتات وتحولت الهضاب إلى صحراء جرداء لا زرع فيها ولا ماء اضطر الإنسان والحيوان إلى هجرة الهضاب والنزول إلى وادي النيل بحثاً عن الماء والغذاء .
- (٢) في وادي النيل عرف الإنسان المصري الزراعة واستأنس الحيوان وبدأ في بناء المساكن من الطين وغطى سقفها بالبيوس ثم من الطين اللين .

نشأة القرى والمدن :

مع مرور الزمن كثرت المباني وظهرت التجمعات البشرية (قبائل - قرى) .

س : ما النتائج المترتبة على : معرفة المصري القديم للزراعة ؟

ج : (١) الاستقرار في المكان : للقيام بأعمال الزراعة .

(٢) بناء المساكن : للإقامة فيها قرب مناطق الزراعة وتكوين أسرة .

(٣) التعاون : القيام بأعمال الزراعة يتطلب تعاون الناس مع بعضهم البعض .

(٤) المسؤولية : شعر الإنسان بالمسؤولية عن زراعته ونحو أسرته وجيرانه .

(٥) الانتماء : من خلال تكوين الأسرة والتعاون مع الآخرين شعر الإنسان بأنه جزء من الجماعة .

(٦) الولاء : نتيجة لاستقرار أحب الإنسان الأرض التي عاش عليها وتكون لديه ولاء لها ولمن حوله

س : ليم تفسر :

(١) نزول المصري القديم إلى وادي النيل ؟

ج : بحثاً عن الماء والغذاء وللهرب من الجفاف .

(٢) استقرار المصري القديم في وادي النيل بعد أن عرف الزراعة ؟

ج : لرعاية المحاصيل والنباتات التي يقوم بزراعتها والحفاظ عليها .

(٣) اتجاه المصري القديم إلى بناء المساكن ؟

ج : للإقامة فيها قرب مناطق الزراعة وتكوين أسرة .

(٤) تبدل حياة المصري القديم من التنقل والترحال إلى الاستقرار ؟

ج : لأنه عندما هبط المصري القديم إلى وادي النيل عرف الزراعة واستأنس الحيوان وبنى المساكن فتبدلت حياته من التنقل والترحال إلى الاستقرار .

(٥) الحاجة إلى التعاون بين الأفراد في وادي النيل ؟

ج : لأن زراعة النباتات المختلفة كانت تحتاج العناية أثناء نموها وعند حصادها .

(٦) أهمية الزراعة للإنسان المصري القديم ؟

ج : لأنها بدلت حياته من التنقل والترحال إلى الاستقرار وتعلم التعاون والمشاركة في أعمال الزراعة وبناء المساكن للإقامة فيها .

ملحوظة هامة :

تطورت حياة الإنسان فصنع :



(١) أدوات : استخدمها فى الزراعة (مثل المحراث) .

(٢) ملابس : من الكتان وجلود الحيوانات .

(٣) الأوانى : من الفخار (واستخدمها فى طهى الطعام وحفظه) .

(٤) بعض التماثيل : من الطين والصلصال .

البعث والخلود :

اعتقد المصري القديم أنه سوف يبعث بعد الموت ليحيا حياة الخلود ولذلك كان يهتم بـ

(١) تحنيط جثة الميت .

(٢) يدفن مع الميت الطعام والشراب والملبس وبعض الأدوات التى كان يستخدمها فى حياته ليستخدمه فى القبر .

بعض المفاهيم

♣ هو اعتقاد دينى عند قدماء المصريين ومعناه أن الإنسان سوف يحيا بعد موته (البعث) ويعيش حياة أبدية (الخلود) .	بعث وخلود
♣ عملية يقصد بها حفظ الجسم سليماً بمظهره وشكله بعد الموت ، وقد برع فيه المصريون لاعتقادهم فى البعث والخلود .	تحنيط
♣ أرض منخفضة بين منطقتين مرتفعتين .	الوادي
♣ مجرى من الماء العذب .	النهر

س : بم تفسر : قيام المصري القديم بتحنيط جثث الموتى ؟

ج : للحفاظ على الجسد سليماً لإيمانهم بالبعث والخلود .

س : ما النتائج المترتبة على :

(١) توقف الأوهطليادة الجفاف فوق الهضاب قديم ؟

ج : هبوط الإنسان والحيوان إلى وادى النيل للبحث عن الماء والغذاء .

(٢) ترك المصري القديم للهضبة والهبوط إلى وادى النيل ؟

ج : تعلم الإنسان الزراعة واستئناس الحيوان والاستقرار بعد حياة التنقل والترحال وكذلك قام بإنشاء المساكن .

(٣) الاعتقاد فى البعث والخلود ؟

ج : الاهتمام بالحفاظ على جسد الميت سليماً عن طريق التحنيط وترك الطعام والشراب والملابس مع الميت داخل المقبرة .

بنك الأسئلة

س ١ : أكمل العبارات الآتية :

١ - فوق الهضاب عاش المصري القديم وكان دائم و.....

٢ - كان المصري القديم فوق الهضاب يأوى إلى ليلاً .

٣ - عندما حل الجفاف فوق الهضاب هبط المصري القديم إلى

٤ - فى وادى النيل تبدلت حياة المصري القديم من التنقل والترحال إلى

- ٥ - فى الوادى كثر المبانى وظهرت القبائل وظهرت
 ٦ - صنع المصرى القديم ملبسه من جلود الحيوان و
 ٧ - احتاجت عمليات الزراعة قيام بين الناس .
 ٨ - صنع المصرى القديم الأوانى من

س ٢ : اختر الإجابة الصحيحة مما بين القوسين :

- ١ - عندما عاش الإنسان فى وادى النيل
 (عرف الزراعة - استأنس الحيوان - بنى المساكن - كل ما سبق)
 ٢ - لإعداد الطعام وحفظه صنعت الأوانى من (الأخشاب - البرونز - الفخار - الحديد)
 ٣ - كانت الملابس تصنع قديماً من الكتان أو (القطن - الحرير - الصوف - جلود الحيوانات)
 ٤ - عندما كان المصرى القديم فوق الهضاب كان يعمل بـ
 (الزراعة - صيد الحيوانات - الصناعة - صيد الأسماك)
 ٥ - كانت حياة المصرى القديم فوق الهضاب تتميز بـ (الاستقرار - النجاح - الخوف والقلق - السعادة)
 ٦ - عندما حل الجفاف فوق الهضاب هبط المصرى إلى
 (الواحات - وادى النيل - ساحل البحر - الأحواض)
 ٧ - فى وادى النيل بنى المصرى مسكنه من (الطين - الأحجار - الأخشاب - الصفيح)
 ٨ - شعور الإنسان أنه جزء من الجماعة هو (الاستقرار - التعاون - المسئولية - الانتماء)
 ٩ - لإيمان المصرى بالبعث والخلود كان يقوم بـ (حرق الموتى - تحنيط الموتى - عدم دفن الموتى)
 ١٠ - بدأ استقرار الإنسان بعد معرفة (صيد الحيوانات - الصناعة - الرعي - الزراعة)
 ١١ - كان المصرى القديم يعيش حياة التنقل والترحال فى (الوادى - الهضاب - الدلتا - الواحات)
 ١٢ - فى الوادى تطورت حياة الإنسان وصنع أدوات استخدمها فى
 (الحروب - الزراعة - الصناعة - التجارة)

س ٣ : ضع علامة (✓) أو علامة (x) أمام ما يأتى :

- ١ - عاش المصرى القديم فوق الهضاب حياة مملوءة بالخوف والقلق .
 ٢ - عمل المصرى القديم بالزراعة فوق الهضاب معتمداً على ماء الأمطار .
 ٣ - خوفاً من الحيوانات المفترسة وللاحتماء من برد الليل كان المصرى القديم يأوي إلى فتحات داخل الجبال .
 ٤ - بعد أن حل الجفاف بالهضاب هبط المصرى القديم إلى ساحل البحر المتوسط .
 ٥ - فى وادى النيل تبدلت حياة المصرى من التنقل والترحال إلى الاستقرار .
 ٦ - احتاجت الزراعة تعاون الأفراد أثناء نمو المحاصيل وجني الثمار .
 ٧ - ساعدت الزراعة على استقرار الإنسان وبناء المساكن والتعاون .
 ٨ - قام المصرى القديم بصناعة ملبسه فى أماكن خاصة خارج المساكن .
 ٩ - استخدم المصرى القديم القطن والصوف فى صناعة الملابس .
 ١٠ - كان المصرى القديم يضع الطعام والشراب والملبس داخل القبر مع الميت .
 ١١ - للقيام بالزراعة كان لا بد من تكاتف وتعاون الناس مع بعضهم البعض .
 ١٢ - بنى المصرى القديم مسكنه فوق الهضاب من الطوب اللبن .
 ١٣ - اهتم المصرى القديم بتحنيط جثث الموتى إيماناً بالبعث والخلود .
 ١٤ - عاش المصرى القديم حياة التنقل والترحال فى وادى النيل .
 ١٥ - ظل الإنسان المصرى القديم فوق الهضاب رغم سيادة الجفاف .
 ١٦ - نشأت القرى والمدن من تجمع القبائل والأسر .

س ٤ : أذكر المفهوم أو المصطلح المناسب للعبارات الآتية :

- ١ - عملية حفظ جسد الميت بمظهره وشكله بعد الموت .
- ٢ - فتحة طبيعية داخل الجبال يأوي إليها الإنسان في حالة الخوف والقلق .
- ٣ - حب الإنسان للأرض التي عاش فيها .
- ٤ - عدم الاستقرار في مكان معين والبحث عن الغذاء .
- ٥ - العودة إلى الحياة بعد الموت .
- ٦ - الاستمرار في الحياة بعد البعث من الموت .
- ٧ - شعور الإنسان بأنه جزء من الجماعة .
- ٨ - بناء المساكن والإقامة في مناطق الزراعة .

(٢) الوحدة بين أقاليم مصر القديمة



مراحل تحقيق الوحدة :

(١) المرحلة الأولى

بعد استقرار المصريين القدماء


في وادي النيل :

- (١) كونوا عائلات وقبائل وتكونت القرى والمدن .
- (٢) اتخذت كل قرية وكل مدينة معبوداً لها من الطبيعة (الشمس - النيل - طائر من الطيور) .
- (٣) اتحدت القرى والمدن وكونت أقاليم (كان لكل إقليم حاكمه وعاصمته وجيشه ومعبوده وشعاره) .
- (٤) اتحدت الأقاليم وكونت مملكتين :

مملكة الجنوب	مملكة الشمال
<ul style="list-style-type: none"> ☉ ضمت أقاليم الوجه القبلي . ☉ عاصمتها نخب (قرب إدفو بمحافظة أسوان) . ☉ كان ملكها يلبس تاجاً أبيض . ☉ شعارها : زهرة اللوتس . 	<ul style="list-style-type: none"> ☉ ضمت أقاليم الوجه البحري . ☉ عاصمتها مدينة بوتو (قرب دسوق) . ☉ كان ملكها يلبس تاجاً أحمر . ☉ شعارها : نبات البردي .

(٥) قامت عدة محاولات لتوحيد مملكة الشمال ومملكة الجنوب في دولة موحدة ونجحت محاولة في ٤٢٤٢ ق . م (قبل ميلاد السيد المسيح عليه السلام) وتم توحيد البلاد تحت سيطرة حكومة مركزية موحدة واتخذت الدولة الموحدة من مدينة أون هليوبوليس (عين شمس حالياً) عاصمة لها .

(٦) سرعان ما انقسمت البلاد مر أخرى إلى مملكتين مملكة في الشمال و مملكة في الجنوب .



(٢) المرحلة الثانية

الملك مينا (نارمر) :

- (١) خرج من مدينة طيبة (الأقصر حالياً) ونجح في توحيد البلاد سنة ٣٢٠٠ ق . م .
- (٢) سجل هذا النصر العظيم على لوحة تعرف باسم (لوحة نارمر أو اللوحة ذات الوجهين) .
- (٣) أسس الأسرة الفرعونية الأولى .
- (٤) لبس تاجاً مزدوجاً يتكون من تاج الشمال والجنوب .
- (٥) اتخذ من منف عاصمة للبلاد .



أهم إنجازات الملك مينا :

- (١) بناء قلعة (من نفر) سماها العرب بعد ذلك (منف) لتكون عاصمة للبلاد وبني حولها سوراً أبيض .
(٢) تكوين جيش قوى لحماية البلاد من الأعداء .

س : بم تفسر :

- (١) ارتداء الملك مينا التاج المزدوج ؟
ج : لتكون دليل انتصاره وتوحيد المملكتين تحت حكمه .

- (٢) بناء الملك مينا مدينة منف أو من نفر ؟
ج : حتى تكون عاصمة البلاد الموحدة واختار لها موقعاً متوسطاً بين مملكتي الشمال والجنوب .

- (٣) تكوين الهيكلنا جيشاً قويا ؟
ج : لحماية البلاد من الأعداء .

بعض المفاهيم

عاصمة	أكبر مدن الدولة بها مقر الحاكم والحكومة .
إقليم	مكان يضم مجموعة من القرى والمدن في مصر القديمة وكان له حاكم مستقل .
حكومة مركزية	تركيز السلطة في يد الحاكم ومعاونيه ومقرها العاصمة .
وحدة	إتحاد مجموعة من الأقاليم أو الدول في دولة واحدة لها حاكم واحد وحكومة مركزية واحدة .
أسرة	الخلية الأولى في المجتمع وتتكون من الأب والأم والأبناء .

بنك الأسئلة

س ١ : أكمل العبارات الآتية :

- ١ - كون الملك مينا جيشاً لحماية البلاد .
٢ - اتخذت القرى والمدن في المرحلة الأولى من الوحدة معبودات من
٣ - اتحدت مملكة الجنوب من القرى والمدن الموجودة في الوجه
٤ - مدينة بوتو عاصمة مملكة الشمال كانت تقع قرب حالياً .
٥ - نجحت المحاولة الأولى للوحدة في ٢٤٢٤ قبل ميلاد
٦ - الاسم الثاني للملك مينا هو الملك
٧ - أول شعب حقق الوحدة لبناء الحضارة هو الشعب

س ٢ : اختر الإجابة الصحيحة مما بين القوسين :

- ١ - زهرة اللوتس كانت شعار
(مملكة الشمال - مملكة الدلتا - مملكة مصر الوسطى - مملكة الجنوب)

- ٢ - مدينة طيبة حاليا هي مدينة (الجيزة - البدرشين - الأقصر - أسوان)
- ٣ - ضمت مملكة الشمال أقاليم (مصر الوسطى - مصر العليا - الدلتا - الصعيد)
- ٤ - كان تاج مملكة الجنوب لونه (أبيض - أحمر - أصفر - أزرق)
- ٥ - مصطلح ق.م يعني (قبل توحيد مينا - قبل التاريخ - قبل معرفة الكتابة - قبل ميلاد السيد المسيح)
- ٦ - شعار مملكة الشمال كان (عباد الشمس - نبات البردي - زهرة اللوتس - نبات القمح)
- ٧ - عاصمة مملكة الجنوب هي (نخب - طيبة - منف - بوتو)
- ٨ - أول محاولة لتوحيد البلاد اتخذت عاصمة لها مدينة (نخب - طيبة - أون - بوتو)
- ٩ - مينا أو نارمر خرج من مدينة (نخب - طيبة - منف - أون)
- ١٠ - بنى الملك مينا حول منف (قلعة بيضاء - خندقًا - حدائق خضراء - سورًا أبيض)
- ١١ - استطاع الملك مينا توحيد البلاد عام ق.م (٤٤٢٠ - ٣٢٠٠ - ٢٢٢٠ - ٢٣٠٠)
- ١٢ - أطلق العرب اسم منف على مدينة (بوتو - من نفر - من رع - من حوتب)
- ١٣ - يعد الملك مينا مؤسس الأسرة الفرعونية (الأولى - الثانية - الثالثة - الرابعة)
- *****

س ٣ : ضع علامة (✓) أو علامة (x) أمام ما يأتي :

- ١ - مملكة الشمال كانت عاصمتها نخب قرب إدفو حاليا .
- ٢ - قام الملك مينا بإنشاء حكومة مركزية في العاصمة طيبة .
- ٣ - كانت المحاولة الأولى لتوحيد البلاد هي محاولة الملك مينا .
- ٤ - حساب السنين قبل ميلاد السيد المسيح كان يسير باتجاه متناقص .
- ٥ - تتوسط منف مملكة الوجه البحري والوجه القبلي .
- ٦ - لون تاج مملكة الشمال أبيض .
- ٧ - اتخذ المصريون القدماء من قوى الطبيعة معبودًا لهم .
- ٨ - الاتحاد والقوة يؤديان إلى بناء الحضارة .
- ٩ - ظل الملك مينا يرتدي تاج مملكة الجنوب .
- ١٠ - كان لكل مملكة حاكم وعاصمة وجيش ومعبود .
- *****

س ٤ : أذكر المفهوم أو المصطلح المناسب للعبارات الآتية :

- ١ - زهرة اتخذتها مملكة الجنوب شعارًا لها .
- ٢ - لوحة سجل عليها الملك مينا انتصاراته .
- ٣ - الاسم القديم لعين شمس .
- ٤ - مدينة أنشأها الملك مينا عاصمة للبلاد .
- ٥ - تجمع القرى والمدن تحت قيادة واحدة .
- ٦ - حكومة تدير شئون الحكم من العاصمة الموحدة .
- ٧ - المدينة التي يعيش فيها الحاكم وتكون مركز الحكم .
- *****

س ٥ : قارن بين مملكة الشمال ومملكة الجنوب من حيث :

- ١ - الأقاليم التي تضمها .
- ٢ - العاصمة .
- ٣ - لون التاج .
- ٤ - الشعار .
- *****

(٣) عوامل قيام الحضارة المصرية القديمة

(١) نهر النيل

- كان السبب الأول فى قيام الحضارة المصرية القديمة فعلى ضفافه :
❖ استقر الإنسان المصرى قديماً .
❖ عرف الزراعة .
❖ تكونت الأسرة والقبيلة .

(٢) الموقع الجغرافى

- تتمتع مصر بموقع جغرافى متميز حيث :
❖ تقع فى وسط قارات العالم القديم (آسيا - إفريقيا - أوروبا) .
❖ تطل على بحرين مهمين هما : البحر المتوسط والبحر الأحمر .

(٣) المناخ :

- انعم الله على مصر بمناخ معتدل :
❖ فى الصيف : حار جاف .
❖ فى الشتاء : دافئ ممطر .

(٤) الموارد الطبيعية

- انعم الله على مصر بموارد طبيعية متنوعة ساعدت على قيام صناعات متنوعة :
❖ فى أرضها : خيرات كثيرة .
❖ فى باطن أرضها : معادن كثيرة (النحاس - القصدير - البرونز - الذهب - الفضة - الرصاص) .
❖ بها صخور متنوعة : (رخام - جرانيت) .

(٥) الوحدة

- أدى قيام الوحدة والاتحاد بين الأقاليم إلى :
(١) نشر الأمن والطمأنينة بين الناس .
(٢) انتهاء الصراعات بين القرى والمدن والأقاليم .
(٣) إتاحة الفرصة للاهتمام بالزراعة والصناعة .
(٤) التقدم والرقى الحضارى .
(٥) قيام حكومة مركزية لخدمة الشعب وتصريف أمورهم وتنظيم حياتهم .

(٦) الجيش

- ساعد قيام الوحدة على بناء جيش قوى لـ :
(١) حماية البلاد .
(٢) الدفاع عنها ضد أى معتد .

س : بم تفسر

(١) تنوع المحاصيل الزراعية فى مصر ؟

ج : لاختلاف المناخ بين الصيف والشتاء . أو : نتيجة اعتدال المناخ وتنوعه، حار جاف صيفا ومعتدل ممطر شتاء.

(٢) أهمية نهر النيل لقيام الحضارة المصرية القديمة ؟

ج : لأنه السبب الأول في قيام الحضارة المصرية القديمة، فعلى ضفافه استقر الإنسان المصري وعرف الزراعة وتكونت الأسرة والقبيلة والقرى والمدن .

(٣) تمييز مصر بموقع جغرافي متميز ؟

ج : لأنها تتوسط قارات العالم القديم وتطل على بحرين هامين المتوسط والأحمر .

(٤) قيام الصناعات المتنوعة في مصر ؟

ج : لتوافر الموارد الطبيعية المتنوعة مثل معادن: النحاس والقصدير والبرونز والذهب والفضة، وكذلك الصخور الاقتصادية مثل : الرخام والجرانيت.

(٥) سيادة الأمن والطمأنينة بين الناس ؟

ج : نتيجة انتهاء الصراعات بين القرى والمدن والأقاليم وقيام الوحدة والاتحاد بين الأقاليم ووجود حكومة مركزية لخدمة الشعب .

س : ما النتائج المترتبة على :

(١) الاتحاد بين الأقاليم ؟

ج : نشر الأمن والطمأنينة بين الناس وانتهاء الصراعات بين القرى والمدن والأقاليم.

(٢) وجود جيش قوى ؟

ج : الدفاع عن البلاد وحمائتها والحفاظ على وحدتها .

(٣) اعتدال واختلاف المناخ فى مصر ؟

ج : قيام الزراعة وتنوع المحاصيل الزراعية ووفرتها .

(٤) وفرة الموارد الطبيعية ؟

ج : قيام الصناعات المتنوعة .

بنك الأسئلة

س ١ : أكمل العبارات الآتية :

١ - ساعد قيام الوحدة على بناء قوي لحماية البلاد .

٢ - تتوسط مصر قارات العالم

٣ - تتميز مصر بمناخ معتدل حار صيفاً .

٤ - من الصخور الاقتصادية الهامة في مصر الرخام و

٥ - أدت الوحدة بين الأقاليم إلى قيام حكومة مركزية لخدمة

٦ - كان السبب الأول لقيام الحضارة المصرية وجود

س ٢ : اختر الإجابة الصحيحة مما بين القوسين :

١ - تتوسط مصر قارات إفريقيا وآسيا و (أوروبا - أستراليا - أمريكا الشمالية - أمريكا الجنوبية)

٢ - استقر الإنسان المصري القديم على ضفاف النيل لممارسة (الرعى - الزراعة - الصيد - الصناعة)

٣ - من الصخور الاقتصادية في مصر (الرخام - الذهب - النحاس - الرصاص)

٤ - من عوامل قيام الحضارة المصرية القديمة (نهر النيل - الموقع - المناخ - كل ما سبق)

٥ - تطل مصر على بحرين هما

(المتوسط والأسود - المتوسط والأحمر - الأحمر والأسود - الأسود والعربي)

٦ - وجود معادن وصخور اقتصادية ساعد على قيام مهنة (الزراعة - الصيد - الصناعة - الرعي)
٧ - مناخ مصر دافئ ممطر في فصل (الربيع - الخريف - الشتاء - الصيف)

س ٣ : ضع علامة (✓) أو علامة (×) أمام ما يأتي :

- ١ - مناخ مصر المعتدل ساعد على قيام الحضارة المصرية .
- ٢ - تتوسط مصر قارات العالم الجديد .
- ٣ - مناخ مصر حار ممطر صيفا .
- ٤ - ساعدت الموارد الاقتصادية والصخور على قيام الصناعة .
- ٥ - من عوامل قيام الحضارة المصرية الجيش والوحدة .
- ٦ - قامت الزراعة في مصر تعتمد على المياه الجوفية والأمطار .

س ٤ : اختر من المجموعة (أ) ما يناسب عبارات المجموعة (ب) :

(أ)	(ب)
١ - ساعد في تنوع المحاصيل الزراعية ٢ - أدت إلى قيام حكومة مركزية ٣ - ساعد في استقرار الإنسان المصري القديم ٤ - ساعد في الدفاع عن البلاد ٥ - ساعد في قيام الصناعات المتنوعة	أ - نهر النيل . ب - الجيش . ج - الموارد الطبيعية . د - المناخ . هـ - الوحدة . و - النبات الطبيعي .

ملخص المنهج

تدريبات على منهج الدراسات الاجتماعية

اكتب مصطلح جغرافيا لكل مما ياتي:

مقياس الرسم	١ . النسبة بين المسافة على الخريطة ومايقابله على الطبيعه
البيئه	٢ . كل مايحيط بالانسان من ماء وهواء وارض
الجهات الاصليه	٣ . الشمال والجنوب والشرق والغرب
نخب	٤ . عاصمة مملكة الجنوب
النبات الطبيعي	٥ . نبات ينمو تلقائيا دون تدخل الانسان
اتجاه الشمال	٦ . سهم يرسم على الخريطة يساعدنا على تحديد الجهات الاصلية
الجبال	٧ . ارض شديدة الارتفاع ولها قمه
حجر رشيد	٨ . حجر كان السبب فى فك رموز اللغة الهيروغليفية
الدراسات الاجتماعيه	٩ . المواد الدراسيه التى تهتم بدراسة الانسان وعلاقته بالبيئه
التضاريس	١٠ . شكل الارض بما تتضمنه من جبال وتلال وهضاب وسهول
الزيادة الطبيعيه	١١ . ارتفاع نسبة المواليد وانخفاض نسبة الوفيات
عصور ما قبل التاريخ	١٢ . الازمنة التى عاش فيها الانسان قبل معرفة الكتابة
راس الرجاء الصالح	١٣ . طريق سلخته القوافل التجارية قديما قبل حفر قناة السويس
المنخفضات	١٤ . مساحة من الارض منخفضة عما حولها
قناة السويس	١٥ . قناة ربطت بين البحرين المتوسط والاحمر
المناخ	١٦ . دراسة حالة الجو فى فترة طويله
اون هليوبوليس (عين شمس حاليا)	١٧ . عاصمة مصر الموحدة عام ٤٢٤٢ ق.م
التحنيط	١٨ . عملية يقصد بها حفظ الجسم سليما محتفظا بمظهره
التعداد السكاني	١٩ . عمليه حصر السكان للتعرف على اعدادهم وتركيبهم
السهول الفيضيه	٢٠ . السهول التى تقع على طول نهر النيل
نبات البردى	٢١ . الشعار الذى اتخذته مملكة الشمال
محافظات جاذبه	٢٢ . محافظات مستقبله للمهاجرين كالقاهرة والاسكندريه
بوتو	٢٣ . عاصمة مملكة الشمال
البرونز	٢٤ . مادة تنتج من خلط النحاس والقصدير
القلزم	٢٥ . الاسم القديم لميناء السويس
لوحه نارمر	٢٦ . سجل عليها الملك مينا اخبار معركته مع مملكة الشمال
بلاد فينيقيا	٢٧ . وصل اليها الاسطول المصرى قديما وتعرف باسم بلاد الشام حاليا
احمر	٢٨ . لون تاج مملكة الشمال
عنوان الخريطه	٢٩ . يوضح ماعلى الخريطة من بيانات
القارة	٣٠ . مساحة واسعة من اليابس تضم عددا من الدول داخلها
استراليا	٣١ . اصغر قارات العالم من حيث المساحة

٣٢ .	قد يكون خطي أو بياني أو كتابي	مقياس الرسم
٣٣ .	نبات استخدمه المصري القديم في صنع ملابسه	الكتان
٣٤ .	مؤسس الاسرة الاولى الفرعونية وموحد القطرين عام عام ٣٢٠٠	الملك مينا
٣٥ .	العصر الذى تعلم فيه المصري القديم نحت الحجارة بدقه	العصر الحجرى الحديث
٣٦ .	اكبر قارات العالم من حيث المساحة	قارة اسيا
٣٧ .	تكونت من اتحاد القرى والمدن	الاقاليم
٣٨ .	مدينة خرج منها الملك مينا	طييه (الاقصر حاليا)
٣٩ .	شعور الانسان بانه جزء من الجماعه	الانتماء
٤٠ .	الحرفة التى عمل بها المصري القديم فوق الهضاب	صيد الحيوانات

اكمل:

- ١ . يعمل سكان الصحارى غالبا بحرفة الرعى
- ٢ . كانت قناة السويس قديما تعرف باسم القلزم
- ٣ . تجاور مصر من الجنوب دولة السودان
- ٤ . صنع الانسان المصري القديم ملابس من الكتان
- ٥ . السبب الاول في قيام الحضارة المصرية القديمة نهر النيل
- ٦ . حيث غزارة الامطار وارتفاع درجة الحرارة تنمو الغابات الحارة
- ٧ . التعداد السكانى هو قيام الدولة بحصر سكانها مرة كل عدة سنوات
- ٨ . حبي لعملى يسمى مسنولية
- ٩ . من المحافظات التى تقع على ساحل البحر المتوسط بورسعيد ، الاسكندرية ، مطروح
- ١٠ . كانت السفن قبل حفر قناة السويس تدور حول قارة افريقيا
- ١١ . تقع مصر عند ملتقى قارات العالم القديم
- ١٢ . الاسكندرية من محافظات الجذب السكانى
- ١٣ . ساعدت معرفة الزراعة على التعاون والاستقرار
- ١٤ . من اشهر جبال مصر يشبه جزيرة سيناء جبل سانت كاترين
- ١٥ . تم تشييد كوبرى السلام بالتعاون مع اليابان يربط بريا بين محافظات مصر بالوادي والدلتا وبين محافظة شمال وجنوب سيناء
- ١٦ . تطورت الكتابة الهيروغليفية من مراحل الصور الى مرحلة الحروف الهجائية
- ١٧ . بلغ تعداد مصر عام ٢٠٠٦م نحو ٧٣ مليون نسمة
- ١٨ . الزيادة الطبيعية تعنى الفرق بين عدد المواليد ، عدد الوفيات
- ١٩ . مناخ مصر حار خاف في فصل الصيف
- ٢٠ . استقر الانسان المصري قديما على ضفاف النيل لممارسة حرفة الزراعة
- ٢١ . وجود معادن مثل النحاس والبرونز والحديد شجع المصريين القدام على الصناعة
- ٢٢ . بدا استقرار الانسان المصري وولاؤه لمكانه بعد معرفته الزراعة
- ٢٣ . حبي لقرينى او مدينتى يسمى ولاء
- ٢٤ . حبي لأفراد اسرتى واصدقائى وزملائى في المدرسة يسمى انتماء
- ٢٥ . يندر وجود السكان بمصر في مناطق الجبال ، الهضاب ، الصحارى
- ٢٦ . تكتظ الدلتا بالسكان مقارنة بالوادي
- ٢٧ . توجد اعداد قليلة من السكان فى الواحات المنتشرة بالصحراء الغربية
- ٢٨ . تزداد اعداد السكان فى المناطق الغنية بالمياه والثروة المعدنية
- ٢٩ . التنقل والترحال هو انتقال الانسان من مكان الى اخر بحثا عن الغذاء وصيد الحيوان
- ٣٠ . الكهف هو فتحة عميقة فى جوف الجبل
- ٣١ . البعث هو الحياة بعد الموت
- ٣٢ . الطوب اللبن هو الطوب الغير محروق
- ٣٣ . تقع مصر عند ملتقى قارات العلم القديم وهي اسيا افريقيا واوربا
- ٣٤ . تم حفر قناة السويس لتربط بين البحرين الاحمر والمتوسط
- ٣٥ . تقع مصر في الركن الشمالى الشرقى لقارة افريقيا
- ٣٦ . زادت اهمية موقع مصر بعد حفر قناة السويس
- ٣٧ . قيل حفر قناة السويس كانت السفن تضطر للدوران حول رأس الرجاء الصالح
- ٣٨ . لنهر النيل فرعان هما فرع رشيد وفرع دمياط

٣٩. كان نبات البردى شعارا لمملكة الشمال
٤٠. تقع مدينة بور سعيد على قناه السويس من جهة الشمال
٤١. يجاور مصر من الشمال البحر المتوسط ومن الجنوب السودان ومن الشرق البحر الاحمر ومن الغرب ليبيا
٤٢. يجاور مصر من الشمال الشرقي فلسطين
- ٤٣.

اختر الاجابة الصحيحة مما بين الاقواس فيما ياتي :

الخريطة – المعادن – الرياضيات	١. من الادوات التي تستخدم في دراسة الدراسات الاجتماعية
البعث – التوحيد – العباده	٢. اهتم المصريون قديما بتحنيط جثثهم اعتقادا منهم في
السهول الفيضيه – السهول الساحليه – المنخفضات	٣. تمتد بطول نهر النيل
مينا – احمس – خوفو	٤. الملك الذي حقق الوحدة
الفاهرة - الاسكندرية – محافظات الحدود	٥. من المحافظات الطارده للسكان
بوتو – نخب – منف	٦. كانت عاصمة مملكة الشمال
اسبوع - شهر - يوم	٧. المناخ هو حالة الجو في فترة طويله
نهر النيل – البحر الاحمر – الصحراء الغربية	٨. العامل الرئيسي الذي ساعد على قيام الحضارة المصرية
الطب – الفلك – العلوم – كل ماسبق	٩. تفوق المصريون القدماء في
الطوب اللبن – الاسمنت – الحجارة	١٠. بنى المصري القديم مساكنه من
اوروبا - اسيا - افريقيا	١١. قبل حفر قناة السويس كانت السفن تضطر للدوران حول قارة
البحر الاحمر – البحر المتوسط – نهر النيل	١٢. تضيق السهول الساحلية عند
الصناعة – الزراعة – الصيد	١٣. اشتغل المصري القديم بعد نزوله الى الوادى ب
الجبل – السهل – التل	١٤. ارض مرتفعة قليلا ولها قمه
اشكال هندسية – اشكال طبيعية – الوان – كلا مما سبق	١٥. من الرموز المستخدمه في الخرائط
سهم – دائرة – مستطيل	١٦. نحدد اتجاه الشمال على الخريطة ب
اوروبا – اسيا – افريقيا	١٧. تقع مصر في الركن الشمالي الشرقي لقارة
الانسان – البيئة – الانسان والبيئة	١٨. تهتم الدراسات الاجتماعية بدراسة
تضاريس – خرائط – هضبة	١٩. كل مافى المكان من جبال وسهول وانهار يسمى
ادفو – الاقصر – دسوق	٢٠. الاسم الحالى لمدينة طيبة
كثافة سكانيه – تعداد سكاني – ازدحام سكاني	٢١. عملية حصر السكان تسمى
الزراعه – الصيد – الكتابة	٢٢. تبدأ العصور التاريخيه عندما عرف الانسان
دمياط – الاسكندرية – السويس	٢٣. القلزم هو الاسم القديم لميناء
الهضاب – الجبال – التلال	٢٤. ارض مرتفعه مستوية السطح

ضع علامة () امام العبارات الصحيحة وعلام () امام العبارة غير الصحيحة :

X	١ . السهم المرسوم على الخريطة يشير الى اتجاه الجنوب الشمال
X	٢ . قارة اوربا ثانى قارات العالم مساحة قارة افريقيا
	٣ . من المحافظات الجاذبة للسكان محافظتا القاهرة والاسكندرية
X	٤ . عاش الانسان المصرى القديم فوق الهضاب حياة مستقرة حياة التنقل والترحال
X	٥ . النبات الطبيعى هو الذى ينمو نتيجة تدخل الانسان
X	٦ . زادت اهمية موقع مصر بعد حفر ترعة السلام قناة السويس
	٧ . يبلغ تعداد سكان مصر عام ١٩٩٦ م نحو ٦٠ مليون نسمة
X	٨ . الجيش من عوامل قيام الحضارة المصرية القديمه نهر النيل
	٩ . يعمل سكان القرى بحرفة الزراعة وتربية الحيوانات
X	١٠ . تنتشر الودية بصحراء مصر الغربية الواحات
	١١ . الكثافة السكانية هي قسمة عدد السكان على جملة المساحة
X	١٢ . توصل المصريون القدماء الى معرفة الكتابة الصينية الهيروغليفية
	١٣ . تتناول الدراسات الاجتماعية حياة الانسان فى الماضى والحاضر
	١٤ . تعد قارة اوربا اصغر قارات العالم القديم
X	١٥ . تقع هضبة الجلف الكبير جنوب شرق مصر جنوب غرب مصر
X	١٦ . تعد الغردقة اشهر المدن الساحلية على البحر المتوسط البحر الاحمر
X	١٧ . السهول الفيضية ارض ضيقة خصبة ارض واسعه خصبه
	١٨ . الهجرة الخارجية هي انتقال الافراد من مكان لآخر خارج الوطن
X	١٩ . كانت عاصمة مملكة الشمال مدينة نخب بوتو
X	٢٠ . تنمو الحشائش فى المناطق نادرة المطر متوسطة المطر
	٢١ . الصحارى من المناطق الخالية او شبه الخالية من السكان
	٢٢ . عاش المصرى القديم فى وادى النيل حياة مستقرة
X	٢٣ . يطلق كلمة المناخ على حالة الجو خلال ثلاثة ايام شهر او فصل او سنه
X	٢٤ . تجاور مصر من الشمال الشرقى دولة سوريا فلسطين
X	٢٥ . يزدحم السكان فى المناطق الجبلية يقل السكان
	٢٦ . مؤسس اول اسرة حاكمة فى مصر القديمة هو نارمر
X	٢٧ . ربط كوبرى السلام بين محافظتى القاهرة والقلوبية
X	٢٨ . من انجازات الملك مينا بناء قلعة الجبل قلعة من نفر
	٢٩ . اتخذت الدولة الموحدة عام ٤٢٤٢ ق.م من مدينة اون هليوبوليس عاصمة لها
	٣٠ . اعتقد المصرى القديم انه سوف يبعث بعد الموت
	٣١ . يتزايد عدد السكان على سواحل البحرين المتوسط والاحمر
X	٣٢ . تقع مصر فى قارة اسيا افريقيا
	٣٣ . الشمال والجنوب من الجهات الاصلية

١ . محافظات الحدود طاردة للسكان	بسبب المناخ القاسي و قلة الخدمات و قلة فرص العمل
٢ . تسعى الدولة لتحسين ظروف المعيشة في المحافظات الطاردة للسكان	لتخفيف العبء عن المحافظات الجاذبه و اعادة توزيع السكان بشكل صحيح
٣ . زادت اهمية مصر بعد حفر قناة السويس	لانها ربطت بين البحر المتوسط والبحر الاحمر
٤ . اهمية التنبؤ باعداد السكان في مصر في المستقبل	لتخطيط المستقبل تخطيط سليم
٥ . ضيق السهول الساحلية على البحر الاحمر	اقتراب جبال البحر الاحمر منها
٦ . نزول المصري القديم من فوق الهضاب	بحثا عن الماء والغذاء عندما جفت الامطار فوق الهضاب
٧ . اعتزاز المصريين بالملك مينا	لانه وحد البلاد وكون جيشا لحماية هذه الوحدة
٨ . ل حجر رشيد اهمية كبيرة	كان السبب في فك رموز اللغة الهيروغليفية
٩ . استقرار المصري القديم في وادي النيل	لرعاية المحاصيل التي زرعا
١٠ . تنوع المحاصيل الزراعية في مصر	لتنوع المناخ بين الصيف والشتاء
١١ . ازدهار المصريين في وادي النيل والدلتا	بسبب التربة الخصبة وتوفر المياه مما ساعد على استقرار الانسان واشتغاله بالزراعة

١ . التل	ارض مرتفعه قليلا ولها قمه
٢ . الهضبة	ارض مرتفعه مستوية السطح
٣ . الجبل	ارض شديدة الارتفاع ولها قمه
٤ . النبات الطبيعي	النبات الطبيعي هو الذي ينمو دون تدخل الانسان
٥ . الدراسات الاجتماعية	المواد الدراسية التي تهتم بدراسة الانسان وعلاقته بالبيئة
٦ . مفتاح الخريطة	يوضح معاني الرموز والالوان مما يساعد على قراءة الخريطة
٧ . التحنيط	حفظ الجسم سليما بمظهرة وشكله بع الموت
٨ . مقياس الرسم	النسبة بين المسافة على الخريطة ومايقابله على الطبيعه
٩ . التضاريس	اشكال سطح الارض مثل الجبال والهضاب والسهول والوديان والبحار والمحيطات
١٠ . المنخفض	مساحة من الارض منخفضة عما حوله
١١ . البعث	ان الانسان سوف يحيا بعد موته
١٢ . الخلود	ان الانسان يعيش حياة ابدية
١٣ . الخريطة	رسم توضيحي لجزء من سطح الارض باستخدام الرموز والالوان والعلامات بقياس رسم محدد
١٤ . المناخ	هو حالة الجو في فترة طويلة قد تكون شهر او فصل او سنة
١٥ . الكثافة السكانية	هي قسمة عدد السكان على جملة المساحة
١٦ . عصور ما قبل التاريخ	الفترة الزمنية التي عاش فيها الانسان قبل معرفة الكتابه

س ١: ما المقصود بكل من :

- ١- الدراسات الاجتماعية
٢- المناخ
٣- الطقس
٤- النبات الطبيعي

س ٢: اذكر الموضوعات التي ندرسها في مادة الدراسات الاجتماعية .

س ٣: اذكر أهمية الدراسات الاجتماعية .

س ٤: ما المقصود بكل من :

- ١- الصورة
٢- الخريطة
٣- مقياس الرسم

س ٥: اذكر عناصر الخريطة .

س ٦: اذكر الجهات الأصلية .

س ٧: اذكر أهمية الخريطة .

س ٨: أكمل العبارات الآتية

١- الدراسات الاجتماعية تهتم بدراسة وعلاقته بـ المحيطة به .

٢- من أشكال سطح الأرض المختلفة و و

٣- عنوان الخريطة يدل على

٤- المناخ هو حالة الجو في فترة زمنية

٥- مفتاح الخريطة هو مربع أو مستطيل يرسم في أحد أركان الخريطة يضم

٦- اتجاه الشمال على الخريطة يساعد على

٧- تهتم الدراسات الاجتماعية بدراسة الإنسان في كل من و

٨- النبات الطبيعي هو النبات الذي ينمو دون تدخل

٩- يقصد بالخريطة

١٠- مقياس الرسم عبارة عن النسبة بين المسافة على والمسافة على

١١- من أمثلة الرموز المستخدمة في الخرائط و و

١٢- من الموضوعات التي ندرسها في مادة الدراسات الاجتماعية و و

١٣- من أهمية الدراسات الاجتماعية فهم الأحداث

- ١٤- لتحديد الاتجاهات على الخريطة يوجد سهم يشير إلى اتجاه
- ١٥- تختلف شعوب العالم من حيث و و
- ١٦- تساعدنا على فهم الأحداث التاريخية .
- ١٧- مفتاح الخريطة هو مجموعة من و يوجد في أحد أركان الخريطة .
- ١٨- حالة الجو في مكان ما لمدة عام يقصد بها

س٩: تخير الإجابة الصحيحة مما بين القوسين :

- ١- الجبال على الخريطة تلون باللون (الأخضر - البنّي - الأصفر - الأزرق)
- ٢- النسبة بين المسافة على الخريطة وما يقابلها على الطبيعة
- (مفتاح الخريطة - عنوان الخريطة - مقياس الرسم - دليل الرموز والألوان)
- ٣- ينمو النبات الطبيعي في المناطق (المطيرة- الباردة- الصحراوية - الموسمية)
- ٤- الصحراء الشرقية تقع نهر النيل (شرق - شمال - غرب - جنوب)
- ٥- من الرموز المستخدمة في الخرائط
- (أشكال هندسية - أشكال طبيعية - ألوان - كل ما سبق)
- ٦- تهتم الدراسات الاجتماعية بدراسة (الإنسان - البيئة - الإنسان والبيئة)
- ٧- الجهة المقابلة للغرب جهة (الشرق- الجنوب الشرقي- الشمال- الجنوب الغربي)
- ٨- تؤثر البيئة على الإنسان بتحديد (ملابسه - لونه - حرفته - كل ما سبق)
- ٩- المكان الذي تشرق منه الشمس هو اتجاه (الشمال- الجنوب- الشرق- الغرب)
- ١٠- الاتجاه الواقع بين الجنوب والغرب هو اتجاه
- (الشمال الشرقي - الجنوب الشرقي - الشمال الغربي - الجنوب الغربي)

س١٠: ضع علامة (✓) أمام العبارة الصحيحة وعلامة (X) أمام العبارة الخطأ

- ١- للبيئة تأثير على الإنسان في ملابسه ولون بشرته .
- ٢- تفيدنا الدراسات الاجتماعية في التعرف على الظروف الطبيعية للبيئة المحيطة بنا
- ٣- المناخ هو دراسة حالة الجو في مدة قصيرة .
- ٤- يُطلق تعبير المناخ على حالة الجو في فصل الشتاء .
- ٥- تنمو الغابات في المناطق غزيرة المطر .
- ٦- جهة الشرق تقابلها جهة الغرب .
- ٧- يساعدنا مقياس الرسم على تحديد اتجاه الشمال
- ٨- هناك علاقة متبادلة بين الإنسان والبيئة التي يعيش فيها

- ٩- الشمال والشرق من الجهات الفرعية
- ١٠- تهتم الدراسات الاجتماعية بتوزيع السكان فى العالم
- ١١- عدد الجهات الأصلية خمسة جهات .
- ١٢- السهم المرسوم على الخريطة يشير إلى اتجاه الجنوب
- ١٣- اللون الأصفر فى الخريطة يدل على الصحارى .
- ١٤- يمكن رسم خريطة بدون دليل الرموز والألوان .
- ١٥- الدراسات الاجتماعية تربط الماضى بالحاضر وتنظر إلى المستقبل .
- ١٦- يطلق كلمة المناخ على حالة الجو خلال ثلاثة أيام
- ١٧- اللون الأزرق على الخريطة يدل على الهضاب .
- ١٨- يكثر فى مصر النبات الطبيعى .
- ١٩- الشمال الغربى يقابله الشمال الجنوبى .
- ٢٠- يوجد على كل خريطة سهم يشير إلى اتجاه الشمال .
- ٢١- توزيع السكان من أساسيات قراءة الخريطة .
- ٢٢- يدل اللون البنى على الخريطة على المسطحات المائية .

س ١١: اعط مفهوما لكل من العبارات الآتية

- ١- فرع من فروع المعرفة يهتم بدراسة الإنسان وعلاقته بالبيئة المحيطة به .
- ٢- حالة الجو خلال فترة زمنية طويلة شهر أو سنة .
- ٣- النبات الذى ينمو بشكل طبيعى دون تدخل الإنسان .
- ٤- مجموعة من الخرائط بمختلف أنواعها ومقاييسها لأى مكان على سطح الأرض .
- ٥- النسبة بين المسافة على الخريطة وما يقابلها على الطبيعة
- ٦- رسم توضيحي لتفاصيل أى جزء من سطح الأرض باستخدام الرموز والألوان .
- ٧- لقطة حقيقية لجزء من سطح الأرض باستخدام آلة تصوير .
- ٨- يوضح معانى الرموز والألوان ويساعد على قراءة الخريطة .
- ٩- حالة الجو خلال فترة زمنية قصيرة .

- س ١: أين تقع مصر ؟
- س ٢: اذكر قارات العالم القديم وقارات العالم الحديث .
- س ٣: اذكر أهمية موقع مصر ؟
- س ٤: اذكر الحدود الجغرافية لمصر .
- س ٥: اذكر أمثلة للحدود الطبيعية .
- س ٦: ما هو السبب في عدم وجود مشكلات سياسية بين مصر وجيرانها ؟
- س ٧: اذكر أهم الجبال الموجودة في مصر .
- س ٨: اذكر أمثلة للهضاب في مصر .
- س ٩: أين توجد السهول الساحلية في مصر ؟
- س ١٠: أين توجد السهول الفيضية في مصر ؟
- س ١١: اذكر عناصر المناخ .
- س ١٢: اذكر أهمية دراسة الطقس .
- س ١٣: اذكر أهمية دراسة المناخ .
- س ١٤: اذكر أمثلة للنبات الطبيعي في مصر .
- س ١٥: اذكر أمثلة للحيوانات والطيور البرية في مصر .
- س ١٦: تخير الإجابة الصحيحة مما بين القوسين :
- ١- يوجد في جنوب غرب مصر (هضبة العبادة- منخفض القطارة- جبل العوينات)
- ٢- يشتمل سطح مصر على (جبال - هضاب - سهول- كل ما سبق)
- ٣- تعد قارة أحد قارات العالم القديم (استراليا- أفريقيا- أمريكا الشمالية- انثراكتيكا)
- ٤- توجد في مصر عدة بحيرات مالحة أهمها (فيكتوريا- ناصر- المنزلة- البجع)
- ٥- تتوسط مصر قارات (ثلاث - أربع - خمس - ست)
- ٦- يعد من النبات الطبيعي في مصر (القطن - الصبار - القمح - الذرة)
- ٧- يحد مصر من الجنوب (السودان - ليبيا - البحر المتوسط - البحر الأحمر)
- ٨- تسقط الأمطار الشتوية على مصر وخاصة الأطراف (الجنوبية - الشرقية - الشمالية - الغربية)
- ٩- تمتد بطول ساحل البحر الأحمر (تلال - جبال - منخفضات - أودية)
- ١٠- تمتد بطول نهر النيل (سهول الفيضية - سهول الساحلية - منخفضات - تلال)
- ١١- تسقط الأمطار على الأطراف الشمالية من مصر في فصل (الصيف - الخريف - الشتاء - الربيع)
- ١٢- يبلغ عدد محافظات مصر الآن محافظة (٢٥ - ٢٧ - ٢٨ - ٢٩)
- ١٣- يقع كوبرى السلام على (نهر النيل - فرع دمياط - بحيرة ناصر- قناة السويس)
- ١٤- الترمومتر يقيس (كمية المطر- سرعة الرياح - درجة الحرارة - نوع المطر)
- ١٥- حدود مصر الشرقية حدود (بشرية - طبيعية - الاثنين معا)
- ١٦- أشهر المنخفضات في مصر منخفض (القطارة- الجلف الكبير- عوينات- المعازة)
- ١٧- تنتشر بالصحراء الغربية (الواحات - الجبال - الأودية - التلال)
- ١٨- من عناصر المناخ (الحرارة - الرياح - الأمطار - كل ما سبق)
- ١٩- يحد مصر من الغرب دولة (ليبيا - فلسطين - السعودية - السودان)
- ٢٠- الحدود التي تميز محافظتك تسمى حدود (دولية - إدارية - طبيعية - عالمية)
- ٢١- يستخدم في قياس درجة الحرارة (دوارة الرياح - السحاحة - المخبار المدرج - الترمومتر)
- ٢٢- تقع في أقصى جنوب غرب مصر (هضبة مارماريكا - جبل العوينات - منخفض الفيوم - هضبة العجما)
- ٢٣- دراسة الطقس تفيد في تحديد (المحاصيل الزراعية - نوع الصناعات - نوع الملابس التي نرتديها - النشاط السياحي)
- ٢٤- من قارات العالم الحديث (أفريقيا - آسيا - استراليا - أوربا)
- ٢٥- جاءت معظم الإغارات الاستعمارية إلى مصر عبر الحدود (الغربية - الشرقية - الشمالية - الجنوبية)

س ١٧ : أكمل

- ١- تتركز المرتفعات في مصر في جهة بينما المنخفضات في جهة
- ٢- مناخ مصر حار في وممطر في
- ٣- زادت أهمية موقع مصر بعد حفر
- ٤- لنهر النيل فرعان هما و
- ٥- تقع مصر عند ملتقى قارات العالم
- ٦- حالة الجو في مكان ما لمدة عام يقصد بها
- ٧- تقع جمهورية مصر العربية في قارة
- ٨- أرض منخفضة مستوية تمتد على طول ساحل البحر أو المحيط تسمى
- ٩- يقع جبل العوينات من مصر .
- ١٠- تضم مصر مجموعة من المرتفعات منها
- ١١- توجد حدود داخل الدولة تميز بين المحافظات تسمى
- ١٢- تعتبر العاصمة الحالية لجمهورية مصر العربية .
- ١٣- حفر قناة السويس أدى إلى قلة أهمية طريق
- ١٤- تقع مصر في الركن الشمالي الشرقي من قارة
- ١٥- السطح هو شكل الأرض بما تتضمنه من و و
- ١٦- يوجد في مصر بحيرة وهي من البحيرات العذبة
- ١٧- ساعدت الحدود الطبيعية على حماية مصر من
- ١٨- تقع مصر عند ملتقى ثلاث قارات هي و و
- ١٩- قبل حفر قناة السويس كانت السفن تضطر للدوران حول
- ٢٠- يجاور مصر من الشمال ومن الجنوب ومن الشرق ومن الغرب
- ٢١- تقع مصر على بحرين من أهم بحار العالم هما في الشمال ، في الشرق

س ١٨ : اكتب ما تدل عليه كل جملة من الجمل الآتية :

- ١- فواصل بشرية أو طبيعية بين الدول بعضها البعض .
- ٢- دولة تقع عند ملتقى ثلاث قارات .
- ٣- حالة الجو خلال فترة زمنية طويلة شهر أو سنة .
- ٤- فواصل طبيعية تفصل بين الدول
- ٥- قارات أمريكا الشمالية وأمريكا الجنوبية وأستراليا .
- ٦- أرض مرتفعة مستوية أو شبه مستوية .
- ٧- الحرارة - الرياح - الأمطار .
- ٨- قناة ربطت بين البحرين المتوسط والأحمر
- ٩- مساحة واسعة من اليابس تضم عدد من الدول داخلها
- ١٠- النبات الذي ينمو دون تدخل الإنسان .
- ١١- يعد أطول أنهار العالم ويعتبر مصدر الحياة في مصر .
- ١٢- ازدادت أهمية موقع مصر بعد حفرها .
- ١٣- فواصل سياسية وضعها الإنسان بين الدول
- ١٤- حالة الجو في فترة زمنية قصيرة .

س ١٩ : ضع علامة (✓) أو علامة (×) أمام كل جملة من الجمل الآتية :

- ١- يعرف الطريق البديل لقناة السويس في إفريقيا باسم قناة بنما
- ٢- الحدود الشمالية لمصر حدود بشرية .
- ٣- تعيش الحيوانات والطيور البرية في المناطق البعيدة سواء الصحراوية أو الزراعية .
- ٤- معظم حدود الدول العربية حدود مصطنعة .
- ٥- يدور طريق رأس الرجاء الصالح حول قارة آسيا
- ٦- مناخ مصر يختلف باختلاف فصول السنة .
- ٧- السهل الساحلي الممتد على البحر الأحمر أكثر اتساعا منه على البحر المتوسط
- ٨- يتنوع النبات الطبيعي باختلاف كمية الأمطار
- ٩- تربط قناة السويس بين البحر المتوسط والمحيط الأطلنطي
- ١٠- المناخ يصف حالة الجو لفترة زمنية قصيرة .
- ١١- حدود مصر غير معترف بها بين دول العالم
- ١٢- تقع مصر في الركن الشمالي الشرقي لقارة إفريقيا
- ١٣- تتمثل السهول الفيضية في الأراضي الممتدة بطول ساحل البحر المتوسط والأحمر .
- ١٤- يمر طريق رأس الرجاء الصالح جنوب مصر .

- ١٥ - أراضي منخفض الفيوم والقطارة تقع أعلى من منسوب سطح البحر .
- ١٦ - تمتد الجبال بطول سواحل البحر الأحمر .
- ١٧ - حفر قناة السويس ساعد على زيادة أهمية موقع مصر
- ١٨ - تستخدم دوارة الرياح في تحديد اتجاه الرياح .
- ١٩ - تنتشر السهول في معظم أنحاء مصر .
- ٢٠ - تتميز مصر بعدم وجود مشكلات سياسية مع جيرانها .
- ٢١ - تقع مصر على بحرين من أهم البحار هما البحر الميت والبحر الأسود
- ٢٢ - السهل الفيضي هو السهول الممتدة بطول وادي النيل وديلتاه
- ٢٣ - طريق رأس الرجاء الصالح أضعف من أهمية قناة السويس .
- ٢٤ - معظم حدود الدول العربية حدود طبيعية
- ٢٥ - تضم مصر مجموعة من الجبال والهضاب والسهول والمنخفضات .
- ٢٦ - دراسة الطقس تساعد في تحديد مواقع الصناعات .
- ٢٧ - النبات الطبيعي هو كل ما تزرعه في الحقول والمنازل .
- ٢٨ - الحدود الإدارية تميز الدول وتفصلها عن جيرانها .
- ٢٩ - من الدول الاستعمارية التي احتلت مصر فرنسا وانجلترا
- ٣٠ - تعتبر الحرارة والرياح والأمطار من عناصر المناخ .
- ٣١ - يكثُر في مصر النبات الطبيعي .
- ٣٢ - تقع شبه جزيرة سيناء في شمال شرق مصر .
- ٣٣ - تقع مصر إلى الجنوب من البحر الأحمر
- ٣٤ - تقاس الأمطار بالترمو متر .
- ٣٥ - تجاور مصر من الشمال الشرقي دولة سوريا
- ٣٦ - مناخ مصر ممطر صيفا جاف شتاء .
- ٣٧ - تقع مصر في قارة آسيا

- س ١ : ما المقصود بكلا من :
 (أ) التعداد السكاني
 (ب) الزيادة الطبيعية
 (ج) محافظات جاذبة للسكان
 (د) محافظات طاردة للسكان
 (هـ) هجرة داخلية
 (و) هجرة خارجية
- س ٢ : اذكر أهمية التعداد السكاني .
 س ٣ : اذكر أسباب الهجرة .

- س ٤ : لماذا يزداد السكان في الوادي والدلتا ؟
 س ٥ : أين يتركز السكان في الصحراء الغربية ؟ ولماذا ؟
 س ٦ : ما الأماكن التي يندر وجود السكان فيها ؟

س ٧ : اكتب المصطلح (الجغرافي) :

- ١ - الفرق بين معدل المواليد ومعدل الوفيات .
- ٢ - عملية حصر السكان للتعرف على أعدادهم وتركيبهم
- ٣ - محافظات مستقبلة للمهاجرين كالقاهرة والإسكندرية
- ٥ - انتقال الأفراد من مكان لآخر
- ٦ - عملية أقل دقة من التعداد ، وتعتمد على عمليات إحصائية فقط .
- ٧ - المحافظات التي يخرج بعض سكانها إلى محافظات أخرى .
- ٨ - انتقال الأفراد من مكان لآخر داخل الدولة
- ٩ - انتقال الأفراد من دولة لأخرى

س ٨ : تخير الإجابة الصحيحة مما بين القوسين :

- ١ - يجرى تعداد السكان مره كل سنوات . (١١ - ١٠ - ١٢ - ٥)
- ٢ - يزداد عدد السكان في
- (الصحراء الشرقية - الصحراء الغربية - وادي النيل ودلتاه - ساحل البحر الأحمر)
- ٣ - من المحافظات الجاذبة للسكان (أسبوط - قنا - أسوان - القاهرة)
- ٤ - يقدر عدد سكان مصر سنة ٢٠٠٨ م بـ مليون نسمة (٥٧ - ٧٣ - ٧٥)
- ٥ - مساحة مصر تصل إلى كيلومتر مربع (٣ مليون - ١ مليون - ٢ مليون)
- ٦ - أول تعداد سكاني في مصر كان سنة م (١٨٨٢ - ١٨٨٠ - ١٨٩٠)
- ٧ - تتمثل الهجرة الاختيارية في هجرة (العمالة - الحروب - الزلازل - البراكين)
- ٨ - ترجع الزيادة في أعداد سكان مصر إلى
- (زيادة المواليد - الزيادة الطبيعية - الهجرة - الزيادة الطبيعية والهجرة معا)
- ٩ - توجد أعداد متوسطة من السكان في
- (وادي النيل - الصحراء الغربية - سواحل البحر المتوسط - شبه جزيرة سيناء)
- ١٠ - يقدر عدد سكان مصر عام ٢٠٠٦ م بـ مليون نسمة (٦٥ - ٧٣ - ٧٥ - ٨٠)
- ١١ - يتركز بعض سكان مصر على سواحل البحر الأحمر للعمل في
- (الزراعة - الرعي - صيد الحيوانات - القرى السياحية)

س ٩ : بم تفسر

- ١ - تعد محافظات الحدود المصرية محافظات طاردة للسكان .
- ٢ - زيادة أعداد السكان في المناطق الصناعية وانخفاضهم في المناطق الرعوية .
- ٣ - تزداد معدلات الهجرة إلى المدن الكبيرة مثل القاهرة والإسكندرية .
- ٤ - ندرة أعداد السكان في الصحراء الشرقية والغربية باستثناء الواحات .
- ٥ - يضطر سكان أي مكان إلى الهجرة منه إلى أماكن أخرى .
- ٦ - زيادة أعداد السكان في مصر .
- ٧ - اتجاه الحكومة إلى إعادة توزيع السكان بين المحافظات المصرية .
- ٨ - زيادة أعداد السكان في الوادي والدلتا .
- ٩ - إقامة مشروعات اقتصادية في بعض المحافظات .
- ١٠ - زيادة أعداد السكان في المناطق الغنية بموارد المياه .
- ١١ - يجب تشجيع هجرة السكان خارج محافظات الوادي والدلتا .
- ١٢ - وجود أعداد متوسطة من السكان على سواحل البحرين الأحمر والمتوسط .
- ١٣ - اهتمام الدولة بالمحافظات الطاردة للسكان .
- ١٤ - قلة أعداد السكان في المناطق الحارة .
- ١٥ - اختلاف توزيع السكان في مصر .

- ١٦- أهمية التعداد السكاني .
- ١٧- وجود أعداد قليلة من السكان في مناطق شبه جزيرة سيناء .
- ١٨- هجرة السكان من محافظة إلى أخرى داخل مصر .
- ١٩- وجود بعض مراكز التركز السكاني بالصحارى المصرية .
- ٢٠- تفيدنا التعدادات المختلفة في التنبؤ بأعداد السكان في مصر .
- ٢١- شبه جزيرة سيناء من المناطق الجاذبة للسكان في مصر .

س ١٠: ضع علامة (✓) أو علامة (×) أمام كل جملة من الجمل الآتية

- ١- يتساوى أعداد السكان في جميع أنحاء مصر .
- ٢- تقوم مصر بعمل تعداد لسكانها مرة كل خمس سنوات .
- ٣- تحدث الزيادة السكانية بسبب الزيادة الطبيعية فقط .
- ٤- يزداد السكان في المناطق الغنية بالمعادن .
- ٥- يساعدنا التعداد السكاني في التخطيط السليم لمستقبل بلدنا .
- ٦- يزداد عدد السكان في المناطق الغنية بالمياه العذبة .
- ٧- يهاجر المواطن من محافظة إلى أخرى بحثاً عن فرص عمل .
- ٨- المحافظات الساحلية من المناطق متوسطة السكان .
- ٩- تسعى الدولة إلى إقامة مشروعات اقتصادية للحد من الهجرة الداخلية .
- ١٠- يزدحم السكان في المناطق الجبلية .
- ١١- يفيد التعداد في معرفة عدد السكان فقط .
- ١٢- محافظة الإسكندرية من المحافظات الجاذبة للسكان .
- ١٣- عدد سكان مصر سنة ٢٠٠٨ هو ٧٣ مليون نسمة .
- ١٤- يزداد عدد السكان في المحافظات الطاردة للسكان .
- ١٥- يسكن سيناء أقل من مليون نسمة .
- ١٦- يتساوى النمو السكاني في جميع محافظات مصر .
- ١٧- الصحارى من المناطق الخالية أو شبه الخالية من السكان .
- ١٨- محافظة القاهرة أكبر محافظات مصر جذباً للسكان .
- ١٩- يختلف توزيع سكان مصر من محافظة لأخرى .
- ٢٠- يخرج تيار هجرة داخلية من محافظة قنا إلى محافظة الإسكندرية .
- ٢١- توجد علاقة قوية بين توزيع السكان والتضاريس في أى مكان في العالم .
- ٢٢- كان آخر تعداد قامت به مصر عام ٢٠٠٦ م .
- ٢٣- يتزايد عدد السكان على سواحل البحرين المتوسط والأحمر .
- ٢٤- محافظات الحدود مناطق طرد سكاني .
- ٢٥- تسعى الدولة لتعمير الصحراء للحد من الهجرة الداخلية .
- ٢٦- أجرى أول تعداد سكاني في مصر عام ١٩٨٦ م .

س ١١: أكمل

- ١- أجرى أول تعداد سكاني في مصر عام
- ٢- تعد محافظة المحافظة الأولى في جذب السكان .
- ٣- انتقال الإنسان من مكان لآخر داخل الدولة يسمى
- ٤- بلغ تعداد مصر عام ٢٠٠٦ م نحو مليون نسمة
- ٥- تمتد معظم محافظة مطروح داخل
- ٦- تعرف عملية حصر السكان في أى مكان في العالم باسم
- ٧- الزيادة الطبيعية تعنى الفرق بين و
- ٨- الإسكندرية من محافظات السكاني
- ٩- تكتظ بالسكان مقارنة بالوادي .
- ١٠- الزيادة السكانية قد تكون طبيعية نتيجة الاختلاف بين و أو نتيجة
- ١١- من المحافظات الجاذبة للسكان و
- ١٢- يطلق على عدد السكان الذين يعيشون فوق وحدة مساحية من الأرض
- ١٣- يفيد التعداد السكاني في التنبؤ ب
- ١٤- تعد مصر من الدول التي تتميز ب
- ١٥- تتجه معظم تيارات الهجرة الداخلية في مصر إلى محافظة
- ١٦- يندر وجود السكان بمصر في مناطق و
- ١٧- توجد أعداد قليلة من السكان في المنتشرة بالصحراء الغربية
- ١٨- من المحافظات التي يخترقها نهر النيل و
- ١٩- تزداد أعداد السكان في المناطق الغنية ب

- ٢٠- يتأثر توزيع السكان في مصر نتيجة اختلاف
- ٢١- تعود أهمية التعداد السكاني إلى الاستفادة منه في و
- ٢٢- تقع محافظة على فرع دمياط وساحل البحر المتوسط .
- ٢٣- من المناطق الخالية وشبه الخالية من السكان في مصر و
- ٢٤- أعداد السكان على السواحل المصرية أعداد
- ٢٥- بلغ عدد سكان مصر عام ١٩٩٦ م نحو مليون نسمة .

بنك الأسئلة

(الوحدة الرابعة)

- س ١: صف كل عصر من العصور الآتية :
- (أ) العصر الحجري القديم (ب) العصر الحجري الحديث
(ج) عصر البرونز (د) عصر الحديد
- س ٢: اكتب اسمك بالهيروغليفية ؟
- س ٣: صف حياة المصري القديم قبل نزوله إلى الوادي ؟
- س ٤: صف مسكن المصري القديم بعد الاستقرار ؟
- س ٥: لماذا اهتم المصري القديم بتحنيط جثة الميت ؟
- س ٦: قارن بين مملكة الشمال ومملكة الجنوب من حيث :
العاصمة - الشعار - لون التاج
- س ٧: متى نجح مينا في توحيد مملكتي الشمال والجنوب ؟
- س ٨: اذكر أهم إنجازات الملك مينا ؟
- س ٩: اذكر أهم العوامل الطبيعية لقيام الحضارة المصرية القديمة ؟
- س ١٠: صف مناخ مصر ؟
- س ١١: اذكر بعض المعادن والصخور الموجودة في مصر ؟

س ١٢: ضع علامة (✓) أو علامة (x) أمام كل جملة من الجمل الآتية :

٣٥. عاش الإنسان المصري القديم فوق الهضاب حياة مستقرة
٣٦. الجيش من عوامل قيام الحضارة المصرية القديمة
٣٧. توصل المصريون القدماء إلى معرفة الكتابة الصينية
٣٨. تبدأ العصور التاريخية بمعرفة الإنسان للكتابة .
٣٩. ساعدت الموارد الطبيعية على قيام صناعات متنوعة في مصر القديمة .
٤٠. كانت حياة المصري القديم فوق الهضاب مملوءة بالخوف والقلق .
٤١. تم توحيد البلاد عام ٢٤٢٤ قبل الميلاد على يد الملك مينا .
٤٢. كانت عاصمة مملكة الشمال مدينة نخب
٤٣. استقر الإنسان المصري القديم على ضفاف نهر النيل .
٤٤. عصور ما قبل التاريخ تبدأ عندما عرف الإنسان الكتابة .
٤٥. في العصر الحجري الحديث كانت تصنع الأدوات من الحديد والنحاس .
٤٦. توصل المصريون القدماء إلى الكتابة الهيروغليفية .
٤٧. تقع مصر وسط قارات العالم الجديد
٤٨. بعد استقرار المصري القديم في الوادي استأنس الحيوان .
٤٩. تاج مملكة الشمال لونه أبيض .
٥٠. تميزت حياة الإنسان في عصور ما قبل التاريخ بالاستقرار .
٥١. من عوامل قيام الحضارة المصرية القديمة نهر النيل والموقع الجغرافي .
٥٢. عرف المصري القديم النار واستخدمها في إبعاد الحيوانات المفترسة .
٥٣. تقدم قدماء المصريين في المجالات المختلفة .
٥٤. نجح الملك مينا في توحيد البلاد ٣٢٠٠ ق م .
٥٥. عاش المصري القديم عصر الحديد قبل عصر البرونز .
٥٦. تميزت حياة الإنسان في عصور ما قبل التاريخ بالاستقرار .

٥٧. بدأ التاريخ بصنع الإنسان أدواته من معدن الحديد .
٥٨. لم يلعب الجيش دورا في قيام الحضارة المصرية القديمة .
٥٩. سجل مينا انتصاراته على لوحة تعرف باسم لوحة نارمر .
٦٠. أدت الوحدة بين الأقاليم إلى قيام حكومة مركزية لخدمة الشعب .
٦١. مؤسس أول أسرة حاكمة في مصر القديمة هو نارمر .
٦٢. اتخذت الدولة الموحدة عام ٢٤٢٤ ق.م من مدينة أون هليوبوليس عاصمة لها
٦٣. من إنجازات الملك مينا بناء قلعة الجبل .
٦٤. صنع الإنسان بيته من الطوب الأحمر .
٦٥. بعد استقرار الإنسان المصري نشأت المدن ثم القرى .
٦٦. بنى الملك مينا قلعه تسمى بوتو .
٦٧. تطل مصر على ثلاثة بحار مهمة
٦٨. صنع الإنسان أدواته في العصر الحجري الحديث من البرونز .
٦٩. عاش المصري القديم في وادي النيل حياة مستقرة .

س ١٣ : أكمل

١. صنع الإنسان المصري القديم ملابسه من
٢. السبب الأول في قيام الحضارة المصرية القديمة
٣. مناخ مصر حار في فصل
٤. استقر الإنسان المصري قديما على ضفاف النيل لممارسة حرفة
٥. نجح مينا في توحيد مملكتي الشمال والجنوب عام
٦. وجود معادن كالبرونز والحديد والنحاس شجع على ممارسة مهنة
٧. بدأ استقرار الإنسان المصري وولاؤه لمكانه بعد معرفته
٨. حبي لقرتي أو مدينتي يسمى
٩. ساعد قيام الوحدة على بناء قوى لحماية البلاد
١٠. حبي لأفراد أسرتي وأصدقائي وزملائي في المدرسة يسمى
١١. اهتم المصريون قديما بتحنيط جثثهم اعتقادا منهم في
١٢. كان الإنسان في العصور القديمة يعيش فوق
١٣. تحققت الوحدة الأولى في مصر عام
١٤. من عوامل قيام الحضارة المصرية القديمة و
١٥. الملك الذي حقق الوحدة
١٦. اتخذت كل قرية وكل مدينة لها
١٧. كانت عاصمة مملكة الشمال
١٨. بنى المصري القديم مساكنه من
١٩. الاسم الحالي لمدينة طيبة
٢٠. من العوامل التي ساهمت في استقرار المصري القديم
٢١. تبدأ العصور التاريخية عندما عرف الإنسان
٢٢. معدن البرونز ينتج من خلط معدن و
٢٣. ساعدت معرفة الإنسان للزراعة على و
٢٤. الوجه القبلي يمثل مملكة والوجه البحري يمثل مملكة
٢٥. كانت حياة المصري القديم قبل معرفته الزراعة تتميز بالتنقل و
٢٦. بنى الملك مينا مدينة لتكون عاصمة للبلاد وبنى حولها
٢٧. نبات استخدمه المصري القديم في صنع ملابسه هو
٢٨. تطورت الكتابة الهيروغليفية من مرحلة إلى مرحلة
٢٩. حبي لعملى يسمى وحبي لوطني يسمى
٣٠. كان نبات البردى شعارا لمملكة

س ١٤ : اكتب ما تدل عليه كل جملة من الجمل الآتية:

١. عاصمة مملكة الجنوب
٢. الأزمنة التي عاش فيها الإنسان قبل معرفة الكتابة
٣. عاصمة مصر الموحدة عام ٢٤٢٤ ق.م

٤. عملية يقصد بها حفظ الجسم سليماً محتفظاً بمظهره
٥. الشعار الذى اتخذته مملكة الشمال
٦. عاصمة مملكة الشمال
٧. بدأت العصور التاريخية للإنسان بمعرفته لها .
٨. مادة تنتج من خلط النحاس والقصدير
٩. سجل عليها الملك مينا أخبار معركته مع مملكة الشمال
١٠. أوى إليها الإنسان قديماً ليحتمى بها من برودة الليل وحرارة الشمس .
١١. لون تاج مملكة الشمال
١٢. حب المصرى القديم لأرضه التى عاش عليها ولمن حوله .
١٣. نبات استخدمه المصرى القديم فى صنع ملايسه
١٤. مؤسس الأسرة الأولى الفرعونية وموحد القطرين عام ٣٢٠٠ ق . م
١٥. العصر الذى تعلم فيه المصرى القديم نحت الحجارة بدقه
١٦. تكونت من اتحاد القرى والمدن
١٧. يلعب دوراً فى حماية البلاد والدفاع عنها
١٨. مدينة خرج منها الملك مينا
١٩. شعور الإنسان بأنه جزء من الجماعة
٢٠. الحرفة التى عمل بها المصرى القديم فوق الهضاب
٢١. عاصمه البلاد أثناء حكم الملك مينا
٢٢. الكتابة التى سجل بها المصريون القدماء أخبارهم على جدران المعابد
٢٣. العصور التى عرف فيها الإنسان الكتابة
٢٤. فجوه فى بطن الجبل كان يسكن فيها المصرى القديم

س ١٥ : علل

١. نزول المصرى القديم من فوق الهضاب
٢. اعتزاز المصريين بالملك مينا
٣. استقرار المصرى القديم فى وادى النيل
٤. بناء المصرى القديم المساكن بعد نزوله إلى وادى النيل .
٥. أهمية معرفة الكتابة الهيروغليفية .
٦. تكوين الملك مينا جيش قوى .
٧. لجوء المصرى القديم إلى الكهوف .
٨. قيام الحضارة المصرية القديمة .
٩. اهتمام المصريين القدماء بالتحنيط .
١٠. كان المصرى القديم دائم التنقل والترحال .
١١. قيام حكومة مركزية فى مصر القديمة .

س ١٦ : اختر الإجابة من بين القوسين :

- ١- العصور التاريخية تبدأ عندما عرف الإنسان (الزراعة - الصناعة - الكتابة)
- ٢- توصل المصريون القدماء إلى معرفة الكتابة (الفرنسية - الهيروغليفية - الديموطيقية)
- ٣- شعار مملكة الشمال (البردى - اللوتس - الياسمين - الكتان)
- ٤- أطلق العرب على قلعة (من نفر) اسم (طيبة - منف - أون - بوتو)
- ٥- استخدم المصرى القديم فى الزراعة (الصوبات - الأسمدة - الجرارات الزراعية - المحراث)
- ٦- الملك الذى حقق أول وحدة لمصر هو (أحمس - خوفو - مينا)
- ٧- سكن المصرى قديماً فى بداية حياته (النجوع - المدن - الكهوف - القرى)
- ٨- صنع الإنسان ملايسه من جلد الحيوانات و (الحرير- الصوف- الكتان - القطن)
- ٩- يتكون معدن من خلط النحاس مع القصدير (الذهب - الفضة - البرونز - الحديد)
- ١٠- قامت أول دولة موحدة فى مصر القديمة عام ق . م (٤٤٢٢ - ٤٢٤٢ - ٢٤٢٤ - ٢٢٤٤)
- ١١- عاصمه مملكه الشمال هى (نخب - طيبة - بوتو - أواريس)
- ١٢- لون تاج مملكة الجنوب (أصفر - أبيض - أحمر - أزرق)
- ١٣- انتهت عصور ما قبل التاريخ بمعرفة الإنسان (الصناعة - الرعى - النار - الكتابة)

- ١٤ - شعار مملكة الجنوب هو (الكتان - البردى - اللوتس)
 ١٥ - خرج الملك مينا من مدينة (أون - منف - طيبة - أواريس)
 ١٦ - بنى المصرى القديم مساكنه من (الطوب اللبن - الاسمنت - الحجارة)
 ١٧ - عاصمه مملكة الجنوب هي (أون - منف - بوتو - نخب)
 ١٨ - فى عصر البرونز صنع الإنسان أدواته من (الحجر - الذهب - البرونز - الحديد)
 ١٩ - عمل المصرى القديم بعد نزوله إلى الوادى بـ..... (الصناعة - الزراعة - الصيد)
 ٢٠ - عاصمة الوحدة الأولى عام ٢٤٢ ق م هي (بوتو- منف - اون هليوبوليس)
 ٢١ - من عوامل قيام الحضارة المصرية (الطقس - الجيش - الكتابه)
 ٢٢ - تفوق المصريون القدماء فى (الطب - الفلك - العلوم - كل ما سبق)
 ٢٣ - بدأت الكتابة بالتعبير عن الشئ برسمه فى شكل
 (صور- حروف - أرقام - نقاط)
 ٢٤ - ارتباط الفرد بأسرته يعنى (مسنولية - ولاء - انتماء - تعاون)
 ٢٥ - عملية حفظ الجسم سليما بعد الموت تسمى (بعثا - خلودا - توحيدا - تحنيطا)

الامتحان رقم (١)

س ١ : ضع علامة (√) أمام العبارة الصحيحة وعلامة (×) أمام العبارة الخاطئة:

- ١ - تتناول الدراسات الاجتماعية حياة الإنسان فى الحاضر والمستقبل ()
 ٢ - من أشهر الجبال فى مصر جبل سانت كاترين ()
 ٣ - المناخ هو حالة الجو فى مدة قصيرة ()
 ٤ - الخريطة رسم توضيحي لتفاصيل أى جزء على سطح القمر ()

س ٢ : أكمل الجمل الآتية :

- ١ - لنهر النيل فرعان هما و.....
 ٢ - قارات آسيا وأفريقيا وأوروبا هي قارات العالم.....
 ٣ - قبل حفر قناة السويس كانت السفن تدور حول قارة.....
 ٤ - عرف الإنسان المصرى القديم الزراعة عندما نزل إلى.....
 ٥ - الذى وحد القطرين الملك.....

س ٣ : تخير الإجابة الصحيحة من بين الأقواس :

- ١ - تقع مصر..... أفريقيا (جنوب شرق - شمال غرب - شمال شرق - جنوب غرب)
 ٢ - أرض مرتفعة قليلا ولها قمة (الجبل - الهضبة - التل - السهل)
 ٣ - من قارات العالم القديم..... (استراليا- أوروبا- أمريكا الجنوبية- أمريكا الشمالية)
 ٤ - سكن المصرى القديم فوق الهضاب (المساكن - القرى - الكهوف - المدن)
 ٥ - خرج مينا من مدينة لتوحيد البلاد (طيبة - منف - أون - أواريس)

س ٤ : تخير من المجموعة (ب) ما يناسب المجموعة (أ) وضع رقمها بين القوسين :

- | | |
|------------------------------------|------------------------------------|
| (أ) | (ب) |
| ١ - تنمو النباتات الصحراوية حيث | () يساعدا فى تحديد باقى الاتجاهات |
| ٢ - من عوامل قيام الحضارة المصرية | () أحمر |
| ٣ - منطقة وادى النيل بمصر | () المناخ المعتدل |
| ٤ - لبس ملك الشمال تاجا لونه | () مزدحمة السكان |
| ٥ - فى الخريطة سهم يشير إلى الشمال | () ندرة المياه |
| | () أبيض |

س ٥ : اكتب المفهوم لكل عبارة من العبارات الآتية :

- ١ - أرض شديدة الارتفاع ولها قمة ()
 ٢ - العصر الذى صنع فيه الإنسان أدواته من الحديد ()
 ٣ - حفظ الجسم سليما بمظهره وشكله بعد الموت ()
 ٤ - النسبة بين المسافة على الخريطة وما يقابلها على الطبيعة ()
 ٥ - نبات ينمو دون تدخل الإنسان ()

الامتحان رقم ٢

س ١: أكمل الجمل الآتية :-

- (أ) يوجد في أي خريطة سهم يشير دائما إلى اتجاه
(ب) تقع مصر في الركن الشمالي الشرقي من قارة
(ج) يزداد السكان في محافظات الوادي و
(د) ساعدت الزراعة الإنسان المصري القديم على حياة
(هـ) من قارات العالم الجديد أمريكا الشمالية وأمريكا الجنوبية و

س ٢: ضع علامة (√) أمام العبارة الصحيحة وعلامة (×) أمام العبارة الخاطئة :-

- (أ) المناخ هو حالة الجو في فترة زمنية طويلة { }
(ب) ازدادت أهمية موقع مصر بعد حفر قناة السويس { }
(ج) صنع الإنسان أدواته في العصر الحجري الحديث من البرونز { }
(د) يتساوى عدد السكان في جميع أنحاء العالم { }
(هـ) يدل اللون الأزرق في الخريطة على البحار والأنهار { }

س ٣: اختر الإجابة الصحيحة مما بين القوسين :

- (أ) تنتشر في القرى المصرية حرفة (الصناعة - الزراعة - صيد الأسماك - قطع الأخشاب)
(ب) طريق راس الرجاء الصالح اكتشفه ملاح (برتغالي - انجليزي - أمريكي - مصري)
(ج) أجرى أول تعداد سكاني في مصر عام (١٨٨٢ - ١٨٥٢ - ١٨٥٣ - ١٨٧٥)
(د) سكن المصري القديم في بداية حياته (المدن - الكهوف - القرى - القصور)
(هـ) تنتشر بالصحراء الغربية (الواحات - الجبال - الأودية - الهضاب)

س ٤: صل العبارات من العمود الأيمن بما يناسبها من كلمات من العمود الأيسر :-

- | | |
|-----------------------------|-----------------------------------|
| الخريطة | أ) قناة السويس تربط بين |
| البحر الأحمر والبحر المتوسط | ب) نتعرف على موقع محافظتي من خلال |
| منف | ج) الدولة التي تقع جنوب مصر هي |
| السودان | د) بنى الملك مينا عاصمة لمصر هي |
| بوتو | هـ) عاصمة مملكة الشمال مدينة |
| ليبيا | |

س ٥: اكتب المفهوم الذي يدل على كل العبارات الآتية :-

- (أ) نبات ينمو تلقاء نفسه
(ب) حار جاف صيفا دافئ ممطر شتاء
(ج) اسم يطلق على قارة آسيا وأفريقيا وأوروبا
(د) عملية يقصد بها حفظ الجسم سليماً بمظهره وشكله بعد الموت
(هـ) أرض مرتفعة ولها قمة

الامتحان رقم ٣

س ١ : أكمل ما يأتي :-

- (أ) من المحافظات التي تقع على ساحل البحر المتوسط و
(ب) تكتظ بالسكان مقارنة بالوادي
(ج) صنع الإنسان المصري القديم ملابس من
(د) السبب الأول في قيام الحضارة المصرية القديمة
(هـ) صنع الإنسان أدواته في العصر الحجري من

س ٢: ضع علامة (√) أمام العبارات الصحيحة وعلامة (×) أمام الخاطئة :-

- (أ) من المحافظات الجاذبة للسكان محافظتا القاهرة والإسكندرية. ()
(ب) النبات الطبيعي هو الذي ينمو نتيجة تدخل الإنسان. ()
(ج) زادت أهمية موقع مصر بعد حفر ترعة السلام. ()

(د) يتساوى أعداد السكان في جميع أنحاء مصر ()

س ٣ : أكتب ما تدل عليه كل عبارة :-

- (أ) عاصمة مملكة الجنوب.
(ب) أشكال سطح الأرض المختلفة من جبال وتلال وهضاب وسهول.
(ج) عمليه حصر السكان للتعرف على أعدادهم وتركيبهم.
(د) رسم توضيحي لتفاصيل أى جزء من سطح الأرض
(هـ) يقصد بها الفترة الزمنية التى عاش فيها الإنسان قبل معرفة الكتابة

س ٤ : أختار الإجابة الصحيحة مما بين الأقواس :-

- (أ) الملك الذى حقق الوحدة [مينا - أحمس - خوفو]
(ب) ارض مرتفعة قليلا ولها قمة [الجبل - السهل - التل]
(ج) تضيق السهول الساحلية عند [البحر الأحمر - البحر المتوسط - نهر النيل]
(د) السهم الذى يرسم أعلى الخريطة يدل على [الجنوب - الشمال - الشرق]

س ٥ : اختر من المجموعة (ب) ما يناسب المجموعة (أ)

- (أ)
١ - كان الإنسان المصرى القديم يعيش فوق
٢ - عرف الإنسان المصرى القديم الزراعة عندما نزل إلى
٣ - كانت عاصمة مملكة الجنوب تسمى
٤ - كان لون تاج مملكة الشمال
٥ - عرف الإنسان المصرى القديم الكتابة باللغة
- (ب)
الهيروغليفية
بوتو
الوادي
الهضبة
نخب
أحمر

الامتحان رقم ٤

س ١ : ضع علامة (√) أو (x) أمام ما يلي :

- (أ) يحد مصر من الغرب دولة السودان ومن الجنوب ليبيا ()
(ب) القلزم هو الاسم القديم لبورسعيد ()
(ج) سكن الإنسان المصرى القديم الكهوف فوق الهضاب ()
(د) يزداد عدد السكان فى الصحاري ()
(هـ) كانت عاصمة مملكة الشمال بوتو ()

س ٢ : أكمل ما يلي :

- (أ) هو الاسم القديم لميناء السويس .
(ب) أعلى قمة فى مصر هى قمة جبل
(ج) يعد الملك هو مؤسس أول أسرة فرعونية حاكمة
(د) كان حاكم مملكة الجنوب يلبس تاجا لونه
(هـ) مساحة واسعة من اليايس تضم عددا من الدول داخلها

س ٣ : تخير الإجابة الصحيحة من بين الأقواس :

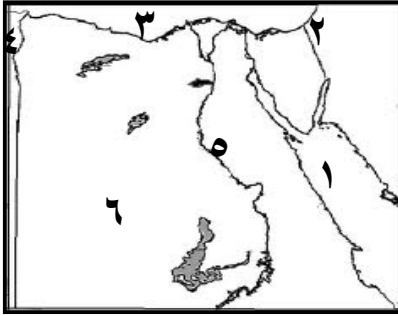
- (أ) يحد مصر من البحر الأحمر (الجنوب - الشرق - الشمال - الغرب)
(ب) عرف الإنسان المصرى القديم الاستقرار عندما تعلم
(ج) تنمو عندما تكون الأمطار غزيرة (الحشائش - النباتات - الغابات)
(د) توصل المصريون القدماء إلى معرفة الكتابة (الصينية- الإنجليزية- الهيروغليفية)
(هـ) تربط قناة السويس بين (البحر المتوسط والأحمر)
(و) كانت عاصمة مملكة الجنوب (أون هليوبوليس - نخب - بوتو)
(ز) تقوم الدولة بعمل تعداد سكانى كل سنوات (٥ - ٨ - ١٠ - ٦)
(ى) من المحافظات الجاذبة للسكان (مطروح - الشرقية - الإسكندرية)

س ٤ : أكتب مفهوم كل عبارة

- (أ) حفظ جثث الموتى سليمة بمظهرها وشكلها
 (ب) النبات الذي ينمو بشكل طبيعي دون تدخل الإنسان فيه
 (ج) النسبة بين المسافة على الخريطة وما يقابلها على الطبيعة
 (د) أرض شديدة الارتفاع ولها قمة
 (هـ) كل ما يحيط بالإنسان من ظواهر طبيعية وحضارية
 (و) انتقال الأفراد من مكان إلى آخر داخل حدود الدولة

س ٥: بم تفسر :

- (أ) ضيق السهول الساحلية على البحر الأحمر
 (ب) محافظات الحدود محافظات طاردة
 (ج) قيام الدولة بعمل التعداد السكاني
 الامتحان رقم ٥



س ١: (أ) اكتب مدلول الأرقام على الخريطة التالية :

- ١- البحر
 ٢- دولة
 ٣- البحر
 ٤- دولة
 ٥- نهر
 ٦- الصحراء

(ب) بم تفسر

- ١- ضيق السهول الساحلية على البحر الأحمر .
 ٢- ازدحام السكان في الوادي والدلتا .

س ٢: أكمل ما يلي :

- (١) المحافظات التي يخرج منها السكان تسمى محافظات
 (٢) تقع مصر في الركن الشمالي الشرقي لقارة
 (٣) ترجع الزيادة في أعداد السكان في مصر إلى و
 (٤) تعتبر محافظة العاصمة الحالية لجمهورية مصر العربية .
 (٥) الاسم القديم لميناء السويس هو

س ٣: اكتب المفهوم العلمي :

- (١) انتقال الأفراد من مكان إلى مكان آخر .
 (٢) حصر عدد السكان مرة كل عدة سنوات .
 (٣) مساحة واسعة من اليابس تضم عدد من الدول داخلها .
 (٤) النسبة بين المسافة على الخريطة وما يقابلها في الطبيعة .
 (٥) نبات ينمو دون أن يزرعه الإنسان .

س ٤: أكمل ما يلي :

- (١) السبب الأول لقيام الحضارة المصرية القديمة هو
 (٢) كان المصري القديم يصنع ملابس من و
 (٣) سجل مينا انتصاراته على لوحة
 (٤) تبدأ العصور التاريخية بمعرفة الإنسان
 (٥) قبل حفر قناة السويس كانت السفن تدور حول قارة إفريقيا في طريق يسمى

س ٥: (أ) بم تفسر .

- (١) كون الملك مينا جيشاً قوياً ؟
 (٢) نزول المصري القديم من الهضبة إلى الوادي ؟
 (٣) هجرة السكان من مكان لآخر ؟
 (ب) قارن بين مملكتي الشمال والجنوب من حيث المكان والعاصمة ولون التاج والشعار

الامتحان رقم ٦

س ١: ضع علامة (√) أو علامة (×) :-

- ١- () الشمال والجنوب من الجهات الأصلية

- ٢- () يقع ميناء بور سعيد علي رأس قناة السويس من جهة الشمال
 ٣- () تعد محافظة الفيوم من محافظات الوجه البحري
 ٤- () مؤسس أول أسرة في تاريخ مصر الفرعونية الملك نارمر

س٢ : بم تفسر :-

- ١- أهمية مقياس الرسم .
 ٢- أهمية الوحدة التي حققها الملك مينا .

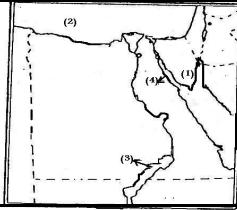
س٣ : أكمل العبارات الآتية :-

- ١- ساهم في نشأة الحضارة المصرية كل من و و
 ٢- يمتد معظم مساحة محافظة داخل الصحراء الغربية
 ٣- ساعدت الموارد الطبيعية التي أنعم الله بها على مصر على

س٤ : اختر من المجموعة (ب) ما يناسب المجموعة (أ) :-

- | | |
|---------------------------------------|-----------------|
| (أ) | (ب) |
| ١- الشمال الشرقي والجنوب الغربي جهتان | - أحمر |
| ٢- بلغ عدد سكان مصر عام ٢٠٠٦م | - أبيض |
| ٣- لبس ملك الشمال تاج لونه | - ٧٣ مليون نسمة |
| | - ٧٥ مليون نسمة |
| | - متقابلتان |

س٥ : وضح مدلول الأرقام على الخريطة :-



- ١- البحر
 ٢- دولة
 ٣- عاصمة مملكة الجنوب
 ٤- فرع

الامتحان رقم ٧

السؤال الأول :- أكمل ما يأتي :-

- ١- تهتم الدراسات الاجتماعية بدراسة السكان في كل من و والتخطيط للمستقبل
 ٢- من المحافظات الجاذبة للسكان و
 ٣- تتوسط مصر ثلاث قارات هي وأفريقيا و
 ٤- تطورت الكتابة الهيروغليفية من مرحلة إلى مرحلة

السؤال الثاني :- ضع علامة (√) أو علامة (×) :-

- ١- () مقياس الرسم في جميع الخرائط متساوية
 ٢- () نجح مينا في توحيد المملكتين عام ٤٢٤٢ ق.م
 ٣- () ساعدت حدود مصر على استقرارها بين جيرانها
 السؤال الثالث : اكتب ما تشير إليه كل عبارة مما يأتي :-

- ١- مساحة من الأرض تنخفض عما حولها
 ٢- فتحة عميقة في الجبل يلجأ إليها الإنسان للنوم أو الحماية من الحيوانات المفترسة
 ٣- هو النبات الذي ينمو بشكل طبيعي دون أن يزرعه الإنسان
 ٤- انتقال الأفراد من مكان لآخر داخل حدود الدولة

السؤال الرابع : اختر الإجابة الصحيحة مما بين القوسين :-

- ١- بعد معرفة الزراعة تطلب (الاستقرار - التعاون - المشاركة - كل ما سبق)
 ٢- يحدد اتجاه الشمال على الخريطة عن طريق (السهم - المربع - المثلث - المستطيل)
 ٣- العصور التاريخية تبدأ بمعرفة الإنسان (الزراعة - الصيد - الكتابة - الصناعة)
 ٤- يجري تعداد السكان في مصر كل سنوات (٤ - ٥ - ٩ - ١٠)

السؤال الخامس : اختر من المجموعة (ب) ما يناسب المجموعة (أ) :-

- | | |
|---------------------------------|-----------------|
| (أ) | (ب) |
| ١- من عوامل قيام الحضارة في مصر | - أحمر |
| ٢- أدت الى نشر الأمن والطمأنينة | - الوادي الجديد |
| ٣- من المحافظات الصحراوية | - أبيض |
| ٤- لبس ملك الشمال تاجا لونه | - المناخ |
| | - الوحدة |

الامتحان رقم ٨

السؤال الأول : ضع علامة (√) أو علامة (×) :-

- ١- () اتجاه الغرب عكس اتجاه الجنوب
- ٢- () نجح مينا في توحيد البلاد عام ٢٤٢ ق م.
- ٣- () من أشهر الهضاب فى مصر هضبة مارمريكا
- ٤- () عاش الإنسان فى العصر الحجرى حياة مستقرة

السؤال الثانى : أكمل ما يأتى :-

- ١- يتكون معدن البرونز من خلط معدن مع
- ٢- تتميز محافظة جنوب سيناء بموقعها على خليجى و
- ٣- النسبة بين المسافة على الخريطة وما يقابلها على الطبيعة

السؤال الثالث : اختر الإجابة الصحيحة مما بين القوسين :-

- ٢- بنى الملك مينا منف لتكون عاصمة البلاد وبنى حولها
(حديقة - قلعة - سور - مدرسة)
- ٣- بدأت العصور التاريخية بمعرفة الإنسان ل..... (الكتابة- الصناعة- التجارة- الصيد)
- ٤- تعدد إحدى قارات العالم القديم (استراليا- أفريقيا- أمريكا الشمالية- أمريكا الجنوبية)

السؤال الرابع : اذكر سببا واحدا لكل من :

- ١- وجود أعداد من السكان فى الواحات .
 - ٢- كان المصرى قديما يأوى إلى الكهوف فوق الهضاب .
- السؤال الخامس :- اختر من المجموعة (ب) ما يناسب المجموعة (أ) :-

- | | |
|-----------------------------------|------------------|
| (أ) | (ب) |
| ١- عاصمة مملكة الشمال | - طيبة |
| ٢- من المحافظات المزدهمة بالسكان | - الوادى الجديد |
| ٣- عاصمة مصر الموحدة عام ٢٤٢ ق م. | - بوتو |
| ٤- مدينة ظهر فيها مينا | - القاهرة |
| | - أون هليو بوليس |

الامتحان رقم ٩ (مدرسة على بن أبى طالب بسفاجا)

السؤال الأول :- أكمل ما يأتى :-

- ١- الجهات الأصلية هى و و
- ٢- تقع مصر عند ملتقى ثلاث قارات هى و و
- ٣- يندر عدد سكان مصر فى المناطق و و
- ٤- عوامل قيام الحضارة المصرية القديمة الموارد الطبيعية و و

السؤال الثانى :- ضع علامة (√) أو علامة (×) :-

- ١- () يساعدنا مقياس الرسم على تحديد اتجاه الشمال
- ٢- () القلزم هو الاسم القديم لقناة السويس
- ٣- () نجح الملك مينا فى تحقيق الوحدة بين أقاليم البلاد

السؤال الثالث :- اختر الإجابة الصحيحة مما بين القوسين :-

- ١- لتحديد الجهات الأصلية على الخريطة سهم يشير إلى
- ٢- تتمثل الهجرة الاختيارية فى هجرة..... (الحروب - العمالة - الزلازل)
- ٣- كانت عاصمة مملكة الشمال (نخب - طيبة - بوتو)

السؤال الرابع :- اعط المفهوم الدال على كل عبارة مما يلى :-

- ١- (.....) كل ما يحيط بالإنسان من ظواهر طبيعية ومظاهر حضارية
- ٢- (.....) مساحة واسعة من الأرض قليلة الارتفاع مستوية أو شبه مستوية
- ٣- (.....) انتقال الأفراد من مكان لآخر
- ٤- (.....) قلعة بنى حولها سورا أبيض كانت عاصمة لمصر سماها العرب منف

السؤال الخامس :- بم تفسر :-

- ١- لمادة الدراسات الاجتماعية أدوات هامة ومتعددة .

- ٢- تزداد معدلات الهجرة إلى المدن الكبيرة مثل القاهرة والإسكندرية .
٣- أهمية الكتابة في حياة المصري القديم .

الامتحان رقم ١٠

س ١: أكمل العبارات الآتية:-

- ١- يتكون معدن البرونز من معدن مع معدن
٢- أجرى أول تعداد للسكان في مصر عام..... وقد بلغ عدد السكان مليون نسمة
٣- تطل مصر على بحرين من أهم بحار العالم هما و
٤- المناخ هو دراسة حالة في فترة زمنية

س ٢: - ضع علامة (√) أو علامة (×) :-

- ١- بعد أن استقر الإنسان المصري وعمل بالزراعة نشأت القرى ثم المدن ()
٢- اتخذ الملك مينا من مدينة " أون " عاصمة للبلاد ()
٣- الخريطة صورة فوتوغرافية تلتقط لبعض الأماكن ()
٤- أدت الوحدة بين الأقاليم إلى قيام حكومة مركزية لخدمة الشعب ()

س ٣: اختر الإجابة الصحيحة مما بين القوسين:-

- ١- صنع الإنسان المصري القديم ملابسه من (الصوف- القطن- الكتان- الحرير)
٢- يوجد في أي خريطة سهم يشير دائما إلى اتجاه..... (الشمال- الجنوب- الشرق- الغرب)
٣- يجري تعداد سكاني في مصر كل سنوات (٤ - ٦ - ٨ - ١٠)
٤- عرف المصريون القدماء الكتابة..... (العربية - الهيروغليفية- الفرنسية - اليونانية)

س ٤: صل من العمود (أ) بما يناسبه من العمود (ب):-

- | | |
|------------------------------------|---------------------|
| (أ) | (ب) |
| ١- نجح مينا في توحيد البلاد عام | - نخب |
| ٢- من أكثر المناطق ازدهاما بالسكان | - ليبيا |
| ٣- يجاور مصر من الغرب | - ٣٢٠٠ ق.م |
| ٤- عاصمة مملكة الجنوب | - بوتو |
| | - ٢٤٢ ق.م |
| | - وادي النيل ودلتاه |

س ٥: (أ) بم تفسر: ١- هجرة الإنسان القديم الهضاب والنزول إلى الوادي
٢- تسعى الدولة إلى تحسين ظروف المعيشة في المحافظات الطاردة

(ب) أكتب ما تشير إليه كل عبارة:-

- ١- النبات الذي ينمو بشكل طبيعي دون أن يزرعه الإنسان
٢- حفظ الجسم سليما بمظهره وشكله بعد الموت

الامتحان رقم ١١ (مدرسة بنايوس ٢٠١٠م بغرب الزقازيق)

س ١: أكمل الجمل الآتية :- (أ) المناخ يقصد به دراسة حالة الجو في مدة

- (ب) زادت أهمية موقع مصر بعد حفر
- (ج) يندر وجود السكان في المناطق

(د) حياة المصري القديم كانت مستقرة .

س ٢: ضع علامة (√) أمام العبارة الصحيحة وعلامة (×) أمام العبارة الخاطئة:

- (أ) تقع مصر إلى الجنوب من البحر الأحمر . ()
(ب) تبدأ العصور التاريخية بمعرفة الإنسان للكتابة . ()
(ج) يتساوى أعداد السكان في جميع أنحاء مصر . ()

س ٣: اختر الإجابة الصحيحة مما بين القوسين :-

- (أ) ينمو النبات الطبيعي في المناطق (الباردة - الصحراوية - الموسمية - المطيرة)
(ب) تتوسط مصر قارات (ثلاث - أربع - خمس - ست)
(ج) سكن الإنسان المصري قديما بداية حياته (المدن - الكهوف - القرى)
(د) يقدر عدد سكان مصر عام ٢٠٠٧ بـ..... مليون نسمة تقريبا. (٧٨.٧ - ٦٠ - ٥٠)

- س ٤ : صحح الخطأ الذي تحته خط في الجمل التالية :-
أ) تربط قناة السويس بين البحر المتوسط والمحيط الاطلنطي
ب) تقل أعداد السكان في المناطق الغنية بموارد المياه.
ج) مساحة مصر تصل إلى ٢ مليون كيلو متر مربع .
د) يحد مصر من الشمال البحر الأحمر .

س ٥ :- بم تفسر :

- أ) أهمية نهر النيل .
ب) هجرة الإنسان المصري قديما للهضاب .

الامتحان رقم ١٢

س ١ : أكمل ما يأتي :-

- ١- يعمل سكان الصحارى غالبا بحرفة
٢- كانت السويس قديما تعرف باسم
٣- تجاور مصر من الجنوب دولة
٤- التعداد السكاني هو قيام الدولة بحصر سكانها مرة كل عدة
س ٢ : ضع علامة (√) أمام العبارات الصحيحة و علامة (×) أمام الخاطئة :-
١- السهم المرسوم على الخريطة يشير إلى اتجاه الجنوب () .
٢- قارة أوربا ثاني قارات العالم مساحة () .
٣- يعمل سكان القرى بحرفة الزراعة وتربية الحيوانات () .
٤- الهجرة الخارجية هي انتقال الأفراد من مكان لآخر خارج الوطن () .

س ٣ : اكتب ما تدل عليه كل عبارة :-

- ١- النسبة بين المسافة على الخريطة وما يقابلها على الطبيعة
٢- نبات ينمو بشكل طبيعي دون تدخل الإنسان
٣- ارتفاع نسبة المواليد وانخفاض نسبة الوفيات
٤- طريق القوافل التجارية قديما قبل حفر قناة السويس

س ٤ : اختر الإجابة الصحيحة مما بين الأقواس :-

- ١- تمتد بطول نهر النيل (السهول الفيضية - السهول الساحلية - المنخفضات)
٢- من المحافظات الطاردة للسكان (القاهرة - الإسكندرية - محافظات الحدود)
٣- المناخ هو حالة الجو في فترة طويلة (أسبوع - شهر - يوم)

س ٥ : بم تفسر :

- ١- ضيق السهول الساحلية على البحر الأحمر.
٢- زادت أهمية مصر بعد حفر قناة السويس .
٣- ارتفاع نسبة المواليد وانخفاض نسبة الوفيات.
٤- يتركز السكان في محافظات الوادي والدلتا.

الامتحان رقم ١٣

س ١ : أكمل

- ١- يندر وجود السكان بمصر في مناطق و و
٢- تقع مصر عند ملتقى قارات العالم القديم وهي و و
٣- تم حفر قناة السويس لتربط بين البحرين و
٤- لنهر النيل فرعان هما و

س ٢ : ضع علامة (√) أمام العبارات الصحيحة و علامة (×) أمام الخاطئة :-

١. مؤسس أول أسرة حاكمة في مصر القديمة هو نارمر . ()
٢. يتزايد عدد السكان على سواحل البحرين المتوسط والأحمر . ()
٣. محافظات الحدود مناطق طرد سكاني . ()
٤. يطلق كلمة المناخ على حالة الجو خلال ثلاثة أيام . ()

س ٣ : اكتب ما تدل عليه كل عبارة :-

- ١- النبات الذي ينمو دون تدخل الإنسان.
٢- النسبة بين المسافة على الخريطة وما يقابله على الطبيعة.

٣- مساحة من الأرض منخفضة عما حوله.

٤- هي قسمة عدد السكان على جملة المساحة.

س ٤ : اختر الإجابة الصحيحة مما بين الأقواس :-

- ١- نحدد اتجاه الشمال على الخريطة ب..... (سهم - دائرة - مستطيل)
- ٢- تبدأ العصور التاريخية عندما عرف الإنسان (الزراعة - الصيد - الكتابة)
- ٣- كل ما فى المكان من جبال وسهول وأنهار يسمى (تضاريس- خرائط - هضبة)

السؤال الخامس : اختر من العمود الأول ما يناسبه من العمود الثانى :-

- ١- جبل يقع جنوب غرب مصر هو . - جبل العوينات
- ٢- بلاد الصومال كانت تسمى. - جبل البحر الأحمر
- ٣- اكبر جبل فى مصر هو . - بلاد الفيتيقيين
- ٤- بلاد الشام كانت تسمى . - بلاد الأندلس
- ٤- بلاد بونت . - بلاد بونت

الامتحان رقم ١٤

س ١ : أكمل ما يأتى :-

- ١- توجد أعداد قليلة من السكان فى المنتشرة بالصحراء الغربية
- ٢- زادت أهمية موقع مصر بعد حفر
- ٣- تقع مدينة على قناة السويس من جهة الشمال
- ٤- يجاور مصر من الشمال الشرقى دولة

س ٢ : ضع علامة (√) أمام العبارات الصحيحة و علامة (×) أمام الخاطئة :-

- ١- توصل المصريون القدماء إلى معرفة الكتابة الصينية . ()
- ٢- السهول الفيضية ارض ضيقة خصبة ()
- ٣- الصحارى من المناطق الخالية أو شبه الخالية من السكان. ()
- ٤- يزدحم السكان فى المناطق الجبلية ()

س ٣ : اكتب ما تدل عليه كل عبارة :-

- ١- المواد الدراسية التى تهتم بدراسة الإنسان وعلاقته بالبيئة.
- ٢- دراسة حالة الجو فى فترة طويلة.
- ٣- السهول التى تقع على طول نهر النيل.
- ٤- سجل عليها الملك مينا أخبار معركته مع مملكة الشمال.

س ٤ : أختَر الإجابة الصحيحة مما بين الأقواس :-

- ١- العامل الرئيسى على قيام الحضارة المصرية (نهر النيل - الدلتا- الوادى)
- ٢- قبل حفر قناة السويس كانت السفن تضطر للدوران حول (أوروبا- آسيا- أفريقيا)
- ٣- الاسم الحالى لمدينة طيبة (ادفو - الأقصر - دسوق)
- ٤- من اشهر المنخفضات فى مصر منخفض (الفيوم - القطارة - الواحات)

س ٥ : اكتب المصطلح العلمى للعبارة :-

- ١- يوضح معانى الرموز والألوان مما يساعد على قراءة الخريطة
- ٢- دولة تقع جنوب مصر .
- ٣- أرض شديدة الارتفاع ولها قمة
- ٤- عاصمة مملكة الشمال .

الامتحان رقم ١٥

س ١ : أكمل ما يأتى :-

- ١- من المحافظات التى تقع على ساحل البحر المتوسط و
- ٢- من أعلى جبال مصر بشبه جزيرة سيناء جبل
- ٣- صنع الإنسان المصرى القديم ملابس من
- ٤- السبب الأول فى قيام الحضارة المصرية القديمة

س ٢ : ضع علامة (√) أمام العبارات الصحيحة و علامة (×) أمام الخاطئة :-

١. من المحافظات الجاذبة للسكان محافظتا القاهرة والإسكندرية. ()
٢. النبات الطبيعي هو الذى ينمو نتيجة تدخل الإنسان. ()
٣. زادت أهمية موقع مصر بعد حفر ترعة السلام. ()
٤. يزداد عدد السكان على الجبال. ()

س ٣ : اكتب ما تدل عليه كل عبارة :-

- ١- عاصمة مملكة الجنوب.
- ٢- أكبر قارات العالم من حيث المساحة.
- ٣- أشكال سطح الأرض المختلفة من جبال وتلال وهضاب وسهول.
- ٤- عملية حصر السكان للتعرف على أعدادهم وتركيبهم.

س ٤ : أختَر الإجابة الصحيحة مما بين الأقواس :-

- ١- الملك الذى حقق الوحدة [مينا - أحمس - خوفو]
- ٢- ارض مرتفعة قليلا ولها قمة [الجبل - السهل - التل]
- ٣- لجأ المصري القديم إلى قبل النزول إلى الوادى [المنازل - الكهوف - الفنادق]
- ٤- تضيق السهول الساحلية عند [البحر الأحمر- البحر المتوسط- نهر النيل]

س ٥ : بم تفسر :

- (أ) اعتزاز المصريين بالملك مينا.
- (ب) لحجر رشيد أهمية كبيرة.
- (ج) ازدهام المصريين فى وادى النيل والدلتا.
- (د) محافظات الحدود طاردة للسكان.

الامتحان رقم ١٦

س ١ : أكمل ما يأتى :-

- ١- كانت السفن قبل حفر قناة السويس تدور حول قارة
- ٢- تقع مصر عند ملتقى قارات العالم
- ٣- الإسكندرية من محافظات السكانى.
- ٤- الزيادة الطبيعية تعنى الفرق بين و

س ٢ : ضع علامة (√) أمام العبارات الصحيحة و علامة (×) أمام الخاطئة :-

- ١ الجيش من عوامل قيام الحضارة المصرية القديمة. ()
٢. تنتشر الأودية بصحراء مصر الغربية . ()
٣. تتناول الدراسات الاجتماعية حياة الإنسان فى الماضى والحاضر. ()
٤. تعد الغردقة اشهر المدن الساحلية على البحر المتوسط . ()

س ٣ : اكتب ما تدل عليه كل عبارة :-

- ١- الشمال والجنوب والشرق والغرب.
- ٢- سهم يرسم على الخريطة يساعدنا على تحديد الجهات الأصلية.
- ٣- ارض شديدة الارتفاع ولها قمة.
- ٤- حجر كان السبب فى فك رموز اللغة الهيروغليفية.

س ٤ : أختَر الإجابة الصحيحة مما بين الأقواس :-

- ١- كانت عاصمة مملكة الشمال [بوتو - نخب - منف]
- ٢- تقع مصر فى الركن الشمالى الشرقى لقارة [أوروبا - آسيا - أفريقيا]
- ٣- عملية حصر السكان تسمى [كثافة سكانية- تعداد سكانى- ازدهام سكانى]
- ٤- القلزم هو الاسم القديم لميناء [دمياط - الإسكندرية - السويس]

س ٥ : اختر من العمود الأول ما يناسبه من العمود الثانى :-

- ١- يتركز السكان فى . - خط طول ٢٥
- ٢- يندر السكان فى . - خط طول ٢٣
- ٣- ينخفض السكان فى . - دائرة عرض ٢٢
- ٤- تقع السودان جنوب مصر عند . - الجبال و الصحارى
- ٤- تقع السودان جنوب مصر عند . - محافظات الوادى والدلتا

الامتحان رقم ١٧

س ١ أكمل الجمل الآتية :

- ١- تربط قناة السويس بين و.....
- ٢- وصلت السفن المصرية إلى بلاد شمالاً
- ٣- يحد مصر من جهة الشرق و.....
- ٤- من أهمية التعداد و.....

س ٢ أين تقع الظواهر التضاريسية الآتية في مصر:

- هضبة مار مارिका
- هضبة الجلف الكبير
- جبل سانت كاترين
- منخفض القطارة

س ٣ بم تفسر :

- ١- أهمية التعداد السكاني
- ٢- هجرة بعض السكان من محافظة إلى أخرى

س ٤: ما الفرق بين الحدود الطبيعية والحدود البشرية ؟

س ٥: اختر من المجموعة (ب) ما يناسب المجموعة (أ)

- | | |
|--|-------------------------------|
| (أ) | (ب) |
| ١- محافظات الحدود من المحافظات الطاردة | - إتاحة فرص العمل أمام الشباب |
| ٢- إقامة مشروعات اقتصادية في المحافظات | - تحديد احتياجات الدولة |
| ٣- هجرة بعض السكان من محافظة إلى أخرى | - بحثاً عن فرص العمل والتعليم |
| ٤- أهمية التعداد السكاني | - قلة فرص العمل |

الامتحان رقم ١٨

س ١: أكمل ما يلي

- ١- تقع جمهورية مصر العربية في قارة
- ٢- يحد مصر من جهة الشمال البحر
- ٣- الزيادة السكانية الطبيعية هي الفرق بين و.....
- ٤- استقر الإنسان المصري القديم على ضفاف نهر النيل لممارسة حرفة

س ٢: اختر الإجابة الصحيحة مما بين الأقواس

- ١- من عوامل قيام الحضارة المصرية
- (الأهرامات - أبو الهول - الموقع الجغرافي)
- ٢- الملك الذي حقق الوحدة لمصر هو (أحمس - مينا - خوفو)
- ٣- يجري تعداد السكان في مصر كل سنوات (٤ - ٥ - ١٠)
- ٤- مقياس الرسم: النسبة بين المسافة على الخريطة وما يقابلها على
(الرسم- الطبيعة - السهم)

س ٣: ضع علامة (√) أمام العبارة الصحيحة وعلامة (x) أمام العبارة الخاطئة

- ١- هناك علاقة متبادلة بين الإنسان والبيئة المحيطة به
- ٢- في العصر الحجري القديم كانت تصنع الأدوات من الحديد
- ٣- يدور طريق رأس الرجاء الصالح حول قارة آسيا
- تتميز مصر بعدم وجود مشكلات سياسية مع جيرانها

س ٤: اعط مفهومًا لكل عبارة من العبارات الآتية

- ١- (.....) أرض شديدة الارتفاع ولها قمة
- ٢- (.....) دراسة حالة الجو في فترة زمنية طويلة
- ٣- (.....) انتقال الإنسان من مكان إلى آخر داخل الدولة
- ٤- (.....) الأزمان التي عاش فيها الإنسان قبل معرفة الكتابة

س ٥: بم تفسر

- ١- أهمية نهر النيل.
٢- قلة السكان في المحافظات الصحراوية .

الامتحان رقم ١٩

س ١ ضع علامة (√) أمام العبارة الصحيحة وعلامة (×) أمام العبارة الخاطئة:

- ١- الجهة المحصورة بين الجنوب والشرق تسمى الجنوب الغربى ()
٢- يدور طريق رأس الرجاء الصالح حول قارة آسيا ()
٣- تربط قناة السويس بين البحر الأحمر والبحر المتوسط ()
٤- الزيادة الغير طبيعية للسكان هي التي تنبع عن الهجرة ()
٥- النبات الطبيعي هو النبات الذي يزرعه الإنسان ()

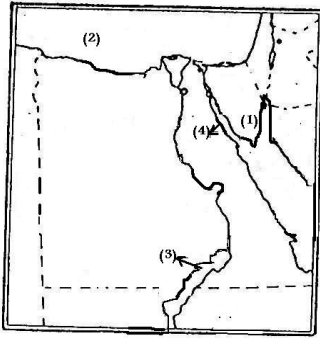
س ٢ أكمل الجمل الآتية :

- ١- من الوسائل الضرورية التي تساعد على تعلم الدراسات الاجتماعية
٢- تطل مصر من ناحية الشمال على البحر
٣- عاصمة مصر الموحدة التي أنشأها الملك مينا هي مدينة
٤- تعرف محافظات الحدود بالمحافظات للسكان
٥- تبلغ مساحة مصر حوالى كيلو متر مربع

س ٣ تخير الإجابة الصحيحة من بين الأقواس :

- ١- تنتشر فى القرية المصرية حرفة
[الصناعة - الزراعة - صيد السمك - قطع الأخشاب]
٢- ميناء القلزم القديم هو الآن ميناء [بورسعيد- سفاجا- السويس- الإسكندرية]
٣- أجرى أول تعداد سكانى فى مصر عام م [١٩٩٠ - ١٩٧٣ - ٢٠٠٦ - ١٨٨٢]
٤- يشير السهم فى الخريطة إلى جهة [الشمال- الشرق - الجنوب - الغرب]
٥- قامت أول وحدة فى مصر الفرعونية عام ق.م [٢٢٠٠ - ٣٢٠٠ - ٤٢٤٢ - ٥٢٠٠]

س ٤ أمامك خريطة صماء لمصر .



- اكتب ما تدل عليه الأرقام
١- العاصمة التي بناها مينا
٢- البحر
٣- دولة
٤- خليج
٥- نهر
٢
١
٤
٥
٣

س ٥: بم تفسر :

- ١- كثرة التنقل والترحال للمصري القديم فوق الهضاب
٢- أهمية نهر النيل للحضارة المصرية القديمة
الامتحان رقم ٢٠

س ١ : أكمل ما يأتى :-

- ١- تطل مصر من ناحية الشرق على البحر
٢- تكتظ بالسكان مقارنة بالوادي
٣- المناخ يقصد به حالة الجو في مدة
٤- بعد استقرار الإنسان المصري القديم اشتغل بحرفة
٥- أشكال السطح المختلفة يقصد بها

س ٢ : ضع علامة (√) أمام العبارات الصحيحة وعلامة (×) أمام الخاطئة :-

- ١- من المحافظات الجاذبة للسكان محافظتا القاهرة والإسكندرية. ()
٢- النبات الطبيعي هو الذى ينمو نتيجة تدخل الإنسان . ()

٣- صنع الإنسان المصرى القديم ملابسه من القطن . ()

٤- قامت مصر بعمل أول تعداد لها عام ١٨٢٨ . ()

٥- نجح نارمر في توحيد البلاد عام ٢٣٠٠ ق.م . ()

س ٣ : أكتب ما تدل عليه كل عبارة :-

١- هي المواد التي تهتم بدراسة الإنسان وعلاقته بالمجتمع الذى يعيش فيه

٢- أرض شديدة الارتفاع ولها قمة

٣- قسمة عدد السكان على المساحة التي يعيشون عليها .

٤- هي النسبة بين المسافة على الخريطة وما يقابلها على الطبيعة

٥- يقصد بها الفترة الزمنية التي عاش فيها الإنسان قبل معرفة الكتابة

س ٤ : اختر الإجابة الصحيحة مما بين الأقواس :-

١- الملك الذى حقق أول وحدة لمصر هو [أحمس - خفرع - رع - مينا]

٢- أراضي خصبة كونها نهر النيل برواسبه والمحصورة بين فرعى رشيد ودمياط

[وداي النيل - السهل - الدلتا - الجبل]

٣- اعتقد المصرى القديم بالبعث والخلود لذا كان يهتم بعملية

[البناء - التحنيط - العبادة - كل ما سبق]

٤- كانت عاصمة مملكة الشمال تسمى

[بوتو- نخب - طيبة - منف]

٥- السهم التي يرسم أعلى الخريطة يدل على [الجنوب- الشمال- الشرق- الغرب]

س ٥ : أولاً: بم تفسر

١- هجرة المصرى القديم للهضاب ونزوله إلى الوادى

٢- بناء الإنسان المصرى القديم المساكن في وادى النيل

٣- ضيق السهول الساحلية المطلة على البحر الأحمر فى مصر

ثانياً : ما النتائج المترتبة على

١- أهمية موقع مصر الجغرافى

٢- هجرة بعض السكان من محافظة إلى أخرى

الامتحان رقم ٢١ (للمتفوقين)

س ١ : ضع علامة (√) أمام العبارات الصحيحة و علامة (×) أمام الخاطئة :-

١- من إنجازات الملك مينا بناء قلعة الجبل .

٢- عاش الإنسان القديم عصر الحديد قبل عصر البرونز.

٣- حرفه الرعى هي أهم حرفه لكل القرى المصرية

٤- عاش الإنسان المصرى القديم فوق الهضاب حياة غير مستقرة

٥- نجح الملك مينا فى توحيد البلاد سنة ٣٣٠٠ ق.م.

٦- يتساوى أعداد السكان فى جميع أنحاء مصر

٧- السهم المرسوم على الخريطة يشير إلى اتجاه الجنوب

٨- صنع الإنسان بيته من الطوب الأحمر

٩- عدد سكان مصر سنة ٢٠٠٨ هو ٧٣ مليون نسمة

١٠- بنى الملك مينا قلعه تسمى بوتو.

١١- تعتبر بلاد بونت هي بلاد الشام حالياً .

١٢- القلزم هو الاسم القديم لميناء الاسكندرية

١٣- يعرف الطريق البديل لقناه السويس براس الرجاء الصالح

١٤- المناخ هو دراسة حاله الجو فى مده قصيرة

١٥- هناك علاقة متبادلة بين الإنسان و البيئة التي يعيش فيها

١٦- تحدث الزيادة السكانية بسبب الزيادة الطبيعية فقط

س ٢ : أكمل ما يأتى :-

١- تقع مصر فى الركن لقارة أفريقيا

٢- كان نبات البردى شعاراً لمملكة

٣- صنع الإنسان المصرى القديم ملابسه من

٤- السبب الأول فى قيام الحضارة المصرية القديمة

- ٥- الزيادة الطبيعية تعنى الفرق بين و
 - ٦- تقع مصر عند ملتقى قارات العالم القديم وهي و و
 - ٧- الإسكندرية من محافظات السكاني
 - ٨- بدأ استقرار الإنسان المصري وولأوه لمكانه بعد معرفته
 - ٩- أجرى أول تعداد سكاني في مصر عام
 - ١٠- يعمل سكان الصحارى غالبا بحرفة
 - ١١- بنى المصري القديم مساكنه من
 - ١٢- حبي لقريتي أو مدينتي يسمى وحبي لأسرتي يسمى
 - ١٣- يقع جبل العوينات من مصر.
 - ١٤- انتقال الإنسان من مكان لآخر داخل الدولة يسمى
 - ١٥- مناخ مصر حار جاف في فصل ودافئ ممطر في
 - ١٦- النبات الطبيعي هو والتضاريس هي
- س ٣ : أختَر الإجابة الصحيحة مما بين الأقواس :-**

- ١- عاصمه مملكه الشمال هي (بونت - بوتو - بولا)
- ٢- بنى المصري القديم مساكنه من (الطوب اللبن - الاسمنت - الحجاره)
- ٣- عاصمه مملكه الجنوب هي (نحت - نخب - نجد)
- ٤- اشتغل المصري القديم بعد نزوله الى الوادى ب (الصناعه - الزراعه - الصيد)
- ٥- شعاع مملكه الجنوب هو (البردى - اللوتس - الكتان)
- ٦- عاصمه الوحده الاولى عام ٢٤٢ ق م هي (بوتو - منف - أون هليوبوليس)
- ٧- من عوامل قيام الحضاره المصريه (الطقس - الجيش - الكتابه)
- ٨- الملك الذى حقق الوحده لمصر هو (خوفو - أحمس - مينا)
- ٩- وصل الأسطول المصري إلى بلاد الشام حاليا (الفام - الفينقيين - الفينقن)
- ١٠- تقع في أقصى جنوب غرب مصر (منخفض الفيوم- جبل العوينات- هضبه مارمريكا)
- ١١- سكن المصري القديم في بدايه حياته في (القرى - المدن - الكهوف)
- ١٢- صنع الإنسان ملاسسه من جلد الحيوانات و (الحرير - الكتان - القطن)
- ١٣- يجرى تعداد السكان مره كل سنوات . (١١ - ١٠ - ١٢)
- ١٤- يقدر عدد سكان مصر سنه ٢٠٠٨ ب مليون نسمة (٧٥ - ٧٣ - ٥٧)
- ١٥- حدود مصر الشرقيه حدود (بشريه - طبيعيه - الاتنين معا)
- ١٦- الجبال على الخريطه تلون باللون (البنى - الأخضر - الأزرق)

س ٤ : أكتب ما تدل عليه كل عبارة :-

- ١- قناة ربطت بين البحرين المتوسط والأحمر
- ٢- عاصمة مصر الموحدة عام ٢٤٢ ق.م
- ٣- الشعاع الذى اتخذته مملكة الشمال
- ٤- محافظات مستقبله للمهاجرين كالقاهرة والإسكندرية
- ٥- مؤسس الأسرة الأولى الفرعونية وموحد القطرين .
- ٦- تكونت من اتحاد القرى والمدن
- ٨- عمليه حصر السكان للتعرف على أعدادهم وتركيبهم
- ٩- توضح جزء معين من سطح الأرض
- ١٠- انتقال الأفراد من مكان لآخر داخل الدولة
- ١١- المواد الدراسية التى تهتم بدراسة الإنسان وعلاقته بالبيئة المحيطة
- ١٢- الفرق بين نسبه المواليد ونسبه الوفيات.
- ١٣- معدن هو خليط بين النحاس و القصدير
- ١٤- عاصمه البلاد أثناء حكم الملك مينا
- ١٥- النسبة بين المسافة على الخريطة و ما يقابلها على الطبيعة
- ١٦- الكتابه التى سجل بها المصريون القدماء أخبارهم على جدران المعابد
- ١٨- العصور التى عرف فيها الإنسان الكتابه

الامتحان رقم ٢٢ (للمتفوقين)

س ١ : ضع علامة (√) أمام العبارات الصحيحة و علامة (×) أمام الخاطئة :-

- ١- مؤسس أول أسرة حاكمة في مصر القديمة هو نارمر .
- ٢- تهتم الدراسات الاجتماعية بتوزيع السكان في العالم
- ٣- عاش الإنسان المصري القديم فوق الهضاب حياة مستقرة
- ٤- تجاور مصر من الشمال الشرقي دولة سوريا
- ٥- يزدحم السكان في المناطق الجبلية
- ٦- تكثر الواحات في الصحراء الغربية

س ٢ : أكمل ما يأتي :-

- ١- بلغ تعداد مصر عام ٢٠٠٦ م نحو مليون نسمة
- ٢- حبي لأسرتي وزملائي يسمى حبي لعملي يسمى وحبي لوطني يسمى
- ٣- قبل حفر قناة السويس كانت السفن تضطر للدوران حول
- ٤- تعرف عملية حصر السكان في أى مكان في العالم باسم
- ٥- نبات استخدمه المصري القديم في صنع ملابسه هو
- ٦- لنهر النيل فرعان هما و
- ٧- استقر الإنسان المصري قديما على ضفاف النيل لممارسة حرفة
- ٨- يجاور مصر من الشمال ومن الجنوب ومن الشرق ومن الغرب

س ٣ : اختر الإجابة الصحيحة مما بين الأقواس :-

- ١- تعد قارة أحد قارات العالم القديم
(أستراليا - أفريقيا - أمريكا الجنوبية - أمريكا الشمالية)
- ٢- بنى المصري القديم مساكنه من (الطوب اللبن - الاسمنت - الحجارة)
- ٣- مساحة مصر تصل إلى كيلومتر مربع (٣ مليون - ١ مليون - ٢ مليون)
- ٤- تعد قارة اكبر قارات العالم في المساحة . (أستراليا - أفريقيا - أوروبا - آسيا)
- ٥- أول تعداد سكاني في مصر كان سنة م (١٨٨٢ - ١٨٨٠ - ١٨٩٠)
- ٦- الملك الذى حقق الوحدة لمصر هو (خوفو - أحمس - مينا)

س ٤ : أكتب ما تدل عليه كل عبارة :-

- ١- الأزمنة التى عاش فيها الإنسان قبل معرفة الكتابة
- ٢- عملية يقصد بها حفظ الجسم سليما محتفظا بمظهره
- ٣- مادة تنتج من خلط النحاس والقصدير
- ٤- الاسم القديم لميناء السويس
- ٥- النسبة بين المسافة على الخريطة وما يقابلها على الطبيعة
- ٦- نبات ينمو بشكل طبيعي دون تدخل الإنسان
- ٧- ارتفاع نسبة المواليد وانخفاض نسبة الوفيات
- ٨- فجوه في بطن الجبل كان يسكن فيها المصري القديم

بنك الأسئلة

س ١ : أكمل العبارات الآتية :

- ١ - تهتم الدراسات الاجتماعية بدراسة وعلاقته بالبيئة المحيطة به.
- ٢ - تهتم الدراسات الاجتماعية بحياة الإنسان في الماضي و..... و.....
- ٣ - أشكال سطح الأرض المختلفة هي
- ٤ - المناخ هو دراسة حالة الجو في مدة
- ٥ - النبات الطبيعي هو النبات الذي ينمو دون تدخل
- ٦ - تنمو في المناطق متوسطة الأمطار و..... إذا كانت الأمطار غزيرة
- ٧ - الحيوانات البرية مثل الغزال و..... و.....
- ٨ - من الأدوات التي تستخدم في تعلم الدراسات الاجتماعية و.....

س ٢ : اختر الإجابة الصحيحة مما بين القوسين :

- ١ - النبات الطبيعي الذي ينمو في المناطق غزيرة الأمطار (الحشائش - الزهور - الغابات - القطن)
- ٢ - من المظاهر الطبيعية التي تهتم بها الدراسات الاجتماعية (المناخ - المواصلات - الزراعة)
- ٣ - من الأدوات التي تستخدم في تعلم الدراسات الاجتماعية (الآلة الحاسبة - الخرائط - البرجل - المثلث)
- ٤ - الحرفة التي تشتهر بها المناطق الساحلية هي (الرعي - الصناعة - الزراعة - الصيد)
- ٥ - المناخ هو دراسة حالة الجو في (ساعة - يوم - فصل - أسبوع)
- ٦ - كل ما يأتي من النبات الطبيعي ماعدا (قصب السكر - الصبار - الحشائش - الغابات)
- ٧ - يطلق على أشكال سطح الأرض (الجيولوجيا - التضاريس - المناخ - الطقس)
- ٨ - تهتم الدراسات الاجتماعية بحياة الإنسان في (الماضي - الحاضر - المستقبل - كل ما سبق)

س ٣ : ضع علامة (✓) أو علامة (x) أمام ما يأتي :

- ١ - تهتم الدراسات الاجتماعية بدراسة توزيع السكان في العالم . ()
- ٢ - تنتشر حرفة الصناعة في مناطق الغابات . ()
- ٣ - يؤثر الإنسان في البيئة التي تحيط به ويتأثر بها . ()
- ٤ - تقيد الدراسات الاجتماعية في التعرف على أحوال المناخ والتضاريس . ()
- ٥ - تقتصر الدراسات الاجتماعية على الموضوعات الطبيعية . ()
- ٦ - القمح والأرز من صور النبات الطبيعي . ()
- ٧ - تهتم الدراسات الاجتماعية بحياة الإنسان في الحاضر فقط . ()
- ٨ - تقيد الرحلات والزيارات في تعلم الدراسات الاجتماعية . ()
- ٩ - الغابات الطبيعية تنمو في المناطق نادرة الأمطار . ()
- ١٠ - النبات الطبيعي ينمو بمجرد سقوط الأمطار دون تدخل الإنسان . ()
- ١١ - تهتم الدراسات الاجتماعية بدراسة حياة الشعوب وما تقوم به من أعمال . ()

س ٤ : أذكر المفهوم أو المصطلح المناسب للعبارات الآتية :

- ١ - النبات الذي ينمو طبيعياً دون تدخل الإنسان . {
- ٢ - أشكال سطح الأرض المختلفة من جبال وهضاب وسهول . {
- ٣ - نوع النبات الطبيعي الذي ينمو في المناطق غزيرة الأمطار . {
- ٤ - هي الحيوانات التي لا تربي في الحظائر أو المنازل أي غير مستأنسة . {
- ٥ - دراسة حالة الجو في مدة طويلة شهر أو فصل أو سنة . {
- ٦ - المواد الدراسية التي تهتم بدراسة كل شيء عن حياة الإنسان في الماضي والحاضر وعلاقته بالبيئة المحيطة .
- ٧ - نوع النبات الطبيعي الذي ينمو في المناطق نادرة الأمطار . {
- ٨ - نوع النبات الذي ينمو في المناطق متوسطة الأمطار . {



س ١ : أكمل العبارات الآتية :

- ١ - الخريطة هي رسم توضيحي لجزء من سطح الأرض باستخدام مجموعة من و.....
- ٢ - الدوائر والمربعات والمثلثات من الرموز والأشكال المستخدمة في الخريطة.
- ٣ - إذا أردنا أن نعبر عن موقع المطار على الخريطة يمكن أن نرسم
- ٤ - تستخدم الألوان في خرائط لتحديد أشكال السطح
- ٥ - في الخرائط الطبيعية نلون البحار باللون

س ٢ : اختر الإجابة الصحيحة مما بين القوسين :

- ١ - اللون الأزرق في خرائط التضاريس يدل على (المسطحات المائية - الزراعة - السهول - الجبال)
- ٢ - من أنواع الرموز المستخدمة في الخرائط
(الألوان - الأشكال الطبيعية - الأشكال الهندسية - كل ما سبق)
- ٣ - نجد مجموعة الخرائط المتنوعة في (القواميس - المجلات - الأطالس - الصحف)
- ٤ - المرتفعات في خرائط التضاريس تلون باللون (الأزرق - الأخضر - البني - الأسود)
- ٥ - من الرموز والأشكال الهندسية المستخدمة في الخرائط (السفينة - الطائرة - السيارة - الدائرة)
- ٦ - رسم سفينة في الخرائط يدل على موقع (ميناء بحري - ميناء جوى - مصنع - مزرعة)

س ٣ : ضع علامة (✓) أو علامة (×) أمام ما يأتي :

- ١ - توضح الخريطة الظواهر الموجودة في الطبيعة . ()
- ٢ - من الأشكال الهندسية المستخدمة في الخرائط السيارة والطائرة . ()
- ٣ - غالبا يحدد موقع المدينة أو العاصمة بدائرة أو مربع . ()
- ٤ - يستخدم رمز السفينة ليدل على موقع الميناء الجوى . ()
- ٥ - الأطالس يضم العديد من الخرائط مختلفة الخطوط والألوان . ()
- ٦ - تستخدم الألوان للتعبير عن أشكال السطح في الخرائط . ()
- ٧ - غالبا يستخدم اللون الأخضر للبحار والمحيطات . ()
- ٨ - تساعد الرموز والألوان في فهم الخرائط . ()

س ٤ : أذكر المفهوم أو المصطلح المناسب للعبارات الآتية :

- ١ - هو مستطيل أو مربع يوجد في أحد أركان الخريطة ويحتوى على مجموعة من الرموز والألوان .
{
- ٢ - يحتوى على مجموعة من الخرائط المتنوعة لأى مكان على سطح الأرض وقد يكون متخصصاً .
{
- ٣ - اللون الذي يستخدم للتعبير عن المسطحات المائية في الخرائط .
{
- ٤ - هو رسم توضيحي لتفاصيل أى جزء من سطح الأرض باستخدام مجموعة من الرموز والألوان .
{
- ٥ - هي لقطة لجزء من سطح الأرض .
{

بنك الأسئلة

س ١ : أكمل العبارات الآتية :

- ١ - الخريطة توضح تفاصيل سطح الأرض باستخدام مجموعة من
- ٢ - السهم الذى يرسم فى الخريطة يوضح دائما اتجاه
- ٣ - المستطيل الذى يوضح معانى الرموز الموجودة فى الخريطة يعرف بـ الخريطة .
- ٤ - رأس السهم فى الخريطة يشير إلى اتجاه الشمال وذيله يشير إلى
- ٥ - الشمال والجنوب الشرق والغرب تعرف باسم الجهات
- ٦ - الذى يقع بين اتجاه الشمال واتجاه الغرب هو اتجاه
- ٧ - الخرائط العامة للدول والقارات تستخدم مقياس رسم
- ٨ - مقياس الرسم هو النسبة بين المسافة على وما يقابلها على

س ٢ : اختر الإجابة الصحيحة مما بين القوسين :

- ١ - يحدد اتجاه الشمال دائما باستخدام (عصا - دائرة - سهم - مربع)
- ٢ - يوجد بين الجهات الأصلية جهات فرعية . (ثلاث - أربع - خمس - ست)
- ٣ - الاتجاه الذى يوجد بين الجنوب والشرق هو (الشمال الشرقى - الشمال الغربى - الجنوب الشرقى - الجنوب الغربى)
- ٤ - يستخدم المقياس الكبير فى خرائط (تفصيلية - المدن - القارات - عامة)
- ٥ - توجد الرموز والألوان فى مربع بالخريطة هو (عنوان الخريطة - مقياس الرسم - مفتاح الخريطة - موضوع الخريطة)
- ٦ - يمكن معرفة جميع الجهات الأصلية إذا عرف اتجاه (الشرق - الغرب - الشمال - الجنوب)
- ٧ - النسبة بين المسافة على الخريطة وما يقابلها على الطبيعة هى (اتجاه الشمال - مفتاح الخريطة - مقياس الرسم - دليل الألوان)
- ٨ - اتجاه الشمال الشرقى من الجهات (الأصلية - الفرعية - غير الفرعية - غير المعروفة)
- ٩ - تسمى الجهة التى تقع بين جهة الشمال وجهة الغرب بـ (الشرق الغربى - الشمال الغربى - الجنوب الغربى - الجنوب الشرقى)
- ١٠ - من الجهات الفرعية (الشمال - الشمال الجنوبى - الشرق - الجنوب الشرقى)

س ٣ : ضع علامة (✓) أو علامة (x) أمام ما يأتى :

- ١ - لرسم الخرائط الصغيرة لا نحتاج مقياس رسم . ()
- ٢ - توجد بين الجهات الأربعة الأصلية أربع جهات فرعية . ()
- ٣ - بمعرفة اتجاه الشمال نستطيع تحديد باقى الجهات الأصلية . ()
- ٤ - رأس السهم فى الخريطة يشير إلى الشرق حيث تشرق الشمس . ()
- ٥ - مفتاح الخريطة يوضح معانى الألوان والرموز الموجودة بها . ()
- ٦ - خرائط الدول والقارات تستخدم مقياس رسم كبيراً . ()
- ٧ - يساعد مقياس الرسم فى معرفة موضوع الخريطة وفهمها . ()
- ٨ - الجنوب الشرقى من الجهات الأصلية . ()

س ٤ : أذكر المفهوم أو المصطلح المناسب للعبارات الآتية :

- ١ - اتجاه يشير إليه السهم الموجود فى أحد أركان الخريطة . {
- ٢ - النسبة بين المسافة على الخريطة وما يقابلها على الطبيعة . {
- ٣ - يدل على موضوع الخريطة وما تحويه من بيانات . {
- ٤ - اتجاهات الشمال والجنوب والشرق والغرب . {
- ٥ - الجهات التى تقع بين الجهات الأصلية مثل الشمال الشرقى والشمال الغربى . {

س ١ : أكمل العبارات الآتية :

- ١ - تقع مصر في الركن من قارة إفريقيا.
- ٢ - تطل مصر من جهة الشرق على البحر ومن جهة الشمال على البحر
- ٣ - تتوسط مصر ثلاث قارات هي و و
- ٤ - يطلق على قارات أمريكا الشمالية والجنوبية وأستراليا والقارة القطبية الجنوبية اسم العالم
- ٥ - ربطت قناة السويس بين البحرين الأحمر و
- ٦ - كانت السفن قبل حفر قناة السويس تدور حول قارة
- ٧ - الاسم الحالي لميناء القلزم هو
- ٨ - كانت السفن تأتي من أوروبا وتفرغ حمولتها في ميناء الإسكندرية أو
- ٩ - زادت أهمية مصر بعد حفر قناة السويس وتعرضت لأطماع الدول
- ١٠ - الطريق البديل لقناة السويس كان يعرف بطريق
- ١١ - يتكون العالم من قارات تمثل اليابس

س ٢ : اختر الإجابة الصحيحة مما بين القوسين :

- ١ - تقع مصر عند ملتقى
- ٢ - كانت السفن تأتي من أوروبا وتدور حول إفريقيا للوصول إلى قارة
- ٣ - تقع مصر في الركن الشمالي الشرقي من قارة
- ٤ - كانت السفن تفرغ حمولتها في الإسكندرية ثم تنقل براً إلى
- ٥ - يضم العالم الجديد الأمريكتين وأنتاركتيكا و
- ٦ - زادت أهمية موقع مصر بعد (شق ترعة السلام - بناء السد العالي - حفر قناة السويس - حرب أكتوبر)
- ٧ - كانت أهم طرق التجارة العالمية تمر بموانئ (ليبيا - تونس - سوريا - مصر)
- ٨ - يتكون اليابس من مجموعة من
- ٩ - ميناء السويس حالياً هو ميناء قديماً . (إيلات - عيذاب - الروم - القلزم)
- ١٠ - كل ما يأتي من قارات العالم القديم ما عدا (أستراليا - آسيا - أوروبا - إفريقيا)
- ١١ - الطريق البديل لقناة السويس هو طريق (قناة بنما - قناة كيبل - رأس الرجاء الصالح - سيناء)

س ٣ : ضع علامة (✓) أو علامة (×) أمام ما يأتي :

- ٢ - كانت السفن تفرغ حمولتها في دمياط ثم تنقل بالقطار إلى السويس قديماً . ()
- ٣ - تقع مصر في قارة أوروبا . ()
- ٤ - زادت أهمية موقع مصر بعد حفر قناة السويس . ()
- ٥ - من القارات التي اكتشفت حديثاً أوروبا . ()
- ٦ - تقع مصر شمال غرب قارة إفريقيا . ()
- ٧ - ربطت قناة السويس بين البحرين الأحمر والمتوسط . ()
- ٨ - طريق رأس الرجاء الصالح أقصر مسافة من طريق قناة السويس . ()
- ١٠ - أطلق اسم القلزم قديماً على ميناء بورسعيد . ()
- ١١ - كانت السفن تدور حول قارة إفريقيا للوصول إلى آسيا قبل حفر قناة السويس . ()

س ٤ : أذكر المفهوم أو المصطلح المناسب للعبارات الآتية :

- ١ - مساحات واسعة من اليابس تضم عدداً من الدول داخلها . {
- ٢ - الاسم الذي أطلق على قارات الأمريكتين وأستراليا وأنتاركتيكا . {
- ٣ - الاسم الذي أطلق على قارات إفريقيا وآسيا وأوروبا . {
- ٤ - الطريق البديل لقناة السويس وكان يدور حول قارة إفريقيا . {

٥ - المدينة التي أطلق عليها قديماً اسم ميناء القلزم . {

الحدود الجغرافية لمصر

(الوحدة الثانية) الدرس الثاني:

بنك الأسئلة

س ١ : أكمل العبارات الآتية :

- ١ - لكل دولة في العالم حدود تسمى حدود وهي فواصل تميزها وتفصلها عن جيرانها من الدول وتحفظ حقوقها داخل هذه الحدود ، كما توجد حدود داخل الدولة تميز محافظاتنا .
- ٢ - الحدود الغربية لمصر حدود وتفصلها عن دولة
- ٣ - يطلق على الحدود البحرية والجبلية والنهرية حدوداً
- ٤ - الحدود الشمالية لمصر تتمثل في وتعتبر حداً
- ٥ - حدود مصر الشمالية حدود طبيعية وحدودها الجنوبية حدود
- ٦ - تطل مصر من الشرق على البحر الذي يعتبر حداً طبيعياً وعلى فلسطين المحتلة ويعتبر حداً
- ٧ - تقصّل دائرة عرض ٢٢° شمالاً مصر عن دولة
- ٨ - هي عاصمة جمهورية مصر العربية .
- ٩ - يبلغ عدد محافظات مصر محافظة .
- ١٠ - تتمثل حدود مصر الشرقية في البحر الأحمر والحدود مع دولة
- ١١ - الدولة التي تقع جنوب مصر هي دولة

س ٢ : اختر الإجابة الصحيحة مما بين القوسين :

- ١ - لكي نميز الدول عن بعضها ونفصلها عن جيرانها نضع (جدراناً - موانع - حدوداً - أسواراً)
- ٢ - الظاهرات الآتية تمثل حدوداً طبيعية ما عدا (الحدود الفلكية - الجبال - الأنهار - الحدود البحرية)
- ٤ - تعد حدود مصر الشرقية (طبيعية - هندسية - بشرية - طبيعية وبشرية معا)
- ٥ - تتفق الحدود الجنوبية لمصر مع دولة السودان مع دائرة عرض (١٢° شمالاً - ١٢° جنوباً - ٢٢° شمالاً - ٢٢° جنوباً)
- ٨ - حدود مصر الشمالية تعد حدوداً طبيعية (جبلية - نهريّة - فلكية - بحرية)
- ٩ - تقع فلسطين بالنسبة لمصر في الركن (الشمالي الشرقي - الغربي - الجنوبي - الشمالي)
- ١١ - تمتد حدود مصر الغربية الذي يفصلها عن (فلسطين - السودان - ليبيا - لبنان)
- ١٢ - البحار والجبال والأنهار تعد حدوداً (من صنع الإنسان - طبيعية - بشرية - هندسية)

س ٣ : ضع علامة (✓) أو علامة (x) أمام ما يأتي :

- ١ - حدود مصر الشمالية من صنع الإنسان . ()
- ٢ - تميز الحدود الدول وتفصلها عن جيرانها وتحفظ حقوقها . ()
- ٣ - تقع دولة السودان شمال مصر . ()
- ٤ - حدود مصر الغربية حدود سياسية بشرية . ()
- ٥ - تمثل الحدود الشمالية لمصر حدوداً طبيعية ثابتة . ()
- ٧ - حمت الحدود الطبيعية مصر من الأطماع الاستعمارية . ()
- ١٠ - تتفق حدود مصر الجنوبية مع دائرة عرض ٣٢° شمالاً . ()
- ١١ - تتمثل الحدود الشرقية لمصر في كل من البحر الأحمر والحدود مع السعودية . ()
- ١٢ - يمثل البحر المتوسط الحد الجنوبي لمصر . ()
- ١٣ - هناك مشكلات سياسية عديدة على الحدود بين مصر وجيرانها . ()

س ٤ : أذكر المفهوم أو المصطلح المناسب للعبارات الآتية :

- ١ - فواصل تفصل بين الدول المتجاورة وقد تكون طبيعية أو بشرية . {
- ٢ - فواصل وضعها الإنسان بين الدول . {
- ٣ - فواصل طبيعية (جبال - مسطحات مائية) تفصل بين الدول . {

٤ - فواصل داخل الدولة الواحدة تميز محافظاتهما {

سطح مصر

(الوحدة الثانية) الدرس الثالث:

نك الأسئلة

س ١ : أكمل العبارات الآتية :

- ١ - شكل الأرض يضم المرتفعات مثل الجبال والتلال و
- ٢ - السهول في مصر إما سهول ساحلية أو سهول
- ٣ - الجبل هو أرض شديدة الارتفاع ولها قمة تزيد عن متر .
- ٤ - السهل الفيضي هو مساحة من الأرض مستوية قليلة الارتفاع تتكون من رواسب
- ٥ - السهل هو مساحة من الأرض مستوية تمتد على طول ساحل البحر أو المحيط .
- ٦ - تضم مصر سلسلة من الهضاب منها هضبة و
- ٧ - أعلى قمة جبل في مصر تتمثل في جبل وأقل الأجزاء انخفاضاً في مصر هو منخفض
- ٨ - تتميز السهول الساحلية لمصر المطلة على البحر المتوسط بأنها وعلى البحر الأحمر
- ٩ - يمر بمصر وهو من أطول أنهار العالم ويعتبر مصدر الحياة في مصر .
- ١٠ - يوجد في مصر أهم خلجان العالم وهما خليج وخليج
- ١١ - توجد بمصر عدة جزر أهمها جزيرة

س ٢ : اختر الإجابة الصحيحة مما بين القوسين :

- ١ - الأرض قليلة الارتفاع ولها قمة هي (الدلتا - السهل - الهضبة - التل)
- ٢ - يشتمل سطح مصر على (جبال - هضاب - سهول - كل ما سبق)
- ٣ - يقع جبل العوينات في الركن من مصر . (الجنوبي الغربي - الجنوبي الشرقي - الشمالي - الغربي)
- ٤ - أشهر المنخفضات في مصر منخفض (سيوة - القطارة - الخارجة - الفيوم)
- ٥ - يقع في أقصى جنوب غرب مصر (جبل سانت كاترين - جبل العوينات - منخفض الفيوم - جبل علبة)
- ٦ - تنتشر بالصحراء الغربية (التلال - الجبال - الأودية - الواحات)
- ٧ - تمتد بطول نهر النيل (السهول الفيضية - السهول الساحلية - المنخفضات - التلال)
- ٨ - أرض مرتفعة مستوية أو شبه مستوية السطح (الهضاب - التلال - الجبال - السهول)
- ٩ - تمتد بطول ساحل البحر الأحمر (تلال - جبال - منخفضات - أودية)
- ١٠ - أعلى جبال مصر هو جبل (العوينات - الشايب - حماطة - سانت كاترين)
- ١١ - أرض تحيط بها المياه من جميع الجهات (بحيرة - جزيرة - شبه جزيرة - خليج)

س ٣ : ضع علامة (✓) أو علامة (x) أمام ما يأتي :

- ١ - يقع جبل سانت كاترين في الصحراء الغربية. ()
- ٢ - يضم سطح مصر مجموعة السهول والهضاب والجبال والمنخفضات. ()
- ٣ - السهل الساحلي هو الذي يتكون على جانبي النهر بإرساباته. ()
- ٤ - شبه جزيرة سيناء تمثل بوابة مصر الغربية. ()
- ٥ - السهل الساحلي الممتد على ساحل البحر الأحمر أكثر اتساعاً من الممتد على ساحل البحر المتوسط. ()
- ٦ - يمتد السهل الفيضي لمصر بطول وادي النيل والدلتا. ()
- ٧ - أراضي منخفض الفيوم والقطارة تقع أعلى من منسوب سطح البحر. ()
- ٨ - من البحيرات العذبة في مصر بحيرة ناصر والبحيرات المالحة بحيرة المنزلة. ()
- ٩ - أعلى جبال مصر هو جبل العوينات. ()

س ٤ : اختر من المجموعة (أ) ما يناسب عبارات المجموعة (ب) :

(أ)	(ب)
١ - الجبل	أ - مساحة من اليابس تحيط بها المياه من ثلاث جهات .
٢ - النل	ب- مساحة من الأرض مستوية قليلة الارتفاع وتتكون من رواسب الأنهار .
٣ - الهضبة	ج - مساحة من اليابس منخفضة عما حولها .
٤ - السهل الفيضي	د - مساحة واسعة من الأرض مرتفعة مستوية أو شبه مستوية .
٥ - المنخفض	هـ - أرض شديدة الارتفاع ولها قمة يزيد ارتفاعها عن ١٠٠٠ متر .
	و - أرض مرتفعة ولها قمة تقل ارتفاعها عن ١٠٠٠ متر .

المناخ والنبات الطبيعي في مصر

(الوحدة الثانية) الدرس الرابع :



س ١ : أكمل العبارات الآتية :

- ١- تتمثل عناصر المناخ في..... و..... و.....
- ٢- تدرس..... لمعرفة أنواع المحاصيل المناسبة.
- ٣- تدرس..... لمعرفة نوع الملابس.
- ٤- يقل وجود النبات الطبيعي في مصر لظروفها.....
- ٥- يمكن معرفة اتجاه الرياح من خلال.....
- ٦- من الطيور البرية في مصر.....
- ٧- يسقط المطر على مصر في فصل.....
- ٨- يتنوع النبات الطبيعي طبقاً ل..... و.....

س ٢ : ضع علامة (✓) أو علامة (x) أمام ما يأتي :

- ١- وصف حالة الجو في يوم واحد هو المناخ. ()
- ٢- في فصل الصيف يكون الجو حاراً على الأجزاء الشرقية فقط. ()
- ٣- تعيش الحيوانات البرية في مصر في الحظائر. ()
- ٤- تقاس كمية المطر بالترممتر. ()
- ٥- تعيش الحيوانات البرية في المناطق البعيدة. ()
- ٦- النباتات الطبيعية لها فائدة اقتصادية. ()
- ٧- توجد على سواحل مصر الشمالية غابات كثيفة. ()
- ٨- المناخ يفيد في ارتداء الملابس المناسبة. ()

س ١ : ما المقصود بالمفاهيم الآتية :

- ١ - النبات الطبيعي :
- ٢ - المناخ :
- ٣ - الطقس :
- ٤ - الحيوان البري :

بنك الأسئلة

س ١ : أكمل العبارات الآتية :

- ١ - آخر تعداد لمصر عام ٢٠٠٦ بلغ عدد السكان حوالي مليون نسمة.
- ٢ - تقوم مصر بإجراء التعداد السكاني مرة كل
- ٣ - أول تعداد أجرى في مصر كان في عام
- ٤ - الزيادة السكانية إما أن تكون طبيعية نتيجة الفرق بين و..... وإما أن تكون زيادة غير طبيعية نتيجة
- ٥ - المحافظات التي تستقبل المهاجرين من مناطق أخرى تسمى المحافظات
- ٦ - محافظات الدلتا و الصعيد تعتبر محافظات
- ٧ - تعرف عملية حصر السكان فى أى مكان فى العالم باسم
- ٨ - تقيدنا التعدادات السكانية بالتنبؤ ب
- ٩ - تعد محافظة هى المحافظة الأولى فى جذب السكان .
- ١٠ - تعد مصر من الدول التى تتميز ب نسبة نمو السكان .

س ٢ : اختر الإجابة الصحيحة مما بين القوسين :

- ١ - يفيد التعداد فى معرفة احتياجات البلاد من (المدارس - المصانع - الخدمات - كل ما سبق)
- ٢ - تقوم مصر بإجراء التعداد السكاني مرة كل (٥ سنوات - ١٠ سنوات - ١٥ سنة - ٢٠ سنة)
- ٣ - أول تعداد سكاني لمصر كان عام
- ٤ - كان عدد سكان مصر فى أول تعداد لها عام ١٨٨٢م حوالى
- ٥ - السبب الرئيسي لزيادة سكان مصر هو (الهجرة - الزيادة غير الطبيعية - الزيادة الطبيعية - التعليم)
- ٦ - من المحافظات الطاردة للسكان (الدلتا - القاهرة - بورسعيد - الإسكندرية)
- ٧ - من أهم أسباب الهجرة داخل مصر الأسباب (السياسية - الثقافية - الاقتصادية - الاجتماعية)
- ٨ - آخر تعداد للسكان تم إجراؤه فى مصر عام (٢٠٠٠م - ٢٠٠٢م - ٢٠٠٤م - ٢٠٠٦م)
- ٩ - من المحافظات الجاذبة للسكان (مطروح - الإسكندرية - سوهاج - أسيوط)
- ١٠ - زيادة المواليد عن الوفيات تعتبر
- ١١ - الزيادة غير الطبيعية تكون نتيجة (زيادة المواليد - زيادة الوفيات - الحروب - الهجرة)

س ٣ : ضع علامة (✓) أو علامة (x) أمام ما يأتى :

- ١ - تقوم مصر بإجراء التعداد مرة كل خمس سنوات. ()
- ٢ - يشمل التعداد كل المعلومات عن السكان من حيث العدد والسن والنوع والمهنة. ()
- ٣ - القاهرة من المحافظات الطاردة للسكان. ()
- ٤ - تؤدي الهجرة الداخلية إلى زيادة عدد السكان فى المحافظات المستقبلية. ()
- ٥ - تعد محافظات الحدود من المحافظات الجاذبة للسكان. ()
- ٦ - مصر من أقدم الدول التى عرفت نظام التعداد. ()
- ٧ - معدل النمو السكاني فى القاهرة أعلى من معدل النمو فى باقى المحافظات. ()
- ٨ - يفيد التعداد فى معرفة احتياجات الحاضر والاستعداد للمستقبل. ()

- ٩ - السفر للتعليم أحد أسباب الهجرة بين محافظات مصر. ()
 ١٠ - من أهم أسباب الهجرة الداخلية غرض البحث عن فرص عمل. ()

س ٤ : أذكر المفهوم أو المصطلح المناسب للعبارات الآتية :

- ١ - انتقال الأفراد من دولة إلى أخرى. { }
 ٢ - الفرق بين نسبة المواليد ونسبة الوفيات. { }
 ٣ - عملية تهدف إلى حصر كل السكان وتعرف أعدادهم في وقت وزمن محدد. { }
 ٤ - المحافظات المستقبلة للمهاجرين من محافظات أخرى. { }
 ٥ - المحافظات التي يخرج منها بعض سكانها إلى محافظات أخرى. { }
 ٦ - عدد السكان الذين يعيشون فوق وحدة مساحية من الأرض. { }
 ٧ - انتقال الأفراد من مكان إلى آخر داخل الدولة. { }

توزيع السكان على خريطة مصر

(الوحدة الثالثة) الدرس الثانى :



س ١ : أكمل العبارات الآتية :

- ١ - يندر وجود السكان بمصر في المناطق و
 ٢ - تكتظ بالسكان مقارنة بالوادي .
 ٣ - توجد أعداد قليلة من السكان في المنتشرة بالصحراء الغربية .
 ٤ - تزداد أعداد السكان في المناطق الغنية بـ
 ٥ - يتأثر توزيع السكان في مصر نتيجة اختلاف

س ٢ : اختر الإجابة الصحيحة مما بين القوسين :

- ١ - يفضل السكان مناطق (السهول - الجبال - الصحارى - الهضاب)
 ٢ - من المناطق نادرة السكان (وادى النيل - الدلتا - جبال البحر الأحمر - الواحات)
 ٣ - يتجمع السكان فى الوادي والدلتا لوجود (مياه الرى - التربة الخصبة - الزراعة - كل ما سبق)
 ٤ - أكثر مناطق مصر ازدهاما بالسكان (سيناء - الدلتا - البحر الأحمر - الصحراء الغربية)
 ٥ - يتجمع السكان لوجود الثروة المعدنية فى (سيناء - الوادى - الدلتا - الواحات)
 ٦ - يكثر السكان فى ساحل البحر المتوسط بسبب (وجود الغابات - المياه الجوفية - اعتدال المناخ - الجبال)
 ٧ - توجد أعداد قليلة من السكان فى الصحراء الغربية لوجود (الأمطار - الأنهار - البحار - المياه الجوفية)
 ٨ - يتأثر توزيع السكان فى مصر باختلاف (السطح - كمية الأمطار - النبات الطبيعى - التعليم)

س ٣ : ضع علامة (✓) أو علامة (x) أمام ما يأتى :

- ١ - تجمع السكان في الواحات لوجود الأمطار الغزيرة. ()
 ٢ - يتوزع السكان في كل أجزاء مصر بصورة متساوية. ()
 ٣ - يؤثر اختلاف السطح في توزيع السكان. ()
 ٤ - تتخفف الكثافة غرب مصر لوجود الجبال. ()
 ٥ - الوادي والدلتا أكثر مناطق مصر ازدهاما بالسكان. ()
 ٦ - يزداد عدد السكان في المناطق الغنية بالماء العذب. ()

- ٧ - يتجمع السكان في سيناء في مناطق الثروة المعدنية. ()
 ٨ - توجد أعداد قليلة من السكان في الصحراء الشرقية لوجود الواحات. ()

س ٤ : اختر من المجموعة (أ) ما يناسب عبارات المجموعة (ب) :

(أ)	(ب)
١ - الوادي والدلتا ٢ - سيناء ٣ - الصحراء الغربية ٤ - ساحل البحر المتوسط ٥ - جبال البحر الأحمر	أ - ينذر بها السكان لوعورة السطح . ب - يتجمع به السكان لاعتدال المناخ . ج - ينذر السكان لوجود الغابات . د - يتجمع بها السكان حيث الثروة المعدنية . هـ - يعدان أكثر مناطق مصر سكاناً . و - يتركز السكان داخلها في الواحات .

(الوحدة الثالثة) الدرس الثالث :

كثافة السكان في مصر



س ١ : أكمل العبارات الآتية :

- ١ - قدر عدد سكان مصر عام ٢٠١٣م بحوالى مليون نسمة .
 ٢ - الكثافة العامة للسكان هي جملة السكان على جملة
 ٣ - أعلى محافظات مصر كثافة هي التي تقع في و
 ٤ - عند حساب الكثافة الفعلية تحذف المناطق

س ٢ : اختر الإجابة الصحيحة مما بين القوسين :

- ١ - قدرت الكثافة العامة لمصر عام ٢٠١٣م بحوالى
 (٧٥.٨ نسمة كم^٢ - ٥٨.٨ نسمة كم^٢ - ٢٨.٨ نسمة كم^٢)
 ٢ - تعد من أعلى محافظات مصر كثافة (الوادي الجديد - البحر الأحمر - سيناء - القاهرة)
 ٣ - تتخفف الكثافة في محافظة (القاهرة - الإسكندرية - مرسى مطروح - الجيزة)
 ٤ - هذه المحافظات مرتفعة الكثافة ما عدا (القليوبية - أسيوط - سيناء - القاهرة)
 ٥ - قدر عدد سكان مصر ب ٨٥.٨ مليون نسمة عام (٢٠١٠م - ٢٠١١م - ٢٠١٢م - ٢٠١٣م)

س ٣ : ضع علامة (✓) أو علامة (x) أمام ما يأتي :

- ١ - يتساوى توزيع كثافة السكان في مصر. ()
 ٤ - تعد القاهرة من أعلى محافظات مصر كثافة. ()
 ٥ - تتميز مناطق الوادي والدلتا بانخفاض الكثافة. ()
 ٦ - تحسب الكثافة بقسمة عدد السكان على المساحة الكلية. ()
 ٧ - يؤثر اختلاف السطح في الكثافة السكانية. ()
 ٨ - قدر عدد سكان مصر عام ٢٠٠٨م بحوالى ٨٥.٨ مليون نسمة. ()
 ٩ - تتخفف الكثافة ويندر السكان غرب مصر ()
 ١٠ - تنوع الموارد الطبيعية يؤدي إلى جذب السكان وارتفاع الكثافة. ()
 ١١ - تفيد الكثافة العامة في التعرف على توزيع السكان في مصر. ()

س ٤ : أذكر المفهوم أو المصطلح المناسب للعبارات الآتية :

- ١ - عدد السكان الذين يعيشون فوق وحدة مساحة من الأرض . { }
٢ - قسمة عدد السكان على المساحة الكلية للدولة { }

معلومات تاريخية

(الوحدة الرابعة) الدرس التمهيدي :



١- ضع علامة (✓) أمام العبارة الصحيحة، وعلامة (×) أمام العبارة غير الصحيحة:

- (أ) بدأ التاريخ بصنع الإنسان أدواته من معدن الحديد ()
(ب) تميزت حياة الإنسان في عصور ما قبل التاريخ بالاستقرار. ()
(ج) صنع الإنسان أدواته في العصر الحجري الحديث من البرونز. ()
(د) تبدأ العصور التاريخية بمعرفة الإنسان للكتابة ()

٢ - اختر الإجابة الصحيحة مما بين القوسين:

- (أ) سجل المصري القديم مظاهر حياته بالكتابة
(الفارسية - العبرية - اليونانية - الهيروغليفية)
(ب) يتكون معدن من خلط معدن النحاس مع معدن القصدير.
(الذهب - الفضة - البرونز - الحديد)
(ج) بدأت الكتابة بالتعبير عن الشيء برسمه في شكل
(صور - حروف - أرقام - نقاط)
(د) انتهت عصور ما قبل التاريخ بمعرفة الإنسان
(الصناعة - الرعى - النار - الكتابة)

٣ - اكتب مراحل تطور الأدوات التي استخدمها الإنسان قديماً:

- (أ) مرحلة استعمال الحجر كما هو أو نحت بسيط.
(ب)
(ج)
(د)



س ١ : أكمل العبارات الآتية :

- ١ - فوق الهضاب عاش المصري القديم وكان دائم و.....
- ٢ - كان المصري القديم فوق الهضاب يأوى إلى ليلاً .
- ٣ - عندما حل الجفاف فوق الهضاب هبط المصري القديم إلى
- ٤ - فى وادى النيل تبدلت حياة المصري القديم من التنقل والترحال إلى
- ٥ - فى الوادى كثرت المباني وظهرت القبائل وظهرت
- ٦ - صنع المصري القديم ملابسه من جلود الحيوان و
- ٧ - احتاجت عمليات الزراعة قيام بين الناس .
- ٨ - صنع المصري القديم الأوانى من
- ٩- حبي لقرينتى أو مدينتى يسمى
- ١٠-حبي لأفراد أسرتى وأصدقائى وزملائى فى المدرسة يسمى

س ٢ : اختر الإجابة الصحيحة مما بين القوسين :

- ١ - عندما عاش الإنسان فى وادى النيل
- (عرف الزراعة - استأنس الحيوان - بنى المساكن - كل ما سبق)
- ٢ - لإعداد الطعام وحفظه صنعت الأوانى من (الأخشاب - البرونز - الفخار - الحديد)
- ٣ - كانت الملابس تصنع قديماً من الكتان أو (القطن - الحرير - الصوف - جلود الحيوانات)
- ٤ - عندما كان المصري القديم فوق الهضاب كان يعمل ب
- (الزراعة - صيد الحيوانات - الصناعة - صيد الأسماك)
- ٥ - كانت حياة المصري القديم فوق الهضاب تتميز ب
- (الاستقرار - النجاح - الخوف والقلق - السعادة)
- ٦ - عندما حل الجفاف فوق الهضاب هبط المصرى إلى
- (الواحات - وادى النيل - ساحل البحر - الأحواض)
- ٧ - فى وادى النيل بنى المصري مسكنه من
- (الطين - الأحجار - الأخشاب - الصفيح)
- ٨ - شعور الإنسان أنه جزء من الجماعة هو (الاستقرار - التعاون - المسئولية - الانتماء)
- ٩ - لإيمان المصري بالبعث والخلود كان يقوم ب
- (حرق الموتى - تحنيط الموتى - عدم دفن الموتى)
- ١٠ - بدأ استقرار الإنسان بعد معرفة
- (صيد الحيوانات - الصناعة - الرعي - الزراعة)
- ١١ - كان المصرى القديم يعيش حياة التنقل والترحال فى (الوادى - الهضاب - الدلتا - الواحات)
- ١٢ - فى الوادى تطورت حياة الإنسان وصنع أدوات استخدمها فى
- (الحروب - الزراعة - الصناعة - التجارة)

س ٣ : ضع علامة (✓) أو علامة (×) أمام ما يأتى :

- ١ - عاش المصري القديم فوق الهضاب حياة مملوءة بالخوف والقلق . ()
- ٢ - عمل المصري القديم بالزراعة فوق الهضاب معتمداً على ماء الأمطار . ()
- ٣ - خوفاً من الحيوانات المفترسة وللاحتماء من برد الليل كان المصري القديم يأوي إلى فتحات داخل الجبال ()
- ٤ - بعد أن حل الجفاف بالهضاب هبط المصري القديم إلى ساحل البحر المتوسط . ()
- ٥ - فى وادى النيل تبدلت حياة المصري من التنقل والترحال إلى الاستقرار . ()
- ٦ - احتاجت الزراعة تعاون الأفراد أثناء نمو المحاصيل وجني الثمار . ()
- ٧ - ساعدت الزراعة على استقرار الإنسان وبناء المساكن والتعاون . ()

- ٨ - استخدم المصري القديم القطن والصوف في صناعة الملابس. ()
- ٩ - كان المصري القديم يضع الطعام والشراب والملبس داخل القبر مع الميت. ()
- ١٠ - للقيام بالزراعة كان لا بد من تكاتف وتعاون الناس مع بعضهم البعض. ()
- ١١ - بنى المصري القديم مسكنه فوق الهضاب من الطوب اللبن. ()
- ١٢ - اهتم المصري القديم بتحنيط جثث الموتى إيماناً بالبعث والخلود. ()
- ١٣ - عاش المصري القديم حياة التنقل والترحال في وادي النيل. ()
- ١٤ - ظل الإنسان المصري القديم فوق الهضاب رغم سيادة الجفاف. ()
- ١٥ - نشأت القرى والمدن من تجمع القبائل والأسر. ()

س ٤ : أذكر المفهوم أو المصطلح المناسب للعبارات الآتية :

- ١ - عملية يقصد بها حفظ الجسم سليماً بمظهره وشكله بعد الموت. {
- ٢ - فتحة طبيعية داخل الجبال يأوي إليها الإنسان في حالة الخوف والقلق. {
- ٣ - حب الإنسان للأرض التي عاش عليها. {
- ٤ - عدم الاستقرار في مكان معين والبحث عن الغذاء. {
- ٥ - اعتقاد ديني عند قدماء المصريين ومعناه أن الإنسان سوف يحيا بعد موته. {
- ٦ - اعتقاد ديني عند قدماء المصريين ومعناه أن الإنسان سوف يعيش حياه أبدية. {
- ٧ - شعور الإنسان بأنه جزء من الجماعة. {
- ٨ - بناء المساكن والإقامة في مناطق الزراعة. {

الوحدة بين أقاليم مصر القديمة

(الوحدة الرابعة) الدرس الثاني:



س ١ : أكمل العبارات الآتية :

- ١ - كون الملك مينا جيشاً لحماية البلاد.
- ٢ - اتخذت القرى والمدن في المرحلة الأولى من الوحدة معبودات من
- ٣ - اتحدت مملكة الجنوب من القرى والمدن الموجودة في الوجه
- ٤ - مدينة بوتو عاصمة مملكة الشمال كانت تقع قرب حالياً .
- ٥ - نجحت المحاولة الأولى للوحدة في ٤٢٤٢ قبل ميلاد
- ٦ - الاسم الثاني للملك مينا هو الملك
- ٧ - أول شعب حقق الوحدة لبناء الحضارة هو الشعب

س ٢ : اختر الإجابة الصحيحة مما بين القوسين :

- ١ - زهرة اللوتس كانت شعار
(مملكة الشمال - مملكة الدلتا - مملكة مصر الوسطى - مملكة الجنوب)
- ٢ - مدينة طيبة حالياً هي مدينة
- ٣ - ضمت مملكة الشمال أقاليم
(مصر الوسطى - مصر العليا - الوجه القبلى - الوجه البحرى)
- ٤ - كان تاج مملكة الجنوب لونه
(أبيض - أحمر - أصفر - أزرق)
- ٥ - مصطلح ق.م يعني
(قبل توحيد مينا - قبل التاريخ - قبل معرفة الكتابة - قبل ميلاد السيد المسيح)
- ٦ - شعار مملكة الشمال كان
(عباد الشمس - نبات البردي - زهرة اللوتس - نبات القمح)
- ٧ - عاصمة مملكة الجنوب هي
(نخب - طيبة - منف - بوتو)

- ٨ - أول محاولة لتوحيد البلاد اتخذت عاصمة لها مدينة (نخب - طيبة - أون - بوتو)
 ٩ - مينا أو نارمر خرج من مدينة (نخب - طيبة - منف - أون)
 ١٠ - بنى الملك مينا حول منف (قلعة بيضاء - خندقاً - حدائق خضراء - سوراً أبيض)
 ١١ - استطاع الملك مينا توحيد البلاد عام ق.م (٤٤٢٠ - ٣٢٠٠ - ٢٢٢٠ - ٢٣٠٠)
 ١٢ - أطلق العرب اسم منف على مدينة (بوتو - من نفر - من رع - من حوتب)
 ١٣ - يعد الملك مينا مؤسس الأسرة الفرعونية (الأولى - الثانية - الثالثة - الرابعة)
- *****

س ٣ : ضع علامة (✓) أو علامة (x) أمام ما يأتي :

- ١ - مملكة الشمال كانت عاصمتها نخب قرب إدفو حالياً . ()
 ٢ - قام الملك مينا بإنشاء حكومة مركزية في العاصمة طيبة . ()
 ٣ - كانت المحاولة الأولى لتوحيد البلاد هي محاولة الملك مينا . ()
 ٤ - حساب السنين قبل ميلاد السيد المسيح كان يسير باتجاه متناقص . ()
 ٥ - تتوسط منف مملكة الوجه البحري والوجه القبلي . ()
 ٦ - لون تاج مملكة الشمال أبيض . ()
 ٧ - اتخذ المصريون القدماء من قوى الطبيعة معبوداً لهم . ()
 ٨ - الاتحاد والقوة يؤديان إلى بناء الحضارة . ()
 ٩ - ظل الملك مينا يرتدي تاج مملكة الجنوب . ()
 ١٠ - كان لكل مملكة حاكم وعاصمة وجيش ومعبود . ()

س ٤ : أذكر المفهوم أو المصطلح المناسب للعبارات الآتية :

- ١ - زهرة اتخذتها مملكة الجنوب شعاراً لها . { }
 ٢ - لوحة سجل عليها الملك مينا انتصاراته . { }
 ٣ - الاسم القديم لعين شمس . { }
 ٤ - مدينة أنشأها الملك مينا عاصمة للبلاد . { }
 ٥ - تجمع القرى والمدن تحت قيادة واحدة . { }
- *****

س ٥ : قارن بين مملكة الشمال ومملكة الجنوب من حيث :

- ١ - الأقاليم التي تضمها .
 ٢ - العاصمة .
 ٣ - لون التاج .
 ٤ - الشعار .

عوامل قيام الحضارة المصرية القديمة

(الوحدة الرابعة) الدرس الثالث :



س ١ : أكمل العبارات الآتية :

- ١ - ساعد قيام الوحدة على بناء قوي لحماية البلاد .
 ٢ - تتوسط مصر قارات العالم
 ٣ - تتميز مصر بمناخ معتدل حار صيفاً .
 ٤ - وجود معادن مثل النحاس والبرونز والحديد شجع على ممارسة مهنة
 ٥ - أدت الوحدة بين الأقاليم إلى قيام حكومة مركزية لخدمة
 ٦ - العامل الرئيسي الذي ساعد على قيام الحضارة المصرية
 ٧ - استقر الإنسان المصري قديماً على ضفاف النيل لممارسة حرفة

س ٢ : اختر الإجابة الصحيحة مما بين القوسين :

- ١ - تتوسط مصر قارات إفريقيا وآسيا و (أوروبا - أستراليا - أمريكا الشمالية - أمريكا الجنوبية)
 - ٢ - استقر الإنسان المصري القديم على ضفاف النيل لممارسة (الرعي - الزراعة - الصيد - الصناعة)
 - ٣ - من الصخور الاقتصادية في مصر (الرخام - الذهب - النحاس - الرصاص)
 - ٤ - من عوامل قيام الحضارة المصرية القديمة (نهر النيل - الموقع - المناخ - كل ما سبق)
 - ٥ - تطل مصر على بحرين هما (المتوسط والأسود - المتوسط والأحمر - الأحمر والأسود - الأسود والعربي)
 - ٦ - وجود معادن وصخور اقتصادية ساعد على قيام مهنة (الزراعة - الصيد - الصناعة - الرعي)
 - ٧ - مناخ مصر دافئ ممطر في فصل (الربيع - الخريف - الشتاء - الصيف)
- *****

س ٣ : ضع علامة (✓) أو علامة (x) أمام ما يأتي :

- ١ - مناخ مصر المعتدل ساعد على قيام الحضارة المصرية. ()
 - ٢ - تتوسط مصر قارات العالم الجديد. ()
 - ٣ - مناخ مصر حار ممطر صيفا. ()
 - ٤ - ساعدت الموارد الاقتصادية والصخور على قيام الصناعة. ()
 - ٥ - من عوامل قيام الحضارة المصرية الجيش والوحدة. ()
 - ٦ - قامت الزراعة في مصر تعتمد على المياه الجوفية والأمطار. ()
- *****

س ٤ : اختر من المجموعة (أ) ما يناسب عبارات المجموعة (ب) :

(أ)	(ب)
١ - ساعد في تنوع المحاصيل الزراعية	أ - نهر النيل .
٢ - أدت إلى قيام حكومة مركزية	ب - الجيش .
٣ - ساعد في استقرار الإنسان المصري القديم	ج - الموارد الطبيعية .
٤ - ساعد في الدفاع عن البلاد	د - المناخ .
٥ - ساعد في قيام الصناعات المتنوعة	هـ - الوحدة .
	و - النبات الطبيعي .