

تم تحميل هذا الملف من موقع ملفات الكويت التعليمية



[com.kwedufiles.www//:https](https://www.kwedufiles.com)

*للحصول على أوراق عمل لجميع الصفوف وجميع المواد اضغط هنا

* للحصول على أوراق عمل لجميع مواد الصف الثالث اضغط هنا

<https://kwedufiles.com/3>

* للحصول على جميع أوراق الصف الثالث في مادة رياضيات وجميع الفصول, اضغط هنا

<https://kwedufiles.com/3math>

* للحصول على أوراق عمل لجميع مواد الصف الثالث في مادة رياضيات الخاصة بـ الفصل الثاني اضغط هنا

<https://www.kwedufiles.com/3math2>

* لتحميل كتب جميع المواد في جميع الفصول للـ الصف الثالث اضغط هنا

<https://www.kwedufiles.com/grade3>

[bot_kwlinks/me.t//:https](https://t.me/bot_kwlinks)

للحصول على جميع روابط الصفوف على تلغرام وفيسبوك من قنوات وصفحات: اضغط هنا

الروابط التالية هي روابط الصف الثالث على مواقع التواصل الاجتماعي

مجموعة الفيسبوك

صفحة الفيسبوك

مجموعة التلغرام

بوت التلغرام

قناة التلغرام

رياضيات على التلغرام

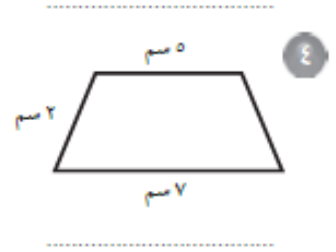
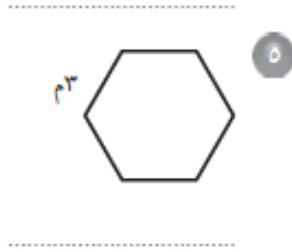
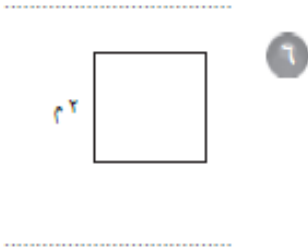
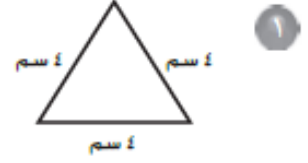
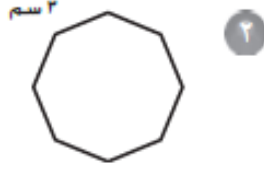
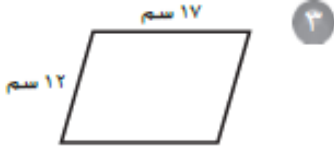
ورقة عمل: المحيط

الاسم :

الصف : الثالث

الثلاثاء ١ / ٧ / ١٤٤١ هـ

أجدُ مُحِيطَ كُلِّ شَكْلِ مِمَّا يَأْتِي:



أظللُ شَكْلًا عَلَى شَبَكَةِ المُرَبَّعَاتِ طُولُ مُحِيطِهِ كَالآتِي:

