

* الكحل ما ياتحس *
 • السنة الميلادية = شهرين

• ساعة ونصف = ١١١١ + ١١١١ = ٢٢٢٢

دقيقة

• الواحد الصحيح = $\frac{1111}{4}$

• الشهر التاسع لشهر ابريل هو

٤ × ٤ = ١٦ + ٤ = ٢٠



• ٧ × ٧ = ٧ + ٧ + ٧

• ١٥ ٢ ٢٠ ٢٣ ٢

• $\frac{1}{4}$ كجم = $\frac{1}{4}$ كجم + ١١١١ كجم

• ساعة وثلاث = ١١١١ دقيقة

• الشهر السابق مباشرة لشهر من ابريل هو

• هو حول الازم الذي يحد الشك

منه الخارج

• عدد الاربع الموجودة في الواحد

الصحيح

• ٩ دقيقة = ١١١١ ساعة و ١١١١ دقيقة

• ١ كجم = $\frac{1}{4}$ كجم + ١١١١ كجم

• (٦-٢) × ٥ =

٣ دقيقة = ساعة

$$4 \times 4 = 3 \times 4 + 4$$



$$5 \times 7 = 7 \times 5$$

الكيوجرام من وحدات قياس

$$2 \times 2 = 2 \times 2$$

عدد شهور السنة الميلادية

$$3 \times 3 = 14 + 10$$

كم ثلث من الواحد الصحيح

* ساعة = دقيقة

$$0 \times 0 = 0 \div 0$$

$$9 \times 1 = 1 \times 9$$

$$3 \times 3 = 3 \div 3 = 1$$

$\frac{1}{3}$ يكتب بالطرف

$$* \text{ اذا } 7 \times 3 = 21 \text{ بالتالى } 21 \div 3 = 7$$

..... □ Δ ○ □ Δ ○ الشكل النمط



..... X٢ = ٦ X٣ *

..... + + ٥ = ٣ X ٥ *

* من النعمان يعبرون الجزء المظلم وهو



* الشهر الاول من السنة الهجرية

* = + +

* الشهر الثاني من شهر شعبان هو

* دقيقة + دقيقة = ١ ساعة

* سنة وثلاثة شهور = شهراً

* = ٢٤ = ٢ X ٣ *

* أب ٢ أب ٢ أب ٢ أب ٢

* = ٢ = ١

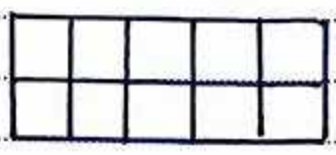
* دقيقة + ساعة = ٧٥ دقيقة

* القبة المائتة للعدد من ٦٢٥ هي

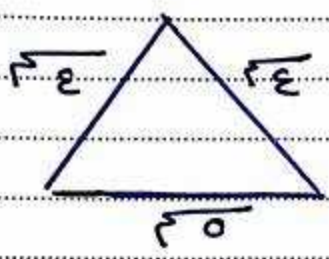
|||| + ||| = 2x7 *

$\sqrt[2]{30}$

$\sqrt[3]{64}$ *



* محيط الشكل
= وحدة طول



* محيط المثلث
=

* 2 دقيقة = ساعة

من الكسور البسط = والمقام

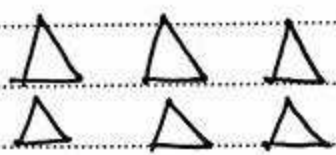
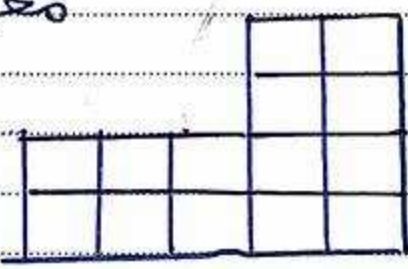
* اربع الكسور هو

$(\frac{1}{2}, \frac{1}{2}, \frac{1}{2}, \frac{1}{2})$

* الشهر التاسع من السنة الهجرية هو
(رجب - شعبان - رمضان)

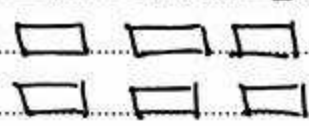
محيط الشكل

=
وحدة طول



$(\frac{1}{3})$

ظلالا بعدد الكسور



$(\frac{1}{3})$

* لفتح < او > او =

 (٥×٤) (٣×٥) $\frac{١}{٥}$ $\frac{١}{٣}$

٧٥ دقيقة

ساعة وربع

 $(٥ + ٧)$ ٧×٥ $(٤ \times ٥) + (٢ \times ٥)$ (٦×٥) $\frac{٥}{٥}$

١

خمسة

سدسة

ساعة وثلث

١٥ دقيقة

 $\frac{٥}{٥}$ $\frac{٧}{٧}$ $\frac{١}{٦}$ ساعة + $\frac{١}{٦}$ ساعة

ساعة

عدد اشهر السنة
الهجريةعدد اشهر السنة
الميلادية $\frac{٤}{٧}$ $\frac{٥}{٧}$

* علیہ بها ۸ أقلام کم قلماً فخرے
 ۵ عنده ؟

عدد الإقلام =
 قسم آبی ۴؟ جینہا علی ۲ اینا ۲
 الأربعة بالتساوی فکم یكون ذهبیہ
 الاین ؟

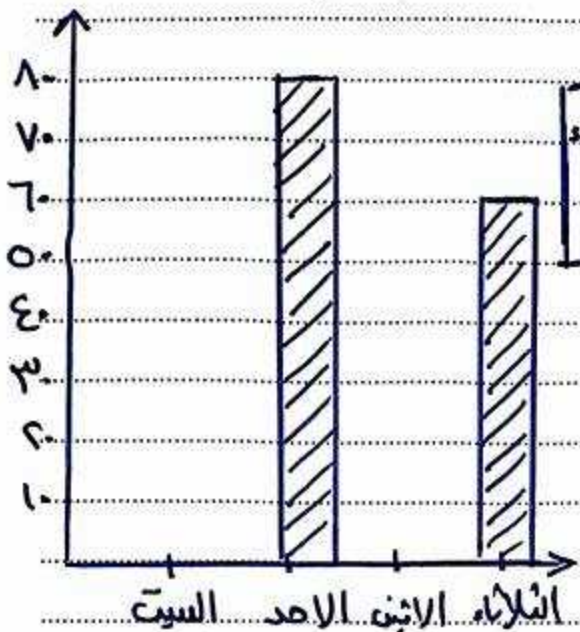
ذهبیہ / الاین =
 =
 جینہا

* اشترى احمد ۴ کیلو جوام من الموز
 ثمنه الکیلو جوام الواحد ۷ جینہاتے
 فاه ما يدفعه احمد =

جینہا
 * اشترى احمد ۴ کتب بمبلغ ۸ جینہا
 فاه سعر الكتاب الواحد =
 جینہا

* اشترى منى ۵ أمطار من القماش
 سعر المطر الواحد ۹ جینہاتے
 فکم تدفع
 ما تدفعه منى =
 =
 جینہا

* مع أمیره ۵ جینہا اشترت منهم
 ۳ لعب سحر الواحد ۷ جینہاتے
 فکم يتبقى معها ؟
 ثمنه ۳ لعب =
 الباقی =
 جینہا
 جینہا




اليوم	السبت	الاحد	الثلاثاء
عدد التلاميذ	٧	٦	٣

الشكل البياني
يوضح عدد التلاميذ
في الأيام المختلفة
الاحد الجيد والروم

الثلاثاء الاحد السبت

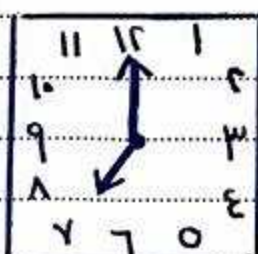

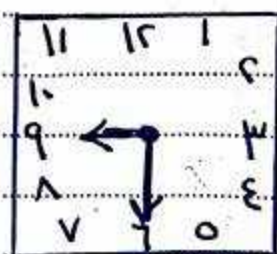
عدد الساعات



الاسم	عدد الساعات
سارة	٥
منى	٩
رعاء	٧
نور	٥

الاسم
نور رعاء منى سارة

١- أكثر طالب في الروماني هو نور
٢- يذاكران نفس عدد الساعات



الساعة تقراء

الساعة

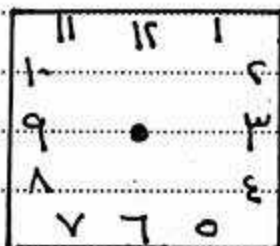
الساعة

وتكتب

تقراء

وتكتب

وتكتب



ارسم عقارب
الساعة (التي تمشي)
الى الساعة
الثامنة و الثلثة

رتب السور الايه تصاعدي
(من الاصغر الي اعلى الاعداد)

1/9 2/4 1/3 2/0 1/2 1/8

التوبيخ

رتب السور تنازلي (من الاكبر الي الاصغر)

1/8 2/2 1/6 2/0 1/4 2/3

التوبيخ