

تم تحميل هذا الملف من موقع ملفات الكويت التعليمية



[com.kwedufiles.www//:https](https://www.kwedufiles.com)

*للحصول على أوراق عمل لجميع الصفوف وجميع المواد اضغط هنا

* للحصول على أوراق عمل لجميع مواد الصف الثالث اضغط هنا

<https://kwedufiles.com/3>

* للحصول على جميع أوراق الصف الثالث في مادة علوم ولجميع الفصول, اضغط هنا

<https://kwedufiles.com/3science>

* للحصول على أوراق عمل لجميع مواد الصف الثالث في مادة علوم الخاصة بـ الفصل الثاني اضغط هنا

<https://www.kwedufiles.com/3science2>

* لتحميل كتب جميع المواد في جميع الفصول للـ الصف الثالث اضغط هنا

<https://www.kwedufiles.com/grade3>

* لتحميل جميع ملفات المدرس التوجيه الفني العام للعلوم اضغط هنا

[bot_kwlinks/me.t//:https](https://t.me/bot_kwlinks)

* للحصول على جميع روابط الصفوف على تلغرام وفيسبوك من قنوات وصفحات: اضغط هنا

الروابط التالية هي روابط الصف الثالث على مواقع التواصل الاجتماعي

مجموعة الفيسبوك

صفحة الفيسبوك

مجموعة التلغرام

بوت التلغرام

قناة التلغرام

رياضيات على التلغرام


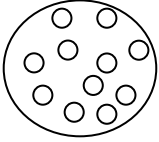
قياس نهاية الوحدة التعليمية الأولى للصف الثالث الابتدائي
الفصل الدراسي الثاني

الكفايات الخاصة المتضمنة في الوحدة التعليمية : (١ - ٣) (٢ - ١)

س ١ : ضع بين القوسين علامة (✓) عند العبارة الصحيحة وعلامة (x) عند العبارة غير الصحيحة فيما يلي :

- ١ - التربة الرملية هي السائدة في بلادي . ()
٢ - النباتات الصحراوية جذورها قصيرة. ()

س ٢ : اختر من العمود (ب) ما يتناسب مع عبارات العمود (أ) وصل بينهما:

المجموعة (أ)	المجموعة (ب)
● نباتات تنمو وتزدهر بعد هطول الأمطار	- نباتات معمرة - نباتات حولية
● حبيبات التربة الرملية تكون	-  - 

س ٣ : أكمل العبارات التالية بما يناسبها علمياً :

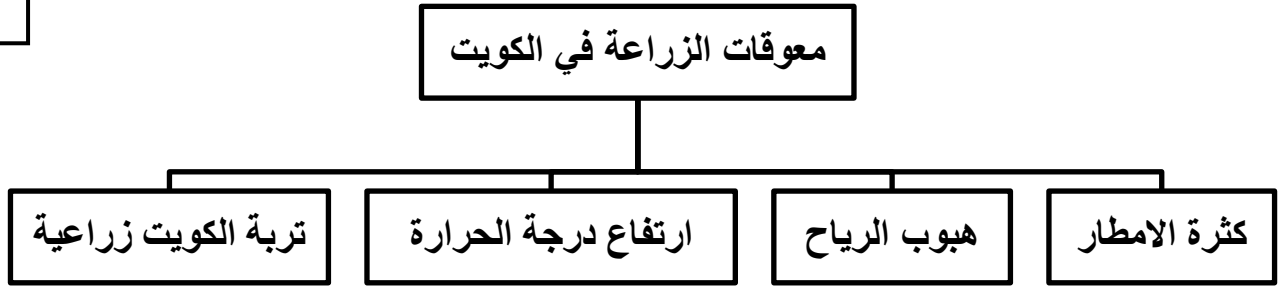
٢

١-نباتات بلادي أوراقها (صغيرة – كبيرة)

٢-النباتات التي تنمو طوال السنة تعرف بالنباتات (الحولية – المعمرة)

س ٤ : امامك مخطط سهمي ظللي الأسباب التي تعيق الزراعة في الكويت :

٢



س ٥ : ألقب اسم شكل سطح الأرض الذي تمثله كل صورة :

٢



وارة -----



الأحمدي -----

قياس نهاية الوحدة التعليمية الثانية للصف الثالث الابتدائي

الفصل الدراسي الثاني

الكفايات الخاصة المتضمنة في الوحدة التعليمية : (١ - ٥) (٢ - ٧) (٢ - ٤)

السؤال الأول : ضع بين القوسين علامة (√) عند العبارة الصحيحة وعلامة (x) عند العبارة

غير الصحيحة فيما يلي :

٢

()

١- البحر هو المصدر الاساسي لمياه الشرب في دولة الكويت .

()

٢- تكثر النباتات في دولة الكويت بسبب الظروف المناخية القاسية .

السؤال الثاني : اختر الاجابة الصحيحة علميا لكل من العبارات التالية بوضع علامة (√) في المربع

المقابل لها :

١- من مشاكل التربة في دولة الكويت :

الرياح

التربة الزراعية

انخفاض درجة الحرارة

الأمطار الغزيرة

٢- من الأدوات التي تساعدنا عند الذهاب في رحلة بحرية:



السؤال الثالث : اكمل كل من العبارات التالية بما يناسبها علميا :


(سترة النجاة - الخيمة - التكثيف - التبخير)

- ١- من الأدوات اللازمة لرحلة التخييم ----- .
- ٢- تحول المادة من الحالة الغازية الى الحالة السائلة عند درجة حرارة معينة هي ----- .

السؤال الرابع : صل الكلمات التالية بما يناسبها :



سلوك صحيح

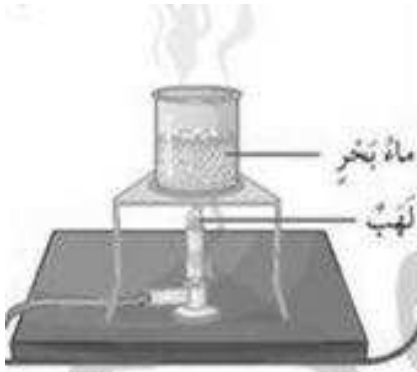


سلوك غير صحيح

السؤال الخامس : اجب عن الاسئلة التالية :

من خلال التجربة العلمية (تجربة اختفاء الماء)

قم بغلي ماء البحر الى أن يختفي :



- ماذا بقي في الكأس؟

- ماذا حدث للماء في الكأس؟

قياس الوحدة التعليمية الثالثة للصف الثالث الابتدائي

الفصل الدراسي الثاني

الكفايات الخاصة المتضمنة في الوحدة التعليمية : (٣ - ٣) (١ - ٣)

السؤال الأول: اختر الإجابة الصحيحة علمياً لكل من العبارات التالية بوضع علامة (✓) في المربع

المقابل لها:

٢

١- مصدر الطاقة الرئيسي في دولة الكويت هو :

النفط الغاز الرياح الماء

٢- منتج نفطي يستخدم للقضاء على الحشرات :

أصباغ مبيدات حشرية بلاستيك الكبريت

السؤال الثاني: ضع بين القوسين علامة (✓) عند العبارة الصحيحة وعلامة (X) عند العبارة

غير الصحيحة فيما يلي :

٢

١- يتميز النفط بأن قوامه خفيف . ()

٢- يجب ارتداء القفازات عند استخدام ألوان الحائط . ()

السؤال الثالث: أكمل كلا من العبارات التالية بما يناسبها علمياً :-

١- النفط يتكون من ----- و الحيوانات بعد موتها . (النباتات – الانسان)

٢- استخدم النفط في المصابيح الزيتية ----- . (حديثا – قديما)

السؤال الرابع: اختر من العمود (ب) ما يتناسب مع عبارات العمود (أ) وصل بينهما:


المجموعة (أ)	المجموعة (ب)
- من مشتقات النفط	- بنزين - ورق
- من ملوثات الهواء الجوي	- الدراجات الهوائية - الدراجات النارية

السؤال

الخامس : ادرس الرسومات التالية ثم أجب عن المطلوب فيما يلي



٣



٢



١

- جهاز يستخدم في البحث عن النفط هو رقم -----


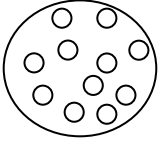
- نوع من المنتجات النفطية هو رقم -----

نموذج إجابة قياس نهاية الوحدة التعليمية الأولى للصف الثالث الابتدائي
الفصل الدراسي الثاني
الكفايات الخاصة المتضمنة في الوحدة التعليمية : (١ - ٣) (٢ - ١)

س ١ : ضع بين القوسين علامة (✓) عند العبارة الصحيحة وعلامة (x) عند العبارة
غير الصحيحة فيما يلي :

- ١ - التربة الرملية هي السائدة في بلادي . (✓)
٢ - النباتات الصحراوية جذورها قصيرة. (x)

س ٢ : اختر من العمود (ب) ما يتناسب مع عبارات العمود (أ) وصل بينهما:

المجموعة (أ)	المجموعة (ب)
• نباتات تنمو وتزدهر بعد هطول الأمطار	- نباتات معمرة - نباتات حولية
• حبيبات التربة الرملية تكون	-  - 

س ٣ : أكمل العبارات التالية بما يناسبها علمياً :

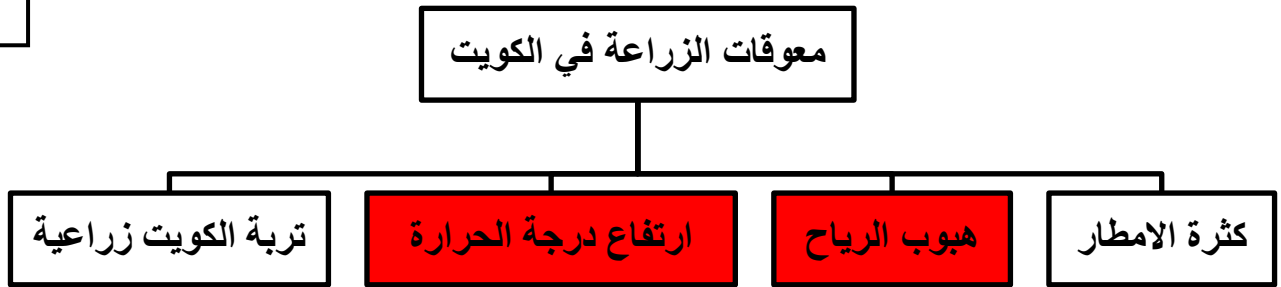
٢

١-نباتات بلادي أوراقها **صغيرة** (صغيرة – كبيرة)

٢-النباتات التي تنمو طوال السنة تعرف بالنباتات **المعمرة** (الحولية – المعمرة)

س ٤ : امامك مخطط سهمي ظللي الأسباب التي تعيق الزراعة في الكويت :

٢



س ٥ : ألقب اسم شكل سطح الأرض الذي تمثله كل صورة :

٢



----- **تلال** ----- وارة



----- **هضبة** ----- الأحمدى

قياس نهاية الوحدة التعليمية الثانية للصف الثالث الابتدائي

الفصل الدراسي الثاني

الكفايات الخاصة المتضمنة في الوحدة التعليمية : (١ - ٥) (٢ - ٧) (٢ - ٤)

السؤال الأول : ضع بين القوسين علامة (√) عند العبارة الصحيحة وعلامة (x) عند العبارة

غير الصحيحة فيما يلي :

- ١- البحر هو المصدر الاساسي لمياه الشرب في دولة الكويت . (√)
٢- تكثر النباتات في دولة الكويت بسبب الظروف المناخية القاسية . (x)

السؤال الثاني : اختر الاجابة الصحيحة علميا لكل من العبارات التالية بوضع علامة (√) في المربع المقابل لها :

١- من مشاكل الزراعة في دولة الكويت :

الأمطار الغزيرة انخفاض درجة الحرارة التربة الزراعية الرياح

٢- من الأدوات التي تساعدنا عند الذهاب في رحلة بحرية:



السؤال الثالث : اكمل كل من العبارات التالية بما يناسبها علميا :

(سترة النجاة - الخيمة - التكثيف - التبخير)

- ١- من الأدوات اللازمة لرحلة التخييم ----- **الخيمة** ----- .
- ٢- تحول المادة من الحالة الغازية الى الحالة السائلة عند درجة حرارة معينة هي ----- **التكثيف** ----- .

السؤال الرابع : صل الكلمات التالية بما يناسبها :



سلوك صحيح

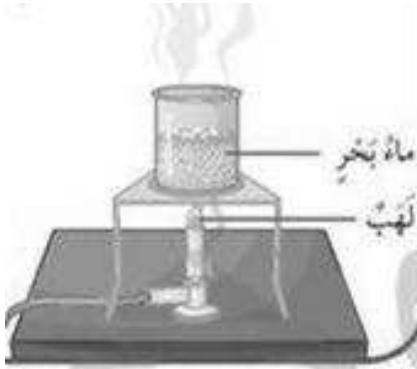


سلوك غير صحيح

السؤال الخامس : اجب عن الاسئلة التالية :

من خلال التجربة العلمية (تجربة اختفاء الماء)

قم بغلي ماء البحر الى أن يختفي :



- ماذا بقي في الكأس؟

----- **ملح** -----

- ماذا حدث للماء في الكأس؟

----- **تبخر** -----

نموذج إجابة قياس الوحدة التعليمية الثالثة للصف الثالث الابتدائي

الفصل الدراسي الثاني

الكفايات الخاصة المتضمنة في الوحدة التعليمية : (٣ - ٣) (١ - ٣)

السؤال الأول: اختر الإجابة الصحيحة علمياً لكل من العبارات التالية بوضع علامة (✓) في المربع

المقابل لها:

٢

١- مصدر الطاقة الرئيسي في دولة الكويت هو :

النفط الغاز الرياح الماء

٢- منتج نفطي يستخدم للقضاء على الحشرات :

أصباغ مبيدات حشرية بلاستيك الكبريت

السؤال الثاني: ضع بين القوسين علامة (✓) عند العبارة الصحيحة وعلامة (x) عند العبارة

غير الصحيحة فيما يلي :

٢

١- يتميز النفط بأن قوامه خفيف . (x)

٢- يجب ارتداء القفازات عند استخدام ألوان الحائط . (✓)

السؤال الثالث: أكمل كلا من العبارات التالية بما يناسبها علمياً :-

- ١- النفط يتكون من --- **النباتات** --- و الحيوانات بعد موتها . (النباتات – الانسان)
- ٢- استخدم النفط في المصابيح الزيتية ----- **قديمًا** ----- . (حديثًا – قديمًا)

السؤال الرابع: اختر من العمود (ب) ما يتناسب مع عبارات العمود (أ) وصل بينهما:


المجموعة (أ)	المجموعة (ب)
- من مشتقات النفط	- بنزين - ورق
- من ملوثات الهواء الجوي	- الدراجات الهوائية - الدراجات النارية

السؤال

الخامس : ادرس الرسومات التالية ثم أجب عن المطلوب فيما يلي



٣



٢



١

- جهاز يستخدم في البحث عن النفط هو رقم ١ -----

- نوع من المنتجات النفطية هو رقم ٣ -----

وزارة التربية

التوجيه الفني العام للعلوم

اللجنة الفنية المشتركة للمرحلة الابتدائية

نموذج إجابة قياس نهاية الوحدة التعليمية الرابعة للصف الثالث الابتدائي

الفصل الدراسي الثاني

الكفايات الخاصة المتضمنة في الوحدة التعليمية : (٣-٤)

س١ : ضع بين القوسين علامة (✓) عند العبارة الصحيحة وعلامة (x) عند العبارة غير الصحيحة فيما يلي :

١- قراءة شروط الأمن والسلامة المصاحبة للمنتج غير مهمة. (x)

٢- يفضل استخدام الأكياس الورقية بدلا من الأكياس البلاستيكية. (✓)

س٢ : اختر الاجابة الصحيحة مما يلي ووضعه علامة (✓) في المربع المقابل لها :

١ - يمكن التقليل من تلوث الهواء الجوي باستخدام :



٢ - تصنع من مادة :



الزجاج

المطاط

البلاستيك

الفلين

س ٣ : أكمل المخطط السهمي التالي :



منتجات النفط


بلاستيك

بنزين

س ٤ : ادرس الشكل الموضح أمامك ثم ارسم البديل الامن لها :-

البديل الآمن

المستخدم



س ٥ : لون مسببات تلوث الهواء :

