

تم تحميل هذا الملف من موقع ملفات الكويت التعليمية



[com.kwedufiles.www//:https](https://www.kwedufiles.com)

*للحصول على أوراق عمل لجميع الصفوف وجميع المواد اضغط هنا

* للحصول على أوراق عمل لجميع مواد الصف الثالث اضغط هنا

<https://kwedufiles.com/3>

* للحصول على جميع أوراق الصف الثالث في مادة علوم ولجميع الفصول, اضغط هنا

<https://kwedufiles.com/3science>

* للحصول على أوراق عمل لجميع مواد الصف الثالث في مادة علوم الخاصة بـ الفصل الأول اضغط هنا

<https://www.kwedufiles.com/3science1>

* لتحميل كتب جميع المواد في جميع الفصول للصف الثالث اضغط هنا

<https://www.kwedufiles.com/grade3>

* لتحميل جميع ملفات المدرس مدرسة قطوف النموذجية اضغط هنا

[bot_kwlinks/me.t//:https](https://t.me/bot_kwlinks)

* للحصول على جميع روابط الصفوف على تلغرام وفيسبوك من قنوات وصفحات: اضغط هنا

الروابط التالية هي روابط الصف الثالث على مواقع التواصل الاجتماعي

مجموعة الفيسبوك

صفحة الفيسبوك

مجموعة التلغرام

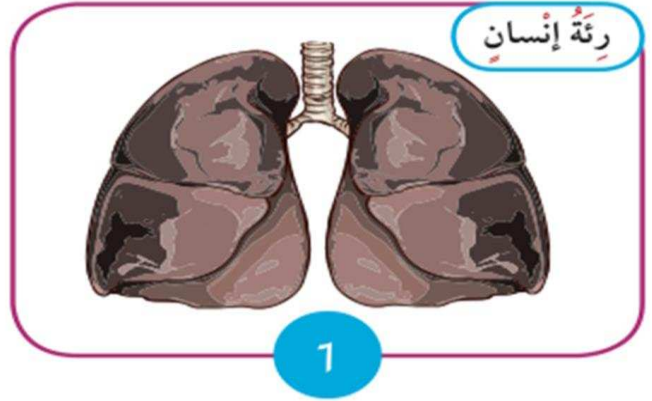
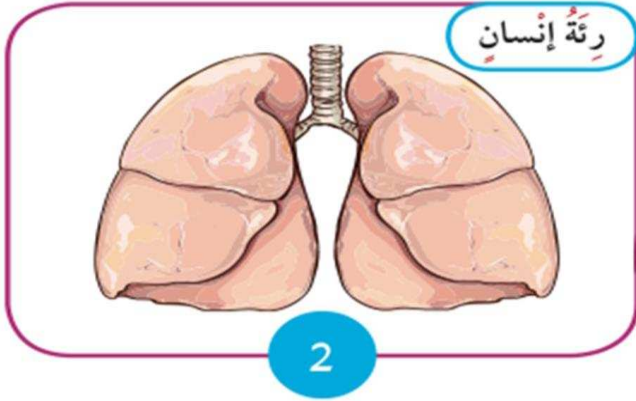
بوت التلغرام

قناة التلغرام

رياضيات على التلغرام

السؤال الأول:

لاحظي الصورة التي أمامك وحددي أي رئة هي رئة سليمة واكتبي السبب:




الرئة رقم

السبب


السؤال الثاني: ضعي علامة () أسفل الأطعمة الصحية:




()



()



()



()

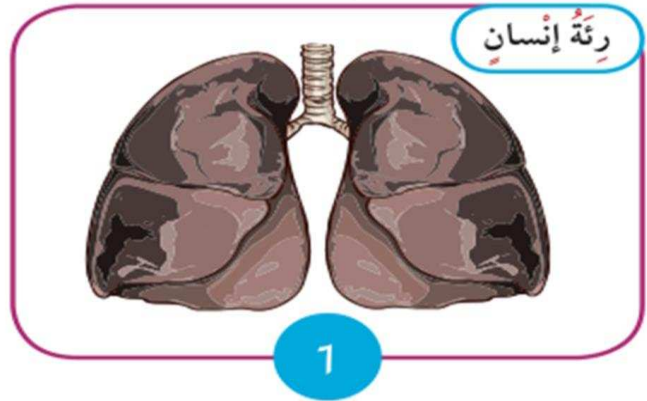
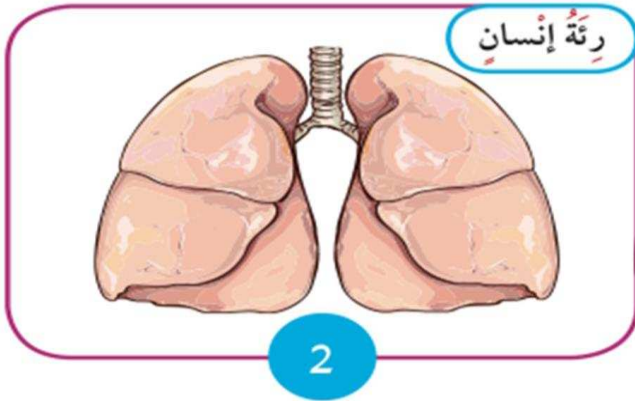
السؤال الثالث: تعتبر الوجبات السريعة غير صحية أكتبي سببين موضحه ذلك:

١-

٢-

السؤال الأول:

لاحظي الصورة التي أمامك وحددي أي رئة هي الرئة السليمة واكتبي السبب :



الرئة رقم (٢)

السبب تنفس الهواء النظيف


السؤال الثاني : ضعي علامة (✓) أسفل الأطعمة الصحية :




()



(✓)



(✓)



()

السؤال الثالث : تعتبر الوجبات السريعة غير صحية أكتبي سببين موضحه ذلك :

١- كثرة الدهون - القلي أكثر من مرة

٢- كثرة السكريات - مواد حافظة - سرعات حرارية عالية