

تم تحميل هذا الملف من موقع المناهج الإماراتية



\* للحصول على أوراق عمل لجميع الصفوف وجميع المواد اضغط هنا

<https://almanahj.com/eg>

\* للحصول على أوراق عمل لجميع مواد الصف الأول اضغط هنا

<https://almanahj.com/eg/1>

\* للحصول على جميع أوراق الصف الأول في مادة رياضيات وجميع الفصول, اضغط هنا

<https://almanahj.com/eg/1math>

\* للحصول على أوراق عمل لجميع مواد الصف الأول في مادة رياضيات الخاصة بـ الفصل الأول اضغط هنا

<https://almanahj.com/eg/1math1>

\* لتحميل كتب جميع المواد في جميع الفصول للـ الصف الأول اضغط هنا

<https://almanahj.com/eg/grade1>

( الإجابة في نهاية الكتاب )

## الاختبار الأول

حوظ مجموعة الموز واكتب عدد التفاح :



عدد التفاح = .....

صل الأعداد المتساوية :

$0 + 9$

$1 + 6$

أربعة

صفر

ثمانية

تسعة

$1 + 3$

سبعة

$6 + 6$

$0 - 0$

رتب الأعداد الآتية ترتيبًا تنازليًا :

٥ ٦ ١ ٦ ٩ ٦ ٤

الترتيب التنازلي هو : .....

أكمل :

	٢	١
٤	٣	
	٥	

١ الرقم ٢ يقع ..... الرقم ٣

٢ الرقم ٤ يسار الرقم .....

٣ الرقم ..... يقع بين الرقم ٢ والرقم ٤ الرقم ٣ على ..... الرقم ٤

أكمل باستخدام (&lt;) أو (&gt;) أو (=) :

٨ .....  $0 + 6$

٤ .....  $1 + 3$

٧ .....  $7 + 2$

٤ - ٨ ..... ٧

٩ - ٩ ..... صفر

٠ - ٥ .....  $0 + 5$

## الاختبار الثاني


حسب الشكل

		
.....	.....	.....

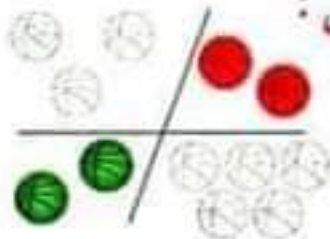
حسب اللون

		
.....	.....	.....

١ عد وأكمل مكان النقط :



٢ لون الكرات التي فوق الكرات الخضراء باللون الأصفر ثم أكمل :



١ الكرات الحمراء تقع ..... الكرات الصفراء .

٢ عدد الكرات بدون تلوين .....

٣ أكمل بكتابة العدد المناسب :

..... + ٦ &lt; ٩ ٢

٥ + ..... &gt; ٧ ١

٢ + ..... = ٣ + ٤ ٤

١ &gt; ..... - ٩ ٣

..... - ٩ = ٦ + ٢ ٦

٢ - ٥ = ..... - ٧ ٥

٤ رتب الأعداد الآتية ترتيبًا تصاعديًا :

٠ ٦ ٩ ٦ ٢ ٦ ٨ ٦ ٤

الترتيب التصاعدي هو : ..... ٦ ..... ٦ ..... ٦ ..... ٦ .....

٥ أكمل :

$$\begin{array}{r} ٢ \\ ١ \\ \hline \end{array} -$$

$$\begin{array}{r} ٦ \\ ١ \\ \hline \end{array} +$$

$$\begin{array}{r} ٩ \\ ٧ \\ \hline \end{array} -$$

$$\begin{array}{r} ٥ \\ ٤ \\ \hline \end{array} +$$

..... = ١ - ٨ ٦

..... = ٣ + ٣ ٥

الاختبار الثالث



حوظ مجموعة البالونات ثم أكمل ( أقل من / أكثر من / = ) :  
 عدد التفاح ..... عدد البالونات . عدد الكرات ..... عدد التفاح .

اختر الإجابة الصحيحة مما بين القوسين :

( ٧ أ ٨ أ ٦ أ ٦ )

( واحد أ اثنان أ ثلاثة )

( ٠ أ ٤ أ ٦ أ ٦ )

( ٨ أ ٤ أ ٦ أ ١ )

.....  $> ٤ + ٣$  ١

.....  $+ ٣ = ٦$  ٢

.....  $< ٥ - ٧$  ٣

.....  $- ٨ > ٠ + ٥$  ٤

لاحظ ثم أجب :



١ اللون الأحمر يقع ..... اللون الأصفر .

٢ اللون الأزرق يقع يمين اللون .....

٣ اللون الأصفر يقع ..... اللون الأزرق واللون البنفسجي .

رتب الأعداد الآتية ترتيباً تصاعدياً : ٠ ٦ ٤ ٦ ٢ ٦ ٨ ٦ ٦

الترتيب التصاعدي هو : ٦ ..... ٦ ..... ٦ ..... ٦

أكمل :

..... = ١ + ٤ ٣

..... = ٦ + ٣ ٦

..... = ٢ - ٧ ١

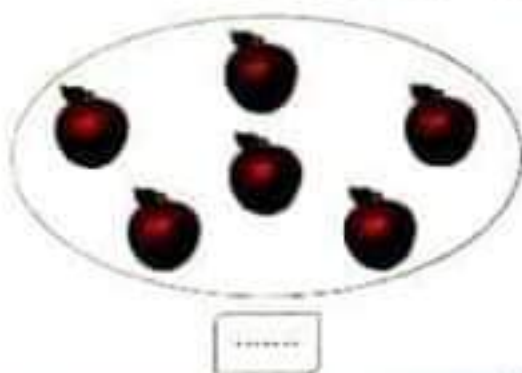
$$\begin{array}{r} ٥ \\ \dots + \\ \hline ٨ \end{array}$$

$$\begin{array}{r} ٣ \\ \dots + \\ \hline \dots \end{array}$$

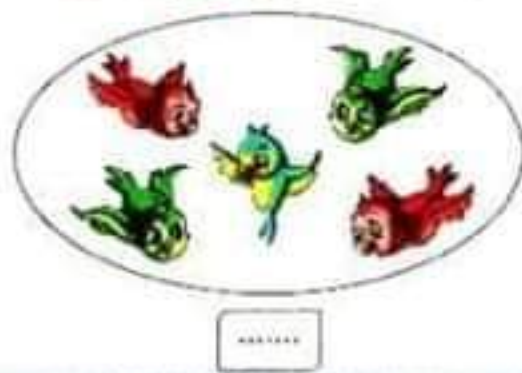
$$\begin{array}{r} ٩ \\ \dots - \\ \hline \dots \end{array}$$

## الاختبار الرابع

١ اكتب العدد أسفل كل مجموعة ، ثم ضع (<) أو (>) أو (=) :



.....



.....

٢ رتب الأعداد الآتية ترتيباً تصاعدياً :

٥ ٦ ٠ ٦ ٩ ٦ ٧ ٦ ٢

الترتيب التصاعدي هو : ..... ٦ ..... ٦ ..... ٦ ..... ٦ ..... ٦

٣ اختر الإجابة الصحيحة مما بين القوسين :

( ٥ أ ٦ أ ٣ )

( ٦ أ ٢ أ ٣ )

( ١ أ ٢ أ ٣ )

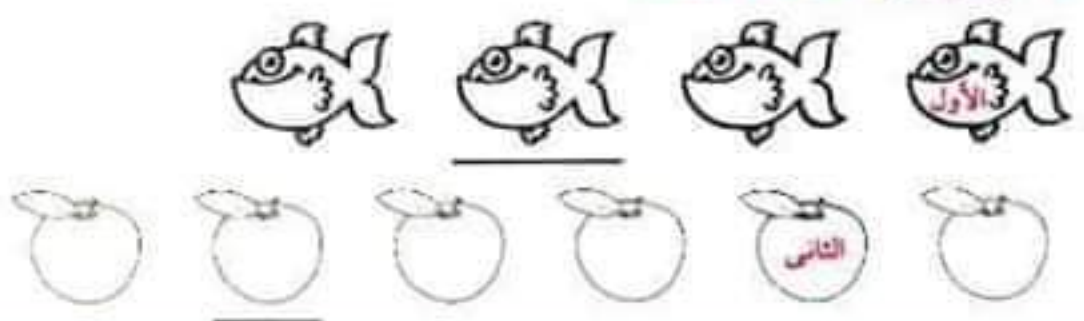
١ العدد ٤ أكبر من العدد .....

٢ ٩ - ..... = ٤ + ٦

٣ ٨ - ٣ = ٦ - .....

٤ اكتب ترتيب ما تحته خط :

الترتيب
.....
.....



٥ أوجد الناتج :

$$\begin{array}{r} ٣ \\ + \\ ٢ \\ \hline \end{array}$$

$$\begin{array}{r} ٣ \\ + \\ ٥ \\ \hline \end{array}$$

$$\begin{array}{r} ٧ \\ - \\ ١ \\ \hline \end{array}$$

$$\begin{array}{r} ٧ \\ + \\ \dots \\ \hline ٨ \end{array}$$

$$\dots = ٦ + \text{صفر}$$

$$\dots = ٦ - ٦$$

## الاختبار الخامس

حوظ الرسم الذي له نفس الشكل ونفس اللون :

●	▲	●	■	●	▭	●
■	■	●	▲	▲	■	▲
▲	●	■	▭	■	●	■

أكمل :

$$٢ - ٧ > \dots \quad \dots = ٤ - ٦ \quad \dots = ٥ + ٣$$

$$\dots + ٧ < ٦ + ٧ \quad \dots = \text{عدد أرجل القطة}$$

لون باللونين الأصفر والأحمر بحيث تكون المربعات الملونة باللونين متساوية العدد :

--	--	--	--	--	--	--	--

(أ) أكمل بنفس النمط :

$$١٦ \dots ٦٥٦ \dots ٦٩ \quad \dots ٦ \dots ٦٤٦٢$$

(ب) أكمل الجدول :

⊖	⊖	⊖	⊖	⊖	⊖	⊖
٤	٤	٥	٧	٢	٤	٤
⊕	⊕	⊕	⊕	⊕	⊕	⊕
٤	٤	٥	٧	٢	٤	٤

ضع علامة (&lt;) أو (&gt;) أو (=) :

$$٧ \dots ٨$$

$$٤ + ٢ \dots \text{سبعة}$$

$$٢ + ٤ \dots ٥ + ٤$$

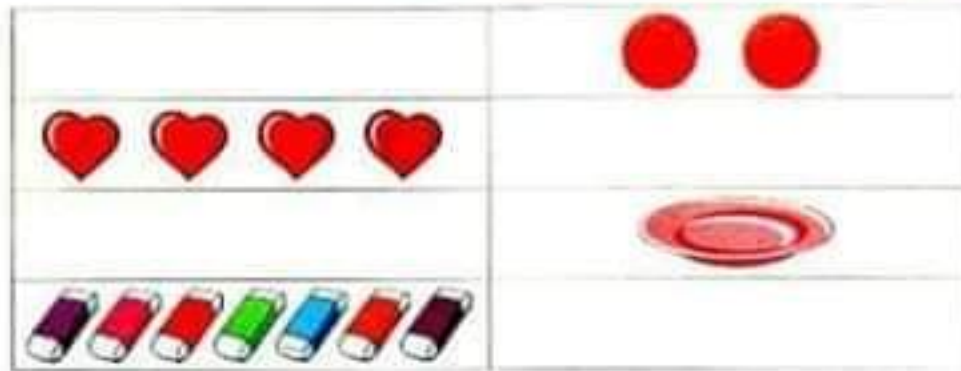
$$٠ - ٣ \dots ٠ + ٣$$

$$٤ - ٨ \dots ٣ - ٧$$

$$٩ \dots ٦ + ٦$$

## الاختبار السادس

١ ارسم ● ليصبح للمجموعتين المتقابلتين نفس العدد :



٢ رتب الأعداد تصاعدياً : ٥ ٦ ١ ٦ ٧ ٦ ٠

الترتيب التصاعدي هو : ..... ٦ ..... ٦ ..... ٦

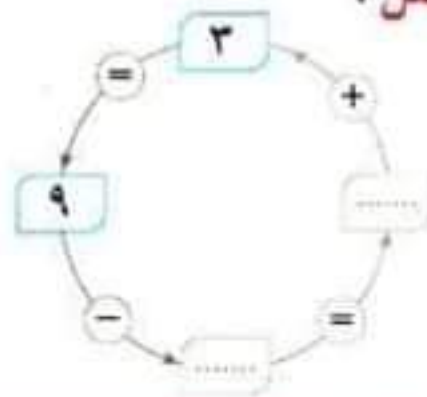
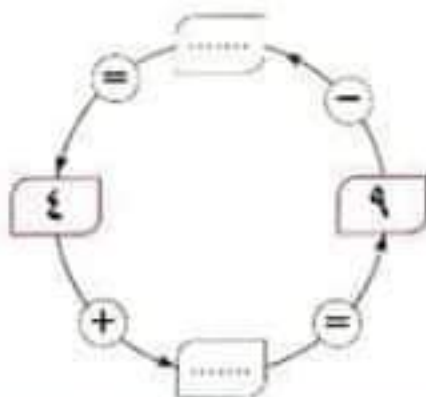
٣ أكمل بنفس النمط : ٨ ٦ ..... ٦ ٤ ٦ ٢

٤ ضع علامة (<) أو (>) أو (=) :

١  $٥ + ٥$  .....  $١ + ٥$       ٢  $٦ + ١$  .....  $٧$       ٣ ثمانية .....  $٩ + ٠$

٤  $١ + ٢$  .....  $٢ - ١$       ٥  $٢ + ٤$  .....  $٢ - ١$       ٦  $٦ - ٩$  .....  $٤$

٥ لاحظ وأكمل :



٥ مع سامي ٦ بالونات طار منها ٣ بالونات . ما عدد البالونات المتبقية ؟

عدد البالونات المتبقية = ..... - ..... = ..... بالونات .

الاختبار السابع

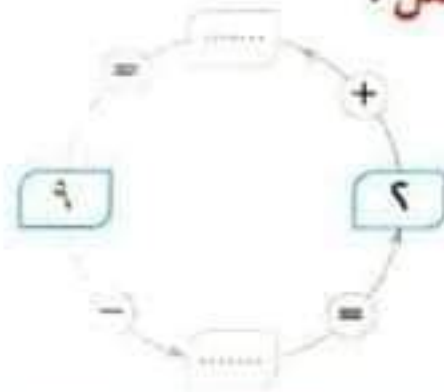
١ كون مجموعات :



٢ لاحظ وأكمل :

$$\begin{array}{r} \square \\ + \square \\ \hline \square \end{array}$$

٢



١

٣ أكمل ، ثم ضع (<) أو (>) أو (=) :



١ عدد البرتقال = .....

٢ عدد الموز = .....

٣ عدد البرتقال ..... عدد الموز

٤ (أ) حوِّط العدد الأكبر ، ثم رتب الأعداد تنازليًّا : ٩ ٦ ٨ ٤ ٠ ٦ ٩

الترتيب التنازلي : ..... ٦ ..... ٦ ..... ٦

(ب) حوِّط العدد الأصغر ، ثم رتب الأعداد تصاعديًّا : ٩ ٦ ٦ ٦ ٧ ٨

الترتيب التصاعدي : ..... ٦ ..... ٦ ..... ٦

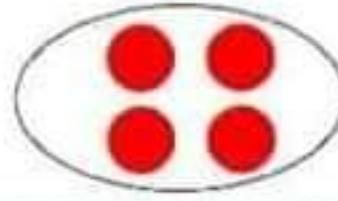
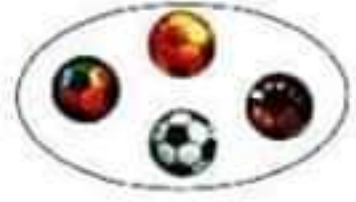
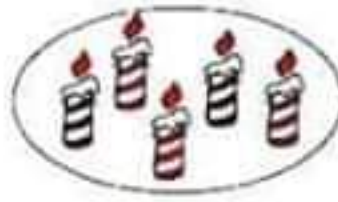
٥ مع عمرو ٦ جنيهاً وأخذ من والده ٢ جنيهاً . كم جنيهاً أصبح مع عمرو ؟

ما أصبح مع عمرو = ..... + ..... = ..... جنيهاً .



## الاختبار الثامن

١ صل المجموعات التي لها نفس العدد :



٢ أكمل :

٨ = ..... + ٣

..... &gt; ٧ - ٧

..... = ١ - ٦

..... - ٣ &lt; ٢ + ٣

..... - ٩ = ٤ + ٤

..... = عدد أرجل الأسد

٣ أكمل بنفس النمط :

١٦ ..... ٦٣٦ ..... ٦٥

..... ٦٦٦٤٦٦

..... ٦ ..... ٦△△٦○○٦△٦○

..... ٦ ..... ٦٧٦٩

٤ أتوبيس به ٩ أطفال ، نزل منهم ٩ أطفال . فكم طفلاً تبقى بالأتوبيس ؟

عدد الأطفال بالأتوبيس = ..... - ..... = ..... طفل .

٥ أوجد الناتج :

$$\begin{array}{r} 8 \\ 1 \\ \hline \end{array} +$$

$$\begin{array}{r} 7 \\ 7 \\ \hline \end{array} -$$

$$\begin{array}{r} 4 \\ 5 \\ \hline \end{array} +$$

..... = ٥ - ٦

..... = ٦ + ٦

$$\begin{array}{r} 7 \\ 5 \\ \hline \end{array} -$$

الاختبار التاسع

١ حوط مجموعة الأشكال التي تؤكل :



٢ رتب الأعداد الآتية ترتيبًا تصاعديًا و تنازليًا :

٣ ٦ ٤ ٦ ٧ ٦ ١ ٦ ٥

١ الترتيب التصاعدي هو : ٦ ..... ٦ ..... ٦ ..... ٦ ..... ٦

٢ الترتيب التنازلي هو : ٦ ..... ٦ ..... ٦ ..... ٦ ..... ٦

٣ صل النواتج المتساوية :

٥ - ٨

سبعة

٠ + ٣

٣ + ٦

خمسة

٦ - ٩

٤ + ٣

ثلاثة

٣ - ٨

٤ أكمل باستخدام (+) أو (-) :

٨ = ٥ ..... ٣ ٢

٤ = ٥ ..... ٩ ١

٦ ..... ٨ = ٦ + ٤ ٤

٤ + ٦ = ١ ..... ٧ ٣

٥ أكمل :

..... = ٦ + ٤ ٣

..... = ٥ - ٥ ٢

..... = ٠ - ٧ ١

$$\begin{array}{r} ٣ \\ ٦ - \\ \hline \end{array}$$

$$\begin{array}{r} ٦ \\ ٦ + \\ \hline \end{array}$$

$$\begin{array}{r} ٩ \\ ٦ - \\ \hline \end{array}$$

## الاختبار العاشر

١ عد و اكتب العدد ، ثم رتب الأعداد تصاعدياً :



الترتيب تصاعدياً : ..... ٦ ..... ٦

٢ اختر الإجابة الصحيحة مما بين القوسين :

( ٦ ٤ ٦ ٣ )

..... = ١ - ٥ ١

( &gt; ٦ = ٦ &lt; )

٠ + ١ ..... ٩ - ٩ ٢

( ٣ ٦ ٢ ٦ ١ )

..... = ١ + ٢ ٣

( ١ ٦ ٣ ٦ ٤ )

..... + ٣ = ٣ + ١ ٤

( صفر ٦ ٤ ٦ ٥ )

..... + ٤ &lt; ستة ٥

٣ (أ) اكتب عددين متتاليين مجموعهما ٩ العددان هما : ..... ٦

(ب) حوِّط العدد الأكبر : ٤ ٦ ٧ ٦ ٨ ٦ ٦ ٦

٤ اشترت ناهد بـ ٥ جنيهاً و بـ ٢ جنيه . كم جنيهاً دفعتها للبائع ؟

ما دفعته ناهد = ..... + ..... = ..... جنيهاً .

٥ أكمل الجدول :

٥	-	.....	٧	.....	٨	.....	+	٥
٥	=	١	.....	صفر	.....	٤	=	٥

الاختبار الحادي عشر

كون مجموعات :



ضع علامة (<) أو (>) أو (=) :

٠ - ٦ ..... ٠ + ٦ ٢

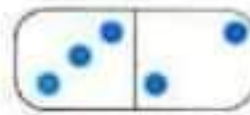
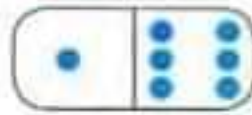
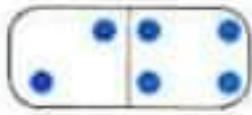
٣ - ٤ ..... ٣ + ٤ ١

٢ + ٦ ..... ٢ + ٥ ٤

٢ - ٩ ..... سبعة ٣

٥ عدد أرجل القطعة ..... عدد أرجل الدجاجة .

٣ اكتب العدد ، ثم رتب الأعداد ترتيبًا تنازليًا ( من الأكبر إلى الأصغر ) :



الأعداد مرتبة ترتيبًا تنازليًا : ..... ٦ ..... ٦ ..... ٦ ..... ٦

٤ أكمل بنفس النمط :

٢ ٦ ..... ٦ ..... ٦ ٥ ٢

..... ٦ ..... ٦ ٤ ٦ ٢ ١

١ ٦ ..... ٦ ..... ٦ ٧ ٦ ٩ ٣

..... □ ٦ ○ ○ □ ٦ ○ □ ٦ □ ٤

..... ▷ ▷ ▷ ◻ ▷ ▷ ▷ ◻ ٥

٥ اشترى باسم كيس شيبسي بـ ٢ جنيه ، وزجاجة مياه غازية بـ ٥ جنيهات .

فكم دفع باسم ؟

ما دفعه باسم = ..... + ..... = ..... جنيهات .

## الاختبار الثاني عشر

١ كون مجموعات ، ثم أكمل باستخدام الكلمات ( أقل من / أكثر من ) :



١ مجموعة الأسماك ..... مجموعة الخيول .

٢ مجموعة الخيول ..... مجموعة القطط .

٢ رتب الأعداد الآتية تصاعدياً : ٥ ٦ ٨ ٦ ٧ ٦ ١ ٦ ٣

الترتيب هو : ٦ — ٦ — ٦ — ٦

١ العدد الأصغر هو ..... ٢ العدد الأكبر هو .....

٣ أكمل باستخدام العلامة المناسبة (+) أو (-) :

١ ٣ — ٦ = ٩ ٢ ٤ = ٥ ٣ سبعة = ٨ ٤ ١ = ١

٤ أكمل بكتابة الأعداد الناقصة ، ثم بكتابة الكلمات ( يمين ، يسار ، بين ) :

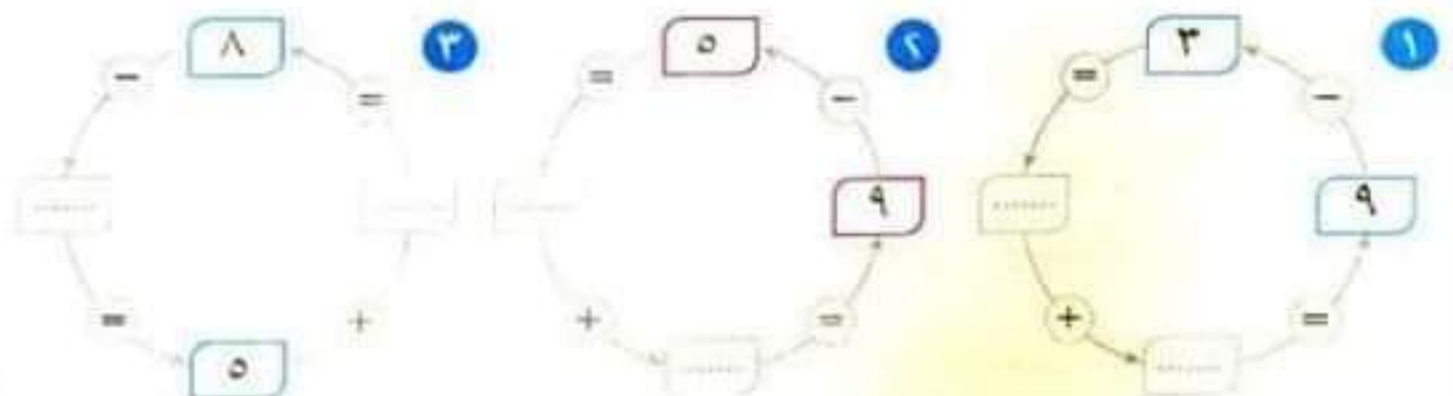
٣

٥

٦

١ العدد ٦ يقع ..... العدد ٥ ..... العدد ٤ ٦ ٤

٥ لاحظ وأكمل :



## الاختبار الثالث عشر

١ لون الأشكال المتشابهة بنفس اللون ، ثم اكتب العدد بحسب الشكل :



٢ اكتب العدد ، ثم رتب الأعداد ترتيبًا تصاعديًا ( من الأصغر إلى الأكبر ) :




الأعداد مرتبة تصاعديًا : ..... ٦ ..... ٦ ..... ٦

٣ أكمل بوضع (<) أو (>) أو (=) :

١ ٥ + ٣ ..... ١ - ٩      ٢ ٦ - ٩ ..... ٣ + ٥      ٣ ٧ - ٣ ..... ٧ - ٤

٤ اكتب ترتيب ما تحته خط :

الترتيب

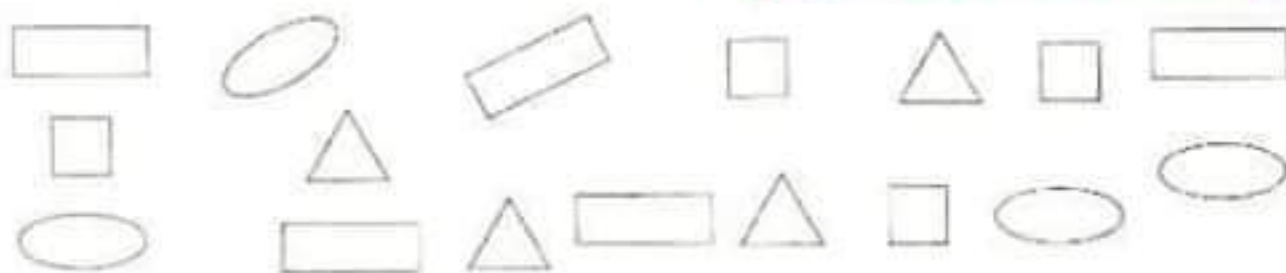


٥ اشترى كريم مجلة ثمنها ٥ جنيهاً وقلمًا ثمنه ٢ جنية . أوجد ما دفعه كريم ؟

ما دفعه كريم = ..... + ..... = ..... جنيهاً .

## الاختبار الرابع عشر

١ لون الأشكال المتشابهة بنفس اللون :



٢ اختر الإجابة الصحيحة مما بين القوسين :

$$(٥ - ٥ أ ٥ + ٥ أ ٥ - ٥ أ ٥)$$

$$\dots = ٤ - ٩ \text{ ١}$$

$$(٦ + ٦ أ ٦ - ٦ أ ٦ + ٦ أ ٦)$$

$$\dots = ٥ + ٣ \text{ ٢}$$

$$(< ٦ = ٦ >)$$

٣ عدد أرجل الفيل [.....] عدد أرجل القطعة .

$$(٢ أ ٣ أ ٤ أ ٥)$$

$$\dots - ٩ = ٤ + ٢ \text{ ٤}$$

٣ أكمل :

$$\begin{array}{c} \text{١} \\ \dots - \dots = \dots + \dots \end{array} \quad \begin{array}{c} \text{٢} \\ \dots - \dots = \dots + \dots \end{array} \quad \begin{array}{c} \text{٣} \\ \dots + \dots = \dots - \dots \end{array}$$

٤ اشترى عادل ٧ تفاحات ، أكل منها تفاحتين . ما عدد التفاح المتبقى ؟

عدد التفاح المتبقى = ..... - ..... = ..... تفاحات .

٥ أكمل بكتابة العدد المناسب :

$$\dots - ٨ < ١ \text{ ٣}$$

$$\dots - ٦ < ٥ \text{ ٢}$$

$$\dots + ٤ > ٦ \text{ ١}$$


$$\dots - ٩ = ٥ - ٨ \text{ ٦}$$

$$\dots + ٦ = ٣ - ٧ \text{ ٥}$$

$$٣ + \dots > ٧ \text{ ٤}$$

## الاختبار الخامس عشر

حوظ الأشياء التي توجد بحقيبتك :



أكمل بنفس النمط :


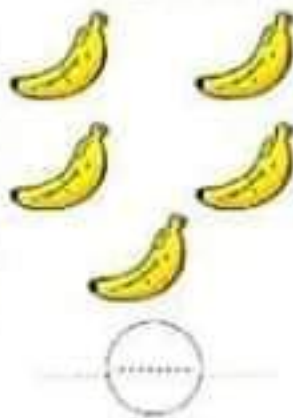

٤ ٦ ..... ٦ ..... ٦ ٧ ٦ ٨ ٢

..... ٦ ٥ ٦ ٣ ٦ ١ ١

..... ٦ ☆ ☆ ٦ ☆ ٤

..... ◀ ○ ▶ ◀ ▶ ٣

اكتب العدد ، ثم رتب الأعداد ترتيبًا تنازليًا ( من الأكبر إلى الأصغر ) :



الأعداد مرتبة تنازليًا : ..... ٦ ..... ٦ ..... ٦

أكمل :

..... = ٦ - ٩ ٣

٧ = ..... + ٧ ٢

..... = ٤ + ٥ ١

..... = ٣ + ٢ ٦

..... = ٥ - ٨ ٥

١ = ..... - ١ ٤

اشترت مريم علبة ألوان ثمنها ٥ جنيهاً وبراية ثمنها ٣ جنيهاً . كم دفعت مريم ؟

ما دفعته مريم = ..... جنيهاً .