

تم تحميل هذا الملف من موقع ملفات الكويت التعليمية



[com.kwedufiles.www//:https](https://www.kwedufiles.com)

*للحصول على أوراق عمل لجميع الصفوف وجميع المواد اضغط هنا

* للحصول على أوراق عمل لجميع مواد الصف الثالث اضغط هنا

<https://kwedufiles.com/3>

* للحصول على جميع أوراق الصف الثالث في مادة رياضيات ولجميع الفصول, اضغط هنا

<https://kwedufiles.com/3math>

* للحصول على أوراق عمل لجميع مواد الصف الثالث في مادة رياضيات الخاصة بـ الفصل الأول اضغط هنا

<https://www.kwedufiles.com/3math1>

* لتحميل كتب جميع المواد في جميع الفصول للصف الثالث اضغط هنا

<https://www.kwedufiles.com/grade3>

* لتحميل جميع ملفات المدرس مدرسة محمد سليمان الجراح أ. بنين اضغط هنا

[bot_kwlinks/me.t//:https](https://t.me/bot_kwlinks)

للحصول على جميع روابط الصفوف على تلغرام وفيسبوك من قنوات وصفحات: اضغط هنا

الروابط التالية هي روابط الصف الثالث على مواقع التواصل الاجتماعي

مجموعة الفيسبوك

صفحة الفيسبوك

مجموعة التلغرام

بوت التلغرام

قناة التلغرام

رياضيات على التلغرام

أ) أوجد الناتج :

= 5 × 4

= 6 × 5

= 4 × 4

= 6 × 6

= 3 × 8

= 0 × 7

= 1 × 40

$$\begin{array}{r} 7 \\ 2 \times \\ \hline \end{array}$$

$$\begin{array}{r} 9 \\ 9 \times \\ \hline \end{array}$$

$$\begin{array}{r} 8 \\ 1 \times \\ \hline \end{array}$$

أنا بطل حافظ
لجدول الضرب

أوجد ناتج :

..... = 3 × 2 - 9

..... = 5 + 4 × 5




تذكر : بطلنا الضرب
ونبدأ به دائما قبل
الجمع أو الطرح

أكمل مستعينا بالمفتاح للتمثيل البياني بالصور

أجب عما يأتي

(1) كم عدد العجلات في 7 دراجات ؟
عدد العجلات في 7 دراجات = _____

(2) للفراشه 6 أرجل كم عدد أرجل 9 فراشات ؟

العدد	الكوكيز المفضل	
		كوكيز بالشكولاته
		كوكيز بالشكولاته البيضاء
		كوكيز بالنوتيللا

كل  تمثل 4

حوط الأجابة الصحيحة فى كل مما يلي :

(١) أي مما يلي من مضاعفات العددين ٢ ، ٥ هي

٣٢

٣٠

٥٢

(٢) يصنع محمد في اليوم ٣ بطاقات معايدة . كم بطاقة يصنعها خلال أسبوع

١٥

٩

٢١

(٢) يزيد ناتج ٥×٨ على ناتج ٥×٧ بمقدار

١

٥

٨

مع تمنياتي بالتوفيق

رئيسة القسم
عذاري البطحاني

إعداد
أ / نجلاء صلاح

