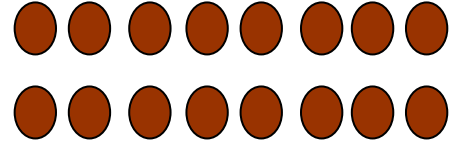

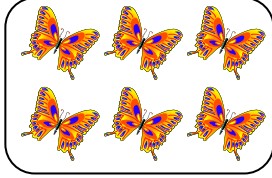


الاسم
الصف


وزارة التربية
الإدارة العامة حولي التعليمية
التوجيه الفني للرياضيات

تقويم الوحدة الثالثة
للفصل الثالث للعام الدراسي ٢٠١٩/٢٠٢٠

س ١ : أكتب عبارة الضرب



$$18 = 6 \times 3$$




$$16 = 8 \times 2$$

ب) استخدم خط الأعداد في إيجاد الناتج

$$18 = 9 \times 2$$



ج) أكمل



س ٢ : (أ) أوجد الناتج

$$12 = 0 \times 12 - 12$$




$$72 = 9 \times 8$$

ب) أوجد ناتج ضرب ٨ ، ٩

$$56 = 7 \times 8$$

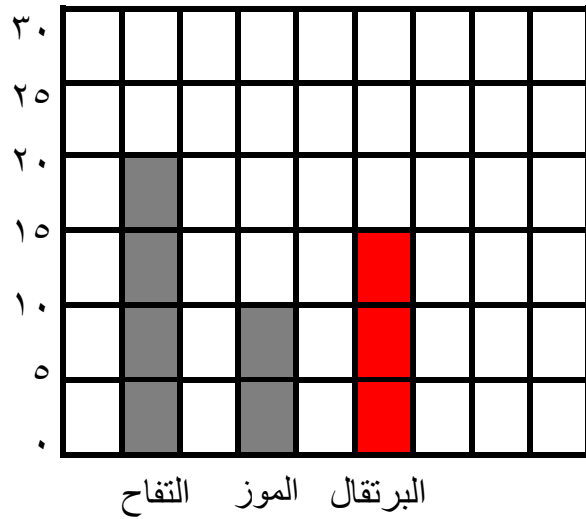
اضرب العددين ٨ ، ٧

(ب) الجدول التالي يبين أنواع الفاكهة المفضلة لدى متعلمي الصف الثالث

الفاكهة المفضلة لدى متعلمي الصف الثالث		
العدد	نوع الفاكهة	
٢٠		التفاح
١٠		الموز
١٥		البرتقال

كل  يمثل ٥ متعلمين

(١) أكمل الجدول
(٢) استخدم المعطيات في الجدول لتكمل التمثيل البياني بالأعمدة



س ٣: أ) اختر الإجابة الصحيحة بوضع (✓)

(١) أي مما يلي من مضاعفات العدد ٢، ٥؟

٣٥



٣٠



٥٢



٦٤ = ٨ ٨

(٢) اختر رمز العملية المناسبة

×



-



+

