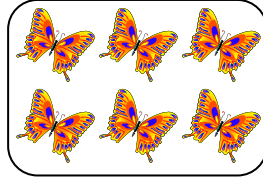
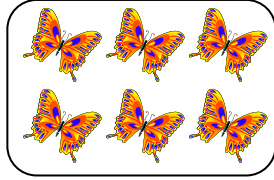



الاسم  
الصف

وزارة التربية  
الإدارة العامة حولي التعليمية  
التوجيه الفني للرياضيات

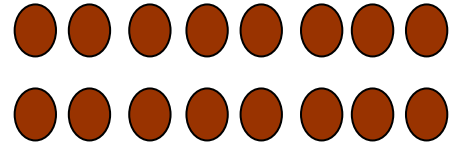
تقويم الوحدة الثالثة  
للفصل الثالث للعام الدراسي ٢٠١٧/٢٠١٨



$$\square = \square \times \square$$



س ١: أكتب عبارة الضرب



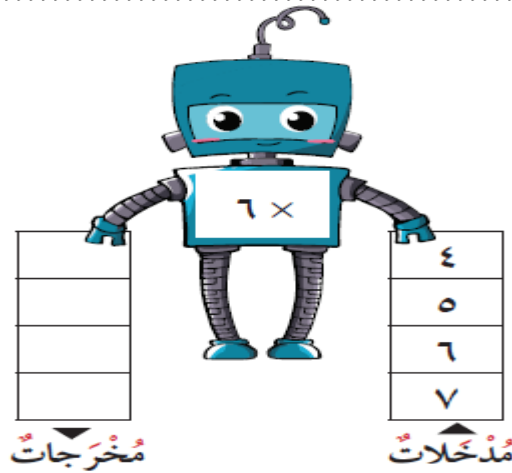
$$\square = \square \times \square$$

ب) استخدم خط الأعداد في إيجاد الناتج

$$\square = 9 \times 2$$



ج) أكمل



س ٢: (أ) أوجد الناتج

$$= 12 - 12 \times 0$$

ب) أوجد ناتج ضرب ٨ ، ٩


اضرب العددين ٨ ، ٧

(ب) الجدول التالي يبين أنواع الفاكهة المفضلة لدى متعلمي الصف الثالث

الفاكهة المفضلة لدى متعلمي الصف الثالث		
العدد	نوع الفاكهة	
	● ● ● ●	التفاح
	● ●	الموز
١٥		البرتقال

كل ● يمثل ٥ متعلمين

(١) أكمل الجدول  
(٢) استخدم المعطيات في الجدول لتكمل التمثيل البياني بالأعمدة



س ٣: أ) اختر الإجابة الصحيحة بوضع (✓)

(١) أي مما يلي من مضاعفات العدد ٢، ٥؟

٣٥



٣٠



٥٢



٦٤ = ٨ □ ٨

(٢) اختر رمز العملية المناسبة

×



-



+

