

السؤال الثالث:-

* ظلل (أ) إذا كانت العبارة صحيحة و ظلل (ب) إذا كانت العبارة غير

صحيحة:-

ب	أ	١- من المجسمات التي تتدرج المكعب
ب	أ	٢- وجه الإسطوانة هو دائرة

مديرة المدرسة

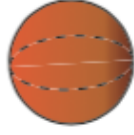
ابتسام ملا جمعه

رئيسة القسم

عير الجريدان.

إعداد


قسم الرياضيات

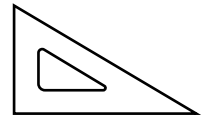
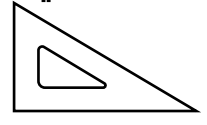
السؤال الأول :- اكتب اسم كل مجسم مستعيناً بالكلمات**

مكعب
كرة
شبه مكعب
أسطوانة
مخروط



عَدَدُ الأضلاع [عَدَدُ الأضلاع
عَدَدُ الرَّؤوسِ [عَدَدُ الرَّؤوسِ

**السؤال الثاني :-* اكتب الكلمة المناسبة لحركة الشكل :-**



*** اكتب عدد الوحدات المربعة المظللة داخل كل من الأشكال :-**