
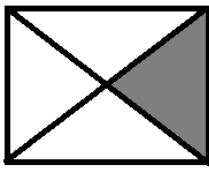
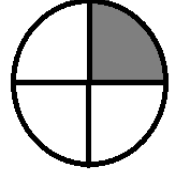
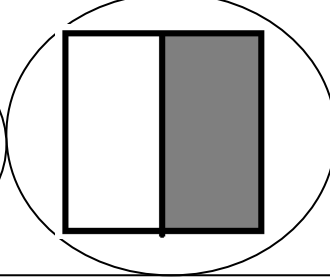
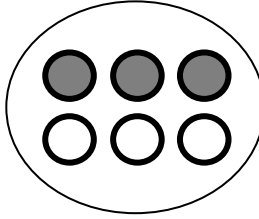
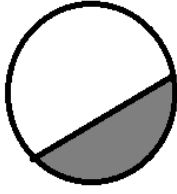


الوحدة السادسة للصف الثالث

السؤال الأول : (حوِّط) الشكل الذي يمثل الجزء الملون منه النصف :



عدد الأجزاء الملونة^١

عدد النحل المحوط^٢

عدد كل الأجزاء^٤

عدد كل النحلات^٦

السؤال الثالث :

! أحضر محمد ١٢ كرة للعب مع أصحابه . وغطى نصف عددهم لون ما يمثل الكرات التي تمت تغطيتها .



(ب) لَوْن ما يمثِّل (النصف) :



السؤال الرابع : (أ) لَوْن ما يمثِّل (ثلاثة أرباع) :



السؤال الخامس : ظلل (أ) إذا كانت العبارة صحيحة ، و ظلل (ب) إذا كانت العبارة خاطئة :

| | |
|--|--|
| | |
| | |

(١) الرَّبع هو جزء واحد من ثلاثة أجزاء متطابقة

(٢) الأجزاء الملونة من الشكل تمثل النصف