



School
science

العلوم

الصف الثاني
الجزء الثاني



الدرس الأول

- ماذا نرى في السماء نهاراً وليلاً؟



WWW.KweduFiles.Com



الأعمال التي نقوم بها خلال النهار



- ماذا نرى في السماء نهاراً وليلاً؟

القمر

النجوم



النجم القطبي

الخفاش

WWW.KweduFiles.Com

تناول العشاء

الأعمال التي نقوم بها
خلال الليل



الذهاب الى النوم

السؤال الأول :


_ ضع علامة (✓) أمام العبارة الصحيحة وعلامة (✗) أمام العبارة الخاطئة :

- 1 نرى الشمس في السماء نهاراً . ()
- 2 نرى القمر في السماء كل ليلة . ()
- 3 في السماء الغير صافية نرى النجوم بوضوح . ()

السؤال الثاني :

_ ضع علامة (○) حول الصورة الصحيحة فيما يلي :

WWW.KweduFiles.Com - نرى في سماء النهار



- الاعمال التي نقوم بها خلال النهار.



اللعب



تناول العشاء



النوم



الذهاب للمدرسة

- الاعمال التي نقوم بها خلال الليل.



الذهاب للعمل



النوم



اللعاب



ترتيب الكتب

السؤال الثالث :


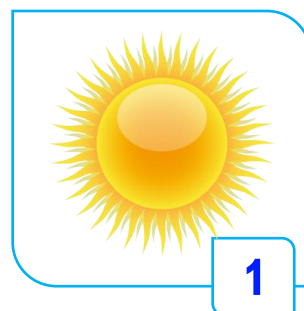


_ أكمل الناقص من العبارات الآتية بين الأقواس :

1 نرى في السماء في أعقاب الليالي (الشمس - القمر)

2 نرى الشمس في السماء (نهاراً - ليلاً)

السؤال الرابع :

_ صف الصور التالية بوضع رقمها في الجدول :



سماء الليل مع سماء النهار	سماء النهار	سماء الليل

الدرس الثاني

- كيف يحدث النهار والليل ؟

يحدث النهار والليل نتيجة دوران الأرض حول نفسها أمام الشمس



السؤال الأول :

_ استخدم الكلمات من الجدول لإكمال الناقص من العبارات :

حول نفسها	دوران
-----------	-------


1 يحدث النهار والليل نتيجة الأرض أمام الشمس.

السؤال الثاني :

_ صل بين العبارة المناسبة والصورة التي تمثلها :



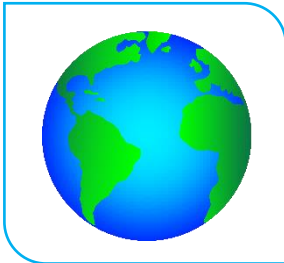
الأرض تدور حول نفسها أمام الشمس



كرة أرضية



النهار



الليل

السؤال الثالث :

ـ اكتشف الخطأ في الصور التالية بوضع دائرة عليه
ثم اكتب الوضع الصحيح أسفل الصورة :

الأرض تدور حول القمر



.....

الليل



.....

النهار



.....



×



✓



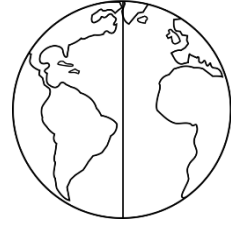

×



✓

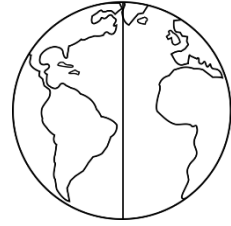

_ لون الجسم المناسب في الرسم التالي :

نهاراً



WWW.KweduFiles.Com

ليلاً




الدرس الثالث

- أي الأجسام يسمح بمرور الضوء ؟

الأجسام الشفافة
تسمح بمرور الضوء

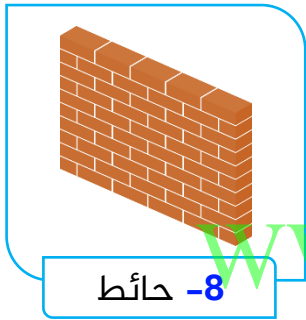
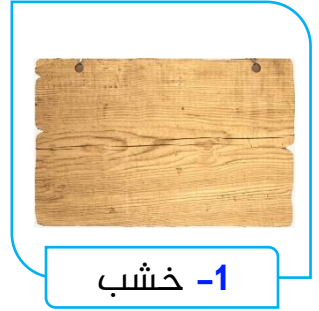
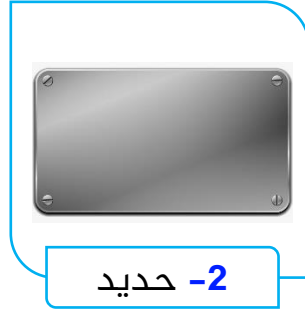
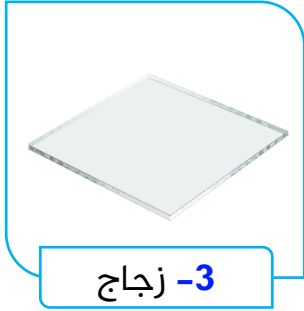
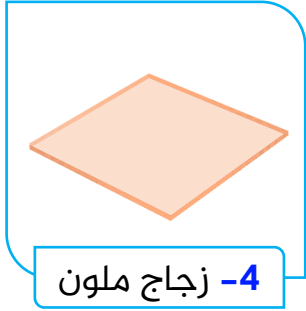


الأجسام النصف شفافة
تسمح بمرور جزء من الضوء




الأجسام الغير شفافة
لا تسمح بمرور الضوء

1 صنف الأشياء الآتية في الجدول التالي :




تسمح بمرور الضوء	لا تسمح بمرور الضوء	تسمح بمرور الضوء


2 صل بين الصورة والكلمة المناسبة فيما يلي :



شفاف



معتم



نصف شفاف

WWW.KweduFiles.Com


السؤال الثاني :

_ أكمل الجمل التالية بإحدى الكلمات العلمية الصحيحة :

معتمة	نصف شفافة	الشفافة
-------	-----------	---------

- 1 الأجسام تسمح بمرور الضوء .
- 2 الأجسام لا تسمح بمرور الضوء .
- 3 الأجسام تسمح بمرور جزء من الضوء .

_ اكتشف الخطأ في الصور التالية بوضع دائرة عليه :



الدرس الرابع

- أي الأجسام يكون ظلاً ؟



لا يتشكل
للأجسام الشفافة ظلاً

WWW.KweduFiles.Com أي الأجسام يكون ظلاً







يتشكل للأجسام المعتمة ظلاً



يشبه شكل الظل شكل الجسم

_ صل بين الصورة والظل المناسب لها :



الدرس الخامس

- كيف يختلف طول الظل باختلاف أوقات النهار؟

وقت الظهيرة (الظل قصير)




WWW.KweduFiles.Com

يتغير طول الظل

بتغيير موضع مصدر الضوء






وقت الغروب (الظل طويل)



وقت الشروق (الظل طويل)

_ ارسم الظل :



_ أكمل الجمل التالية بإحدى الكلمات العلمية الآتية :

صباحاً	الظهر	طول الظل
--------	-------	----------

- 1 تتوسط الشمس السماء عند
- 2 يختلف ظهراً وعند المغرب.
- 3 تصبح الظلال طويلة وقبيل المغرب.

WWW.KweduFiles.Com

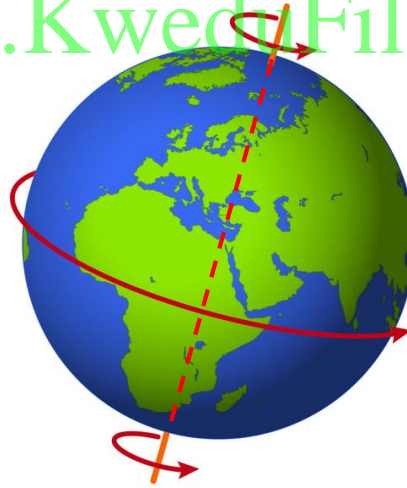
_ ضع علامة (✓) أمام العبارة الصحيحة وعلامة (✗) أمام العبارة الخاطئة :

- 1 تصبح الظلال طويلة صباحاً وقبيل المغرب. ()
- 2 لا تختلف أطوال الظل ظهراً أو قبيل المغرب. ()
- 3 عندما تتوسط الشمس السماء يصبح الظل قصيراً. ()
- 3 عند الغروب والشروق تكون الشمس مائلة ويصبح الظل طويلاً. ()

الدرس السادس

- كيف تحدث الفصول الأربعة؟

تحدث الفصول الأربعة نتيجة ميل محور الأرض
أثناء دورانها حول الشمس



السؤال الأول :


_ ضع علامة (✓) أمام العبارة الصحيحة وعلامة (✗) أمام العبارة الخاطئة :

- 1 تحدث الفصول الأربعة نتيجة ميل محور الأرض أثناء دورانها حول الشمس. ()
- 2 محور الأرض غير مائل. ()

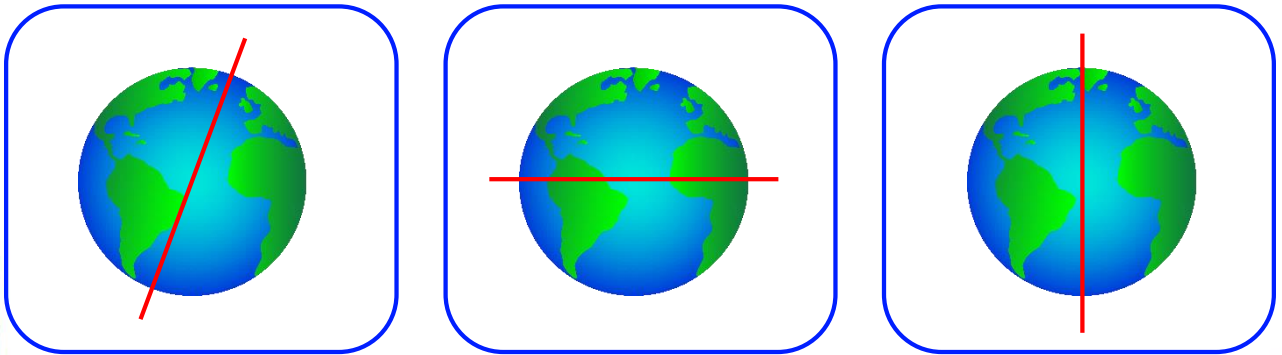
السؤال الثاني :

_ ضع علامة (○) حول الصورة الصحيحة فيما يلي :

- 1 كيف تحدث الفصول الأربعة :




- 2 ميل محور الأرض :



_ استخدام الكلمات من الجدول لإكمال الناقص من العبارات التالية :

ربيع	خريف	شتاء	صيف
------	------	------	-----



WWW.KweduFiles.Com

- الرقم 1 يمثل فصل
- الرقم 2 يمثل فصل
- الرقم 3 يمثل فصل
- الرقم 4 يمثل فصل

السؤال الرابع :

_ صل بخط بين الصورة والعبارة المناسبة فيما يلي :



فصل الصيف



فصل الشتاء



فصل الربيع



فصل الخريف

الدرس السابع

- ماذا نلبس ؟




- ملابس الصيف خفيف
- لونها فاتح
- مصنوع من القطن
- نصف شورت

WWW.KweduFiles.Com

نرتدي الملابس المناسبة
لكل فصل من فصول السنة

- ملابس الشتاء ثقيلة
- لونها غامق
- مصنوع من الصوف
- ملابس كاملة



السؤال الأول :

_ صل بخط بين الصورة والعبارة المناسبة فيما يلي :



ملابس شتوية



ملابس صيفية

WWW.KweduFiles.Com

السؤال الثاني :

_ استخدم الكلمات التي في الجدول لإكمال الناقص في العبارات التالية :

الصيف	الشتاء	ملابس ثقيلة	ملابس خفيفة
-------	--------	-------------	-------------



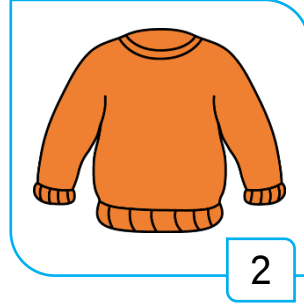
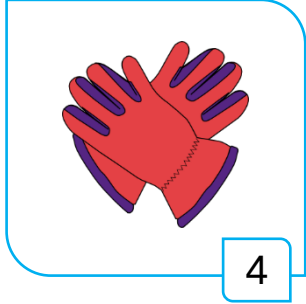
1 نرتدي في فصل الصيف.

2 نرتدي في فصل الشتاء.

3 نرتدي ملابس ثقيلة في فصل

3 نرتدي ملابس خفيفة في فصل

_ أمامك مجموعة من الملابس، قم بتصنيفها في الجدول وفقاً لنوعها :



ملابس شتوية

ملابس صيفية

الدرس الثامن

- كيف تحمي نفسك من أشعة الشمس؟



السؤال الأول :

_ ضع علامة (○) حول الصورة الصحيحة فيما يلي :

- الإجراءات المناسبة للحماية من ضرر ضوء الشمس المباشر.



السؤال الثاني :

_ صف بجملة من إنشائك ، ما هي أضرار ضوء الشمس المباشر :

.....

.....

_ صل بخط بين الصورة والوصف المناسبة فيما يلي :



ظن ضوء
الشمس المباشر



الدرس التاسع

- ما المواد التي يمكن استخراجها من الأرض ؟



WWW.KweduFiles.Com

المواد الطبيعية
هي مواد نافعة
نستخرجها من الأرض

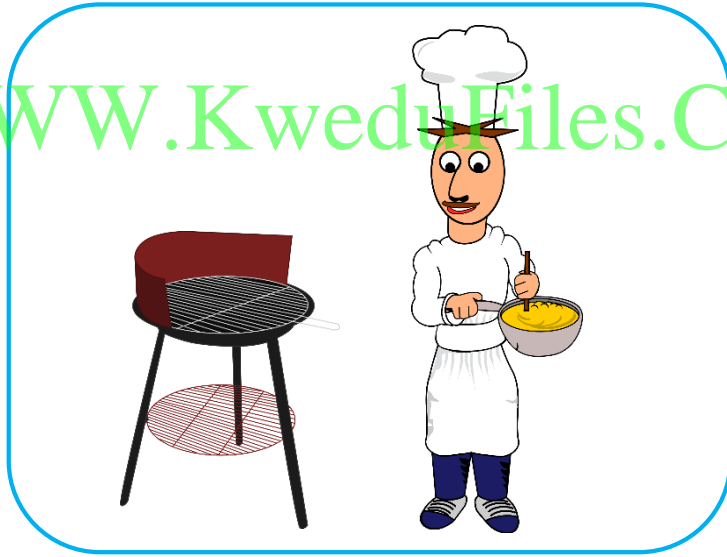


1 ما هو المورد الطبيعي الذي يحتاج النبات كي يعيش ؟



2 ينقص هذا الرجل مورد طبيعي ما هو ؟

WWW.KweduFiles.Com



3 ينقص هذه المرأة مورد طبيعي ما هو ؟




WWW.KweduFiles.Com



_ ضع علامة (○) حول الصورة الصحيحة فيما يلي :

- سلوكيات خاطئة.



WWW.KweduFiles.Com



الدرس العاشر

- كيف تحافظ على نظافة البيئة من حولك ؟



WWW.KweduFiles.Com

نحافظ على نظافة البيئة
برمي النفايات في الأماكن
المخصصة لها



ضع علامة (✓) على الصورة التي تدل على نظافة البيئة :



www.KweduFiles.Com

- سلوكيات صحيحة للحفاظ على البيئة.



الدرس الحادي عشر

- ما الذي يمكن إعادة استعماله ؟



علب بلاستيك تم إعادة تدويرها



قناني مياه تم إعادة تدويرها

WWW.KweduFiles.Com

يمكن إعادة استعمال بعض

الأشياء التي لا نحتاجها

والاستفادة منها




أوراق ملونة تم إعادة تدويرها



كروتونة بيض تم إعادة تدويرها

_ صل بخط بين المواد التي يمكن إعادة تدويرها والمكان المناسب لها :



الدرس الثاني عشر

- ما الذي يمكن إعادة تدويره؟




WWW.KweduFiles.Com

يمكن إعادة استعمال الأشياء
لصنع مواد جديدة



ضع علامة (○) حول الأشياء التي يمكن إعادة تدويرها فيما يلي حسب الكلمة المطلوبة:

1 بلاستيك :




2 ورق :



3 معدن :



4 مطاط :



الدرس الثالث عشر

- امرح مع العلوم. اكتشف الخطأ:




يجب أن
.....

يجب أن
.....



يجب أن
.....

يجب أن
.....



سمكة

الَّذِي جَعَلَ لَكُمُ الْأَرْضَ فِرَاشًا وَالسَّمَاءَ بِنَاءً وَأَنْزَلَ مِنَ السَّمَاءِ
مَاءً فَأَخْرَجَ بِهِ مِنَ الثَّمَرَاتِ رِزْقًا لَكُمْ ۗ فَلَا تَجْعَلُوا لِلَّهِ أَنْدَادًا

[سورة البقرة آية (22)]

إيكم روابط قنوات ومجموعات الصفوف التابعة لموقع ملفات الكويت التعليمية

حيث ستجدون فيها الاف وأحدث الملفات وآخر أخبار المناهج.

أولاً: قناة المناهج الكويتية t.me/kwcourses

ثانياً روابط الصفوف:

الصف الاول

القناة <https://t.me/grade1kw>

المجموعة <https://t.me/joinchat/EO3lbkKC5YBgXZZwfikwjA>

الصف الثاني

القناة <https://t.me/grade2kw>

المجموعة <https://t.me/joinchat/EO3lbkNbzqiz1UqtTmJV6BQ>

الصف الثالث

القناة <https://t.me/grade3kw>

المجموعة https://t.me/joinchat/EO3lbkQXoag3es_FU0rG2g

الصف الرابع

القناة <https://t.me/grade4kw>

المجموعة https://t.me/joinchat/EO3lbkL_8OXoutWsZx1L9Q

الصف الخامس

القناة <https://t.me/grade5kw>

المجموعة <https://t.me/joinchat/EO3lbkG3e9CzzokTIKz4CQ>

الصف السادس

القناة <https://t.me/grade6kw>

المجموعة <https://t.me/joinchat/EO3lbkM8FXoEeQErAQV1kg>

الصف السابع

القناة <https://t.me/grade7kw>

المجموعة <https://t.me/joinchat/EO3lbkKnExWg6hndEkfMqA>

الصف الثامن

القناة <https://t.me/grade8kw>

المجموعة <https://t.me/joinchat/EO3lbkQJhf-U4uywPW25zQ>

الصف التاسع

[القناة https://t.me/grade9kw](https://t.me/grade9kw)
المجموعة <https://t.me/joinchat/EO3lbkQFjCKp5rdMw44tFA>

الصف العاشر

[القناة https://t.me/grade10kt](https://t.me/grade10kt)
المجموعة <https://t.me/joinchat/EO3lbkN FGzW5F-taUSgdw>

الصف الحادي عشر

[قناة الحادي عشر العلمي https://t.me/grade13kw](https://t.me/grade13kw)
مجموعة الصف الحادي عشر العلمي
<https://t.me/joinchat/EO3lbkYcn GnfVIM5v8dlg>

[قناة الحادي عشر الأدبي https://t.me/grade11kw](https://t.me/grade11kw)

مجموعة الصف الحادي عشر الأدبي
<https://t.me/joinchat/EO3lbkGRXNzMj9dul6Td-w>

الصف الثاني عشر

[قناة الثاني عشر العلمي https://t.me/grade14kw](https://t.me/grade14kw)
مجموعة الصف الثاني عشر العلمي
<https://t.me/joinchat/EO3lbkR2I1tFvkIrQUBfg>

[قناة الثاني عشر الأدبي https://t.me/grade12kw](https://t.me/grade12kw)

مجموعة الصف الثاني عشر الأدبي
<https://t.me/joinchat/EO3lbkO1483g3eu1tSA3sA>

الرياضيات للصف الأول:

https://t.me/joinchat/HXIVQ00hxbaRoDvCDzLZ_A

الرياضيات للصف الثاني:

<https://t.me/joinchat/HXIVQ1KJxWoKeAbgcEd-7w>

الرياضيات للصف الثالث:

<https://t.me/joinchat/HXIVQ1RcSJ8KoTFzEceclg>

الرياضيات للصف الرابع:

https://t.me/joinchat/HXIVQ1O6Hx6DQqXP34_IBA

الرياضيات للصف الخامس:

<https://t.me/joinchat/HXIVQ0uGo6YEsqso4UEEIw>

الرياضيات للصف السادس:

https://t.me/joinchat/HXIVQ02F DW-D0deiN_UbA

الرياضيات للصف السابع:

<https://t.me/joinchat/HXIVQ1c05LJeI4VwjTNJ8Q>

الرياضيات للصف الثامن:

<https://t.me/joinchat/HXIVQ0k944Uk1Ycxbbp1ZA>

الرياضيات للصف التاسع:

<https://t.me/joinchat/HXIVQ1iqxEoZYsR0iTbBTQ>

الرياضيات للصف العاشر:

<https://t.me/joinchat/HXIVQ1iNEZaHdkFboG6iUg>

الرياضيات للصف الحادي عشر:

<https://t.me/joinchat/HXIVQ0UjIUkbSGxojYxPJw>

الرياضيات للصف الثاني عشر:

https://t.me/joinchat/HXIVQ0uqsY_YMMh8btEcHg

يسعدنا تواصلكم وانضمامكم والرد علي

اسئلتكم واستفساركم 📩

للتواصل علي مجموعات المناطق التعليمية

تعليم خاص

<https://t.me/joinchat/HXIVQ1NrHps4NK6mkevsAg>

منطقة الجهراء التعليمية

https://t.me/joinchat/HXIVQ1K_i3MEgxpzepOKCfg

منطقة الأحمدية التعليمية

<https://t.me/joinchat/HXIVQ01PTXJe8Qk0pjOFng>

منطقة الفروانية التعليمية

https://t.me/joinchat/HXIVQ1MVfo8_Y5g-FdvDdQ

منطقة مبارك الكبير التعليمية

<https://t.me/joinchat/HXIVQ0ee95Y392ZQfiNIEA>

منطقة حولي التعليمية

https://t.me/joinchat/HXIVQ014kAw_fvCs2Zp4Nw

منطقة العاصمة التعليمية

<https://t.me/joinchat/HXIVQ0W75IQkgZnGWGvA7Q>

قروب top مدرسون في الكويت top

نخبة من كبار الاساتذة للتواصل

والرد علي استفساراتكم 📩

https://t.me/joinchat/HXIVQ1IagbL_kVF5QrDiDQ