

(ب) بم تفسر...؟

- تعاني البيئة الصناعية من مشكلات التلوث البيئي. بسبب **ادخنة المصانع ومخلفات المصانع**

السؤال الثاني: (ا) اكتب كلمة (صواب) أمام العبارة الصحيحة، وكلمة (خطأ) أمام العبارة غير الصحيحة:

- ١- يمكن أن نجد البيئة الزراعية داخل البيئة الصحراوية. (✓)
- ٢- أهم الحبوب الغذائية في مصر هي القمح والأرز والكتان. (X)
- ٣- من الصناعات الحرفية في البيئة الزراعية صناعة الحديد والصلب. (X)
- ٤- التدخين من العادات الإيجابية للبيئة الصناعية. (X)

(ب) اكتب ما تدل عليه العبارات الآتية:

١- المكان الذي نعيش فيه ويضم مظاهر حضارية ومظاهر طبيعية. **البيئة**٢- عدم معرفة القراءة والكتابة. **الأمية**٣- يقصد بها الأفراد الذين هم في سن العمل ولا يعملون. **البطالة**

التاريخ

السؤال الثالث: (ا) اختر الإجابة الصحيحة مما بين القوسين:

- ١- هزمت الجيوش المملوكية بقيادة السلطان طومان باي في معركة (الريدانية - مرج دابق - ديوان البحرية)
- ٢- أنشأ محمد علي ترسانة لبناء السفن في (بورسعيد - الإسكندرية - أسوان)
- ٣- قاد الحملة الفرنسية على مصر (مينو - نابليون بونابرت - كليبر)

(ب) ما النتائج المترتبة على...؟

١- معركة الريدانية. أصبحت مصر ولاية عثمانية وانتهت دولة المماليك

٢- الحملة الفرنسية من الناحية العلمية الثقافية. **اكتشاف حجر رشيد - تأليف كتاب وصف مصر****انشاء المجمع العلمي****دراسة مشروع توصيل البحر الاحمر بالمتوسط**

السؤال الرابع: (ا) رتب الأحداث من الأقدم إلى الأحدث:

(مذبحة القلعة - ثورة القاهرة الأولى - فتح القسطنطينية - اتفاقية العريش)

3

1

2

4

(ب) لمن تنسب هذه الأعمال التاريخية...؟

١- السلطان الذي قام بترحيل أمهرالصناع والحرفيين إلى الأستانة. **سليم الأول**٢- يعد من أقدم ضباط الحملة الفرنسية وتولى بعد مقتل كليبر. **مينو**٣- نائب للسلطان في الولاية ومقره القلعة. **الوالي**

مسئرا اعطازكى شحتو

مستز ا عطازكى شحتو

السؤال الثالث: (١) أكمل العبارات الآتية بالكلمات المناسبة فيما يأتي:

- ١- طبق محمد على نظام **الإحتكار** في الاقتصاد المصري.
- ٢- اكتشف **البرتغاليون** طريق رأس الرجاء الصالح عام ١٤٩٨م.
- ٣- لفتت الحملة الفرنسية أنظار العالم الغربي لموقع مصر الجغرافي خاصة **فرنسا**.

(ب) لمن تنسب الأعمال الآتية...؟

- ١- حاكم الإسكندرية الذي قاوم الحملة الفرنسية. **محمد كريم**
- ٢- نجح في إقامة إمبراطورية مصرية امتدت إلى مديرية خط الاستواء. **الخدو اسماعيل**
- ٣- قاد الحملة الفرنسية على مصر ١٧٩٨م. **نابليون بونابرت**

انقطاع الصلة بين الجيش الفرنسي وفرنسا
اعتماد الفرنسيين على موارد مصر
اضعاف الروح المعنوية للفرنسيين

(ج) ما النتائج المترتبة على: معركة ابن قير البحرية ١٧٩٨م؟

السؤال الرابع: (١) اختر الإجابة الصحيحة من بين الأقواس:

- ١- أنشأ محمد على ترسانة لبناء السفن في
 - ٢- أصبحت مصر ولاية عثمانية بعد معركة عام ١٥١٧م. (مرج دابق - الريدانية - عين جالوت - حطين)
 - ٣- تم فتح القسطنطينية عام ١٤٥٣م في عهد السلطان
- (سليم الأول - محمد الثاني - عثمان بن أرطغرل - طومان باي)

(ب) صوب الكلمات التي تحتها خط:

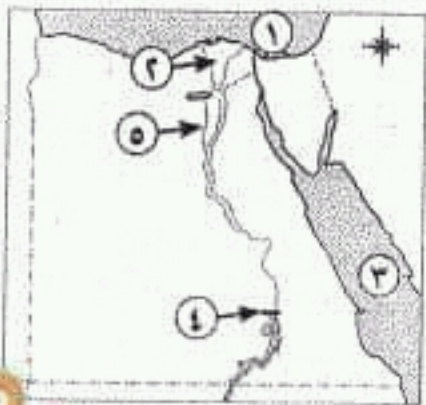
- ١- نفى محمد على تقيب الأشراف عمر مكرم إلى المنصورة. **دمياط**
- ٢- اجتمع زعماء الشعب والعلماء في دارالحكمة وقرروا عزل خورشيد باشا. **المحكمة**

(ج) اكتب ما تشير إليه العبارات الآتية:

- ١- إقليم يحكمه أجنبي يتوطنه أو يكتفى باستغلاله اقتصادياً. **المستعمرة**
- ٢- مكيدة دبرها (محمد على) للقضاء على المماليك عام ١٨١١م. **مذبحة القلعة**

٢١- محافظة أسوان - إدارة كوم أمبو التعليمية

السؤال الأول: (١) أمامك خريطة صماء لمصر اكتب مدلول الأرقام عليها:



مستز ا عطازكى شحتو

- ١- البحر **المتوسط**
- ٢- منطقة تركيز السكان **الدلتا**
- ٣- البحر **الأحمر**
- ٤- السد **العالي**
- ٥- ترعة **بحر يوسف**

٤- اهتم بالتعليم في مصر اهتماماً متميزاً وأرسل بعثات التعليم لفرنسا. **محمد علي**

٥- في عهده تم فتح مدينة القسطنطينية عاصمة الدولة البيزنطية في عام ١٤٥٣م. **محمد الثاني - الفاتح**

- قام **بنفي عمر مكرم** الى **دمياط** و**عزل عبدالله الشرقاوي** من منصبه
(ب) كيف تعامل محمد علي مع الزعامة الشعبية رغم ما بذلوه في توليته حكم مصر؟ (اذكر رأيك في ذلك)

٢٠- محافظة سوهاج - إدارة ساقطة التعليمية

أولاً < الجغرافيا

السؤال الأول: (١) أمامك خريطة صماء لمصر اكتب مدلول الأرقام عليها:

- ١- ترعة **الإبراهيمية** غرب الوادي.
- ٢- القناطر **الخيرية** على رأس الدلتا.
- ٣- البحر **الأحمر**
- ٤- الصحراء **الشرقية**

(ب) بهم تفسر...؟

١- تعد محافظة الفيوم محافظة جذب سياحي. لوجود **عين السيليين والسواقي وبحيرة قارون وغيرها**

٢- إنشاء الدولة وزارة البيئة . لأصدار **القوانين والتشريعات لحماية البيئة من الاخطار**

(ج) ما المقصود بكل من المفاهيم الجغرافية التالية...؟

١- العشوائيات. ٢- الاستنزاف. الإفراط وسوء استخدام الموارد الطبيعية بشكل يؤدي لنفادها

المناطق التي بنيت بدون تخطيط وعادة ما تظهر على أطراف المدن

السؤال الثاني: (١) اكتب كلمة (صواب) أمام العبارة الصحيحة وكلمة (خطأ) أمام العبارة غير الصحيحة:

- ١- تتميز الأراضي الزراعية بمنخفض الفيوم باستواء السطح. (X)
- ٢- يوجد تكامل بين البيئات المصرية. (✓)
- ٣- من محاصيل الحبوب القمح والأرز والكتان. (X)
- ٤- تحرص الدولة على إنشاء المناطق الصناعية لزيادة الصادرات المصرية. (✓)

(ب) ما النتائج المترتبة على...؟

١- الزحف العمراني على الأرض الزراعية. ٢- إنشاء المزارع السمكية. **زيادة الثروة السمكية**

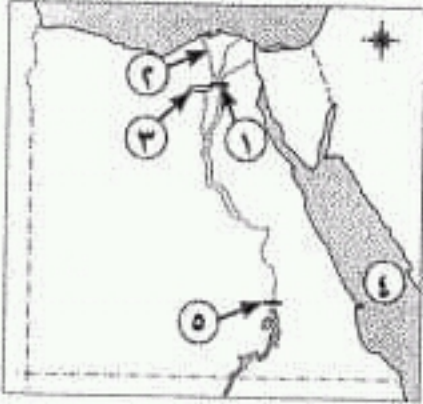
تناقص مساحة الأراضي الزراعية

(ج) إليك بعض العادات الإيجابية والعادات السلبية في البيئة الزراعية:

(احترام الكبير - الزواج المبكر - التعاون فيما بينهم - تفضيل الذكور على الإناث). صنفها في الجدول الآتي:

العادات السلبية في البيئة الزراعية	العادات الإيجابية في البيئة الزراعية
١- الزواج المبكر	١- احترام الكبير
٢- تفضيل الذكور على الإناث	٢- التعاون فيما بينهم

السؤال الأول: (١) أمامك خريطة صماء لمصر اكتب مدلول الأرقام عليها:



مستز اعطازكى شحتو

- ١- القناطر..... الخيرية
- ٢- فرع..... رشيد
- ٣- منخفض..... الفيوم
- ٤- البحر..... الأحمر
- ٥- السد..... العلى

(ب) بهم تفسر...؟

- تعد الفيوم محافظة جذب سياحى. لوجود عين السيليين والسواقي وبحيرة قارون وغيرها

السؤال الثانى: (١) أكمل الفراغات من العبارات الآتية:

- ١- لجأ كثير من الشباب إلى الهجرة بسبب انتشار..... البطالة
- ٢- يقصد ب..... الصناعة تحويل المادة الخام إلى سلع ومنتجات.
- ٣- أدى التوسع العمرانى وتجريف التربة إلى وجود مشكلة..... تناقص الأراضى الزراعية
- ٤- تحتاج الصناعة..... البسيطة إلى عدد كبير من العمال.
- ٥- الزراعة..... المروية تعتمد على مياه نهر النيل وتوجد فى السهول الفيضية الخصبة.

(ب) ما النتائج المترتبة على...؟ - هجرة سكان الريف إلى البيئة الصناعية.

زيادة السكان فى المدن - ظهور العشوائيات - زيادة الذكور فى المدن
تناقص العاملين فى الزراعة

السؤال الثالث: (١) ضع كلمة (صواب) أمام العبارة الصحيحة وكلمة (خطأ) أمام العبارة غير الصحيحة:

- ١- فرضت الدولة العثمانية سيطرتها على مصر عام ١٥١٧م. (✓)
- ٢- أنشأ محمد على قصر الجوهرة بالقلعة. (✓)
- ٣- كان نظام الحكم العثمانى لمصر عادلاً. (✗)
- ٤- ضمت الحملة الفرنسية على مصر مجموعة من الرسامين والعلماء والكتاب. (✓)

مستز اعطازكى شحتو

(ب) ما المقصود بالمفاهيم التاريخية التالية...؟

- ١- مستعمرة.
 - ٢- الحامية العثمانية.
- مجموعة من الفرق العسكرية مهمتها الدفاع عن البلاد
السؤال الرابع: (١) لمن تنسب هذه الأعمال الآتية...؟

- ١- قام بتحطيم الأسطول الفرنسى عند أبى قير البحرية (أغسطس ١٧٩٨م). نلسون
- ٢- قائد الجيش المملوكى فى معركة الريدانية عام ١٥١٧م. طومان باى
- ٣- تزعم ثورة القاهرة الثانية (١٨٠٠م) فى حى بولاق. عمر مكرم

سؤال الثاني: (أ) اختر الإجابة الصحيحة من بين الأقواس:

- ١- تعتمد الزراعة في الواحات بمصر على مياه (نهر النيل - الأمطار - الآبار والعيون - الثلوج)
 - ٢- توجد عين السيلين وبحيرة قارون في محافظة (الفيوم - المنوفية - القاهرة - القليوبية)
 - ٣- من العوامل البشرية لقيام الصناعة (الموقع الجغرافي - المناخ - رأس المال - المواد الخام)
 - ٤- من خصائص سكان البيئة الصناعية
 - (ارتفاع نسبة البطالة - مشاركة المرأة في العمل - ارتفاع نسبة الأمية - انخفاض مستوى الدخل)
 - ٥- من الصناعات الكيماوية صناعة (الحديد والصلب - السيارات - الأسمدة - الثلجات)
- (ب) اذكر سببنا واحدا لكل مما يأتي:

- ١- تندر النباتات الطبيعية في البيئة الزراعية. بسبب كثافة النشاط الزراعي
- ٢- التلوث البيئي في البيئة الصناعية في مصر. بسبب ادخنة المصانع ومخلفات المصانع

التاريخ

السؤال الثالث: (أ) اكتب كلمة (صواب) أمام العبارة الصحيحة، وكلمة (خطأ) أمام العبارة غير الصحيحة:

- ١- أدى تنوع البيئات المصرية إلى تنوع الثروات الطبيعية. (✓)
- ٢- أنشأت الدولة وزارة البيئة لإصدار القوانين والتشريعات لحماية البيئة من الأخطار. (✓)
- ٣- اكتشف البريطانيون طريق رأس الرجاء الصالح عام ١٤٩٨م. (✗)
- ٤- أصبحت مصر ولاية عثمانية بعد معركة الريدانية ١٥١٧م. (✗)
- ٥- قام السلطان سليم الأول بترحيل أمهر الصناع والحرفيين إلى الأستانة. (✓)
- ٦- تخلص (محمد علي) من الزعامة الشعبية في مذبحه القلعة. (✗)

(ب) اذكر نتيجة واحدة لكل مما يأتي:

- ١- الهجرة من الريف إلى المدن. زيادة سكان المدن - ظهر العشوائيات
- ٢- النتائج العلمية والثقافية للحملة الفرنسية على مصر. اكتشاف حجر رشيد - تأليف كتاب وصف

السؤال الرابع: (أ) أكمل العبارات الآتية بما يناسبها:

- ١- أبحرت الحملة الفرنسية على مصر سنة ١٧٩٨م من ميناء طولون
- ٢- أمر نابليون بإعدام ستة من مشايخ الأزهر باستثناء الشيخ السادات
- ٣- عندما عجز كليبر عن إخماد ثورة القاهرة الثانية ١٨٠٠م أمر بتدمير حي بولاق
- ٤- جاءت الحملة الإنجليزية على مصر في مارس ١٨٠٧م بقيادة فريزر
- ٥- أنشأ (محمد علي) العديد من القصور مثل قصر الجوهرة

(ب) اكتب المصطلح الذي تدل عليه كل عبارة من العبارات الآتية:

- ١- غلمان تم جلبهم بواسطة التجار، اشتراهم السلاطين والأمراء، وقد تولوا الحكم عقب انهيار الدولة الأيوبية. المماليك
- ٢- إقليم يحكمه أجنبي يتوطنه أو يكتفى باستغلاله اقتصادياً أو عسكرياً. مستعمرة



- ٣- جاءت الحملة الفرنسية على مصر بحجة تأديب العثمانيين.
٤- اكتشف البريطانيون طريق رأس الرجاء الصالح.
٥- دبر (محمد على) في مارس ١٨١١م مكيده للقضاء على المعاليك.
(ب) تخير من ارقام القائمة (ب) بما يناسبها من القائمة (١):

(ب)	(١)
١- كليبر.	() كانت مدة حكمه تتراوح بين عام وثلاثة أعوام.
٢- طوسون باشا.	() أعطى امتياز حفر قناة السويس للمهندس ديليسبس.
٣- سعيد باشا.	() عندما عجز عن إخماد ثورة القاهرة الثانية دمر حى بولاق.
٤- الوالى.	

السؤال الرابع: (١) اختر الإجابة الصحيحة من بين الأقواس:

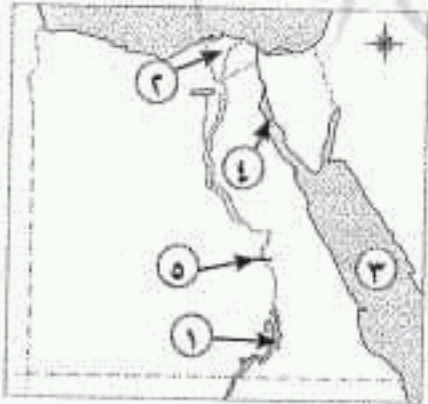
- ١- أصبحت مصر ولاية عثمانية عام ١٥١٧م بعد موقعة
(ديو البحرية - جالديران - أبى قير البحرية - الريدانية)
٢- قام الأسطول الإنجليزى بتحطيم الأسطول الفرنسى فى موقعة
(ديو البحرية - مرج دابق - أبى قير البحرية - أبى قير البرية)
٣- أرسلت بريطانيا حملة إلى مصر فى مارس ١٨٠٧م بقيادة
(فريزر - كرومر - مينو - ديليسبس)
٤- اهتم (محمد على) بالتعليم فأرسل بعثات إلى الخارج وخاصة إلى دولة
(إنجلترا - إيطاليا - إسبانيا - فرنسا)

(ب) رتب الأحداث التاريخية التالية من القديم إلى الحديث: (موقعة سبراخيت - معاهدة لندن - موقعة مرج دابق).
١ ٣ ٢

١٨ - محافظة أسيوط - ادارة أسيوط التعليمية

أولاً الجغرافيا

السؤال الأول: (١) أمامك خريطة صماء لمصر اكتب مدلول الأرقام عليها:



- ١- بحيرة ناصر
٢- منطقة ضمن البيئة الزراعية الدلتا
٣- البحر الأحمر
٤- خليج السويس
٥- قناطر اسنا

(ب) ما المقصود بالمفهومين التاليين...؟

- ١- الأمية. ٢- الاستنزاف.

عدم معرفة القراءة والكتابة الإفراط وسوء استخدام الموارد الطبيعية بشكل يودى لنفادها

(ب) صنف العبارات الآتية فى الجدول التالى:

(السطح - الأيدى العاملة - رأس المال - المناخ)

عوامل طبيعية لقيام الزراعة	عوامل بشرية لقيام الزراعة	١
..... السطح الأيدى العاملة	١
..... المناخ رأس المال	٢

(ج) بم تفسر...؟

- ١- هجرة السكان من الريف إلى المدينة. **للبحث عن فرصة عمل وانتشار البطالة**
- ٢- اهتمام مصر بزيادة الصادرات. **للحصول على العملات الأجنبية - وزيادة الدخل القومى**
- ٣- تعد محافظة الفيوم محافظة جذب سياحى. **لوجود عين السيليين وبحيرة قارون والسواقي وغيره**

التاريخ

السؤال الثالث: (١) اكتب كلمة (صواب) أمام العبارة الصحيحة، وكلمة (خطأ) أمام العبارة غير الصحيحة:

- ١- اكتشف البريطانيون طريق رأس الرجاء الصالح. (X)
- ٢- نجحت الحملة الفرنسية فى جعل مصر قاعدة للإمبراطورية الفرنسية فى الشرق. (X)
- ٣- كان للزعامة الشعبية دور فى تولية محمد على حكم مصر. (✓)

(ب) رتب الأحداث التاريخية من القديم إلى الحديث:

(موقعة أبى قير البحرية - مذبحه القلعة - موقعة مرج دابق - ثورة القاهرة الثانية)

3

1

4

2

(ج) ما النتائج المترتبة على...؟

- ١- **انقطاع الصلة بين الجيش الفرنسى وفرنسا اعتماد الفرنسيين على موارد مصر**
اضعاف الروح المعنوية للفرنسيين
- ٢- ترحيل السلطان العثمانى لأمهرا الصناع والحرفيين إلى الآستانة. **تدهور الحياة الفنية والصناعة فى مصر**

السؤال الرابع: (١) صوب ما تحته خط فى العبارات الآتية:

- ١- أصبحت مصر ولاية عثمانية بعد موقعة إمبابة. **الريدانية**
- ٢- جاءت الحملة الفرنسية بقيادة فرير على مصر. **الإنجليزية**
- ٣- قاد مينو الحملة الفرنسية بعد رحيل نابليون. **كليب**

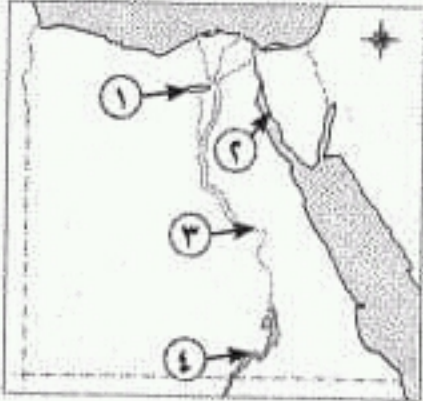
(ب) اكتب اسم الشخصية التى تتحدث عن نفسها:

- ١- كان لى دور كبير فى تولية محمد على حكم مصر، وكنت نقيب الأشراف. **عمر مكرم**
- ٢- كنت قائد المماليك فى موقعة الريدانية. **طومان باى**

(ج) ما رأيك فى: - الحكم العثمانى لمصر؟ فترة من أسوء الفترات التى عاشتها مصر من

تخلف وجهل وفقر وتدهور فى جميع المجالات الاقتصادية

مسئز اعطازكى شحتو



مستز ا عطازكى شحنتو

السؤال الأول: (١) أمامك خريطة صماء لمصر اكتب مدلول الأرقام عليها:

- ١- منخفض الفيوم
٢- خليج السويس
٣- نهر النيل
٤- بحيرة ناصر

(ب) اكتب المصطلح العلمى الدال على العبارات الآتية:

- ١- المناطق التى بُنيت بدون تخطيط وعادة ما تظهر على أطراف المدن. العشوائيات
٢- عدم معرفة القراءة والكتابة. الأمية
٣- تحويل المادة الخام إلى سلع ومنتجات لسد احتياجات السكان. الصفاة
٤- إزالة الطبقة السطحية من التربة مما يؤدي إلى تدهورها. تجريف التربة

السؤال الثالث: (١) اكتب كلمة (صواب) أمام العبارات الصحيحة، وكلمة (خطأ) أمام العبارات الخطأ:

- (X)
(✓)
(✓)
(X)
(✓)

- ١- من محاصيل الحبوب القمح والأرز والكتان.
٢- تم تهجير سكان النوبة بعد بناء السد العالى.
٣- تتنوع الصناعات بتنوع المواد الخام.
٤- تعد صناعة الأسمدة والأدوية من الصناعات المعدنية.
٥- يفضل نقل المصانع التى تضر بالبيئة خارج المناطق السكنية.

(ب) بهم تفسر...؟ بسبب اتساع مساحة مصر - وتنوع مظاهر السطح وتنوع الموارد الطبيعية

- ١- تداخل البيئات المصرية.
٢- إنشاء الدولة وزارة البيئة.
لأصدار القوانين والتشريعات لحماية البيئة من الاخطار

السؤال الثالث: (١) أكمل العبارات التالية بكلمة مناسبة:

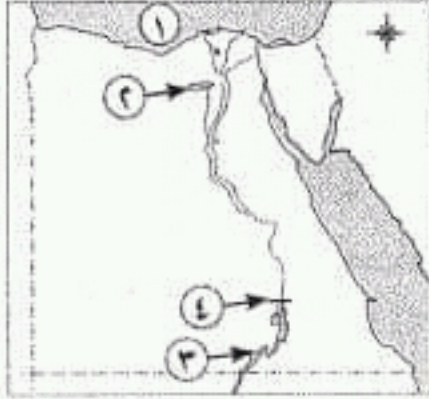
- ١- قام السلطان سليم الأول بترحيل أمهر الصناعات والحرفيين إلى الأستانة.
٢- من الأسباب المعلنة للحملة الفرنسية على مصر تأديب المماليك.
٣- أبحرت الحملة الفرنسية من ميناء طولون فى مايو ١٧٩٨م.
٤- قاوم محمد كريم حاكم الإسكندرية الحملة الفرنسية.

(ب) ما النتائج المترتبة على...؟

- ١- اكتشاف طريق رأس الرجاء الصالح عام ١٤٩٨م. ضعف وانهيار دولة المماليك اقتصادياً
٢- الحملة الفرنسية على مصر. فشلت الحملة الفرنسية فى تحقيق اهدافها الحقيقية

مستز ا عطازكى شحنتو

السؤال الأول: (١) أمامك خريطة صماء لمصر اكتب مدلول الأرقام عليها:



- ١ - البحر المتوسط
 ٢ - منخفض الفيوم
 ٣ - بحيرة ناصر
 ٤ - السد العالى

(ب) بم تفسر...؟

١- تندر النباتات الطبيعية فى البيئة الزراعية. بسبب كثافة النشاط الزراعى

٢- تعد وسائل النقل والمواصلات من العوامل المهمة فى الصناعة.

السؤال الثانى: (١) اكتب كلمة (صواب) أمام العبارة الصحيحة، وكلمة (خطأ) أمام العبارة غير الصحيحة:

- ١- تم شق ترعة الإسماعيلية لخدمة الأراضى الزراعية فى غرب الدلتا. (X)
 ٢- تعد صناعة الفخار والأثاث من الصناعات الحرفية فى البيئة الزراعية. (✓)
 ٣- من جهود الدولة لحل مشكلات البيئة الزراعية استخدام الأسمدة العضوية. (✓)
 ٤- احترام مواعيد العمل من العادات السلبية للعاملين بالبيئة الصناعية. (X)
 ٥- تعتمد صناعة الكمبيوتر والسيارات على الآلات الحديثة. (✓)

(ب) ما المقصود بالمفاهيم الآتية...؟

١- العشوائيات. المناطق التى بنيت بدون تخطيط وعادة ما تظهر على أطراف المدن

٢- الصناعة. تحويل المادة الخام إلى سلع ومنتجات لسد احتياجات السكان

السؤال الثالث: (١) اختر الإجابة الصحيحة مما بين الأقواس:

- ١- تم فتح القسطنطينية عاصمة الدولة البيزنطية فى عهد السلطان
 (سليم الأول - محمد الفاتح - طومان باى - بايزيد الثانى)
 ٢- هُزمت الجيوش المملوكية فى عام ١٥١٧م عند
 (مرج دابق - شبراخت - الريدانية - ديوان البحرية)
 ٣- نجح الفرنسيون فى احتلال الإسكندرية بعد مقاومة حاكمها
 (عمر مكرم - محمد كريم - الشيخ السادات - الشيخ الشرقاوى)
 ٤- كان مقر الحكومة المركزية فى عهد محمد على بمدينة
 (الإسكندرية - الغربية - القاهرة - الجيزة)

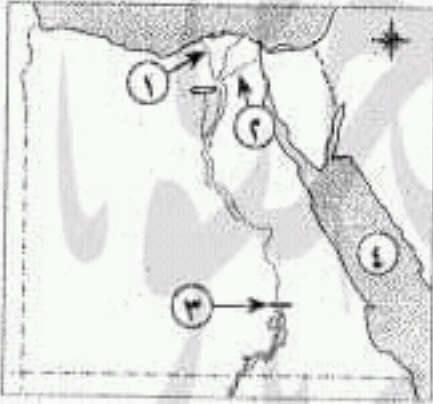
(ب) ما النتائج التي ترتبت على...؟

- ١- الحكم العثماني لمصر. **ساد الجمود والتأخر في جميع نواحي الحياة وانتشر الجهل والفقر والمرض**
 - ٢- الحملة الفرنسية على مصر من الناحية السياسية. **لفتت انظار العالم الغربي وخاصة إنجلترا إلى أهمية موقع مصر**
- السؤال الرابع: (١) لمن تنسب الأعمال التاريخية التالية...؟
- ١- السلطان الذي قام بترحيل أمهر الصناعات والحرفيين إلى الآستانة. **سليم الأول**
 - ٢- القائد الذي تمكن من تحطيم الأسطول الفرنسي عند أبي قير البحرية. **نلسن**
 - ٣- أقام المشروعات العمرانية والاقتصادية ونهض بالتعليم وأقام إمبراطورية مصرية **الخديو اسماعيل**
 - ٤- يعد من أقدم ضباط الحملة الفرنسية وتولى بعد مقتل كليبر. **مينو**
 - ٥- أعطى امتياز حفر قناة السويس للمهندس الفرنسي فرديناند ديليسبس عام ١٨٥٤م **محمد سعيد باشا**

(ب) رتب الأحداث التاريخية التالية من القديم إلى الحديث:
 ١ (اتفاقية العريش - محمد علي واليًا على مصر - حملة فريزر - حملة الشام)

١٥- محافظة الفيوم - إدارة يوسف الصديق التعليمية

أولاد الجغرافيا



السؤال الأول: (١) أمامك خريطة صماء لمصر اكتب مدلول الأرقام عليها:

- ١- فرع **رشيد**
- ٢- ترعة **الإسماعيلية**
- ٣- السد **العالى**
- ٤- البحر **الأحمر**

(ب) أكمل العبارات الآتية بما يناسبها:

- ١- تظهر **العشوائيات** على أطراف المدن وهي التي بنيت بدون تخطيط.
- ٢- يظهر السطح في منخفض الفيوم على شكل **مدرجات واسعة**
- ٣- تعد صناعة العطور من الصناعات **الكيميائية**

(ج) ما المقصود ب- الصناعة. **تحويل المادة الخام إلى سلع ومنتجات لسد احتياجات السكان**

(د) ماذا يحدث إذا...؟- لم تكن هناك زراعة (يكتفى بنقطة واحدة).

السؤال الثاني: (١) اختر الإجابة الصحيحة مما بين الأقواس:

- ١- من العوامل الطبيعية لقيام الصناعة **الزراعة**
 - ٢- من الصناعات البسيطة
 - ٣- تعتمد الزراعة في الواحات على
- (السطح) - الأيدي العاملة - رأس المال - السوق
 (السجاد اليدوي) - حفظ الفاكهة - الأسمدة - الكمبيوتر
 (المياه الجوفية) - الأمطار - نهر النيل - البحر المتوسط

السؤال الثاني : (١) اكتب كلمة (صواب) أمام العبارة الصحيحة وكلمة (خطأ) أمام العبارة غير الصحيحة مع تصويب الخطأ:

- (X)
(✓)
(✓)
(✓)
(X)

- ١- من الخصائص الاقتصادية لسكان البيئة الزراعية ارتفاع مستوى دخل الفرد.
- ٢- يمكن أن نجد البيئة الزراعية داخل البيئة الصحراوية.
- ٣- تم تهجير سكان النوبة بعد بناء السد العالي.
- ٤- تتنوع الصناعات بتنوع المواد الخام.
- ٥- الاستنزاف يعنى تقليل الاستهلاك والاستخدام الأمثل للموارد.

(ب) ما النتائج المترتبة على...؟

- ١- الهجرة من الريف إلى المدن.
- ٢- الإكثار من المساحات الخضراء في البيئة الصناعية.

أمتصاص الغازات الضارة وتقليل التلوث

التاريخ

السؤال الثالث: (١) اختر الإجابة الصحيحة مما بين الأقواس:

- ١- هزمت الجيوش المملوكية بقيادة السلطان عند الريدانية.
(طومان باي - قنصوه الغوري - سليم الأول - محمد الفاتح)
- ٢- تولى المماليك حكم البلاد بعد انهيار الدولة
- ٣- وصلت الحملة الفرنسية ميناء في يوليو عام ١٧٩٨ م. (دمياط - الإسكندرية - رشيد - بورسعيد)
- ٤- تحطم الأسطول الفرنسي في موقعة (ديوان البحرية - أبي قير البحرية - طولون باي - عكا)
- ٥- اجتمع زعماء الشعب والعلماء في دار المحكمة وقرروا عزل
(محمد علي - خورشيد باشا - إبراهيم باشا - طوسون باشا)

(ب) ماذا كان يحدث إذا...؟

- ١- اهتمت الدولة العثمانية بالعلوم العقلية والطبيعية.
- ٢- تخاذلت الزعامة الشعبية عن تأييدها لمحمد علي . لم يتم عزل خورشيد باشا من الحكم

السؤال الرابع: (١) أكمل العبارات الآتية بكلمات مناسبة: ولم يكن لمحمد علي دور في التاريخ المصري

- ١- اتجه السلطان العثماني في غزواته نحو المشرق العربي.
- ٢- من الأسباب المعلنة للحملة الفرنسية **تأديب المماليك**
- ٣- اتخذ المصريون من **الأزهر الشريف** مركزاً للمقاومة أثناء ثورة القاهرة الأولى .
- ٤- تخلص محمد علي من المماليك في **مذبحة القلعة** عام ١٨١١ م .

(ب) اذكر سبباً واحداً لكل من:

- ١- قيام ثورة القاهرة الثانية . بسبب الإجراءات التي اتخذها كليبر ضد أهالي القاهرة
- ٢- تدهور الحياة الفنية أثناء الحكم العثماني لمصر . بسبب قيام سليم الأول بترحيل أمهر الصناعات إلى الاستانة
- ٣- نفي محمد علي للسيد عمر مكرم . **للتخلص من الزعامة الشعبية والانفراد بحكم مصر**

- ٣- من الأسباب المعلنة للحملة الفرنسية تأديب **المماليك**
- ٤- قسم محمد على البلاد إلى **سبع**

(ب) صوب ما تحت خط من الكلمات:

- ١- تولى المماليك حكم مصر عقب انهيار الدولة الفاطمية **الأيوبية**
- ٢- نفى محمد على عمر مكرم خارج البلاد **داخل**

(ج) ما النتائج المترتبة على...؟

- ١- اكتشاف طريق رأس الرجاء الصالح **تدهور** و**انهيار** دولة **المماليك** اقتصاديا
- ٢- سياسة محمد على الخارجية والتوسعية **أدى إلى الصدام مع الدول الاستعمارية**
- السؤال الرابع: (١) اختر الإجابة الصحيحة مما بين القوسين **وفرضوا عليه معاهدة لندن**

١- هزمت الجيوش المملوكية ١٥١٧م عند

٢- قاد الحملة الفرنسية على مصر

٣- اجتمع زعماء الشعب في دار المحكمة وقرروا عزل

(محمد على - **خورشيد باشا** - إبراهيم باشا - طوسون باشا)

٤- وصلت الحملة الفرنسية ميناء

(ب) لمن تنسب الأعمال الآتية...؟

١- قام بترحيل أمهر الصنائع والحرفيين من مصر إلى الأستانة **سليم الأول**

٢- تولى قيادة الحملة الفرنسية في مصر بعد مقتل كليبر **مينو**

٣- تخلص من المماليك في مذبحة القلعة **محمد على**

١٣ - محافظة الوادي الجديد - إدارة الإدارة الطبيعية

أولاً الجغرافيا



السؤال الأول: (١) أمامك خريطة صماء لمصر، اكتب مدلول الأرقام عليها:

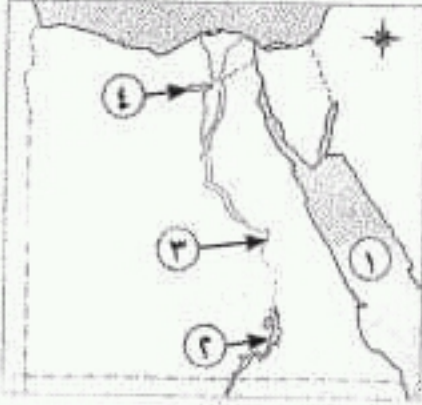
- ١- فرع **رشيد**
- ٢- منطقة بيئة زراعية **منخفض الفيوم**
- ٣- قناطر **نجع حمادي**
- ٤- بحيرة **ناصر**

(ب) بهم تفسر...؟

- ١- تنوع البيئات المصرية. بسبب اتساع مساحة مصر وتنوع مظاهر السطح وتنوع الموارد الطبيعية
- ٢- اهتمام الدولة بإنشاء المناطق الصناعية.

لتشغيل الأيدي العاملة - وزيادة الدخل القومي - وزيادة الصادرات المصرية
والحصول على العملات الأجنبية

السؤال الأول: (١) أملك خريطة صماء لمصر اكتب مدلول الأرقام عليها:



مستزاد اعطازكى شحتو

- ١- البحر الأحمر
- ٢- بحيرة ناصر
- ٣- وادى النيل
- ٤- منخفض الفيوم

(ب) اختر الإجابة الصحيحة من بين الأقواس:

- ١- قناة يتم حفرها عند منسوب أقل من منسوب الترع والأرض الزراعية
(الترعة - المصرف - القناطر - السد)
- ٢- تعد صناعة العطور من الصناعات
(الكيميائية - الكهربائية - المعدنية - الغذائية)

(ج) اكتب المصطلح الذى تشير إليه العبارات الآتية:

- ١- انتقال الأفراد من مكان إلى مكان داخل أو خارج حدود الدولة. الهجرة
- ٢- صناعة لتقليل حجم ووزن المواد الخام وتحتاج لعدد كبير من العمال. الصناعة البسيطة

السؤال الثانى: (١) اكتب كلمة (صواب) أمام العبارة الصحيحة، وكلمة (خطأ) أمام العبارة غير الصحيحة:

- ١- الزواج المبكر من العادات الإيجابية لسكان البيئة الزراعية. (X)
- ٢- يعتمد نشاط صيد الأسماك فى البيئة الزراعية على نهر النيل والترع. (✓)
- ٣- الانفتاح على العالم الخارجى يشجع على الاستثمار فى مجال الصناعة. (✓)
- ٤- السوق من العوامل الطبيعية لقيام الصناعة. (X)
- ٥- الاستنزاف يعنى تقليل الاستهلاك والاستخدام الأمثل للموارد. (X)

(ب) بهم تفسر...؟

- ١- قلة عدد السكان فى وادى النيل عن الدلتا. بسبب ضيق مساحة الاراضى الزراعية
- ٢- الاهتمام بالتعليم الفنى والصناعى. لتخريج عمالة فنية مدربة

السؤال الثالث: (١) أكمل العبارات التالية بكلمات مناسبة:

- ١- اقتصر التعليم فى مصر أثناء الحكم العثمانى على حفظ ودروس الفقه والتشريع. القرآن الكريم
- ٢- كان الوالى يدعو الديوان للانعقاد فى الولايات العثمانية.

(ب) اكتب ما تشير إليه العبارات التالية:

- ١- قناة يتم حفرها لتوصيل المياه من نهر النيل لرى الأراضى الزراعية. **الترعة**
- ٢- انتقال الأفراد من مكان لآخر داخل الدولة أو خارجها. **الهجرة**
- ٣- إزالة الطبقة السطحية من التربة مما يؤدي إلى تدهور إنتاجها. **تجريف التربة**

السؤال الثانى: (١) أكمل العبارات الآتية بكلمات مناسبة:

- ١- تعتمد الزراعة فى الساحل الشمالى على مياه **الأمطار الشتوية**
- ٢- تتميز البيئة الزراعية فى الوادى والدلتا باستواء **السطح**
- ٣- يتصل منخفض الفيوم بنهر النيل عن طريق **ترعة بحر يوسف**
- ٤- تزداد نسبة الأمية فى **الريف** مقارنة بالمدن.

(ب) بهم تفسر...؟

بسبب اتساع مساحة مصر وتنوع مظاهر السطح وتنوع الموارد الطبيعية

١- تنوع البيئات المصرية. ٢- أهمية النقل والمواصلات فى الصناعة. **نقل العمال والمواد الخام والمنتجات بأسعار رخيصة**

ثانياً التاريخ

السؤال الثالث: (١) اختر الإجابة الصحيحة مما بين الأقواس:

- ١- تم فتح القسطنطينية فى عهد السلطان
- (سليم الأول - محمد الفاتح - يزيد الثانى - طومان باى)
- ٢- تولى المماليك حكم البلاد عقب انهيار الدولة
- (الفاطمية - الأيوبية - العباسية - الأموية)
- ٣- وصلت الحملة الفرنسية يوليو ١٧٩٨م إلى ميناء
- (دمياط - الإسكندرية - رشيد - بورسعيد)
- ٤- اجتمع زعماء الشعب والعلماء وقرروا عزل
- (محمد على - خورشيد باشا - إبراهيم باشا - طوسون باشا)

(ب) ما النتائج المترتبة على...؟

- ١- اكتشاف طريق رأس الرجاء الصالح عام ١٤٩٨م. ٢- سياسة محمد على الخارجية التوسعية.
- تدهور وانهيار دولة المماليك اقتصادياً**
- أدى الى الصدام مع الدول الاستعمارية**
- وفرضوا عليه معاهدة لندن**

السؤال الرابع: (١) اكتب كلمة (صواب) أمام العبارات الصحيحة، وكلمة (خطأ) أمام غير الصحيحة:

- ١- قام السلطان العثمانى بترحيل أمهر الصناع والحرفيين إلى الآستانة. (✓)
- ٢- نجح الفرنسيون فى احتلال الإسكندرية بعد مقاومة حاكمها السيد عمر مكرم. (✗)
- ٣- تولى الجنرال مينو قيادة الحملة بعد مقتل كليبر. (✓)
- ٤- أصبحت مدينة الإسكندرية مقر الحكومة المركزية فى عصر (محمد على). (✗)

(ب) «وصلت رسالة من القائد كليبر بالإسكندرية إلى قائد الحملة الفرنسية بمصر نابليون بونابرت تفيد بتحطيم الأسطول الفرنسى على يد الأسطول الإنجليزى بقيادة نلسون». فى ضوء هذه العبارة أجب:

١- اذكر اسم الموقعة. **ابى قير البحرية**٢- النتائج التى ترتبت على الموقعة. **انقطاع الصلة بين الجيش الفرنسى وفرنسا****اعتماد الفرنسيين على موارد مصر****اضعاف الروح المعنوية للفرنسيين**

مستز / عطازكى شحتو

مستز / عطازكى شحتو ٢٢٥

مستز اعزازي شحتو

(ب) انسب كل عمل من الأعمال التالية إلى صاحبه:

- ١- قام بترحيل أمهر الصناع المصريين إلى الأستانة. **سليم الأول**
- ٢- عاد سراً إلى فرنسا بعد أن عين قائداً للحملة في مصر. **نابليون بونابرت**
- ٣- أنشأ قصر الجوهرة. **محمد علي**

السؤال الرابع: (١) اختر الإجابات الصحيحة مما بين القوسين:

- ١- لفتت الحملة الفرنسية أنظار العالم الغربي لمصر وموقعها الجغرافي من النتائج
(الحرية - السياسية - العلمية - الثقافية)
- ٢- أرسلت إنجلترا حملة إلى مصر في مارس ١٨٠٧م بقيادة
(فريزر - نلسون - كليبر - مينو)
- ٣- اهتم (محمد علي) بتنظيم الإدارة فقسم البلاد إلى
(٥ مديريات - ٦ مديريات - ٧ مديريات - ٨ مديريات)
- ٤- تولى حكم مصر بعد عزل إسماعيل باشا ابنه
(عباس - سعيد - إبراهيم - توفيق)

(ب) «اتجه الزحف العثماني نحو مصر، وفي صحراء العباسية دارت معركة فاصلة بين العثمانيين والمماليك في عام ١٥١٧م، وهزمت فيها القوات المملوكية». في ضوء العبارة السابقة أجب عن الأسئلة التالية:

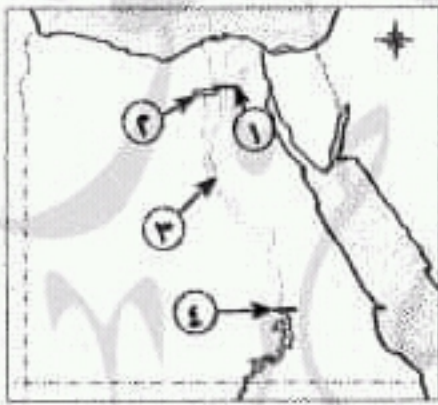
- ١- لماذا اتجه الزحف العثماني نحو مصر؟ **لان مصر المقر الرئيسي للمماليك ومفتاح المشرق العربي**
- ٢- ما اسم المعركة التي دارت بين العثمانيين والمماليك في صحراء العباسية؟ **الريدانية**
- ٣- اكتب نتيجة واحدة ترتبت على هزيمة المماليك في هذه المعركة. **أصبحت مصر ولاية عثمانية**

١٠ محافظة الشرقية - إدارة العاشر من رمضان التعليمية

(مجاب عنه ص ٢٥٥)

أولاً الجغرافيا

السؤال الأول: (١) أمامك خريطة صماء لمصر، اكتب مدلول الأرقام عليها:



مستز اعزازي شحتو

- ١- القناطر..... **الخيرية**
- ٢- منخفض..... **الفيوم**
- ٣- ترعة..... **الإبراهيمية**
- ٤- السد..... **العالي**

(ب) بم تفسر...؟

- ١- ندرة النباتات الطبيعية في البيئة الزراعية بسبب كثافة النشاط الزراعي
- ٢- إنشاء الدولة وزارة البيئة. لإصدار القوانين والتشريعات لحماية البيئة من الاخطار

السؤال الثاني: (١) اختر الإجابة الصحيحة مما بين الأقواس:

- ١- من العوامل البشرية الهامة لقيام الصناعة (المواد الخام - الظروف المناخية - السوق - مصادر الطاقة)
- ٢- تقوم الزراعة في الواحات اعتماداً على مياه (النيل - الأمطار - الآبار والعيون - الري)
- ٣- من العادات السلبية في البيئة الزراعية (التعاون - احترام الكبير - التزاور فيما بينهم - زيادة الإنجاب)
- ٤- من الصناعات البسيطة صناعة (حفر الخشب - حلج القطن - الفخار - الآلات)

(ب) اكتب ما تشير إليه كل عبارة:

- ١- النبات الذي ينمو تلقائيًا دون تدخل الإنسان. **النبات الطبيعي**
- ٢- تحويل المواد الخام إلى سلع ومنتجات لسد حاجات السكان. **الصناعة**
- ٣- انتقال الأفراد من مكان إلى مكان داخل حدود الدولة. **هجرة داخلية**

ثانياً التاريخ

السؤال الثالث: (١) إلى من تنسب الأعمال الآتية...؟

- ١- تولى قيادة الحملة الفرنسية في مصر بعد مقتل كليبر. **مينو**
- ٢- كان حاكمًا للإسكندرية وقاد أهلها في مقاومة الحملة الفرنسية على مصر. **محمد كريم**
- ٣- دبر مذبحه القلعة للتخلص من المماليك. **محمد علي**
- ٤- فتح القسطنطينية عاصمة الدولة البيزنطية ١٤٥٣م. **محمد الثاني - الفاتح**

(ب) أكمل العبارات الآتية:

- ١- نفى (محمد علي) السيد عمر مكرم إلى **دمياط**.
- ٢- أصبحت مصر ولاية عثمانية بعد هزيمة المماليك في موقعة **الريديانية**.
- ٣- أعدم نابليون ستة من زعماء ثورة القاهرة الأولى باستثناء **الشيخ السادات**.
- ٤- قام بترحيل أمهر الصناع والحرفيين إلى الأستانة السلطان **سليم الأول**.

السؤال الرابع: (١) اكتب كلمة (صواب) أمام العبارة الصحيحة، وكلمة (خطأ) أمام العبارة غير الصحيحة:

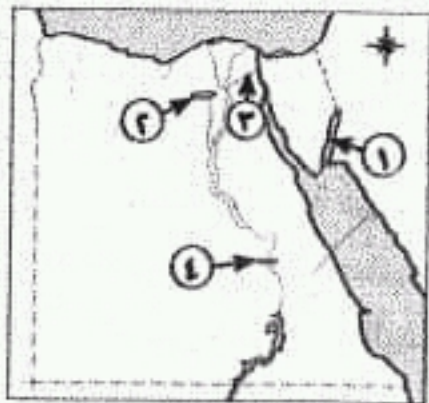
- ١- قام السلطان سليم الأول بترحيل أمهر الصناع والحرفيين إلى الأستانة. (✓)
- ٢- كان نظام الحكم العثماني لمصر عادلاً. (✗)
- ٣- نجح الفرنسيون في احتلال مدينة الإسكندرية ١٧٩٨م بعد مقاومة حاكمها السيد عمر مكرم. (✗)
- ٤- تولى مينو قيادة الحملة بعد مقتل كليبر. (✓)
- ٥- قام (محمد علي) بنفى (عمر مكرم) إلى خارج مصر. (✗)

(ب) ما النتائج المترتبة على...؟ - موقعة أبي قير البحرية أغسطس ١٧٩٨م. **اعتماد الفرنسيين على موارد مصر**
انقطاع الصلة بين الجيش الفرنسي وفرنسا - **إضعاف الروح المعنوية للفرنسيين**

١١- محافظة الإسماعيلية - توجيه الدراسات الاجتماعية

أولاً الجغرافيا

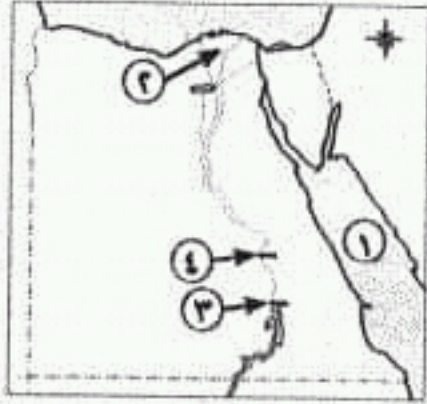
السؤال الأول: (١) أمامك خريطة صماء لمصر اكتب مدلول الأرقام عليها:



- ١- خليج **العقبة**
- ٢- منخفض **الفيوم**
- ٣- ترعة **الإسماعيلية**
- ٤- قناطر **اسنا**

مسئرا / عطازكى شحتو

السؤال الأول: (١) أمامك خريطة لمصر، اكتب ما تدل عليه الأرقام:



مستر / عطا زكى شحتو

- ١- البحر الأحمر
- ٢- من مناطق الزراعة المروية الدلتا
- ٣- السد العالى
- ٤- قناطر اسنا

(ب) اكتب سببا واحدا لكل مما يأتى:

- ١- تنوع البيئات المصرية. بسبب اتساع مساحة مصر
- ٢- يقل عدد سكان الوجه القبلى عن الدلتا. بسبب ضيق مساحة الاراضى الزراعية
- ٣- ازدحام المدن وانتشار المناطق العشوائية فى البيئة الصناعية. بسبب الهجرة من الريف الى المدن
- ٤- الإكثار من المساحات الخضراء فى البيئة الصناعية. لامتصاص الغازات الضارة وتقليل التلوث

السؤال الثانى: (١) اكتب كلمة (صواب) أمام العبارة الصحيحة، وكلمة (خطأ) أمام العبارة غير الصحيحة مما يأتى:

- ١- استقر المصريون القدماء على ضفتى النيل وعلى اراضى الدلتا. (✓)
- ٢- تقوم الزراعة فى الساحل الشمالى على مياه نهر النيل. (✗)
- ٣- من خصائص سكان البيئة الصناعية ارتفاع نسبة الأمية. (✗)
- ٤- تهدف الدولة من إنشاء المناطق الصناعية زيادة الدخل القومى. (✓)

(ب) اكتب المفهوم العلمى أو المصطلح الجغرافى الدال على كل عبارة من العبارات التالية:

- ١- حاجز مائى بغرض رفع منسوب المياه لتوزيعها فى الترع المتفرعة أمامها. القناطر
- ٢- يقصد بها الأفراد الذين فى سن العمل ولا يعملون. البطالة
- ٣- إزالة الطبقة السطحية من التربة مما يؤدى إلى تدهور إنتاجها. تجريف التربة
- ٤- الإفراط وسوء استخدام الموارد الطبيعية بشكل يؤدى إلى نفادها. الاستنزاف

السؤال الثالث: (١) صوب الكلمات التى فوق الخط مما يأتى:

- ١- كانت مصر قبل مجىء العثمانيين تحت حكم البرتغاليين. المماليك
- ٢- الوالى أو الباشا هو نائب السلطان ومقره القاهرة. القلعة
- ٣- أبحرت الحملة الفرنسية من ميناء طولون بجنوب إنجلترا. فرنسا
- ٤- تولى طوسون باشا القيادة العامة لحملة الشام. الحجاز

مستر / عطا زكى شحتو

السؤال الثاني: (١) اكتب ما تشير إليه كل عبارة من العبارات الآتية:

- ١- الإفراط وسوء استخدام الموارد الطبيعية بشكل يؤدي إلى نفادها. الاستنزاف
- ٢- إزالة الطبقة السطحية من التربة مما يؤدي إلى تدهورها. تجريف التربة
- ٣- صناعات يتم فيها تحويل المواد الخام إلى صورة أخرى لتقليل حجمها ووزنها. الصناعات البسيطة
- ٤- الأفراد الذين في سن العمل ولا يعملون. البطالة

(ب) ما النتائج المترتبة على...؟

- ١- تنوع البيئات المصرية. أدى إلى تنوع الثروات الطبيعية والانتاج الاقتصادي
- ٢- استخدام مصادر الطاقة النظيفة في الصناعة. يؤدي إلى انخفاض نسبة التلوث في البيئة الصناعية
- ٣- وفرة وسائل النقل والمواصلات للصناعة. أدى إلى سهول نقل العمال والمواد الخام والمنتجات بأسعار رخيصة

التاريخ

السؤال الثالث: (١) اكتب كلمة (صواب) أمام العبارة الصحيحة، وكلمة (خطأ) أمام العبارة غير الصحيحة:

- ١- كان من مهام الوالي الإشراف على تنفيذ القرارات الصادرة من السلطان العثماني. (✓)
- ٢- احترم نابليون حرمة ومكانة الجامع الأزهر أثناء الحملة الفرنسية على مصر. (✗)
- ٣- تخلص محمد علي من الزعامة الشعبية في مذبحه القلعة في مارس ١٨١١م. (✗)
- ٤- اهتم محمد علي بمشروعات الري فشق الترع والقنوات كترعة المحمودية. (✓)
- ٥- نجح إبراهيم باشا في إقامة إمبراطورية مصرية امتدت إلى مديرية خط الاستواء. (✗)

(ب) إلى من تنسب الأعمال الآتية...؟

- ١- قائد القوات المملوكة في معركة الريدانية ضد العثمانيين. طومان باي
- ٢- حاكم الإسكندرية الذي قاوم الحملة الفرنسية عام ١٧٩٨م. السيد محمد كريم
- ٣- شاب سوري تمكن من قتل كليبر قائد الحملة الفرنسية في يونيو ١٨٠٠م. سليمان الحلبي

السؤال الرابع: (١) اختر الإجابة الصحيحة مما بين القوسين:

- ١- اتخذت مدينة القسطنطينية عاصمة لدولتهم عام ١٤٥٣م. (الأيوبيون - المماليك - العثمانيون - الفرنسيون)
- ٢- فشلت الحملة الفرنسية على الشام بسبب عدم قدرتها على فتح (عكا - يافا - سوريا - العريش)
- ٣- تولى محمد علي حكم مصر عام ١٨٠٥م بعد عزل الوالي (عباس - إسماعيل - خورشيد - توفيق)
- ٤- أرسل محمد علي البعثات التعليمية إلى دولة (إنجلترا - فرنسا - تركيا - الحجاز)

(ب) ماذا يحدث إذا لم...؟

- ١- يكتشف البرتغاليون طريق رأس الرجاء الصالح عام ١٤٩٨م. عدم تدهور وانهيار دولة المماليك
- ٢- يهمل العثمانيون العلوم العقلية مثل الرياضيات والطبيعة. ازدهار الحياة العلمية والثقافية في مصر أثناء الحكم العثماني
- ٣- يتحطم الأسطول الفرنسي في موقعة أبي قير البحرية عام ١٧٩٨م.

نجحت فرنسا في إقامة مستعمرة فرنسية في الشرق يكون
مركزها مصر

مستر / عطا زكى شحتو

السؤال الثالث: (1) أكمل العبارات الآتية بكلمات مناسبة:

- ١- أصبحت القسطنطينية عاصمة الدولة العثمانية في عهد السلطان **محمد الثاني**.....
- ٢- أصبحت مصر ولاية عثمانية بعد معركة **الريدانية**.....
- ٣- فشلت الحملة الفرنسية على الشام بسبب فشلها في دخول مدينة **عكا**.....
- ٤- تخلص محمد على من السيد عمر مكرم بنفيه إلى مدينة **دمياط**.....

(ب) ما النتائج المترتبة على...؟

- ١- معركة مرج دابق عام ١٥١٦م. **انتصار العثمانيين وهزيمة المماليك** واصبحت بلاد الشام ولايه عثمانية
- ٢- سياسة محمد على التوسعية أدت إلى **الصدام مع الدول الإستعمارية وفرضوا عليه معاهدة لندن**

السؤال الرابع: (1) إلى من تنسب الأعمال التالية...؟

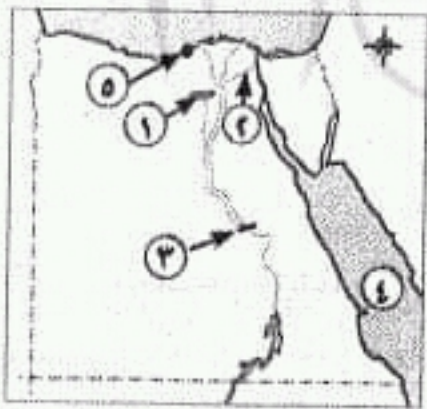
- ١- تزعم مقاومة أهل الإسكندرية ضد الحملة الفرنسية. **السيد عمر مكرم**
- ٢- دمر حى بولاق بالمدافع وفرض الضرائب والإتاوات. **كليب**
- ٣- تولى حكم مصر عام ١٨٠٥م. **محمد على**
- ٤- أقام إمبراطورية مصرية امتدت إلى مديرية **خط الاستواء** الخديو **اسماعيل**

(ب) ماذا كان يحدث إذا...؟ **عدم تدهور وانهيار دولة المماليك اقتصاديا**

- ١- لم يكتشف البرتغاليون طريق رأس الرجاء الصالح. **خرجت الحملة ولم تحدث ثورة القاهرة**
- ٢- وافقت إنجلترا على اتفاقية العريش يناير ١٨٠٠م. **القائبة ولم يتولى مينو قيادة الحملة**

٨- محافظة البحيرة - إدارة ابو حمص التعليمية

السؤال الأول: (1) أمامك خريطة لمصر، اكتب ما تشير إليه الأرقام الموضحة عليها:



مستر / عطا زكى شحتو

- ١- منخفض **الفيوم**
- ٢- ترعة **الإسماعيلية**
- ٣- قناة **نجع حمادى**
- ٤- البحر **الأحمر**
- ٥- مدينة **الإسكندرية**

(ب) بم تفسر...؟

- ١- أهمية البيئة الصناعية فى مصر. **لتنشغيل الأيدي العاملة - وزيادة الدخل القومى - وزيادة الصادرات المصرية وحل مشكلة البطالة**
- ٢- تلوث الهواء بالبيئة الصناعية. **بسبب أدخنة المصانع**
- ٣- تهجير سكان النوبة بعد بناء السد العالى. **لان المياه غمرت اراضيهم ومنازلهم**

لفتت أنظار العالم الغربي وخاصة إنجلترا إلى أهمية موقع مصر وايقظت الوعي القومي لدى (ب) ما النتائج المترتبة على...؟

١- الحملة الفرنسية من الناحية السياسية.

٢- تشجيع عمر مكرم المصريين على مواجهة حملة فريزر ١٨٠٧م.

(ج) رتب الأحداث الآتية من القديم إلى الحديث:
أدى إلى هزيمة الحملة الإنجليزية في رشيد والحماد ورحيلها عن الإسكندرية

حملة نابليون على الشام - مقتل كليبر - دخول العثمانيين القاهرة - فرار المماليك إلى السودان.
السؤال الرابع: (١) إلى من تنسب الأعمال الآتية...؟

١- قيادة مقاومة الحملة الفرنسية بالإسكندرية ١٧٩٨م. السيد محمد كريم

٢- تولى قيادة الحملة التي أرسلها محمد علي إلى بلاد الحجاز. طوسون

٣- الإشراف على تنفيذ القرارات الصادرة من السلطان العثماني. الوالي

(ب) صوب ما تحته خط:

١- أنشأ محمد علي ترسانة لصناعة السفن بالقاهرة. الإسكندرية

٢- اندلعت ثورة القاهرة الثانية من الأزهر الشريف. حي بولاق

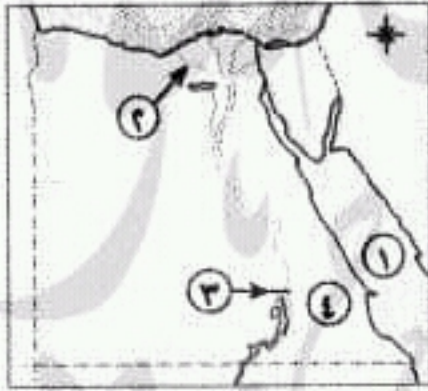
(ج) قارن بين كل من:

- موقعة أبي قير البحرية وأبي قير البرية من حيث نتائج كل منهما.

٧- محافظة كفر الشيخ - إدارة الرياض التعليمية

اولاً الجغرافيا

السؤال الأول: (١) أكمل نقاط الخريطة التالية:



- ١- البحر الأحمر
٢- ترعة غرب الدلتا النوبارية
٣- السد العالي
٤- الصحراء الشرقية

(ب) بهم تفسر...؟

١- تناقص مساحة الأراضي الزراعية. بسبب الزحف العمراني عليها

٢- إنشاء الدولة المناطق الصناعية. لتشغيل الأيدي العاملة - وزيادة الدخل القومي - وزيادة الصادرات المصرية

السؤال الثاني: (١) اكتب كلمة (صواب) أمام العبارة الصحيحة، وكلمة (خطأ) أمام العبارة غير الصحيحة فيما يلي:

- ١- تعتمد الزراعة في الساحل الشمالي على مياه نهر النيل. (X)
٢- تظهر الأراضي الزراعية في منخفض الفيوم على شكل مدرجات. (✓)
٣- الانفتاح على العالم الخارجي يشجع على الاستثمار في المجال الصناعي. (✓)
٤- ترتفع نسبة الأمية بين سكان البيئة الصناعية. (X)

(ب) ما المقصود بكل من...؟

٢- العشوائيات.

١- القناطر.

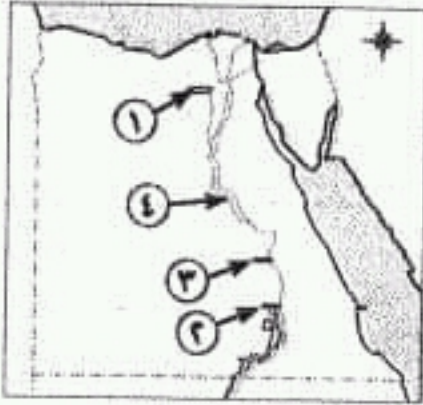
المناطق التي بنيت بدون تخطيط وعادة ما تظهر على أطراف المدن

حاجز مائي أنشئ بغرض رفع

منسوب المياه لتوزيعها في

الترع

السؤال الأول: (١) أمامك خريطة لمصر، اكتب ما تشير إليه الأرقام الموضحة عليها:



مستر / عطا زكى شحتو

- ١- منخفض الفيوم
٢- السد العالى
٣- قناطر إسنا
٤- منطقة زراعة مروية وادى النيل

(ب) أكمل ما يأتى:

تشغيل الأيدي العاملة وزيادة الدخل القومى

- ١- تهدف الدولة من إنشاء المناطق الصناعية إلى
٢- من المشكلات المرتبطة باستخدام موارد البيئة الزراعية

(ج) ما المقصود بالمفاهيم الآتية...؟
١- السهل الفيضى: نهر النيل من منبعه
٢- الإفراط وسوء استخدام الموارد الطبيعية بشكل يؤدي إلى نفاذها

السؤال الثانى: (١) ضع علامة (صواب) أمام العبارة الصحيحة، وعلامة (خطأ) أمام العبارة غير الصحيحة مع التصويب:

- ١- الدلتا تبدو فى شكل مثلث رأسه شمال مدينة الإسكندرية. (X)
٢- رأس المال من العوامل الطبيعية لقيام الصناعة. (X)
٣- محافظة بورسعيد من محافظات دلتا نهر النيل. (✓)
٤- الانفتاح على العالم الخارجى يشجع على الاستثمار فى المجال الصناعى. (✓)
٥- تنوع الثروات الطبيعية والإنتاج الاقتصادى نتيجة لتنوع البيئات المصرية. (✓)

(ب) بهم تفسر...؟

- ١- لرى الاراضى المرتفعة لان منخفض الفيوم على شكل مدرجات واسعة
٢- تستخدم السواقي لرى اراضى منخفض الفيوم.
٣- أهمية البيئة الصناعية للبيئة الزراعية، المنتجات الصناعية مثل الأسمدة والآلات الزراعية
والاجهزة الكهربائية والأدوية

السؤال الثالث: (١) اختر الإجابة الصحيحة مما بين القوسين:

- ١- عقدت اتفاقية العريش بين كل من كليبر و..... (العثمانيين - الإنجليز - العماليك - الفرنسيين)
٢- خرجت الحملة الفرنسية من مصر عام ١٨٠١م بقيادة (كليبر - مينو - نلسون - نابليون)
٣- أصدر السلطان العثمانى فرماناً بضم حكم لمحمد على عام ١٨٤١م. (السودان - الحجاز - اليونان - الشام)
٤- أعطى باشا امتياز حفر قناة السويس للمهندس دبليسبس.

(عباس - سعيد - إسماعيل - إبراهيم)



(✓)
(✗)

٣- تتنوع الصناعات الحرفية فى البيئة الزراعية بسبب تنوع الموارد الطبيعية.

٤- صناعة حلج الأقطان من الصناعات الحرفية.

(ب) اكتب ما تشير إليه العبارتان الآتيتان:

١- صناعات تعتمد على الآلات الحديثة ويقل الاعتماد فيها على الأيدى العاملة. **الصناعات الحديثة**

٢- حاجز مائى أنشئ بغرض رفع منسوب المياه لتوزيعها فى الترع المتفرعة أمامها **القناطر**

(ج) ماذا يحدث إذا...؟

- لم تتنوع البيئات المصرية. **عدم تنوع الثروات الطبيعية والإنتاج الأقتصادى**

الثالث < التاريخ

السؤال الثالث: (١) اختر الإجابة الصحيحة مما بين الأقواس:

١- فتحت القسطنطينية فى عهد السلطان

(سليمان القانونى - محمد الثانى - طومان باى - بايزيد الثانى)

٢- فشلت الحملة الفرنسية على الشام فى فتح مدينة

(العريش - حيفا - يافا - عكا)

٣- تخلص محمد على من الزعامة الشعبية بنفى عمر مكرم إلى

(دمياط - الصعيد - القاهرة - الإسكندرية)

٤- نجح فى إقامة إمبراطورية مصرية امتدت إلى مديرية خط الاستواء

(سعيد - عباس - إبراهيم - إسماعيل)

(ب) بم تفسر...؟

١- الصدام بين محمد على والدول الأوروبية. **بسبب السياسة التوسعية لمحمد على**

٢- اختيار المماليك لحكم الأقاليم أثناء الحكم العثمانى لمصر. **بسبب خبرتهم الطويلة فى حكم البلاد**

(ج) ما رأيك فى...؟ **تعبير فترة من الفترات الجيدة فى تاريخ مصر لأنها البداية الحقيقية لبناء مصر الحديثة**

- أحوال مصر الداخلية أثناء حكم محمد على.

السؤال الرابع: (١) صوب ما تحته خط فى العبارات الآتية:

١- أبحرت الحملة الفرنسية من ميناء طولون بشمال فرنسا. **جنوب**

٢- اندلعت ثورة القاهرة الثانية بسبب الإجراءات التى اتخذها مينو. **كليب**

٣- سيطر العثمانيون على بلاد الشام بعد هزيمة المماليك عند الريدانية. **مرج دابق**

٤- الحامية العثمانية فرق عسكرية من مهامها الدفاع عن الحاكم. **البلاد**

(ب) برهن على صحة العبارتين الآتيتين:

١- انتصرت الإرادة الشعبية المصرية انتصاراً رائعاً عام ١٨٠٥م. **وقرروا عزل خوشيد باشا وتولية محمد على**

٢- تسبب السلطان سليم الأول فى تدهور الحياة الفنية فى مصر.

حيث قام بترحيل أمهر الصناع والحرفين إلى الاستانة

واستولى على التحف والمخطوطات النادرة

مستر / عطا زكى شحتو

مستر / عطا زكى شحتو

كتاب مستر / عطا زكى شحتو

(ب) ما النتائج المترتبة على...؟ أدى الى تدهور الحياة الفنية والصناعة في مصر اثناء الحكم العثماني

١- ترحيل السلطان سليم الأول الصانع المهرة إلى الأستانة.

٢- الحملة الفرنسية على مصر (العلمية والثقافية فقط). اكتشاف حجر رشيد - تأليف كتاب وصف مصر

السؤال الرابع: (١) تخير الإجابة الصحيحة مما بين القوسين:
١- أقام الخديو..... إمبراطورية مصرية امتدت لمديرية خط الاستواء.

(توفيق - إسماعيل - سعيد - إبراهيم)

٢- طمع الإنجليز في بسط نفوذهم على مصر لتأمين مستعمراتهم في.....

(سوريا - لبنان - الهند - مصر)

٣- أبحرت الحملة الفرنسية من ميناء.....

(السويس - العقبة - طولون - الإسكندرية)

٤- اجتمع زعماء الشعب والعلماء في دار المحكمة وقرروا عزل.....

(محمد علي - خورشيد باشا - طوسون - توفيق)

(ب) برهن على صحة العبارتين الآتيتين: ادخل أنواع جديدة من القطن- غرس اشجار التوت

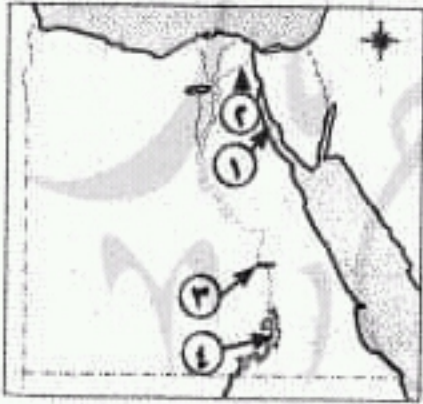
١- اهتمام محمد علي بمشروعات الري. اهتم بالري بفشق ترعة المحمودية وانشأ القناطر الخيرية

٢- فشل الحملة الفرنسية في فتح عكا. بسبب قوة اسوارها وبساله اهلها

٥- محافظة الغربية - إدارة كثر الزيات التعليمية

أولاً الجغرافيا

السؤال الأول: (١) أمامك خريطة لمصر، اكتب مدلول الأرقام الموقعة عليها:



مستر / عطا زكى شحتو

السويس

١- خليج

الإسماعيلية

٢- ترعة

إسفا

٣- قناطر

ناصر

٤- بحيرة

(ب) ما النتائج المترتبة على...؟

١- كثافة النشاط الزراعي في البيئة الزراعية. أدى الى ندرة النباتات الطبيعية في البيئة الزراعية

٢- انفتاح الدولة على العالم الخارجى. يشجع العرب والأجانب على الاستثمار في مجال الصناعة

(ج) ما العلاقة بين...؟

- الهجرة والبطالة. العلاقة بينهم علاقة طردية فكما ذات نسبة البطالة ذات نسبة الهجرة الداخلية والخارجية

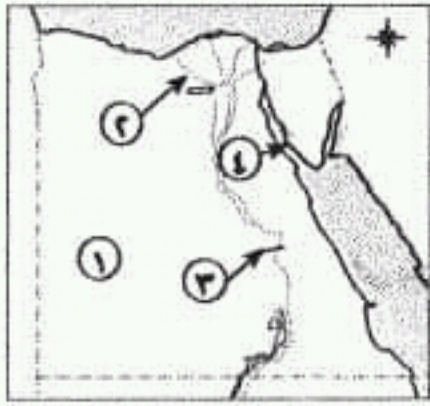
السؤال الثالث: (١) اكتب كلمة (صواب) أمام العبارة الصحيحة، وكلمة (خطأ) أمام العبارة غير الصحيحة:

١- تعتمد الصناعة في مناطق الزراعة الفيضية على مياه الأمطار.

٢- من المشكلات التي يعاني منها سكان البيئة الصناعية نقص الكوادر الفنية.

(X)

(✓)



السؤال الأول: (١) أمامك خريطة صماء لمصر، اكتب مدلول الأرقام الموقعة عليها:

- ١- الصحراء الغربية
- ٢- ترعة غرب الدلتا النوبارية
- ٣- قناطر إسنا
- ٤- خليج السويس

(ب) صوب ما تحته خط:

- ١- توجد الزراعة المروية بمياه النيل في الوادي والدلتا ومنخفض القطارة. الفيوم
- ٢- لا تجود الزراعة في الأطراف الشمالية للدلتا بسبب ارتفاع الأمواج. نسبة الملوحة
- ٣- من مناطق النشاط السياحي في البيئة الزراعية الفيوم وبها بحيرة ناصر. بحيرة قارون
- ٤- من العوامل الطبيعية لقيام الصناعة رأس المال الخام

(ج) بهم تفسر...؟ بسبب اتساع مساحة مصر - تنوع مظاهر السطح وتنوع الموارد الطبيعية

- ١- تنوع البيئات المصرية.
 - ٢- إنشاء الدولة للمناطق الصناعية.
- السؤال الثاني: (١) اكتب المصطلح العلمى لكل مما يأتى:
- ١- قناة مائية تم حفرها لتوصيل المياه من النيل لرى الأراضى الزراعية. الترعة
 - ٢- الأفراد الذين فى سن العمل ولا يعملون. البطالة
 - ٣- استخدام الإنسان للموارد المتاحة لسد احتياجاته. النشاط الإقتصادى
 - ٤- صناعة تعتمد على العمل اليدوى وتحتاج لرأس مال قليل. الصناعات الحرفية
 - ٥- الإفراط وسوء استخدام الموارد الطبيعية بشكل يؤدي إلى نفادها. الاستنزاف

(ب) «تعانى البيئة الصناعية فى مصر من العديد من المشكلات» فى ضوء هذه العبارة أجب:

- ١- ما أهم المشكلات فى البيئة الصناعية فى مصر؟
 - ٢- ما جهود الدولة لحل مشكلات البيئة الصناعية؟
- تركيب مرشحات على مداخل المصانع - إنشاء وزارة البيئة
نقل المصانع خارج المدن

السؤال الثالث: (١) اكتب كلمة (صواب) أمام العبارة الصحيحة، وكلمة (خطأ) أمام العبارة غير الصحيحة:

- ١- تم فتح القسطنطينية على يد محمد الثانى (الفتاح). (✓)
- ٢- أصبحت مصر ولاية عثمانية بعد معركة مرج دابق. (✗)
- ٣- يشرف الوالى على تنفيذ القرارات الصادرة من السلطان العثمانى. (✓)
- ٤- ازدهرت أحوال مصر الاقتصادية والعلمية فى ظل الحكم العثمانى. (✗)
- ٥- تحطم الأسطول الفرنسى فى موقعة أبى قير البحرية. (✓)

(ب) به تفسر...؟

- ١- حدوث التلوث البيئي في البيئة الزراعية. بسبب الإسراف في استخدام الاسمدة الزراعية والمبيدات الحشرية
- ٢- ازدحام المدن وانتشار المناطق العشوائية. بسبب الهجرة من الريف الى المدن

السؤال الثاني: (١) اكتب كلمة (صواب) أمام العبارة الصحيحة، وكلمة (خطأ) أمام العبارة غير الصحيحة:

- ١- تمييز الأراضي الزراعية بمنخفض الفيوم باستواء سطحها. (X)
- ٢- تقوم الترع بصرف المياه الزائدة عن التربة. (X)
- ٣- يراعى عند إقامة المصانع أن تكون قريبة من المناطق السكنية. (X)
- ٤- مشاركة المرأة في العمل من خصائص سكان البيئة الصناعية. (✓)
- ٥- يعد التهرب الجمركى من مشكلات الصناعة في مصر. (✓)

مستر / عطا زكى شحتو

(ب) ما المقصود بالمفهومين الآتيين...؟

- ١- البطالة الأفراد في سن العمل ولا ٢- تجريف التربة. إزالة الطبقة السطحية من التربة مما يؤدي إلى تدهور إنتاجها

السؤال الثالث: (١) اختر الإجابة الصحيحة مما بين القوسين:

١- اكتشف طريق رأس الرجاء الصالح عام ١٤٩٨م.

(العثمانيون - الفرس - البرتغاليون - العرب)

٢- سيطرت الدولة العثمانية على بلاد الشام بعد معركة

(مرج دابق - الريدانية - إمبابة - شبراخت)

٣- عقد كليبر مع العثمانيين اتفاقية يناير ١٨٠٠م.

(الجلاء - العريش - أوصلو - كامب ديفيد)

٤- أعطى امتياز حفر قناة السويس للمهندس الفرنسي ديليسبس ١٨٥٤م.

(إسماعيل باشا - سعيد باشا - عباس باشا - توفيق باشا)

(ب) ما النتائج المترتبة على...؟

- ١- هزيمة القوات الإنجليزية في رشيد والحماد فُتلت الحملة الإنجليزية في احتلال مصر ورحلت عن الاسكندرية
- ٢- سياسة محمد علي الخارجية التوسعية.

أدى الصدام مع الدول الإستعمارية وفرضوا عليه معاهدة لندن

السؤال الرابع: (١) صوب ما تحته خط:

١- أبحرت الحملة الفرنسية من ميناء طولون واستولت على جزيرة سيشل ومنها إلى كريت. مالطة

٢- من مظاهر اهتمام محمد علي بالرى إنشاء مشروع قناطر اسنا. القناطر الخيرية

٣- أصدر محمد علي صحيفة المصرى اليوم. الوقائع المصرية

(ب) «كانت مصر قبل مجيء العثمانيين تحت حكم المماليك». فى ضوء هذه العبارة اجب:

١- اذكر أسباب ازدهار دولة المماليك. بسبب موقعها الجغرافى المسيطر على طريق التجارة بين اوربا والشرق

٢- لماذا اعتمد العثمانيون فى حكم الأقاليم على المماليك؟

لخبرتهم الطويلة فى حكم البلاد

السؤال الثالث : (١) اختر الإجابة الصحيحة من بين الأقواس :

- ١- الذي قام بفتح مدينة القسطنطينية (سليم الأول - عثمان بن أرطغرل - محمد الثاني - محمد علي)
- ٢- أهم الأسباب المعلنة للحملة الفرنسية على مصر
- (تأديب المماليك - تهديد مصالح إنجلترا - إقامة مستعمرة فرنسية في الشرق - تأييد المماليك)
- ٣- القائد الذي قام بمفاوضة العثمانيين في اتفاقية العريش (كليبر - نابليون - مينو - نلسون)
- ٤- تم إنشاء ترسانة لصناعة السفن في (القاهرة - الإسكندرية - دمياط - العريش)

(ب) لمن تنسب الأعمال الآتية...؟

- ١ - نائب السلطان العثماني ومقره القلعة . **الوالي**
- ٢- قبض على زعماء الثورة وأعدم ستة أبرياء باستثناء الشيخ السادات . **نابليون**
- ٣- أنشأ المطبعة الأميرية ببولاق . **محمد علي**
- ٤- أقام أول وأقدم إمبراطورية امتدت لمديرية خط الاستواء . **الخدوي إسماعيل**

السؤال الرابع : (١) أكمل العبارات الآتية بكلمات مناسبة :

- ١- أصبحت مصر ولاية عثمانية بعد معركة **الريدانية**
- ٢- أبحرت الحملة الفرنسية من ميناء **طولون**
- ٣- قسم محمد علي البلاد إلى **سبع مديريات**
- ٤- تم عزل الخديو إسماعيل وتولية ابنه **توفيق** بدلاً منه .

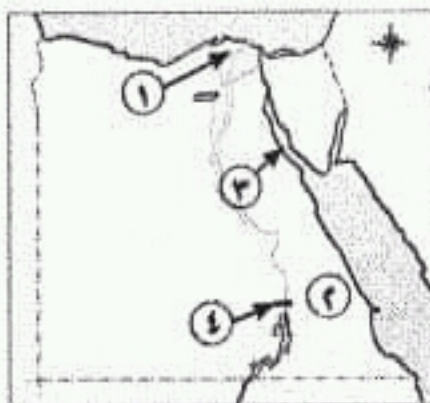
(ب) ما النتائج المترتبة على...؟

- ١- اكتشاف البرتغاليين رأس الرجاء الصالح . **ضعف وانهيار دولة المماليك**
- ٢- تخلص محمد علي من المماليك في مذبحه القلعة . **أدى إلى انفراد محمد علي بحكم مصر**
- ٣- توسعات محمد علي الداخلية والخارجية . **أدى الصدام مع الدول الإستعمارية وفرضوا عليه معاهدة لندن**

٢- محافظة الإسكندرية - إدارة شرق التعليمية

(مجاب عنه ص ٢٥٥)

السؤال الأول : (١) أمامك خريطة صماء لمصر اكتب مدلول الأرقام الموقعة عليها :



- ١ - منطقة زراعية مروية **الدلتا**
- ٢- الصحراء **الشرقية**
- ٣- خليج **السويس**
- ٤- السد **العالى**

السؤال الرابع: (١) اختر الإجابة الصحيحة من بين الأقواس:

١- تولى القيادة العامة لحملة الحجاز عام ١٨١١م

(محمد على - إبراهيم باشا - طوسون باشا - خورشيد باشا)

٢- أصبحت مصر ولاية عثمانية بعد معركة

(إمبابة - الريدانية - شبراخيت - مرج دابق)

٣- فشل الفرنسيون في أثناء حملتهم على الشام في فتح

(دمشق - عكا - بيروت - حمص)

(ب) ما النتائج المترتبة على...؟

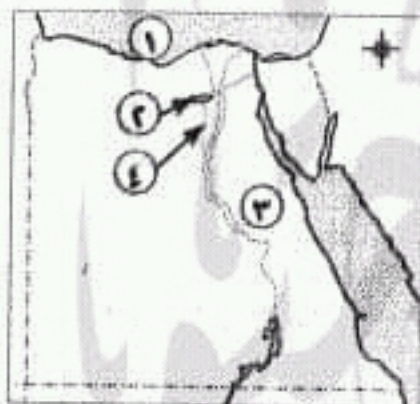
١- إلغاء ديوان القاهرة - إنشاء ديوان جديد لغير المصريين - فرض الضرائب على التجار والعماء

٢- ثورة القاهرة الأولى. وشرع الفرنسيين في تحصين القاهرة
٢- رغبة محمد على في الانفراد بحكم مصر.

٢- محافظة الجيزة - إدارة ٦ أكتوبر التعليمية

(مجاب على ص ٢٥٤)

أولاً الجغرافيا



السؤال الأول: (١) أمامك خريطة صماء لمصر اكتب مدلول الأرقام الموقعة عليها:



١- البحر المتوسط

٢- منخفض الفيوم

٣- الصحراء الشرقية

٤- ترعة بحر يوسف

(ب) اكتب ما تشير إليه العبارات الآتية:

- ١- المكان الذي نعيش فيه ويضم مظاهر طبيعية ومظاهر حضارية. البيئة
- ٢- حاجز مائي بغرض رفع منسوب المياه لتوزيعها في الترع المتفرعة أمامها. القناطر
- ٣- تحويل المادة الخام إلى سلع ومنتجات لسد احتياجات السكان. الصناعة
- ٤- يقصد بها طلب السكان المحليين المنتجات الصناعية. السوق المحلية

السؤال الثاني: (١) اكتب كلمة (صواب) أمام العبارة الصحيحة، وكلمة (خطأ) أمام العبارة غير الصحيحة:

(✓)

(✗)

(✓)

(✗)

١- تبدو الدلتا على شكل مثلث كبير.

٢- تقل نسبة الأمية في الريف مقارنة بالمدن.

٣- تصنف الصناعة على حسب تطورها لصناعة حرفية وبسيطة وحديثة.

٤- أهم المشكلات التي تواجه الصناعة هي التلوث البيئي.

(ب) بهم تفسر...؟

١- تنوع البيئات المصرية. بسبب اتساع مساحة مصر - تنوع مظاهر السطح وتنوع الموارد الطبيعية

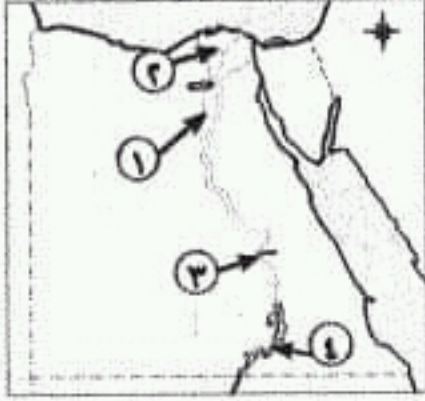
٢- محافظة الفيوم منطقة جذب سياحي. لوجود بحيرة قارون وعين السيلين والسواقي وغيرها

٣- إنشاء المناطق الصناعية بمصر.

لتشغيل الأيدي العاملة - ويادة الدخل القومي - وزيادة الصادرات المصرية

والحصول على العملات الأجنبية

مستر / عطا زكي شحتو



السؤال الأول: (١) أمامك خريطة صماء لمصر، اكتب مدلول الأرقام الموقعة عليها:

- ١- ترعة بحر يوسف
- ٢- منطقة زراعية فيضية الدلتا
- ٣- قنطرة أسينا
- ٤- بحيرة ناصر

(ب) بم تفسر...؟

٢- أهمية وسائل النقل والمواصلات في الصناعة.

١- ندرة النبات الطبيعي في البيئة الزراعية.

تقوم بنقل العمال والمواد الخام والبضائع بأسعار رخيصة

بسبب كثافة النشاط الزراعي

السؤال الثاني: (١) اكتب المصطلح المناسب لكل من:

١- زراعة الأرض وإنتاج المحاصيل وتربية الحيوان. النشاط الزراعي

٢- يقصد بها الأفراد الذين في سن العمل ولا يعملون. البطالة

٣- قناة يتم حفرها عند منسوب أقل من منسوب الترع والأراضي لصرف المياه الزائدة عن حاجة التربة. المصرف

(ب) أكمل العبارات الآتية بكلمات مناسبة:

١- تعتمد الزراعة في الواحات على المياه الجوفية.

٢- توفر لنا البيئة الساحلية الثروات المائية

٣- انتشار المناطق العشوائية يسهم في ارتفاع الكثافة السكانية وازدحام المدن

(ج) اذكر المشكلات التي تواجه الصناعة في مصر.

التهرب الجمركي - ارتفاع أسعار المواد الخام ومصادر الطاقة - نقص الكوادر الفنية

السؤال الثالث: (١) أكمل العبارات الآتية بكلمات مناسبة:

١- تنسب الدولة العثمانية إلى مؤسسها عثمان بن أرطغرل

٢- انطلقت ثورة القاهرة الثانية من حي بولاق

٣- من مهام الوالى إرسال الخراج المفروضة على البلاد.

٤- تدهورت الحالة الاقتصادية لدولة المماليك بعد اكتشاف طريق رأس الرجاء الصالح

(ب) رتب الأحداث التاريخية الآتية من القديم إلى الحديث:

(نهاية حكم محمد على - اتفاقية العريش - موقعة أبي قير البحرية - الحملة الفرنسية على مصر)