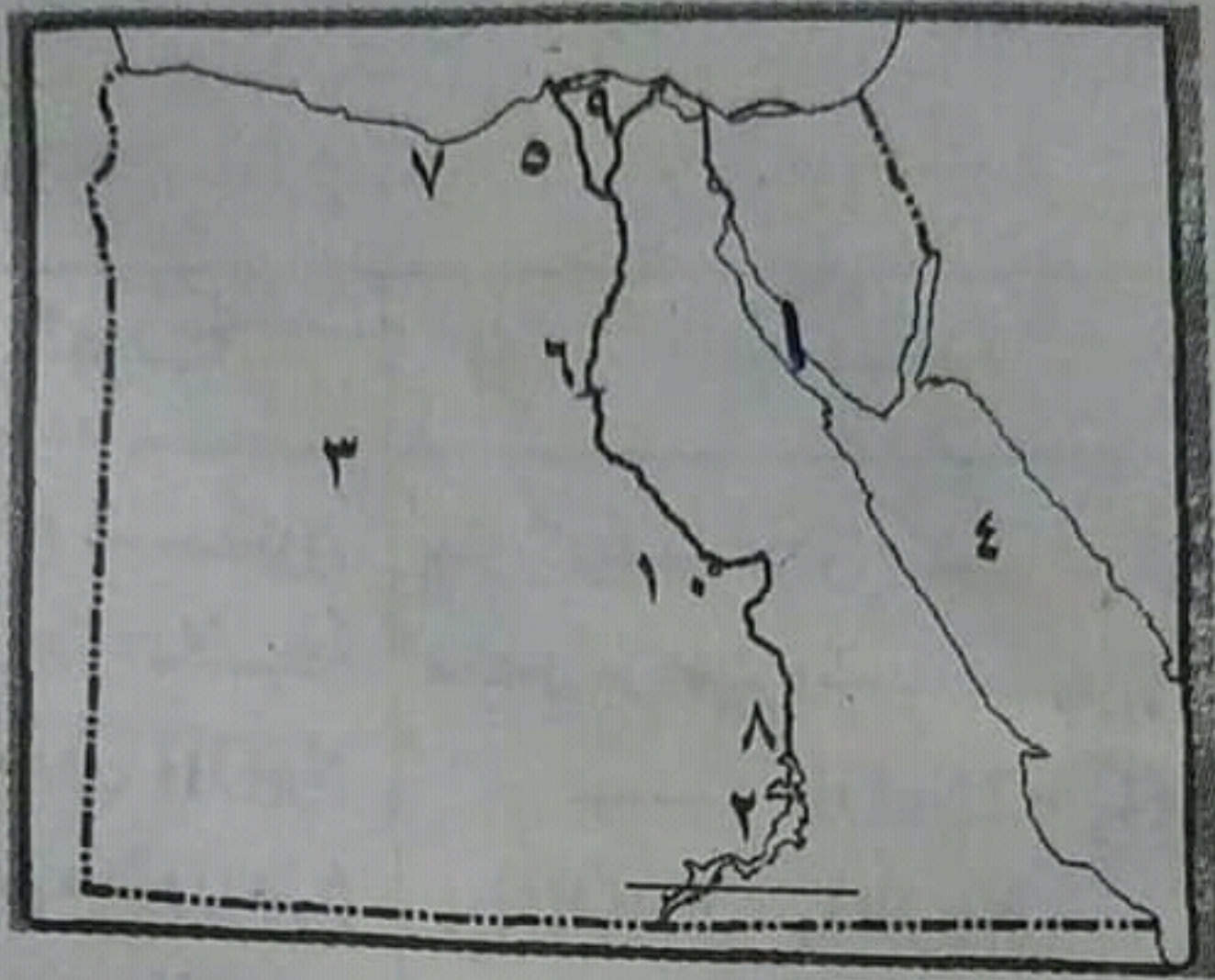


المجموعة الأولى :

(أ) أمامك خريطة صماء لمصر ، اكتب ما تدل

عليه الأرقام :

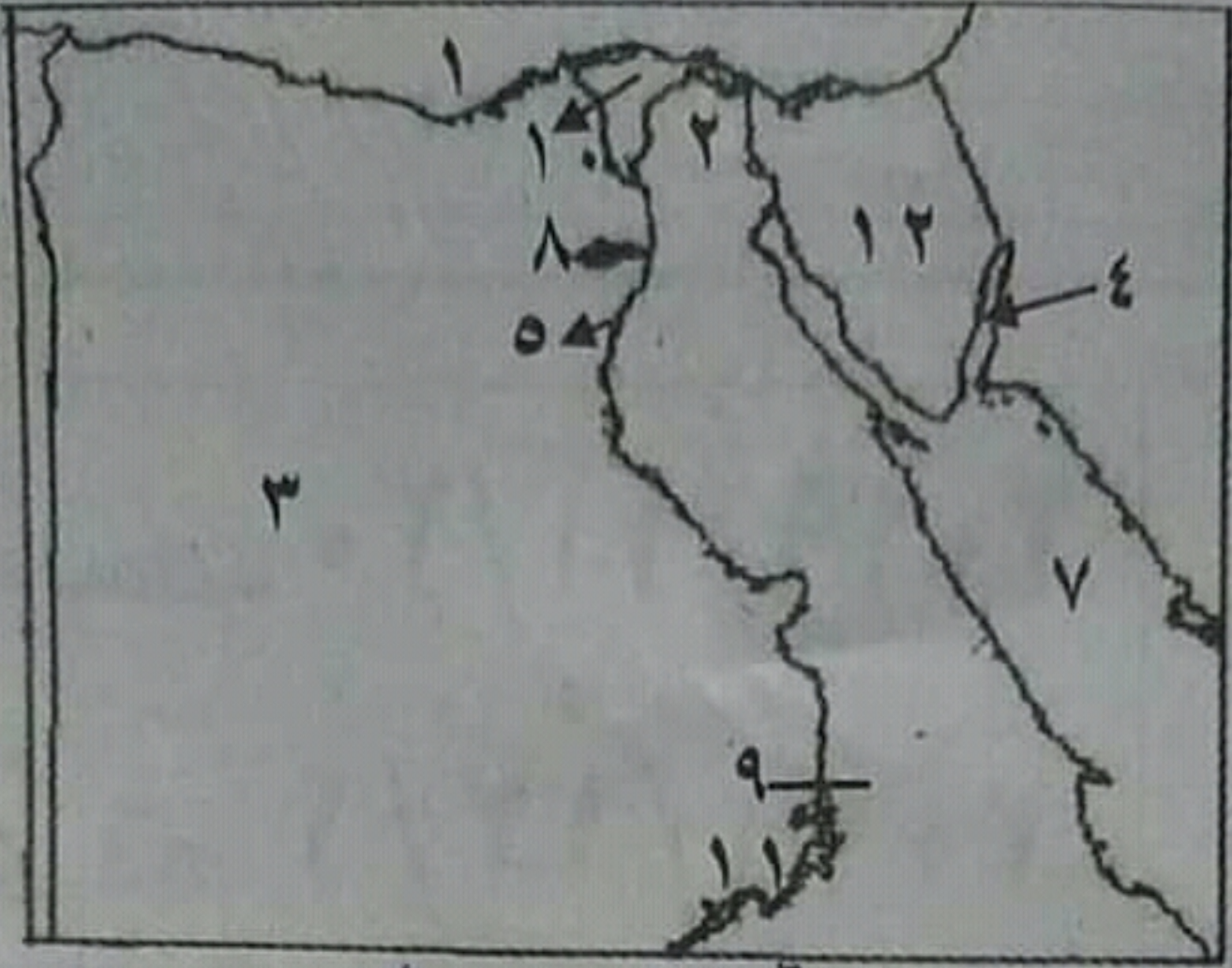


- ١- خليج .. البحر الأحمر ..
- ٢- بحيرة .. نابلس ..
- ٣- الصحراء .. الغربية ..
- ٤- البحر .. الأحمر ..
- ٥- ترعة .. الفيومية ..
- ٦- قناطر .. أسوان ..
- ٧- من المحافظات الحضرية .. الإسكندرية
- ٨- السد .. العالى ..
- ٩- منطقة زراعية فيضية .. الدلتا ..
- ١٠- قناطر .. جبارى ..

أولاً الجغرافيا ٢٠٢٠

المجموعة الأولى

(أ) أمامك خريطة صماء لمصر أكتب عليها مدلول الأرقام:



١- البحر ١. البحر المتوسط

٢- ترعة شرق الدلتا .. ١. الإسماعيلية

٣- الصحراء ١. الغربية

٤- خليج ١. العقبة

٥- ترعة ١. الإسماعيلية

٦- دولة ١. السودان

٧- البحر ١. الأحمر

٨- منخفض ١. الضخم

٩- السد ١. العالي

١٠- منطقة زراعية .. ١. الدلتا

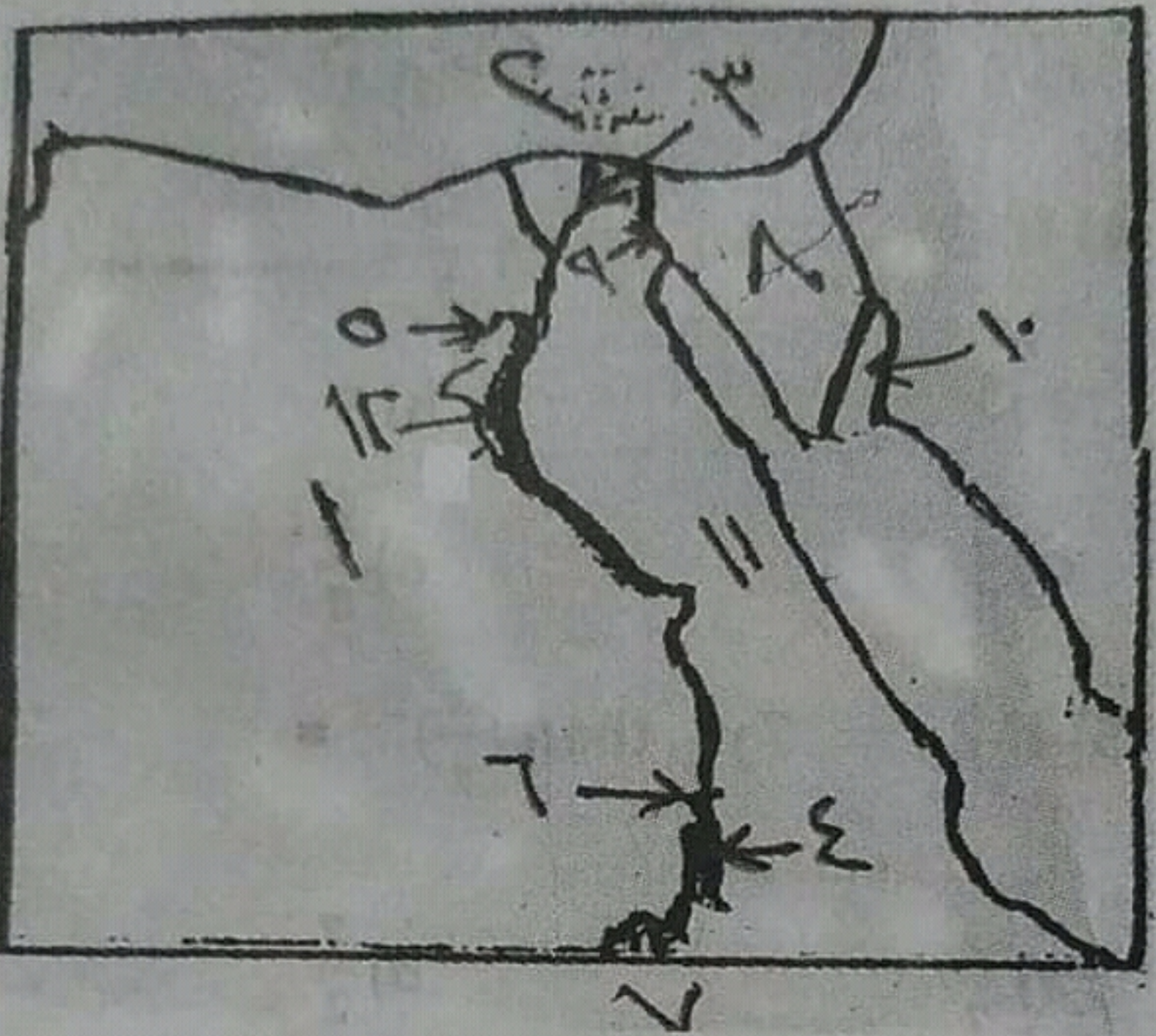
١١- بحيرة ١. ماريوط

١٢- شبه جزيرة ... ١. سيناء

أولاً-

المجموعة الأولى-

(أ) أمامك خريطة صماء لمصر اكتب مدلول الأرقام



- ١- الصحراء: ... الغربية
- ٢- البحر: ... المتوسط
- ٣- فرع: ... دمياط
- ٤- بحيرة: ... ناصر
- ٥- منخفض: ... الفيوم
- ٦- السد: ... العالي
- ٧- دولة: ... السودان
- ٨- شبه جزيرة: ... سيناء
- ٩- قناة: ... السويس
- ١٠- خليج: ... العقبة
- ١١- الصحراء: ... الشرقية
- ١٢- ترعة: ... الإبراهيمية

١- تواجه الصناعة في مصر العديد من

المشكلات .

- ارتفاع أسعار المواد الخام ومستلزمات الإنتاج
- نقص الكوادر الفنية.
- التكلفة الزائدة لمصادر الطاقة.
- انخفاض جودة المنتجات الصناعية.
- التهرب الجمركي.

- قلة إقبال أصحاب رؤوس الأموال على الاستثمار الصناعي.

٢- جهود الدولة في حل المشكلات المرتبطة

بالصرف الزراعي البيئة الزراعية.

- إدخال نظم ري حديثة (كالري بالرش والتنقيط).

- إنشاء المصارف الحديثة.

٣- جهود الدولة في حل مشكلات التلوث البيئي

في البيئة الزراعية.

- تشجيع المزارعين على استخدام الأسمدة العضوية كبديل أفضل عن الأسمدة الكيماوية.

٤- جهود الدولة في حل مشكلات تناقص

الأراضي الزراعية .

- سن القوانين التي تجرم تجريف التربة.
- تشجيع المزارعين على التوسع الأفقي والرأسي للأراضي الزراعية.

إجابة المجموعة الثامنة :

س : صوب ما تحته خط :

١- المواد الخام.

٢- خليج القطن.

٣- الترع.

٤- الأسمدة.

٥- الإسماعيلية.

٦- الصحراوية.

٧- الفيوم.

٨- الفيوم.

٩- الصناعة.

١٠- الجلود.

إجابة المجموعة التاسعة :

س: برهن على صحة العبارات الآتية :

١- تواجه الصناعة في مصر العديد من

المشكلات .

- ارتفاع أسعار المواد الخام ومستلزمات الإنتاج

- نقص الكوادر الفنية.

- التكلفة الزائدة لمصادر الطاقة.

- انخفاض جودة المنتجات الصناعية.

- التهرب الجمركي.

- قلة إقبال أصحاب رؤوس الأموال على

الاستثمار الصناعي.

٢- جهود الدولة في حل المشكلات المرتبطة

- ٧- زيادة عدد السكان - التأثير السلبي على صحة المرأة .
- ٨- أدى ذلك إلى ندرة وجود النبات الطبيعي والحيوان البري في البيئة الزراعية .
- ٩- أدى على ارتفاع معدل التلوث البيئي .
- ١٠ - أصبحت تربته تربة طينية خصبة - أصبح منخفض الفيوم جزءاً من البيئة الزراعية .

إجابة المجموعة السابعة :

س : ما المقصود بكل من :

- ١- الترعَة : قناة مائية يتم حفرها لتوصيل المياه من النهر إلى الأراضي الزراعية .
- ٢- الصناعة : هي تحويل المادة الخام إلى سلع ومنتجات لسد احتياجات السكان .
- ٣- البطالة : يقصد بها عدد الأفراد الذين في سن العمل ولا يعملون .
- ٤- الاستنزاف : الإفراط وسوء استخدام الموارد الطبيعية بشكل يؤدي إلى نفاذها .
- ٥- البيئة الصناعية : هي المناطق التي تقوم فيها الصناعة ويعمل معظم سكانها بالصناعة .

إجابة المجموعة الثامنة :

س : صوب ما تحته خط :

٣- العادات والتقاليد الإيجابية والسلبية لمكان البيئة الزراعية.

العادات السلبية	العادات الإيجابية
- الزواج المبكر للبنات - الحرص على انجاب أكبر عدد من الأطفال خاصة الذكور	- احترام الكبير - التزاور بين الناس - التعاون فيما بينهم - التمسك بالأراضي الزراعية
- تفضيل الذكور على الإناث - استخدام الأطفال في أعمال الزراعة	

٤- العادات والتقاليد الإيجابية والسلبية لمكان البيئة الصناعية.

العادات السلبية	العادات الإيجابية
- التخزين داخل المصنع - ترك المخلفات الصناعية دون معالجتها	- التعاون بين العاملين - الانتظام في العمل - احترام المواعيد

٥- الصناعات اليدوية والبسيطة والحديثة.

الحديثة	البسيطة	اليدوية
تعتمد على الات الحديثة ويقل فيها الاعتماد على العمالة البشرية مثل صناعة	تتم في المناطق التي يتوافر فيها المواد الخام لذلك يتم تحويلها إلى صورة أخرى لتقليل حجمها أو وزنها بهدف الإستهلاك	صناعات تعتمد على العمل اليدوي وتحتاج إلى رأس مال قليل مثل حفر الخشب والسجاد

٥- الصناعات اليدوية والبسيطة والحديثة.

اليديوية	البسيطة	الحديثة
صناعات تعتمد على العمل اليدوي وتحتاج إلى رأس مال قليل مثل حفر الخشب والسجاد اليديوي والفخار	تتم في المناطق التي يتوافر فيها المواد الخام لذلك يتم تحويلها إلى صورة أخرى لتقليل حجمها أو وزنها بهدف الإستهلاك المحلي أو التصدير للخارج وتحتاج إلى عدد كبير من العمال	تعتمد على الالات الحديثة ويقل فيها الاعتماد على العمالة البشرية مثل صناعة الالات والسيارات والاجهزة الكهربائية
	مثل حلج القطن حفظ وتعليب الفاكهة وتصنيع الجلود	والكمبيوتر

اجابة المجموعة السادسة:

س : ما النتائج المترتبة على ..؟

- ١- استنزاف الموارد الطبيعية.
- ٢- تلوث الهواء .
- ٣- ادى إلى قيام الزراعة على الساحل الشمالي
في فصل الشتاء.
- ٤- لا تصلح الزراعة في الأطراف الشمالية للدلتا.
- ٥- قيام الزراعة في الواحات.
- ٦- تناقص مساحة الأراضي الزراعية.

٤- الغذائية.

٥- مصادر الطاقة - المناطق السكنية .

٦- البحر المتوسط.

٧- قصب السكر .

٨- الآبار والعيون.

٩- الأيدي العاملة.

١٠- الاستنزاف.

إجابة المجموعة الثالثة :

س : ضع كلمة (صح) أمام العبارة الصحيحة ،

وكلمة (خطأ) أمام العبارات الخاطئة :

١- خطأ ٢- خطأ ٣- خطأ ٤- صح

٥- خطأ ٦- صح ٧- خطأ ٨- خطأ

إجابة المجموعة الرابعة:

س : بم تفسر ..؟

١- بسبب كثافة النشاط الزراعي الذي يمارسه

الإنسان منذ آلاف السنين.

٢- بسبب الهجرة المستمرة من الريف إلى البيئة

الصناعية.

٣- بسبب وجود مناطق تضم معالم سياحية مثل

بحيرة قارون وعين السيليين في الفيوم وآثار

تل بسطة بالشرقية ومنطقة النوبة.

٤- لمنع الغبار المنبعث مثل مصانع الأسمنت.

٥- بسبب إلقاء مخلفات المصانع السائلة في

المجاري المائية ونهر النيل .

٦- لتخريج عمالة فنية مدربة.

٧- بسبب ضيق مساحة الأرض الزراعية.

٨- لامتناس الغازات الضارة.

اجابة المجموعة الخامسة:

س: قارن بين :

١- السوق المحلية والسوق الخارجية .

السوق الخارجية	السوق المحلية
طلبات الدول الأخرى للمنتجات الصناعية المصرية مثل الدول العربية والدول الاجنبية	طلب السكان المحليين للمنتجات الصناعية.

٢- المقومات الطبيعية والبشرية اللازمة لقيام
الصناعة .

المقومات البشرية	المقومات الطبيعية
- الموقع الجغرافي	- الأيدي العاملة
- الظروف المناخية	- والخبرة الفنية
- المواد الخام	- رأس المال
- مصادر الطاقة	- النقل والمواصلات
	- السوق

٣- العادات والتقاليد الإيجابية والسلبية لسكان
البيئة الزراعية.

العادات السلبية	العادات الإيجابية
- الزواج المبكر للإناث	- احترام الكبير
- الحرص على انجاب أكبر عدد من	- التزاور بين الناس
	- التعاون فيما بينهم
	- التمسك بالأراضي

٧- أقرب المنخفضات الصحراوية لوادي النيل
منخفض القطارة.

٨- عين السيليين من المعالم السياحية في
محافظة الغربية.

٩- نقص الكوارد الفنية من المشكلات التي تواجه
الزراعة في مصر .

١٠- من المواد الخام الحيوانية الحديد.

المجموعة التاسعة :

س : برهن على صحة العبارات الآتية :

١- تواجه الصناعة في مصر العديد من
المشكلات .

٢- جهود الدولة في حل المشكلات المرتبطة
بالصرف الزراعي البيئة الزراعية.

٣- جهود الدولة في حل مشكلات التلوث البيئي
في البيئة الزراعية.

٤- جهود الدولة في حل مشكلات تناقص
الأراضي الزراعية

اجابة الجغرافيا :

اجابة المجموعة الاولى :

(أ) أمامك خريطة صماء لمصر ، اكتب ما تدل
عليه الأرقام :

- ١- السويس
- ٢- ناصر
- ٣- الغربية
- ٤- الأحمر
- ٥- النوبارية
- ٦- أسيوط
- ٧- الإسكندرية
- ٨- العالي
- ٩- الدلتا
- ١٠- نجع حمادي

(ب) اكتب ما تشير إليه كل عبارة مما يأتي:

اجابة الجغرافيا :

اجابة المجموعة الأولى :

(أ) أمامك خريطة صمام لمصر ، اكتب ما تدل عليه الأرقام :

- ١- السويس
- ٢- ناصر
- ٣- الغربية
- ٤- الأحمر
- ٥- النوبارية
- ٦- أسيوط
- ٧- الإسكندرية
- ٨- العالي
- ٩- الدلتا
- ١٠- نجع حمادي

(ب) اكتب ما تشير إليه كل عبارة مما يأتي:

- ١- العشوائيات
- ٢- النشاط الزراعي
- ٣- الصناعة
- ٤- وزارة البيئة
- ٥- السهل الفيضي
- ٦- ترعة
- ٧- صناعات حديثة
- ٨- البطالة
- ٩- المصرف
- ١٠- تجريف التربة

اجابة المجموعة الثانية :

س: أكمل العبارات الآتية :

- ١- تنوع الثروات الطبيعية ، تنوع الإنتاج الاقتصادي.
- ٢- الدلتا
- ٣- الأسمدة ، الآلات الزراعية .
- ٤- الغذائية.
- ٥- مصادر الطاقة - المناطق السكنية .
- ٦- البحر المتوسط.
- ٧- قصب السكر .
- ٨- الآبار والعيون.
- ٩- الأيدي العاملة.
- ١٠- الاستنزاف.

اجابة المجموعة الثالثة :

س: ضع كلمة (صح) أمام العبارة الصحيحة ،

وكلمة (خطأ) أمام العبارات الخاطئة :

- ١- خطأ
- ٢- خطأ
- ٣- خطأ
- ٤- صح
- ٥- خطأ
- ٦- صح
- ٧- خطأ
- ٨- خطأ

المجموعة الخامسة :

من : قارن بين :

- ١- السوق المحلية والسوق الخارجية .
- ٢- المقومات الطبيعية والبشرية اللازمة لقيام الصناعة .
- ٣- العادات والتقاليد الإيجابية والسلبية لسكان البيئة الزراعية.
- ٤- العادات والتقاليد الإيجابية والسلبية لسكان البيئة الصناعية.
- ٥- الصناعات اليدوية والبسيطة والحديثة.

المجموعة السادسة :

من: ما النتائج المترتبة على ..؟

- ١- الاستخدام السيئ للموارد الطبيعية .
- ٢- انبعاث الأبخرة والغازات المتصاعدة من مداخن المصانع .
- ٣- سقوط الأمطار الشتوية على الساحل الشمالي.
- ٤- ملوحة التربة شمال الدلتا .
- ٥- وجود المياه الجوفية في الواحات.
- ٦- الزحف العمراني على الأراضي الزراعية .
- ٧- الزواج المبكر للإناث .
- ٨- كثافة النشاط الزراعي في البيئة الزراعية .
- ٩- استخدام الأسمدة والمبيدات الحشرية بكثرة في تسميد التربة .
- ١٠- اتصال منخفض الفيوم بنهر النيل .

المجموعة السابعة :

من : ما المقصود بكل من :

- ١- التربة .
- ٢- الصناعة.
- ٣- البطالة
- ٤- الأ...

س: ما النتائج المترتبة على ..؟

- ١- الاستخدام السيئ للموارد الطبيعية .
- ٢- انبعاث الأبخرة والغازات المتصاعدة من مداخن المصانع .
- ٣- سقوط الأمطار الشتوية على الساحل الشمالي.
- ٤- ملوحة التربة شمال الدلتا .
- ٥- وجود المياه الجوفية في الواحات.
- ٦- الزحف العمراني على الأراضي الزراعية .
- ٧- الزواج المبكر للإناث .
- ٨- كثافة النشاط الزراعي في البيئة الزراعية .
- ٩- استخدام الأسمدة والمبيدات الحشرية بكثرة في تسميد التربة .
- ١٠- اتصال منخفض الفيوم بنهر النيل .

المجموعة السابعة :

س : ما المقصود بكل من :

- ١- التربة .
- ٢- الصناعة.
- ٣- البطالة
- ٤- الاستنزاف.
- ٥- البيئة الصناعية.

المجموعة الثامنة :

س : صوب ما تحته خط :

- ١- من العوامل الطبيعية لقيام الصناعة السوق.
- ٢- من الصناعات البسيطة صناعة السيارات.
- ٣- القناطر هي قناة يتم حفرها عند منسوب أقل من منسوب الترع والأرض الزراعية .
- ٤- من الصناعات الكيماوية صناعة الرخام.
- ٥- تقع ترعة النويارية في شرق الدلتا .
- ٦- تعدنا البيئة الزراعية بالمعادن.

الزراعية مما يؤدي إلى تدهورها

المجموعة الثانية :

س: أكمل العبارات الآتية :

- ١- أدى تنوع البيئات في مصر إلى تنوع
- ٢- توجد ترعة الإسماعيلية في شرق
- ٣- توفر البيئة الصناعية للبيئة الزراعية
- ٤- صناعة حفظ وتعليب الفاكهة والخضروات من الصناعات
- ٥- عند بناء المصانع يجب أن تكون قريبة من
- ٦- تتخذ دلتا النيل شكل مثلث قاعدته على ساحل البحر
- ٧- من المحاصيل المنتجة للسكر
- ٨- تعتمد الزراعة في مناطق الواحات على مياه
- ٩- من العوامل البشرية لقيام الصناعة
- ١٠- يقصد ب..... الإفراط وسوء استخدام الموارد الطبيعية مما يؤدي إلى نفاذها.

المجموعة الثالثة :

س: ضع كلمة (صح) أمام العبارة الصحيحة ،

وكلمة (خطأ) أمام العبارات الخاطئة :

- ١- من العادات الإيجابية لسكان البيئة الصناعية ترك المخلفات الصناعية دون معالجة . ()
- ٢- توجد حدود فاصلة بين البيئات المصرية ()

- ٣- تعتبر آثار حضارة نل بسطة من أهم المعالم السياحية لمحافظة الفيوم . ()
- ٤- تم تهجير سكان النوبة بعد بناء السد العالي . ()
- ٥- تقوم الزراعة في الساحل الشمالي اعتماداً على مياه نهر النيل. ()
- ٦- من الصناعات البسيطة صناعة حلج القطن. ()
- ٧- يقل استخدام مصادر الطاقة في مجال الصناعة . ()
- ٨- تشجع الدولة المزارعين على استخدام الأسمدة الكيماوية . ()

المجموعة الرابعة :

س : بم تفسر ..؟

- ١- ندرة النباتات الطبيعية في البيئة الزراعية .
- ٢- ظهور الأحياء العشوائية في المدن .
- ٣- تعد البيئة الزراعية مناطق جذب سياحي .
- ٤- تركيب مرشحات على مداخن المصانع .
- ٥- تلوث الماء في المجاري المائية في نهر النيل
- ٦- اهتمام الدولة بالتعليم الفني الصناعي.
- ٧- قلة عدد السكان في وادي النيل عن الدلتا.
- ٨- الإكثار من المساحات الخضراء في البيئة الصناعية .

المجموعة الخامسة :

س : قارن بين :

- ١- السوق المحلية والسوق الخارجية .

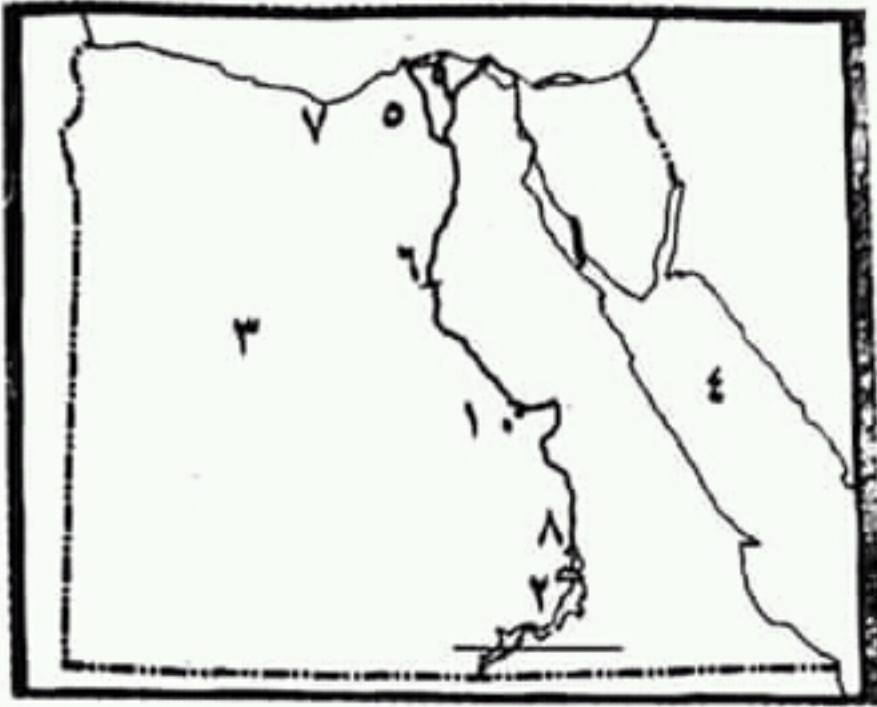
الفصل الدراسي الاول

أولاً : الجغرافيا

المجموعة الأولى :

(أ) أمامك خريطة صماء لمصر ، اكتب ما تدل

عليه الأرقام :



١- خليج .. البحر الأحمر ..

٢- بحيرة .. ناصر ..

٣- الصحراء .. الغربية ..

٤- البحر .. الأحمر ..

٥- ترعة .. البهاري ..

٦- قناطر .. أسوان ..

٧- من المحافظات الحضرية .. الإسكندرية ..

٨- السد .. العالي ..

٩- منطقة زراعية فيضية .. الدلتا ..

١٠- قناطر .. نجع حمادي ..

(ب) : اكتب ما تشير إليه كل عبارة مما يأتي:

١- المناطق التي بنيت بدون تخطيط من الدولة

وعادة ما تظهر حول أطراف المدن ..

٢- زراعة الأرض وإنتاج المحاصيل وتربية

الحيوانات والدواجن ..

٣- تحويل المادة الخام إلى سلع ومنتجات ..

٤- تحويل المواد الخام إلى سلع ومنتجات ..

٥- تحويل المواد الخام إلى سلع ومنتجات ..

٦- تحويل المواد الخام إلى سلع ومنتجات ..

(ب) : اكتب ما تشير إليه كل عبارة مما يأتي:

- ١- المناطق التي بنيت بدون تخطيط من الدولة وعادة ما تظهر حول أطراف المدن.....
- ٢- زراعة الأرض وإنتاج المحاصيل وتربية الحيوانات والدواجن.....
- ٣- تحويل المادة الخام إلى سلع ومنتجات.....
- ٤- وزارة أنشئت لإصدار القوانين والتشريعات لحماية البيئة.....
- ٥- سهل يتكون من ترسيب التربة الطينية التي ينقلها نهر النيل من منابعه.....
- ٦- قناة مائية يتم حفرها لتوصيل المياه من النهر إلى الأراضي الزراعية.....
- ٧- صناعات تعتمد على الآلات الحديثة ويقبل فيها الاعتماد على العمالة البشرية.....
- ٨- الأفراد الذين في سن العمل ولا يعملون.....
- ٩- قناة يتم حفرها عند منسوب أقل من منسوب الترعرع لصرف المياه الزائدة على الزراعة.....
- ١٠- إزالة الطبقة السطحية من تربة الأراضي الزراعية مما يؤدي إلى تدهورها.....

المجموعة الثانية :

س: أكمل العبارات الآتية :

- ١- أدى تنوع البيئات في مصر إلى تنوع.....
- ٢- توجد ترعة الإسماعيلية في شرق.....
- ٣- توفر البيئة الصناعية للبيئة الزراعية.....
- ٤- صناعة حفظ وتعليب الفاكهة والخضروات من.....

١٦- اقام امير اطورية مصرية امتدت إلي مديرية خط الاستواء.

١٧- ترحيل أمهر الصناع والحرفيين إلي الاستانة.

المجموعة الخامسة

بم تفسر:

١- هزيمة القوات المملوكية أمام القوات العثمانية في عامي ١٥١٦م، ١٥١٧م.

٢- تدهور الحياة الفنية أثناء الحكم العثماني.

٣- اخفاء وتكتم الفرنسيين علي إعداد الحملة الفرنسية علي مصر.

٤- مجئ الحملة الفرنسية علي مصر.

٥- فشل حملة نابليون علي الشام في تحقيق أهدافها.

٦- كانت النتائج العلمية للحملة الفرنسية من أبرز نتائجها.

٧- قيام كليبر بعد ثورة القاهرة الثانية ببعض الإصلاحات.

٨- الصدام بين محمد علي والدول الأوروبية والاستعمارية.

٩- السياسة الاقتصادية التي رسمها محمد علي في مصر.

١٠- اهتمام محمد علي بإقامة العديد من المصانع.

إجابة التاريخ

إجابة المجموعة الأولى:

- ١- الديوان ٢- الوالي ٣- (١٧٩٨م) ٤- المماليك ٥- محمد كريم ٦- الانجليزي ٧- (١٨٠١م) ٨- الكتابة المصرية القديمة ٩- المماليك ١٠- العريش ١١- دمياط ١٢- فريزر ١٣- القلعة ١٤- الانجليز ١٥- القاهرة ١٦- الفرنسي ١٧- الوجه القبلي ١٨- سبع ١٩- سليم الأول ٢٠- العثمانية ٢١- مرج دابق ٢٢- محمد الثاني ٢٣- الضرائب ٢٤- الديوان ٢٥- مستعمرة ٢٦- طولون ٢٧- محمد كريم ٢٨- الإنجليزي ٢٩- (١٨٠٥م) ٣٠- مذبحة القلعة.

إجابة المجموعة الثانية:

- ١- الرسامين والصناع ٢- الديني ٣- استبدادي ٤- أبي قير البحرية ٥- طولون ٦- محمد كريم ٧- نابليون ٨- الاتراك ٩- بولاق ١٠- العريش ١١- أبي قير البرية ١٢- طوسون ١٣- ثلاث ١٤- فريزر ١٥- (١٨٠٥م) ١٦- القناطر الخيرية ١٧- الوجه القبلي ١٨- محمد علي ١٩- البعثات ٢٠- (١٦) ٢١- طريق رأس الرجاء الصالح ٢٢- المماليك ٢٣- القسطنطينية ٢٤- الهند ٢٥- الإنجليزي ٢٦- الأمير العثماني ابن أرطغرل ٢٧- (١٨٠١م)

٢٨- إنجلترا ٢٩- الديوان ٣٠- القلعة ٣١- محمد علي

إجابة المجموعة الرابعة:

- ١- محمد الثاني ٢- سليم الأول ٣- الأمير عثمان ٤- سليم الأول ٥- نابليون بوناپرت ٦- نلسون ٧- كليبر ٨- كليبر ٩- كليبر ١٠- مينوا ١١- فريزر ١٢- محمد علي ١٣- محمد علي ١٤- محمد علي ١٥- محمد علي ١٦- الخديو إسماعيل ١٧- سليم الأول

إجابة المجموعة الثانية:

- ١- الرسامين والصناع ٢- الديني ٣- استبدادي ٤- أبي قير
- البحرية ٥- طولون ٦- محمد كريم ٧- نابليون ٨- الاتراك ٩-
- بولاق ١٠- العريش ١١- أبي قير البرية ١٢- طوسون ١٣- ثلاث
- ١٤- فريزرز ١٥- (١٨٠٥) م ١٦- القناطر الخيرية ١٧- الوجه
- القبلي ١٨- محمد علي ١٩- البعثات ٢٠- (١٦) ٢١- طريق
- رأس الرجاء الصالح ٢٢- الممالك ٢٣- القسطنطينية ٢٤-
- الهند ٢٥- الإنجليزي ٢٦- الأمير العثماني ابن أرطغرل ٢٧-
- (١٨٠١ م)

- ٢٨-- انجلترا ٢٩- الديوان ٣٠- القلعة ٣١- محمد علي

إجابة المجموعة الرابعة:

- ١- محمد الثاني ٢- سليم الأول ٣- الأمير عثمان ٤- سليم الأول
- ٥- نابليون بونابرت ٦- نلسون ٧- كليبر ٨- كليبر ٩- كليبر ١٠-
- مينو ١١- فريزرز ١٢- محمد علي ١٣- محمد علي ١٤- محمد
- علي ١٥- محمد علي ١٦- الخديو إسماعيل ١٧- سليم الأول.

إجابة المجموعة الخامسة:

- ١- عدم الاستقرار الداخلي وخيانة بعض أمراء الممالك
- والتدهور الاقتصادي والنظم الحربية التقليدية.
- ٢- بسبب ترحيل أمهر الصناع والحرفيين إلى الاستانة.
- والاستيلاء علي كثير من التحف الثمينة والمخطوطات النادرة.
- ٣- بسبب الخوف من تسرب أخبارها إلى انجلترا وحتى لا
- تعرض الحملة لمهاجمة الأسطول الإنجليزي الذي كان يراقب
- الملاحة في البحر المتوسط.
- ٤- لتهديد مصالح إنجلترا في الشرق بقطع الطريق بين
- انجلترا ومستعمراتها في الهند. وتعويض فرنسا عن
- إمبراطوريتها التي فقدتها في حروبها مع انجلترا.
- ٥- لقوة أسوار وبسالة أهل عكا وتقشي مرض الطاعون بين
- الجنود الفرنسيين.
- ٦- اكتشاف حجر رشيد وفك رموز اللغة المصرية القديمة.
- إنشاء المجمع العلمي المصري وتأليف كتاب وصف مصر.
- ٧- لكي يلبي طلبات الجيش الفرنسي ومنها إنشاء حصون
- القاهرة والإسكندرية.
- ٨- بسبب سياسة محمد علي وتوسعاته الخارجية.
- ٩- لتحقيق الاستقلال السياسي لمصر.
- ١٠- لسد حاجة الجيش من الملابس والأسلحة.

التسوق الفرنسي شمال يعتدي به.

(إسماعيل - محمد علي - توفيق - سعيد باشا).

١٩- اهتم (محمد علي) بالتعليم فأرسل إلى الخارج.
(الحمولات - البعثات - الصناعات - الحامية).

٢٠- اتجه السلطان سليم الأول في غزواته نحو المشرق العربي
مع بداية القرن

(١٤ - ١٥ - ١٦ - ١٧)

٢١- تدهورت دولة المماليك اقتصادياً بعد

(طريق رأس الرجاء الصالح - معركة ديو - معركة الريدانية -
حفر قناة السويس)

٢٢- كان يتم جلبهم بواسطة التجار ويشترهم السلاطين

.....

(السناجق - الحرفيون - المماليك - الملتزمون)

٢٣- قام محمد الفاتح عام ١٤٥٣ بفتح مدينة

(عكا - القسطنطينية - الإسكندرية - قولة)

٢٤- أرادت الحملة الفرنسية من احتلالها لمصر قطع الطريق
بين إنجلترا ومستعمراتها في

(الصين - استراليا - الهند - الخليج العربي)

٢٥- تكتمت فرنسا أمر الحملة حتى لا تتعرض لها جمة
الأسطول

(البرتغالي - العثماني - المملوكي - الإنجليزي)

٢٦- ينسب إليه تأسيس الدولة العثمانية

(سليم الأول - محمد الفاتح - محمد علي - الأمير عثمان ابن
أرطغرل)

٢٧- تم جلاء الحملة الفرنسية عن مصر عام

(١٧٩٨م - ١٧٩٩م - ١٨٠٠م - ١٨٠١م)

٢٨- لفتت الحملة الفرنسية أنظار العالم لمصر وموقعها خاصة
.....

(إيطاليا - إسبانيا - ألمانيا - إنجلترا)

٢٩- سلطة مراقبة الوالي العثماني كان يقوم بها

(الإنجليز - المصريين - الماليك - الأتراك).

٩- انطلقت ثورة القاهرة الثانية من حي

(بولاق - الأزهر - المطرية - إمبابة).

١٠- عقدت اتفاقية في يناير ١٨٠٠م بين الأتراك والفرنسيين تسمى

(لندن - العريش - رفح - القسطنطينية).

١١- انتصر نابليون علي العثمانيين في معركة

(أبي قير البحرية - أبي قير البرية - ديو البحرية - مرج دابق).

١٢- تولي القيادة العامة لحملة الحجاز عام ١٨١١م باشا.
(طوسون - إبراهيم - خسرو - طاهر).

١٣- تصارع علي حكم مصر بعد جلاء الحملة الفرنسية
قوي بجانب الشعب المصري.
(ثلاث - أربع - خمس - سبع).

١٤- تولي قيادة الحملة الإنجليزية علي رشيد عام ١٨٠٧م
القائد

(مينو - كليبر - فريزر - نيلسون).

١٥- تولي (محمد علي) حكم مصر عام

(١٨٠١م - ١٨٠٥م - ١٥١٨م - ١٥٠٨م).

١٦- اهتم (محمد علي) بمشروعات الري فأنشأ

(السد العالي - خزان أسوان - القناطر الخيرية - ترعة الإسماعيلية).

١٧- اقام (محمد علي) معامل تكرير السكر في

(الوجه البحري - الوادي الجديد - الوجه القبلي - شبه جزيرة سيناء).

١٨- رسم سياسة مصر الداخلية والخارجية لبنائها علي
النسق الفرنسي كمثال يحتذي به.

(إسماعيل - محمد علي - توفيق - سعيد باشا).

١٩- اهتم (محمد علي) بالتعليم فأرسل إلي الخارج.

(الحمولات - البعثات - الصناع - الحامية).

٢٠- اتجه السلطان سليم الأول في غزواته نحو المشرق العربي
مع بداية القرن

(١٤ - ١٥ - ١٦ - ١٧)

٢١- تدهورت دولة الماليك اقتصادياً بعد

(طريق رأس الرجاء الصالح - معركة ديو - معركة الريدانية -
حفر قناة السويس)

٢٢- كان يتم جلبهم بواسطة التجار ويشتريهم السلاطين
.....

(السناجق - العرفيون - الماليك - الملتزمون)

٢٣- قام محمد الفاتح عام ١٤٥٣م بفتح مدينة

(عكا - القسطنطينية - الإسكندرية - قولة)

٢٤- أرادت الحملة الفرنسية من احتلالها لمصر قطع الطريق
بين إنجلترا ومستعمراتها في

(الصين - استراليا - الهند - الخليج العربي)

٢٥- تكتمت فرنسا أمر الحملة حتي لا تتعرض لها
الأسطول

البلاد.

٢٤- يتكون من كبار الضباط والموظفين والعلماء ويراقب

الوالي.

٢٥- الإقليم الذي يحكمه أجنبي ويتوطنه ويستغله يسمى

٢٦- ابحرت الحملة الفرنسية من ميناء واستولت علي

جزيرة مالطة.

٢٧- أول من تزعم المقاومة ضد الحملة الفرنسية كان السيد

.....

٢٨- تحطيم الاسطول الفرنسي في موقعة أبي قير البحرية

بواسطة الاسطول

٢٩- تم تعيين (محمد علي) والياً علي مصر عام

٣٠- تخلص (محمد علي) من المماليك في

المجموعة الثانية،

اختر الإجابة الصحيحة من بين الأقواس،

١- قام السلطان سليم الأول بترحيل أمهر

(العلماء - الفلاحين - الرسامين والصناع - التجار)

٢- اقتصر التعليم في مصر في العصر العثماني علي العلوم

.....

(الديني - العلمي - الثقافي - الفني)

٣- كانت الحياة الاجتماعية في مصر زمن العثمانيين قائمة

علي النظام

(الديمقراطي - الديكتاتوري - الطبقة - استبدادي)

٤- تحطم الاسطول الفرنسي في موقعة

(ديو البحرية - أبي قير البحرية - أبي قير البرية -

شبراخيت).

٥- ابحرت الحملة الفرنسية سراً إلي مصر من ميناء

(مرسيليا - طولون - جنوة - ليون).

٦- نجح الفرنسيون في احتلال مدينة الإسكندرية في يوليو

١٧٩٨م بعد مقاومة حاكمها

(محمد كريم - الشيخ السادات - عبد الله الشرقاوي - عمر

مكرم).

٧- قاد الحملة الفرنسية علي مصر القائد

(مينو - كليبر - نابليون - نلسون).

٨- تم عقد اتفاقية العريش ١٨٠٠م بين القائد الفرنسي كليبر

و

(الإنجليز - المصريين - المماليك - الأتراك).

٩- انطلقت ثورة القاهرة الثانية من حي

(بولاق - الأزهر - المطرية - إمبابة).

١٠- عقدت اتفاقية في يناير ١٨٠٠م بين الأتراك والفرنسيين

تسمى

(لندن - العريش - رفح - القسطنطينية).

١١- انتصر نابليون علي العثمانيين في معركة

(أبي قير البحرية - أبي قير البرية - ديو البحرية - مرج

دابق).

(الديوان - الحامية العثمانية - الباشا - السلطان)

٣٠- الوالي هونائب السلطان العثماني ومقره

(القلعة - إمبابة - العريش - المقطم)

٣١- اختار الشعب المصري ليكون والياً علي مصر عام

١٨٠٧م.

(عمر مكرم - خسرو باشا - طاهر باشا - محمد علي)

المجموعة الرابعة:

لن تنسب الأعمال:

١- سلطان عثماني قام بفتح القسطنطينية عامة الدولة

البيزنطية عام ١٤٥٢م.

٢- انتصر علي المماليك في موقعة مرج دابق.

٣- مؤسس الدولة العثمانية أواخر القرن الثالث عشر الميلادي.

٤- نجح في اخضاع مصر للسيادة العثمانية ١٥١٧م.

٥- قائد الحملة الفرنسية علي مصر عام ١٧٩٨م.

٦- قائد الأسطول الإنجليزي الذي استطاع تدمير معظم

الاسطول الفرنسي في موقعة أبي قير البحرية.

٧- أمر بتدمير حي بولاق بالمدافع وفرض الضرائب والأتاوات.

٨- عقد اتفاقية العريش مع الاتراك في يناير ١٨٠٠م.

٩- تفاوض مع الاتراك العثمانيين للخروج بالحملة الفرنسية

من مصر عام ١٨٠٠م.

١٠- قاد الحملة الفرنسية بعد مقتل كليبر.

١١- قائد الحملة الإنجليزية علي مصر عام ١٨٠٧م.

١٢- دبر مكيده للقضاء علي المماليك في مذبحه القلعة

١٨١١م.

١٣- اقامة مشروع القناطر الخيرية.

١٤- انشأ أول ترسانة لبناء السفن في الإسكندرية.

١٥- اهتم بمشروعات الري ومنها ترعة المحمودية.

١٦- اقام امير اطورية مصرية امتدت إلي مديرية خط

الاستواء.

١٧- ترحيل أمهر الصناع والحرفيين إلي الاستانة.

المجموعة الخامسة

بم تفسر:

١- هزيمة القوات المملوكية أمام القوات العثمانية في عامي

١٥١٦م، ١٥١٧م.

٢- تدهور الحياة الفنية أثناء الحكم العثماني.

٣- اخفاء وتكتم الفرنسيين علي إعداد الحملة الفرنسية علي

- ١٣- التربة ١٤- المتوسط ١٥- احترام الكبير ١٦- النشاط الزراعي ١٧- الدلتا ١٨- القاهرة ١٩- الصناعة ٢٠- الأيدي العاملة ٢١- منجنيز ٢٢- التدخين داخل المصانع ٢٣- غذائية ٢٤- الكيمائية ٢٥- الأدوية ٢٦- حلج القطن ٢٧- البنجر ٢٨- الفخار ٢٩- الفيوم.

إجابة المجموعة الرابعة:

- ١- توفير فرص العمل وتقليل البطالة، توفير المنتجات لسد حاجة السكان.
- ٢- تمدها بالغذاء والمواد الخام الزراعية والأيدي العاملة.
- ٣- بسبب الغازات والأدخنة المتصاعدة من مداخن المصانع.
- ٤- بسبب الغازات والأدخنة المتصاعدة من مداخن المصانع.
- ٥- لحماية البيئة من الأخطار.
- ٦- لتخريج عمالة فنية ماهرة مدربة.
- ٧- لأنها تعتمد علي الآلات الحديثة.
- ٨- لتطوير الصناعة وزيادة التصدير وتوفير فرص عمل.
- ٩- تقوم عليها الزراعة.

ثانياً، التاريخ

المجموعة الأولى، أكمل العبارات الآتية:

- ١- هيئات الحكم العثماني في مصر من الحامية العثمانية والوالي و..... و.....
- ٢- كان الاشراف علي تنفيذ القرارات من مهام
- ٣- وصلت الحملة الفرنسية ميناء الإسكندرية في يوليو عام
- ٤- من الأسباب الظاهرة للحملة الفرنسية علي مصر تأديب
- ٥- استطاع الفرنسيون دخول الإسكندرية بعد مقاومة من أهلها بزعامة السيد
- ٦- تكتمت الحكومة الفرنسية أمر الحملة حتي لا تتعرض لمهاجمة الاسطول
- ٧- رحلت الحملة الفرنسية عن مصر في سبتمبر عام
- ٨- اكتشاف حجر رشيد ساعد علي فك رموز
- ٩- من النتائج الحربية للحملة الفرنسية اضعاف قوي ونفوذ
- ١٠- كانت اتفاقية يناير ١٨٠٠م بين كليبر والاتراك.
- ١١- نفي (محمد علي) السيد عمر مكرم إلي مدينة
- ١٢- ارسلت انجلترا حملة لاحتلال مصر عام ١٨١١م بقيادة
- ١٣- دبر (محمد علي) مذبحة عام ١٨١١م للتخلص من الماليك.
- ١٤- تصارعت ثلاث قوي علي الانفراد بحكم مصر بعد خروج الفرنسيين وهم العثمانيون - الماليك -
- ١٥- كان مقر الحكومة المركزية في عهد محمد علي مدينة
- ١٦- اهتم محمد علي ببناء مصر الحديثة علي النسق
- ١٧- اقام محمد علي معامل السكر في
- ١٨- اهتم محمد علي بتنظيم الإدارة فقسم البلاد إلي

ثانياً، التاريخ

المجموعة الأولى، أكمل العبارات الآتية:

- ١- هيئات الحكم العثماني في مصر من الحامية العثمانية والوالي و..... و.....
- ٢- كان الاشراف علي تنفيذ القرارات من مهام
- ٣- وصلت الحملة الفرنسية ميناء الإسكندرية في يوليو عام
- ٤- من الأسباب الظاهرة للحملة الفرنسية علي مصر تأديب
- ٥- استطاع الفرنسيون دخول الإسكندرية بعد مقاومة من أهلها بزعامة السيد
- ٦- تكتمت الحكومة الفرنسية أمر الحملة حتي لا تتعرض لمهاجمة الاسطول
- ٧- رحلت الحملة الفرنسية عن مصر في سبتمبر عام
- ٨- اكتشاف حجر رشيد ساعد علي فك رموز
- ٩- من النتائج الحربية للحملة الفرنسية اضعاف قوي ونفوذ
- ١٠- كانت اتفاقية يناير ١٨٠٠ م بين كليبر والاتراك.
- ١١- نفي (محمد علي) السيد عمر مكرم إلي مدينة
- ١٢- ارسلت انجلترا حملة لاحتلال مصر عام ١٨١١ م بقيادة
- ١٣- دبر (محمد علي) مذبحة عام ١٨١١ م للتخلص من الماليك.
- ١٤- تصارعت ثلاث قوي علي الانفراد بحكم مصر بعد خروج الفرنسيين وهم العثمانيون - الماليك -
- ١٥- كان مقر الحكومة المركزية في عهد محمد علي مدينة
- ١٦- اهتم محمد علي ببناء مصر الحديثة علي النسق
- ١٧- اقام محمد علي معامل السكر في
- ١٨- اهتم محمد علي بتنظيم الإدارة فقسم البلاد إلي
- مديريات.
- ١٩- اتجه السلطان نحو المشرق العربي.
- ٢٠- الأمير عثمان بن ارفقول مؤسس الدولة
- ٢١- هزم الماليك أمام العثمانيين عام ١٥١٦ م بمعركة
- ٢٢- السلطان العثماني تم في عهده فتح القسطنطينية عام ١٤٥٣ م.
- ٢٣- كان من مهام الوالي العثماني إرسال المفروض علي

- ٨- من خصائص سكان البيئة لصناعية
- (ارتفاع نسبة الأمية - انخفاض مستوى الدخل - ارتفاع نسبة البطالة - مشاركة المرأة في العمل)
- ٩- السجاد اليدوي وحفر الخشب من الصناعات
- (الكيماوية - الهندسية - الغذائية - الحرفية)
- ١٠- تعتبر صناعة الاسمدة والصابون من الصناعات
- (الغذائية - المعدنية - الكيماوية - الهندسية)
- ١١- من الصناعات الحرفية صناعة
- (السيارات - الكمبيوتر - الاسمدة - السجاد اليدوي)
- ١٢- تعتبر صناعة الحديد والصلب من الصناعات
- (المعدنية - الهندسية - الكهربائية - الكيماوية)
- ١٣- القناة المائية التي تحفر لتوصيل مياه نهر النيل للأراضي الزراعية تسمى
- (الترعة - القناطر - السد - المصرف)
- ١٤- تتخذ دلتا النيل شكل مثلث قاعدته علي ساحل البحر
- (يوسف - المتوسط - الأسود - الأحمر)
- ١٥- من العادات الايجابية لسكان البيئة الزراعية
- (الزواج المبكر - احترام الكبير - كثرة الانجاب - تفضيل الذكور)
- ١٦- من الخصائص الاقتصادية لسكان البيئة الزراعية
- (الأمية - النشاط الزراعي - التعاون - انتشار البطالة)
- ١٧- توجد في أكبر نسبة سكان في البيئة الزراعية .
- (الوادي الجديد - الواحات - الدلتا - الصحراء الشرقية)
- ١٨- يتركز السكان في المحافظات الحضرية مثل
- (دمياط - أسوان - القاهرة - مطروح)
- ١٩- تعد وسائل النقل والمواصلات من العوامل الهامة في
- (الرعي - الصناعة - تربية الحيوانات - كل ما سبق)
- ٢٠- من عوامل نجاح الصناعة توافر
- (السياحة - الأيدي العاملة - الأمن - التجارة)
- ٢١- من أمثلة المواد الخام المعدنية
- (اللحوم - الرخام - الكتان - المنجنيز)
- ٢٢- من العادات السلبية للعاملين بالبيئة الصناعية
- (التعاون بين العاملين - التدخين داخل المصنع - احترام مواعيد العمل - النظام)
- ٢٣- تعتبر صناعة وحفظ وتعليب الفاكهة من الصناعات
- (الغذائية - المعدنية - الكيماوية - الهندسية)
- ٢٤- تعد صناعة العطور من صناعة
- (الكيماوية - الكهربائية - المعدنية - الغذائية)
- ٢٥- من الصناعات الكيماوية صناعة
- (الحديد والصلب - السيارات - الأدوية - الثلجات)
- ٢٦- من الصناعات البسيطة صناعة
- (حفر الخشب - حلج القطن - الفخار - الآلات)
- ٢٧- من المحاصيل المنتجة للسكر قصب السكر و
- (الأرز - القمح - القطن - البنجر)
- ٢٨- من الصناعات الحرفية في البيئة الزراعية
- (السيارات - الفخار - الفزل والنسيج - البترولية)
- ٢٩- تتعدد المعالم السياحية في البيئة الزراعية مثل السيلين

بمحافظة

(الشرقية - أسوان - الغربية - الفيوم)

المجموعة الرابعة،

بم تفسر،

- ١- أهمية البيئة الصناعية.
- ٢- أهمية البيئة الزراعية للبيئة الصناعية.
- ٣- تلوث الهواء في المناطق الصناعية.
- ٤- تعاني البيئة الصناعية من مشكلات التلوث البيئي.
- ٥- قيام الدولة بإنشاء وزارة البيئة.
- ٦- اهتمام الدولة بالتعليم الصناعي والفني.
- ٧- الصناعات الحديثة يقل فيها الاعتماد علي العمالة البشرية.
- ٨- اهتمام الدولة بإنشاء مناطق صناعية في مصر.
- ٩- أهمية تربة وادي النيل للنشاط الزراعي في مصر.

إجابة الجغرافيا

إجابة المجموعة الأولى (أ)

- ١- المتوسط ٢- الإسماعيلية ٣- الغربية ٤- العقبة ٥-
- الإبراهيمية ٦- السودان ٧- الأحمر ٨- الفيوم ٩- العالي ١٠-
- الدلتا ١١- ناصر ١٢- سيناء.

إجابة المجموعة الأولى (ب)

- ١- صح ٢- صح ٣- خطأ ٤- خطأ ٥- خطأ ٦- خطأ ٧- صح ٨-
- صح ٩- خطأ ١٠- صح ١١- صح ١٢- صح ١٣- خطأ ١٤- صح
- ١٥- خطأ ١٦- خطأ ١٧- خطأ ١٨- خطأ ١٩- خطأ ٢٠- صح ٢١-
- صح ٢٢- خطأ ٢٣- خطأ ٢٤- خطأ.

إجابة المجموعة الثانية،

- ١- ٥٠٪ ٢- تل بسطة ٣- الفيوم ، الشرقية ٤- الفيوم ٥- تل
- بسطة ٦- المحلي ٧- السكنية ٨- في العمان ٩- المناطق السكنية
- ١٠- المعدنية ١١- السكر ١٢- الغزل والنسيج ١٣- الغذائية ١٤-
- وزارة البيئة ١٥- فلاتر ١٦- الهواء ١٧- استنزاف ١٨- المتوسط
- ١٩- الجوفية ٢٠- (٨٥) ٢١- خصبة، الصلصال
- ٢٢- الكيمائية ٢٣- المعدنية ٢٤- الحرفية ٢٥- الفيوم
- ٢٦- السمكية ٢٧- القطن ٢٨- الإيجابية ٢٩- المدارس.

إجابة المجموعة الثالثة،

- ١- الفيوم ٢- بحيرة قارون ٣- نهر النيل ٤- البيئي ٥- رأس المال
- ٦- المواد الخام ٧- المواد الخام ٨- مشاركة المرأة في العمل
- ٩- الحرفية ١٠- الكيمائية ١١- السجاد اليدوي ١٢- المعدنية
- ١٣- التربة ١٤- المتوسط ١٥- احترام الكبير ١٦- النشاط
- الزراعي ١٧- الدلتا ١٨- القاهرة ١٩- الصناعة ٢٠- الأيدي
- العاملة ٢١- منجنيز ٢٢- التدخين داخل المصانع ٢٣- غذائية
- ٢٤- الكيمائية ٢٥- الأدوية ٢٦- حلج القطن ٢٧- البنجر ٢٨-
- الفخار ٢٩- الفيوم.

إجابة المجموعة الرابعة،

- ١- توفير فرص العمل وتقليل البطالة، توفير المنتجات لسد
- حاجة السكان.

الجاهزة والمفروشات.

١٢- صناعة السكر من الصناعات

١٤- قامت الدولة بإنشاء لإصدار القوانين لحماية البيئة من الاخطار.

١٥- من وسائل علاج مشكلات البيئة الصناعية تركيب علي مداخن المصانع.

١٦- انبعاث الأبخرة والغازات المتصاعدة من مداخن المصانع يؤدي إلي تلوث

١٧- الافراط وسوء استخدام الموارد الطبيعية بشكل يؤدي إلي نفاذها يسمى

١٨- الدلتا تبدو في شكل مثلث كبير متمدد قاعدته علي ساحل البحر

١٩- تعتمد الزراعة في الواحات علي مياه

٢٠- البيئة الزراعية الفيضية تبلغ مساحتها مليون فدان

٢١- تتميز التربة في الوادي والدلتا ومنخفض الفيوم بأنها تربة وذلك لزيادة نسبة

٢٢- تعد صناعة الأدوية والاعطور من الصناعات

٢٣- صناعة الحديد والصلب من الصناعات

٢٤- صناعة السجاد اليدوي من الصناعات

٢٥- تعتبر بحيرة قارون من المعالم السياحية في مصر وتوجد في محافظة

٢٦- لزيادة الإنتاج السمكي تم إنشاء المزارع

٢٧- يعتبر من محاصيل المنسوجات الكتان و.....

٢٨- التعاون في المجتمع الريفي من العادات

٢٩- اهتمت الدولة بزيادة أعداد في الريف من أجل حل مشكلة الأمية.

المجموعة الثالثة:

اختر الإجابة الصحيحة من بين القوسين،

١- عين السيلين من المعالم السياحية في محافظة

(الفيوم - المنيا - الغربية - أسيوط)

٢- من المعالم السياحية في محافظة الفيوم

(عين حلوان - بحيرة ناصر - بحيرة قارون - عيون موسى)

٣- يقوم نشاط صيد الأسماك في البيئة الزراعية في

(البحر الأحمر - البحر المتوسط - نهر النيل - بحيرة المنزلة)

٤- استخدام الأسمدة الكيماوية والمبيدات الحشرية في تسميد

التربة يؤدي إلي التلوث

(السمي - الهوائي - المائي - البيئي)

٥- من العوامل البشرية لقيام الصناعة

(.....)

- ٢٨- التعاون في المجتمع الريفي من
 ٢٩- اهتمت الدولة بزيادة أعداد في الريف من أجل حل مشكلة الأمية

المجموعة الثالثة:

احتر الإجابة الصحيحة من بين القوسين،

- ١- عين السيلين من المعالم السياحية في محافظة
(الفيوم - المنيا - الغربية - أسيوط)
- ٢- من المعالم السياحية في محافظة الفيوم
(عين حلوان - بحيرة ناصر - بحيرة قارون - عيون موسى)
- ٣- يقوم نشاط صيد الأسماك في البيئة الزراعية في
(البحر الأحمر - البحر المتوسط - نهر النيل - بحيرة المنزلة)
- ٤- استخدام الأسمدة الكيماوية والمبيدات الحشرية في تسميد التربة يؤدي إلى التلوث
(السمي - الهوائي - المائي - البيئي)
- ٥- من العوامل البشرية لقيام الصناعة
(مصادر الطاقة - المناخ - رأس المال - المواد الخام)
- ٦- من العوامل الطبيعية لقيام الصناعة
(السوق - رأس المال - وسائل النقل - المواد الخام)
- ٧- توفر البيئة الزراعية للبيئة الصناعية
(الآلات الزراعية - المواد الخام - الأجهزة الكهربائية - المخصبات الكيماوية)
- ٨- من خصائص سكان البيئة الصناعية
(ارتفاع نسبة الأمية - انخفاض مستوى الدخل - ارتفاع نسبة البطالة - مشاركة المرأة في العمل)
- ٩- السجاد اليدوي وحفر الخشب من الصناعات
(الكيماوية - الهندسية - الغذائية - الحرفية)
- ١٠- تعتبر صناعة الاسمدة والصابون من الصناعات
(الغذائية - المعدنية - الكيماوية - الهندسية)
- ١١- من الصناعات الحرفية صناعة
(السيارات - الكمبيوتر - الاسمدة - السجاد اليدوي)
- ١٢- تعتبر صناعة الحديد والصلب من الصناعات
(المعدنية - الهندسية - الكهربائية - الكيماوية)
- ١٣- القناة المائية التي تحفر لتوصيل مياه نهر النيل للأراضي الزراعية تسمى
(الترعة - القناطر - السد - المصرف)
- ١٤- تتخذ دلتا النيل شكل مثلث قاعدته علي ساحل البحر
(يوسف - المتوسط - الأسود - الأحمر)
- ١٥- من العادات الايجابية لسكان البيئة الزراعية
(الزواج المبكر - احترام الكبير - كثرة الانجاب - تفضيل الذكور)
- ١٦- من الخصائص الاقتصادية لسكان البيئة الزراعية
(الأمية - النشاط الزراعي - التعاون - انتشار البطالة)
- ١٧- توجد في أكبر نسبة سكان في البيئة الزراعية.
(الوادي الجديد - الواحات - الدلتا - الصحراء الشرقية)

١٠- منطقة زراعية... الدرليبا.....

١١- بحيرة... بحيرة قارون.....

١٢- شبه جزيرة... شبه جزيرة سيناء.....

المجموعة الأولى (ب)

ضع علامة صح أمام العبارة الصحيحة وعلامة خطأ أمام العبارة الخاطئة:

١- تعتبر محافظة الفيوم من المحافظات الجذب السياحي ()

٢- تضم محافظة الفيوم معالم سياحية منها بحيرة قارون ()

٣- تحتاج الصناعة إلي مواد خام معدنية مثل الفحم ()

٤- تعتبر وسيلة النقل والمواصلات من العوامل الطبيعية لقيام الصناعة ()

٥- من العوامل الطبيعية لقيام الصناعة الخبرة الفنية ()

٦- يتميز سكان البيئة الصناعية بعدم مشاركة المرأة في العمل ()

٧- تنوع الصناعات الحرفية في البيئة الزراعية وفقاً لتنوع الموارد الصناعية ()

٨- تعتبر صناعة السجاد اليدوي من الصناعات الحرفية ()

٩- تعدد الصناعات المعدنية ومنها صناعة السيارات ()

١٠- تعد صناعة الفخار أحد أنواع الصناعات اليدوية ()

١١- التكلفة الزائدة لمصادر الطاقة من مشكلات البيئة الصناعية ()

١٢- تلوث الهواء ينتج بسبب مداخن المصانع ()

١٣- الاهتمام بالتعليم الفني يهدف إلي العمالة غير مدربة ()

١٤- من مشكلات البيئة الصناعية التهرب الجمركي ()

١٥- تقع ترعة الإبراهيمية وسط الدلتا ()

١٦- تتميز الأراضي الزراعية في منخفض الفيوم باستوائها ()

١٧- تتميز أراضي الدلتا بوجود تضاريس مرتفعة بها ()

١٨- تعتمد الزراعة في الساحل الشمالي علي مياه النيل ()

١٩- تعتبر آثار حضارة (تل بسطه) من أهم المعالم السياحية لمحافظة الفيوم ()

٢٠- أشهر الصناعات المنتجة للسكر وقصب السكر ()

٢١- يؤدي الإسراف في استخدام مياه الصرف إلي تدهور التربة ()

٢٢- توجد آثار تل بسطه في محافظة الغربية ()

٢٣- المناخ من العوامل البشرية لقيام الصناعة ()

٢٤- يقل استخدام مصادر الطاقة في مجال الصناعة ()

المجموعة الثانية:

كمل العبارات الآتية:

١- تصل نسبة الامية في الريف إلي% من سكانه.

٢- يزدهر النشاط السياحي في البيئة الزراعية ومنها منطقة آثار بالشرقية.

٣- البيئة الزراعية منطقة جذب سياحي خاصة في محافظة ومحافظة

٤- عين السيلين من المعالم السياحية في مصر وتوجد في محافظة

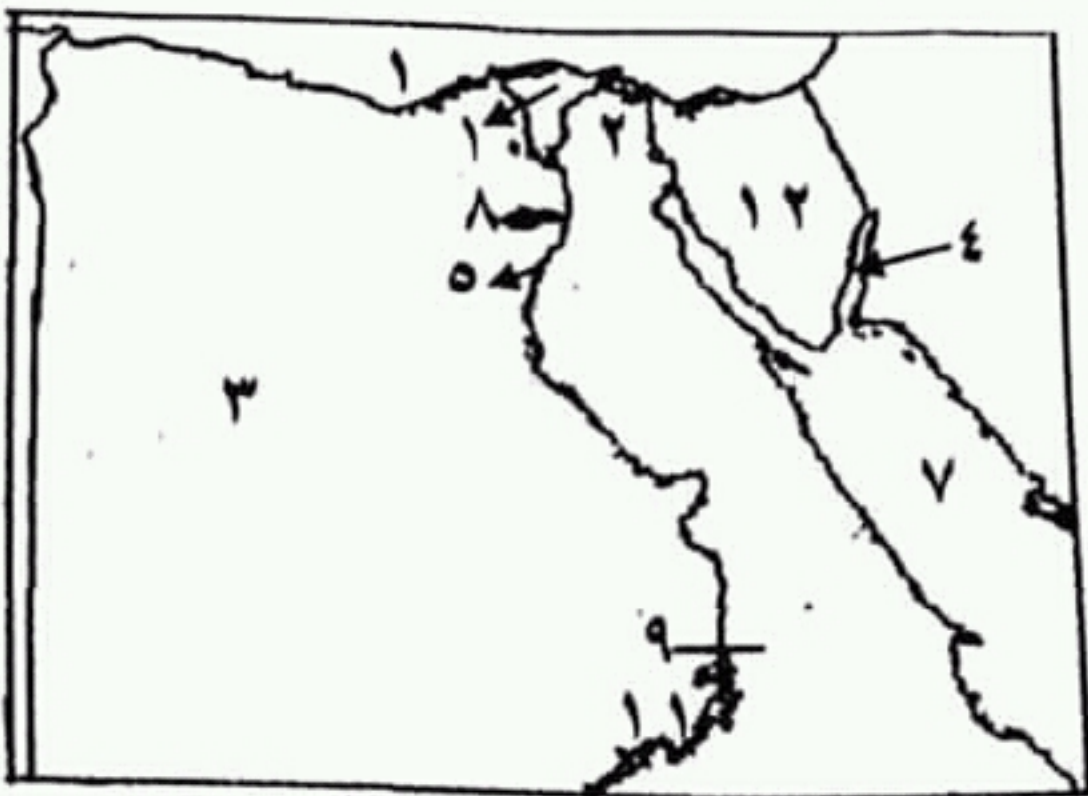
- تعتمد الزراعة في الساحل الشمالي علي مياه النيل ()
- ١٩- تعتبر آثار حضارة (تل بسطه) من أهم المعالم السياحية لمحافظة الفيوم ()
- ٢٠- أشهر الصناعات المنتجة للسكر وقصب السكر ()
- ٢١- يؤدي الإسراف في استخدام مياه الصرف إلي تدهور التربة ()
- ٢٢- توجد آثار تل بسطه في محافظة الغربية ()
- ٢٣- المناخ من العوامل البشرية لقيام الصناعة ()
- ٢٤- يقل استخدام مصادر الطاقة في مجال الصناعة ()

المجموعة الثانية:

كمل العبارات الآتية:

- ١- تصل نسبة الامية في الريف إلي% من سكانه.
- ٢- يزدهر النشاط السياحي في البيئة الزراعية ومنها منطقة آثار بالشرقية.
- ٣- البيئة الزراعية منطقة جذب سياحي خاصة في محافظة ومحافظة
- ٤- عين السيلين من المعالم السياحية في مصر وتوجد في محافظة
- ٥- من المناطق الأثرية بمحافظة الشرقية مناطق آثار
- ٦- طلب السكان المحليين للمنتجات الصناعية المصرية يقصد به السوق
- ٧- يجب بناء المصانع بعيداً عن المناطق
- ٨- من عادات وتقاليد سكان البيئة الصناعية والإيجابية والانتظام في
- ٩- يجب أن تكون المصانع قريبة من مصادر المواد الخام والطاقة وبعيدة عن
- ١٠- تعتبر صناعة الحديد والصلب وصناعة الألمونيوم من الصناعات
- ١١- من أهم الصناعات الغذائية في مصر صناعة
- ومنتجات الألبان.
- ١٢- من أنواع الصناعات صناعة وتقوم عليها الملابس

(أ) أمامك خريطة صماء لمصر أكتب عليها مدلول الأرقام:



- ١- البحر البحر المتوسط
- ٢- ترعة شرق الدلتا .. الترعة الشمالية
- ٣- الصحراء البحر بيضاء
- ٤- خليج العصبية
- ٥- ترعة ... الترعة الشمالية
- ٦- دولة البحر الأحمر
- ٧- البحر البحر الأحمر
- ٨- منخفض الفيوم
- ٩- السد السد العالي
- ١٠- منطقة زراعية ... الدلتا
- ١١- بحيرة بحيرة مريوط
- ١٢- شبه جزيرة ... سيناء

المجموعة الأولى (ب)

ضع علامة صح أمام العبارة الصحيحة وعلامة خطأ أمام العبارة الخاطئة:

- ١- تعتبر محافظة الفيوم من المحافظات الجذب السياحي ()
- ٢- تضم محافظة الفيوم معالم سياحية منها بحيرة قارون ()
- ٣- تحتاج الصناعة إلي مواد خام معدنية مثل الفحم ()
- ٤- تعتبر وسيلة النقل والمواصلات من العوامل الطبيعية لقيام الصناعة ()

- ٥- تدهور الحياة الفنية.
- ٦- اصبحت مصر ولاية عثمانية.
- ٧- اصبحت مصر ولاية عثمانية.
- ٨- الغاء ديوان القاهرة وانشاء ديوان جديد وفرض الضرائب المالية على التجار والعلماء.
- ٩- معرفة اللغة المصرية القديمة ومعرفة أخبار القدماء.
- ١٠- تدهور الحياة الاقتصادية والعلمية والفنية وانتشار المرض والفقر بين المصريين.
- ١١- تدهور الحياة العلمية.
- ١٢- شجاعة وبسالة أهل رشيد وفشل الحملة.
- ١٣- التخلص من المماليك وانفراد محمد علي بحكم مصر.
- ١٤- نجاح المشروعات الإصلاحية الداخلية والخارجية.
- ١٥- الصراع مع اطماع الدول الاستعمارية كانجلترا وفرنسا.
- ١٦- تقلص مشروعات محمد علي الإصلاحية واعادة بلاد الشام والجزيرة العربية إلى الدولة العثمانية وتثبيتته في حكم مصر.

إجابة المجموعة الخامسة

- ١- بسبب اكتشاف طريق رأس الرجاء الصالح.
- ٢- بسبب الموقع الجغرافي والسيطرة على طرق التجارة بين أوروبا والشرق.
- ٣- بسبب ارسال سليم الأول امهر الصناع والحرفيين إلى الامتانة.
- ٤- لقطع الطريق بين انجلترا واكبر مستعمراتها في الهند وتأديب المماليك.
- ٥- لكي يلبي طلبات الجيش الفرنسي وانشاء الحصون بالقاهرة والإسكندرية.
- ٦- بسبب رفض انجلترا لطلبها خروج الفرنسيين كأسرى حرب على السفن الإنجليزية.
- ٧- بسبب تحطم الاسطول الفرنسي في معركة أبوقير.
- ٨- بسبب اقتصار التعليم في الأزهر على علوم الدين وترك العلوم العقلية والعلمية.
- ٩- حتى يحقق الاستقلال السياسي لمصر عن طريق الاكتفاء الذاتي وزيادة موارد الدولة وجعل صادرات الدولة أكبر من واردتها.

اجابة التاريخ-

اجابة المجموعة الاولى-

- ١- صنع ٢- صنع ٣- خطأ ٤- خطأ ٥- صنع
- ٦- صنع ٧- خطأ ٨- صنع ٩- خطأ ١٠- خطأ
- ١١- صنع ١٢- صنع ١٣- خطأ ١٤- خطأ ١٥- صنع
- ١٦- خطأ ١٧- خطأ ١٨- صنع ١٩- صنع ٢٠- خطأ
- ٢١- خطأ ٢٢- صنع ٢٣- صنع ٢٤- صنع

اجابة المجموعة الثانية-

- ١- سليم الأول ٢- العثمانية ٣- مرج دابق ٤- محمد الفاتح ٥- الوالي
- ٦- الضرائب ٧- الديوان ٨- محمد كريم ٩- الإنجليزي ١٠- نلسن
- ١١- الإنجليزي ١٢- أبوقير البحرية ١٣- الوالي ١٤- الوجه القبلى ١٥- سبع ١٦- القلعة ١٧- القناطر الخيرية.

اجابة المجموعة الثالثة-

- ١- طوسون ٢- اكتشاف طريق رأس الرجاء الصالح ٣- الماليك
- ٤- القسطنطينية ٥- الهند ٦- نلسون ٧- الأمير العثماني
- ٨- القسطنطينية ٩- الاتراك ١٠- عكا ١١- الديوان ١٢- القلعة ١٣- ١٨٠٧م ١٤- دمياط ١٥- فريزر
- ١٦- الماليك ١٧- المحمودية ١٨- ١٨٤٠م ١٩- الفرنسي ٢٠- فرنسا

اجابة المجموعة الرابعة-

- ١- اصبحت بلاد الشام تحت الحكم العثماني.
- ٢- أدى إلى هزيمتهم في معركة مرج دابق والريدانية.
- ٣- انهيار دولة الماليك.
- ٤- تدهور الحياة الاقتصادية والعلمية والفنية.
- ٥- تدهور الحياة الفنية.
- ٦- اصبحت مصر ولاية عثمانية.
- ٧- اصبحت مصر ولاية عثمانية.
- ٨- الغاء ديوان القاهرة وانشاء ديوان جديد وفرض الضرائب المالية على التجار والعلماء.
- ٩- معرفة اللغة المصرية القديمة ومعرفة أخبار القدماء.
- ١٠- تدهور الحياة الاقتصادية والعلمية والفنية وانتشار المرض والفقر بين المصريين.
- ١١- تدهور الحياة العلمية.
- ١٢- شجاعة وبسالة أهل رشيد وفشل الحملة.
- ١٣- التخلص من الماليك وانفراد محمد علي بحكم مصر.
- ١٤- نجاح المشروعات الإصلاحية الداخلية والخارجية.
- ١٥- الصراع مع اطماع الدول الاستعمارية كإنجلترا وفرنسا.
- ١٦- تقلص مشروعات محمد علي الإصلاحية واعادة بلاد الشام والجزيرة العربية إلى الدولة العثمانية.

(الإنجليز - المصريين - المماليك - الأتراك).

١٠- فشل الفرنسيون أثناء حملتهم على الشام في فتح
(دمشق - عكا - بيروت - حمص).

١١- سلطة مراقبة الوالى العثمانى كان يقوم بها
(الديوان - الحامية العثمانية - الباشا - السلطان).

١٢- الوالى هو نائب السلطان العثمانى ومقره
(القلعة - امبابة - العريش - المقطم).

١٣- ارسلت بريطانيا حملة إلى مصر بقيادة فريزر فى
مارس عام

(١٨٠٤م - ١٨٠٥م - ١٨٠٦م - ١٨٠٧م).

١٤- تخلص (محمد علي) من الزعامة الشعبية بنفى عمر
مكرم إلى

(قولة - رشيد - شبراخيت - دمياط).

١٥- ظهرت بسالة أهل رشيد فى صد حملة
(نابليون - فريزر - نلسون - كليبير).

١٦- دبر (محمد علي) فى عام ١٨١١م مؤامرة للتخلص
من

(الفرنسيين - الاتراك - الالبانيين - المماليك).

١٧- اهتم (محمد علي) بمشروعات الري وشق الترعة مثل
ترعة

(الإسماعيلية - المحمودية - الإبراهيمية - اسنا).

١٨- فرضت إنجلترا وفرنسا معاهدة لتدن على (محمد
علي) عام

(١٨٢٠م - ١٨٣٠م - ١٨٤٠م - ١٨٦٠م).

١٩- بنى (محمد علي) مصر الحديثة على النسق
(الفرنسى الإنجليزى الايطالى الألماني).

٢٠- اهتم (محمد علي) بالتعليم فأرسل اليعثات للخارج
خاصة

(إنجلترا - فرنسا - ألمانيا - تركيا).

المجموعة الرابعة-

ما النتائج المترتبة علي

- ١- معركة مرج دابق عام ١٥١٦م؟
- ٢- اعتماد المماليك على الفرسان بأسلحتهم التقليدية؟
- ٣- اكتشاف طريق رأس الرجاء الصالح؟
- ٤- الحكم العثماني لمصر؟
- ٥- ترحيل السلطان سليم الأول أمير الصناع والحرفيين المصريين إلى الاستانة؟
- ٦- هزيمة المماليك في معركة امبابه؟
- ٧- موقعة الزيدانية ١٥١٧م.
- ٨- ثورة القاهرة الأولى عام ١٧٩٨م؟
- ٩- اكتشاف حجر رشيد؟
- ١٠- الحكم العثماني لمصر؟
- ١١- اقتصار التعليم في الأزهر على حفظ القرآن الكريم والفقهاء والتشريع؟
- ١٢- حملة فريزر ١٨٠٧م؟
- ١٣- مذبحة القلعة ١٨١١م؟

المجموعة الخامسة-

بم تفسر

- ١- انهيار وضعف الدولة المملوكية؟
- ٢- ازدهار الدولة المملوكية؟
- ٣- تدهور الحياة الفنية أثناء الحكم العثماني؟
- ٤- مجيء الحملة الفرنسية على مصر؟
- ٥- قيام كليبير بعد ثورة القاهرة الثانية ببعض الإصلاحات؟
- ٦- فشل اتفاقية العريش ١٨٠٠م؟
- ٧- فشل الحملة الفرنسية من الوجهة الحربية؟
- ٨- تدهور الحياة الثقافية والعلمية في مصر أثناء الحكم العثماني؟
- ٩- السياسة الاقتصادية التي رسمها محمد علي في مصر؟

إجابة التاريخ-

إجابة المجموعة الأولى-

- ١- صح ٢- صح ٣- خطأ ٤- خطأ ٥- صح
- ٦- صح ٧- خطأ ٨- خطأ ٩- خطأ ١٠- خطأ

المجموعة الثالثة-

اخترا الإجابة الصحيحة من بين الأقواس

- ١- أرسل (محمد علي) على حملة لبلاد الحجاز بقيادة ابنه
- (طوسون - إبراهيم - سعيد - إسماعيل).
- ٢- تدهورت دولة المماليك اقتصادياً بعد
- (اكتشاف طريق رأس الرجاء الصالح - معركة ديو - معركة الريدانية - حفر قناة السويس).
- ٣- كان يتم جلبهم بواسطة التجار ويشتريهم السلاطين
- (السناجق - الحرفيون - المماليك - الملتزمون).
- ٤- قام محمد الفاتح عام ١٤٥٢م بفتح مدينة
- (عكا - القسطنطينية - الإسكندرية - قولة).
- ٥- أرادت الحملة الفرنسية من احتلالها لمصر قطع الطريق بين إنجلترا ومستعمراتها فى
- (الصين - استراليا - الهند - الخليج العربي).
- ٦- قائد الاسطول الإنجليزي فى معركة أبى قير البحرية
- (نلسون - ديزيه - مينو - فريزر).
- ٧- ينسب إليه تأسيس الدولة العثمانية
- (سليم الأول - محمد الفاتح - محمد على - الأمير عثمان بن أرطغرل).
- ٨- قام محمد الفاتح عام ١٤٥٢م بفتح مدينة
- (عكا - القسطنطينية - الإسكندرية - قولة).
- ٩- تم عقد اتفاقية العريش ١٨٠٠م بين القائد الفرنسى كليبيرو
- (الإنجليز - المصريين - المماليك - الأتراك).
- ١٠- فشل الفرنسيون أثناء حملتهم على الشام فى فتح
- (دمشق - عكا - بيروت - حمص).
- ١١- سلطة مراقبة الوالى العثمانى كان يقوم بها
- (الديوان - الحامية العثمانية - الباشا - السلطان).
- ١٢- الوالى هونائب السلطان العثمانى ومقره
- (القلعة - امبابة - العريش - المقطم).
- ١٣- ارسلت بريطانيا حملة إلى مصر بقيادة فريزر فى مارس عام
- (١٨٠٤م - ١٨٠٥م - ١٨٠٦م - ١٨٠٧م).
- ١٤- تخلص (محمد علي) من الزعامة الشعبية بنفى عمر مكرم إلى
- (قولة - رشيد - شبراخيت - دمياط).
- ١٥- ظهرت بسالة أهل رشيد فى صد حملة

رواية بسطوه من البداية

- ٢٠- عزل خورشيد باشا الشيخ عبدالله الشرقاوى من منصبه () .
- ٢١- لم تؤثر معاهدة لندن ١٨٤٠م على مشروعات (محمد علي) الإصلاحية في مصر () .
- ٢٢- اقام محمد علي المطبعة الأميرية في بولاق () .
- ٢٣- شهدت التجارة الداخلية والخارجية رواجاً حقيقياً في عصر (محمد علي) () .
- ٢٤- ارتبطت الصناعة المصرية في عهد (محمد علي) بالنهوض بالجيش () .

المجموعة الثانية-

أكمل العبارات الآتية-

- ١- اتجه السلطان نحو المشرق العربي.
- ٢- الأمير عثمان بن أرطغرل مؤسس الدولة
- ٣- هزم المماليك أمام العثمانيين عام ١٥١٦م بمعركة
- ٤- السلطان العثماني تم في عهده فتح القسطنطينية عام ١٤٥٣م
- ٥- كان نائب السلطان العثماني هو
- ٦- كان من مهام الوالى العثماني ارسال المفروضة على البلاد.
- ٧- يتكون من كبار الضباط والموظفين والعلماء ويراقب الوالى.
- ٨- استطاع الفرنسيون دخول الإسكندرية بعد مقاومة من أهلها بزعامة السيد
- ٩- تكتمت الحكومة الفرنسية أمر الحملة حتى لا تتعرض لهاجمة الأسطول
- ١٠- تمكن قائد الأسطول الإنجليزي من تحطيم الأسطول الفرنسى عند أبي قير.
- ١١- تحطيم الأسطول الفرنسى فى موقعة أبي قير البحرية بواسطة الأسطول
- ١٢- انتصر نابليون على الجيش العثماني فى موقعة
- ١٣- كان الاشراف على تنفيذ قرارات السلطان من مهام
- ١٤- اقام محمد علي معامل السكر فى
- ١٥- اهتم محمد علي بتنظيم الإدارة فقسم البلاد إلى مديريات.
- ١٦- انشأ محمد علي الدواوين لتعاونه فى الحكم ومنها الديوان العالى ومقره
- ١٧- من أهم المشروعات فى عصر محمد علي مشروع

المجموعة الثالثة-

اختر الإجابة الصحيحة من بين الأقواس

- ١- أرسل (محمد علي) على حملة لبلاد الج
CS Scanned with CamScanner

ثانياً - التاريخ المجموعة الأولى -

ضع علامة صح أمام العبارة الصحيحة وخطاً أمام العبارة الخاطئة

١- تسبب الدولة العثمانية إلى مؤسسها عثمان بن أرطغرل ()

٢- كانت معركة الريدانية هي الحد الفاصل لنهاية دولة المماليك ()

٣- نشأت الدولة العثمانية في أواخر القرن الخامس عشر الميلادي ()

٤- اكتشف البريطانيون طريق رأس الرجاء الصالح ()

٥- ارتبطت مصر بنظم الإدارة العثمانية ()

٦- تتراوح مدة حكم الوالي العثماني بين عام وثلاثة أعوام ()

٧- ازدهرت الصناعة والتجارة أثناء الحكم العثماني ()

٨- تدهورت الحياة الفنية في مصر في عهد العثمانيين ()

٩- وصلت الحملة الفرنسية إلى سواحل الإسكندرية عام ١٨٩٧م ()

١٠- تمكنت الحملة الفرنسية من قطع الطريق بين إنجلترا وأكبر مستعمراتها في الهند ()

١١- اكتشف البرتغاليين طريق رأس الرجاء الصالح ()

١٢- النظم الحربية التقليدية من أسباب هزيمة الجيوش المملوكية ()

١٣- كان حي بولاق مركز ثورة القاهرة الأولى ()

١٤- حققت الحملة الفرنسية هدفها في جعل مصر قاعدة رئيسية في الشرق ()

١٥- انطلقت ثورة القاهرة الثانية في مارس ١٨٠٠م من حي بولاق ()

١٦- قامت إنجلترا بعد حملة فريزر على مصر بإنشاء المجمع العلمي في مصر ()

١٧- تخلص (محمد علي) من الزعامة الشعبية في مذبحه القلعة ١٨١١م ()

١٨- جاءت حملة فريزر على مصر عام ١٨٠٧م ()

١٩- أرسلت بريطانيا حملة إلى مصر في مارس ١٨٠٧م بقيادة فريزر ()

١٥- الصناعات الحديثة يقل فيها الاعتماد على العمالة البشرية.

١٦- اهتمام الدولة بإنشاء مناطق صناعية في مصر.
١٧- تلوث البيئة الصناعية.

إجابة الجغرافيا-

إجابة المجموعة الأولى (أ)

- ١- الغربية
- ٢- المتوسط
- ٣- دمياط
- ٤- ناصر
- ٥- الفيوم
- ٦- العالي
- ٧- السودان
- ٨- سيناء
- ٩- السويس
- ١٠- العقبة
- ١١- الشرقية
- ١٢- الإبراهيمية

إجابة المجموعة الأولى (ب)

- ١- نهر النيل- الجوفية
- ٢- الصلصال
- ٣- مدرجات
- ٤- الشمالية
- ٥- الهجرة
- ٦- الايجابية
- ٧- المدارس
- ٨- داخلية
- ٩- تناقص الأراضي الزراعية
- ١٠- الفيوم
- ١١- السمكية
- ١٢- القطن
- ١٣- المعدنية
- ١٤- الرياح
- ١٥- الكهرومائية
- ١٦- الحديد- الفوسفات
- ١٧- الغذائية
- ١٨- الهندسية
- ١٩- الكيمائية
- ٢٠- المعدنية
- ٢١- وزارة البيئة
- ٢٢- استنزاف

إجابة المجموعة الثانية-

- ١- صح
- ٢- صح
- ٣- خطأ
- ٤- صح
- ٥- صح
- ٦- صح
- ٧- خطأ
- ٨- خطأ
- ٩- خطأ
- ١٠- صح
- ١١- صح
- ١٢- خطأ
- ١٣- صح
- ١٤- خطأ
- ١٥- صح
- ١٦- خطأ
- ١٧- صح
- ١٨- خطأ
- ١٩- صح
- ٢٠- خطأ
- ٢١- صح
- ٢٢- صح
- ٢٣- صح
- ٢٤- صح

إجابة المجموعة الثالثة-

- ١- الصيف
- ٢- الآبار والعيون
- ٣- الشمالية
- ٤- منخفض الفيوم
- ٥- الحضرية
- ٦- النشاط الزراعي
- ٧- الدلتا
- ٨- نهر النيل
- ٩- المائي
- ١٠- البنجر
- ١١- الفخار
- ١٢- الأيدي العاملة
- ١٣- المنجنيز
- ١٤- التدخين داخل المصانع
- ١٥- الغذائية
- ١٦- الكيمائية
- ١٧- الادوية
- ١٨- حلج القطن

إجابة المجموعة الرابعة-

- ١- الترعة
- ٢- القناطر
- ٣- السد
- ٤- المحافظات الريفية
- ٥- الهجرة
- ٦- العشوائيات

إجابة المجموعة الخامسة-

١- بسبب الزحف العمراني.

٢- كثرة النشاط الزراعي.

٣- حماية البنية التحتية.

إجابة المجموعة الرابعة-

- ١- التربة ٢- القناطر ٣- السد ٤- المحافظات الريفية
- ٥- الهجرة ٦- المشوئيات

إجابة المجموعة الخامسة-

- ١- بسبب الزحف العمراني .
- ٢- كثرة النشاط الزراعي .
- ٣- حماية البلد من الجفاف والفيضان وتوليد الكهرباء .
- ٤- بسبب الهجرة الداخلية .
- ٥- بسبب ضيق المساحات المزروعة .
- ٦- بسبب قلة خصوبة التربة .
- ٧- لنقل المنتجات والمواد الخام والعمال .
- ٨- لاقامة المصانع وشراء المواد الخام وأجور العمال .
- ٩- لحماية البيئة من التلوث ودخان المصانع .
- ١٠- لوجود جميع الخدمات والوزارات والهيئات الحكومية والجامعات .
- ١١- لزيادة الثروة السمكية .
- ١٢- الإفراط في الأسمدة الكيميائية والمبيدات الحشرية .
- ١٣- بسبب وجود بحيرة قارون وعين السلين والسواقي .
- ١٤- بسبب وفرة الأرض الخصبة والمياه الغذبة .
- ١٥- بسبب الاعتماد على الآلات الحديثة في الصناعة .
- ١٦- لتوفير فرص عمل وزيادة الانتاج وتقليل الاستيراد .
- ١٧- بسبب دخان المصانع وعوادم السيارات والصرف الصناعي .

ثانياً التاريخ

المجموعة الأولى-

ضع علامة صح أمام العبارة الصحيحة وخطأ أمام العبارة الخاطئة

- ١- تسبب الدولة العثمانية إلى مؤسسها عثمان بن أرطغرل () .
- ٢- كانت معركة الريدانية هي الحد الفاصل لنهاية دولة المماليك () .
- ٣- نشأت الدولة العثمانية في أواخر القرن الخامس عشر الميلادي () .
- ٤- اكتشف البريطانيون طريق رأس الرجاء الصالح () .
- ٥- ارتبطت مصر بنظم الإدارة العثمانية () .
- ٦- بتراوح مدة حكم المماليك بين ١٠٠٠ و ١٢٠٠ سنة () .

المجموعة الرابعة-

اكتب ما تشير إليه العبارة،

- ١- قناة مائية يتم حفرها لتوصيل المياه من النهر إلى الأراضي الزراعية.
- ٢- حاجز مائي انشئ بفرض رفع منسوب المياه للأراضي مرتفعة المنسوب.
- ٣- بناء هندسى على مجرى النهر له بوابات لتوزيع المياه حسب الحاجة للزراعة.
- ٤- المحافظات التى يعمل معظم سكانها بالزراعة وتربية الحيوانات.
- ٥- انتقال الأفراد من مكان إلى مكان آخر سواء داخل أو خارج الدولة.
- ٦- مناطق بنيت بدون تخطيط من الدولة وتكون على أطراف المدن.

المجموعة الخامسة-

بم تفسر-

- ١- اختفاء الأراضي الزراعية بالقاهرة.
- ٢- تندر النباتات الطبيعية فى البيئة الزراعية.
- ٣- بناء السدود على الأنهار.
- ٤- انتشار المناطق العشوائية فى المدن الكبرى.
- ٥- يقل عدد السكان فى وادى النيل ومنخفض الفيوم عن الدلتا.
- ٦- قلة عدد السكان كلما اتجهنا ناحية الصحراء.
- ٧- أهمية وسائل النقل والمواصلات فى البيئة الصناعية.
- ٨- أهمية رأس المال لقيام الصناعة.
- ٩- مراعاة اتجاه الرياح عند بناء المصانع.
- ١٠- مدينة القاهرة أكثر جذباً للمهاجرين من البيئة الزراعية.
- ١١- إنشاء المزارع السمكية.
- ١٢- التلوث البيئى فى البيئة الزراعية.
- ١٣- شهرة محافظة الفيوم الزراعية.
- ١٤- يعمل معظم سكان البيئة الزراعية بالنشاط الزراعي.

٨- يقوم نشاط صيد الاسماك في البيئة الزراعية في
(البحر الأحمر - البحر المتوسط - نهر النيل - بحيرة
المنزلة).

٩- استخدام الاسمدة الكيماوية والمبيدات الحشرية في
تسميد التربة يؤدي إلى التلوث
(السمعى - الهوائى - المائى - البيئى).

١٠- من المحاصيل المنتجة للسكر قصب السكر و.....
(الارز - القمح - القطن - البنجر).

١١- من الصناعات الحرفية في البيئة الزراعية
(السيارات - الفخار - الغزل والنسيج - البترولية).

١٢- من عوامل نجاح الصناعة توافر
(السياحة - الأيدى العاملة - الأمن - التجارة).

١٣- من أمثلة المواد الخام المعدنية
(اللحوم - الرخام - الكتان - المنجنيز).

١٤- من العادات السلبية للعاملين بالبيئة الصناعية
(التعاون بين العاملين - التدخين داخل المصنع - احترام
مواعيد العمل - النظام).

١٥- تعتبر صناعة حفظ وتعليب الفاكهة من الصناعات
.....

(الغذائية - المعدنية - الكيماوية - الهندسية).

١٦- تعد صناعة العطور من صناعة

(الكيماوية - الكهربائية - المعدنية - الغذائية).

١٧- من الصناعات الكيماوية صناعة

(الحديد والصلب - السيارات - الأدوية - الثلجات).

١٨- من الصناعات البسيطة صناعة

(حفر الخشب - حلج القطن - الفخار - الآلات).

المجموعة الرابعة-

اكتب ما تشير إليه العبارة:

١- قناة مائية يتم حفرها لتوصيل المياه من النهر إلى
الأراضى الزراعية.

٢- حاجز مائى انشئ بغرض رفع منسوب المياه للأراضى
مرتفعة المنسوب.

٣- بناء هندسى على مجرى النهر له بوابات لتوزيع المياه
حسب الحاجة للزراعة.

٤- المحافظات التى يعمل معظم سكانها بالزراعة وتربية
الحيوانات.

٥- انتقال الأفراد من مكان إلى مكان آخر سواء داخل أو
خارج الدولة.

٦- مناطق بنيت بدون تخطيط من الدولة وتكون على

- ١٧- حفر الخشب من الصناعات الحرفية () .
 ١٨- تعتبر صناعة الثلجات من الصناعات الغذائية () .
 ١٩- صناعة الحديد والصلب من الصناعات المعدنية () .
 ٢٠- تحتاج صناعة الفخار إلى آلات حديثة () .
 ٢١- التكلفة الزائدة لمصادر الطاقة من مشكلات البيئة الصناعية () .
 ٢٢- الانفتاح على العالم الخارجى يشجع على الاستثمار فى مجال الصناعة () .
 ٢٣- من مشكلات البيئة الصناعية ازدحام المدن وانتشار المناطق العشوائية () .
 ٢٤- نقص الكوادر الفنية من مشكلات البيئة الصناعية () .

المجموعة الثالثة-

اخترا الإجابة الصحيحة من بين الأقواس-

- ١- يتميز مناخ البيئة الزراعية فى مصر باعتداله مع ارتفاع درجة الحرارة فى فصل
 (الشتاء - الصيف - الربيع - الخريف) .
 ٢- تقوم الزراعات فى الواحات اعتماداً على مياه
 (النيل - الأمطار - الآبار والعيون - كل ما سبق) .
 ٣- بعض مناطق الدلتا لا تجود فيها الزراعة وهى الاطراف
 (الجنوبية - الغربية - الشمالية - الشرقية) .
 ٤- توجد البيئة الزراعية الفيضية فى الدلتا ووادى النيل
 (واحة سيوة - شبه جزيرة سيناء - الصحراء الشرقية - منخفض الفيوم) .
 ٥- المحافظات التى يعمل سكانها فى الصناعة والوظائف الخدمية هى
 (الزراعية - الحدودية - الحضرية - الصحراوية) .
 ٦- من الخصائص الاقتصادية لسكان البيئة الزراعية
 (الأمية - النشاط الزراعى التعاون - انتشار البطالة) .
 ٧- توجد فى أكبر نسبة سكان البيئة الزراعية.
 (الوادى الجديد - الواحات - الدلتا - الصحراء الشرقية) .
 ٨- يقوم نشاط صيد الاسماك فى البيئة الزراعية فى
 (البحر الأحمر - البحر المتوسط - نهر النيل - بحيرة المنزلة) .
 ٩- استخدام الاسمدة الكيماوية والمبيدات الحشرية فى تسميد التربة يؤدى إلى التلوث
 (السمعى - الهوائى - المائى - البيئى) .
 ١٠- من المحاصيل المنتجة للسكر قصب السكر و.....
 (الارز - القمح - القطن - البنجر) .

١٧- صناعة السكر من الصناعات

١٨- صناعة السيارات من الصناعات

١٩- تعد صناعة الأدوية والعمور من الصناعات

٢٠- صناعة الحديد والصلب من الصناعات

٢١- قامت الدولة بإنشاء لإصدار القوانين لحماية البيئة من الاخطار.

٢٢- الافراط وسوء استخدام الموارد الطبيعية بشكل يؤدي إلى نفاذها يسمى

المجموعة الثانية-

ضع علامة صح أمام العبارة الصحيحة وعلامة خطأ أمام العبارة الخاطئة

١- تتميز تربة منخفض الفيوم بأنها تربة طينية خصبة () .

٢- تتميز أراضي الدلتا باستوائها وعدم وجود تضاريس مرتفعة بها () .

٣- تبلغ مساحة البيئة الزراعية الفيضية أكثر من ٩ ملايين فدان () .

٤- تقع ترعة الإسماعيلية في شرق الدلتا () .

٥- يتركز سكان البيئة الزراعية في المحافظات القريبة من نهر النيل () .

٦- البطالة هي عدد من الاشخاص في سن العمل لا يعملون () .

٧- من الخصائص الاقتصادية عند سكان البيئة الزراعية ارتفاع مستوى دخل الفرد () .

٨- الزواج المبكر من العادات الايجابية عند سكان البيئة الزراعية () .

٩- تعتبر آثار حضارة (تل بسطة) من أهم المعالم السياحية لمحافظة الفيوم () .

١٠- أشهر الصناعات المنتجة للسكر هي صناعة قصب السكر () .

١١- يؤدي الاسراف في استخدام مياه الصرف إلى تدهور التربة () .

١٢- توجد آثار تل بسطة في محافظة الغربية () .

١٣- يراعى عند بناء المصانع اتجاهات الرياح () .

١٤- السوق من العوامل الطبيعية لقيام الصناعة () .

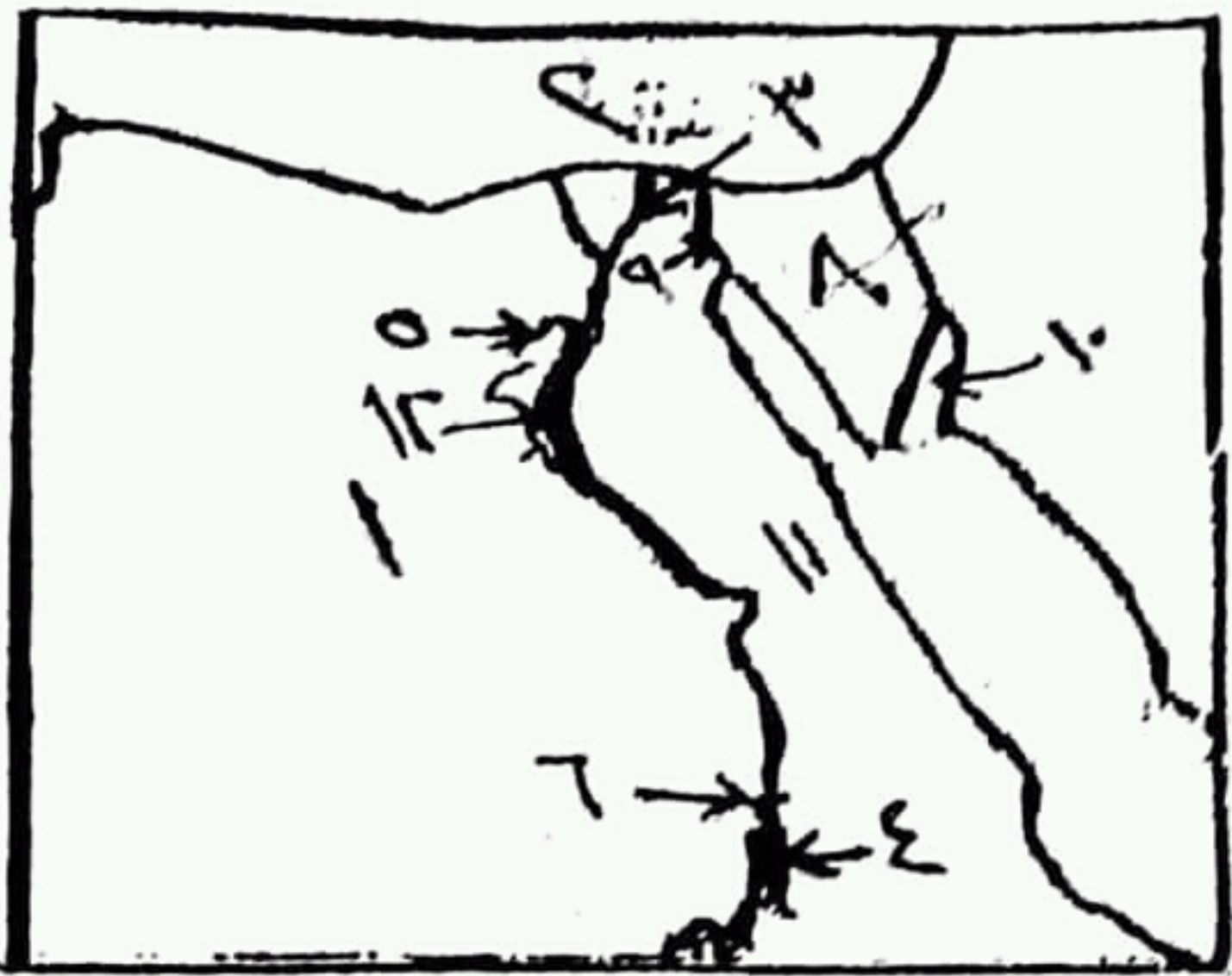
١٥- البيئة الصناعية هي البيئة التي يعمل فيها الإنسان بالصناعة () .

١٦- يعد رأس المال من العوامل الطبيعية في قيام الصناعة () .

أولاً-

المجموعة الأولى-

(أ) أمامك خريطة صماء لمصر اكتب مدلول الأرقام



- ١- الصحراء: ...الغربية
- ٢- البحر: ...المتوسط
- ٣- فرع: ...جسيماط
- ٤- بحيرة: ...ناصر
- ٥- منخفض الفيوم
- ٦- السد: ...العالى
- ٧- دولة: ...السودان
- ٨- شبه جزيرة: ...سيناء
- ٩- قناة: ...السويس
- ١٠- خليج: ...البحرية
- ١١- الصحراء: ...الشرقية
- ١٢- ترعة: ...الإبراهيمية

المجموعة الأولى-

(ب) أكمل العبارات الآتية-

١- يعتمد الإنسان في البيئة الزراعية بالوادي والدلتا
ومنخفض الفيوم على مياه في حين يعتمد في الواحات
على المياه

(ب) أكمل العبارات الآتية:-

- ١- يعتمد الإنسان في البيئة الزراعية بالوادي والدلتا ومنخفض الفيوم على مياه في حين يعتمد في الواحات على المياه
- ٢- ترتفع نسبة في تربة وادي النيل والدلتا.
- ٣- يظهر السطح في منخفض الفيوم على شكل
- ٤- هناك بعض المناطق لا تجود بها الزراعة مثل الاطراف للدلتا.
- ٥- تناقص نسبة العاملين بالنشاط الزراعي بسبب
- ٦- التعاون في المجتمع الريفي من العادات
- ٧- اهتمت الدولة بزيادة إعداد في الريف من أجل حل مشكلة الأمية.
- ٨- الهجرة من الوجه القبلي إلى القاهرة تسمى هجرة
- ٩- التوسع العمراني وتجريف التربة أدى إلى وجود مشكلة
- ١٠- تعتبر بحيرة قارون من المعالم السياحية في مصر وتوجد في محافظة
- ١١- لزيادة الانتاج السمكي تم إنشاء المزارع
- ١٢- يعتبر من محاصيل المنسوجات الكتان و.....
- ١٣- يعتبر الحديد والمنجنيز والفوسفات من المواد الخام.
- ١٤- يجب مراعاة اتجاهات عند اقامة المصانع.
- ١٥- تتمثل مصادر الطاقة النظيفة في الطاقة
- ١٦- من المواد الخام المعدنية اللازمة للصناعة والمنجنيز و.....
- ١٧- صناعة السكر من الصناعات
- ١٨- صناعة السيارات من الصناعات
- ١٩- تعد صناعة الأدوية والعطور من الصناعات
- ٢٠- صناعة الحديد والصلب من الصناعات
- ٢١- قامت الدولة بإنشاء لإصدار القوانين لحماية البيئة من الاخطار.
- ٢٢- الافراط وسوء استخدام الموارد الطبيعية بشكل يؤدي