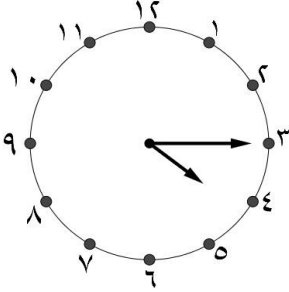
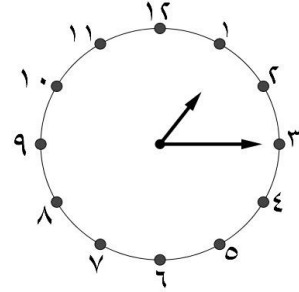


١) أكتب الوقت الذي تدل عليه كل ساعة بطريقتين مختلفتين .



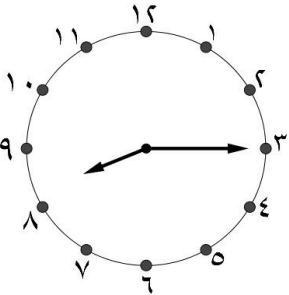
السَّاعَة:

_____ : _____



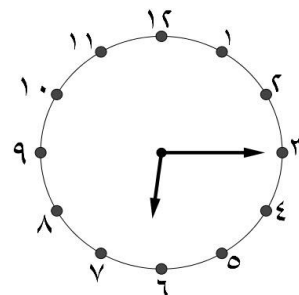
السَّاعَة: الواحدة والرُّبْع

_____ : _____



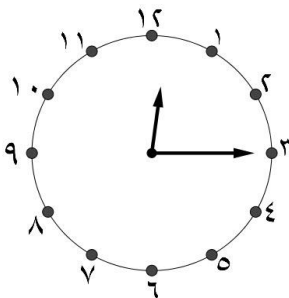
السَّاعَة:

_____ : _____



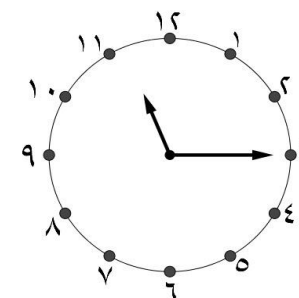
السَّاعَة:

_____ : _____



السَّاعَة:

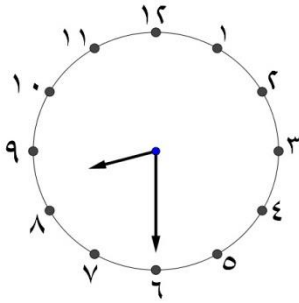
_____ : _____



السَّاعَة:

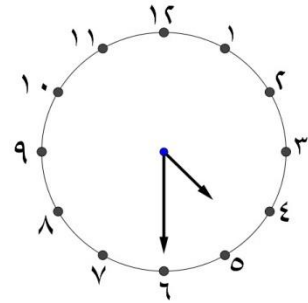
_____ : _____

١) أكتب الوقت الذي تدل عليه كل ساعة بطريقتين مختلفتين .



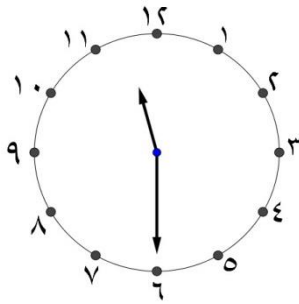
السَّاعَة:

_____ : _____



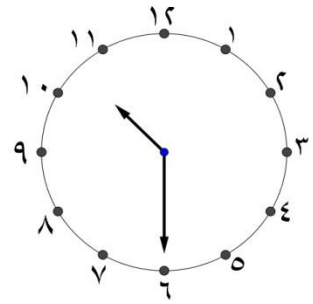
السَّاعَة: الرَّابِعَة وَ النَّصْف

٣٠ : ٤



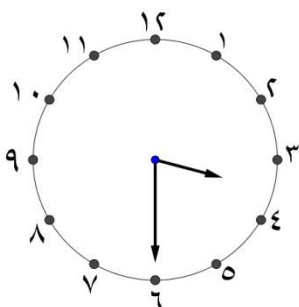
السَّاعَة:

_____ : _____



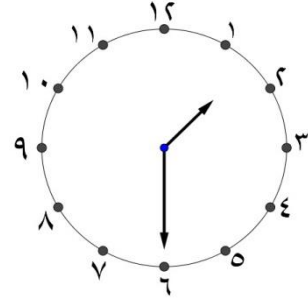
السَّاعَة:

_____ : _____



السَّاعَة:

_____ : _____



السَّاعَة:

_____ : _____