

تم تحميل هذا الملف من موقع ملفات الكويت التعليمية



[com.kwedufiles.www//:https](https://www.kwedufiles.com)

\*للحصول على أوراق عمل لجميع الصفوف وجميع المواد اضغط هنا

\* للحصول على أوراق عمل لجميع مواد الصف الثاني اضغط هنا

<https://kwedufiles.com/2>

\* للحصول على جميع أوراق الصف الثاني في مادة رياضيات ولجميع الفصول, اضغط هنا

<https://kwedufiles.com/2math>

\* للحصول على أوراق عمل لجميع مواد الصف الثاني في مادة رياضيات الخاصة بـ الفصل الثاني اضغط هنا

<https://www.kwedufiles.com/2math2>

\* لتحميل كتب جميع المواد في جميع الفصول للـ الصف الثاني اضغط هنا

<https://www.kwedufiles.com/grade2>

\* لتحميل جميع ملفات المدرس مدرسة ادريس جاسم الدريس اضغط هنا

[bot\\_kwlinks/me.t//:https](https://t.me/bot_kwlinks)

للحصول على جميع روابط الصفوف على تلغرام وفيسبوك من قنوات وصفحات: اضغط هنا

الروابط التالية هي روابط الصف الثاني على مواقع التواصل الاجتماعي

مجموعة الفيسبوك

صفحة الفيسبوك

مجموعة التلغرام

بوت التلغرام

قناة التلغرام

رياضيات على التلغرام




## كون ٤ مجموعات متكافئة




عدد العناصر في المجموعة الواحدة ----- عناصر




وزعت ١٢  علی ٣



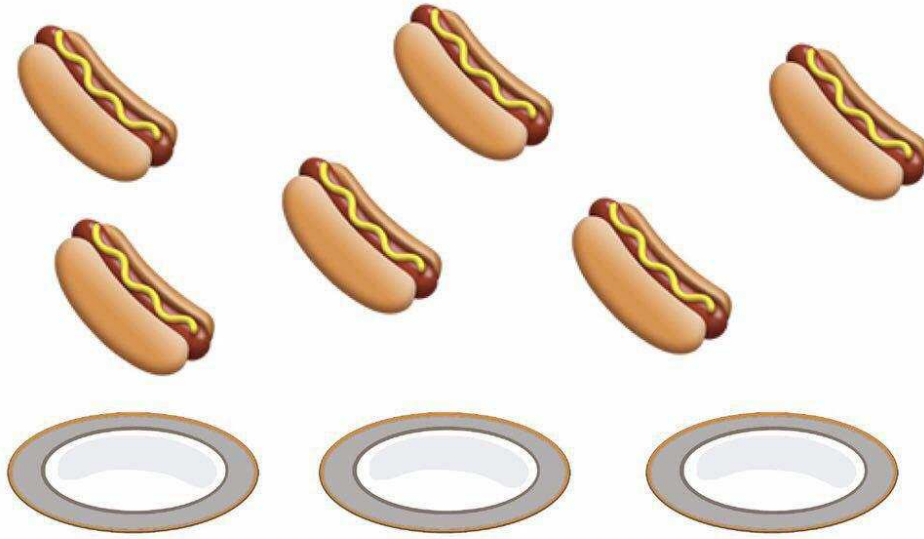
فكم  فی كل

؟

$$12 \div 3 = \text{-----}$$



$$12 \div 4 = 3$$



$$\text{-----} = 2 \div 6$$

## حوط كل ٢ قميص



عدد المجموعات المتكافئة----- مجموعات

## حوظ كل ٤ سلاحف



عدد المجموعات ----- مجموعات



$$\underline{\hspace{2cm}} = 3 \div 12$$

$$\underline{\hspace{2cm}} = 4 \times 3$$



# اكتب عبارات الضرب والقسمة للأعداد

١٤، ٧، ٢

$$\underline{\quad} = \underline{\quad} \div \underline{\quad}$$

$$\underline{\quad} = \underline{\quad} \times \underline{\quad}$$

$$\underline{\quad} = \underline{\quad} \div \underline{\quad}$$

$$\underline{\quad} = \underline{\quad} \times \underline{\quad}$$

# اكتب عبارات الضرب والقسمة للأعداد

١٨، ٦، ٣

$$\underline{\quad} = \underline{\quad} \div \underline{\quad}$$

$$\underline{\quad} = \underline{\quad} \times \underline{\quad}$$

$$\underline{\quad} = \underline{\quad} \div \underline{\quad}$$

$$\underline{\quad} = \underline{\quad} \times \underline{\quad}$$

# اكتب عبارات الضرب والقسمة للأعداد

١٥، ٥، ٣

$$\underline{\quad} = \underline{\quad} \div \underline{\quad}$$

$$\underline{\quad} = \underline{\quad} \times \underline{\quad}$$

$$\underline{\quad} = \underline{\quad} \div \underline{\quad}$$

$$\underline{\quad} = \underline{\quad} \times \underline{\quad}$$


## قسم إلى مجموعات متساوية



$$\underline{\hspace{2cm}} = \underline{\hspace{2cm}} \div \underline{\hspace{2cm}}$$

$$\underline{\hspace{2cm}} = \underline{\hspace{2cm}} \div \underline{\hspace{2cm}}$$

## قسم الى مجموعات متساوية . أكمل



$$\underline{\hspace{2cm}} = \underline{\hspace{2cm}} \div \underline{\hspace{2cm}}$$

$$\underline{\hspace{2cm}} = \underline{\hspace{2cm}} \div \underline{\hspace{2cm}}$$