





س ١ : استخدم ألوانا مختلفة لتوضيح المجموعات المتساوية :

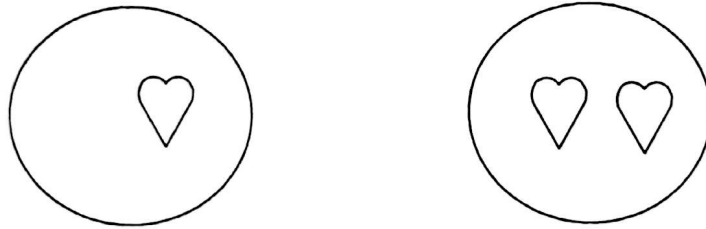
أ (مجموعتان متساويتان :



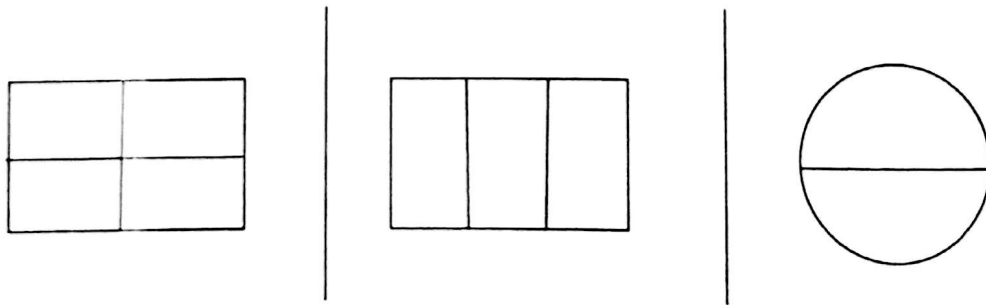
ب (٣ مجموعات متساوية :



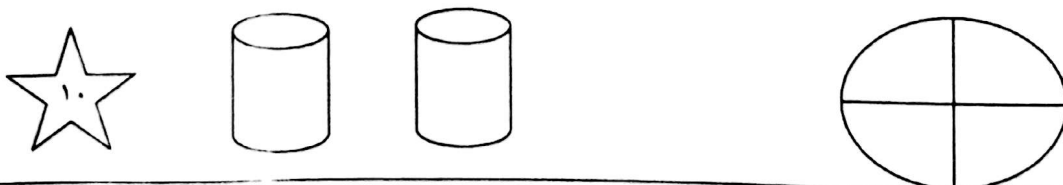
س ٢ : استخدم الرسم لتحصل على مجموعتان متساويتان :




س ٣ : استخدم الألوان المختلفة لتوضيح الأجزاء المتطابقة :





س ٤ : لون ما يمثل النصف :




س ٥ : حوِّط ما يمثل الثلث :



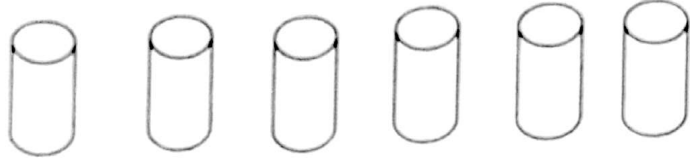
س ٦ : لون ما يمثل الربع :



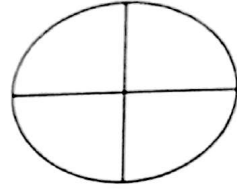
س ٦ : حوِّط ما يمثل الربع :



س ١ : كون مجموعتان متساويتان :



س ٢ : لون ما يمثل النصف :



س ٣ : حوِّط ما يمثل الربع :

