




وزارة التربية
الإدارة العامة لمنطقة الأحمدية التعليمية
مدرسة هدية الابتدائية بنين

• وسائل الوحدة (٨)

WWW.KweduFiles.Com

للمصف الثاني



• المعلمة : صفاء ناجي


إعداد

• رئيسة القسم : شيمه المطيري

إشراف

• تدريبات على ضرب الأعداد


حديقتي الجميلة



• الضرب في العدد ٢

WWW.KweduFiles.Com

بند (٨-١)



أكمل 



www.kwedufiles.com

$$\underline{\hspace{2cm}} = ٢ + ٢ + ٢$$

$$\underline{\hspace{2cm}} = ٢ \times ٣$$

أكمل: 



 = ٢ + ٢ + ٢ + ٢

 = ٢ × ٤

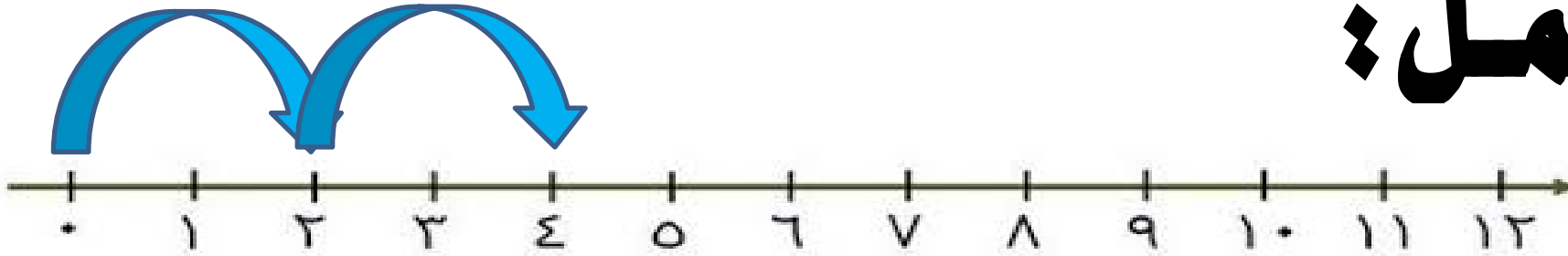
أكمل 



WWW.KweduFiles.Com

 = ١ + ١ + ١ + ١ + ١


أكمل 



WWW.KweduFiles.Com

$$\underline{\quad} = \sqrt{\quad} + \sqrt{\quad}$$

$$\underline{\quad} = \sqrt{\quad} \times \sqrt{\quad}$$



عبر بعبارة ضرب مناسبة .




$$\underline{\hspace{2cm}} = \underline{\hspace{2cm}} \times \underline{\hspace{2cm}}$$

عبر بعبارة ضرب مناسبة.



$$\underline{\hspace{2cm}} = \underline{\hspace{2cm}} \times \underline{\hspace{2cm}}$$

أوجد الناتج (مستخدماً خط الأعداد) . 

$$= 2 \times 6$$

WWW.KweduFiles.Com




أوجد الناتج : مستخدماً الرسم بالصور. 

٦

WWW.KweduFiles.Com

٥ ×




أوجد الناتج : 


مستخدماً العناصر لبناء المصفوفات .

WWW.KweduFiles.Com

$$= ٢ \times ٩$$





مثل. أوجد الناتج. 

(اختر الطريقة التي تناسبك) .

WWW.KweduFiles.Com

٦

٦ ×

_____ = ٦ × ٥



عبر عما تشاهده في الصورة بعبارة ضرب كاملة. 




_____ = _____ × _____

• الضرب في العدد ٣

www.kwedufiles.com

بند (٨-٢)



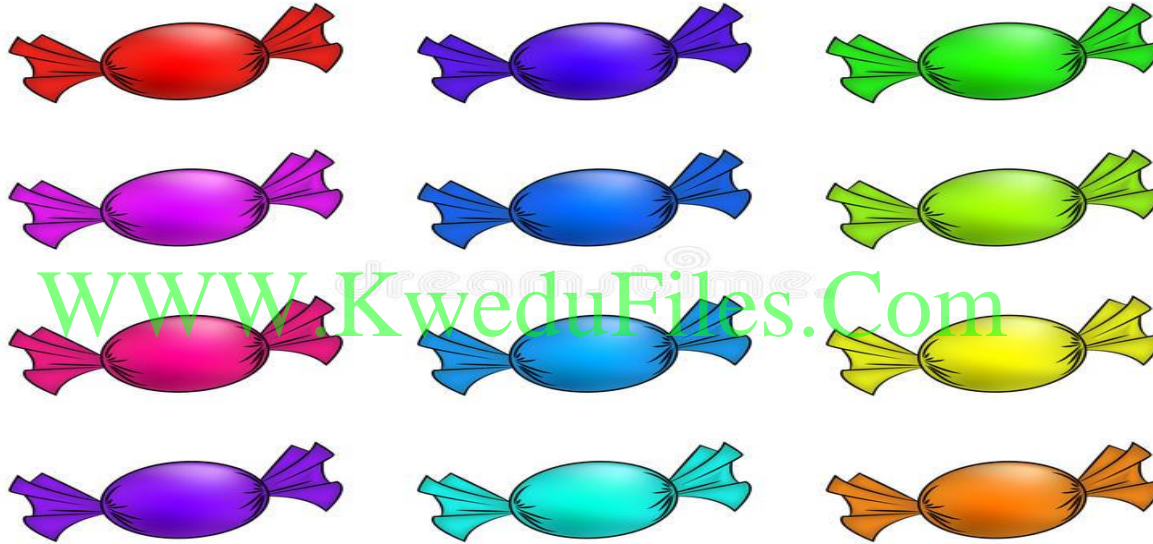
أوجد الناتج .



$$\underline{\quad} = ٣ + ٣ + ٣$$

$$\underline{\quad} = ٣ \times ٣$$

أوجد الناتج



 = ٣ + ٣ + ٣ + ٣

 = ٣ × ٤

عبر بعبارة ضرب مناسبة.



$$\underline{\quad} = \underline{\quad} \times \underline{\quad}$$

عبر بعبارة ضرب مناسبة .

WWW.KweduFiles.Com



WWW.DONUTS


$$\underline{\quad} = \underline{\quad} \times \underline{\quad}$$




عبر بعبارة ضرب مناسبة .



$$\underline{\quad} = \underline{\quad} \times \underline{\quad}$$



حل المسألة . ماذا تلاحظ ؟ 



WWW.KweduFiles.Com


$$\underline{\quad} = \underline{\quad} \times \underline{\quad}$$

$$\underline{\quad} = \underline{\quad} \times \underline{\quad}$$

• الضرب في العدد ٤

www.KweduFiles.Com

بند (٣-٨)



أوجد الناتج.



WWW.KWEDUFILES.COM

$$\underline{\quad} = 4 + 4 + 4$$

$$\underline{\quad} = 4 \times 3$$



أوجد الناتج 

www.kwedufiles.com

$$\underline{\hspace{2cm}} = 4 + 4 + 4 + 4$$

عبر بعبارة ضرب مناسبة.




www.KweduFiles.Com

| | | | |
|--|--|--|--|
| | | | |
| | | | |

_____ = _____ × _____


عبر بعبارة ضرب مناسبة .



WWW.KweduFiles.Com


$$\underline{\hspace{2cm}} = \underline{\hspace{2cm}} \times \underline{\hspace{2cm}}$$

عبر بعبارة ضرب مناسبة.



$$\underline{\hspace{2cm}} = \underline{\hspace{2cm}} \times \underline{\hspace{2cm}}$$

مثل . أوجد الناتج .



مخرجات

مدخلات

www.KweduFiles.Com • الضرب في العدد

بند (٨-٤)



أوجد الناتج . 




WWW.KweduFiles.Com

$$\underline{\hspace{2cm}} = 5 + 5 + 5$$

$$\underline{\hspace{2cm}} = 5 \times 3$$

أكل  .



$$\underline{\hspace{2cm}} = \quad + \quad + \quad + \quad +$$

$$\underline{\hspace{2cm}} = \quad \times$$

عبر بعبارة ضرب مناسبة. 



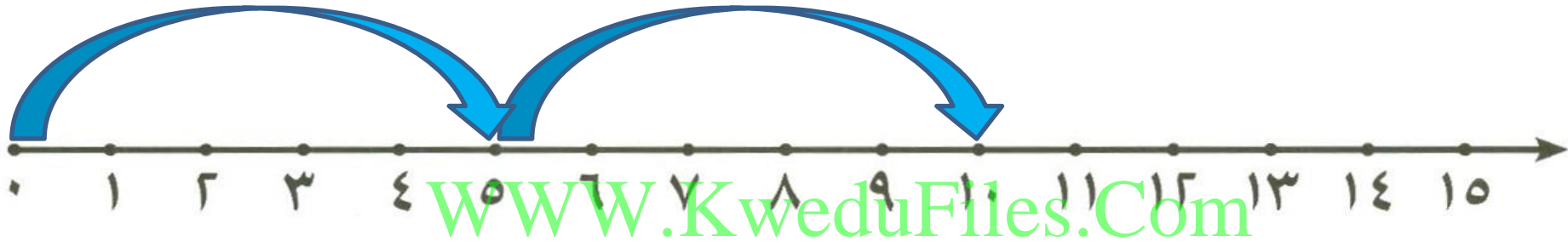
 = ×

عبر بعبارة ضرب مناسبة.



$$\underline{\hspace{2cm}} = \underline{\hspace{2cm}} \times \underline{\hspace{2cm}}$$


عبر بعبارة ضرب مناسبة.



$$\underline{\quad} = \underline{\quad} \times \underline{\quad}$$

مثل  . أوجد ناتج .

www.kwedufiles.com



5 x

| |
|--|
| |
| |
| |

مُخْرَجَات


| |
|---|
| ٦ |
| ٧ |
| ٨ |

مُدخَلَات





•مراجعة الوحدة الثامنة

www.KweduFiles.Com

بند (٨-٥)




حل المسائل : 




كم عدد حبات الكرز؟

WWW.KweduFiles.Com



$$\underline{\quad} = \underline{\quad} \times \underline{\quad}$$

عدد حبات الكرز = حبة


حل المسائل : كم عدد كل العصافير ؟ 




WWW.KweduFiles.Com

$$\underline{\quad} = \underline{\quad} \times \underline{\quad}$$

عدد كل العصافير = عصفور

أكمل: 



WWW.KweduFiles.Com


| |
|--|
| |
| |
| |

مُخْرَجَات

| |
|---|
| 1 |
| 4 |
| 6 |

مُدْخَلَات

أكمل 




www.KweduFiles.Com

| |
|--|
| |
| |
| |

مُخْرَجَات

| |
|---|
| ١ |
| ٤ |
| ٧ |

مُدْخَلَات

أوجد الناتج (مستخدماً خط الأعداد) . 

$$\underline{\hspace{2cm}} = 4 \times 3$$



أوجد الناتج (مستخدماً الرسم بالصور). 

$$\underline{\hspace{2cm}} = 3 \times 6$$

WWW.KweduFiles.Com






أوجد الناتج . 

(مستخدماً العناصر لبناء مصفوفه)
WWW.KweduFiles.Com

٣

√ ×





اختر الإجابة الصحيحة بوضع




لها نفس ناتج:

$$= 2 \times 4$$

WWW.KweduFiles.Com


4

3 ×



4

2 ×



5

4 ×

