

السؤال الأول: ضع بين القوسين علامة (√) للعبارة الصحيحة وعلامة (x) للعبارة غير الصحيحة في كل مما يأتي:

السؤال الأول: ضع علامة (√) أمام العبارة الصحيحة وعلامة (x) أمام العبارة غير الصحيحة:

()

١. الساق وظيفته توصيل الماء الى اجزاء النبتة

()

٢. الاوراق لا تعتبر من اجزاء النبت

السؤال الثاني: اختر الإجابة الصحيحة علمياً لكل من العبارات التالية بوضع علامة (√) في

المربع المقابل لها:

١. من الكائنات الحية التي تنمو و تتغير .



٢. جزء من النبت يثبت النبت في التربة....

WWW.KweduFiles.Com

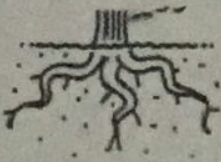


السؤال الثالث: انا ألون الكلمات التي تدل على اجزاء النبت :




ورقة عمل للصف الثاني في مادة العلوم

س ١ اكتب اسم اجزاء النبات التالية




WWW.KweduFiles.Com

س ٢ :- ١- لون الجزء المسؤول عن انتقال الماء في النبات



٢- ارسم الجزء الناقص في النبات

لاحظ الصورة ثم أجب على الأسئلة أسفلهما :




اذكر ثلاث من استخدامات الماء:

- ١-
- ٢-
- ٣-

WWW.KweduFiles.Com

٢٠- صل بين الصورة وما يناسبها من الكلمات.



تلوث الماء

تلوث الهواء

تلوث الأرض

السؤال الثاني: صل الكلمات بالصورة المناسبة:

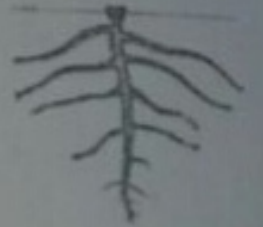
زهرة



ورقة



ساق



جنور



WWW.KweduFiles.Com

الشمس : ما وظيفة الجذور ؟

السؤال الأول : ضع علامة (√) أمام العبارة الصحيحة وعلامة (x) أمام العبارة الغير صحيحة:

()

1- تثبت الجذور النباتات في التربة

()

2- تنمو الجذور



أعلى سطح التربة

()

3- تقوم الجذور بصنع الغذاء للنبات

4- يحتاج النبات إلى الهواء والماء وضوء الشمس لكي ينمو

()


5- الجذور تمتص الماء من التربة

()

6- تموت النباتات بدون الجذور ولا يصل لها الماء




لون صورة الكائنات الحية فقط





WWW.KweduFiles.Com

ضع 0 حول الإجابة الصحيحة

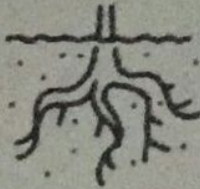


(١) الكائن الحي



(٢) الشيء غير الحي



السؤال الاول: حوِّط الشيء الذي لا ينتمي إلى مجموعة أجزاء النبات



WWW.KweduFiles.Com

السؤال الثاني: حوِّط الكلمة التي تكمل كلاً من الجمل التالية

١- تثبت النبات في التربة و تمتص الماء
الأوراق الساق الجذور

٢- تنقل الماء إلى أجزاء النبات الأخرى
الساق البذور الثمرة

السؤال الثالث: ارسم صورة نبات و أكتب أسماء الأجزاء على الصورة

السؤال الثالث: اختر الإجابة الصحيحة وذلك بوضع ○ حولها


١- أي من هذه الأشياء يعتبر شئ غير حي



٢- من الكائنات الحية



٣- الشيء الذي ينمو ويكبر



٤- الشيء الذي يتغذى ويشرب ويتنفس ويتحرك

