

Importance of the Stem

أهمية الساق

النشاط (3)

كُونُ نَبْتَةً بِأَجْزَائِهَا الْكَامِلَةِ وَارْسُمِ الْجِزءَ النَّاقِصَ.



عَبِّرْ بِاسْتِخْدَامِ



اَكْتُبْ

سَطْرًا

Stems

الاصناف تظهر

سوق النباتات

النشاط (4)

ارْسُمِ سَوْقًا لِنَبَاتَاتٍ مُخْتَلِفَةٍ.



خيار



زهرة الفل



طماطم



زهرة الافندر

عبر باستخدام الوجه المناسب (😊، ☹️).



KwEduFiles.com

١٥/١٢/٢٠٢٠

تَسْبَحُ

تَرْحَفُ

تَطِيرُ

تَمْشِي

تَسْبَحُ تَرْحَفُ تَطِيرُ تَمْشِي

نشاط منزلي

واحدة
اختر حيوانك المفضل، وابحث مع الأهل في مراجع، أو في مؤسسات علمية، أو على الإنترنت عن معلومات علمية (لغطائه وحركته).



حيوانك المفضل
هو الببغاء
يغطي جسمه الريش
وهو طير

صَمِّمِ لَوْحَةً لِأَعْطِيَةِ أَجْسَامِ الْحَيَوَانَاتِ.

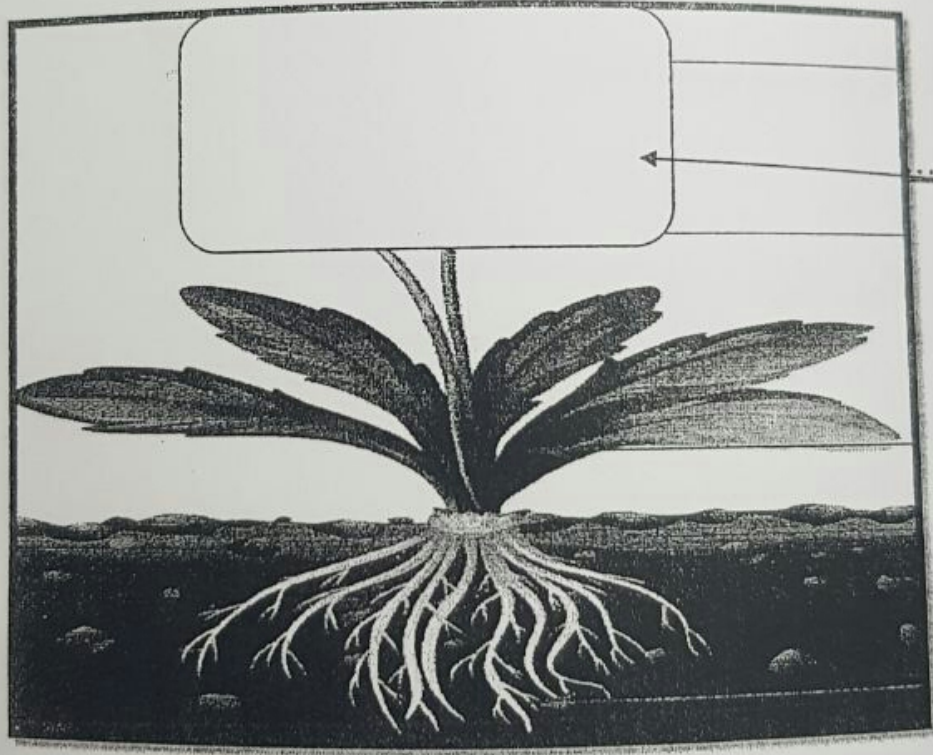
فم، لظفار	الحيوان
<p>شعر</p> 	
<p>قشور</p> 	
<p>ريش</p> 	
<p>صوف</p> 	
<p>الدرقة</p> 	

الصف	الحصة	التاريخ	اليوم

KwEduFiles.com

الترس : ما وظيفة الأزهار ؟

السؤال الأول : ارسم الجزء الناقص على الرسم مع كتابة اسمه :



السؤال الثاني : اكمل العبارات التالية :

١- تتكون البذور داخل

٢- الزهرة تتحول إلى

ماء

هواء

ضوء شمس


وظيفة
الأوراق
صنع المادة
السكرية
للنبات

نتج مادة
سكرية وهي
طعام النبات

اليوم	التاريخ	الحصة	الصف

الدرس: ما وظيفة الأوراق؟

مر خالد على نباتات في الحديقة فوجد نبتة جميلة تبكي فسألها لماذا تبكي؟
قلت ينقص جزء من أجزائي ولا أستطيع ان أكل.
ساعد خالد وارسم الجزء الناقص من النبتة.



علامات الصحة الجيدة والعلامات التي تشير إلى الصحة الجيدة:

()

كان حي ويتنفس ويتغذى



()

شيء غير حي لا يتحرك ولا يتنفس



()



حياتنا مليئة بالحيات الحية من حولنا

()

نحن في حاجة للماء والهواء والطعام



()

من الكائنات الحية تتغذى وتشرب وتنفس

()

كائنات حية تنمو وتتغذى وتنفس




الحياة

()

الاحتياج الكائنات الحية للماء والهواء والغذاء لتبقى حية

()

البناء الحيواني من السلوكيات الصحيحة



السؤال الثاني: صل الكلمات بالصورة المناسبة :

KwEduFiles.com

زهرة



ورقة



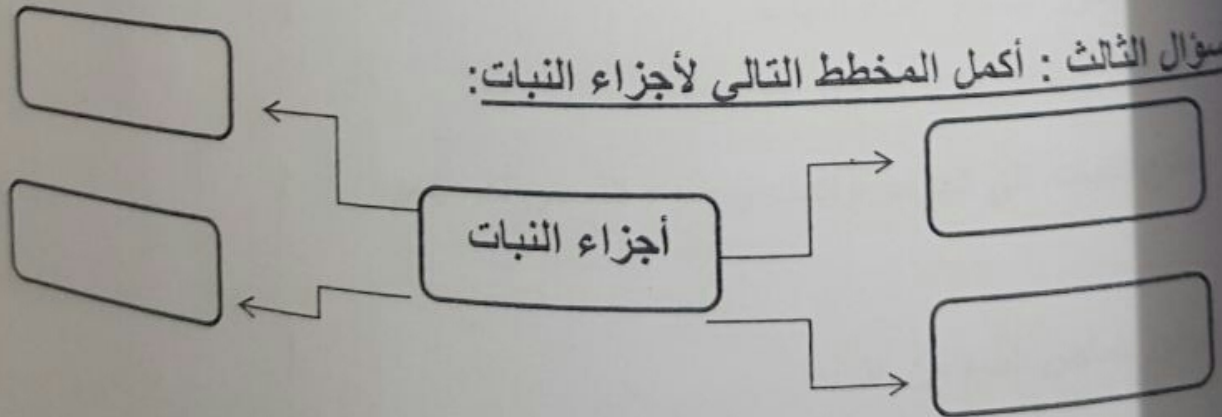
ساق



جنور



السؤال الثالث : أكمل المخطط التالي لأجزاء النبات:





KwEduFiles.com

اليوم	التاريخ	الحصة	المف

الدرس: ما وظيفة الجذور؟

السؤال الأول: ضع علامة (√) أمام العبارة الصحيحة وعلامة (x) أمام العبارة الغير صحيحة:

١- تثبت الجذور النباتات في التربة ()

٢- تنمو الجذور  أعلى سطح التربة ()

٣- تقوم الجذور بصنع الغذاء للنبات ()

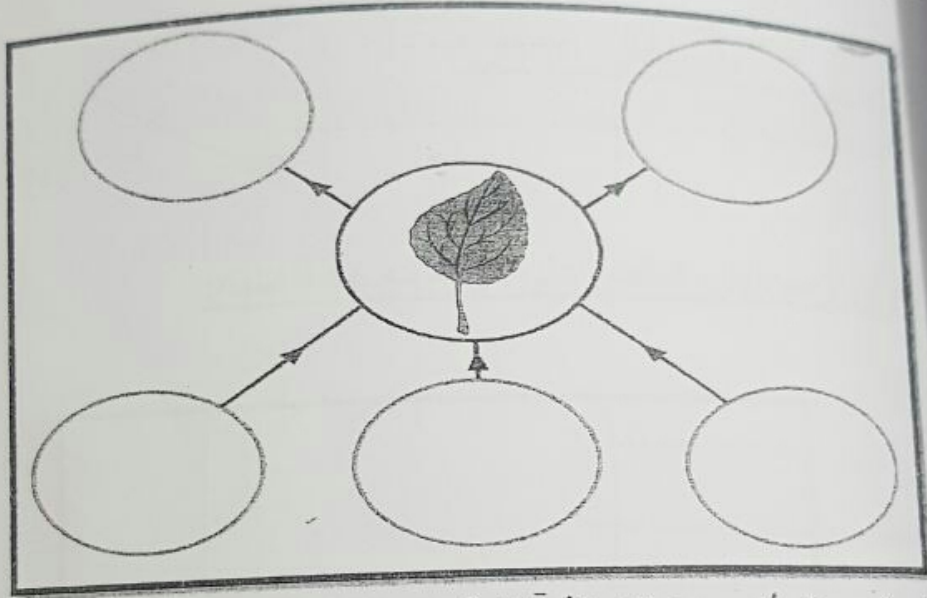
٤- يحتاج النبات إلى الهواء والماء وضوء الشمس لكي ينمو ()

٥- الجذور تمتص الماء من التربة ()


٦- تموت النباتات بدون الجذور ولا يصل لها الماء ()

ضع الكلمات التالية في مكانها الصحيح على الرسم :

(سكر - ماء - هواء - ضوء الشمس - أكسجين)



انظر إلى الصورة وأجب عن الاسئلة التالية :



2

1

اماندا تتوقع ان يحدث للنبته رقم (١) . و لماذا ؟

ماندا تتوقع ان يحدث للنبته رقم (٢) . ولماذا ؟

الأزهار

الأوراق

أجزاء
النبات

الساق

الجذور

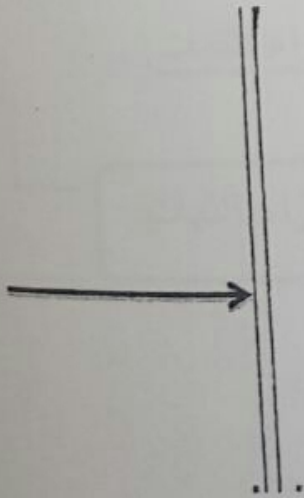
النباتات

اليوم	التاريخ	الحصة	الصف

الدرس : ما أجزاء النبات ؟

السؤال الأول : انظر إلى الرسم الذي أمامك وأكمل الأجزاء الناقصة واكتب اسمها:

الساق





اُكْتُبِ الْمُصْطَلِحَ الْعِلْمِيَّ:

ساق

ساق

نشاط منزلي

ابحث مع أسرتك عن سبب وضع باقة ورد في قنينة زجاجية صغيرة فيها ماء.

لكي تبقى

الورود

متعشة

نظرة

أطول فترة

بعد قطعها



السؤال الرابع : اكتب الكلمة المناسبة أمام كل صورة :

KwEduFiles.com



اكتب اسم جزء النبات المناسب

الاسم

الوظيفة

أنا أمتص الماء من التربة وأثبت النبات

أنا أقوم بتوصيل الماء للأزهار والأوراق

أنا أصنع الغذاء للنبات

أنا أتحول لثمرة

اكتب المصطلحات العلمية:

KwEduFiles.com

تبيض

تبيض

تلد

تلد



سائط منزلي

م بتربية أسماك صغيرة في منزلك، وقدم لها الطعام، ثم ابحث مع أهلِكَ عن طرق
كثير الأسماك بواسطة وسائل التكنولوجيا أو الموسوعات العلمية في المكتبة.



- تتكاثر الأسماك بالبيض
- تضع الأسماك البحرية بيضها في المحيط المفتوح
- تضع أسماك المياه العذبة بيضها قرب الرمال والأعشاب



السؤال الخامس: اختر الصورة الصحيحة بوضع علامة (√):

1- انتقال الماء في النبات:



KwEduFiles.com



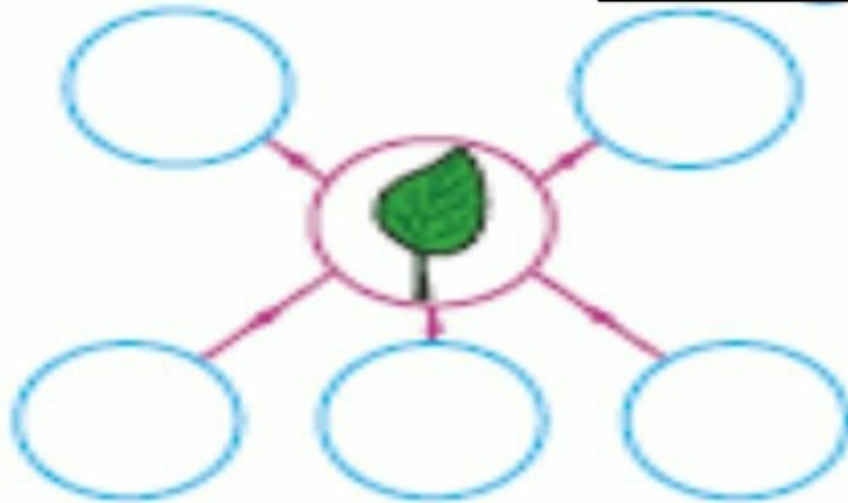
2- النبتة التي تثبت مع وجود الريح :



3 - الجزء من النبات الذي ينتج مادة سكرية وهواء :



السؤال السادس: أكمل المخطط التالي:

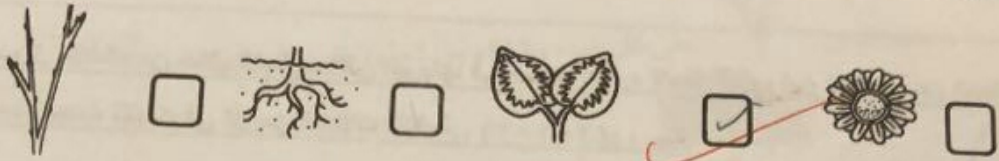


السؤال الاول : اختر الإجابة الصحيحة علميا لكل مما يأتي وذلك بوضع علامة (✓) في الفراغ المناسب لها (٤ درجات) :-

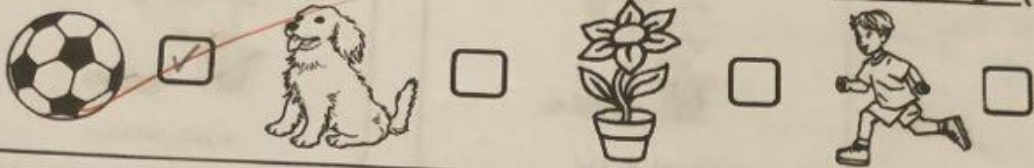
١- الاتجاه الصحيح لنمو جذور النبات :-



٢ جزء من النبات يصنع الغذاء :-





٣) شيء غير حي :-




٤) سلوك غير صحيح :-



السؤال الأول : ضع علامة () أمام العبارة الصحيحة وعلامة (X) أمام العبارة الخاطئة:

- ١- يساعد الساق على نقل الماء والغذاء من الجذور إلى الأوراق. 
- ٢- تعتبر النباتات كائنات حية تنمو وتكبر، تتنفس وتتغذى. 

السؤال الثاني: صل الكلمة بالجزء الدال عليها:



السؤال الثاني: اكتب بين القوسين
الصححة في كل مما يأتي: (1×4) = 4 درجة :

- (1) الأشياء غير الحية تنمو وتكبر وتتلفس مثل .
- (2) المساق يوصل الماء الى جميع اجزاء النبات .
- (3) الشجرة تحتوي على بذرة وتعطينا نباتا جديدا
- (4) النباتات اشياء غير حية لا تنمو ولا تكبر ولا تحتاج الى ماء

السؤال الثالث: من خلال التجارب التي اجريتها في مختبر العلوم لاحظ الصورتين ثم اجب عن المطلوب:-
ماذا يحدث للنبات في كل من الحالات التالية:- (2=1×2) درجة



(2)





(1)

- (1) النبتة التي تنمو وتكبر هي رقم
- (2) النبتة التي تذبل وتموت هي رقم

- 1 - يغطي جسم الدجاجة شعر .  (X)
- 2- الحمار الوحشي من اكلات اللحوم .  (X)
- 3 - السلحفاة من الحيوانات التي تتكاثر بالبيض .  (X)
- 4 - الثعبان لديه هيكل عظمي .  (X)

السؤال الثالث : قام احمد باجراء نشاط داخل مختبر العلوم لتفحص وجود الهيكل العظمي للأسماك و الروبيان من خلال ما درسته ضع علامة (√) او (x) فيما يلي :

2
2

ليس لها عظام	لها عظام	العينة
X	<input checked="" type="checkbox"/> (X)	سمكة 
<input checked="" type="checkbox"/> (X)	X	روبيان 

السؤال الأول : ضع علامة () أمام العبارة الصحيحة وعلامة () أمام العبارة الخاطئة:



هيكل عظمي



يوجد للأمد

حراشف



يغطي جسم النمر

السؤال الثاني: اكتب الرقم المناسب أمام كل مجموعة:



(٤)



(٣)



(٢)



(١)

حيوانات تتكاثر بالبيض

حيوانات تتكاثر بالولادة


٤ ٣

٤ ١

4

السؤال الاول : اختر الاجابة الصحيحة علميا لكل من العبارات التالية بوضع علامة (✓) في المربع المقابل لها : (4 = 1 × 4 درجة)

1- حيوان يغطي جسمه القشور :-



2- يعتبر من الحيوانات التي تزحف :-




3- يعتبر من الحيوانات اكلة الاعشاب :-



4- حيوان يتكاثر بالولادة :-





ريش الاحمامة

صوف الخروف

نشاط منزلي

ريش

قشور

حراشف

ريش

ريش

الجلود الجديدة

شعر

اكتب أسماء الصور منقذة بالكسر



Blank box with a dashed line for writing the name of the palm tree.



Blank box with a dashed line for writing the name of the birthday cake.



Blank box with a dashed line for writing the name of the gift box.



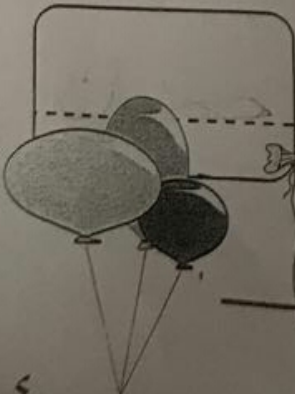
Blank box with a dashed line for writing the name of the baker or the activity.



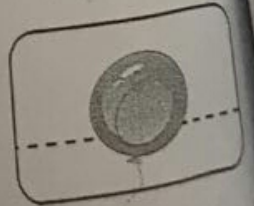
Blank box with a dashed line for writing the name of the school bag.



Blank box with a dashed line for writing the name of the child or the school bag.



Blank box with a dashed line for writing the name of the clown.



المبدع الصغير: _____
الصف: _____

تنوين بالفتح	تنوين بالكسر	تنوين بالضم

KwEduFiles.com

أقرأ الكلمات التالية ثم أكتبها بأنواع التنوين الثلاث :-

بَيْتٌ مِسْطَرَةٌ جَدِيدٌ

الكلمة	تنوين بالضم	تنوين بالكسر	تنوين بالفتح
بَيْتٌ			
مِسْطَرَةٌ			
جَدِيدٌ			

أقرأ الكلمات التالية ثم أكتبها بأنواع التنوين الثلاث :-

بَيْتٌ مِسْطَرَةٌ جَدِيدٌ

الكلمة	تنوين بالضم	تنوين بالكسر	تنوين بالفتح
بَيْتٌ			
مِسْطَرَةٌ			
جَدِيدٌ			