

تم تحميل هذا الملف من موقع ملفات الكويت التعليمية



[com.kwedufiles.www//:https](https://www.kwedufiles.com)

*للحصول على أوراق عمل لجميع الصفوف وجميع المواد اضغط هنا

* للحصول على أوراق عمل لجميع مواد الصف الثاني اضغط هنا

<https://kwedufiles.com/2>

* للحصول على جميع أوراق الصف الثاني في مادة علوم ولجميع الفصول, اضغط هنا

<https://kwedufiles.com/2science>

* للحصول على أوراق عمل لجميع مواد الصف الثاني في مادة علوم الخاصة بـ الفصل الأول اضغط هنا

<https://www.kwedufiles.com/2science1>

* لتحميل كتب جميع المواد في جميع الفصول للـ الصف الثاني اضغط هنا

<https://www.kwedufiles.com/grade2>

[bot_kwlinks/me.t//:https](https://me.t/bot_kwlinks)

للحصول على جميع روابط الصفوف على تلغرام وفيسبوك من قنوات وصفحات: اضغط هنا

الروابط التالية هي روابط الصف الثاني على مواقع التواصل الاجتماعي

مجموعة الفيسبوك

صفحة الفيسبوك

مجموعة التلغرام

بوت التلغرام

قناة التلغرام

رياضيات على التلغرام

الدرس (١): كيف تتنوع أغطية الحيوانات؟

السؤال الأول: اختر الإجابة الصحيحة علمياً لكل من العبارات التالية بوضع علامة (✓) في المربع المقابل لها:

١. يغطي جسم الطيور:

شعر ريش حراشف قشور

السؤال الثاني: ضع علامة (✓) أمام العبارة الصحيحة وعلامة (X) أمام العبارة الغير صحيحة:

١. يغطي جسم الارنب شعر. ()

٢. يغطي جسم الثعبان ريش. ()

السؤال الثالث: أكمل العبارات التالية بما يناسبها علمياً:

١. يغطي جسم السلحفاة.....

٢. يغطي جسم السمكة.....

السؤال الرابع: أكمل الجدول

غطاء الجسم	مكان المعيشة	الحيوان
		
		
		
		

الدرس (٢): كيف يؤثر غطاء الحيوان على حركته؟

السؤال الأول : اختر الإجابة الصحيحة علمياً لكل من العبارات التالية بوضع علامة (✓) في المربع المقابل لها:

١. جميع الأسماك.....
- تمشي تطير تزحف تسبح
٢. الثعبان.....
- يمشي يطير يزحف يسبح

السؤال الثاني: ضع علامة (✓) أمام العبارة الصحيحة وعلامة (X) أمام العبارة الغير صحيحة :

١. الريش يساعد الطائر على الطيران. ()
٢. الحراشف تساعد الخروف على المشي. ()

السؤال الثالث: أكمل العبارات التالية بما يناسبها علمياً:

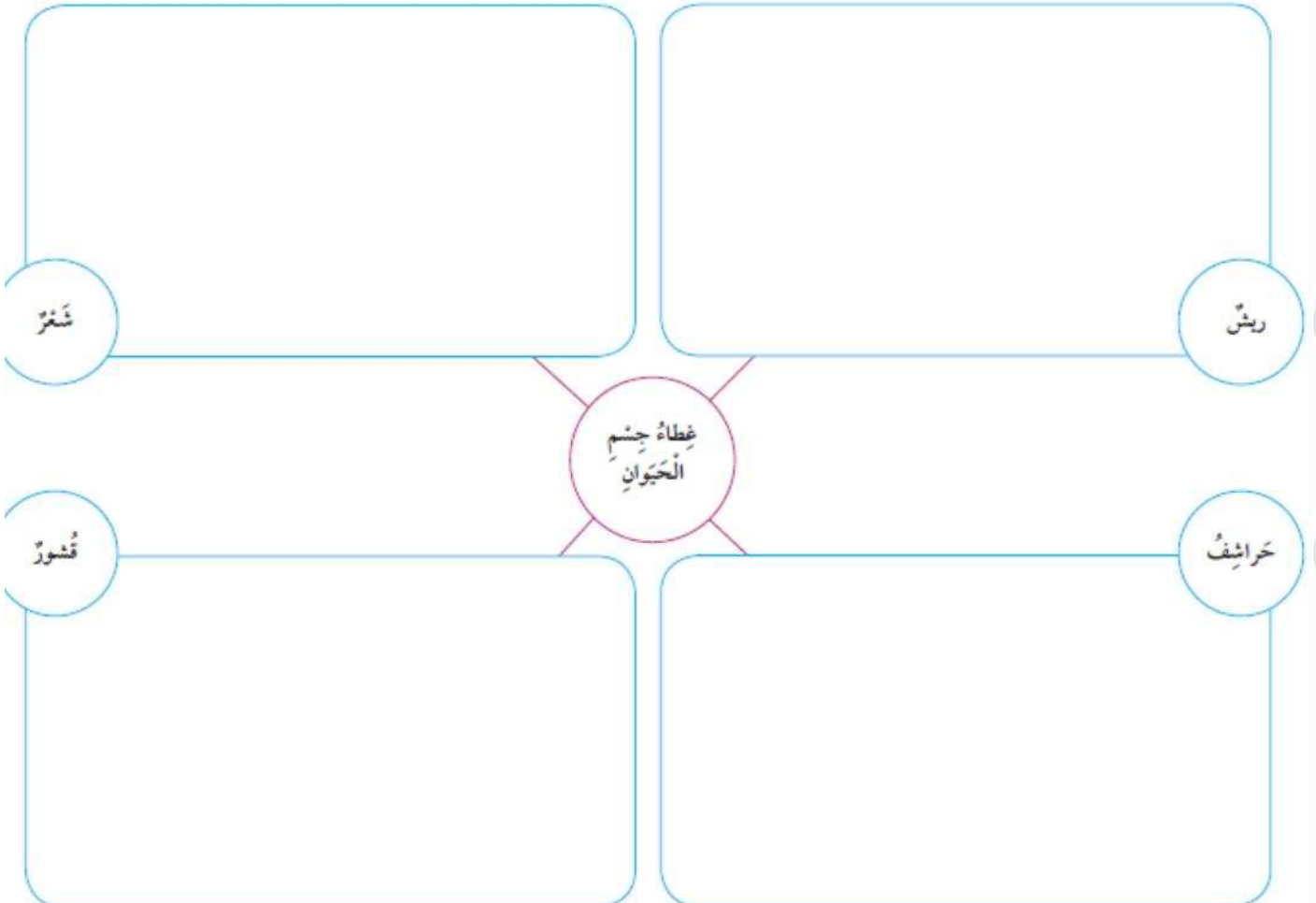
١. غطاء جسم الحيوان يساعده على.....

السؤال الرابع : أكمل الجدول

طريقة الحركة	غطاء الجسم	الحيوان
		
		
		
		



صَنَّفِ الْحَيَوَانَاتِ بِحَسَبِ غِطَاءِ الْجِسْمِ (رِيش - شَعْرٌ - حَرَائِيفُ - قُشُورٌ)



الدرس (٣): ماذا تأكل الحيوانات؟

السؤال الأول: اختر الإجابة الصحيحة علمياً لكل من العبارات التالية بوضع علامة (✓) في المربع المقابل لها:

١. الحيوانات التي تأكل نباتات تسمى

آكلة لحوم آكلة أعشاب آكلة خبز آكلة أسماك

٢. الحيوانات التي تأكل حيوانات أخرى تسمى

آكلة لحوم آكلة أعشاب آكلة خبز آكلة أسماك

السؤال الثاني: ضع علامة (✓) أمام العبارة الصحيحة وعلامة (X) أمام العبارة الغير صحيحة:

١. الحيوانات التي تأكل نباتات تسمى آكلة لحوم. ()
٢. الأسد من الحيوانات آكلة الأعشاب. ()


السؤال الثالث: أكمل العبارات التالية بما يناسبها علمياً:

١. العصفور من الحيوانات آكلة.....
٢. النمر من الحيوانات آكلة.....

السؤال الرابع: (□) اختر من المجموعة (ب) ما يناسبها من المجموعة (أ) بوضع الرقم المناسب

الرقم	(أ)	(ب)
١	من الحيوانات آكلة اللحوم.	
٢	من الحيوانات آكلة الأعشاب.	

صِلْ بَيْنَ كُلِّ حَيَوَانٍ وَالطَّعَامِ الَّذِي يَأْكُلُهُ.



الدرس (٤): كيف تتكاثر الحيوانات؟

السؤال الأول: اختر الإجابة الصحيحة علمياً لكل من العبارات التالية بوضع علامة (✓) في المربع المقابل لها:

١. من الحيوانات التي تلد:

البطة السمكة البقرة السلحفاة

٢. من الحيوانات التي تبيض:

القطعة الدجاجة البقرة الماعز

السؤال الثاني: ضع علامة (✓) أمام العبارة الصحيحة وعلامة (X) أمام العبارة الغير صحيحة:

١. بعض الحيوانات يلد وبعضها يبيض. ()



٢. الجمل من الحيوانات التي تبيض. ()

السؤال الثالث: أكمل العبارات التالية بما يناسبها علمياً:

١. من الحيوانات التي تلد.

٢. من الحيوانات التي تبيض.

السؤال الرابع: (أ) اختر من المجموعة (ب) ما يناسبها من المجموعة (أ) بوضع الرقم المناسب

الرقم	(أ)	(ب)
١	من الحيوانات التي تبيض	
٢	من الحيوانات التي تلد	

(ب) اكتب أسماء حيوانات تتكاثر بالبيض وأخرى بالولادة.

تبيض	تلد
.....
.....

الدرس (٥): ما وظيفة العظام؟

السؤال الأول: اختر الإجابة الصحيحة علمياً لكل من العبارات التالية بوضع علامة (✓) في المربع المقابل لها:

١. العظام تساعدني على:
- التفكير الحركة النوم التسلية
٢. العظام تجعل جسمي.....:
- كسولاً نشيطاً متماسكاً ضعيفاً

السؤال الثاني: ضع علامة (✓) أمام العبارة الصحيحة وعلامة (X) أمام العبارة الغير صحيحة:

١. العظام تجعل جسمي متماسكاً ومنتصباً. ()
٢. العظام تساعدني على المشي والركض. ()

السؤال الثالث: أكمل العبارات التالية بما يناسبها علمياً:

١. العظام تجعل جسمي.....و.....
٢. العظام تساعدني على و.....

السؤال الرابع: اختر من المجموعة (ب) ما يناسبها من المجموعة (أ) بوضع الرقم المناسب

الرقم	(أ)	(ب)
 تساعدني على الحركة	متماسكاً
	العظام تجعل جسمي	الكلام
		العظام

الدرس (٦): هل للكائنات الحية هيكل عظمي؟

السؤال الأول : اختر الإجابة الصحيحة علمياً لكل من العبارات التالية بوضع علامة (✓) في المربع المقابل لها:

١. من الحيوانات التي لها هيكل عظمي:

القطعة النملة الربيان الذباب

٢. من الحيوانات التي ليس لها هيكل عظمي:

القطعة البقرة الكلب النحلة

السؤال الثاني: ضع علامة (✓) أمام العبارة الصحيحة وعلامة (X) أمام العبارة الغير صحيحة :

١. بعض الحيوانات لها هيكل عظمي. ()

٢. كل الحيوانات ليس لها هيكل عظمي. ()



السؤال الثالث: أكمل العبارات التالية بما يناسبها علمياً:

١. من الحيوانات التي لها هيكل عظمي.

٢. من الحيوانات التي ليس لها هيكل عظمي.

السؤال الرابع : أكمل الجدول التالي

ضع علامة ✓ أو ✗

لَيْسَ لَهَا عِظَامٌ	لَهَا عِظَامٌ	الْمَيْتَةُ
		
		

الدرس (٧): ما السلسلة الغذائية؟

السؤال الأول: اختر الإجابة الصحيحة علمياً لكل من العبارات التالية بوضع علامة (✓) في المربع المقابل لها:

١. تعتمد الكائنات الحية على بعضها بعضاً للحصول على.....

العلوم

الغذاء

النقود

القشور

٢. تبدأ السلسلة الغذائية بـ.....

الأسماك

الطيور

النباتات

الحيوانات

السؤال الثاني: ضع علامة (✓) أمام العبارة الصحيحة وعلامة (X) أمام العبارة الغير صحيحة :

١. تبدأ السلسلة الغذائية بالزواحف. ()

٢. تعتمد الكائنات الحية على بعضها بعضاً للحصول على غذائها. ()


السؤال الثالث: أكمل العبارات التالية بما يناسبها علمياً:

١. تبدأ السلسلة الغذائية بـ.....

٢. تعتمد الكائنات الحية على بعضها بعضاً للحصول على.....

السؤال الرابع:

١- أكمل السلسلة الغذائية.



٢- رتب السلسلة الغذائية

