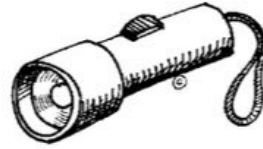


شبكة


بأبوظبي




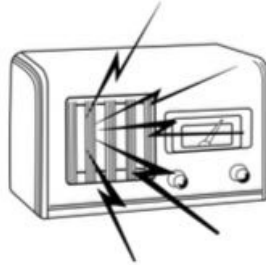

ساعد خالد ليضع الأدوات المناسبة في الحقيبة لتحميه من أشعة الشمس .



ذهب سامي للبحر في يوم مشمس ، ارسم الوسائل التي تحميه من أشعة الشمس:







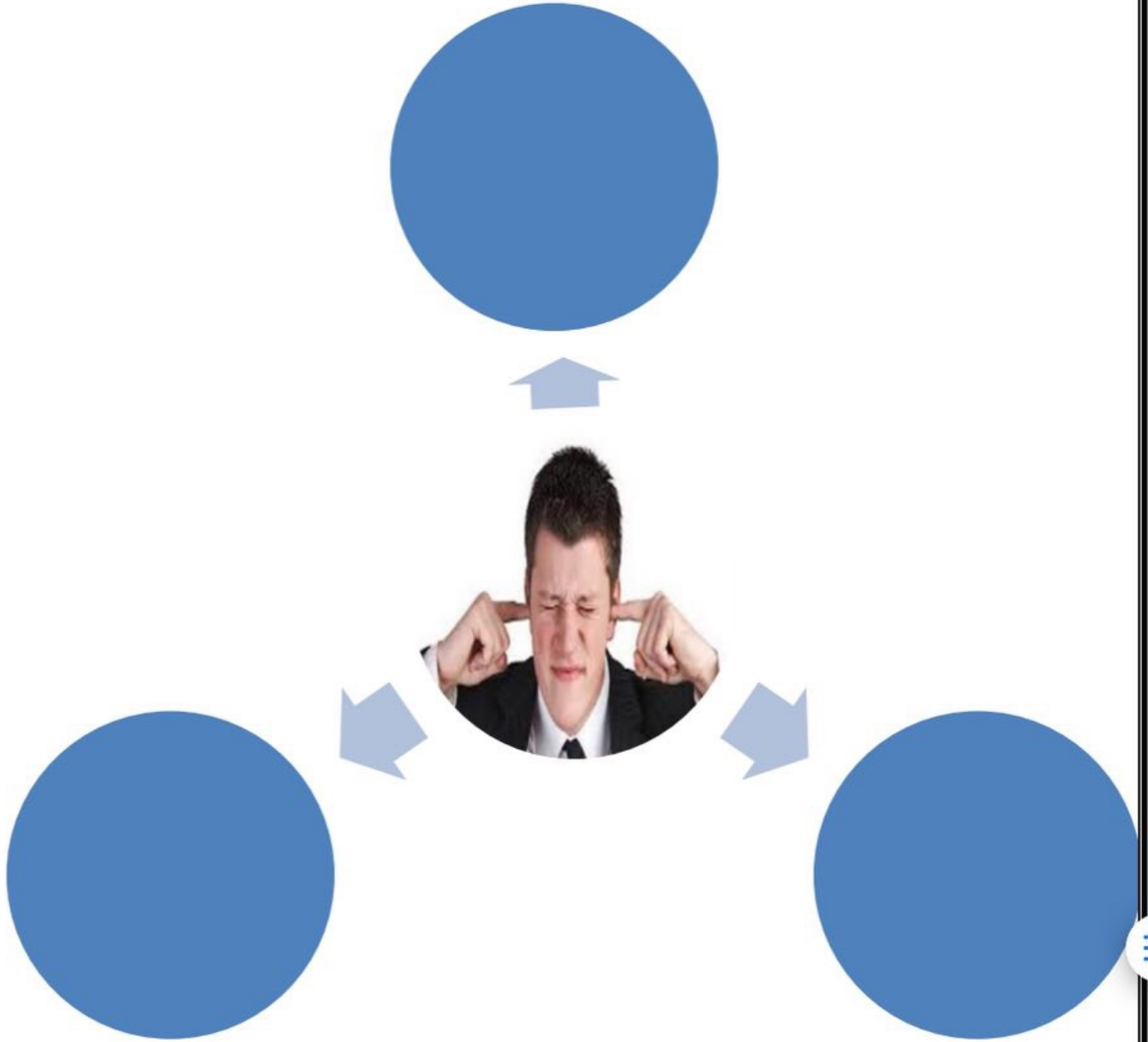
ضع خطأ تحت الأشياء التي تصدر أصواتًا مفيدة، و دائرة حول الأشياء التي تصدر أصواتًا مزعجة ضارة بالأذن




ضع ○ حول الصوت المزعج و □ حول الصوت غير المزعج



ماذا تتوقع ان يكون الصوت الذي سمعة الرجل ؟



صل الأصوات غير المزعجة بصورة الولد:





ا/ اقرأ الفقرة التالية واجب عما يلي:

كان حمد نائماً في سريره وفجأة قام منزعاً من نومه ساعد حمد في معرفة

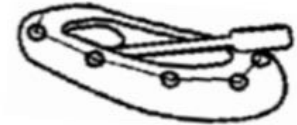

الصوت الذي أزعجه

ا/ اختر الإجابة الصحيحة مما بين القوسين:



نفعه عند سماع احد الأصوات التالية

ب/ هذا التصرف

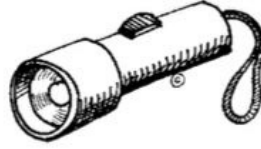


لون الأصوات المزعجة بلون أحمر و الأصوات غير المزعجة بلون أخضر :-




ضع ○ حول الاداة المناسبة التي تساعد سالم لحماية اذنة من الأصوات المزعجة :-


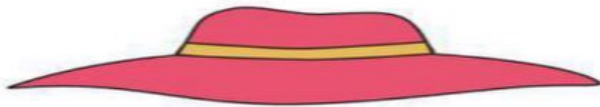




ذهب سامي للبحر في يوم مشمس ، ارسم الوسائل التي تحميه من أشعة الشمس:



- اختر الأدوات المناسبة للحماية من أخطار حرارة وضوء الشمس



حوظ الشيء الذى تسبب فى إصابة الفتاة:



أضف الأشياء التي ستحمي الولد من حرارة الشمس وذلك برسمها في المكان المناسب:



صنف الممارسات التي أمامك الى أمن وغير أمن في الجدول الذي أمامك :-



| تصرف غير أمن | تصرف امن |
|--------------|----------|
|              |          |

