



وزارة
التربية
الإدارة العامة لمنطقة الأحمدى التعليمية
مدرسة هدية الابتدائية بنين

وسائل الوحدة (٩)

WWW.KweduFiles.Com

للمصف الأول



• المعلمة مشاعل القحطاني

• رئيسة القسم : شيمه المطيري

إعداد

إشراف

قياس الوقت (الساعات الكاملة)

WWW.KweduFiles.Com

بند (٩-١)

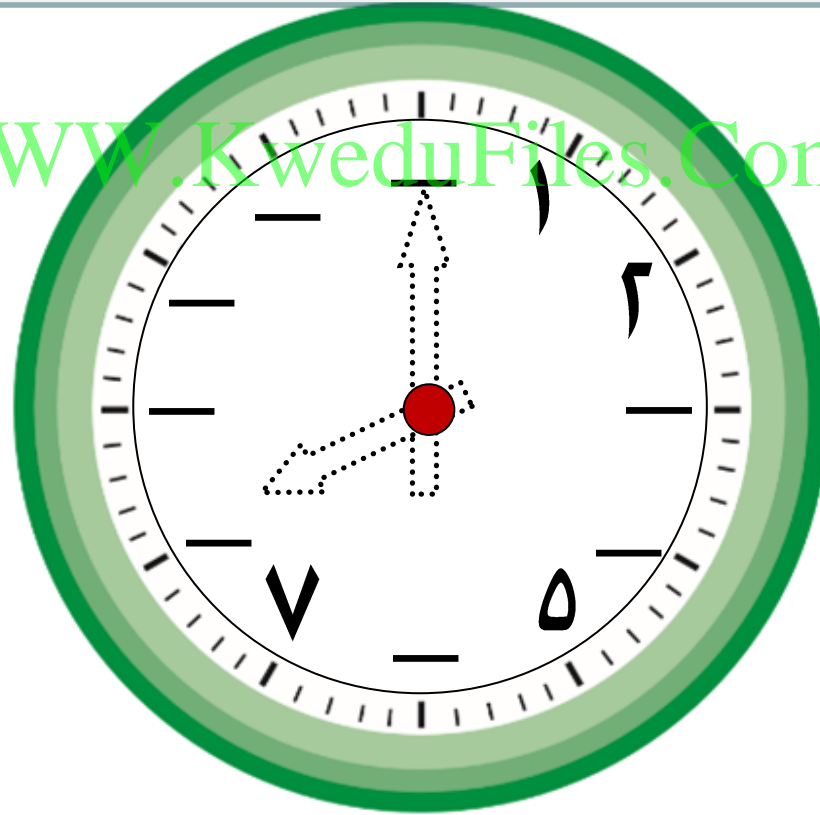


اكتب رموز الأعداد الناقصة

ولون العقربين لتوضح الساعة الثامنة.




www.KweduFiles.Com



اكتب الوقت




www.KweduFiles.Com



:

اكتب الوقت





⋮



اكتب الوقت



www.KweduFiles.Com



أكمل الجدول الزمني موضحاً الأنشطة

اليومية خلال اليوم .



WWW.KweduFiles.Com

يوم في المدرسة			يوم في البيت		
إلى	من	النشاط	إلى	من	النشاط
٩:٠٠	٨:٠٠	حصة الرياضيات			الإفطار
١٠:٠٠	٩:٠٠	حصة التربية البدنية			حل الواجبات



غادر خالد البيت الساعة: ٥:٠٠



و وصل إلى الملعب الساعة: ٦:٠٠

ارسم العقربين لتحدد الوقت على كل من الرسمين.

ساعة الوصول

ساعة المغادرة

WWW.KweduFiles.Com



• الوقت (قبل-بعد)
WWW.KweduFiles.Com

بند (۹-۲)



ارسم عقرب الساعة الصغير لتوضيح قبل وبعد الساعة المرسومة.



بعد ساعة واحدة

قبل ساعة واحدة

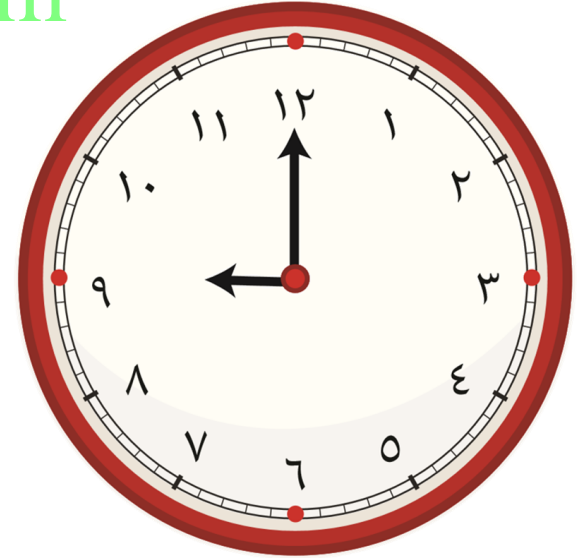
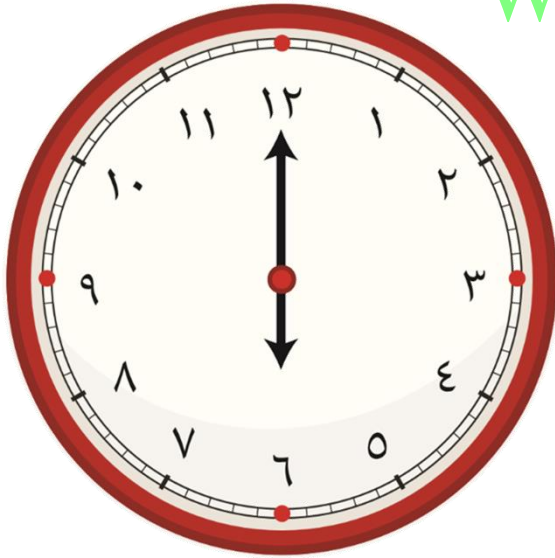


يذهب خالد إلى النادي الرياضي لممارسة رياضته المفضلة الساعة

٥:٠٠ ، ويذهب محمد الساعة ٧:٠٠ ، ويذهب يوسف بعد خالد و

قبل محمد . حوط الساعة التي يذهب فيها يوسف إلى النادي :

WWW.KweduFiles.Com



• مسائل تحوي الوقت

WWW.KweduFiles.Com

بند (٣-٩)



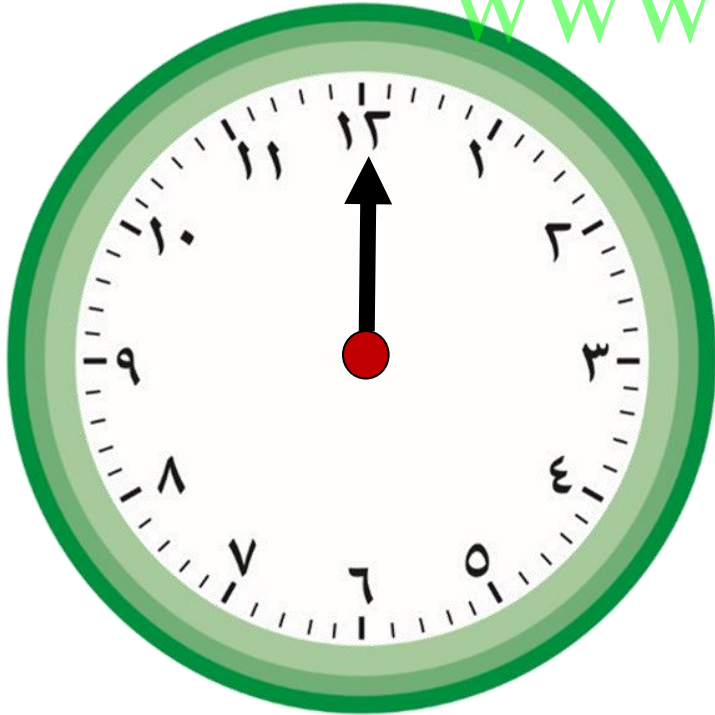
حل المسألة التالية . بإمكانك استخدام نموذج الساعة (ارسم عقرب الساعة)

يبدأ النشاط الرياضي في المدرسة في اليوم المفتوح الساعة ٩ : ٠٠ ،

ويستمر لمدة ٤ ساعات . إذا كانت الساعة الآن ١٢ : ٠٠ . فكم عدد الساعات

www.KweduFiles.Com


الباقية لليوم الرياضي ؟ ساعة _____



حل المسألة التالية . بإمكانك استخدام نموذج الساعة (ارسم عقرب الساعة)

وصل خالد إلى الملعب الساعة ٥:٠٠ مساءً ، قبل بدء المباراة بساعتين .

كم الساعة التي تبدأ فيها المباراة؟



WWW.KweduFiles.Com

حل المسألة التالية . بإمكانك استخدام نموذج الساعة (ارسم عقرب الساعة)



تغادر شهد المنزل الساعة ٤:٠٠

وتغادر الأم المنزل بعد شهد بساعة .

WWW.KweduFiles.Com

إذا كانت الساعة الآن ٣:٠٠

فكم عدد الساعات الباقية لخروج الأم؟

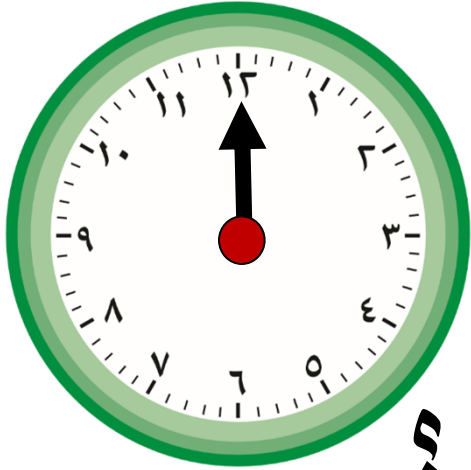
حل المسألة التالية . بإمكانك استخدام نموذج الساعة (ارسم عقرب الساعة)

تصل سوسن إلى السوق الساعة ٦ : ٠٠ مساءً



بينما تصل فاطمة الساعة ٧ : ٠٠ مساءً

WWW.KweduFiles.Com



وتصل حصّة قبل سوسن بساعة واحدة .

فكم الساعة التي وصلت فيها حصّة إلى السوق ؟




•مراجعة الوحدة التاسعة

WWW.KweduFiles.Com

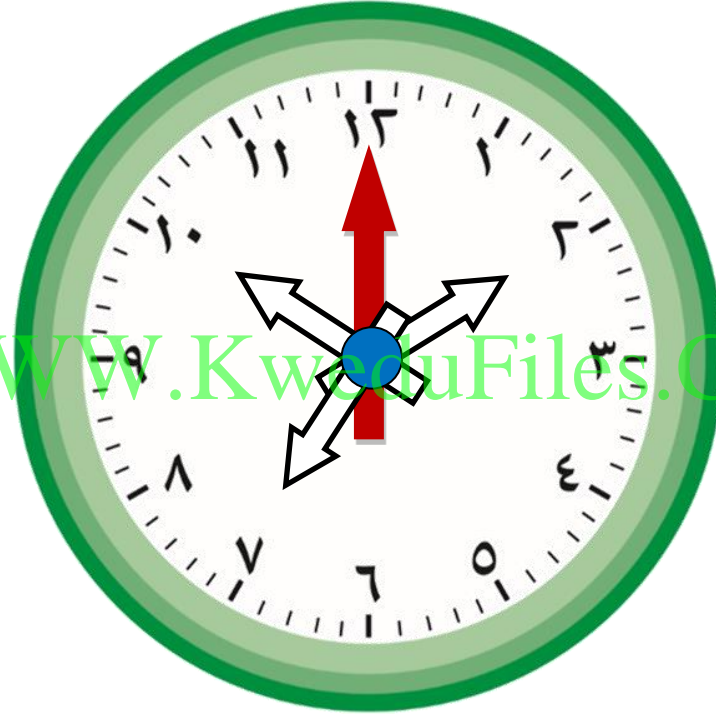
بند (٩-٥)




لون عقرب الساعة المناسب باللون



لون عقرب الساعة المناسب باللون

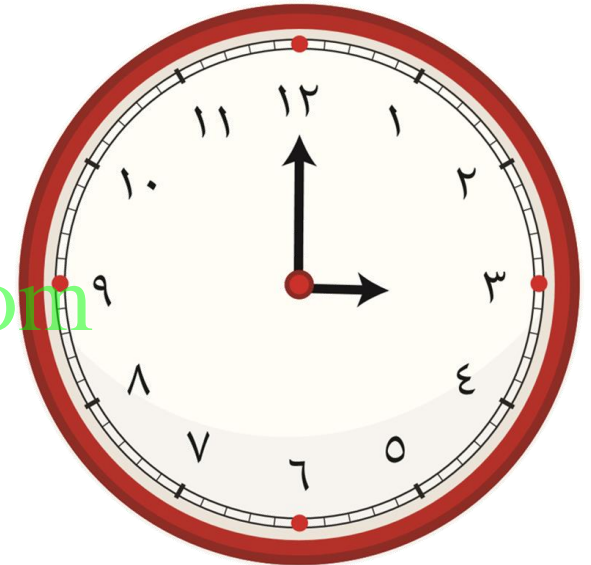
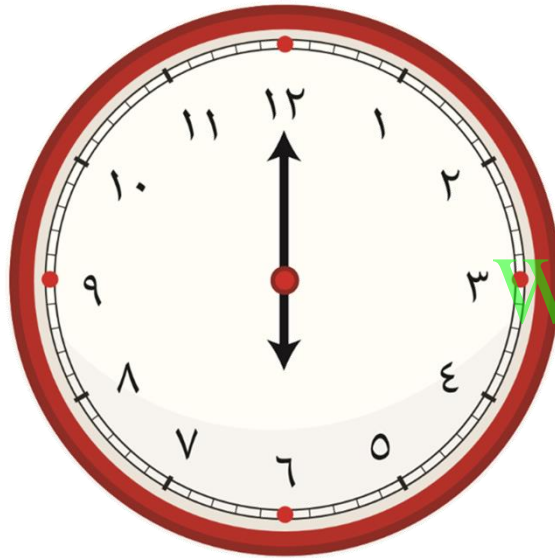


WWW.KwacuFiles.Com



٢:٠٠

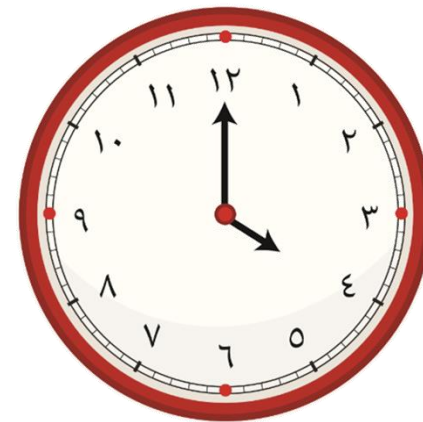

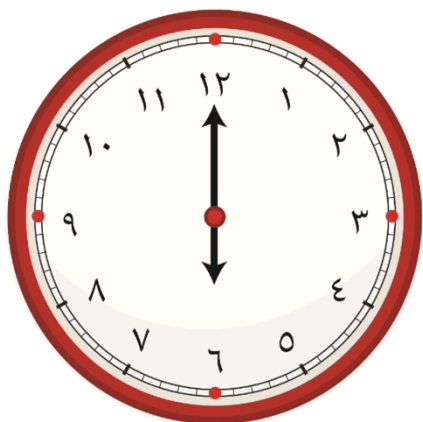

حوظ الساعة المناسبة للوقت الموضح.



٣ : ٠٠

صل كل صورة بالساعة المناسبة لزمان الانتهاء من الدراسة


استغرق كل من مها وسعد وحمد ساعتين في الدراسة.



ذهب خالد إلى الملعب الساعة ٧:٠٠، قبل المباراة



بساعة. كم الساعة التي بدأت فيها المباراة؟



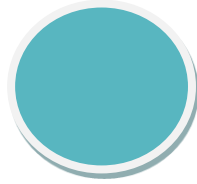

ارسم عقربي الساعة. www.KweduFiles.Com

ضع علامة ✓ لآخر من تناول طعام الغداء

أسامة



رغد



فايز

