

أوراق عمل الوحدة (١١) للصف الأول

www.KweduFiles.Com : إعدادات المعلمات

أ. حميدة الشمري & أ. عذاري العازمي & أ. منال العجمي & أ. عبير نبيل

رئيسة القسم : أ. شيماء المطيري

الموجه الفني : أ. فهيد العجمي

مديرة المدرسة : أ. عذبية المطيري

جمع/ طرح الأعداد ٠ ← ٢٠

WWW.KweduFiles.Com

بند (١١-١)



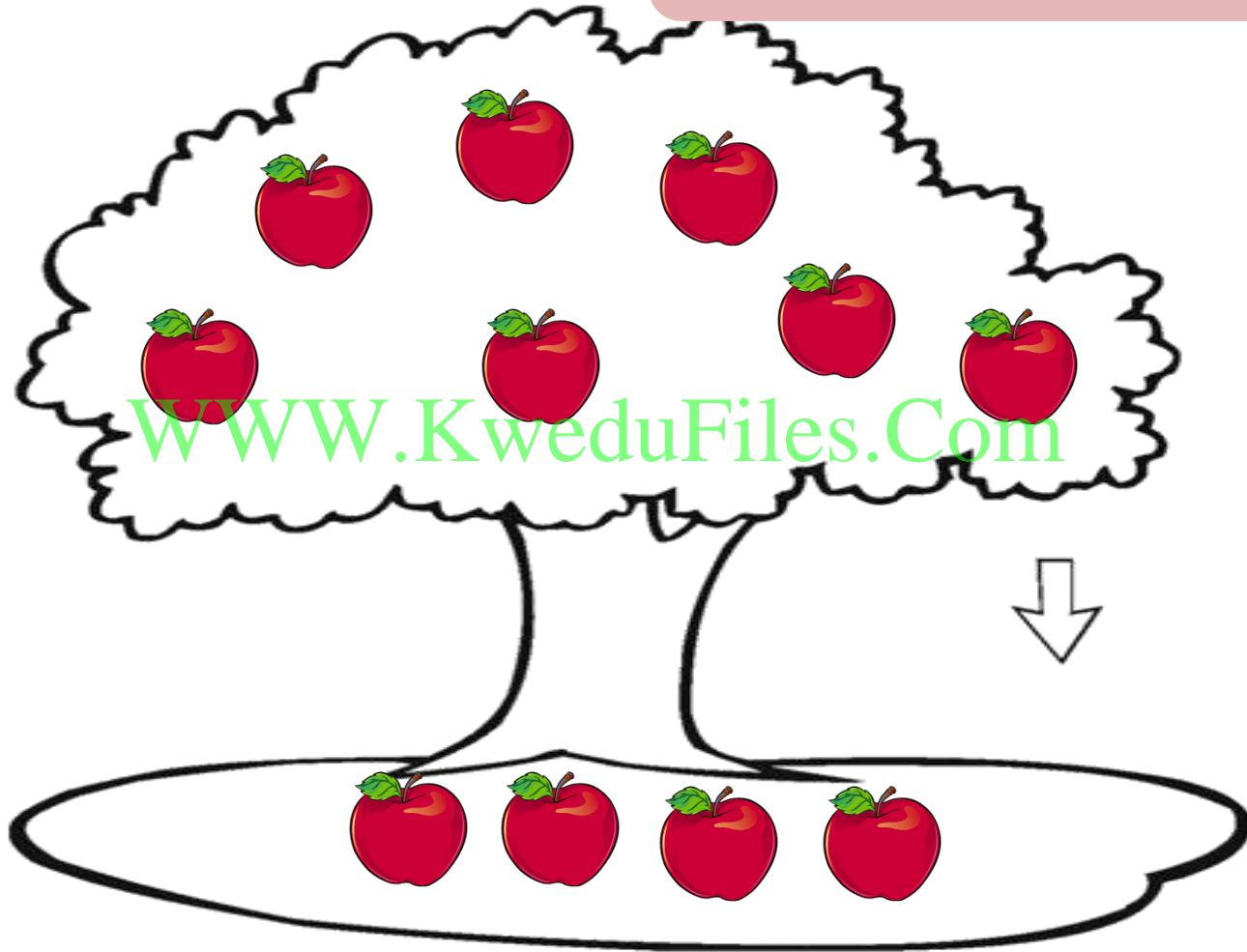
عبر عن الصورة بعبارة مناسبة :



أطفال




عبر عن الصورة بعبارة مناسبة :




تفاحة

=




أكمل



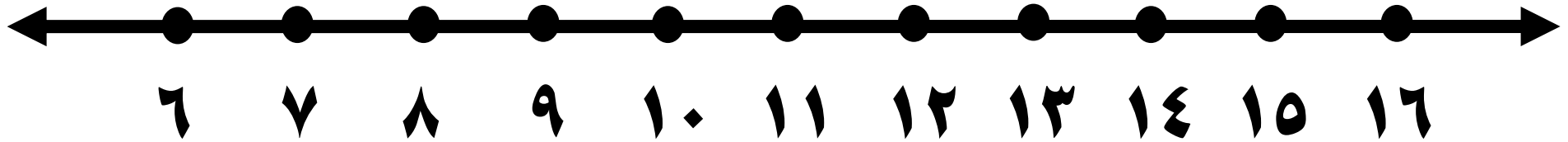
$$\underline{\hspace{2cm}} = \underline{\hspace{2cm}} - \underline{\hspace{2cm}}$$

أكمل



$$\underline{\quad} = \underline{\quad} + \underline{\quad}$$

أوجد الناتج . باستخدام خط الأعداد .



WWW.KweduFiles.Com

$$\underline{\hspace{2cm}} = 3 + 8$$


$$\underline{\hspace{2cm}} = 2 - 13$$

أوجد الناتج . بإمكانك استخدام العناصر.


$$\underline{\hspace{2cm}} = 7 + 7$$

WWW.KweduFiles.Com


$$\underline{\hspace{2cm}} = 6 - 10$$




أوجد الناتج . بإمكانك استخدام العناصر.



WWW.KweduFiles.Com



أوجد الناتج . بإمكانك استخدام العناصر.



WWW.KweduFiles.Com



جمع الأعداد ← ٢٠


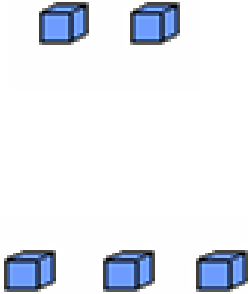
WWW.KweduFiles.Com

بند (١١-٢)



اجمع

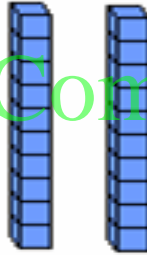
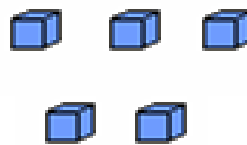
عشرات	آحاد
١	٢
١	٢ +

عشرات	وحدات
	

www.KweduFiles.Com

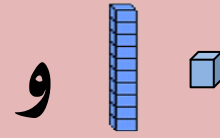
اجمع

عشرات	آحاد
٢	٥
	+

عشرات	وحدات
	

www.KweduFiles.Com

وحدات	عشرات



و

اجمع . بإمكانك استخدام

عشرات	أحاد
١	٠
١	٠ +

عشرات	أحاد
١	٤
	٢ +

عشرات	أحاد
١	٦
	٠ +



www.kwedufiles.com

طرح الأعداد ٠ ← ٣٠

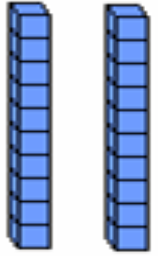
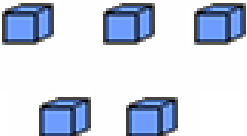
WWW.KweduFiles.Com

بند (١١-٣)



اشطب   لتطرح .

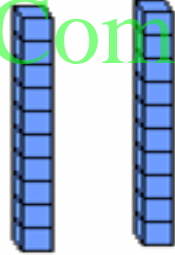

عشرات	آحاد
٢	٥
	٤

عشرات	وحدات
	

www.KweduFiles.Com

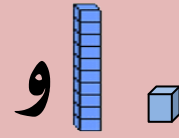
اشطب | لتطرح .

عشرات	آحاد
٢	٦
١	٤ -

عشرات	وحدات
	

WWW.KweduFiles.Com

وحدات	عشرات



اطرح . بإمكانك استخدام

عشرات	أحاد
٢	٧
٢	٠ -

عشرات	أحاد
٢	٢
١	٢ -

عشرات	أحاد
٣	٠
١	٠ -

www.KweduFiles.Com

جمع الأعداد ٠ ← ٣٠ مع إعادة التسمية


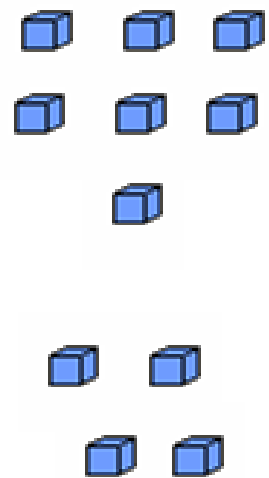
WWW.KweduFiles.Com

بند (٤-١١)



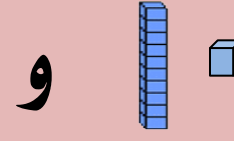
اجمع

عشرات	آحاد
١	٧ ٤ +

عشرات	وحدات
	

www.KweduFiles.Com

وحدات	عشرات



اجمع . بإمكانك استخدام

عشرات	أحاد
١	٨ ٢ +

عشرات	أحاد
١	٤ ٩ +

عشرات	أحاد
١	٧ ٥ +

www.KweduFiles.Com

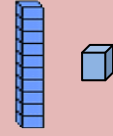
طرح الأعداد ٠ ← ٣٠ مع إعادة التسمية

WWW.KweduFiles.Com

بند (٥-١١)



لتطرح .




اشطب

عشرات	آحاد
٢	٤
	٥ -

عشرات	وحدات

WWW.KweduFiles.Com

لتطرح .



اشطب

عشرات	آحاد
٢	٣ ٦

عشرات	وحدات

www.KweduFiles.Com

عشرات	وحدات

اطرح بإمكانك استخدام  و

عشرات	أحاد
٢	٠
	٢ _

عشرات	أحاد
٢	٤
	٦ _

عشرات	أحاد
٢	٣
	٧ _

www.KweduFiles.Com


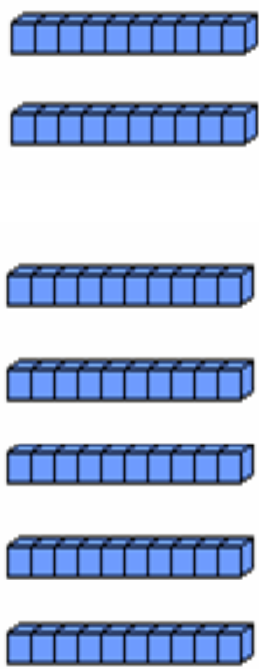
جمع بالعشرات

WWW.KweduFiles.Com




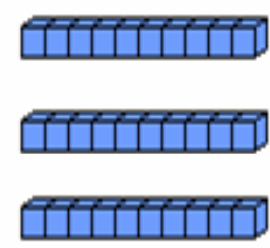


بند (۱۱-۶)







اجمع



WWW.KweduFiles.Com



اجمع



www.KweduFiles.Com

اجمع . بإمكانك استخدام لوحة المئة .

١٠٠	٩٩	٩٨	٩٧	٩٦	٩٥	٩٤	٩٣	٩٢	٩١
٩٠	٨٩	٨٨	٨٧	٨٦	٨٥	٨٤	٨٣	٨٢	٨١
٨٠	٧٩	٧٨	٧٧	٧٦	٧٥	٧٤	٧٣	٧٢	٧١
٧٠	٦٩	٦٨	٦٧	٦٦	٦٥	٦٤	٦٣	٦٢	٦١
٦٠	٥٩	٥٨	٥٧	٥٦	٥٥	٥٤	٥٣	٥٢	٥١
٥٠	٤٩	٤٨	٤٧	٤٦	٤٥	٤٤	٤٣	٤٢	٤١
٤٠	٣٩	٣٨	٣٧	٣٦	٣٥	٣٤	٣٣	٣٢	٣١
٣٠	٢٩	٢٨	٢٧	٢٦	٢٥	٢٤	٢٣	٢٢	٢١
٢٠	١٩	١٨	١٧	١٦	١٥	١٤	١٣	١٢	١١
١٠	٩	٨	٧	٦	٥	٤	٣	٢	١

$$\underline{\quad\quad} = ١٠ + ٣٤$$

$$\underline{\quad\quad} = ٢٠ + ٤٥$$

$$\underline{\quad\quad} = ٤٠ + ٢١$$

$$\underline{\quad\quad} = ٥٠ + ٢٠$$

اجمع . بإمكانك استخدام لوحة المئة .

١٠٠	٩٩	٩٨	٩٧	٩٦	٩٥	٩٤	٩٣	٩٢	٩١
٩٠	٨٩	٨٨	٨٧	٨٦	٨٥	٨٤	٨٣	٨٢	٨١
٨٠	٧٩	٧٨	٧٧	٧٦	٧٥	٧٤	٧٣	٧٢	٧١
٧٠	٦٩	٦٨	٦٧	٦٦	٦٥	٦٤	٦٣	٦٢	٦١
٦٠	٥٩	٥٨	٥٧	٥٦	٥٥	٥٤	٥٣	٥٢	٥١
٥٠	٤٩	٤٨	٤٧	٤٦	٤٥	٤٤	٤٣	٤٢	٤١
٤٠	٣٩	٣٨	٣٧	٣٦	٣٥	٣٤	٣٣	٣٢	٣١
٣٠	٢٩	٢٨	٢٧	٢٦	٢٥	٢٤	٢٣	٢٢	٢١
٢٠	١٩	١٨	١٧	١٦	١٥	١٤	١٣	١٢	١١
١٠	٩	٨	٧	٦	٥	٤	٣	٢	١

٢٥

٣٤

٣٠ +

١٠ +

www.kwedufiles.com

طرح العشرات

WWW.KweduFiles.Com

بند (٧-١١)





اشرح . بإمكانك استخدام

$$\begin{array}{r} 30 \\ \square + \\ \hline 70 \end{array}$$

www.KweduFiles.Com

$$\begin{array}{r} 70 \\ 30 - \\ \hline \square \end{array}$$

اطرح . بإمكانك استخدام لوحة المئة .

١٠٠	٩٩	٩٨	٩٧	٩٦	٩٥	٩٤	٩٣	٩٢	٩١
٩٠	٨٩	٨٨	٨٧	٨٦	٨٥	٨٤	٨٣	٨٢	٨١
٨٠	٧٩	٧٨	٧٧	٧٦	٧٥	٧٤	٧٣	٧٢	٧١
٧٠	٦٩	٦٨	٦٧	٦٦	٦٥	٦٤	٦٣	٦٢	٦١
٦٠	٥٩	٥٨	٥٧	٥٦	٥٥	٥٤	٥٣	٥٢	٥١
٥٠	٤٩	٤٨	٤٧	٤٦	٤٥	٤٤	٤٣	٤٢	٤١
٤٠	٣٩	٣٨	٣٧	٣٦	٣٥	٣٤	٣٣	٣٢	٣١
٣٠	٢٩	٢٨	٢٧	٢٦	٢٥	٢٤	٢٣	٢٢	٢١
٢٠	١٩	١٨	١٧	١٦	١٥	١٤	١٣	١٢	١١
١٠	٩	٨	٧	٦	٥	٤	٣	٢	١

$$\underline{\hspace{2cm}} = ٢٠ - ٥٢$$

$$\underline{\hspace{2cm}} = ٢٠ - ٧٧$$

$$\underline{\hspace{2cm}} = ٦٠ - ٩٠$$

$$\underline{\hspace{2cm}} = ١٠ - ١٧$$

اطرح. بإمكانك استخدام لوحة المئة.

١٠	٩	٨	٧	٦	٥	٤	٣	٢	١
٢٠	١٩	١٨	١٧	١٦	١٥	١٤	١٣	١٢	١١
٣٠	٢٩	٢٨	٢٧	٢٦	٢٥	٢٤	٢٣	٢٢	٢١
٤٠	٣٩	٣٨	٣٧	٣٦	٣٥	٣٤	٣٣	٣٢	٣١
٥٠	٤٩	٤٨	٤٧	٤٦	٤٥	٤٤	٤٣	٤٢	٤١
٦٠	٥٩	٥٨	٥٧	٥٦	٥٥	٥٤	٥٣	٥٢	٥١
٧٠	٦٩	٦٨	٦٧	٦٦	٦٥	٦٤	٦٣	٦٢	٦١
٨٠	٧٩	٧٨	٧٧	٧٦	٧٥	٧٤	٧٣	٧٢	٧١
٩٠	٨٩	٨٨	٨٧	٨٦	٨٥	٨٤	٨٣	٨٢	٨١
١٠٠	٩٩	٩٨	٩٧	٩٦	٩٥	٩٤	٩٣	٩٢	٩١

٨٣

٧٠

٥٠ -

٤٠ -

www.kwedufiles.com

جمع عدد مكون رمزه من رقمين مع عدد

مكون رمزه من رقم واحد

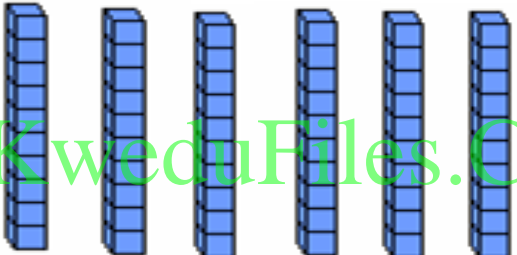


WWW.KweduFiles.Com

بند (١١-٨)



اجمع

عشرات	أحاد
٦	٢ ٤ +

عشرات	وحدات
	 

www.KweduFiles.Com

وحدات	عشرات

اجمع . بإمكانك استخدام  و

عشرات	آحاد
٩	٥
	٢ +

عشرات	آحاد
٧	١
	٦ +

عشرات	آحاد
٤	٥
	٢ +

www.kwedufiles.com

جمع عددین مکون رمز کل منہما من رقمین ۰ ← ۱۰۰

WWW.KweduFiles.Com

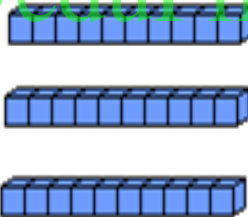



بند (۹-۱۱)




اجمع

عشرات	آحاد
٢	٢
٢	٢ +

www.KweduFiles.Com

عشرات	وحدات
	
	

عشرات	وحدات



و



اجمع . بإمكانك استخدام

عشرات	أحاد
٧	٢
١	٢ +

عشرات	أحاد
٥	٠
٣	١ +

عشرات	أحاد
٤	٢
٢	٢ +

www.KweduFiles.Com

**طرح عدد مڪون رمزه من رقم واحد من آخر
مڪون رمزه من رقمين**

WWW.KweduFiles.Com

بند (۱۰-۱۱)



لتطرح



اشطب

عشرات	آحاد
٥	٥
	٤ -

www.KweduFiles.Com

عشرات	وحدات

وحدات	عشرات

و



اطرح . بإمكانك استخدام

عشرات	آحاد
٩	٦
	٥ -

عشرات	آحاد
١	٨
	٤ -



عشرات	آحاد
٦	٤
	٤ -

www.KweduFiles.Com

طرح عدد من آخر مكون رمز كل منهما من رقمين

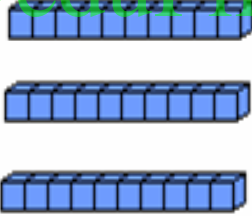

WWW.KweduFiles.Com
بند (١١-١١)



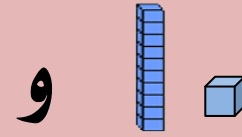
اشطب   لتطرح

عشرات	آحاد
٢	٤
١	٢

www.KweduFiles.Com

عشرات	وحدات
	

وحدات	عشرات



و

اطرح . بإمكانك استخدام

عشرات	آحاد
٨	٢
٥	٠

عشرات	آحاد
٢	٧
١	٧

عشرات	آحاد
٦	٥
٤	١


www.KweduFiles.Com

حل مسائل جمع / طرح للأعداد ٠ ← ١٠٠

WWW.KweduFiles.Com
بند (١١-١٢)




حل بدون أن تجمع أو تطرح . لون الإجابة المعقولة



لدى خالد ٣٤ .

WWW.KweduFiles.Com

ولدى أحمد ١٣ .



كم عدد ؟ كلها ؟

حل بدون أن تجمع أو تطرح . لون الإجابة المعقولة

مع محمد ١٢ ، ومع فهد ٢٣ 

WWW.KweduFiles.Com

بكم يزيد عدد  لدى فهد على ما لدى محمد ؟

٢٥ طائرة

١١ طائرة

استخدام البيانات




WWW.KweduFiles.Com
بند (١١-١٢)



أكمل جدول العلامات .

اللعبة المفضلة		
العدد	علامات العد	اللعبة المفضلة
١٠		
		
١٥		

استخدم التمثيل البياني بالرسم للإجابة عن الأسئلة التالية:

اللعبة المفضلة																	
																	
																	
																	

كم عدد الذين يفضلون كلا من  و  ؟ _____

بكم يزيد  على  ؟ _____

إيجاد العدد المجهول

WWW.KweduFiles.Com

بند (١١-١٤)



اشطب لإيجاد العدد المجهول .

..



$$٣٢ = \square + ١١$$

اشطب لإيجاد العدد المجهول .



$$٤٢ = \square + ٢١$$

أوجد العدد المجهول .

$$٢١ = \square - ٥٥$$

WWW.KweduFiles.Com

$$٦١ = \square - ٧٨$$

$$٣٠ = \square - ٤٩$$

أوجد العدد المجهول .

$$\begin{array}{r} ٧ \quad ٩ \\ \square \quad \square - \\ \hline ٤ \quad ٤ \end{array}$$

$$\begin{array}{r} ٦ \quad ٤ \\ \square \quad \square - \\ \hline ٣ \quad ١ \end{array}$$

$$\begin{array}{r} ٥ \quad ٨ \\ \square \quad \square - \\ \hline ٢ \quad ٧ \end{array}$$

WWW.KweduFiles.Com