

هنا جميع روابط وقنوات صفوف الكويت التعليمية المميزة

<https://t.me/joinchat/AAAAAE040LBCM5TO6wNB2w>

إيكم التطبيق الرسمي لموقع المناهج الكويتية على متجرجوجل
بلاي

[https://play.google.com/store/apps/details?
id=com.almanahj.myapplication](https://play.google.com/store/apps/details?id=com.almanahj.myapplication)

للانضمام على التلغرام ماعليكم سوى الضغط على اسم الصف
المطلوب:

[قناة المناهج الكويتية / قروب مدرسون في الكويت](#)

[الصف الأول](#)

[الصف الثاني](#)

[الصف الثالث](#)

[الصف الرابع](#)

[الصف الخامس](#)

[الصف السادس](#)

[الصف السابع](#)

[الصف الثامن](#)

[الصف التاسع](#)

[الصف العاشر](#)

[الصف الحادي عشر العلمي / الصف الحادي عشر الأدبي](#)

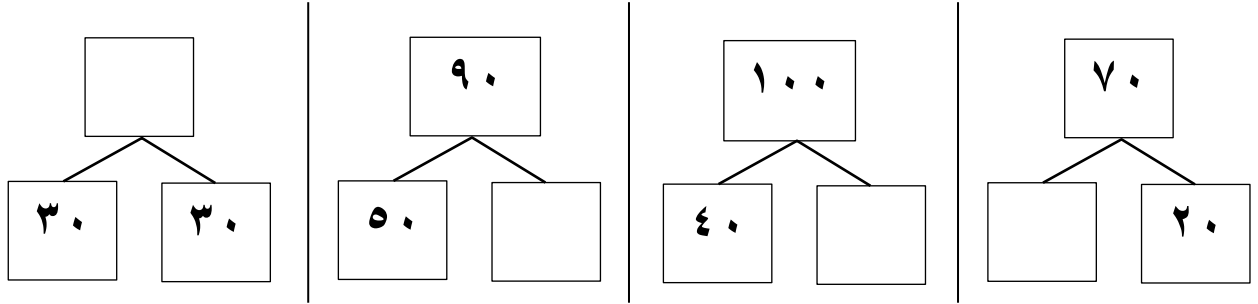
[الصف الثاني عشر العلمي / الصف الثاني عشر الأدبي](#)



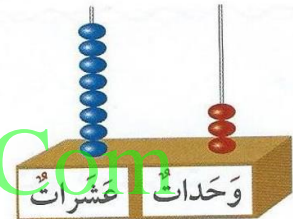
ورقة عمل لمادة الرياضيات للصف الأول الابتدائي

الفصل الدراسي الثاني الوحدة ١٠

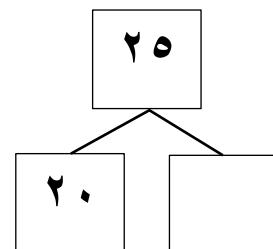
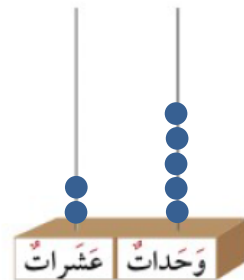
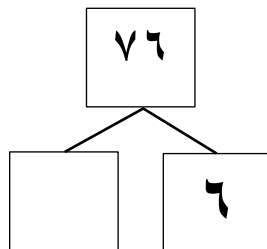
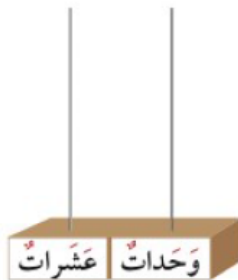
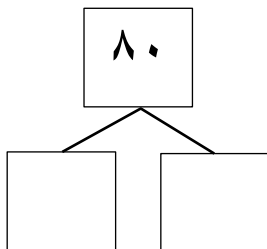
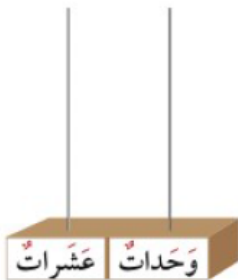
١ * أكمل :



٢ * اكتب رمز العدد الممثل :



٣ * مثل . أكمل









ورقة عمل لمادة الرياضيات للصف الأول الابتدائي

الفصل الدراسي الثاني الوحدة ١٠

١ * اكتب رمز العدد ثم قارن بين العددين مستخدماً رمز العلاقة المناسب (< أو > أو =)

			
<input type="text"/>	<input type="text"/>	<input type="text"/>	<input type="text"/>

٢ * قارن اكتب رمز العلاقة المناسب (< أو > أو =)

<input type="text"/>	<input type="text"/>	<input type="text"/>	<input type="text"/>
٧٦	٣٥	٤٦	٨٧
<input type="text"/>	<input type="text"/>	<input type="text"/>	<input type="text"/>
٦٥	٦٥	٥١	٥٩

٣ * رتب الأعداد (من الأصغر إلى الأكبر)

٩٥ ، ١٨ ، ٣٠ ، ٣٥

--	--	--	--

٤ * رتب الأعداد (من الأكبر إلى الأصغر)

٨٨ ، ٧٥ ، ٢٠ ، ٧٨

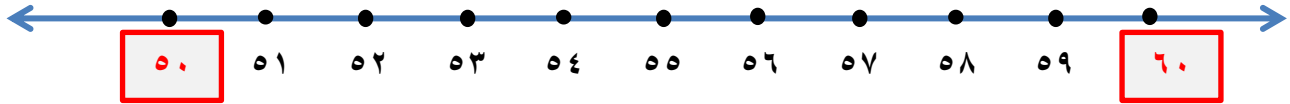
--	--	--	--



ورقة عمل لمادة الرياضيات للصف الأول الابتدائي

الفصل الدراسي الثاني الوحدة ١٠

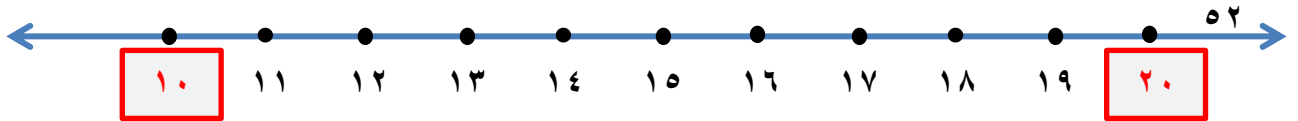
١ * قرب إلى أقرب عشرة :



العدد ٥٣ أقرب إلى العدد _____



العدد ٧٩ أقرب إلى العدد _____



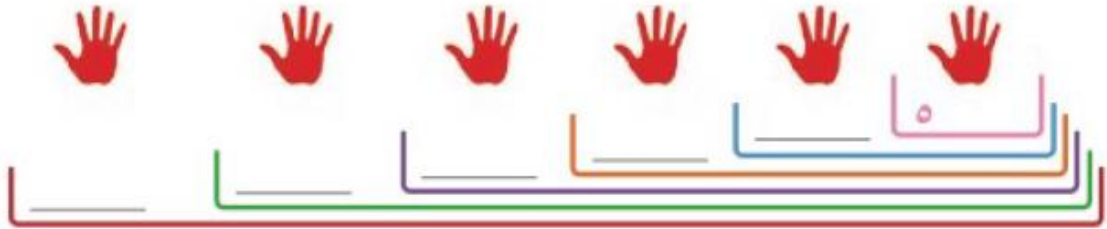
العدد ١٩ أقرب إلى العدد _____



ورقة عمل لمادة الرياضيات للصف الأول الابتدائي


الفصل الدراسي الثاني الوحدة ١٠

أكمل :




WWW.KweduFiles.Com

كم عدد العيون ؟ عد بالاثنتين



٣ * لون ضعف



٢ * حوط ما يمثل النصف :

