

هنا جميع روابط وقنوات صفوف الكويت التعليمية المميزة

<https://t.me/joinchat/AAAAAE040LBCM5TO6wNB2w>

إيكم التطبيق الرسمي لموقع المناهج الكويتية على متجرجوجل  
بلاي

[https://play.google.com/store/apps/details?  
id=com.almanahj.myapplication](https://play.google.com/store/apps/details?id=com.almanahj.myapplication)

للانضمام على التلغرام ماعليكم سوى الضغط على اسم الصف  
المطلوب:

[قناة المناهج الكويتية / قروب مدرسون في الكويت](#)

[الصف الأول](#)

[الصف الثاني](#)

[الصف الثالث](#)

[الصف الرابع](#)

[الصف الخامس](#)

[الصف السادس](#)

[الصف السابع](#)

[الصف الثامن](#)

[الصف التاسع](#)

[الصف العاشر](#)

[الصف الحادي عشر العلمي / الصف الحادي عشر الأدبي](#)

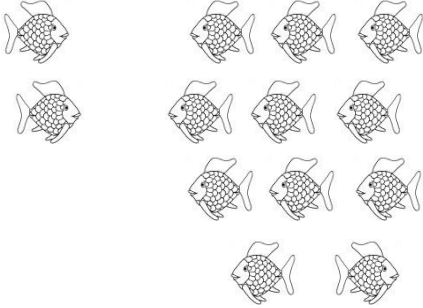
[الصف الثاني عشر العلمي / الصف الثاني عشر الأدبي](#)



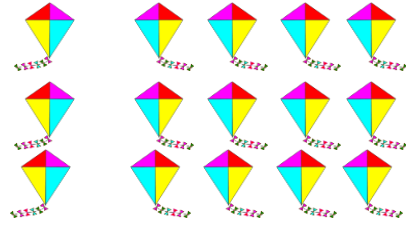
ورقة عمل لمادة الرياضيات للصف الأول الابتدائي

الفصل الدراسي الثاني الوحدة ٨

١ \* اجمع ، ضم :



$$\underline{\hspace{2cm}} = 2 + 11$$



$$\underline{\hspace{2cm}} = 3 + 12$$



٢ \* اجمع استخدم خط الأعداد :



٧

$$\begin{array}{r} 11 + \\ \hline \end{array}$$

٦

$$\begin{array}{r} 12 + \\ \hline \end{array}$$

١١

$$\begin{array}{r} 2 + \\ \hline \end{array}$$

١٣

$$\begin{array}{r} 4 + \\ \hline \end{array}$$



٣ \* أوجد الناتج :

٤

٧

$$\begin{array}{r} 6 + \\ \hline \end{array}$$

٥

٨

$$\begin{array}{r} 2 + \\ \hline \end{array}$$

١

٧

$$\begin{array}{r} 3 + \\ \hline \end{array}$$

٩

١

$$\begin{array}{r} 3 + \\ \hline \end{array}$$

$$\underline{\hspace{2cm}} = 5 + 5 + 5$$

$$\underline{\hspace{2cm}} = 3 + 6 + 4$$



ورقة عمل لمادة الرياضيات للصف الأول الابتدائي


الفصل الدراسي الثاني الوحدة ٨

١ \* اطرح ، اشطب :



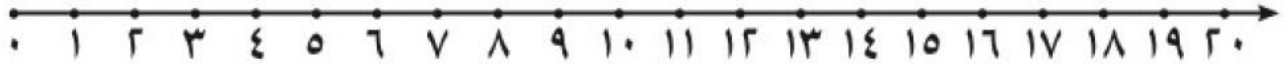
١٤

٣ -



\_\_\_\_\_ = ٤ - ١٦

٢ \* اطرح استخدم خط الأعداد :  
[WWW.KweduFiles.Com](http://WWW.KweduFiles.Com)



١٨

٥ -

١٧

٦ -

١٠

٢ -

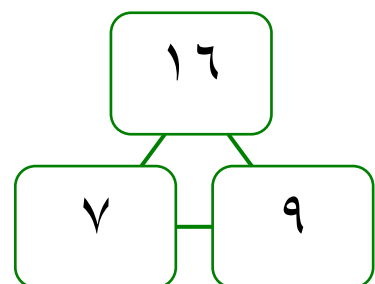
١٤

٣ -

٣ \* اكتب عبارات الجمع و الطرح ذات الصلة مستخدماً الأعداد المعطاة :

\_\_\_\_\_ = \_\_\_\_\_ + \_\_\_\_\_

\_\_\_\_\_ = \_\_\_\_\_ - \_\_\_\_\_

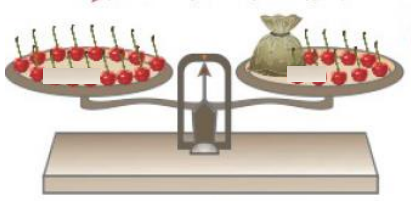




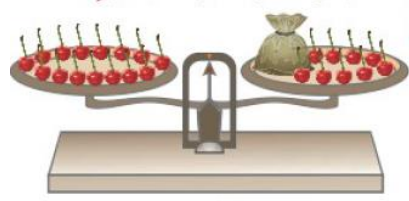
ورقة عمل لمادة الرياضيات للصف الأول الابتدائي

الفصل الدراسي الثاني، الوحدة ٨

١ \* اشطب لإيجاد العدد المجهول :



$$12 = \underline{\quad} + 7$$



$$15 = \underline{\quad} + 9$$



٢ \* استكمل رسم العناصر لإيجاد العدد المجهول :






$$11 = \underline{\quad} + 8$$



$$16 = \underline{\quad} + 12$$






٣ \* حل المسائل :

\* عند أحمد ٦  ، أعطاه والده ٨  أخرى .  
كم  صار عند أحمد ؟

$$\underline{\quad} = \underline{\quad} \bigcirc \underline{\quad}$$



\* مع ساره ١٥  ، اشترت هدية لوالدتها بمبلغ ٥  .  
كم  بقي عند ساره ؟

$$\underline{\quad} = \underline{\quad} \bigcirc \underline{\quad}$$