

تم تحميل هذا الملف من موقع ملفات الكويت التعليمية



[com.kwedufiles.www//:https](https://www.kwedufiles.com)

*للحصول على أوراق عمل لجميع الصفوف وجميع المواد اضغط هنا

* للحصول على أوراق عمل لجميع مواد الصف الأول اضغط هنا

<https://kwedufiles.com/1>

* للحصول على جميع أوراق الصف الأول في مادة علوم ولجميع الفصول, اضغط هنا

<https://kwedufiles.com/1science>

* للحصول على أوراق عمل لجميع مواد الصف الأول في مادة علوم الخاصة بـ الفصل الأول اضغط هنا

<https://www.kwedufiles.com/1science1>

* لتحميل كتب جميع المواد في جميع الفصول للـ الصف الأول اضغط هنا

<https://www.kwedufiles.com/grade1>

* لتحميل جميع ملفات المدرس مدرسة قطوف النموذجية اضغط هنا

[bot_kwlinks/me.t//:https](https://t.me/bot_kwlinks)

للحصول على جميع روابط الصفوف على تلغرام وفيسبوك من قنوات وصفحات: اضغط هنا

الروابط التالية هي روابط الصف الأول على مواقع التواصل الاجتماعي

مجموعة الفيسبوك

صفحة الفيسبوك

مجموعة التلغرام

بوت التلغرام

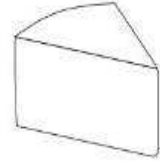
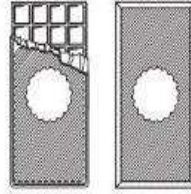
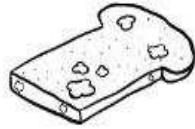
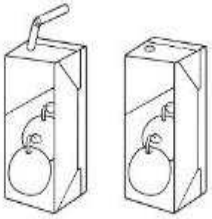
قناة التلغرام

رياضيات على التلغرام

السؤال الأول: ظللي دائرة الملابس المناسبة لهذا الولد :



السؤال الثاني : لوني الأطعمة غير الصالحة للأكل :



السؤال الثالث : رتبي مراحل نمو الإنسان:




()

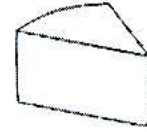



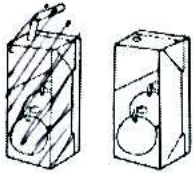
()

()


السؤال الأول: ظللي دائرة الملابس المناسبة لهذا الولد :



السؤال الثاني : لوني الأطعمة غير الصالحة للأكل :



السؤال الثالث : رتبي مراحل نمو الإنسان بالأرقام :



(٢)

(١)

(٣)