

تم تحميل هذا الملف من موقع ملفات الكويت التعليمية



[com.kwedufiles.www//:https](https://www.kwedufiles.com)

*للحصول على أوراق عمل لجميع الصفوف وجميع المواد اضغط هنا

* للحصول على أوراق عمل لجميع مواد الصف الأول اضغط هنا

<https://kwedufiles.com/1>

* للحصول على جميع أوراق الصف الأول في مادة علوم ولجميع الفصول, اضغط هنا

<https://kwedufiles.com/1science>

* للحصول على أوراق عمل لجميع مواد الصف الأول في مادة علوم الخاصة بـ الفصل الأول اضغط هنا

<https://www.kwedufiles.com/1science1>

* لتحميل كتب جميع المواد في جميع الفصول للـ الصف الأول اضغط هنا

<https://www.kwedufiles.com/grade1>

[bot_kwlinks/me.t//:https](https://t.me/bot_kwlinks)

للحصول على جميع روابط الصفوف على تلغرام وفيسبوك من قنوات وصفحات: اضغط هنا

الروابط التالية هي روابط الصف الأول على مواقع التواصل الاجتماعي

مجموعة الفيسبوك

صفحة الفيسبوك

مجموعة التلغرام

بوت التلغرام

قناة التلغرام

رياضيات على التلغرام



وزارة التربية

اللجنة الفنية للعلوم

توجيه العلوم

بنك أسئلة مادة العلوم

الصف الأول الابتدائي

الفترة الأولى

2015-2014

الوحدة الأولى : علوم الحياة

الفصل الأول : الكائنات الحية والأشياء غير الحية

السؤال الأول: اختر الإجابة الصحيحة علمياً لكل من العبارات التالية بوضع علامة (√) في المربع المقابل لها:

1- من الكائنات الحية:

الانسان الكتاب السبورة القلم

2- من الكائنات الحية:

السيارة صخرة الصقر التربة

3- من الكائنات الحية :

قلم تليفون أرنب حاسوب

4- الكائنات الحية تنمو وتتكاثر وتستخدم :

كتاب صخرة كوب الطاقة

5- تتلقى الكائنات الحية الطاقة من :

الماء الهواء الغذاء التربة

6- من الأشياء غير الحية :

عصفور قلم الصقر دجاجة

7- من الأشياء الغير حية :

السيارة دب الصقر نبات

8- من الأشياء غير الحية :

نبات حقيبة أسد عصفور




السؤال الثاني : أكتب بين القوسين كلمة (صحيحة) للعبارة الصحيحة وكلمة (خطأ) للعبارة غير الصحيحة في كل مما يأتي :-





- 1- الانسان من الكائنات الحية (.....)
- 2- النباتات والحيوانات من الأشياء غير الحية (.....)
- 3- الدجاجة من الكائنات الحية (.....)
- 4- الكائنات الحية كلها تنمو (.....)
- 5- الكائنات الحية لا تتكاثر (.....)
- 6- الكائنات الحية تحصل على الطاقة من الهواء (.....)
- 7- الأشياء غير الحية تنتقل بنفسها (.....)
- 8- الأشياء غير الحية لا تنمو ولا تتكاثر (.....)

السؤال الثالث : أكمل كل من العبارات التالية بما يناسبها علمياً :

- 1- الإنسان من الكائنات
- 2- من الكائنات الحية الحيوانات و
- 3- الكائنات الحية كلها تنمو و
- 4- تتلقى الكائنات الحية الطاقة من
- 5- الأشياء غير الحية لا تنتقل بـ
- 6- من الأشياء غير الحية
- 7- الأشياء غير الحية لا
- 8- الأشياء غير الحية لا

السؤال الرابع : في الجدول التالي اختر العبارة أو الشكل من المجموعة (ب) وأكتب رقمها أمام ما يناسبها من عبارات المجموعة (أ) :

(ب)		(أ)	
	1	من الحيوانات	
	2	من النباتات	
	3	الانسان من	
الكائنات الحية	4	من الأشياء غير الحية	

(ب)		(أ)	
	1	من الحيوانات	
	2	من النباتات	
	3	من الأشياء غير الحية بالصف	
	4	من الأشياء غير الحية	

الوحدة الأولى : علوم الحياة

الفصل الثاني : الحيوانات

السؤال الأول: اختر الإجابة الصحيحة علمياً لكل من العبارات التالية بوضع علامة (√) في المربع المقابل لها:

1- من الحيوانات التي تقفز

الأرنب الثعبان السلحفاة السمك

2- الأسماك

تمشي تسبح تقفز تطير

3- يغطي جسم الصقر

أصداف قشور فرو ريش

4- يغطي جسم الأسماك

قشور شعر فرو أصداف

5- السلحفاة يغطي جسمها

أصداف فرو ريش شعر

6- من صغار الحيوانات والذي لا يشبه والديه

الدب القرد الضفدع النمر

7- من الحيوانات اللبونة

البطة البطريق القطة الاوزة

8- تتعلم صغار الحيوانات من مراقبة

الانسان والديها السبورة التليفزيون

السؤال الثاني : أكتب بين القوسين كلمة (صحيحة) للعبارة الصحيحة وكلمة (خطأ) للعبارة غير الصحيحة في كل مما يأتي :-





- 1-الطيور تطير والأسماك تسبح (.....)
- 2- الأرانب تقفز والكلاب تجري (.....)
- 3- الطيور تغطي أجسامها القشور(.....)
- 4- الدب يغطي جسمه الريش (.....)
- 5- تحتاج الحيوانات إلى الماء (.....)
- 6- تعيش الحيوانات بدون هواء (.....)
- 7- صغير الدب يشبه والديه (.....)
- 8- تضع الطيور البيض (.....)

السؤال الثالث : أكمل كل من العبارات التالية بما يناسبها علمياً :

- 1- الأرانب من الحيوانات التي.....
- 2- الأسماكفي الماء
- 3- يغطي جسم الصقر
- 4- يغطي جسم السمكة
- 5- تحتاج الحيوانات في حياتها إلى الماء و..... والغذاء
- 6- بعض صغار الحيوانات يشبه
- 7- الحيوانات اللبونةصغارها من لبنها
- 8- من الحيوانات اللبونة

السؤال الرابع : في الجدول التالي اختر العبارة أو الشكل من المجموعة (ب) وأكتب رقمها أمام ما يناسبها من عبارات المجموعة (أ) :

(ب)		(أ)	
	1	من الحيوانات التي تقفز	
	2	من الحيوانات التي تطير	
	3	من الحيوانات التي تسبح	
	4	من الحيوانات التي تزحف	

(ب)		(أ)	
	1	يغطي جسمها الريش	
	2	يغطي جسمها أصداف	
	3	يغطي جسمها قشور	
	4	يغطي جسمها الفرو	

الوحدة الأولى : علوم الحياة

الفصل الثالث : النباتات

السؤال الأول: اختر الإجابة الصحيحة علمياً لكل من العبارات التالية بوضع علامة (√) في المربع المقابل لها:

1- نزرع البذرة في

التربة الهواء الصخر السماء

2- تنمو البذرة لتصبح

أصداف نبات حيوان انسان

3- البذرة أكثر قابلية للإنبات وهي

جافة رطبة ميتة خضراء

4- تصنع النباتات غذائها من الماء والهواء و

السماء الدواء الرياح الضوء

5- من أجزاء النبات والذي يتلقى ضوء الشمس

الأوراق الجذور الساق الأزهار

6- تمتص الماء وتثبت النبات في التربة

السيقان الجذور الأوراق الأزهار

7- تحمل السيقان الماء من

التربة الجذور الأوراق الأزهار

8- تحمل الماء من الجذور إلى اجزاء النبات الأخرى

الجذور الأزهار الأوراق السيقان

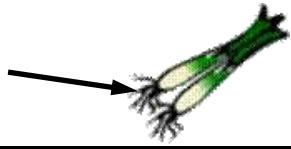
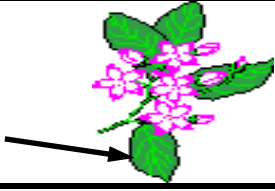


السؤال الثاني : أكتب بين القوسين كلمة (صحيحة) للعبارة الصحيحة وكلمة (خطأ) للعبارة غير الصحيحة في كل مما يأتي :-

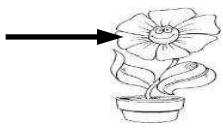


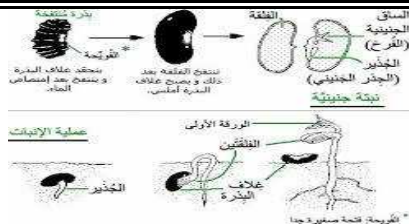
- 1-نزرع البذور في التربة (.....)
- 2- البذور الجافة أكثر قابلية للإنبات (.....)
- 3- تصنع النباتات الغذاء باستخدام الضوء(.....)
- 4- الأوراق والجذور من أجزاء النباتات (.....)
- 5- الأوراق تنقل الماء من الجذور (.....)
- 6- السيقان تثبت النبات في التربة (.....)
- 7- الجذور تمتص الماء من التربة (.....)
- 8- النباتات ليس لها جذور (.....)

السؤال الثالث : أكمل كل من العبارات التالية بما يناسبها علمياً :

- 1-عندما نزرع بذرة في التربة فإنها
- 2- عندما تنمو البذرة تحدث تحولات في لونها وحجمها و
- 3- البذرة تكون أكثر قابلية للإنبات وهي
- 4- تصنع النباتات مستخدمة الماء والضوء والهواء
- 5- من أجزاء النبات الأوراق والسيقان و
- 6- الجذور تثبت النبات في
- 7- تتلقى ضوء الشمس
- 8- السيقان تحمل الماء من إلى أجزاء النبات

السؤال الرابع : في الجدول التالي اختر العبارة أو الشكل من المجموعة (ب) وأكتب رقمها أمام ما يناسبها من عبارات المجموعة (أ) :

(ب)		(أ)	
	1	شجرة	
	2	جذور	
	3	ساق	
	4	أوراق	

(ب)		(أ)	
	1	انبات البذور	
	2	شجرة	
	3	البذور	
	4	الأزهار	