






الاسم : .....

الصف : / ١ .....

## ورقة عمل للصف الأول الوحدة الأولى نموذج (١)

وزارة التربية  
الإدارة العامة لمنطقة الأحمدية التعليمية  
مدرسة صهيب بن سنان . أ . بنين

ب ( لون  التي تقع في الخلف .



أ) أرسم  فوق 




ج ( ضع علامة ✓ علي  التي تقع علي يمين 



د) أرسم  بين  و 

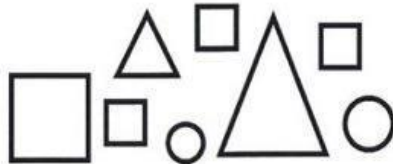
هـ ( ضع علامة ✗ علي الشيء الذي لا ينتمي الي المجموعة :



و) اكمل النمط :



ي) حوِّط  الصغير :



ن) صل الأشكال المتطابقة :




Math  
رياضيات الأحمدي  
الابتدائية

الاسم : .....  
الصف : ١ / .....

ورقة عمل للصف الأول  
الوحدة الأولى  
نمذج (ب)

وزارة التربية  
الإدارة العامة لمنطقة الأحمدي التعليمية  
مدرسة صهيب بن سنان . أ . بنين

ب ( حوط الشخصية التي تقع في الخلف .



أ ( أرسم أسفل



ج ( ضع علامة ✓ علي التي تقع علي يسار



د ( أرسم بين  بين

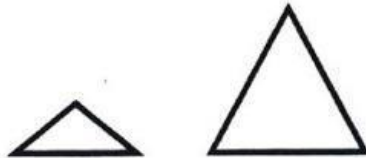
هـ ( ضع علامة  علي الشي الذي لا ينتمي الي المجموعة :



ن ( اكمل النمط :



ك ( حوط  الصغير :



و ( صل الأشكال المتطابقة :



Math

رياضيات الأحمدي  
الابتدائيةالاسم : .....  
الصف : ١ / .....ورقة عمل للصف الأول  
الوحدة الأولى  
نموذج (ج)وزارة التربية  
الإدارة العامة لمنطقة الأحمدي التعليمية  
مدرسة صهيب بن سنان . ١ . بنين

ب ( لون ) لون التي تقع في الامام.



أ ( أرسم ) تحت



ج ( ضع علامة √ على التي تقع على يسار



د ( أرسم ) بين



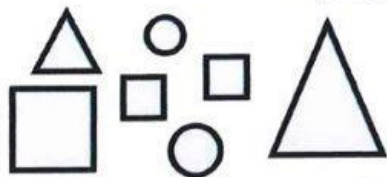
هـ ( ضع علامة X على الشيء الذي لا ينتمي الى المجموعة :



ن ( اكمل النمط :



ي ( حوِّط ) الكبير :



و ( صل الأشكال المتطابقة :





أوراق عمل

www.kwedufiles.com

للصف الأول  
الوحدة الثانية

الفصل الدراسي الأول



الاسم : .....  
الصف : ١ / .....


## ورقة عمل للصف الأول الوحدة الثانية نموذج (أ)

وزارة التربية  
الإدارة العامة لنشطة الأحمدي التعليمية  
مدرسة شهاب بن سنان - أ - بنين

(أ) أكتب رمز العدد :



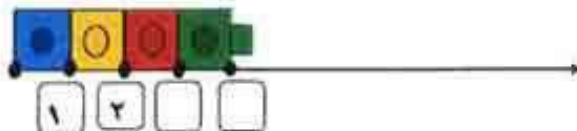
(ب) ضع علامة ✓ أسفل المجموعة الأقل



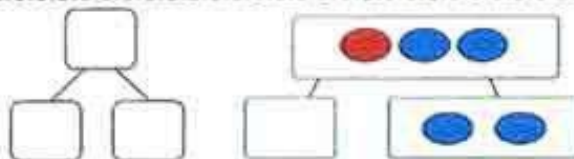
(ج) صل كل مجموعة برمز العدد المناسب .




(د) من خلال خط الأعداد أكمل :



(هـ) أكمل :



(و) استكمل رسم العناصر بحسب العدد  
الموضح رمزه .





ورقة عمل للمصف الأول  
الوحدة الثانية  
نموذج (ب)

وزارة التربية  
إدارة العامة لمنطقة الأحمدي التعليمية  
مدرسة سهيب بن سنان - أ. ب. هـ

الإسم: .....  
الصف: ١ / .....

(أ) اكتب رمز العدد:

(ب) ضع علامة ✓ أسفل المجموعة الأقل



(ج) لون ٣ عناصر

(د) من خلال خط الأعداد أكمل:

(ن) أكمل:

(و) استكمل رسم العناصر بحسب العدد الموضح رمزه.

٤      ٥





ورقة عمل للصف الاول  
الوحدة الثانية  
تمزيج (ج)

وزارة التربية  
الإدارة العامة لمنطقة الأحمدي التعليمية  
مدرسة صهيب بن سنان ، أ. بنين

الإسم : .....  
الصف : ١ / .....



(أ) أكتب رمز العدد :



(ب) ضع علامة ✓ أسفل المجموعة الأكثر

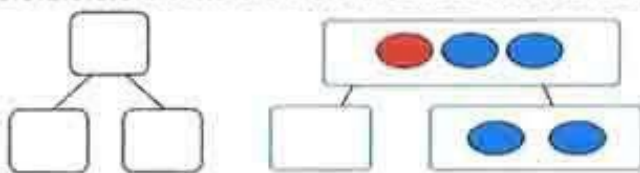


www.kwedufiles.com

(ج) لون ٤ عناصر



(د) من خلال خط الأعداد أكمل :



(ن) أكمل :



(و) استكمل رسم العناصر بحسب العدد  
الموضح رمزه .

٤

٣







أوراق عمل

[www.kwedufiles.com](http://www.kwedufiles.com)

للمصف الأول

الوحدة الثالثة

الفصل الدراسي الأول



الاسم : .....  
الصف : / ١ : .....

ورقة عمل للصف الأول  
الوحدة الثالثة  
تمرنج (١)

وزارة التربية  
الإدارة العامة لمنطقة الأحمدي التعليمية  
مدرسة صهيب بن سنان ، أ . بنين




(أ) أكتب رمز العدد :




(ب) قارن. اكتب رمز العلاقة المناسب (> أو < أو =)

١٢  ١١

٤  ٤

٠  ١٠

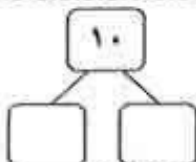
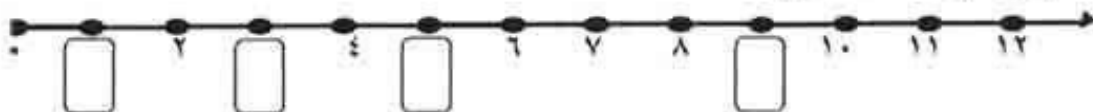


(ج) استكمل رسم العناصر بحسب العدد الموضح.



٩

(د) من خلال خط الأعداد أكمل



(ن) أكمل :






ورقة عمل للصف الأول  
الوحدة الثالثة  
تمزيق (ب)

وزارة التربية  
الإدارة العامة لمنطقة الأحمدي التعليمية  
مدرسة صهيب بن سنان ، أ. بنين

الاسم : .....  
الصف : ١ / .....




(أ) اكتب رمز العدد :




(ب) قارن. اكتب رمز العلاقة المناسب ( > أو < أو = )

$6 \square 8$

$4 \square 4$

$0 \square 9$

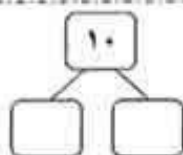
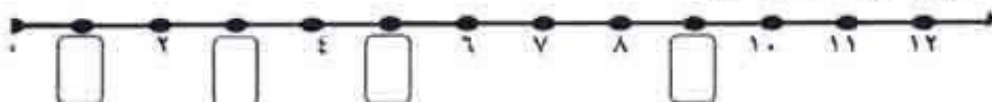


(ج) استكمل رسم العناصر بحسب العدد الموضح.




www.kwedufiles.com

(د) من خلال خط الأعداد أكمل



(ن) أكمل :





الاسم : .....  
الصف : ١ / .....

ورقة عمل للصف الأول  
الوحدة الثالثة  
نموذج (ج)

وزارة التربية  
الإدارة العامة لمنطقة الأحمدي التعليمية  
مدرسة صهيبي بن سنان ، أ . بنين




(أ) اكتب رمز العدد :




(ب) قارن. اكتب رمز العلاقة المناسب ( > أو < أو = )

$12 \square 11$

$9 \square 9$

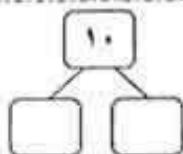
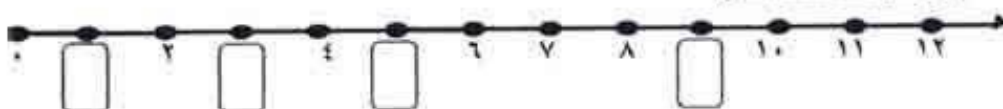
$3 \square 7$

(ج) استكمل رسم العناصر بحسب العدد الموضح.




www.kwedufiles.com

(د) من خلال خط الأعداد أكمل



(هـ) أكمل :







الاسم / .....  
الصف / .....

ورقة عمل للمصف الأول  
المرصة الرابعة  
نموذج (أ)

وزارة التربية  
الإدارة العامة لمنطقة الأحمدي التعليمية  
مدرسة صهيب بن سنان . أ . بنين

السؤال الأول: أكمل:



و   يَكُونَانِ

السؤال الثاني: اشطب لتطرح:



[www.kwedufiles.com](http://www.kwedufiles.com)



السؤال الثالث: أكمل

$$\square = 2 - 5$$

$$\square = 3 + 4$$

السؤال الرابع: استخدم القاعدة لتجمع:

|  |
|--|
|  |
|  |
|  |

اجمع ٦

|   |
|---|
| ٢ |
| ٣ |
| ٧ |





الاسم / .....  
الصف / .....

ورقة عمل للصف الأول  
الوحدة الرابعة  
نموذج (ب)

وزارة التربية  
الإدارة العامة لمنطقة الأحمدي التعليمية  
مدرسة صهيب بن سنان. أ. بنين

السؤال الأول: أكمل:




و  يَكُونان

السؤال الثاني: اشطب لتطرح:



= ٧ - ١



www.kwedufiles.com

السؤال الثالث: أكمل

= ٥ - ٢

= ٣ + ٤

السؤال الرابع: استخدم القاعدة لتجمع:

|  |       |   |
|--|-------|---|
|  |       | ٢ |
|  | اجم ٢ | ٣ |
|  |       | ٥ |





الاسم / .....  
الصف / .....

ورقة عمل للصف الأول  
الوحدة الرابعة  
تمزيج (ج)

وزارة التربية  
الإدارة العامة لمنطقة الأحمدي التعليمية  
مدرسة صهيب بن سنان، أ. بنين

السؤال الأول: أكمل:



يَكُونانِ  و



السؤال الثاني: اشطب لتطرح:

= ١ - ٥



السؤال الثالث: أكمل

$$\square = 2 - 5$$

$$\square = 3 + 4$$

السؤال الرابع: استخدم القاعدة لتجمع:

|  |
|--|
|  |
|  |
|  |

اجمع ٢

|   |
|---|
| ٢ |
| ٦ |
| ٥ |

