

مذكرة في مادة الرياضيات

(الجزء الأول)

للصف الحادي عشر / متقدم
www.almanahj.com

مع الحل

تطلب من مكتبة النجاح
ت: 07-2332322

الفصل الدراسي الثالث

9:00

2017 - 2016

المذكراتُ لا تغني عن الكتاب المدرسيّ

انطلاقة نحو التفوق ... فصل دراسي ملئ بالعلم والعمل ...


ومن أكبر أسرار التفوق .. هو البداية الصحيحة و القوية بتنظيم الوقت و الاستذكار . و الاعتماد على الكتاب المدرسيّ . فالمذكرات لا تغني عن الكتاب المدرسيّ ..

فالكتاب المدرسيّ قد اهتمت به وزارة التربية و التعليم و أخرجته بصورة جذابة و مرضية للجميع . ليكون سهلاً في متناول يد الطالب.

أمّا المذكرات فهي تساعد الطالب و تجعله يتعرف على جميع أنواع الأسئلة و كيفية وضعها و الإجابة عليها . و الأسئلة المتوقعة للامتحانات.

وفي النهاية لا أريد غير دعوات صادقة من قلوبكم الطاهرة..

وفقني الله و اياكم لما يحبه ويرضاه و أن يجعل عملنا خالصاً لوجهه الكريم ...



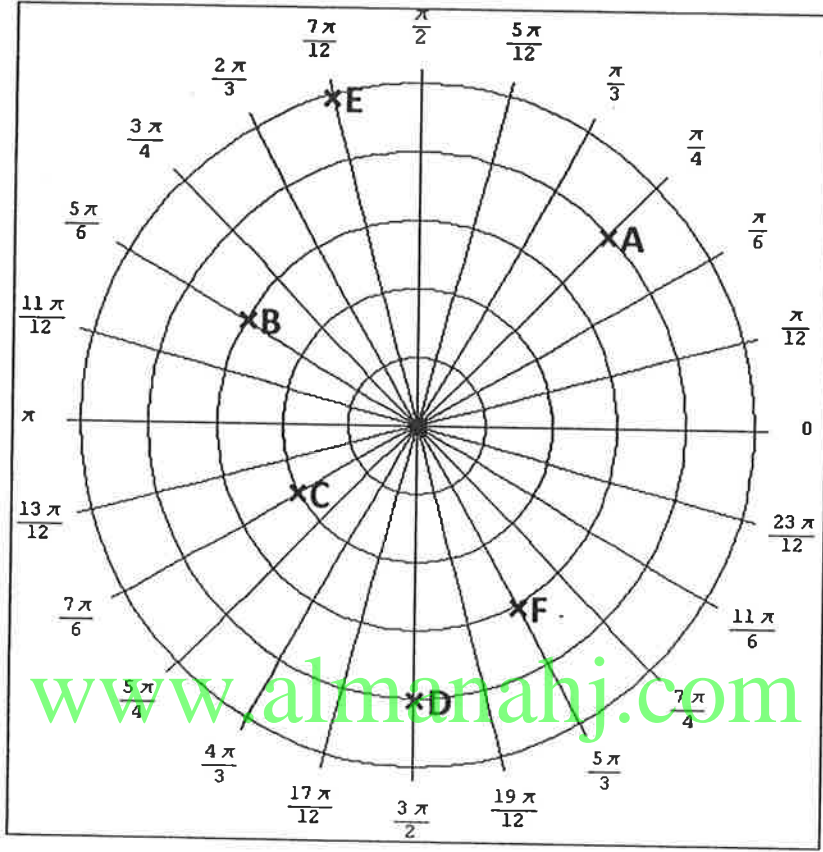
مع تمنياتي بالتوفيق و النجاح

مكتبة النجاح

تطلب من مكتبة النجاح
ت: 07-2332322

الإحداثيات القطبية و الأعداد المركبة

أولاً : تأمل الشبكة القطبية التالية و النقاط الممثلة فيها و أجب عن الأسئلة التالية :
لكل سؤال أربع إجابات اختر الإجابة الصحيحة :



1. الإحداثيات القطبية للنقطة A هي :

- a) $(4, \frac{\pi}{6})$ b) $(-4, -\frac{\pi}{4})$ c) $(4, \frac{\pi}{4})$ d) $(-4, -\frac{7\pi}{4})$

2. الإحداثيات القطبية للنقطة B هي :

- a) $(3, \frac{11\pi}{6})$ b) $(-3, -\frac{11\pi}{6})$ c) $(2, \frac{11\pi}{6})$ d) $(3, -\frac{11\pi}{6})$

3. الإحداثيات القطبية للنقطة C هي :

- a) $(2, \frac{5\pi}{6})$ b) $(2, -\frac{5\pi}{6})$ c) $(3, -\frac{5\pi}{6})$ d) $(2, \frac{\pi}{6})$

4. الإحداثيات القطبية للنقطة D هي :

- a) $(4, \frac{3\pi}{2})$ b) $(-4, -\frac{\pi}{2})$ c) $(4, -\frac{3\pi}{2})$ d) $(-3, \frac{\pi}{2})$

5. الإحداثيات القطبية للنقطة E هي :

- a) $(5, \frac{\pi}{12})$ b) $(-5, \frac{7\pi}{12})$ c) $(5, \frac{7\pi}{6})$ d) $(5, \frac{7\pi}{12})$

6. الإحداثيات القطبية للنقطة F هي :

- a) $(3, \frac{\pi}{6})$ b) $(-3, -\frac{\pi}{3})$ c) $(3, -\frac{\pi}{3})$ d) $(3, -\frac{\pi}{6})$

تطلب من مكتبة النجاح
ت:07-2332322

www.almanahj.com

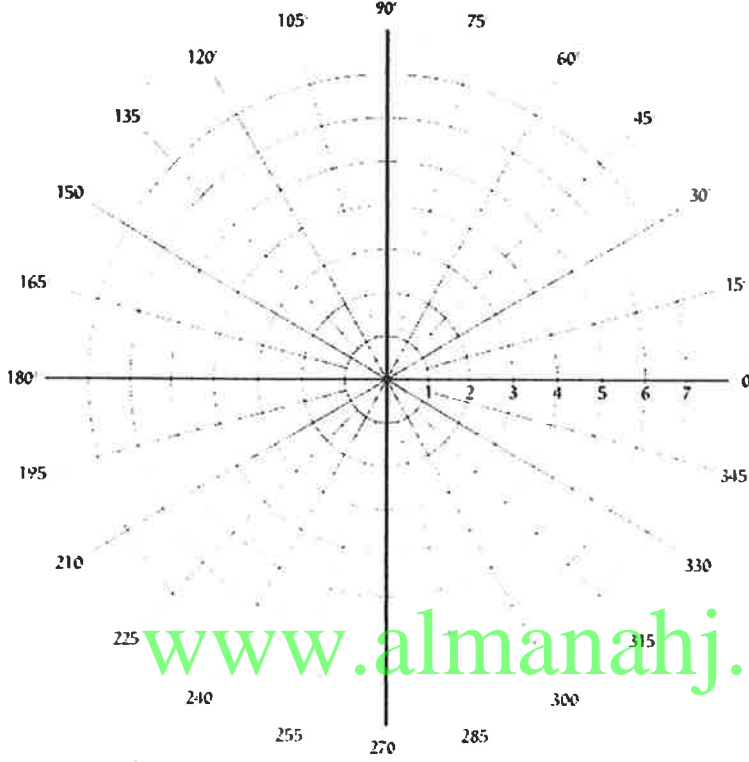
تطلب من مكتبة النجاح
ت:07-2332322

ثانياً : مثل النقاط التالية :

$$A(3, 105^\circ) , B(-4.5, 75^\circ) , C(3, 480^\circ) , D(-1, 165^\circ) , E(-5, -45^\circ)$$

$$F\left(2, \frac{7\pi}{12}\right) , G(-1.5, \pi) , H\left(-4, \frac{-5\pi}{12}\right) ,$$

تطلب من مكتبة النجاح
ت: 07-2332322



www.almanahj.com

ثالثاً : في الفترة : $-2\pi \leq \theta \leq 2\pi, -360^\circ \leq \theta \leq 360^\circ$

أختر الأزواج الثلاثة التي تعبر عن النقطة المعطاة . لكل نقطة أربع خيارات اختر منها الصحيح :

7) $A(2, 120^\circ)$

a) $(2, -240^\circ), (3, -60^\circ), (-2, 300^\circ)$ b) $(2, -240^\circ), (2, -60^\circ), (-2, 300^\circ)$

c) $(-2, -240^\circ), (2, 60^\circ), (2, 300^\circ)$ d) $(2, -240^\circ), (2, -60^\circ), (2, 480^\circ)$

8) $B(-3, -45^\circ)$

a) $(-3, -315^\circ), (3, -135^\circ), (3, 225^\circ)$ b) $(3, -315^\circ), (2, 225^\circ), (-2, 300^\circ)$

c) $(3, 135^\circ), (3, 225^\circ), (-3, 315^\circ)$ d) $(3, 45^\circ), (-3, 135^\circ), (-3, 405^\circ)$

9) $C\left(4, \frac{7\pi}{5}\right)$

a) $\left(-4, \frac{3\pi}{5}\right), \left(-4, \frac{2\pi}{5}\right), \left(4, -\frac{2\pi}{5}\right)$ b) $\left(-4, \frac{3\pi}{5}\right), \left(-4, \frac{2\pi}{5}\right), \left(4, -\frac{2\pi}{5}\right)$

c) $\left(-4, \frac{3\pi}{5}\right), \left(-4, \frac{2\pi}{5}\right), \left(4, -\frac{2\pi}{5}\right)$ d) $\left(-4, \frac{3\pi}{5}\right), \left(-4, \frac{2\pi}{5}\right), \left(4, -\frac{2\pi}{5}\right)$

10) $D\left(5, \frac{5\pi}{3}\right)$

a) $\left(-5, \frac{\pi}{3}\right), \left(-5, \frac{4\pi}{3}\right), \left(5, -\frac{2\pi}{3}\right)$ b) $\left(-5, -\frac{\pi}{3}\right), \left(-5, \frac{4\pi}{3}\right), \left(-5, -\frac{2\pi}{3}\right)$

c) $\left(5, -\frac{\pi}{3}\right), \left(-5, -\frac{4\pi}{3}\right), \left(-5, -\frac{2\pi}{3}\right)$ d) $\left(5, -\frac{\pi}{3}\right), \left(-5, -\frac{2\pi}{3}\right), \left(-5, \frac{8\pi}{3}\right)$

تطلب من مكتبة النجاح
ت: 07-2332322

رابعاً : لكل فقرة أربع إجابات اختر الإجابة الصحيحة
المقدار الذي يمثل المسافة بين النقطتين في الحالات الآتية :

11) $(3, 60^\circ), (7, 120^\circ)$

a) $\sqrt{(3)^2 + (7)^2 - 3 \times 7 \sin(-60^\circ)}$

b) $\sqrt{(3)^2 + (7)^2 + 2 \times 3 \times 7 \cos(-60^\circ)}$

c) $\sqrt{3 + 7 - 2 \times 3 \times 7 \cos(60^\circ)}$

d) $\sqrt{(3)^2 + (7)^2 - 2 \times 3 \times 7 \cos(-60^\circ)}$

12) $(-5, 140^\circ), (3, 80^\circ)$

a) $\sqrt{(5)^2 + (3)^2 - 30 \cos(80^\circ)}$

b) $\sqrt{(-5)^2 + (3)^2 + 30 \cos(220^\circ)}$

c) $\sqrt{(-5)^2 + (3)^2 + 30 \cos(60^\circ)}$

d) $\sqrt{(-5)^2 + (3)^2 + 30 \cos(50^\circ)}$

13) $(-2, \frac{2\pi}{3}), (-6, -\frac{\pi}{4})$

a) $\sqrt{(-2)^2 + (-6)^2 + 24 \cos(\frac{11\pi}{12})}$

b) $\sqrt{(2)^2 + (-6)^2 + 24 \cos(\frac{5\pi}{12})}$

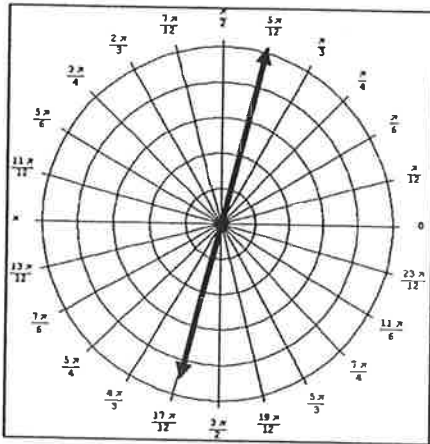
c) $\sqrt{(2)^2 + (6)^2 - 24 \cos(\frac{11\pi}{12})}$

d) $\sqrt{(2)^2 + (-6)^2 - 24 \cos(\frac{5\pi}{12})}$

www.almanahj.com

خامساً : اختر معادلة التمثيل البياني في الحالتين :

14)



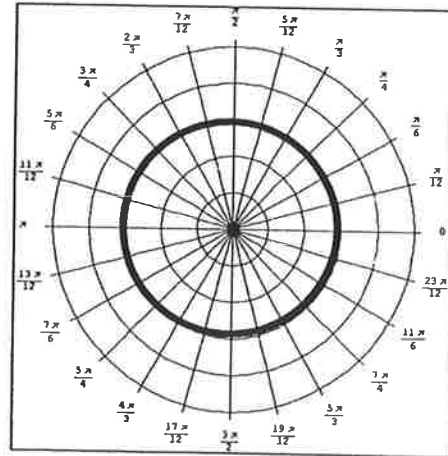
a) $\theta = 60^\circ$

b) $\theta = -105^\circ$

c) $r = 3$

d) $r = \frac{5\pi}{12}$

15)



a) $\theta = 60^\circ$

b) $\theta = -105^\circ$

c) $r = 3$

d) $r = \frac{5\pi}{12}$

(16) إذا كان $P_1 = (4, 75^\circ)$, $P_2(r, 15^\circ)$, $P_1P_2 = \sqrt{21}$ فإن قيمة r هي :

- a) 6 b) -6 c) 5 d) -5

(17) إذا كان $P_1 = (\sqrt{2}, \frac{\pi}{12})$, $P_2(-7, \theta)$, $P_1P_2 = \sqrt{65}$ فإن قيمة θ هي :

- a) $\theta = \frac{7\pi}{12}$ b) $\theta = -\frac{7\pi}{12}$ c) $\theta = \frac{5\pi}{12}$ d) $\theta = -\frac{5\pi}{12}$

(18) المعادلة التي تمثيلها البياني دائرة هي

- a) $r = 5\sin(3\theta)$ b) $r = -2\cos(3\theta)$ c) $r = -6\sin(3\theta)$ d) $r = 5\sin(\theta)$

(19) طول نصف قطر الدائرة التي معادلتها $r = -10\cos(\theta)$

- a) 10 b) -10 c) 5 d) -5

(20) معادلة منحنى حلزون باسكال المنقر هي

- a) $r = 5 + 4\cos(\theta)$ b) $r = 2 - 2\cos(\theta)$ c) $r = 7 - 3\sin(\theta)$ d) $r = 2 + 5\sin(\theta)$

(21) معادلة منحنى حلزون باسكال قلبي هي

- a) $r = 5 + 4\cos(\theta)$ b) $r = 2 - 2\cos(\theta)$ c) $r = 7 - 3\sin(\theta)$ d) $r = 2 + 5\sin(\theta)$

(22) معادلة منحنى باسكال مع حلقة داخلية هي

- a) $r = 5 + 4\cos(\theta)$ b) $r = 2 - 2\cos(\theta)$ c) $r = 7 - 3\sin(\theta)$ d) $r = 2 + 5\sin(\theta)$

(23) معادلة منحنى باسكال حلزون المحدب هي

- a) $r = 5 + 4\cos(\theta)$ b) $r = 2 - 2\cos(\theta)$ c) $r = 7 - 3\sin(\theta)$ d) $r = 2 + 5\sin(\theta)$

(24) عدد البتلات في منحنى الوردة $r = -12\cos(5\theta)$

- a) 10 b) 5 c) 6 d) 10

(25) عدد البتلات في منحنى الوردة $r = 6\sin(8\theta)$

- a) 6 b) 3 c) 4 d) 16

(26) طول البتلة $r = -12\cos(2\theta)$

- a) 2 b) 12 c) 1 d) 6

(27) معادلة منحنى ذات عروتين

- a) $r^2 = 9\cos(\theta)$ b) $r^2 = 16\cos(5\theta)$ c) $r = 25\sin(2\theta)$ d) $r^2 = 10\sin(2\theta)$

(28) معادلة منحنى حلزون أرشميدس هي

- a) $r = \theta$ b) $r = 2\cos\theta$ c) $r = 7\theta - 3$ d) $r = 2 - 5\sin(\theta)$

(29) الدالة المتماثلة حول المحور $\theta = \frac{\pi}{2}$ هي :

- a) $r = 3 - 1\cos\theta$ b) $r = 2\cos\theta$ c) $r = 5\theta + 1$ d) $r = 2 - 5\sin(\theta)$

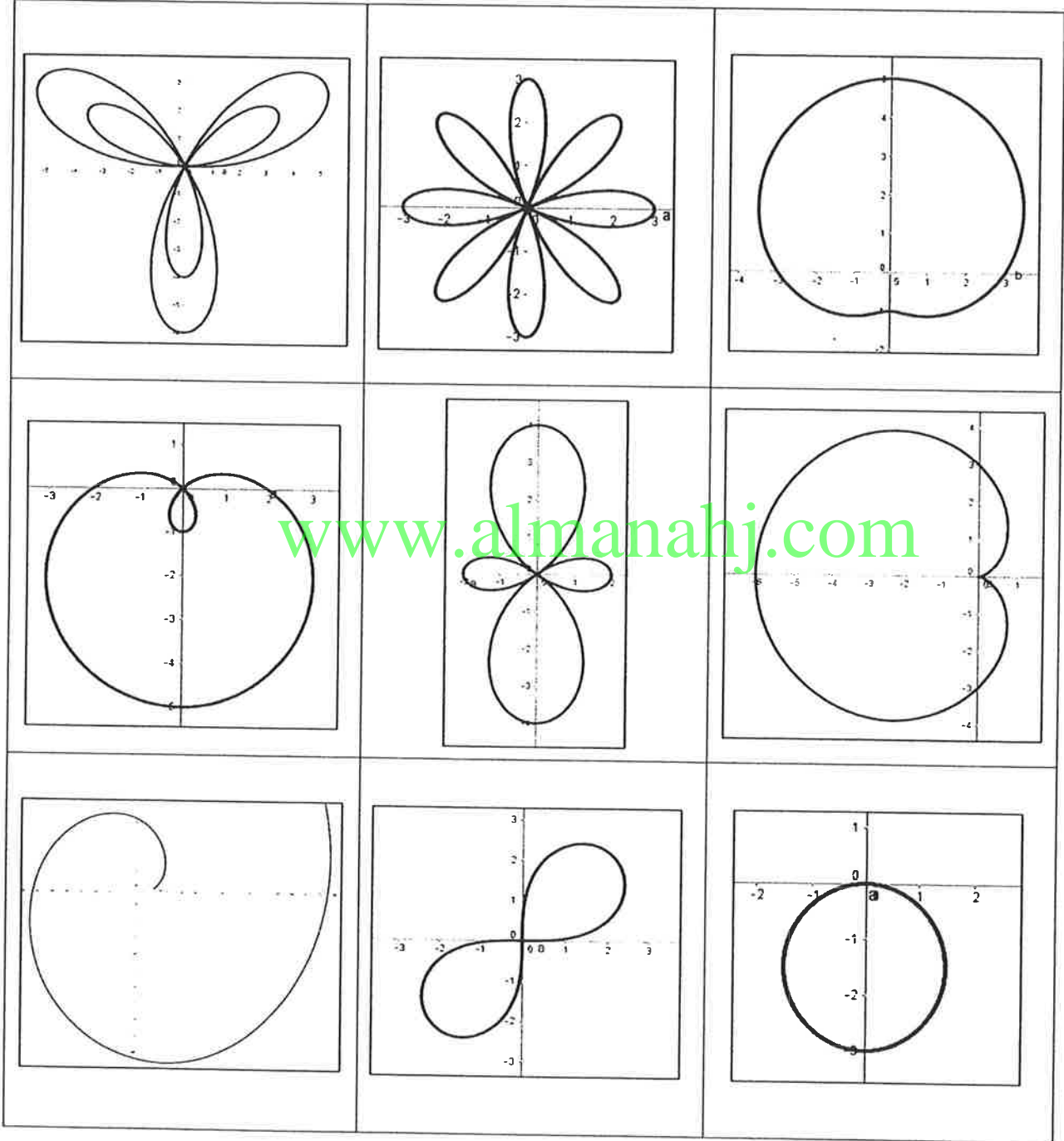
a) $r = 3\sin\theta$

b) $r = 2\cos\theta$

c) $r = 5\theta + 1$

d) $r = 2 - 5\sin(\theta)$

سادساً : صل كل تمثيل بياني مع معادلته :



31) $r = 2 - 3\sin\theta$

34) $r = 3\cos 4\theta$

37) $r = 3 - 3\cos\theta$

32) $r = 2\theta + 1$

35) $r = 3 + 2\sin\theta$

38) $r = -2\sin\theta$

33) $r = 1 + 5\sin 3\theta$

36) $r^2 = 9\sin 2\theta$

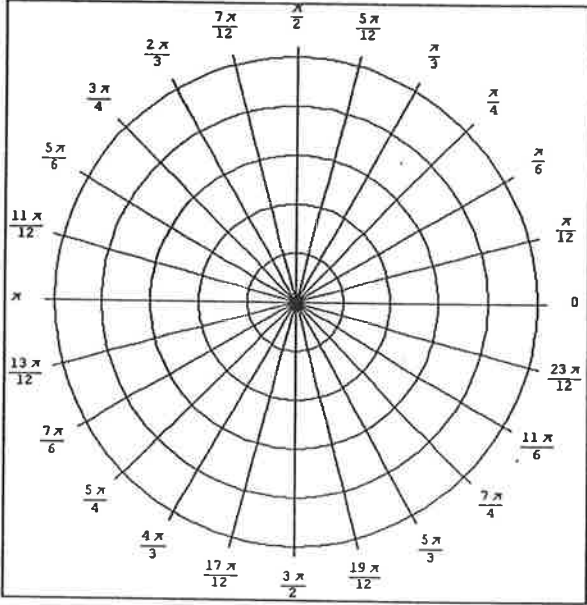
39) $r = 1 - 3\cos 2\theta$

تطلب من مكتبة النجاح
ت: 07-2332322
لا يوجد لنا فروع اخرى

(40) المعادلة التي فيها 3 بتلات طول البتلة هو 5 هي :

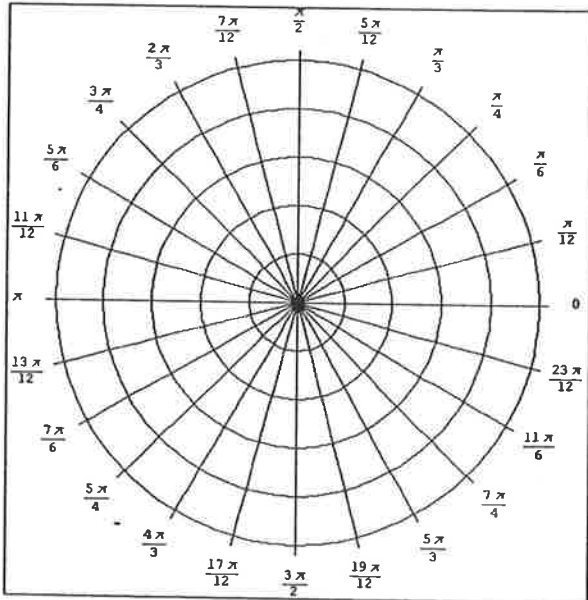
سابعاً : مثل بيانياً :

(41) تحديد النقاط $r = -2 \cos \theta$



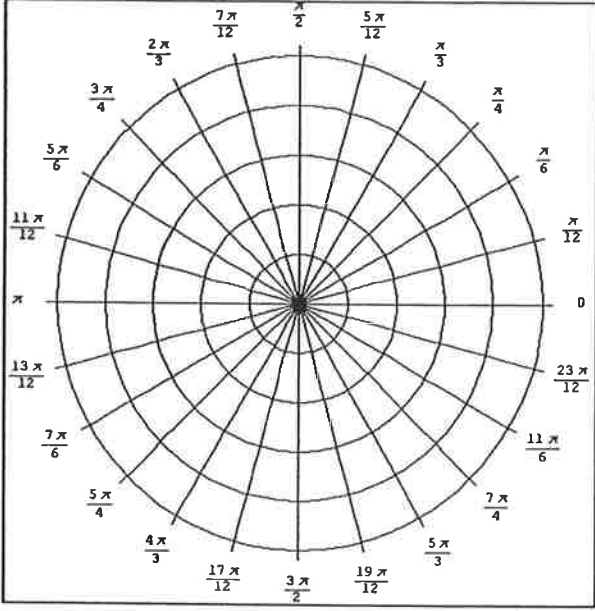
www.almanahj.com

(42) تحديد النقاط $r = 3 \sec \theta$



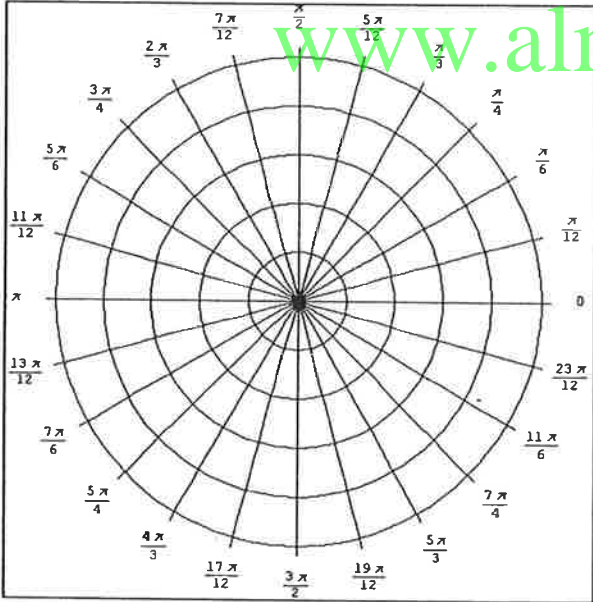
تطلب من مكتبة النجاح
ت: 07-2332322
لا يوجد لنا فروع اخرى

43) استخدم التماثل $r = 2 - 3 \cos \theta$



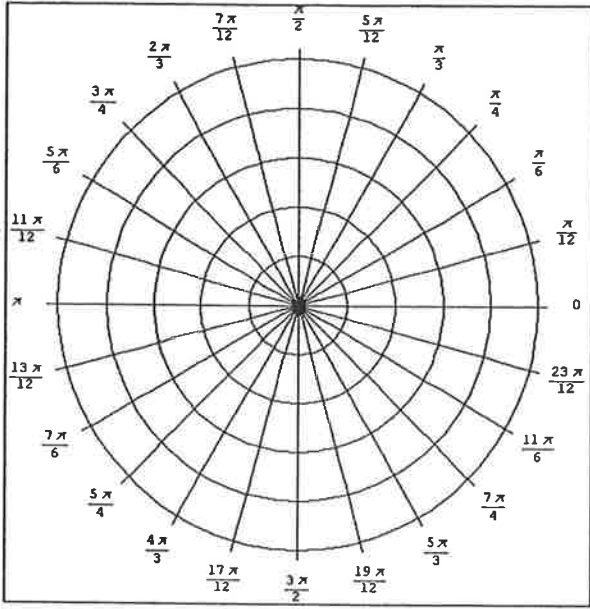
تطلب من مكتبة النجاح
ت: 07-2332322
لا يوجد لنا فروع اخرى

44) استخدم التماثل $r = 2 - 2 \sin \theta$



تطلب من مكتبة النجاح
ت: 07-2332322
لا يوجد لنا فروع اخرى

45) استخدم التماثل و الأصفار و القيم العظمى $r = 3 \cos 4\theta$



تطلب من مكتبة النجاح
ت: 07-2332322
لا يوجد لنا فروع اخرى

www.almanahj.com

ثامناً : لكل سؤال أربع خيارات اختر الإجابة الصحيحة

46) الإحداثي الديكارتي للنقطة $(2, 150^\circ)$

- a) $(\sqrt{3}, 1)$ b) $(\sqrt{3}, -1)$ c) $(-\sqrt{3}, -1)$ d) $(-\sqrt{3}, 1)$

47) الإحداثي الديكارتي للنقطة $(-3, \frac{-2\pi}{3})$

- a) $(-\frac{3}{2}, \frac{-3\sqrt{3}}{2})$ b) $(\frac{3}{2}, \frac{-3\sqrt{3}}{2})$ c) $(-\frac{3}{2}, \frac{3\sqrt{3}}{2})$ d) $(\frac{3}{2}, \frac{3\sqrt{3}}{2})$

48) الإحداثي القطبي للنقطة $(\frac{-1}{2}, \frac{\sqrt{3}}{2})$

- a) $(-1, \frac{2\pi}{3})$ b) $(1, \frac{-2\pi}{3})$ c) $(-1, -\frac{2\pi}{3})$ d) $(1, \frac{2\pi}{3})$

تطلب من مكتبة النجاح
ت: 07-2332322
لا يوجد لنا فروع اخرى

تاسعاً : حدد التمثيل البياني لكل معادلة و من ثم اكتب المعادلة بالصورة القطبية . في الحالتين :

$$49) (x - 3)^2 + y^2 = 9$$

تطلب من مكتبة النجاح
ت: 07-2332322
لا يوجد لنا فروع اخرى

www.almanahj.com

$$50) (y - 2)^2 - x^2 = 4$$

تطلب من مكتبة النجاح
ت: 07-2332322
لا يوجد لنا فروع اخرى

عاشراً : اكتب كل معادلة في الصورة الديكارتية ثم حدد تمثيلها البياني

$$51) r = 2 \cos \theta$$

تطلب من مكتبة النجاح
ت: 07-2332322
لا يوجد لنا فروع اخرى

$$52) \theta = \frac{-2\pi}{3}$$

www.almanahj.com

$$53) -2 = \tan \theta$$

$$54) r = -3$$

تطلب من مكتبة النجاح
ت: 07-2332322
لا يوجد لنا فروع اخرى

$$55) r = 3 \cos \left(\theta - \frac{\pi}{2} \right)$$

تطلب من مكتبة النجاح
ت: 07-2332322
لا يوجد لنا فروع اخرى

$$56) r = \frac{3 \cos \theta - 3 \sin \theta}{\cos^2 \theta - \sin^2 \theta}$$

www.almanahj.com

$$57) r = -5 \sin \left(\theta + \frac{\pi}{2} \right)$$

تطلب من مكتبة النجاح
ت: 07-2332322
لا يوجد لنا فروع اخرى

حادي عشر : اختر الإجابة الصحيحة في كل مما يأتي :

58) الصورة القطبية للعدد $z = -1 + \sqrt{3}i$

a) $2 \left(\cos \frac{-2\pi}{3} + i \sin \frac{-2\pi}{3} \right)$

b) $-2 \left(\cos \frac{-\pi}{3} + i \sin \frac{-\pi}{3} \right)$

c) $2 \left(\cos \frac{2\pi}{3} - i \sin \frac{2\pi}{3} \right)$

d) $2 \left(\cos \frac{2\pi}{3} + i \sin \frac{2\pi}{3} \right)$

www.almanahj.com

المتتاليات و المتسلسلات

أجب عن الأسئلة الآتية : جزء منها اختيار من متعدد و الجزء الآخر أسئلة مقالية :

(1) الحدود الثلاثة التالية في المتتالية : , -108 , 36 , -12 , 4 هي :

- a) 324 , 972 , 2916
b) 324 , -972 , -2916
c) 324 , -972 , 2916
d) -108 , 36 , -12

(2) الحدود الثلاثة التالية في المتتالية : , 15 , 8 , 3 , 0 هي :

- a) -24 , 30 , 45
b) 24 , 35 , 48
c) -24 , -35 , -48
d) 48 , 35 , 24

(3) الحدود الأولى الثلاثة في المتتالية : $a_n = -3^n + 5$ هي :

- a) -2 , -4 , -22
b) 2 , 4 , 22
c) -2 , 4 , -22
d) 2 , -4 , -22

(4) الحدود الأولى الثلاثة في المتتالية : $a_n = (-1)^{n+1} \left(\frac{n^2}{n+1} \right)$ هي :

- a) $\frac{1}{2}, \frac{-4}{3}, \frac{9}{4}$
b) $\frac{-1}{2}, \frac{4}{3}, \frac{9}{4}$
c) $\frac{-1}{2}, \frac{-4}{3}, \frac{-9}{4}$
d) $\frac{1}{2}, \frac{3}{4}, \frac{4}{9}$

(5) الحد الخمسين في المتتالية $a_n = \left(\frac{5n}{n+1} \right) - 10$ هو :

- a) $\frac{250}{51}$
b) $\frac{-250}{51}$
c) $\frac{250}{51} + 10$
d) $\frac{-260}{51}$

(6) الحد الرابع في المتتالية $a_n = 3a_{n-1} - n, a_1 = -4, n \geq 2$ هو

- a) -45
b) -139
c) 139
d) 45

(7) الحد السادس في المتتالية $a_n = (a_{n-1})^2 - 2a_{n-1}, a_1 = 3, n \geq 2$ هو

- a) 18
b) 6
c) 3
d) -6

(8) أي متتالية مما يأتي تقاربية

- a) $a_n = \frac{3n-5}{2}$
b) $a_n = n^2 + 3$
c) $a_n = \frac{2n+1}{n-5}$
d) $a_n = \frac{n^2-2n}{n}$

(9) أي متتالية مما يأتي تباعدية

- a) $a_n = \left(-\frac{1}{5}\right)^n + 2$
b) $a_n = 2^n - 3$
c) $a_n = \frac{3n+1}{2n}$
d) $a_n = \sin n$

(10) المجموع الجزئي السادس للمتتالية $a_n = n^2(2n+1)$ هو

- a) 973
b) -379
c) 793
d) 975

(11) المجموع الجزئي الخامس للمتتالية $a_n = 2a_{n-1} - 3n, a_1 = 3, n \geq 2$ هو

- a) 110
b) -108
c) 111
d) -111

(12) ناتج $\sum_{n=1}^{12} (2n-1)$ هو

- a) 12
b) 144
c) 112
d) 121


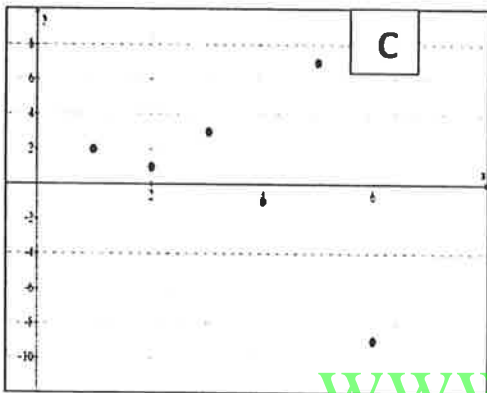
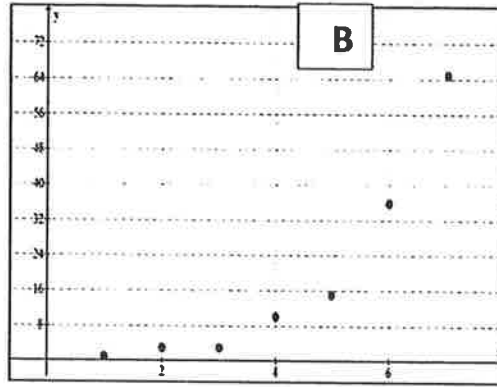
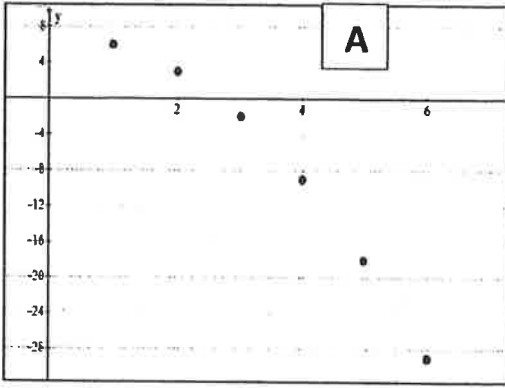
(13) ناتج $\sum_{n=3}^{25} (n^2+2)(n-2)$ هو

- a) 98752
b) 97543
c) 95128
d) 97128

(14) ناتج $\sum_{n=1}^{10} (-1)^n \left(\frac{1}{5}\right)^{2n}$ هو

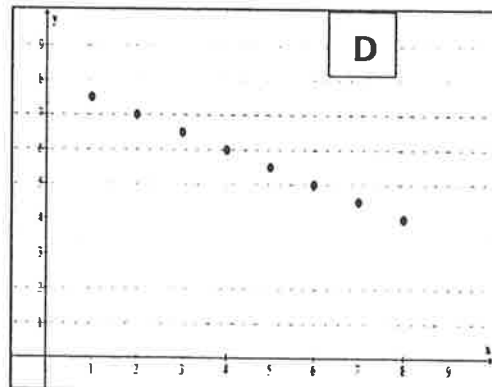
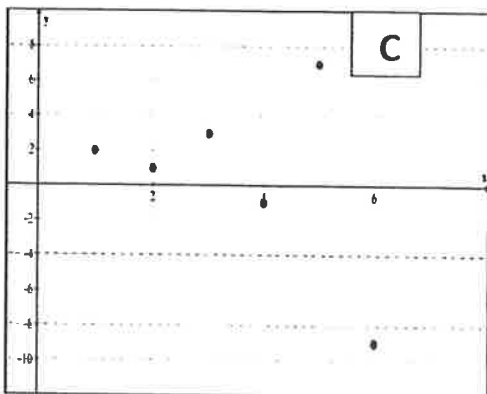
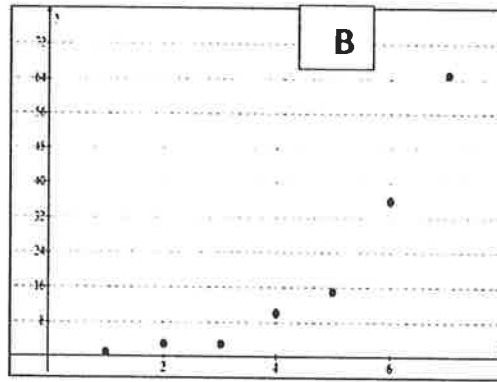
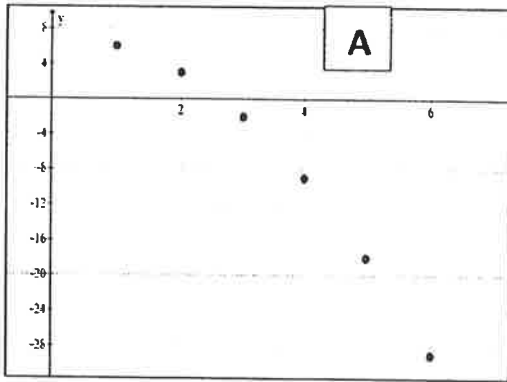
- a) $\frac{-1}{28}$
b) $\frac{1}{28}$
c) $\frac{-1}{27}$
d) $\frac{-1}{26}$

(15) الشكل البياني الذي يمثل المتتالية $a_n = -\frac{1}{2}n + 8$



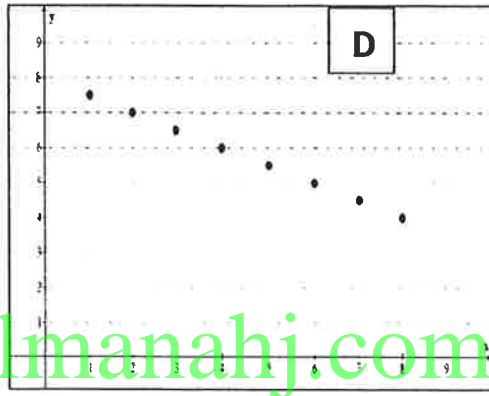
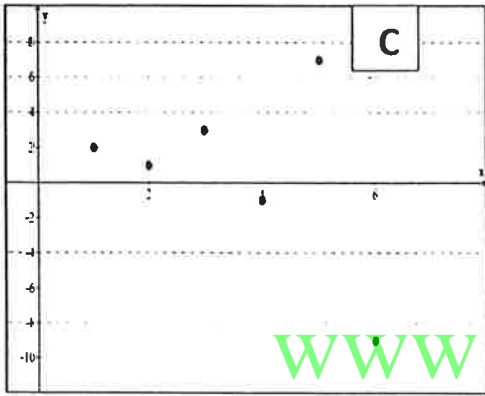
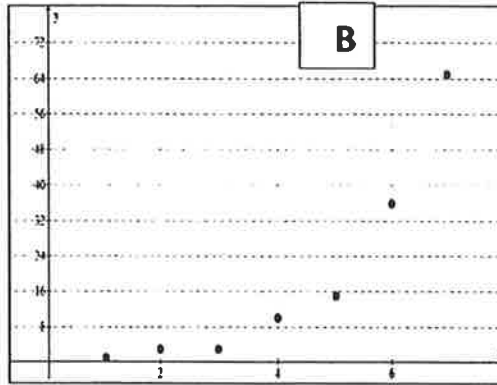
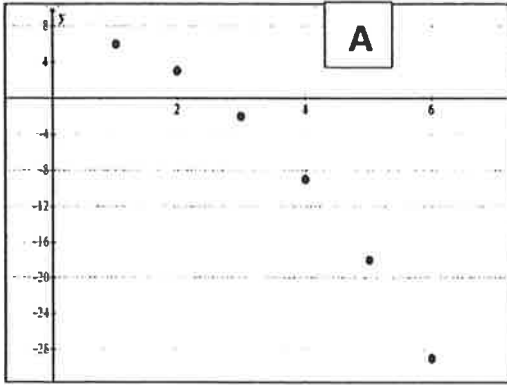
www.almanahj.com

(16) الشكل البياني الذي يمثل المتتالية $a_n = -\frac{1}{2}n + 8$



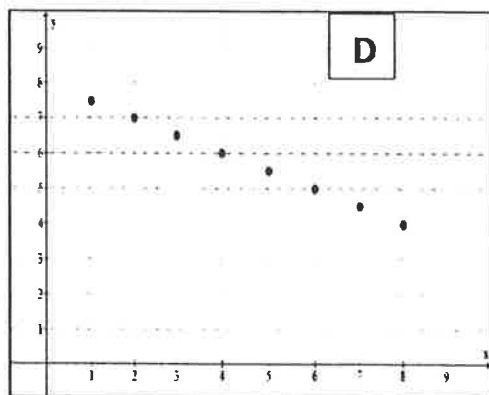
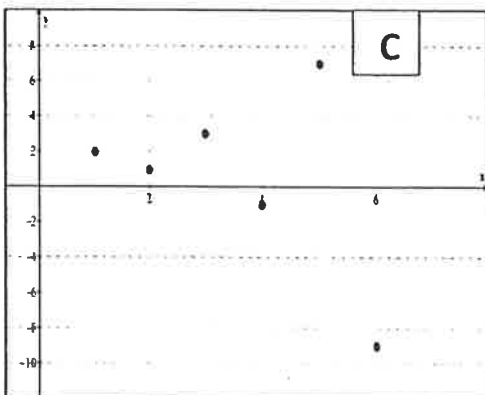
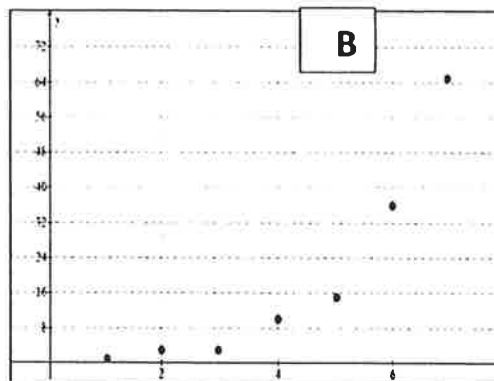
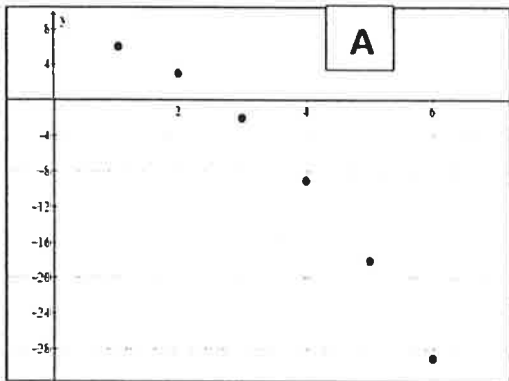
تطلب من مكتبة النجاح
 ت: 07-2332322
 لا يوجد لنا فروع اخرى

(17) الشكل البياني الذي يمثل المتتالية $a_n = -2a_{n-1} + 5, a_1 = 2, n \geq 2$



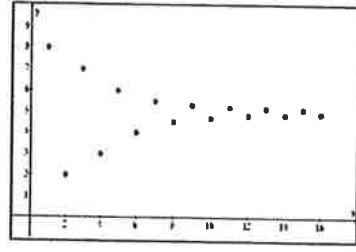
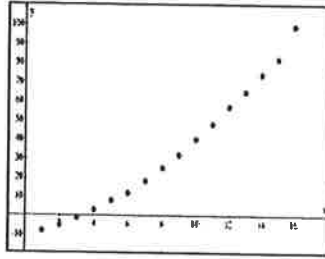
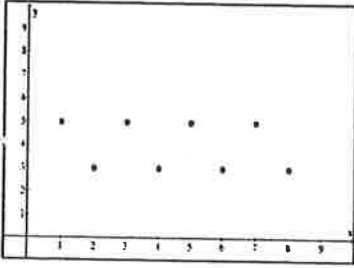
www.almanahj.com

(18) الشكل البياني الذي يمثل المتتالية $a_n = 2a_{n-1} + (-1)^n n, a_1 = 1, n \geq 2$



تطلب من مكتبة النجاح
 ت: 07-2332322
 لا يوجد لنا فروع اخرى

19) ميز التمثيل البياني الذي يمثل متتالية تقاربية أو تباعدية :



أجب عن الأسئلة التالية :

20) أوجد الفرق المشترك و أوجد الحدود الأربعة التالية في المتتالية الحسابية : $20, 14, 8, \dots$

تطلب من مكتبة النجاح
ت: 07-2332322
لا يوجد لنا فروع أخرى

21) أوجد القاسم المشترك و أوجد الحدود الأربعة التالية في المتتالية الهندسية : $24, 12, 6, \dots$

www.almanahj.com

22) الصيغة الصريحة للمتتالية الحسابية : $1, 3, 5, \dots$ هي :

- a) $a_n = 3n + 2$ b) $a_n = n^2 + 1$ c) $a_n = 2n - 3$ d) $a_n = n - 2$

23) الصيغة التكرارية لمتتالية حسابية : $12, 8, 4, 0, -4, \dots$:

- a) $a_n = a_{n-1} - 4, a_1 = 10, n \geq 2$ b) $a_n = a_{n-1} - 4, a_1 = 12, n \geq 2$
c) $a_n = a_{n-1} - 4, a_1 = 12, n \geq 3$ d) $a_n = a_{n-1} - 5, a_1 = 12, n \geq 2$

24) إذا كان $a_4 = 22, a_{21} = 107$ فإن a_1 تساوي

- a) 6 b) -8 c) -7 d) 7

25) إذا كان $a_1 = 5, a_n = 65$ فإن d تساوي :

- a) 3 b) 4 c) 6 d) -6

26) أوجد الأوساط الحسابية الأربعة بين العددين -1 و -16 :

تطلب من مكتبة النجاح
ت: 07-2332322
لا يوجد لنا فروع أخرى

(27) أوجد نموذجاً تربيعياً لكل متتالية : $0, 5, 12, 21, 32, \dots$

تطلب من مكتبة النجاح
ت: 07-2332322
لا يوجد لنا فروع اخرى

(28) أوجد المجموع الجزئي الثلاثون للمتتالية الحسابية مبيناً الخطوات: $-25, -20, -15, -10, \dots$

www.almanahj.com

(29) أوجد مبيناً الخطوات $\sum_{i=1}^{28} (-4n + 8)$

تطلب من مكتبة النجاح
ت: 07-2332322
لا يوجد لنا فروع اخرى

30) الحدود الثلاثة التالية في المتتالية 24 , 12 , 6 ,

- a) 3 , 1 , 0.5 b) 3 , -1.5 , 0.75 c) -3 , 1.5 , 0.75 d) 3 , 1.5 , 0.75

31) الحدود الثلاثة التالية في المتتالية : 4 , -1 , -6 ,

- a) -11 , -16 , -21 b) 11 , 16 , 21 c) -11 , 16 , -21 d) 11 , 16 , 20

32) سقطت كرة على الأرض من ارتفاع 48 قدم . إذا علمت أن الكرة ترتفع بعد ارتطامها بالأرض ثلثي ارتفاعها السابق أوجد : ارتفاع الكرة قبل ارتطامها الرابع . و ارتفاعها بعد ارتطامها السادس . و احسب المسافة التي قطعتها قبل ارتطامها الرابع

تطلب من مكتبة النجاح
ت: 07-2332322
لا يوجد لنا فروع أخرى

www.almanahj.com

33) الصيغة الصريحة للمتتالية : 8 , 12 , 30 , هي :

- a) $a_n = 8(-2.5)^{n-1}$ b) $a_n = 8(2.5)^{n-1}$
c) $a_n = -8(2.5)^{n-1}$ d) $a_n = (2.5)^{n-1}$

34) الصيغة الضمنية للمتتالية : 8 , 12 , 30 , هي :

- a) $a_n = 2.5a_{n-1}$ b) $a_n = 2.5a_{n+1}$
c) $a_n = a_1 \cdot a_{n-1}$ d) $a_n = (-1)^n 2.5a_{n-1}$

تطلب من مكتبة النجاح
ت: 07-2332322
لا يوجد لنا فروع أخرى

(35) الحد السادس في المتتالية : 5 , -10 , 20 ,

تطلب من مكتبة النجاح
ت: 07-2332322
لا يوجد لنا فروع اخرى

(36) ادخل أربعة أوساط هندسية بين العددين : 6 و 18750

(37) مجموع الحدود العشرة الأولى في المتتالية الهندسية -108 , 36 , -12 , 4

www.almanahj.com

(38) مجموع الحدود n الأولى من المتتالية الهندسية $r = -2$, $a_n = -1536$, $a_1 = 3$

(39) ناتج $\sum_{k=1}^8 (-1)^{k-1} (3k)$

تطلب من مكتبة النجاح
ت: 07-2332322
لا يوجد لنا فروع اخرى

$$(40) \text{ أوجد } \sum_{n=1}^{\infty} 40 \left(\frac{3}{4}\right)^{n-1}$$

تطلب من مكتبة النجاح
ت: 07-2332322
لا يوجد لنا فروع اخرى

$$(41) \text{ أوجد ناتج : } \frac{1}{3} + \frac{1}{12} + \frac{1}{48} + \dots$$

www.almanahj.com

$$(42) \text{ أوجد ناتج : } \frac{1}{6} + \frac{1}{3} + \frac{2}{3} + \dots$$

$$(43) \text{ إذا كان } r = 5, S_n = 31248 \text{ أوجد } a_1$$

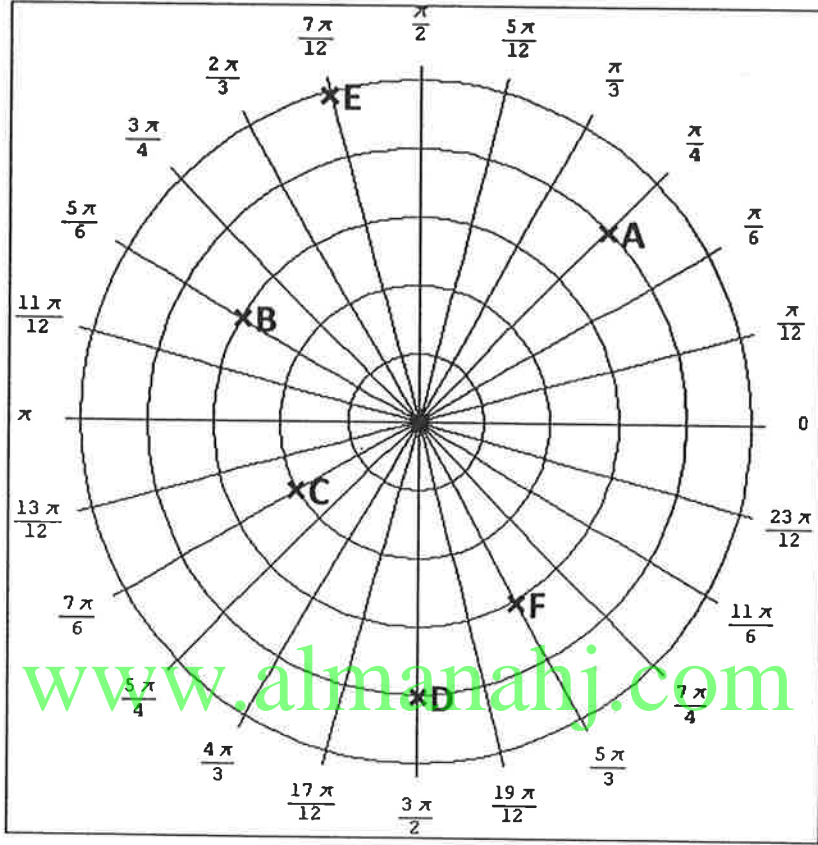
$$(44) \text{ إذا كان } S_n = 262140, a_n = 196608, a_1 = 12 \text{ أوجد } r$$

تطلب من مكتبة النجاح
ت: 07-2332322
لا يوجد لنا فروع اخرى

الإحداثيات القطبية و الأعداد المركبة

أولاً : تأمل الشبكة القطبية التالية و النقاط الممثلة فيها و أجب عن الأسئلة التالية :

لكل سؤال أربع إجابات اختر الإجابة الصحيحة :



1. الإحداثيات القطبية للنقطة A هي :

- a) $(4, \frac{\pi}{6})$ b) $(-4, -\frac{\pi}{4})$ c) $(4, \frac{\pi}{4})$ d) $(-4, -\frac{7\pi}{4})$

2. الإحداثيات القطبية للنقطة B هي :

- a) $(3, \frac{11\pi}{6})$ b) $(-3, -\frac{11\pi}{6})$ c) $(2, \frac{11\pi}{6})$ d) $(3, -\frac{11\pi}{6})$

3. الإحداثيات القطبية للنقطة C هي :

- a) $(2, \frac{5\pi}{6})$ b) $(2, -\frac{5\pi}{6})$ c) $(3, -\frac{5\pi}{6})$ d) $(2, \frac{\pi}{6})$

4. الإحداثيات القطبية للنقطة D هي :

- a) $(4, \frac{3\pi}{2})$ b) $(-4, -\frac{\pi}{2})$ c) $(4, -\frac{3\pi}{2})$ d) $(-3, \frac{\pi}{2})$

5. الإحداثيات القطبية للنقطة E هي :

- a) $(5, \frac{\pi}{12})$ b) $(-5, \frac{7\pi}{12})$ c) $(5, \frac{7\pi}{6})$ d) $(5, \frac{7\pi}{12})$

6. الإحداثيات القطبية للنقطة F هي :

- a) $(3, \frac{\pi}{6})$ b) $(-3, -\frac{\pi}{3})$ c) $(3, -\frac{\pi}{3})$ d) $(3, -\frac{\pi}{6})$

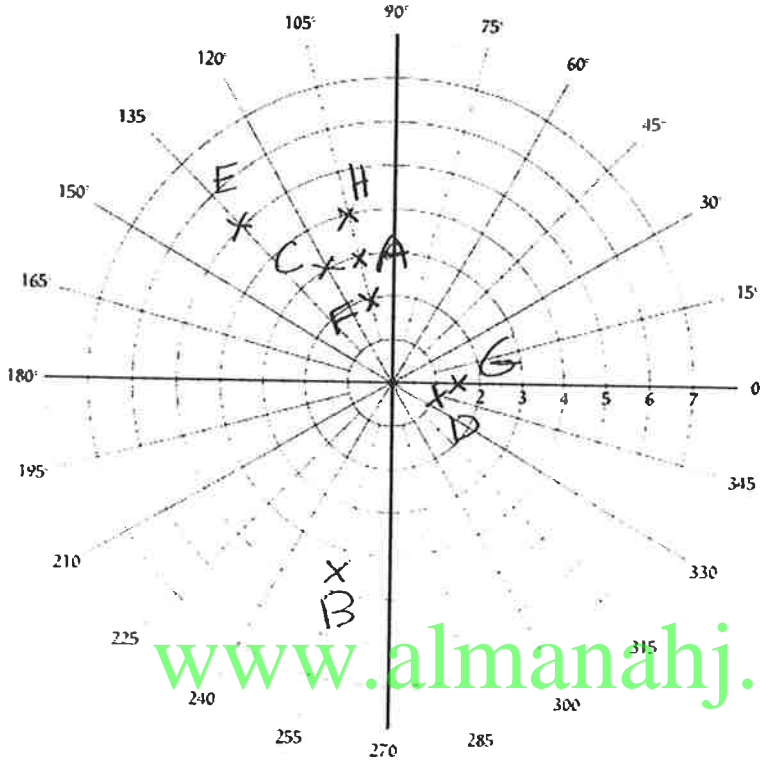
تطلب من مكتبة النجاح
ت: 07-2332322
لا يوجد لنا فروع اخرى

تطلب من مكتبة النجاح
ت: 07-2332322
لا يوجد لنا فروع اخرى

ثانياً : مثل النقاط التالية :

$$A(3, 105^\circ) , B(-4.5, 75^\circ) , C(3, 480^\circ) , D(-1, 165^\circ) , E(-5, -45^\circ)$$

$$F\left(2, \frac{7\pi}{12}\right) , G(-1.5, \pi) , H\left(-4, \frac{-5\pi}{12}\right) ,$$



www.almanahj.com

ثالثاً : في الفترة : $-2\pi \leq \theta \leq 2\pi, -360^\circ \leq \theta \leq 360^\circ$:

أختر الأزواج الثلاثة التي تعبر عن النقطة المعطاة . لكل نقطة أربع خيارات اختر منها الصحيح :

7) $A(2, 120^\circ)$

- a) $(2, -240^\circ), (3, -60^\circ), (-2, 300^\circ)$ b) $(2, -240^\circ), (2, -60^\circ), (-2, 300^\circ)$
 c) $(-2, -240^\circ), (2, 60^\circ), (2, 300^\circ)$ d) $(2, -240^\circ), (2, -60^\circ), (2, 480^\circ)$

8) $B(-3, -45^\circ)$

- a) $(-3, -315^\circ), (3, -135^\circ), (3, 225^\circ)$ b) $(3, -315^\circ), (2, 225^\circ), (-2, 300^\circ)$
 c) $(3, 135^\circ), (3, 225^\circ), (-3, 315^\circ)$ d) $(3, 45^\circ), (-3, 135^\circ), (-3, 405^\circ)$

9) $C\left(4, \frac{7\pi}{5}\right)$

- a) $\left(-4, \frac{3\pi}{5}\right), \left(-4, \frac{2\pi}{5}\right), \left(4, -\frac{2\pi}{5}\right)$ b) $\left(-4, \frac{3\pi}{5}\right), \left(-4, \frac{2\pi}{5}\right), \left(4, -\frac{2\pi}{5}\right)$
 c) $\left(-4, \frac{3\pi}{5}\right), \left(-4, \frac{2\pi}{5}\right), \left(4, -\frac{2\pi}{5}\right)$ d) $\left(-4, \frac{3\pi}{5}\right), \left(-4, \frac{2\pi}{5}\right), \left(4, -\frac{2\pi}{5}\right)$

10) $D\left(5, \frac{5\pi}{3}\right)$

- a) $\left(-5, \frac{\pi}{3}\right), \left(-5, \frac{4\pi}{3}\right), \left(5, -\frac{2\pi}{3}\right)$ b) $\left(-5, -\frac{\pi}{3}\right), \left(-5, \frac{4\pi}{3}\right), \left(-5, -\frac{2\pi}{3}\right)$
 c) $\left(5, -\frac{\pi}{3}\right), \left(-5, -\frac{4\pi}{3}\right), \left(-5, -\frac{2\pi}{3}\right)$ d) $\left(5, -\frac{\pi}{3}\right), \left(-5, -\frac{2\pi}{3}\right), \left(-5, \frac{8\pi}{3}\right)$

تطلب من مكتبة النجاح
ت: 07-2332322
لا يوجد لنا فروع اخرى

رابعاً : لكل فقرة أربع إجابات اختر الإجابة الصحيحة
المقدار الذي يمثل المسافة بين النقطتين في الحالات الآتية :

11) $(3, 60^\circ), (7, 120^\circ)$

a) $\sqrt{(3)^2 + (7)^2 - 3 \times 7 \sin(-60^\circ)}$

b) $\sqrt{(3)^2 + (7)^2 + 2 \times 3 \times 7 \cos(-60^\circ)}$

c) $\sqrt{3 + 7 - 2 \times 3 \times 7 \cos(60^\circ)}$

d) $\sqrt{(3)^2 + (7)^2 - 2 \times 3 \times 7 \cos(-60^\circ)}$

12) $(-5, 140^\circ), (3, 80^\circ)$

a) $\sqrt{(5)^2 + (3)^2 - 30 \cos(80^\circ)}$

b) $\sqrt{(-5)^2 + (3)^2 + 30 \cos(220^\circ)}$

c) $\sqrt{(-5)^2 + (3)^2 + 30 \cos(60^\circ)}$

d) $\sqrt{(-5)^2 + (3)^2 + 30 \cos(50^\circ)}$

13) $(-2, \frac{2\pi}{3}), (-6, -\frac{\pi}{4})$

www.almanahj.com

a) $\sqrt{(-2)^2 + (-6)^2 + 24 \cos(\frac{11\pi}{12})}$

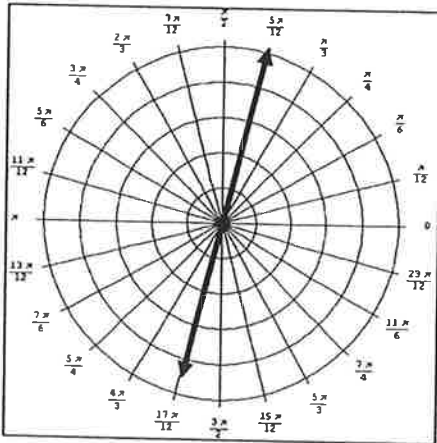
b) $\sqrt{(2)^2 + (-6)^2 + 24 \cos(\frac{5\pi}{12})}$

c) $\sqrt{(2)^2 + (6)^2 - 24 \cos(\frac{11\pi}{12})}$

d) $\sqrt{(2)^2 + (-6)^2 - 24 \cos(\frac{5\pi}{12})}$

خامساً : اختر معادلة التمثيل البياني في الحالتين :

14)



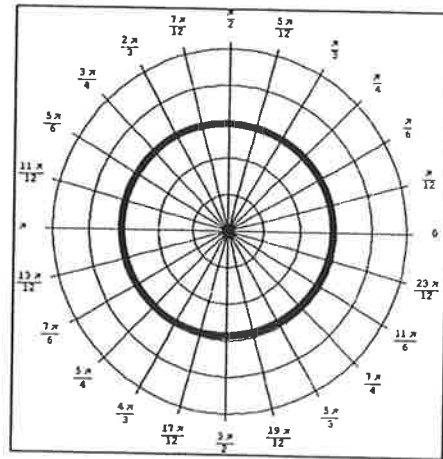
a) $\theta = 60^\circ$

b) $\theta = -105^\circ$

c) $r = 3$

d) $r = \frac{5\pi}{12}$

15)



a) $\theta = 60^\circ$

b) $\theta = -105^\circ$

c) $r = 3$

d) $r = \frac{5\pi}{12}$

تطلب من مكتبة النجاح
ت: 07-2332322
لا يوجد لنا فروع اخرى

إذا كان $P_1 = (4, 75^\circ)$, $P_2(r, 15^\circ)$, $P_1P_2 = \sqrt{21}$ فإن قيمة r هي : (16)

a) 6

b) -6

(c) 5

d) -5

إذا كان $P_1 = (\sqrt{2}, \frac{\pi}{12})$, $P_2(-7, \theta)$, $P_1P_2 = \sqrt{65}$ فإن قيمة θ هي : (17)

a) $\theta = \frac{7\pi}{12}$

b) $\theta = -\frac{7\pi}{12}$

(c) $\theta = \frac{5\pi}{12}$

d) $\theta = -\frac{5\pi}{12}$

المعادلة التي تمثلها البياني دائرة هي (18)

a) $r = 5\sin(3\theta)$

b) $r = -2\cos(3\theta)$

c) $r = -6\sin(3\theta)$

(d) $r = 5\sin(\theta)$

طول نصف قطر الدائرة التي معادلتها $r = -10\cos(\theta)$ (19)

a) 10

b) -10

(c) 5

d) -5

معادلة منحنى حلزون باسكال المنقر هي (20)

(a) $r = 5 + 4\cos(\theta)$ b) $r = 2 - 2\cos(\theta)$ c) $r = 7 - 3\sin(\theta)$ d) $r = 2 + 5\sin(\theta)$

معادلة منحنى حلزون باسكال قلبي هي (21)

a) $r = 5 + 4\cos(\theta)$ (b) $r = 2 - 2\cos(\theta)$ c) $r = 7 - 3\sin(\theta)$ d) $r = 2 + 5\sin(\theta)$

معادلة منحنى باسكال مع حلقة داخلية هي (22)

a) $r = 5 + 4\cos(\theta)$ b) $r = 2 - 2\cos(\theta)$ c) $r = 7 - 3\sin(\theta)$ (d) $r = 2 + 5\sin(\theta)$

معادلة منحنى باسكال حلزون المحدب هي (23)

a) $r = 5 + 4\cos(\theta)$ b) $r = 2 - 2\cos(\theta)$ (c) $r = 7 - 3\sin(\theta)$ d) $r = 2 + 5\sin(\theta)$

عدد البتلات في منحنى الوردة $r = -12\cos(5\theta)$ (24)

a) 10

(b) 5

c) 6

d) 10

عدد البتلات في منحنى الوردة $r = 6\sin(8\theta)$ (25)

b) 6

b) 3

c) 4

(d) 16

طول البتلة $r = -12\cos(2\theta)$ (26)

a) 2

(b) 12

c) 1

d) 6

معادلة منحنى ذات عروتين (27)

(a) $r^2 = 9\cos(\theta)$ b) $r^2 = 16\cos(5\theta)$ c) $r = 25\sin(2\theta)$ d) $r^2 = 10\sin(2\theta)$

معادلة منحنى حلزون أرشميدس هي (28)

a) $r = \theta$

b) $r = 2\cos\theta$

(c) $r = 7\theta - 3$

d) $r = 2 - 5\sin(\theta)$

الدالة المتماثلة حول المحور $\theta = \frac{\pi}{2}$ هي : (29)

b) $r = 3 - 1\cos\theta$

b) $r = 2\cos\theta$

c) $r = 5\theta + 1$

(d) $r = 2 - 5\sin(\theta)$

30 الدالة المتماثلة حول المحور القطبي هي :

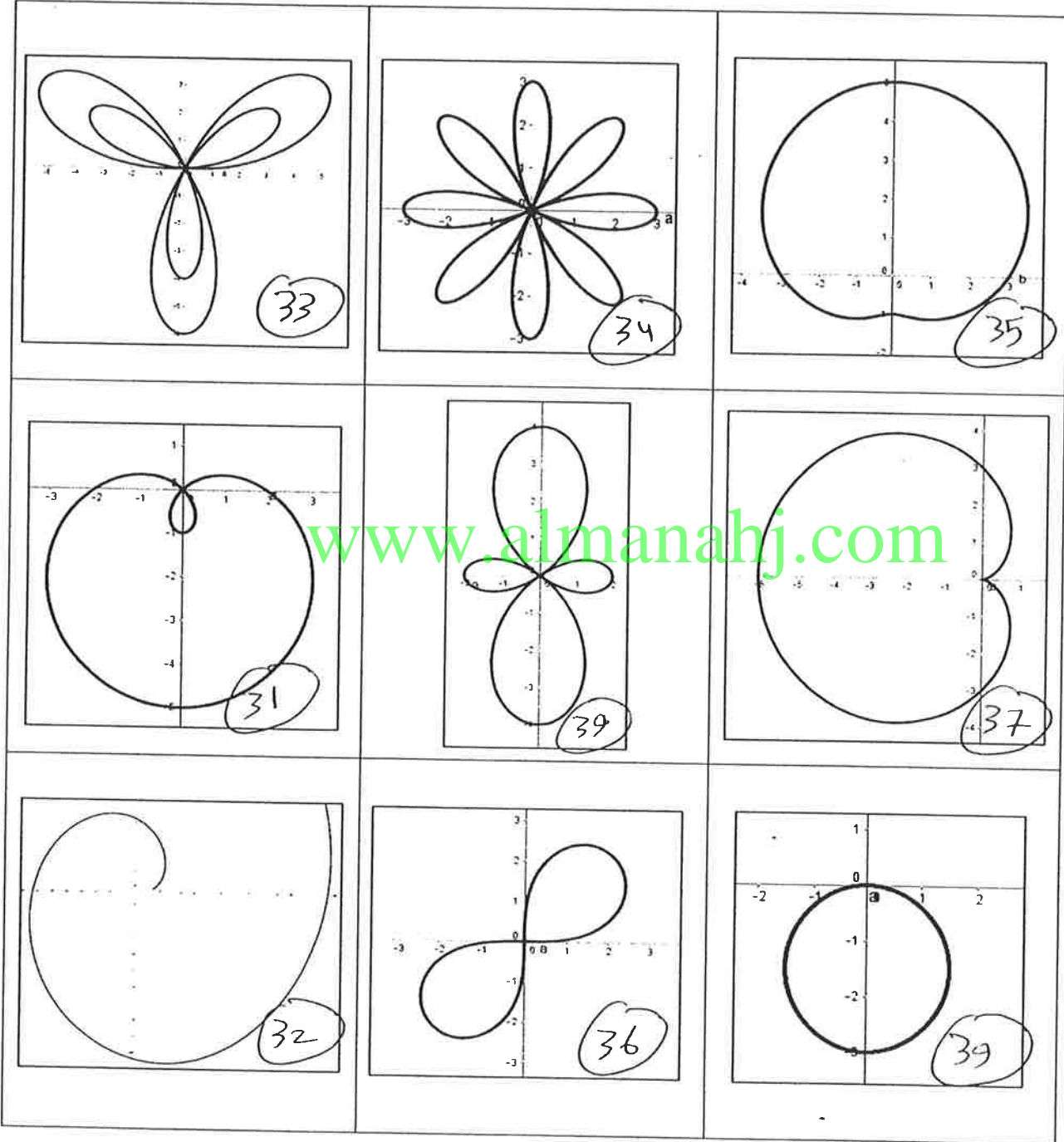
a) $r = 3\sin\theta$

b) $r = 2\cos\theta$

c) $r = 5\theta + 1$

d) $r = 2 - 5\sin(\theta)$

سادساً : صل كل تمثيل بياني مع معادلته :



31) $r = 2 - 3\sin\theta$

34) $r = 3\cos 4\theta$

37) $r = 3 - 3\cos\theta$

32) $r = 2\theta + 1$

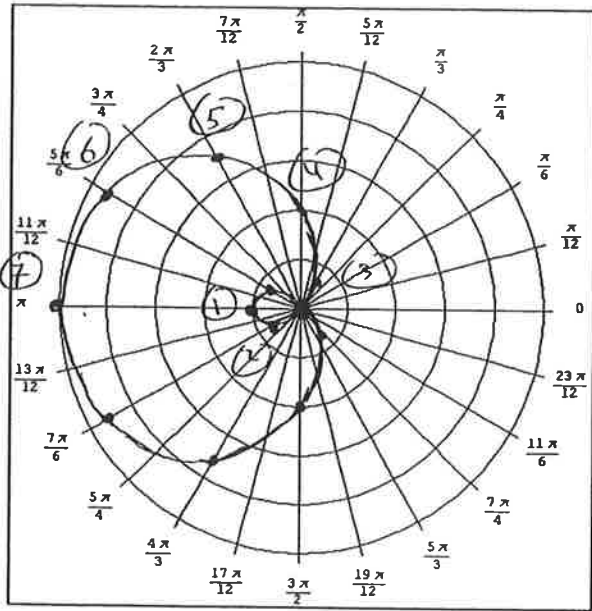
35) $r = 3 + 2\sin\theta$

38) $r = -2\sin\theta$

33) $r = 1 + 5\sin 3\theta$

36) $r^2 = 9\sin 2\theta$

39) $r = 1 - 3\cos 2\theta$



تطلب من مكتبة النجاح
ت: 07-2332322
لا يوجد لنا فروع اخرى

43) استخدم التماثل $r = 2 - 3 \cos \theta$

$(1, 0) \rightarrow (1, \pi - 0)$

كروي على $\cos \theta$ متماثل حول

المحور الحقيقي $[0, \pi]$

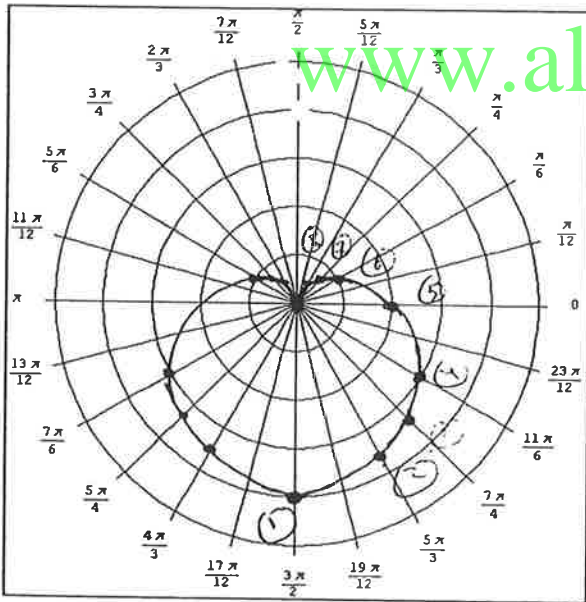
θ	0	$\frac{\pi}{2}$	$\frac{\pi}{3}$	$\frac{\pi}{2}$	$\frac{2\pi}{3}$	$\frac{5\pi}{6}$	π
r	-1	-0.6	0.5	2	3.5	4.6	5

(1) (2) (3) (4) (5) (6) (7)

نصن القطر المتداخلة

القطر بها بالسنة للمحور الحقيقي

ثم نرسم



www.almanahj.com

44) استخدم التماثل $r = 2 - 2 \sin \theta$

$(1, 0) \rightarrow (1, \pi - 0)$

كروي $\sin \theta$ متماثل حول

$\theta = \frac{\pi}{2}$

θ	$-\frac{\pi}{2}$	$-\frac{\pi}{3}$	$-\frac{\pi}{4}$	$-\frac{\pi}{6}$	0
r	4	3.7	3.4	3	2

(1) (2) (3) (4) (5)

قلبي

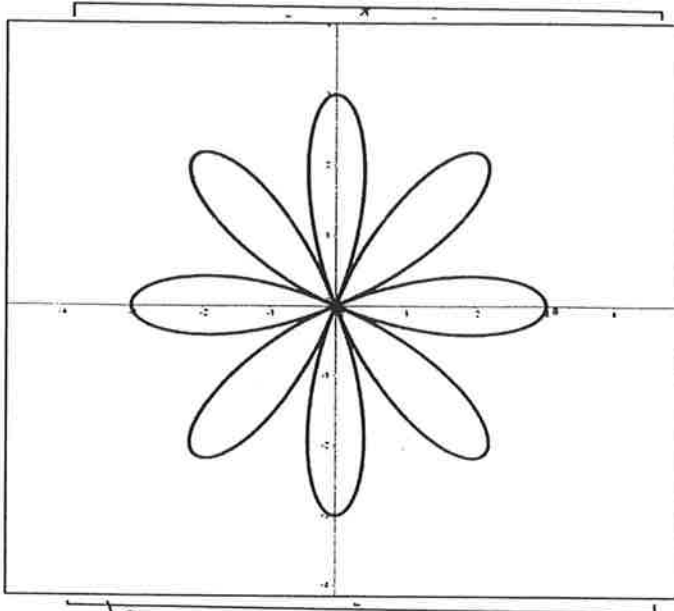
θ	$\frac{\pi}{6}$	$\frac{\pi}{4}$	$\frac{\pi}{3}$	$\frac{\pi}{2}$
r	1	0.6	0.3	0

(6) (7) (8) (9)

تطلب من مكتبة النجاح
ت: 07-2332322
لا يوجد لنا فروع اخرى

$[0, \frac{\pi}{2}]$

(45) استخدم التماثل و الأصفار و القيم العظمى $r = 3 \cos 4\theta$



(1) الدالة متماثلة حول المحور القطبي

(2) أكبر قيمة لـ r عند $\cos 4\theta = 1$

$$4\theta = 2n\pi$$

$$\rightarrow \theta = \frac{2n\pi}{4} = \frac{n\pi}{2}$$

أصغر قيمة لـ r عند $\cos 4\theta = -1$

$$4\theta = \pi + 2n\pi$$

$$\theta = \frac{\pi}{4} + \frac{2n\pi}{4} = \frac{\pi}{4} + \frac{n\pi}{2}$$

(3) $r = 0$ عند $\cos 4\theta = 0$

$$4\theta = \frac{\pi}{2} + 2n\pi \rightarrow \theta = \frac{\pi}{8} + \frac{n\pi}{2}$$

(4) تطلع جدول نرسم بعد ذلك:

0	$\frac{\pi}{8}$	$\frac{\pi}{4}$	$\frac{3\pi}{8}$	$\frac{\pi}{2}$
3	0	-3	0	3

www.almanahj.com

ثامناً : لكل سؤال أربع خيارات اختر الإجابة الصحيحة

(46) الإحداثي الديكارتي للنقطة $(2, 150^\circ)$

- a) $(\sqrt{3}, 1)$ b) $(\sqrt{3}, -1)$ c) $(-\sqrt{3}, -1)$ (d) $(-\sqrt{3}, 1)$

(47) الإحداثي الديكارتي للنقطة $(-3, \frac{-2\pi}{3})$

- a) $(-\frac{3}{2}, \frac{-3\sqrt{3}}{2})$ b) $(\frac{3}{2}, \frac{-3\sqrt{3}}{2})$ c) $(-\frac{3}{2}, \frac{3\sqrt{3}}{2})$ (d) $(\frac{3}{2}, \frac{3\sqrt{3}}{2})$

(48) الإحداثي القطبي للنقطة $(\frac{-1}{2}, \frac{\sqrt{3}}{2})$

- a) $(-1, \frac{2\pi}{3})$ b) $(1, \frac{-2\pi}{3})$ c) $(-1, -\frac{2\pi}{3})$ (d) $(1, \frac{2\pi}{3})$

تطلب من مكتبة النجاح
T: 07-2332322
لا يوجد لنا فروع أخرى

تاسعاً : حدد التمثيل البياني لكل معادلة و من ثم اكتب المعادلة بالصورة القطبية . في الحالتين :

$$49) (x-3)^2 + y^2 = 9$$

اكتب دائرة مركزها $(3,0)$ و $r = \sqrt{9} = 3$

$$\left. \begin{array}{l} x = r \cos \theta \\ y = r \sin \theta \end{array} \right\} \rightarrow (r \cos \theta - 3)^2 + (r \sin \theta)^2 = 9$$

$$r^2 \cos^2 \theta - 6r \cos \theta + 9 + r^2 \sin^2 \theta = 9$$

$$r^2 \cos^2 \theta + r^2 \sin^2 \theta - 6r \cos \theta = 0$$

$$r^2 (\cos^2 \theta + \sin^2 \theta) = 6r \cos \theta$$

$$r^2 = 6r \cos \theta$$

نقسم الطرفين على r ($r \neq 0$)

$$\therefore r = 6 \cos \theta$$

www.almanahj.com

$$50) (y-2)^2 - x^2 = 4$$

اكتب قطع زائد مركزه $(0,2)$ محور x أفقي، محور y عمودي، يوازي محاور x و y .

$$\left. \begin{array}{l} x = r \cos \theta \\ y = r \sin \theta \end{array} \right\} \rightarrow (r \sin \theta - 2)^2 - (r \cos \theta)^2 = 4$$

$$r^2 \sin^2 \theta - 4r \sin \theta + 4 - r^2 \cos^2 \theta = 4$$

$$r^2 \sin^2 \theta - r^2 \cos^2 \theta - 4r \sin \theta = 0$$

$$r^2 (\sin^2 \theta - \cos^2 \theta) = 4r \sin \theta$$

نقسم الطرفين على r ($r \neq 0$)

$$r (\sin^2 \theta - \cos^2 \theta) = 4 \sin \theta$$

$$\therefore r = \frac{4 \sin \theta}{\sin^2 \theta - \cos^2 \theta}$$

تطلب من مكتبة النجاح
ت: 07-2332322
لا يوجد لنا فروع اخرى

عاشراً : اكتب كل معادلة في الصورة الديكارتية ثم حدد تمثيلها البياني

51) $r = 2 \cos \theta$

$r \cdot r = 2r \cos \theta$

$r^2 = 2r \cos \theta$

$x^2 + y^2 = 2x$

إكمال: نضرب الطرفين بـ r

$r^2 = x^2 + y^2$
 $x = r \cos \theta$

دائرة

تطلب من مكتبة النجاح
 ت: 07-2332322
 لا يوجد لنا فروع اخرى

52) $\theta = \frac{-2\pi}{3}$

$\tan \theta = \tan \frac{-2\pi}{3}$

$\frac{y}{x} = \sqrt{3}$

www.almanahj.com

إكمال: نأخذ \tan للطرفين

في صيغ

53) $-2 = \tan \theta$

$-2 = \frac{\sin \theta}{\cos \theta} \rightarrow -2 \cos \theta = \sin \theta$

إكمال

نضرب الطرفين بـ r

$-2r \cos \theta = r \sin \theta$

$-2x = y \rightarrow y = -2x$

$x = r \cos \theta$
 $y = r \sin \theta$

في صيغ

54) $r = -3$

$r^2 = (-3)^2 \rightarrow r^2 = 9$

إكمال: نضرب الطرفين

$r^2 = x^2 + y^2$

$x^2 + y^2 = 9$

دائرة مركزها $(0,0)$

تطلب من مكتبة النجاح
 ت: 07-2332322
 لا يوجد لنا فروع اخرى

$$55) r = 3 \cos \left(\theta - \frac{\pi}{2} \right)$$

$$\cos \left(\theta - \frac{\pi}{2} \right) = \sin \theta$$

المكان

$$\therefore r = 3 \sin \theta$$

$$r^2 = 3r \sin \theta$$

$$x^2 + y^2 = 3y$$

نحول للرأسين بـ r

$$\begin{cases} y = r \sin \theta \\ r^2 = x^2 + y^2 \end{cases}$$

$$56) r = \frac{3 \cos \theta - 3 \sin \theta}{\cos^2 \theta - \sin^2 \theta} \rightarrow \text{فكاً تربيعياً}$$

المكان

$$r = \frac{3 (\cos \theta / \sin \theta)}{(\cos \theta / \sin \theta) (\cos \theta + \sin \theta)}$$

$$\therefore r = \frac{3}{\cos \theta + \sin \theta} \rightarrow r (\cos \theta + \sin \theta) = 3$$

$$r \cos \theta + r \sin \theta = 3$$

$$x + y = 3$$

فكاً تربيعياً

$$57) r = -5 \sin \left(\theta + \frac{\pi}{2} \right)$$

$$\sin \left(\theta + \frac{\pi}{2} \right) = \cos \theta$$

المكان

$$\therefore r = -5 \cos \theta$$

$$r^2 = -5r \cos \theta$$

$$x^2 + y^2 = -5x$$

نحول للرأسين بـ r

دائرة

حادي عشر : اختر الإجابة الصحيحة في كل مما يأتي :

58) الصورة القطبية للعدد $z = -1 + \sqrt{3}i$

a) $2 \left(\cos \frac{-2\pi}{3} + i \sin \frac{-2\pi}{3} \right)$

b) $-2 \left(\cos \frac{-\pi}{3} + i \sin \frac{-\pi}{3} \right)$

c) $2 \left(\cos \frac{2\pi}{3} - i \sin \frac{2\pi}{3} \right)$

(d) $2 \left(\cos \frac{2\pi}{3} + i \sin \frac{2\pi}{3} \right)$

59) الصورة القطبية للعدد $z = 4 + 3i$

a) $5(\cos 39.84 + i \sin -2\frac{\pi}{3})$

b) $5(\cos 36.87 + i \sin 36.87)$

c) $5(\cos 36.87 - i \sin 36.87)$

d) $5(\cos -36.87 + i \sin -36.87)$

60) الإحداثيات الديكارتية (المتعامدة) للعدد $z = 6(\cos \frac{\pi}{3} + i \sin \frac{\pi}{3})$

a) $z = -3 + 3\sqrt{3}i$ b) $z = -3 - 3\sqrt{3}i$ c) $z = 3 + \sqrt{3}i$ d) $z = 3 + 3\sqrt{3}i$

61) الإحداثيات الديكارتية (المتعامدة) للعدد $z = 4(\cos \frac{3\pi}{4} - i \sin \frac{3\pi}{4})$

a) $z = -2\sqrt{2} - 2\sqrt{2}i$ b) $z = \frac{\sqrt{2}}{2} - \sqrt{2}i$ c) $z = 2\sqrt{2} + 2\sqrt{2}i$ d) $z = \sqrt{2} + \frac{\sqrt{2}}{2}i$

62) قيمة المقدار $[3(\cos \frac{5\pi}{12} + i \sin \frac{5\pi}{12})]^4$

a) $z = \frac{81}{2} + \frac{-81}{2}i$ b) $z = \frac{-81}{2} + \frac{81\sqrt{3}}{2}i$ c) $z = \frac{81}{2} + \frac{-81\sqrt{3}}{2}i$ d) $z = \frac{-81}{2} + \frac{-81\sqrt{3}}{2}i$

63) العدد $z = -1 + \sqrt{3}i$ مرفوعاً لأس 4 هو :

a) $z = -8 + 8\sqrt{3}i$ b) $z = 8\sqrt{3} - 8i$ c) $z = -8 - 8\sqrt{3}i$ d) $z = 8\sqrt{2} + 8i$

64) العدد $z = -\frac{\sqrt{3}}{2} - \frac{1}{2}i$ مرفوعاً لأس 5 هو :

a) $z = -16 + 16\sqrt{3}i$ b) $z = \sqrt{3} - 16i$ c) $z = -16 - \sqrt{3}i$ d) $z = 16\sqrt{3} - 16i$

65) ناتج $(2 - 3i)(-3 + 5i)$

a) $z = -19 + 9i$ b) $z = 9 + 19i$ c) $z = 9 - 19i$ d) $z = 19 - 9i$

66) ناتج $4(\cos \frac{\pi}{4} + i \sin \frac{\pi}{4}) \times 3(\cos \frac{3\pi}{5} + i \sin \frac{3\pi}{5})$ هو :

a) $(\cos \frac{17\pi}{3} + i \sin -\frac{17\pi}{3})$ b) $12(\cos \frac{17\pi}{20} + i \sin \frac{15\pi}{20})$

d) $12(\cos \frac{17\pi}{20} + i \sin \frac{17\pi}{20})$

67) ناتج $6(\cos \frac{2\pi}{3} + i \sin \frac{2\pi}{3}) \div 3(\cos \frac{5\pi}{7} + i \sin \frac{5\pi}{7})$ هو :

a) $9(\cos \frac{-\pi}{21} + i \sin \frac{-\pi}{21})$ b) $2(\cos \frac{-\pi}{21} + i \sin \frac{-\pi}{21})$

c) $2(\cos \frac{-\pi}{21} - i \sin \frac{-\pi}{21})$ d) $2(\cos \frac{\pi}{3} + i \sin \frac{\pi}{3})$

$r=1, \theta = \frac{\pi}{2}$

$= 1(\cos \frac{\pi}{2} + i \sin \frac{\pi}{2})$

الصيغة العامة للجذور، كما يلي:

$= 1^{\frac{1}{5}}(\cos(\frac{\pi}{2} + \frac{2(n-1)\pi}{5}) + i \sin(\frac{\pi}{2} + \frac{2(n-1)\pi}{5}))$

$= \cos(\frac{\pi}{2} + \frac{2(n-1)\pi}{5}) + i \sin(\frac{\pi}{2} + \frac{2(n-1)\pi}{5})$

$z_0 = \cos \frac{\pi}{2} + i \sin \frac{\pi}{2}$ الأول

$n=1 \rightarrow$

$12 z_1 = \cos(\frac{\pi}{2} + \frac{2\pi}{5}) + i \sin(\frac{\pi}{2} + \frac{2\pi}{5})$

$z_1 = \cos \frac{\pi}{2} + i \sin \frac{\pi}{2} = i$ الثاني

ثاني عشر : أجب عن الأسئلة الآتية :

68) أوجد الجذور من الدرجة الخامسة لـ i

$n=2$
 $z_2 = \cos \frac{9\pi}{10} + i \sin \frac{9\pi}{10}$ الثاني

$n=3$
 $z_3 = \cos \frac{13\pi}{10} + i \sin \frac{13\pi}{10}$ الثالث

$n=4$
 $z_4 = \cos \frac{17\pi}{10} + i \sin \frac{17\pi}{10}$ كما سبق

تطلب من مكتبة النجاح
ت: 07-2332322
لا يوجد لنا فروع أخرى

(69) أوجد الجذور من الدرجة الرابعة لـ $z = \sqrt{3} + i$

$$r = 2, \theta = \frac{\pi}{6}$$

$$z = 2 \left(\cos \frac{\pi}{6} + i \sin \frac{\pi}{6} \right)$$

الصيغة العامة للجذور، (الباقي)

$$z_n = 2^{\frac{1}{4}} \left(\cos \left(\frac{\pi + 2n\pi}{4} \right) + i \sin \left(\frac{\pi + 2n\pi}{4} \right) \right)$$

$$n=0 \rightarrow z_0 = \sqrt[4]{2} \left(\cos \frac{\pi}{6} + i \sin \frac{\pi}{6} \right)$$

$$n=1 \rightarrow z_1 = \sqrt[4]{2} \left(\cos \frac{3\pi}{24} + i \sin \frac{3\pi}{24} \right)$$

$$n=2 \rightarrow z_2 = \sqrt[4]{2} \left(\cos \frac{5\pi}{24} + i \sin \frac{5\pi}{24} \right)$$

$$n=3 \rightarrow z_3 = \sqrt[4]{2} \left(\cos \frac{7\pi}{24} + i \sin \frac{7\pi}{24} \right)$$

تطلب من مكتبة النجاح
ت: 07-2332322
لا يوجد لنا فروع اخرى

www.almanahj.com

$$z = 1$$

pth

(70) أوجد جذور الوحدة من الدرجة الخامسة

$$\frac{2\pi}{5}$$

$$z_1 = 1 \left(\cos 0 + i \sin 0 \right) = 1 \quad (1)$$

$$z_2 = 1 \left(\cos \frac{2\pi}{5} + i \sin \frac{2\pi}{5} \right) \quad (2)$$

$$z_3 = \left(\cos \frac{4\pi}{5} + i \sin \frac{4\pi}{5} \right) \quad (3)$$

$$z_4 = \left(\cos \frac{6\pi}{5} + i \sin \frac{6\pi}{5} \right) \quad (4)$$

$$z_5 = \left(\cos \frac{8\pi}{5} + i \sin \frac{8\pi}{5} \right) \quad (5)$$

تطلب من مكتبة النجاح
ت: 07-2332322
لا يوجد لنا فروع اخرى

المتاليات و المتسلسلات

أجب عن الأسئلة الآتية : جزء منها اختيار من متعدد و الجزء الآخر أسئلة مقالية :

(1) الحدود الثلاثة التالية في المتتالية : , -108 , 36 , -12 , 4 هي :

a) 324 , 972 , 2916

b) 324 , -972 , -2916

c) 324 , -972 , 2916

d) -108 , 36 , -12

(2) الحدود الثلاثة التالية في المتتالية : , 15 , 8 , 3 , 0 هي :

a) -24 , 30 , 45

b) 24 , 35 , 48

c) -24 , -35 , -48

d) 48 , 35 , 24

(3) الحدود الأولى الثلاثة في المتتالية : $a_n = -3^n + 5$ هي :

a) -2 , -4 , -22

b) 2 , 4 , 22

c) -2 , 4 , -22

d) 2 , -4 , -22

(4) الحدود الأولى الثلاثة في المتتالية : $a_n = (-1)^{n+1} \left(\frac{n^2}{n+1} \right)$ هي :

a) $\frac{1}{2}, \frac{-4}{3}, \frac{9}{4}$

b) $\frac{-1}{2}, \frac{4}{3}, \frac{9}{4}$

c) $\frac{-1}{2}, \frac{-4}{3}, \frac{-9}{4}$

d) $\frac{1}{2}, \frac{3}{4}, \frac{4}{9}$

(5) الحد الخمسين في المتتالية $a_n = \left(\frac{5n}{n+1} \right) - 10$ هو :

a) $\frac{250}{51}$

b) $\frac{-250}{51}$

c) $\frac{250}{51} + 10$

d) $\frac{-260}{51}$

a) -45

b) -139

c) 139

d) 45

(7) الحد السادس في المتتالية $a_n = (a_{n-1})^2 - 2a_{n-1}, a_1 = 3, n \geq 2$ هو

a) 18

b) 6

c) 3

d) -6

(8) أي متتالية مما يأتي تقاربية

a) $a_n = \frac{3n-5}{2}$

b) $a_n = n^2 + 3$

c) $a_n = \frac{2n+1}{n-5}$

d) $a_n = \frac{n^2-2n}{n}$

(9) أي متتالية مما يأتي تباعدية

a) $a_n = \left(-\frac{1}{5}\right)^n + 2$

b) $a_n = 2^n - 3$

c) $a_n = \frac{3n+1}{2n}$

d) $a_n = \sin n$

(10) المجموع الجزئي السادس للمتتالية $a_n = n^2(2n+1)$ هو

a) 973

b) -379

c) 793

d) 975

(11) المجموع الجزئي الخامس للمتتالية $a_n = 2a_{n-1} - 3n, a_1 = 3, n \geq 2$ هو

a) 110

b) -108

c) 111

d) -111

(12) ناتج $\sum_{n=1}^{12} (2n-1)$ هو

a) 12

b) 144

c) 112

d) 121

(13) ناتج $\sum_{n=3}^{25} (n^2 + 2)(n-2)$ هو

a) 98752

b) 97543

c) 95128

d) 97128

(14) ناتج $\sum_{n=1}^{10} (-1)^n \left(\frac{1}{5}\right)^{2n}$ هو

a) $\frac{-1}{28}$

b) $\frac{1}{28}$

c) $\frac{-1}{27}$

d) $\frac{-1}{26}$

تطلب من مكتبة النجاح
T: 07-2332322
ت: 07-2332322
لا يوجد لنا فروع اخرى

www.almanahj.com


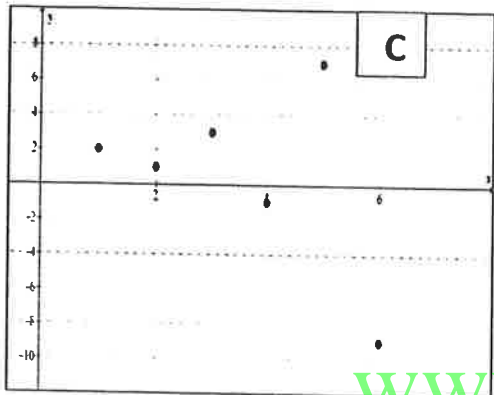
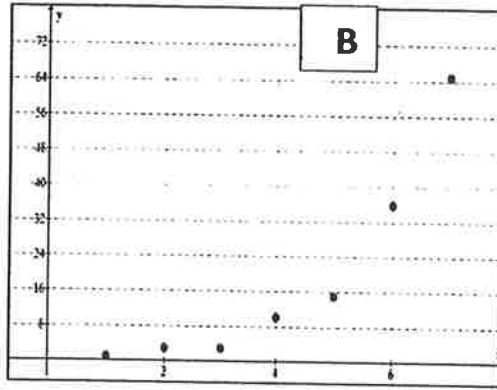
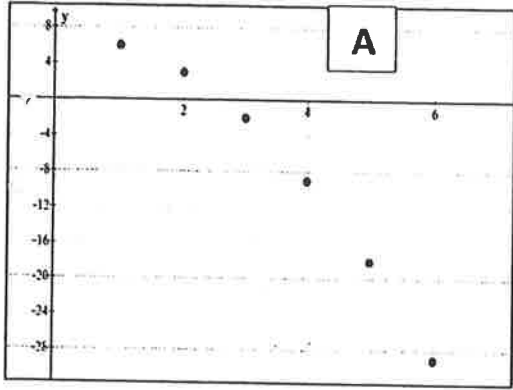
تطلب من مكتبة النجاح

ت: 07-2332322

لا يوجد لنا فروع اخرى

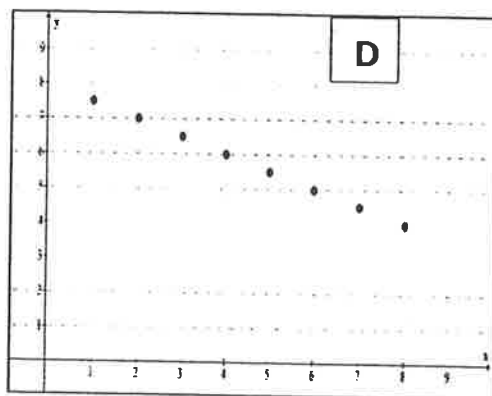
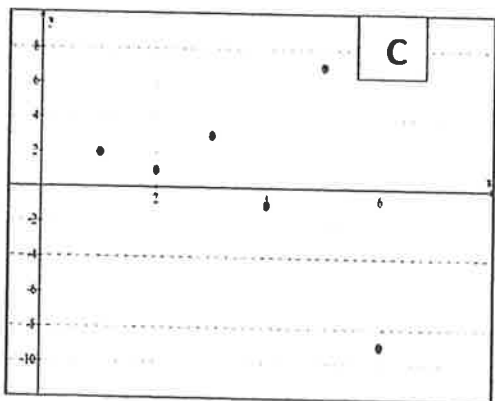
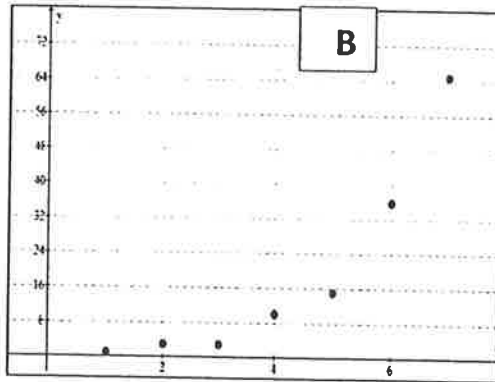
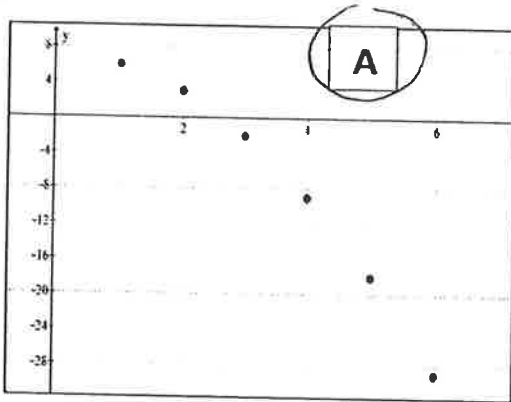
تطلب من مكتبة النجاح
 ت: 07-2332322
 لا يوجد لنا فروع اخرى

(15) الشكل البياني الذي يمثل المتتالية $a_n = -\frac{1}{2}n + 8$



www.almanahj.com

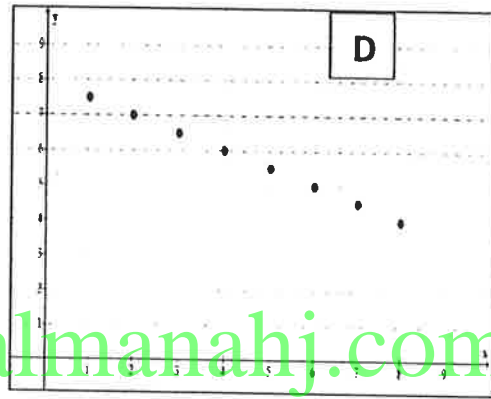
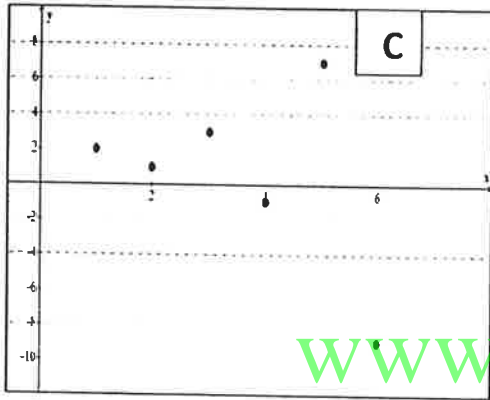
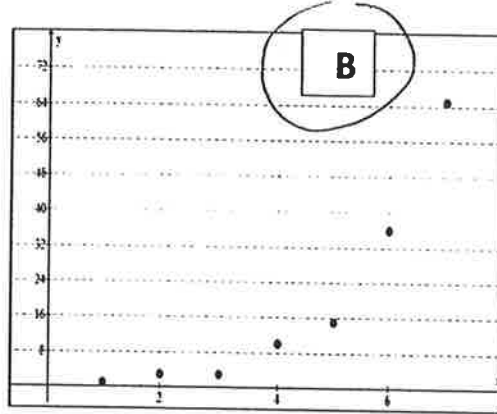
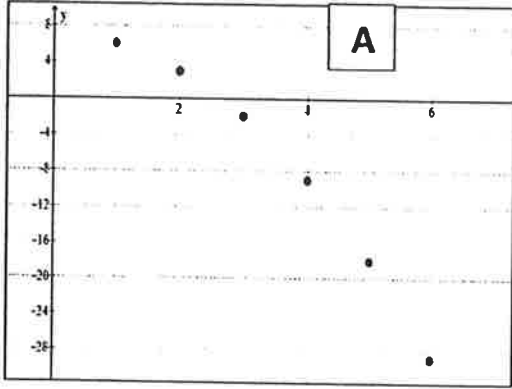
(16) الشكل البياني الذي يمثل المتتالية $a_n = -\frac{1}{2}n + 8$



تطلب من مكتبة النجاح
 ت: 07-2332322
 لا يوجد لنا فروع اخرى

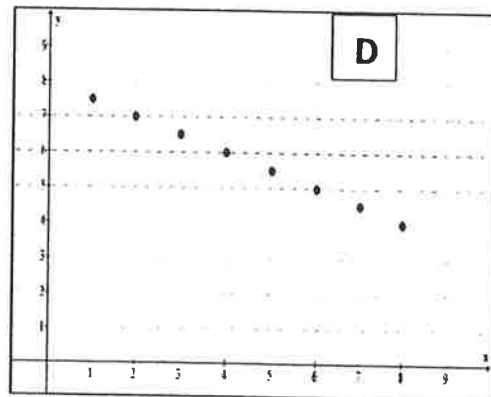
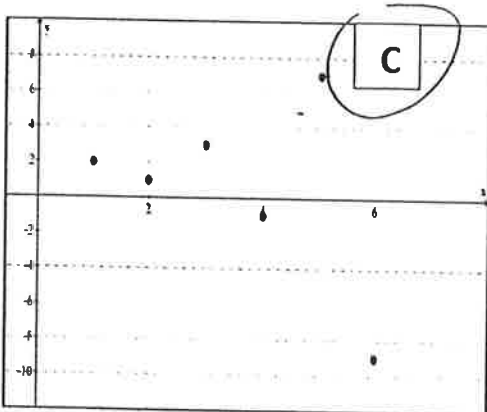
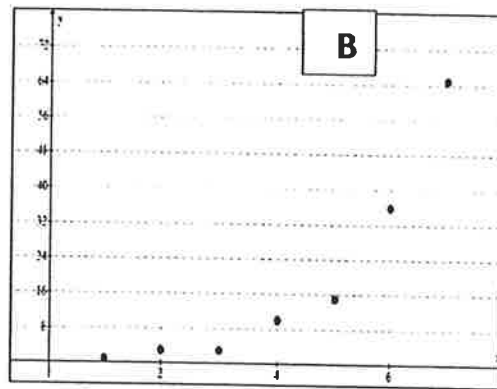
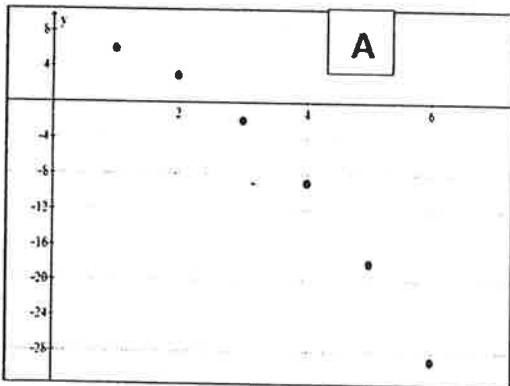
تطلب من مكتبة النجاح
 ت: 07-2332322
 لا يوجد لنا فروع اخرى

(17) الشكل البياني الذي يمثل المتتالية $a_n = -2a_{n-1} + 5, a_1 = 2, n \geq 2$



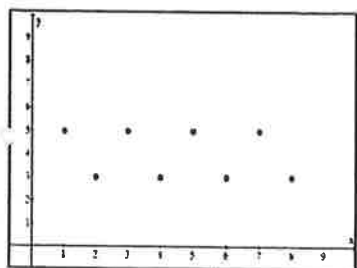
www.almanahj.com

(18) الشكل البياني الذي يمثل المتتالية $a_n = 2a_{n-1} + (-1)^n n, a_1 = 1, n \geq 2$

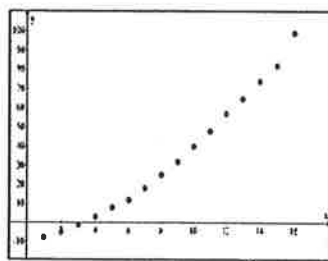


تطلب من مكتبة النجاح
 ت: 07-2332322
 لا يوجد لنا فروع اخرى

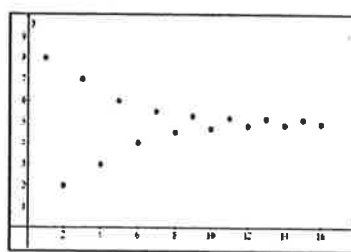
(19) ميز التمثيل البياني الذي يمثل متتالية تقاربية أو تباعدية :



غير ذلك



تباعدية



تقاربية

أجب عن الأسئلة التالية :

(20) أوجد الفرق المشترك و أوجد الحدود الأربعة التالية في المتتالية الحسابية : $20, 14, 8, \dots$

$$\text{الفرق المشترك} = 14 - 20 = -6$$

$$\text{الحدود الأربعة التالية} \rightarrow 2, -4, -10, -16$$

(21) أوجد القاسم المشترك و أوجد الحدود الأربعة التالية في المتتالية الهندسية : $24, 12, 6, \dots$

$$\text{القاسم المشترك} = \frac{12}{24} = \frac{1}{2}$$

$$\text{الحدود الأربعة التالية} = 3, 1.5, 0.75, 0.375$$

(22) الصيغة الصريحة للمتتالية الحسابية : $1, 3, 5, \dots$ هي :

a) $a_n = 3n + 2$ b) $a_n = n^2 + 1$ **c) $a_n = 2n - 3$** d) $a_n = n - 2$

(23) الصيغة التكرارية لمتتالية حسابية : $12, 8, 4, 0, -4, \dots$

a) $a_n = a_{n-1} - 4, a_1 = 10, n \geq 2$ **b) $a_n = a_{n-1} - 4, a_1 = 12, n \geq 2$**

c) $a_n = a_{n-1} - 4, a_1 = 12, n \geq 3$ d) $a_n = a_{n-1} - 5, a_1 = 12, n \geq 2$

(24) إذا كان $a_4 = 22, a_{21} = 107$ فإن a_1 تساوي

a) 6 b) -8 **c) -7** d) 7

(25) إذا كان $a_1 = 5, a_n = 65$ فإن d تساوي :

a) 3 **b) 4** c) 6 d) -6

(26) أوجد الأوساط الحسابية الأربعة بين العددين -1 و -16 :

$$n = 4 + 2 = 6, a_1 = -1, a_6 = -16$$

$$a_1 + (6-1)d = -16$$

$$-1 + 5d = -16$$

$$5d = -16 + 1$$

$$5d = -15$$

$$d = \frac{-15}{5} = -3$$

$$-4, -7, -10, -13$$

تطلب من مكتبة النجاح
ت: 07-2332322
لا يوجد لنا فروع اخرى

1 2 3

(27) أوجد نموذجاً تربيعياً لكل متتالية : $0, 5, 12, 21, 32, \dots$

$$y = ax^2 + bx + c$$

$$(1, 0) \rightarrow 0 = a(1)^2 + b(1) + c \rightarrow a + b + c = 0 \quad (1)$$

$$(2, 5) \rightarrow 5 = a(2)^2 + b(2) + c \rightarrow 4a + 2b + c = 5 \quad (2)$$

$$(3, 12) \rightarrow 12 = a(3)^2 + b(3) + c \rightarrow 9a + 3b + c = 12 \quad (3)$$

بجمع المعادلات الثلاثة نحصل على

$$a = 1, b = 2, c = -3$$

$$y = n^2 + 2n - 3$$

(28) أوجد المجموع الجزئي الثلاثون للمتتالية الحسابية مبيناً الخطوات : $-25, -20, -15, -10, \dots$

$$n = 30$$

$$a_1 = -25$$

$$d = -20 - (-25) = 5$$

$$S_n = \frac{n}{2} [2a_1 + (n-1)d]$$

$$S_{30} = \frac{30}{2} [2 \times -25 + (30-1) \times 5]$$

$$= 1425$$

تطلب من مكتبة النجاح
ت: 07-2332322
لا يوجد لنا فروع أخرى

(29) أوجد مبيناً الخطوات $\sum_{i=1}^{28} (-4n + 8)$

$$= 4 + 0 + -4 + \dots + -104$$

هذا هو مجموع 28 عدد متتالية حسابية من 4 إلى -104

$$S_n = \frac{n(a_1 + a_n)}{2}$$

$$= \frac{28(4 + -104)}{2} = -1400$$

تطلب من مكتبة النجاح
ت: 07-2332322
لا يوجد لنا فروع أخرى

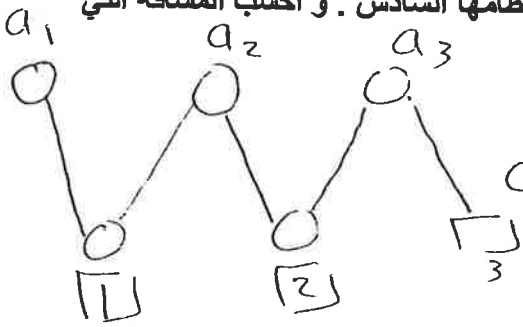
(30) الحدود الثلاثة التالية في المتتالية 24, 12, 6,

- a) 3, 1, 0.5 b) 3, -1.5, 0.75 c) -3, 1.5, 0.75 **d) 8, 1.5, 0.75**

(31) الحدود الثلاثة التالية في المتتالية : 4, -1, -6,

- a) -11, -16, -21** b) 11, 16, 21 c) -11, 16, -21 d) 11, 16, 20

(32) سقطت كرة على الأرض من ارتفاع 48 قدم . إذا علمت أن الكرة ترتفع بعد ارتطامها بالأرض ثلثي ارتفاعها السابق أوجد : ارتفاع الكرة قبل ارتطامها الرابع . و ارتفاعها بعد ارتطامها السادس . و احسب المسافة التي قطعها قبل ارتطامها الرابع



الكرة ارتفاعها قبل ارتطامها الرابع : $a_1 = 48$, $r = \frac{2}{3}$

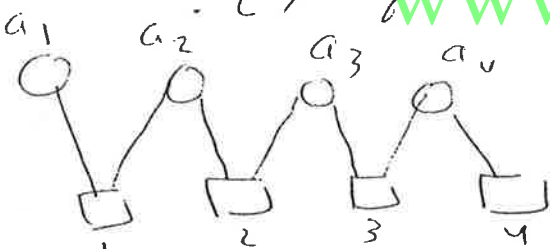
① ارتفاع الكرة بعد ارتطامها الرابع المطلوب هو ارتفاع الرابع

$$a_n = a_1 r^{n-1} = 48 \left(\frac{2}{3}\right)^3 = 14.22$$

② ارتفاع الكرة بعد ارتطامها السادس المطلوب هو ارتفاع السادس

$$a_7 = 48 \left(\frac{2}{3}\right)^6 = 4.21$$

③ المسافة التي قطعها الكرة قبل ارتطامها الرابع = ضعف مجموع الارتفاعات



$$a_1 + 2a_2 + 2a_3 + 2a_4$$

$$S_4 = \frac{48(1 - (\frac{2}{3})^4)}{1 - \frac{2}{3}} = \frac{1040}{9}$$

$$\begin{aligned} \text{المسافة} &= 2S_4 - a_1 = 2 \times \frac{1040}{9} - 48 = \\ &= \frac{1648}{9} \approx 183.1 \text{ قدم} \end{aligned}$$

(33) الصيغة الصريحة للمتتالية : 8, 12, 30,

- a) $a_n = 8(-2.5)^{n-1}$ **b) $a_n = 8(2.5)^{n-1}$**
 c) $a_n = -8(2.5)^{n-1}$ d) $a_n = (2.5)^{n-1}$

(34) الصيغة الضمنية للمتتالية : 8, 12, 30,

- a) $a_n = 2.5a_{n-1}$** b) $a_n = 2.5a_{n+1}$
 c) $a_n = a_1 \cdot a_{n-1}$ d) $a_n = (-1)^n 2.5a_{n-1}$

تطلب من مكتبة النجاح
 ت: 07-2332322
 لا يوجد لنا فروع اخرى

$$\frac{20}{-10} = \frac{-10}{5} = -2$$

الفتح ليترك

(35) الحد السادس في المتتالية : 5, -10, 20,

الكل: المتتالية هندسية لأن

$$a_1 = 5, r = -2$$

$$a_n = a_1 r^{n-1} \rightarrow a_6 = 5(-2)^5 = -160$$

$$n = 2 + 4 = 6$$

(36) أدخل أربعة أوساط هندسية بين العددين : 6 و 18750

$$a_1 = 6, a_6 = 18750 \rightarrow 6 r^5 = 18750$$

$$r^5 = \frac{18750}{6} \rightarrow r = \sqrt[5]{3125} = 5$$

الأوساط الأربعة هي

$$30, 150, 750, 3750$$

(37) مجموع الحدود العشرة الأولى في المتتالية الهندسية 4, -12, 36, -108,

$$a_1 = 4$$

$$r = \frac{-12}{4} = -3$$

$$n = 10$$

$$S_n = \frac{a_1(1-r^n)}{1-r}$$

$$S_{10} = \frac{4(1-(-3)^{10})}{1-(-3)} = -59048$$

www.almanahj.com

ملاحظة: في كل الحسابات $r^n = \square$ إذا نظرنا إلى قوى r تأخذ r قوة زوجية ويكون سالبا ويكون r^n حاداً

(38) مجموع الحدود n الأولى من المتتالية الهندسية $a_1 = 3, a_n = -1536, r = -2$

$$S_n = \frac{a_1 - a_n r}{1-r} \rightarrow S_n = \frac{3 - (-1536)(-2)}{1-(-2)} = \frac{3 - 3072}{3} = -1023$$

(39) ناتج $\sum_{k=1}^8 (-1)^{k-1} (3k)$

$$= (-1)^0 (3 \times 1) + (-1)^1 (3 \times 2) + (-1)^2 (3 \times 3) + (-1)^3 (3 \times 4) + (-1)^4 (3 \times 5) + (-1)^5 (3 \times 6) + (-1)^6 (3 \times 7) + (-1)^7 (3 \times 8)$$

$$= 3 - 6 + 9 - 12 + 15 - 18 + 21 - 24 = -12$$

بالإشارة يكتب هكذا

(40) أوجد $\sum_{n=1}^{\infty} 40 \left(\frac{3}{4}\right)^{n-1}$

سلسلة لا يتقارب

$$|r| = \left|\frac{3}{4}\right| < 1 \quad \leftarrow r = \frac{3}{4}$$

$$a_1 = 40$$

تقارب فيها

$$S_{\infty} = \frac{a_1}{1-r} = \frac{40}{1-\frac{3}{4}} = 160$$

تطلب من مكتبة النجاح
T: 07-2332322
لا يوجد لنا فروع اخرى

(41) أوجد ناتج: $\frac{1}{3} + \frac{1}{12} + \frac{1}{48} + \dots$

سلسلة لا يتقارب

$$\frac{1}{3} \quad \times \frac{1}{4} \quad \times \frac{1}{4} \quad \times \frac{1}{4} \quad \dots$$

$$\therefore \sum_{n=1}^{\infty} \frac{1}{3} \left(\frac{1}{4}\right)^{n-1}$$

$$a_1 = \frac{1}{3}, \quad r = \frac{1}{4} \rightarrow |r| = \left|\frac{1}{4}\right| = \frac{1}{4} < 1 \rightarrow \text{تقارب}$$

www.almanahj.com

$$\therefore S_{\infty} = \frac{a_1}{1-r} = \frac{\frac{1}{3}}{1-\frac{1}{4}} = \frac{4}{9}$$

(42) أوجد ناتج: $\frac{1}{6} + \frac{1}{3} + \frac{2}{3} + \dots$

سلسلة لا يتقارب ولا تتباعد

لا يمكن ايجاد مجموعها وهي متناهية

(43) إذا كان $r = 5$, $S_n = 31248$ أوجد a_1

تطلب من مكتبة النجاح
T: 07-2332322
لا يوجد لنا فروع اخرى

المعلومات غير كافية

هذه هي

(44) إذا كان $a_1 = 12$, $a_n = 196608$, $S_n = 262140$ أوجد r

$$S_n = \frac{a_1 - a_n r}{1-r} \rightarrow 262140 = \frac{12 - 196608 r}{1-r}$$

$$262140(1-r) = 12 - 196608 r$$

$$262140 - 262140 r = 12 - 196608 r$$

$$262140 - 12 = 262140 r - 196608 r$$

$$262178 = 65532 r$$

$$r = \frac{262178}{65532}$$

$$r = 4$$