

تم تحميل هذا الملف من موقع ملفات الكويت التعليمية



[com.kwedufiles.www//:https](https://www.kwedufiles.com)

*للحصول على أوراق عمل لجميع الصفوف وجميع المواد اضغط هنا

* للحصول على أوراق عمل لجميع مواد الصف الأول اضغط هنا

<https://kwedufiles.com/1>

* للحصول على جميع أوراق الصف الأول في مادة رياضيات ولجميع الفصول, اضغط هنا

<https://kwedufiles.com/1math>

* للحصول على أوراق عمل لجميع مواد الصف الأول في مادة رياضيات الخاصة بـ الفصل الأول اضغط هنا

<https://www.kwedufiles.com/1math1>

* لتحميل كتب جميع المواد في جميع الفصول للـ الصف الأول اضغط هنا

<https://www.kwedufiles.com/grade1>

[bot_kwlinks/me.t//:https](https://t.me/bot_kwlinks)

للحصول على جميع روابط الصفوف على تلغرام وفيسبوك من قنوات وصفحات: اضغط هنا

الروابط التالية هي روابط الصف الأول على مواقع التواصل الاجتماعي

مجموعة الفيسبوك

صفحة الفيسبوك


مجموعة التلغرام

بوت التلغرام


قناة التلغرام

رياضيات على التلغرام


لون تحت الطاولة




لون فوق الطاولة



ضع علامة ✓ على تحت الكرسي




ارسم فوق



لون الذي يقع في الـ أمام 



لون الذي يقع في الـ خلف 



ضع علامة على الشيء الذي يقع في الـ أمام :



ارسم موضع الكرة إذا تحركت إلى الـ أمام :



ارسم  خلف

تم التحميل من شبكة ياكويت

تدريبات للصف الأول الابتدائي- الفصل الأول

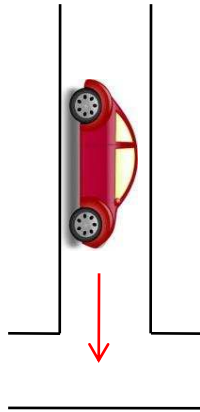
■ ارسم  يمين  :



■ ضع علامة على السيارة التي تقع على يسار 



■ ارسم خطا يبين موضع  إذا تحركت إلى اليسار :




لون الشيء الذي يقع بين



ضع علامة ✓ على الأشياء التي تقع في الـ خارج



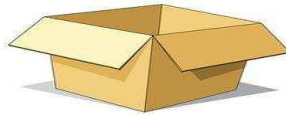
ضع علامة ✓ على الأشياء التي تقع في الـ داخل



داخل

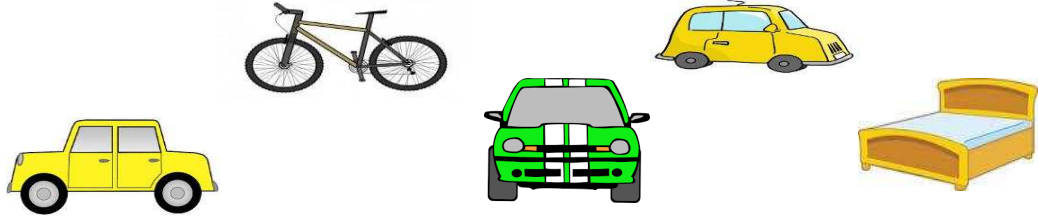


ارسم



ارسم ● بين

▪ حوط السيارات




▪ صل الكرات




▪ صل كل حبة فاكهة إلى داخل




حوظ السيارات الصفراء



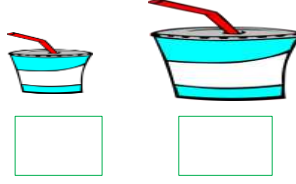
صل البالونات الزرقاء بخط




ضع علامة ✓ على الشيء الذي لا ينتمي إلى المجموعة



▪ ضع علامة ✓ على الشيء الكبير :




▪ ضع علامة ✓ على الشيء الصغير :



▪ حوط الأشياء الكبيرة



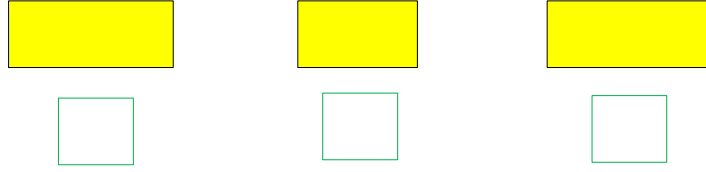
▪ - لون الأقلام الصغيرة باللون الأحمر .
والأقلام الكبيرة باللون الأزرق .



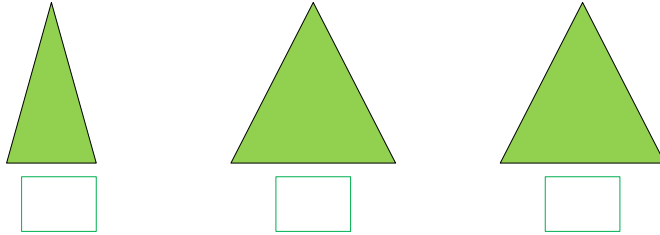
▪ أكمل النمط



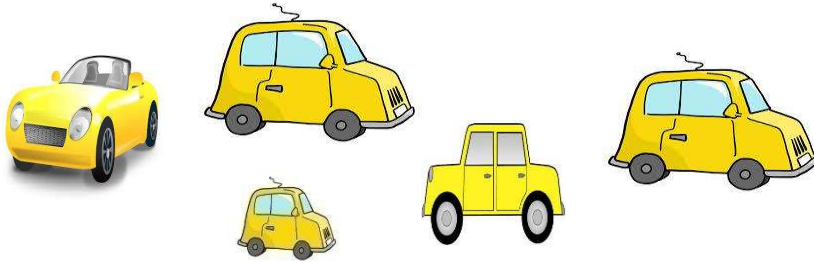
ضع علامة ✓ على الشكلين المتطابقين



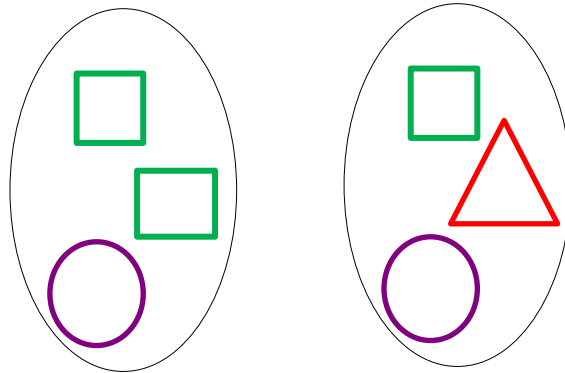
ضع علامة ✓ على الشكل الذي لا يطابق



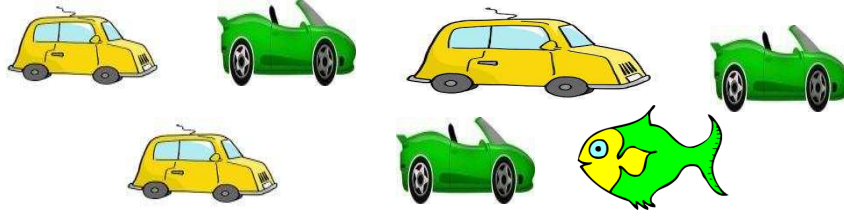
حوظ الأشياء الـ متطابقة



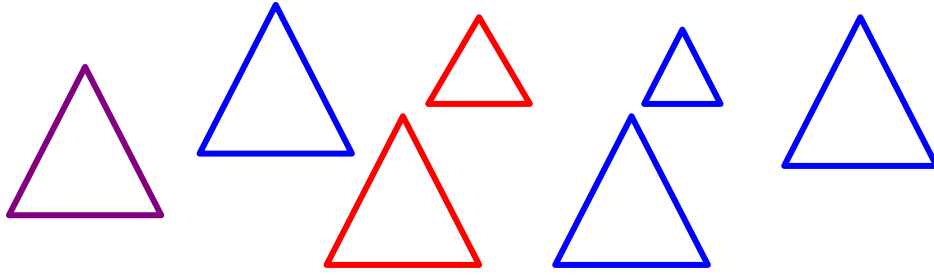
صل الأشكال الـ متطابقة




▪ حوط السيارات الصفراء الصغيرة



▪ حوط المثلثات الكبيرة الزرقاء



- لون البيض الذي يقع في الـ داخل باللون الأحمر
- ولون البيض في الـ خارج باللون الأصفر



أكتب رمز العدد

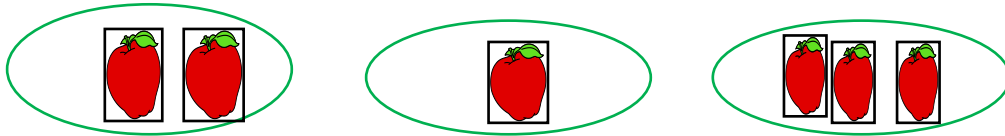


لون واحدا


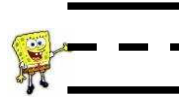
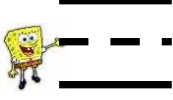


صل

١



أكتب رمز العدد






لون اثنتين

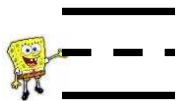


صل


٢



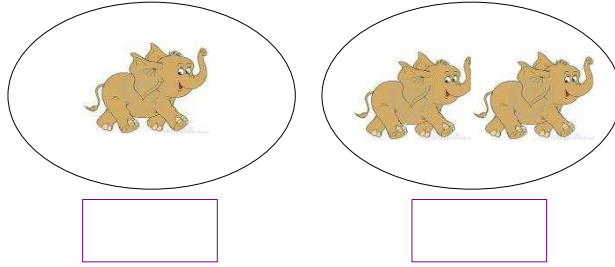
أكتب رمز العدد الدال على عدد العيون عندك



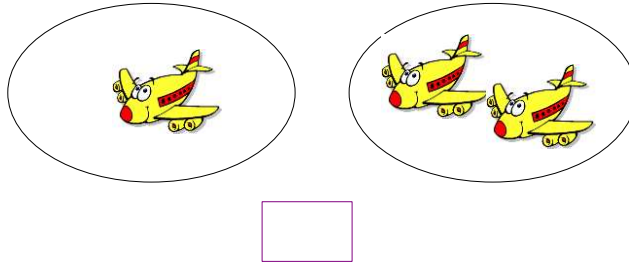
- لون عناصر المجموعة التي تحوي عنصرا واحدا باللون الأزرق
- لون عناصر المجموعة التي تحوي عنصرين باللون الأحمر



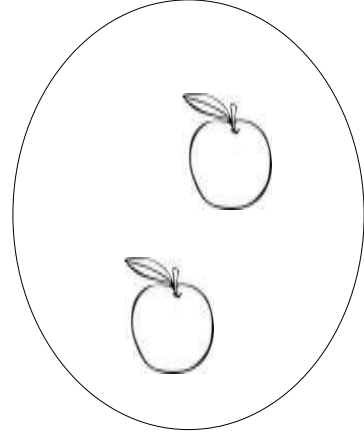


- ضع علامة أسفل المجموعة الأقل





- أكتب عدد عناصر المجموعتين ، ثم قارن بينهما مستخدما الرموز (< أو > أو =)



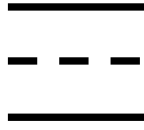


- لون عناصر المجموعة التي تحوي عنصرا واحدا باللون الأزرق .
- لون عناصر المجموعة التي تحوي عنصرين باللون الأحمر .



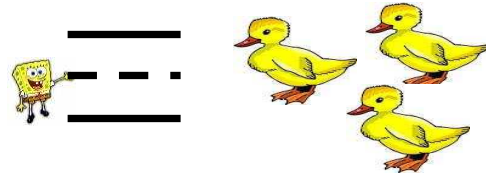

- ضع علامة أسفل المجموعة الأقل .



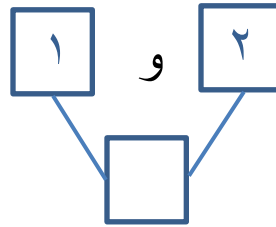
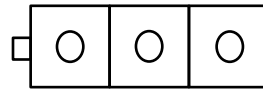
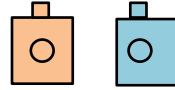
■ أكتب عدد عناصر المجموعتين ، ثم قارن بينهما مستخدماً الرموز (< أو > أو =)





أكتب رمز العدد .



استخدم لونين ، أوجد طرقا لتكون العدد ٣ .




ضع علامة أسفل المجموعة الأكثر .




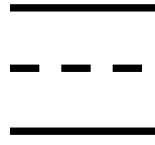
أكمل ، أكتب رمز العدد .

----- ، ٢ ، -----



أكتب رمز العدد الدال على عدد الأقلام في يد المعلم .



▪ أكتب رمز العدد .



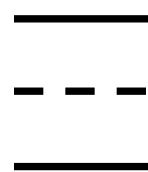
▪ ضع علامة أسفل المجموعة الأكثر .



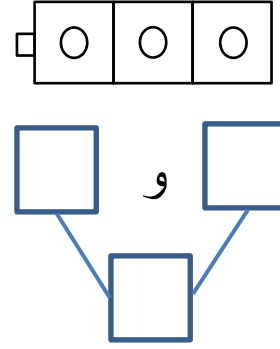
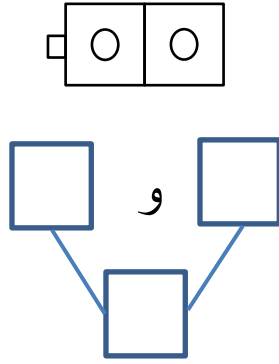
▪ أكمل ، أكتب رمز العدد .



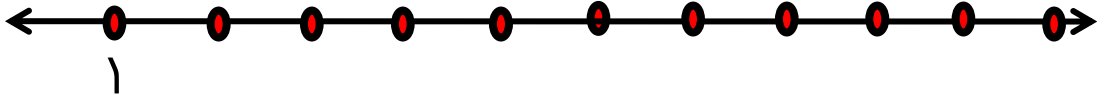
، ٢ ،



■ استخدم لونين .  



■ حدد موقع العددين ٢ ، ٣ على خط الأعداد .



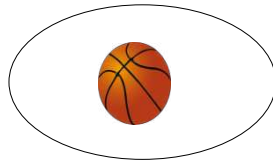
■ أكمل .

○ العدد ٢ قبل العدد

○ العدد بعد العدد ٢



○ العدد ٢ يقع بين العدد والعدد

■ كم عنصر تحتاج لاستكمال رسم العناصر ل ثلاثة

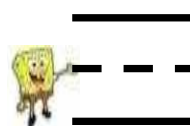
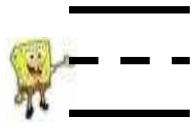


٢

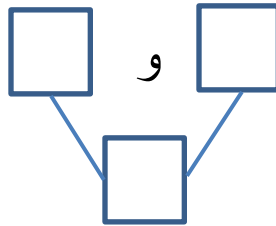
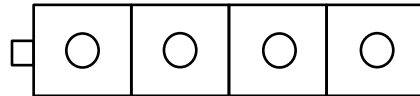
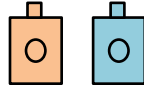
أكتب رمز العدد .



حوظ المجموعة الأقل واكتب رمز العدد .



لتوضح طرقا لتكوين العدد ٤ مستخدما



أكمل .

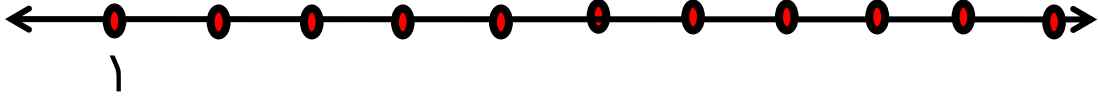
○ العدد ٣ قبل .

○ العدد ٣ بعد العدد .

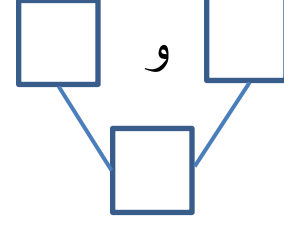
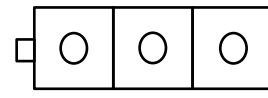
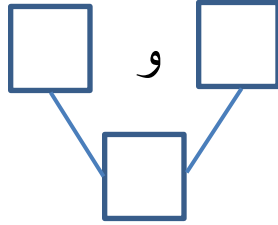
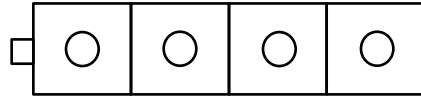
▪ أكمل . أكتب رمز العدد .

..... ، ٣ ، ٢ ،



▪ حدد موقع العددين ٢ ، ٣ ، ٤ على خط الأعداد .




استخدم لونين من المكعبات لإيجاد طرق لتكوين العددين ٣ ، ٤ .



▪ أكتب رمز عدد عناصر المجموعتين ، ثم قارن بينهما مستخدماً الرموز (< أو > أو =)



▪ استكمل رسم العناصر ل ٤



٤