

الاسم:-----

ورقة تقويمية للوحدة الثالثة
الصف الأول لمادة الرياضيات

وزارة التربية
الإدارة العامة لمنطقة حولي التعليمية


الصف: ١ /

العام الدراسي ٢٠١٩ - ٢٠٢٠

التوجيه الفني للرياضيات

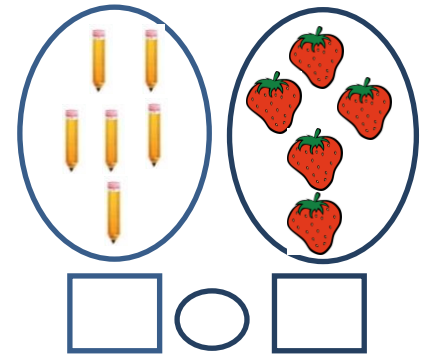

السؤال الأول :

(أ) صل رموز الاعداد التالية بالمجموعة المناسبة :



٩


(ب) اكتب رمز العدد ثم قارن بوضع رمز العلاقة < أو > أو =



السؤال الثاني : حوّل رمز العدد المناسب لكل مجموعة :

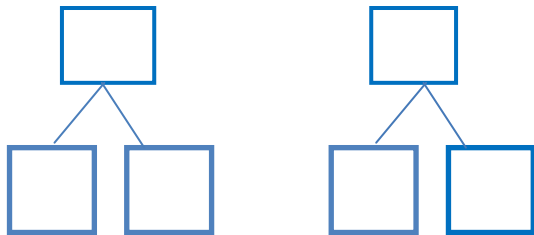


--	--	--

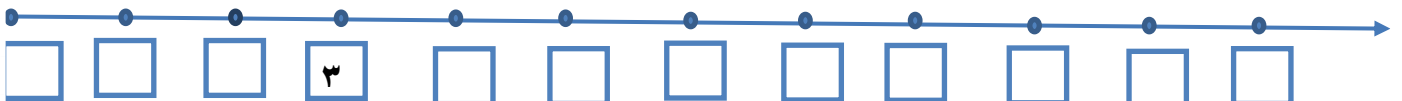


٨	٦	١٠
---	---	----



السؤال الثالث : اكتب مكونات العدد.





السؤال الرابع : أكمل :





السؤال الأول :(أ) صل رموز الاعداد التالية بالمجموعة المناسبة :

	<input type="checkbox"/>	٩
<input type="checkbox"/>	<input type="checkbox"/>	
	<input type="checkbox"/>	

(ب) اكتب رمز العدد ثم قارن بوضع رمز العلاقة < أو > أو =


	
<input type="checkbox"/>	<input type="checkbox"/>


=

	
<input type="checkbox"/>	<input type="checkbox"/>

>

السؤال الثاني : حوِّط رمز العدد المناسب لكل مجموعة :

	<input type="checkbox"/>	<input type="checkbox"/>	<input type="checkbox"/>
---	--------------------------	--------------------------	--------------------------

	<input type="checkbox"/>	<input type="checkbox"/>	<input checked="" type="checkbox"/>
٨	٦	١٠	

السؤال الثالث : اكتب مكونات العدد.

<input type="checkbox"/>	<input type="checkbox"/>
<input type="checkbox"/>	<input type="checkbox"/>
١	١١
<input type="checkbox"/>	<input type="checkbox"/>
٨	١

تراجعى الطول الأخرى

السؤال الرابع : أكمل :

<input type="checkbox"/>	<input type="checkbox"/>	<input type="checkbox"/>	<input type="checkbox"/>	<input type="checkbox"/>	<input type="checkbox"/>	<input type="checkbox"/>	<input type="checkbox"/>	<input type="checkbox"/>	<input type="checkbox"/>	<input type="checkbox"/>	
٠	١	٢	٣		٥	٦		٨	٩	١٠	١١