

كل ما يحتاجه الطالب في جميع الصفوف من أوراق عمل واختبارات ومذكرات، يجده هنا في الروابط التالية لأفضل مواقع تعليمي إماراتي 100 %

<u>تطبيق المناهج الإماراتية</u>	<u>الاجتماعيات</u>	<u>الرياضيات</u>
<u>الصفحة الرسمية على التلغرام</u>	<u>الاسلامية</u>	<u>العلوم</u>
<u>الصفحة الرسمية على الفيسبوك</u>	<u>الانجليزية</u>	
<u>التربية الاخلاقية لجميع الصفوف</u>	<u>اللغة العربية</u>	
<u>التربية الرياضية</u>		
مجموعات التلغرام.	مجموعات الفيسبوك	قنوات تلغرام
<u>الصف الأول</u>	<u>الصف الأول</u>	<u>الصف الأول</u>
<u>الصف الثاني</u>	<u>الصف الثاني</u>	<u>الصف الثاني</u>
<u>الصف الثالث</u>	<u>الصف الثالث</u>	<u>الصف الثالث</u>
<u>الصف الرابع</u>	<u>الصف الرابع</u>	<u>الصف الرابع</u>
<u>الصف الخامس</u>	<u>الصف الخامس</u>	<u>الصف الخامس</u>
<u>الصف السادس</u>	<u>الصف السادس</u>	<u>الصف السادس</u>
<u>الصف السابع</u>	<u>الصف السابع</u>	<u>الصف السابع</u>
<u>الصف الثامن</u>	<u>الصف الثامن</u>	<u>الصف الثامن</u>
<u>الصف التاسع عام</u>	<u>الصف التاسع عام</u>	<u>الصف التاسع عام</u>
<u>الصف التاسع متقدم</u>	<u>الصف التاسع متقدم</u>	<u>الصف التاسع متقدم</u>
<u>الصف العاشر عام</u>	<u>الصف العاشر عام</u>	<u>الصف العاشر عام</u>
<u>الصف العاشر متقدم</u>	<u>الصف العاشر متقدم</u>	<u>الصف العاشر متقدم</u>
<u>الحادي عشر عام</u>	<u>الحادي عشر عام</u>	<u>الحادي عشر عام</u>
<u>الحادي عشر متقدم</u>	<u>الحادي عشر متقدم</u>	<u>الحادي عشر متقدم</u>
<u>ثاني عشر عام</u>	<u>الثاني عشر عام</u>	<u>الثاني عشر عام</u>
<u>ثاني عشر متقدم</u>	<u>الثاني عشر متقدم</u>	<u>الثاني عشر متقدم</u>

مراجعة الرياضيات

الفصل الدراسي الثالث

الصف الثاني (العام الدراسي 2018-2019)

alManahj.com/ae

	اسم الطالب
	الصف والشعبة

مُعَلِّم المادة: **جمانة ملوحي**

حلى الكوكو

السؤال الأول : اختر الإجابة الصحيحة في كل مما يلي :

(1) الوقت الظاهر أمامك هو :

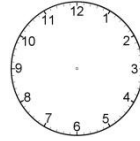


00:3

3:30

3:00

، كم سيكون الوقت بعد ساعتين :



(2) إذا كان الوقت على الساعة هو

1:30

1:00

9:00

alManahj.com/ae

(3) الوقت الظاهر أمامك هو :



10 إلا ربع

9 وربع

9 إلا ربع

(4) الساعة 6 إلا ربع هي الساعة :

4 : 45

6 : 45

5 : 45

(5) إن الوقت الظاهر أمامك هو :



3: 35

4: 35

7: 15

1

2

(6) الوقت على ساعة محمد هو **3 ساعات ونصف** بعد 5 : 00 إذا الوقت على ساعته هو :

5 : 00
0

8 : 30
0

3 : 30
0

(7) الساعة 12 : 15 هي الساعة :

15 و 12 دقيقة
0

12 و نصف
0

12 و ربع
0

(8) الساعة التناظرية هي الساعة التي تستخدم :

غير ذلك
0

الأرقام
alManah.com/ae

العقارب
0

(9) اليوم هو الأربعاء ، اليوم الذي سيكون بعد 7 أيام هو :

الأربعاء
0

الثلاثاء
0

الخميس
0

(10) يحتاج حمد لبناء زورق إلى :

1 يوم
0

1 دقيقة
0

1 ثانية
0

سيصبح الوقت بعد نصف ساعة :



6: 30
0

5: 15
0

6 : 15
0

12) إن قيمة العملات
فل هو :



61
0

81
0

85
0

13) العملة من فئة 10 فلسات هي :



0



0



0

14) عدد العملات من فئة
غير ذلك 100 فلساً التي تحتاجها لتكون 1 درهم هو :
0



alManahj.com/ae

0

100
0

10
0

هي :



36 فلساً

15) العملات اللازمة لشراء هذه اللعبة



0



0



0

16) أكمل رسم العملات لتحصل على 1 درهم :



0



0



0

(17) المثلث هو شكل ثنائي الأبعاد فيه :

4 أضلاع 25
0

4 زوايا
0

3 زوايا
0

(18) انظر إلى الأشكال وحدد الشكل الذي لا ينتمي إلى المجموعة :



دائرة
0

مثلث
0

مربع
0

(19) الأسطوانة، هي شكل:

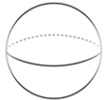
غير ذلك
0

alManahj.com/ae

ثلاثي الأبعاد
0

ثنائي الأبعاد
0


(20) أنا شكل عندي 0 وجه 0 رأس 0 حافة ، من أنا :



0



0



0

(21) الأوجه التي تدخل في تركيب الهرم هي :



0



و

و



0



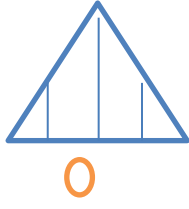
و



0



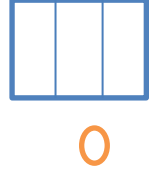
(22) الشكل المقسم إلى أرباع هو :



0



0




0

(23) الربع هو الجزء الملون في الشكل :



0



0




0

alManahj.com/ae

(24) إذا أردت تقسيم الشكل التالي إلى أقسام متساوية

فإن إجمالي عدد المربعات المتساوية التي ستحصل

عليها هو :



3


0

12

0

9

0

25) الأداة الأفضل لقياس طول  هي:

المسطرة المترية
0

المسطرة السننيمترية
0

الكوب
0

حوالي :



26) يبلغ طول ملعب كرة السلة

20 متر
0

1 متر
0

20 سننيمتر
0

27) المسطرة المترية تقيس الأجسام :

الصغيرة جداً
0

alManahj.com/ae

الصغيرة
0

الكبيرة
0

28) ارتفاع الباب 3 أمتار ، وطول العصا 250 سننيمتر ، فالأطول هو:

متساويان
0

العصا
0


الباب
0

29) إن ناتج 35 سننيمتر + 65 سننيمتر يساوي :

1 متر
0

90 سننيمتر
0

100 متر
0



30 (الوحدة الأفضل لقياس حجم الماء (السعة) في حوض السباحة :

المتر
0

الليتر
0

الكوب
0

31 (إذا كانت سعة قارورة الماء هو 2 لتر هذا يعني أنها تتسع لـ :

2 كوب
0

4 أكواب
0

8 أكواب
0



32

alManahj.com/ae

إن طول القلم المرسوم يساوي :

36
0

16
0

26
0

السؤال الثاني : حل المسائل التالية :

1- قال أحمد : (يشير عقرب الدقائق إلى الساعة على الساعة

التناظرية) هل كلام أحمد :

أحياناً
○

خطأ
○

صح
○

2- يصل القطار إلى المحطة كل ساعة فإذا وصل القطار الأول في الساعة 7:45, فإن القطار الرابع سيصل إلى المحطة في الساعة :

10:00
○

10:45
○

8:45
○

alManahj.com/ae

3- يتناول حمدان طعام الإفطار في الساعة 6:00 وبعد خمس ساعات سيلتقي مع صديقه أسامة في النادي الرياضي في الساعة :

5: 00 PM
○

11:00 AM
○

11: 00 PM
○

4- تتناول موزة العشاء في الساعة 7 : 25

صباحاً
○

PM
○

AM
○

5- وجد محمد 5 عملات من فئة 10 فلسات و 2 عملة من فئة 5 فلسات وقام بعدها فوجد أن معه :

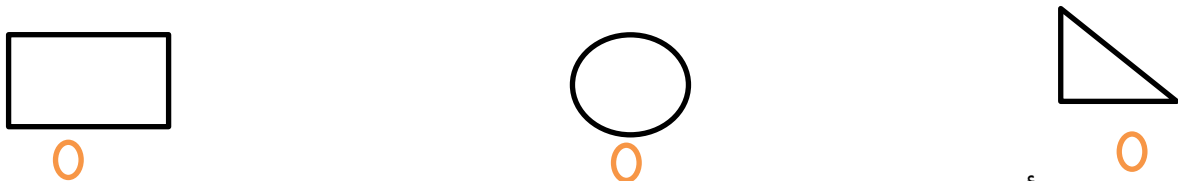
70 60 فلساً 50 فلساً

6- لدى سلطان 3 عملات من فئة 10، ولدى حامد 6 عملات من فئة 5 من لديه مالاً أكثر:

سلطان حامد متساويان

7- دفتر تكلفته 55 فلساً ، العملات الثلاثة التي يمكن استخدامها لشراء هذا الدفتر 25 و 25 و 10 و 10 و 25 و 5

8- أنا شكل أضلاعي أكثر من 3 وعندى أربع زوايا وأضلاعي ليست كلها متساوية :



9- رسمت أسيل ثلاث مثلثات ورسمت عائشة مربعين ودائرة ، من رسم أضلاعاً أكثر :

عائشة أسيل متساو

10- أنا شكل ، وجهي كالقمر من أنا ؟

مثلث
0

شبه منحرف
0

دائرة
0

11 - أنا شكل ثلاثي الأبعاد عندي وجه واحد من أنا :

مخروط
0

دائرة
0

هرم
0

منشور مستطيل عندي 6 وجوه و 8 رؤوس و عندي



12) أنا
أيضاً :

8 حواف
0

6 حواف
0

12 حافة
0

13- تشاركت مريم قطعة بيتزا مع اثنتين من صديقاتها ، مقدار الجزء الذي أكلته مريم

من قطعة البيتزا هو :

الثلث
0

النصف
0

الربع
0

14- قامت ضحى بطي قطعة من الورق إلى نصفين ، ثم طوت الشكل الذي حصلت إليه

إلى نصفين ثانية ، وعندما فتحت الورقة وجدتها مقسمة إلى :

أنصاف
0

أرباع
0

أثلاث
0

15- يبلغ طول سرير محمد 2 متر هذا يعني أن طوله يساوي :

200 سنتيم
○

100 سنتيمتر
○

2 سنتيمتر
○

16- يبلغ طول أحد أشجار السدر 3 أمتار ويبلغ طول الأخرى 2 متر ، الفرق بين طول الشجرتين :

2متر
○

100 سنتيمتر
○

3 متر
○

17- طول شريط لمياء 4 أمتار ، قصت منه 45 سنتيمتراً فأصبح طول الشريط :

355 سنتيمتراً
○

355 متراً
○

41 متراً
○

18- إذا كان طول حامد 165 سنتيمتر ويزيد طول جاسر على طول حامد بـ 20 سنتيمتر عندها سيكون جاسر :

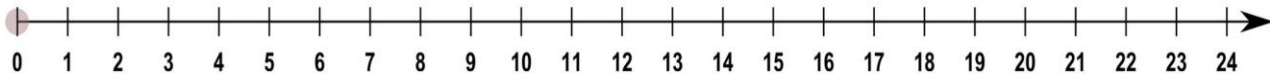
alManahj.com/ae

يساوي طول حامد
○

أقصر من حامد
○

أطول من حامد
○

19 - قام علي بقياس أطوال 15 قلماً وقام بتمثيل البيانات التي حصل عليها بالنقاط المجمعة ، التمثيل التالي يوضح أن طول معظم الكتب هو :



7
○

18
○

22
○

السؤال الثالث : أجب عن الأسئلة التالية:

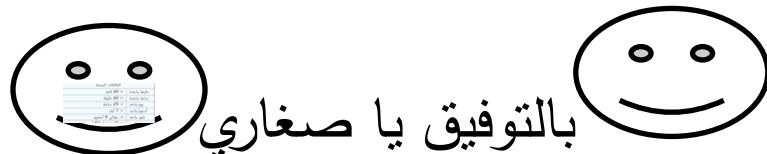
1- استخدم التقويم التالي في الإجابة على الأسئلة :

شهر أغسطس						
الجمعة	الخميس	الأربعاء	الثلاثاء	الأثنين	الأحد	السبت
5	4	3	2	1		
12	11	10	9	8	7	6
19	18	17	16	15	14	13
26	25	24	23	22	21	20
		31	30	29	28	27

- 1- ما اليوم الذي يصادف أول يوم في الشهر ؟.....
- 2- ما اليوم الذي يصادف آخر يوم في الشهر ؟.....
- 3- كم يوم جمعة في هذا الشهر ؟.....
- 4- كم تاريخ آخر خميس في هذا الشهر ؟.....
- 5- إذا كان اليوم الأثنين ما هو اليوم بعد أسبوعين ؟.....

- 2- كم عدد الأيام في أسبوع واحد ؟
- 3- كم عدد الأسابيع في العام الواحد ؟
- 4- كم عدد في شهر وأسبوعين ؟
- 5- كم عدد الأشهر في عامين و 4 أشهر ؟
- 6- كم عدد الساعات في يومين ونصف اليوم ؟
- 7- كم يوم أربعاء في شهر فبراير ؟

العلاقات الزمنية	
دقيقة واحدة	= 60 ثانية
ساعة واحدة	= 60 دقيقة
يوم واحد	= 24 ساعة
أسبوع واحد	= 7 أيام
شهر واحد	= حوالي 4 أسابيع
عام واحد	= 12 شهرًا أو 52 أسبوعًا



بالتوفيق يا صغاري