

المغناطيسية

7.1 مغناطيس دائم

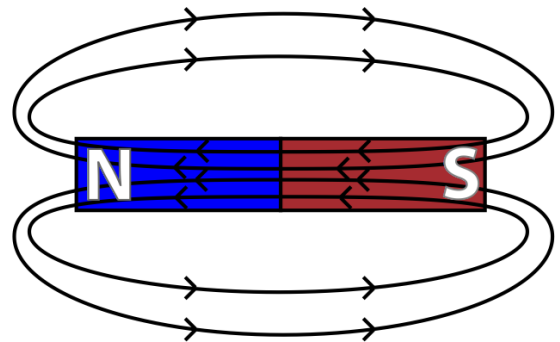
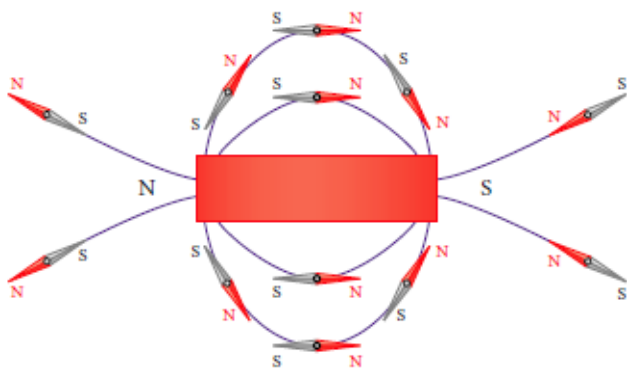
المغناطيسات الدائمة: عبارة عن معادن من اكسيد الحديد تتميز بخصائص عن بقية المعادن. ومن

ضمن هذه الخصائص هي:

- 7**
- ✓ للمغناطيس قطبان شمالي وجنوبي،
 - القطب الشمالي (القطب الباحث عن الشمال) (باتجاه الشمال)
 - القطب الجنوبي (القطب الجنوبي الباحث عن الجنوب) (باتجاه الجنوب)
 - ✓ الاقطاب المتشابهة تتنافر والمختلفة تتجاذب.
 - ✓ القطب الشمالي للمغناطيس قريب من القطب الجنوبي للمغناطيس الارضي. وكذلك القطب الجنوبي
 - ✓ اذا قسم المغناطيس الى قسمان ينتج مغناطيسان له قطب شمالي وجنوبي وهكذا. أي لا يوجد قطب مفرد شمالي او جنوبي كما في الشحنة الكهربائية.
 - ✓ تشير البوصلة الى اتجاه الشمال والجنوب الجغرافي للارض
 - ✓ **التنافر** هو الدليل على ان الجسم مغناطيس وليس التجاذب.

خطوط المجال المغناطيسي:

- ✓ المجال المغناطيسي: يستخدم لوصف القوة المغناطيسية ويرمز له بالرمز $\vec{B}(\vec{r})$ اي الى اتجاه المجال المغناطيسي عند اي نقطة بالمجال.
- ✓ خطوط وهمية تبين مسار قطب شمالي مفرد حر الحركة موضوع بالمجال المغناطيسي.
- ✓ **خارج المغناطيس:** تتجه من القطب الشمالي الى القطب الجنوبي
- ✓ **داخل المغناطيس:** تتجه من القطب الجنوبي الى القطب الشمالي.

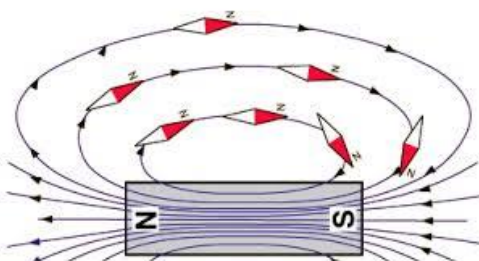


اتجاه المجال المغناطيسي \vec{B} عند نقطة في المجال :

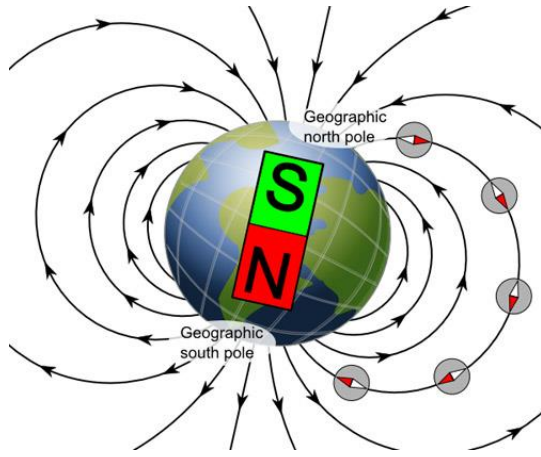
- هو اتجاه القطب الشمالي للبوصلة الموضوعة عند تلك النقطة.
- اتجاه المماس عند النقطة الواقعة على خط المجال المغناطيسي

شدة المجال المغناطيسي:

- تزداد شدة المجال المغناطيسي كلما تقاربت خطوط المجال المغناطيسي
- شدة المجال المغناطيسي أكبر ما يمكن عن اقطاب المغناطيس.



المجال المغناطيسي للأرض:



- الأرض هي بحد ذاتها تعتبر مغناطيس ولها مجال مغناطيسي.
- المجال المغناطيسي للأرض يحمينا من الإشعاعات عالية الطاقة المنبعثة من الفضاء فعندما تقترب من مجال الأرض المغناطيسي تنحرف بعيداً عنه.
- خطوط المجال المغناطيسي القريبة من بعضها تكون سطح مغناطيسي دائرياً يحيط بالأرض.
- يتشوه شكل المجال المغناطيسي بسبب الرياح الشمسية التي هي عبارة عن تدفق من الجسيمات المؤينة.
- تحيط بالأرض حزمتان من الجسيمات المشحونة وتسمى (**حزامي فان ألين**) الإشعاعيتين واللذان تكونان أقرب إلى الأرض من القطبين الشمالي والجنوبي. (**شكل 7.6 ص 171**)

الشفق القطبي الشمالي والجنوبي

- تصادم الجسيمات المشحونة المحصورة داخل حزامي فان ألين مع الذرات في الغلاف الجوي مما يؤدي إلى استئثار الذرات فتنبعث من الذرات المثارة ألوان مختلفة.

الانحراف المغناطيسي:

- بسبب ان القطب الشمالي والجنوبي للأرض لا يقعان في الموقع نفسه فإن ابرة البوصلة لا تشير عادة إلى القطب الشمالي الجغرافي بشكل دقيق .
- نظراً لأن موقعي القطب الشمالي والجنوبي المغناطيسين يتغيران بمرور الزمن فإن الانحرافات المغناطيسية أيضاً تتغير مع الزمن.

تراكيب المجالات المغناطيسية:

- اذا تواجد عدة مصادر للمجالات المغناطيسية بالقرب من بعضها البعض فيحسب محصلة المجال المغناطيسي عند النقطة الواقعة في هذه المجالات .
- ينشأ هذا التركيب مباشرة من تراكيب القوى المغناطيسية بحيث

$$\vec{B}_{total}(\vec{r}) = \vec{B}_1(\vec{r}) + \vec{B}_2(\vec{r}) + \dots + \vec{B}_n(\vec{r})$$

7.2 القوة المغناطيسية (\vec{F}_B)

A- القوة المغناطيسية المؤثرة على شحنة متحركة في مجال مغناطيسي

- ✓ القوة المؤثرة على شحنة بالمجال الكهربائي (تنكير) هي $\vec{F}_E = q\vec{E}$
- ✓ القوة المغناطيسية (لا يبذل قوة على شحنة ساكنة) بل على شحنة متحركة.
- ✓ تعريف المجال المغناطيسي بدلالة القوة المغناطيسية المؤثرة على جسيم مشحون متحرك بالمجال المغناطيسي

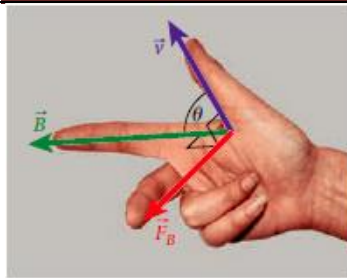
$$\vec{F}_B = q\vec{v} \times \vec{B}$$

من العلاقة السابقة :

- مقدار القوة المغناطيسية هي $F_B = |q|vB \sin(\theta)$ الزاوية (θ) المصورة بين متجه سرعة الشحنة واتجاه المجال الكهربائي.
 - **تنعدم** القوة المغناطيسية المؤثرة على شحنة في عدة حالات:
 - الشحنة ساكنة
 - الشحنة تتحرك موازياً لخطوط المجال اي أن (θ) تساوي 0° أو 180°
 - تكون القوة المغناطيسية **أكبر ما** يمكن عندما تكون متجه سرعة الشحنة عمودياً على المجال ($\theta = 90^\circ$)
- $$F_{B(MAX)} = |q|vB$$
- اي عندما تكون $\vec{v} \perp \vec{B}$

تحديد اتجاه القوة المغناطيسية

تطبق القاعدة الاولى لليد اليمنى.



○ السبابة اتجاه المجال المغناطيسي \vec{B}

○ الابهام اتجاه سرعة حركة الشحنة **الموجبة** \vec{v}

○ الاوسط اتجاه القوة المغناطيسية وانحراف الشحنة. \vec{F}

الاشارات المستخدمة للتعبير عن اتجاه المجال المغناطيسي

↓	في مستوى الورقة (منطبق على مستوى الورقة للأسفل) (باتجاه محور y السالب) (نحو الجنوب S)	↑	في مستوى الورقة (منطبق على مستوى الورقة للأعلى) (باتجاه محور y الموجب) (نحو الشمال N)
←	في مستوى الورقة (منطبق على مستوى الورقة لليساار) (باتجاه محور x السالب) (نحو الغرب W)	→	في مستوى الورقة (منطبق على مستوى الورقة لليمين) (باتجاه محور x الموجب) (نحو الشرق E)
●	عمودي على مستوى الورقة للخارج (باتجاه محور z الموجب) (من سطح الارض نحو الأعلى)	×	عمودي على مستوى الورقة للدخل (نحو سطح الارض للأسفل)

B- القوة المغناطيسية والشغل.

✓ بما أن القوة هي حاصل الضرب الاتجاهي لمتجه السرعة في متجه المجال المغناطيسي فتكون القوة دائماً عمودية على كل منهما (المجال والمغناطيسي والسرعة)

✓ بما أن $\vec{F} \perp \vec{v}$ فإن حاصل الضرب القياسي للقوة بالسرعة تساوي صفر $\vec{F} \cdot \vec{v} = 0$ وبالتالي فإنه من قانون نيوتن الثاني فإن الكتلة في العجلة يساوي صفرأ

✓ في الحركة الدائرية $\vec{a} \cdot \vec{v} = 0$ أي انه يمكن تغير متجه السرعة دون تغيير مقدارها وهذا يعني أن الطاقة الحركية تظل ثابتة $k = \frac{1}{2}mv^2 = \text{ثابت}$

✓ القوة المغناطيسية المؤثرة على شحنة تتحرك في مسار دائري لا تبذل عليها شغلاً $W = 0$

✓ المجال المغناطيسي لا يبذل شغلاً على الشحنات التي تتحرك فيه أي لا يغير من مقدار السرعة وإنما فقط يغير من اتجاهها فقط.

✓ وحدة قياس شدة المجال الكهربائي $T = \frac{N}{A.m} = \frac{N.s}{C.m} = \frac{F_B}{qv}$ (التسلا) B

✓ هناك وحدة اخرى لشدة المجال المغناطيسي تسمى (الجاوس G) وهي اصغر بكثير من التسلا

$$1G = 10^{-4}T$$

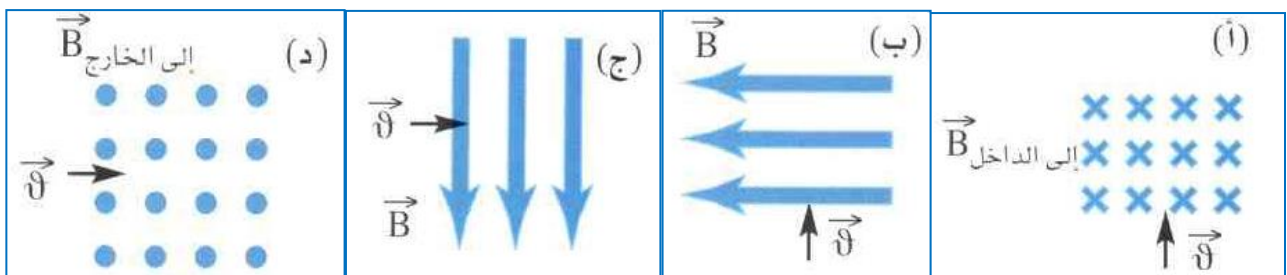
✓ شدة المجال المغناطيسي للأرض عند سطح الارض تساوي $0.5G = 5 \times 10^{-5}T$ وتختلف من موقع لآخر

✓ عندما يخضع جسيم مشحون لفرق جهد فإنه يكتسب طاقة حركية بحيث يكون $\Delta K + \Delta U = \frac{1}{2}mv^2 + q\Delta V$

$$e\Delta V = \frac{1}{2}mv^2 \text{ فإن}$$

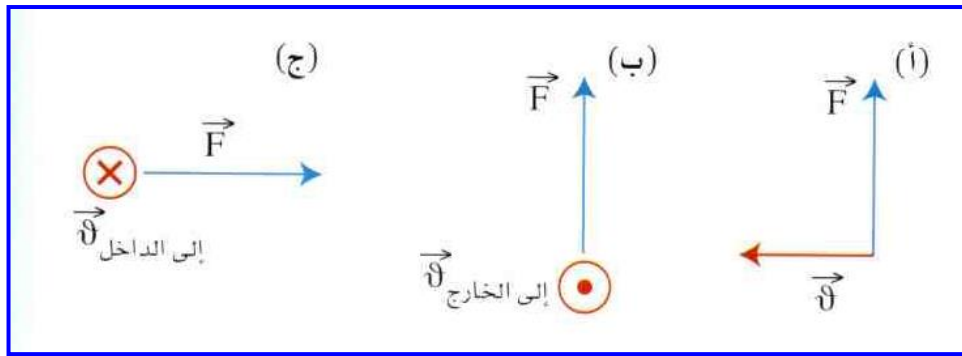
تمرين 1:

حدد اتجاه القوة على الكترن يتحرك في مجال مغناطيسي منتظم في الحالات التالية



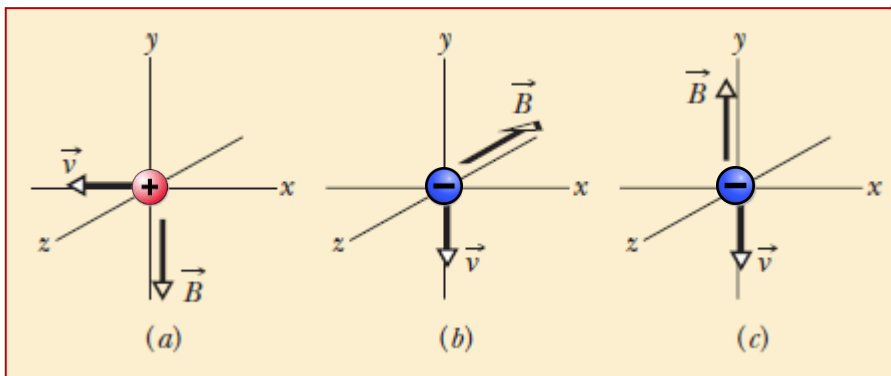
تمرين 2:

من خلال الشكل المجاور حدد اتجاه المجال المغناطيسي علماً ان الجسيمات مشحونة بشحنة موجبة.



تمرين 3:

من خلال الأشكال التالية حدد اتجاه القوة المغناطيسية المؤثرة على الجسيم المشحون؟



-a

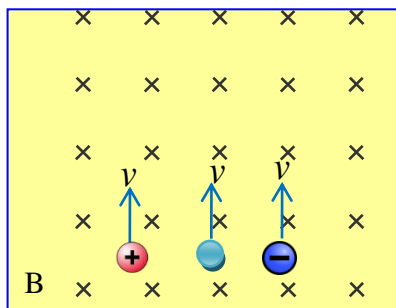
-b

-c

تمرين 4:

إذا قذف الكترون وبروتون ونيوترون الى أعلى الصفحة حيث يطبق مجال مغناطيسي منتظم داخل الصفحة ما الذي يحدث لكل منهم.

(حدد مسار كل منهما(على الرسم) وذلك بتحديد القوة المؤثرة على كل منهما)



تمرين 5:

يتحرك بروتون بسرعة $3 \times 10^6 m/s$ بزاوية 53° شمال الغرب في منطقة مجال مغناطيسي مقداره $0.3T$ ويتجه نحو الشمال احسب ما يلي:
 -a مقدار القوة المغناطيسية على البروتون.

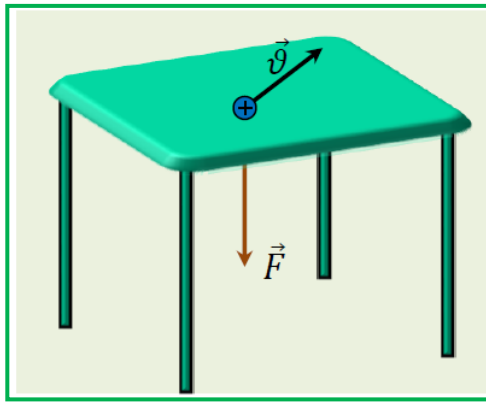
$F_B = 8.64 \times 10^{-14} N$

-b اتجاه القوة المغناطيسية المؤثرة على البروتون.

-c عجلة البروتون لحظة دخوله المجال المغناطيسي.

$a = 5.17 \times 10^{13} m/s^2$

تمرين 6:



قذف **بروتون** بسرعة $2 \times 10^5 \text{ m/s}$ في مجال مغناطيسي منتظم فتأثرت فيه قوة مغناطيسية مقدارها $6.4 \times 10^{-15} \text{ N}$ في اتجاه عمودي على سطح الطاولة للأسفل كما في الشكل المجاور. احسب **اقل مقدار لشدة المجال المغناطيسي** المنتظم المؤثر في البروتون **وارسم** على الشكل خطوط المجال المغناطيسي.

$B = 0.2T$

تمرين 7:

تحتوي حجرة على مجال مغناطيسي منتظم شدته 1.2 mT ويتجه عمودياً على ارض الحجرة نحو الأعلى. دخل **بروتون** طاقته الحركية 5.3 MeV الى الحجرة من الجنوب باتجاه الشمال. احسب:
a- مقدار **واتجاه** القوة المغناطيسية المؤثرة على البروتون.

$F_B = 6.1 \times 10^{-15} \text{ N}$

b- مقدار العجلة التي اكتسبها البروتون.

$a = 3.7 \times 10^{12} \text{ m/s}^2$

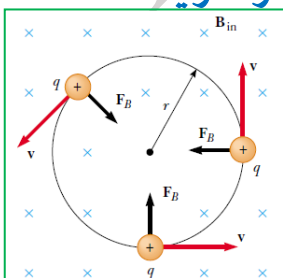
7.3 حركة الجسيمات المشحونة في مجال مغناطيسي

- عندما تتعامد القوة المغناطيسية المؤثرة في جسيم مشحون متحرك على كل من (متجه سرعة الجسيم المشحون واتجاه المجال المغناطيسي).
- دراسة حركة جسيم مشحون متحرك بسرعة ثابتة عمودياً على مجال مغناطيسي منتظم.

مسارات حركة الجسيمات المشحونة في مجال مغناطيسي منتظم

أولاً: (المسار الدائري)

عندما تتحرك الشحنة بسرعة ثابتة **عمودياً** على مجال مغناطيسي منتظم فإنه يتأثر بقوة مغناطيسية تسبب في حركة الجسيم في مسار دائري وتكسبه عجلة مركزية.



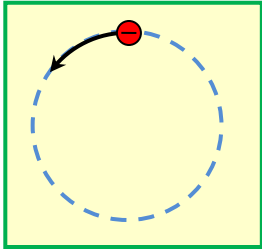
- القوة المركزية F_C وتحسب من العلاقة $F = m \frac{v^2}{r}$

- القوة المغناطيسية F_B المسببة للحركة الدوارانية $F_B = |q|vB$

- بمساواة المعادلتين فإن $F_C = F_B$ وبالتالي $|q|vB = m \frac{v^2}{r}$ وبالتالي

- نصف قطر المسار الذي يتحرك فيه الجسيم المشحون $r = \frac{mv}{|q|B}$ وبدلالة كمية الحركة $r = \frac{p}{|q|B}$

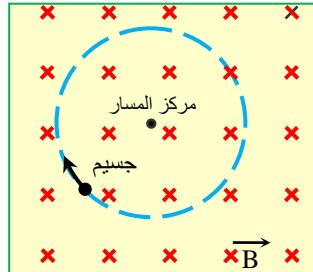
تمرين 8:



جسيم مشحون بشحنة سالبة يُقذف بسرعة ثابتة في اتجاه عمودي على مجال مغناطيسي منتظم فيتحرك على مسار دائري بالاتجاه الموضح على الشكل المجاور.

• حدد على الرسم اتجاه المجال المغناطيسي المؤثر في الجسيم.

تمرين 9:

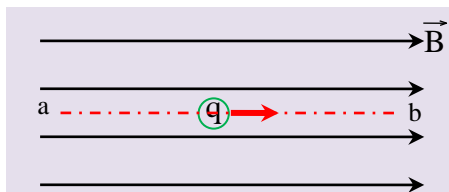


يُقذف جسيم مشحون بسرعة ثابتة في اتجاه عمودي على مجال مغناطيسي منتظم فيتحرك في مسار دائري بالاتجاه الموضح على الشكل المجاور. أجب عما يلي:

- a- ما نوع شحنة الجسيم.
b- بأي اتجاه يُقذف الجسيم بحيث يتحرك في مسار مستقيم داخل المجال المغناطيسي

ثانياً: (الحركة الخطية) (خط مستقيم)

عندما تتحرك الشحنة بسرعة ثابتة **موازية** لمجال مغناطيسي منتظم فإن الشحنة لا تتأثر بقوة مغناطيسية مما يجعلها تبقى متحركة في خط مستقيم موازياً للمجال



المغناطيسي.

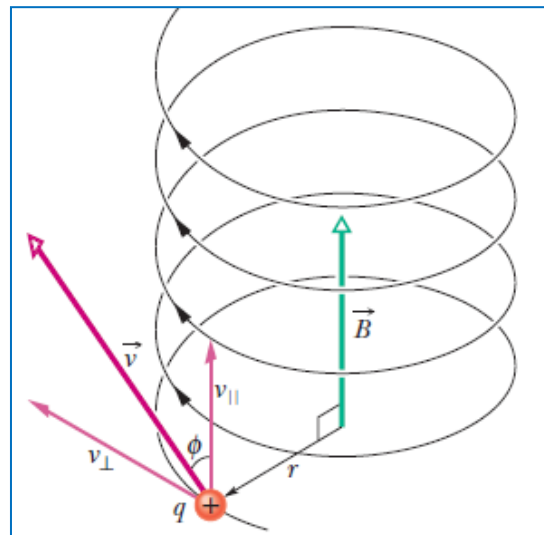
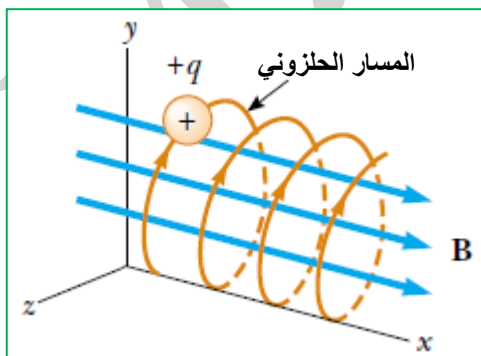
حيث أن $\theta = 0, 180$ وبالتالي $\sin \theta = 0$ وبالتالي $F_B = 0$

ثالثاً: (المسار اللولبي) (الكلوني)

عندما تتحرك الشحنة بسرعة ثابتة **ليست عمودية** على المجال المغناطيسي او **غير موازية**

له وإنما متجه السرعة **يميل** عن اتجاه المجال المغناطيسي **بزواوية**. **فإن:**

- ◀ مركبة متجه السرعة **العمودية** ($v_{\perp} = v \sin \theta$) على المجال تجعله يتحرك بمسار دائري
- ◀ مركبة السرعة **الموازية** ($v_{\parallel} = v \cos \theta$) للمجال تعمل على سحب الشحنة باتجاهها (باتجاه المجال)
- ◀ **الحركتان معاً** العمودية والموازية تجعل الجسيم المشحون يتحرك **بمسار لولبي (حلزوني)**



حجرة الاسقاط الزمني:

- يعمل العلماء للحصول على جسيمات أولية عن طريق تصادم جسيمات كبيرة عند أعلى مستوى للطاقة
- ينتج عن التصادمات جسيمات تتدفق بعيداً عن نقطة التصادم وبسرعات كبيرة.
- تستخدم حجرة الاسقاط الزمني في الكشف عن الجسيمات ودراسة هذه التصادمات.
- بوضع غاز داخل الحجرة فإنه أثناء حركة الجسيم المشحون يؤين المسار بالغاز مظهراً مسار الجسيم المشحون.
- يكون للجسيمات الناتجة أثناء التصادمات مركبة سرعة متجهة **عمودياً** على المجال المغناطيسي ومن ثم تسلك هذه الجسيمات **مسارات دائرية**.

تردد المسرع الدوراني

عندما يتحرك الجسيم المشحون بسرعة ثابتة في مجال مغناطيسي منتظم ويكمل دورة كاملة فإن:

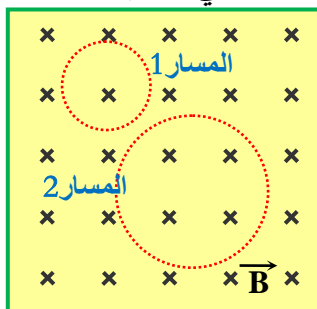
$$\checkmark \text{ الزمن الدوري للجسيم } T \text{ يحسب من العلاقة } T = \frac{2\pi r}{v} = \frac{2\pi m}{|q|B}$$

$$\checkmark \text{ التردد } f \text{ لحركة الجسيم المشحون يساوي } f = \frac{1}{T} = \frac{|q|B}{2\pi m}$$

$$\checkmark \text{ السرعة الزاوية } \omega \text{ للحركة (تردد المسرع الدوراني) هي : } \omega = 2\pi f = \frac{|q|B}{m} \text{ و } \omega = \frac{v}{r}$$

تمرين 10:

يُبين الشكل المجاور مسارين دائريين لكل من إلكترون وبروتون عند قذفهما معاً في المجال المغناطيسي المنتظم وبالسرعته نفسها



a- أي المسارين يمثل مساراً للإلكترون وأيها يمثل مساراً للبروتون.

فسر إجابتك.

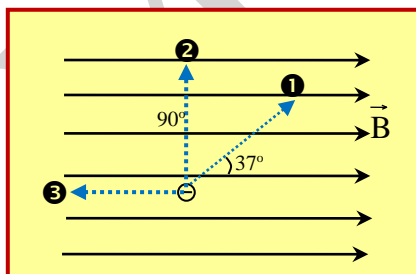
b- حدد على الرسم بسهم يمثل اتجاه دوران كل من البروتون والإلكترون كل على مساره.

تمرين 11:

انطلقت **ثلاثة إلكترونات** من نقطة في مجال مغناطيسي منتظم قدره $T = 0.5$ وبنفس السرعة ومقدارها 10^6 m/s في ثلاثة اتجاهات كما بالشكل المجاور.

علماً أن $q_e = 1.6 \times 10^{-19} \text{ C}$ **أجب عما يلي:**

a- مقدار القوة المغناطيسية المؤثرة على كل إلكترون.



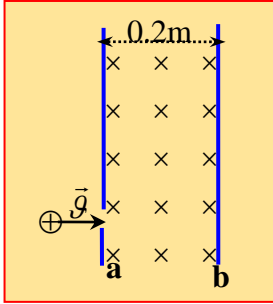
b- ما هو شكل المسار الذي يتحركه كل إلكترون . **برر إجابتك.**

الأول:

الثاني:

الثالث:

تمرين 12:



يطلق **بروتون** في حيز بين صفيحتين (a,b) كما في الشكل فإذا كان المجال المغناطيسي بين الصفيحتين منتظم وشدته $4.5 \times 10^{-3} T$ وفق ما هو ظاهر بالشكل .
 a- كم يجب ان يكون **سرعة البروتون** حتى يتفادى الاصطدام بالصفيحة المقابلة b

$8.62 \times 10^4 m/s$

b- ما مقدار الفترة الزمنية اللازمة لوصول البروتون الى اللوح (a) مرة أخرى.

$7.28 \times 10^{-6} s$

تمرين 13:

جسيم كتلته ($5 \mu g$) يحمل شحنة كهربائية قدرها ($-20 \mu C$) وكمية حركته $1.6 \times 10^{-5} kg.m/s$ ويتحرك بسرعة ثابتة وعمودية على المجال المغناطيسي.

a- ما مقدار شدة المجال المغناطيسي التي تجعله يتحرك بمسار دائري نصف قطره $r = 2.4m$

$0.33T$

b- ما مقدار سرعة الجسيم الخطية (U) وسرعته الزاوية (ω) أو تردده الدوراني؟

$v = 3.2 \times 10^3 m/s, \omega = 1.333 \times 10^3 rad/s$

تمرين 14:

دخل **الالكترون** طاقته الحركية $11.4eV$ عمودياً على مجال مغناطيسي منتظم شدته ($0.4T$) أوجد:
 a- كمية الحركة للالكترون.

$1.823 \times 10^{-24} kg.m/s$

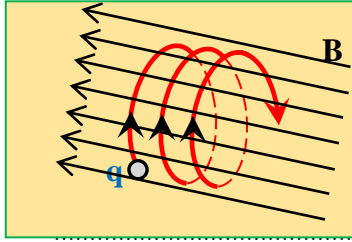
b- نصف قطر المسار الدائري الذي تحرك فيه الالكترون.

$2.85 \times 10^{-5} m$

c- مقدار الشغل الذي يبذله المجال المغناطيسي على الالكترون اثناء حركته الدائرية.

تمرين 15:

الشكل المجاور يمثل مجال مغناطيسي منتظم شدته $0.48T$ قذف بداخله جسيم مشحون بسرعة قدرها (10^4 m/s) وتميل بزاوية (30°) على المجال المغناطيسي . فتحرك الجسيم في مسار لولبي. أجب عما يلي:
a- نوع شحنة الجسيم.



b- مقدار القوة المغناطيسية المؤثرة على الجسيم .
إذا علمت ان مقدار شحنته $(8 \times 10^{-6} C)$

$1.92 \times 10^{-2} N$

c- فسر سبب اتخاذ الجسيم المشحون مساراً لولبياً.

d- ما مقدار نصف قطر المسار الدائري اذا علمت أن كتلة الجسيم المشحون $(4 \mu g)$

5.2m

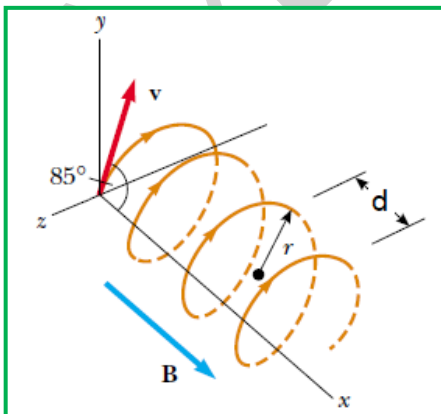


e- ما مقدار المسافة التي يقطعها الجسيم موازياً للمجال بعد اكمال دورتان.

113.12m

تمرين 16:

من الشكل المجاور يظهر مجال مغناطيسي شدته $(0.15T)$ وباتجاه المحور x يدخله الكترن بسرعة ثابتة قدرها $5 \times 10^6 \text{ m/s}$ وباتجاه 85° مع اتجاه المجال المغناطيسي أوجد:
a- المسافة بين كل قمتين (d)



b- نصف قطر المسار الدائري الذي يعمله الإلكترون. (r)

$d = 1.04 \times 10^{-4} m, r = 1.89 \times 10^{-4} m$

تطبيقات عملية على القوة المغناطيسية

أولاً: مطياف الكتلة:

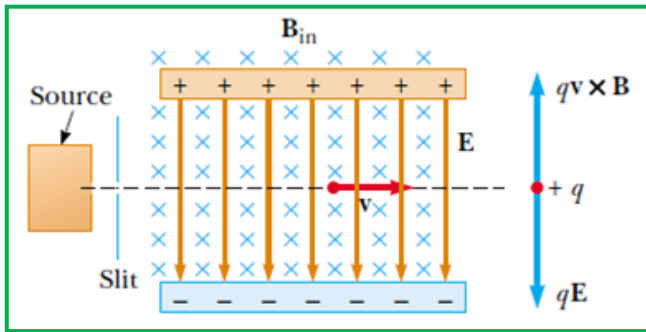
- ✓ جهاز كتطبيق عملي على حركة الجسيمات المشحونة في المجال المغناطيسي.
- ✓ يستخدم لقياس الكتلة الذرية والجزئية بشكل دقيق.
- ✓ يستخدم في التأريخ الكربوني .
- ✓ يستخدم في تحليل المركبات الكيميائية الغير معروفة.
- ✓ يعمل على تأيين الذرات او الجزيئات لدراستها وتسريع حركتها عبر جهد كهربائي.

مكوناته: يتكون من ثلاثة حجرات :

- ① مصدر ايوني (يعمل على تأيين الذرات او الجزيئات وتسريعها).
- ② حجرة منتقى السرعات (تحوي مجالين منتظمين متعامدين كهربائي ومغناطيسي).
- ③ حجرة جهاز الكشف عن الجسيمات وبها مجال مغناطيسي فقط ولوح فوتوغرافي حساس.

A- حجرة منتقى السرعات :

- تسمح بمرور ايونات ذات سرعات محددة فقط وتمنع مرور باقي الايونات.
- الأيونات تخضع لقوتين (القوة الكهربائية F_e والقوة المغناطيسية F_B) وهما **متعاكستان**.
- الايونات التي يسمح لها بالمرور هي الايونات التي سرعتها تجعل $(F_B = F_E)$ من العلاقات التالية:



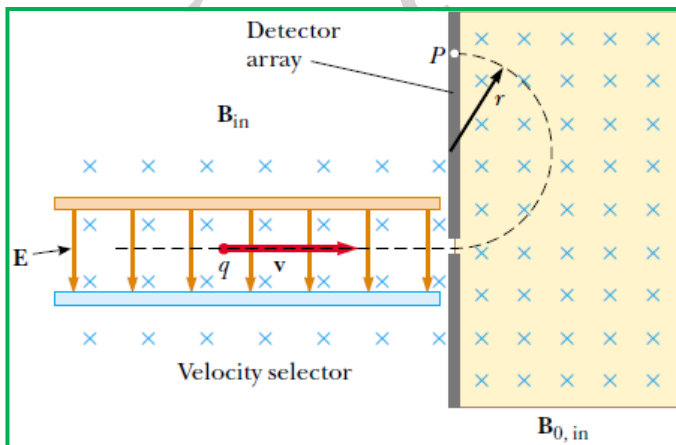
$$r = \frac{mv}{qB} \quad \text{و} \quad F_E = qE \quad \text{و} \quad F_B = qvB$$

$$\Delta K = -\Delta U = \frac{1}{2}mv^2 = q \cdot \Delta V$$

$$F_B = F_E \quad \text{و} \quad qvB = qE$$

$$v = \frac{E}{B} \quad \text{ومن العلاقات السابقة فإن} \quad vB = E$$

B- حجرة جهاز كشف الايونات:



- عندما تدخل الايونات بالحجرة التي تحوي فقط على مجال مغناطيسي تكون متجه السرعة عمودياً على المجال المغناطيسي فيتأثر بقوة مغناطيسية تسبب له حركة دورانية مما يؤدي الى تصادم الايون باللوح الفوتوغرافي الحساس ويظهر عليه ومضة وبالتالي يمكن قياس نصف قطره عملياً

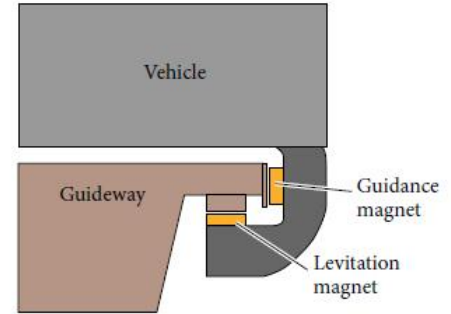

$$r = \frac{mv}{qB} \quad \text{و} \quad F_B = qvB$$

➤ وجود أكثر من ومضة يدل على أن العينة تحوي

ذرات او جزيئات **مختلفة الكتلة** لذلك تعتبر الحجرة الثانية (**فاصلة للكتلة**). (فاصلة للنظائر*)

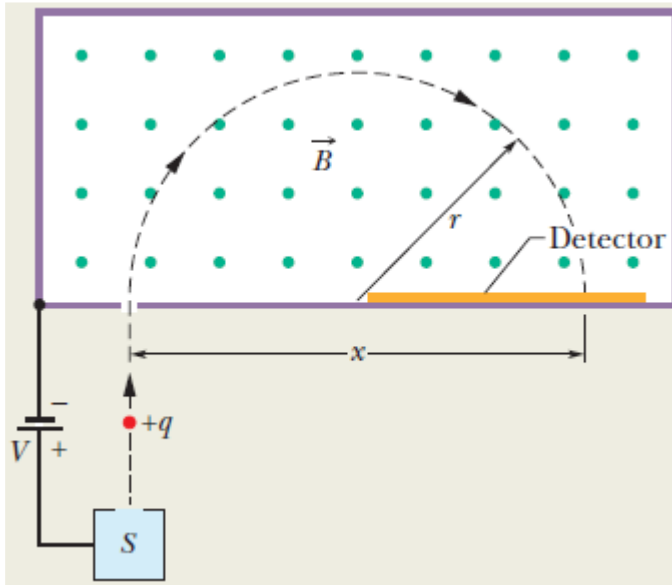
ثانياً: الرفع المغناطيسي:

- هو احداث توازن بين القوة المغناطيسية والوزن حيث $F_B = F_g = mg$ بحيث يحدث توازن سكوني دون ملامسة الجسم الأرض. (معلق بالهواء)
- من الأمثلة على الرفع المغناطيسي (جهاز التحليق المغناطيسي) (القطارات المغناطيسية المعلقة)



تمرين 16:

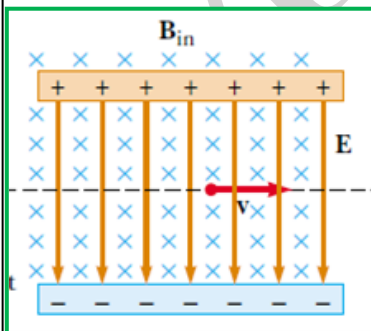
الشكل المجاور يمثل حجرة كاشف الايونات ، استخدم لقياس كتلة الايون الذي شحنته تساوي شحنة البروتون ، وتم تسريعه بفرق جهد قدرها $10^3 V$ ودخل الحجرة التي بها مجال مغناطيسي شدته $80mT$ ، وقيست المسافة من نقطة دخوله للحجرة الى نقطة اصطدامه باللوح وكانت تساوي $1.6254m$ ، ما مقدار كتلة الايون؟؟



$m = 3.3863 \times 10^{-23} \text{ kg}$

تمرين 17:

دخل أيون بسرعة بين صفيحتين متوازيتين متوازيتين البعد بينهما (10cm) وفرق الجهد بين اللوحين يساوي 240V كما بالشكل وكان يحوي مجال مغناطيسي شدته $0.02T$ ، ما مقدار سرعة الايون التي تجعله يستمر بالحركة بشكل مستقيم دون أن ينحرف عن مساره (يبقى متحرك بخط مستقيم)



$1.2 \times 10^5 \text{ m/s}$

7.4 القوة المغناطيسية المؤثرة في سلك يمر به تيار كهربائي مستمر

✓ عند وضع سلك يمر به تيار في مجال مغناطيسي فإن الإلكترونات داخل السلك تتأثر بقوة مغناطيسية

✓ كمية الشحنة المتدفقة $q = it$ وعندما تقطع مسافة تساوي طول السلك L فإن $L = v_d t$

✓ من العلاقتين السابقتين فإن $q = it = \frac{Li}{v_d}$

✓ من علاقة القوة المغناطيسية $F_B = qvB \sin \theta = \frac{Li}{v_d} v_d B \sin \theta = iLB \sin \theta$

القوة المغناطيسية المؤثرة في سلك يمر به تيار مستمر موضوع في مجال مغناطيسي.

$$F_B = i\vec{L} \times \vec{B}$$

أولاً: مقدار القوة المغناطيسية

من العلاقة السابقة $F_B = iLB \sin \theta$

○ الحالات التي تنعدم عندها القوة المغناطيسية المؤثرة على السلك.

- لا يمر تيار في السلك
- السلك الذي يمر به تيار غير موجود في مجال مغناطيسي
- السلك الذي يمر به تيار موضوع بحيث يكون موازي للمجال المغناطيسي

○ أقصى قيمة للقوة المغناطيسية المؤثرة على السلك الذي يمر به التيار الكهربائي.

عندما يوضع السلك بحيث يكون عمودياً على المجال المغناطيسي

ثانياً: اتجاه القوة المغناطيسية:

- تطبيق قاعدة الأولى لليد اليمنى بحيث

بحيث : السبابة يشير الى اتجاه المجال المغناطيسي

الابهام يشير الى اتجاه التيار الاصطلاحي

الايصبع يشير الى اتجاه حركة السلك (القوة المغناطيسية)

تمثل الكمية المتجهة $i\vec{L}$ التيار المار جزء من السلك.

متجه مقداره L واتجاهه هو اتجاه التيار الاصطلاحي المار فيه.

❖ من التطبيقات العملية على القوة المغناطيسية المؤثرة في سلك يمر به تيار

(مكبر الصوت) (السماعية)

- من مكونات مكبر الصوت ملف صوت طوله L وعدد لفاته n وقطر الملف $d=2r$ وبالتالي فإن

$$(L=n\pi d)$$

- القوة المغناطيسية المؤثرة على ملف الصوت $F_B = iLB = n\pi i dB$

تمرين 18:

موصل مستقيم يحمل تيار مستمر وضع في مجال مغناطيسي منتظم بثلاثة اوضاع مختلفة كما بالجدول، إذا كانت شدة المجال المغناطيسي وطول الموصل وشدة التيار متساوية في الاوضاع الثلاثة .

اكمل الجدول بما يناسب

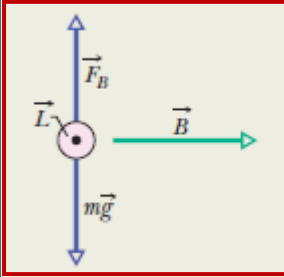
وضع الموصل في المجال	القوة المغناطيسية

	0.060N

-----	-----
-----	-----
-----	-----

تمرين 19:

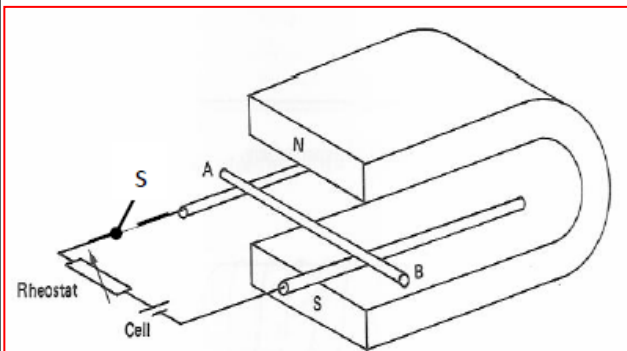
سلك مستقيم من النحاس موضوع بشكل افقي في مجال مغناطيسي منتظم، كما بالشكل ويمر به تيار شدته **28A** ما مقدار المجال المغناطيسي الذي يجعل السلك في حالة اتزان اذا علمت أن كتلة السلك لوحدة الأطوال تساوي $46.6g/m$ ؟



$1.6 \times 10^{-2} T$

تمرين 20:

الدائرة الميينة بالشكل تتكون من ساق معدني من الالمنيوم **AB** موضوع على سلكين متوازيين من النحاس وبين قطبي مغناطيس على شكل حذوة فرس. بافتراض عدم وجود احتكاك بين الساق **AB** والسلكين المتوازيين. **a-** في أي اتجاه سوف يتحرك الساق **AB** عندما يغلق المفتاح **S** فسر اجابتك.

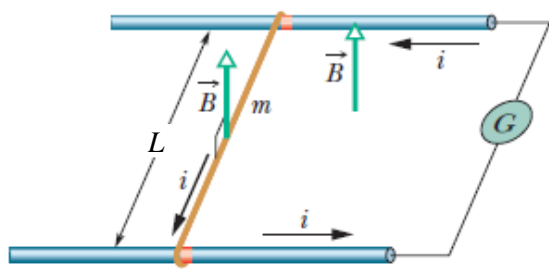


b- ما هي العوامل التي تحدد اتجاه القوة المغناطيسية المؤثرة بالساق **AB**

c- اذا عكس قطبي البطارية فحدد اتجاه حركة الساق .

تمرين 21:

الشكل المجارو يبين موصل كتلته $m = 24.1mg$ وطوله $L = 2.56cm$ وموضوع على ساقين لا احتكاكيتين متوازيين ويخضع لمجال مغناطيسي شدته $56.3mT$ ويمر بالموصل تيار كهربائي شدته $i = 9.13mA$ فإذا تأثر الموصل بقوة مغناطيسية حركت الموصل بدءاً من السكون . ما مقدار سرعة الموصل بعد مرور $61.1ms$ وحدد اتجاه حركة الموصل.



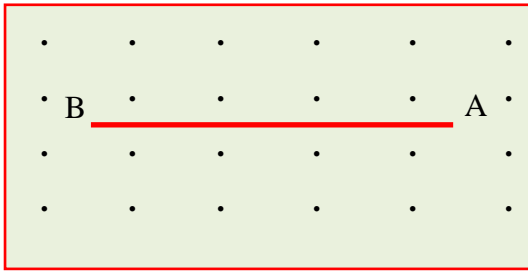
$3.34 \times 10^{-2} m/s$

تمرين 22:

ينتقل تيار شدته $I = 15A$ باتجاه المحور x الموجب، وبشكل عمودي على مجال مغناطيسي منتظم ، يتعرض السلك لقوة مغناطيسية مقدارها $0.12N/m$ لكل وحدة طول في اتجاه المحور y السالب. احسب مقدار شدة المجال المغناطيسي وحدد اتجاهه في منطقة مرور التيار الكهربائي.

$8 \times 10^{-3} T$

تمرين 23:

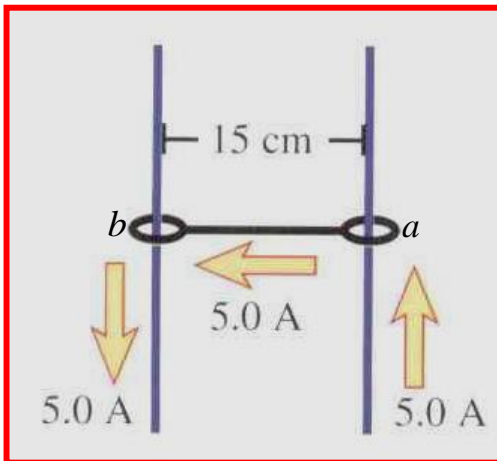


بين الشكل المجاور سلكاً مستقيماً AB طوله 0.5m ويؤثر فيه مجال مغناطيسي منتظم شدته (0.20T) فإذا علمت أن السلك جزء من دائرة كهربائية مفتوحة وعند غلق الدائرة تحرك السلك في مستوى الصفحة **لأعلى** وكان مقدار القوة المغناطيسية المؤثرة فيه تساوي ($1.0 \times 10^{-2} \text{N}$).

حدد على الشكل **اتجاه** التيار المار في السلك **واحسب شدته**.

0.1A

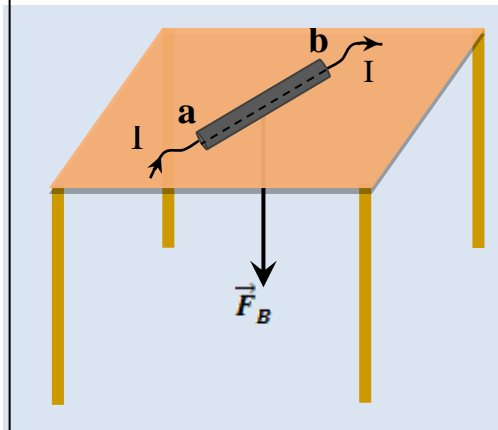
تمرين 24:



الشكل المجاور يمثل سلك موصل طوله 15cm يتمكن من الانزلاق صعوداً ونزولاً على سلكين موصلين . تقع الاسلاك الثلاثة في مجال مغناطيسي وعند مرور تيار شدته 5.0A في السلك **يصبح السلك متزناً**، اهل وجود الاحتكاك وان كتلة السلك المتحرك ab يساوي 0.15kg احسب **شدة المجال المغناطيسي** وحدد **اتجاهه**.

1.96T

تمرين 25:

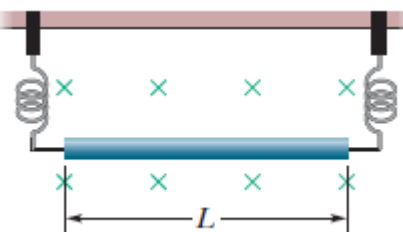


وضع موصل مستقيم (a b) طوله (0.12m) فوق سطح طاولة أفقي كما في الشكل المجاور، وعندما أمر فيه تياراً مستمراً شدته (6.0 A) تأثر بقوة مغناطيسية مقدارها (0.40N) في اتجاه عمودي على سطح الطاولة نحو الأسفل. **احسب أقل** مقدار لشدة المجال المغناطيسي المنتظم الذي يؤثر في الموصل وارسم على الشكل خطوطه.

0.55T

تمرين 26:

ساق معدني ($L = 62 \text{cm}$) وكتلته ($m = 13 \text{g}$) معلق بطرفي زنبركين عموديين بحيث يكون الساق جزءاً من دائرة كهربائية والمجموعة موضوعة في مجال مغناطيسي ($0.44T$) ما مقدار **واتجاه التيار** الواجب امراره بالساق **لينعدم** قوة الشد بالزنبرك؟



0.467A

العزم المؤثر في حلقة يمر بها تيار مستمر (المحرك الكهربائي البسيط)

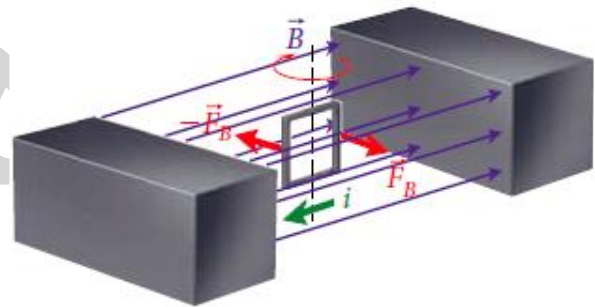
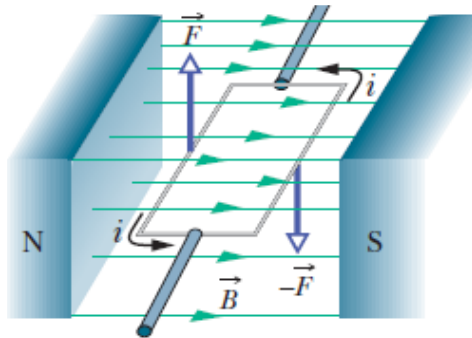
- ✓ المحركات الكهربائية تعتمد على القوة المغناطيسية المؤثرة في سلك يمر به تيار
- ✓ القوة المغناطيسية تستخدم لإنشاء عزم يعمل على تدوير العمود (الحلقة حول محور دوران)
- ✓ **المحرك الكهربائي البسيط:**

مكوناته:

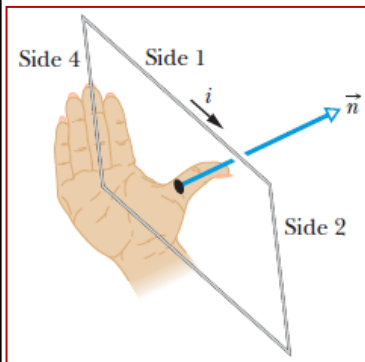
- حلقة مربعة واحدة يسري بها تيار i
- توضع الحلقة في مجال مغناطيسي منتظم \vec{B}
- توجه الحلقة بحيث يكون الضلعان الأفقيان متوازيين مع المجال والرأسيان عمودية على المجال
- الضلعان الأفقيان لا يتأثران بقوة مغناطيسية لأن السلكان موازيان للمجال المغناطيسي
- الضلعان الرأسيان يتأثران بقوة مغناطيسية على كل منهما $F_B = iLB$ وتكون متساويتان بالمقدار ومتعاكستين بالاتجاه مما ينتج عزم يعمل على تدوير الحلقة حول محور رأسي
- **عاكس التيار:** يتكون من حلقة مقسومة الى نصفين يتصل نصفها بطرفي الحلقة ويعمل عاكس التيار على عكس اتجاه التيار كل نصف دورة ليبقى الملف يدور دون توقف.

حالة دوران الحلقة حول مركزها.

- لا تتغير القوة المغناطيسية المؤثرة على الضلعين الرأسيين أثناء الدوران.
- الشكل المجاور يبين القوة المؤثرة على الضلعين الرأسيين الذي يبلغ طول كل منهما (a)



- متجه الوحدة (\hat{n}) وهو العمود المقام على على مستوى الملف .
- يمكن تحديد اتجاه متجه الوحدة (\hat{n}) عن طريق قاعدة يد اليمين الثانية:
 - ⊙ الاصابع تمثل اتجاه التيار في أضلاع الحلقة i .
 - ⊙ الإبهام يشير الى اتجاه متجه الوحدة \hat{n}



- الزاوية (θ) المحصورة بين متجه الوحدة (\hat{n}) واتجاه المجال المغناطيسي (\vec{B})
- مقدار القوة المؤثرة في كل من الضلعين الرأسيين يساوي $F_B = iaB$ حيث $a = L$

- القوتان المؤثرتان في الضلعين الأفقيين لا ينتجان عزمًا ومجموعهما = صفر
- مجموع العزمين على الضلعين الرأسيين للحلقة المربعة محصلة العزم المبدول على

الحلقة وحول مركزها . $\tau_1 = (iaB)(\frac{a}{2}) \sin \theta + (iaB)(\frac{a}{2}) \sin \theta = ia^2 B \sin \theta$

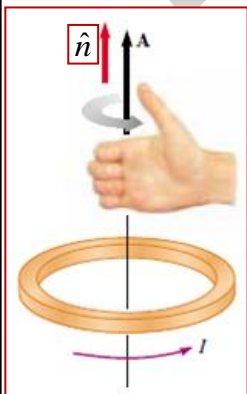
- وبما أن الحلقة مربعه فإن $a^2 = A$

العزم المبدول على حلقة واجدة يساوي $\tau_1 = iAB \sin \theta$

- والقيمة العظمى للعزم ($\tau_{max} = iAB$) عندما يكون مستوى الحلقة موازياً للمجال المغناطيسي.
- عند استبدال الحلقة الواحدة بملف يتكون من عدة لفات أو عدة حلقات متصلة (N)

$\tau = N\tau_1 = NiAB \sin \theta$

فإن العزم عندها



تمرين 27:

ملف على شكل مستطيل ابعاده (0.2m,0.5m) ويتكون من 50 لفة موضوع على مستوى (xy) في مجال مغناطيسي اتجاهه باتجاه المحور (x) شدته 0.5mT. يسري في الملف تيار كهربائي شدته (20mA) باتجاه عقارب الساعة.

a- ما اتجاه متجه الوحدة (\hat{n}) العمودي على مستوى الحلقة

b- ما العزم الذي يجب تأثيره على الملف ليبقى مستقراً مكانه.

$5 \times 10^{-5} N.m$

تمرين 28:

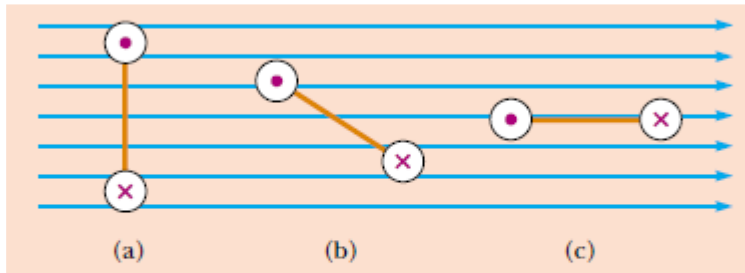
الشكل المجاور يبين مجال مغناطيسي منتظم اتجاهه نحو اليمين وضع بداخله ثلاثة حلقات متماثلة ويمر بهم نفس التيار الكهربائي.

a- رتب محصلة العزم المؤثرة على الحلقات

من الأكبر للأصغر

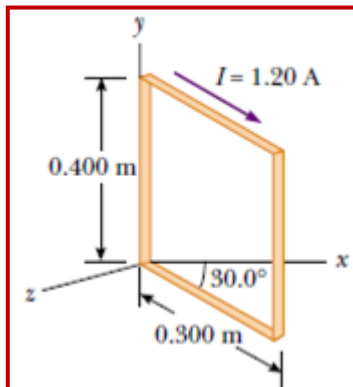
b- رتب محصلة القوة المؤثرة على الحلقات

من الأكبر إلى الأقل.



تمرين 29:

ملف يحوي 100 لفة ملفوة على مستطيل كما بالشكل. ويميل بزاوية عن محور (x)، إذا كان يخضع لمجال مغناطيسي شدته (0.8T) وباتجاه محور (x) ما مقدار محصلة العزم المؤثرة على الملف وبأي اتجاه يدور.



$9.98 N.m$

تمرين 30:

الشكل المجاور يمثل محرك كهربائي بسيط، إذا كان شدة المجال المغناطيسي المؤثر على الملف يساوي 0.1T وشدة التيار المار بالملف 1.2A وكان طول الضلع (ab) وطول الضلع (bc) 4cm أجب عما يلي:

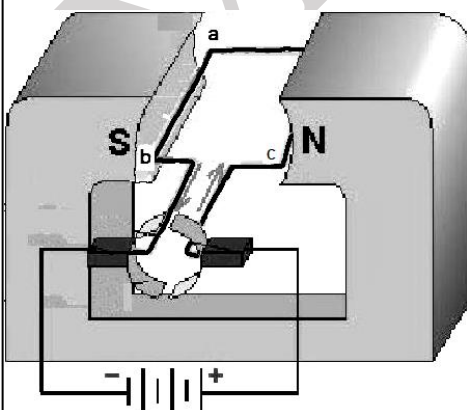
a- مقدار واتجاه القوة المغناطيسية المؤثرة على الضلع (ab)

بالوضع المبين بالشكل.

b- ما هو اتجاه دوران الملف. (مع أو عكس عقارب الساعة)

c- ما اتجاه متجه الوحدة (\hat{n}) بالوضع المبين بالشكل.

d- مقدار العزم المبذول على الحلقة في الوضع المبين بالشكل.



$2.4 \times 10^{-4} N.m$

7.6 عزم ثنائي القطب المغناطيسي (μ)

• عزم ثنائي القطب المغناطيسي : هو وصف لخصائص ملف يسري به تيار كهربائي وهو كمية متجهة
A- مقدار عزم ثنائي القطب المغناطيسي:

($\mu = NiA$) حيث أن N: عدد لفات الملف i : شدة التيار المار بالملف A : مساحة الحلقات

ومن العلاقة $\tau = NiAB \sin\theta$ وبالتعويض بالعلاقة السابقة $\mu = NiA$

فإن العزم يساوي $\tau = \mu B \sin\theta$ وبالتالي تصبح العلاقة $\vec{\tau} = \vec{\mu} \times \vec{B}$

B- اتجاه عزم ثنائي القطب المغناطيسي:

يمثل اتجاه عزم ثنائي القطب المغناطيسي متجه الوحدة العمودي \hat{n}

مسألة محلولة 7.3 العزم المؤثر في حلقة مستطيلة يسري فيها تيار مستقر

• طاقة الوضع لثنائي القطب المغناطيسي:

عند وضع ثنائي القطب المغناطيسي في مجال مغناطيسي خارجي \vec{B}

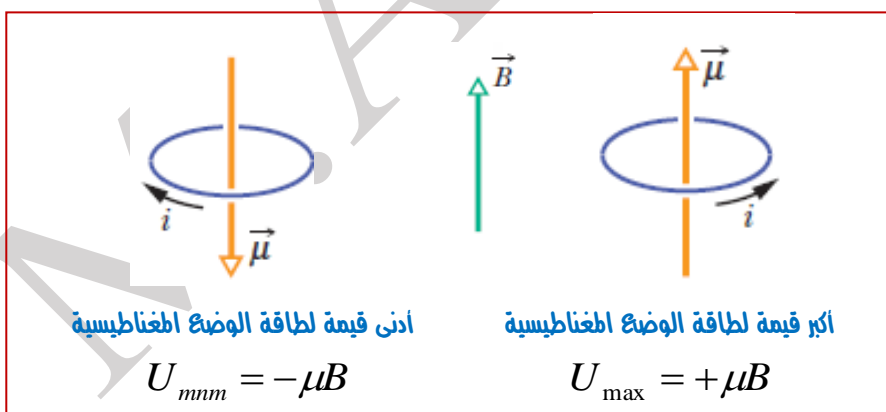
- إذا كان عزم ثنائي القطب موازياً للمجال (باتجاه المجال المغناطيسي) المغناطيسي فإن طاقة الوضع تكون أقل ما يمكن.
- إذا كان عزم ثنائي القطب (عكس اتجاه المجال المغناطيسي) الخارجى فإن طاقة الوضع تكون أكبر ما تكون
- باستخدام نظرية الشغل والطاقة يمكن التعبير عن :

طاقة الوضع المغناطيسية (U) لثنائي القطب المغناطيسي في مجال مغناطيسي خارجي \vec{B}

$$U(\theta) = -\mu B \cos\theta = -\vec{\mu} \cdot \vec{B} \quad \text{وبالتالي} \quad W = U(\theta_f) - U(\theta_i)$$

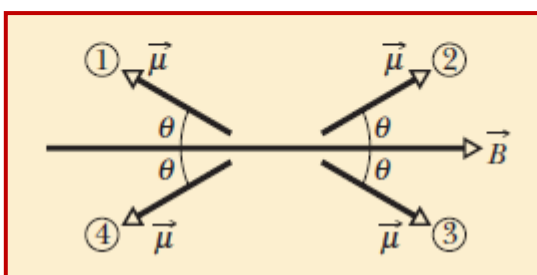
من الأشكال المبينة فإن:

- ✓ تصل طاقة الوضع المغناطيسية لثنائي القطب في مجال خارجي ادنى قيمة لها ($-\mu B$) عندما يكون متجه العزم المغناطيسي لثنائي القطب بنفس اتجاه للمجال المغناطيسي الخارجى
- ✓ تصل أعلى قيمة لطاقة الوضع المغناطيسية أعلى قيمة لها ($+\mu B$) عندما يكون المتجهان عكسيا التوازي .



تمرين 31:

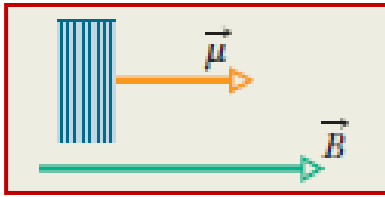
الشكل المجاور يمثل اربع اوضاع لعزم ثنائي القطب بحيث يعمل زوايا مختلفة مع المجال المغناطيسي
a- ما العزم في كل حالة لثنائي القطب المغناطيسي؟



b- رتب طاقة الوضع المغناطيسية لثنائي القطب من الأكبر للأقل.

تمرين 32:

الشكل المجاور يبين ملف يتكون من 250 لفة ومساحته $A = 2.5 \times 10^{-4} m^2$ ويمر به تيار كهربائي شدته $100 \mu A$ ، الملف موضوع في مجال مغناطيسي شدته $B = 0.85 T$ بالوضع الابتدائي كما مبين بالشكل.
 a- **بأي اتجاه** يسري التيار الكهربائي بالملف بالوضع الابتدائي؟



b- ما مقدار الشغل المبذول من قبل العزم ليدور الملف 90° ؟

$5.3125 \times 10^{-6} J$

7.7 تأثير هول

- ✓ عند وضع موصل يمر به تيار كهربائي ويكون اتجاهه **متعامد** على مجال مغناطيسي .
- تتحرك الالكترونات بالموصل بسرعة متجهة \vec{v}_d باتجاه **معاكس** لاتجاه التيار الاصطلاحي
- تتأثر الالكترونات بقوة مغناطيسية متعامدة على سرعتها مما يؤدي الى دفع الالكترونات باتجاه حافة الموصل .
- تتراكم الالكترونات عند احدي الحافتين (شحنة سالبة) وعند الحافة الأخرى تتراكم شحنات (موجبة)
- ينتج عن الشحنتين مجال كهربائي \vec{E} يبذل قوة كهربائية على الالكترونات في اتجاه **معاكس** لاتجاه القوة التي بذلتها القوة الناتجة عن المجال المغناطيسي.
- عندما تكون القوة الناتجة عن المجال الكهربائي **مساوية** للقوة الناتجة عن المجال المغناطيسي فإن العدد الكلي للالكترونات على حواف الموصل لا يتغير مع الزمن. ((**يطلق على هذه النتيجة بتأثير هول**))
- يطلق على فرق الجهد بين حواف الموصل عند حالة الاتزان **بفرق جهد هول** ΔV_H

تكتب العلاقة $\Delta V_H = Ed$ حيث d عرض الموصل و E مقدار المجال الكهربائي الناتج.

❖ إذا كان جهد هول سالب فإن حاملات الشحنة الكهربائية تكون (فجوات موجبة) والعكس صحيح.

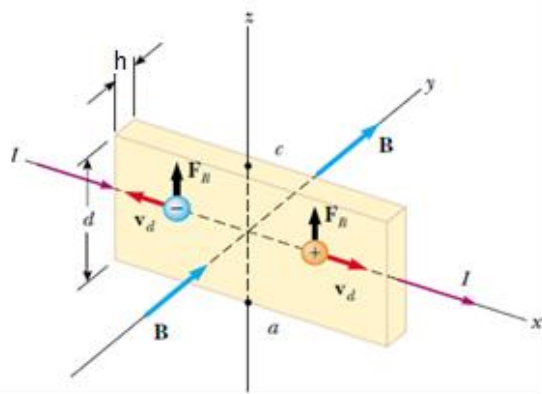
استخدامات تأثير هول:

- يمكن استخدام تأثير هول لاثبات ان ناقلات الشحنة في الفلزات تكون سالبة.
- يثبت تأثير هول انه في بعض اشباه الموصلات تكون ناقلات الشحنة عبارة عن فجوات (الالكترونات مفقودة) والتي تبدو وكأنها ناقلات موجبة الشحنة.
- يمكن استخدام تأثير هول في ايجاد مقدار المجال المغناطيسي عن طريق قياس التيار المتدفق في الموصل وفرق الجهد الناتج **وعند حالة الاتزان:**

ومنها فإن $B = \frac{E}{v_d} = \frac{\Delta V_H}{v_d d}$

ومن المعادلة $J = \frac{i}{A} = nev_d$

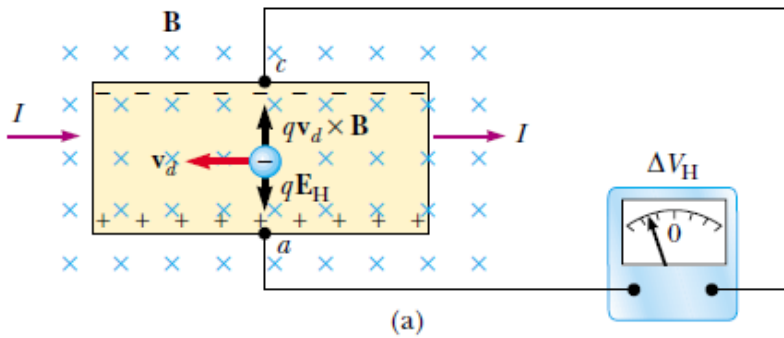
حيث n: عدد الالكترونات لوحدة الحجم .
 حيث A=dh حيث d عرض الموصل و h: سمك الموصل



ومن الاستنتاج فإن $v_d = \frac{i}{Ane} = \frac{i}{hdne}$ ومن المعادلة $B = \frac{\Delta V_H}{v_d d} = \frac{\Delta V_H dhne}{id} = \frac{\Delta V_H hne}{i}$

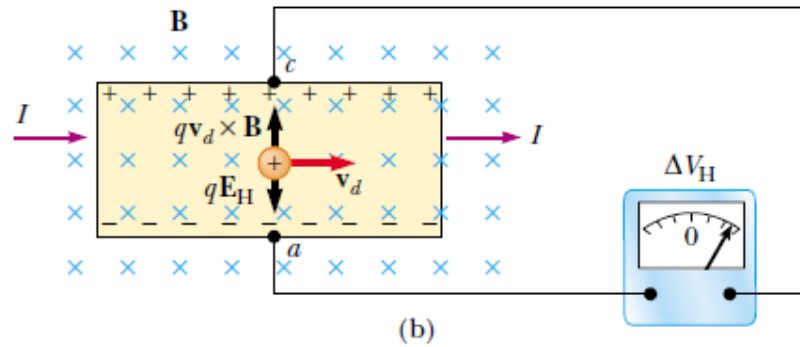
ويمكن الاستنتاج والحصول على جهد هول من العلاقة $\Delta V_H = \frac{iB}{neh}$

من الأشكال التالية:



الشكل (a):

إذا كانت حاملات الشحنة **(سالبة)** فإن الحافة العلوية تتراكم عليها الشحنات السالبة والنقطة (c) يكون جهدا أقل من جهد النقطة (a)



الشكل (b):

إذا كانت حاملات الشحنة **(موجبة)** فإن الحافة العلوية تتراكم عليها الشحنات الموجبة والنقطة (c) يكون جهدا أعلى من جهد النقطة (a)

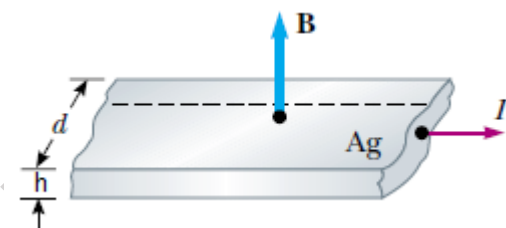
تمرين 33:

قطعة نحاسية مستطيلة طولها 1.5cm وسمكها $h = 0.1\text{m}$ ويمر بها تيار شدته $i = 5\text{A}$ أوجد **جهد هول** إذا كانت خاضعة لمجال مغناطيسي باتجاه سمكها قدره 1.2T إذا علمت أن كثافة الإلكترونات تساوي $8.49 \times 10^{28} \text{m}^{-3}$

$\Delta V_H = 4.4 \times 10^{-7} \text{V}$

تمرين 34:

قطعة من الفضة سمكها $h = 0.2\text{mm}$ استخدم في قياس تأثير هول فوضعت بمجال مغناطيسي اتجاهه كما بالشكل. فإذا كانت كثافة حاملات الشحنة بالفضة $n = 7.44 \times 10^{28} \text{m}^{-3}$ ويمر بها تيار كهربائي شدته $i = 20\text{A}$ وناتج من جهد هول ومقداره $\Delta V_H = 15\mu\text{V}$ ما **مقدار** شدة المجال المغناطيسي التي تخضع لها قطعة الفضة



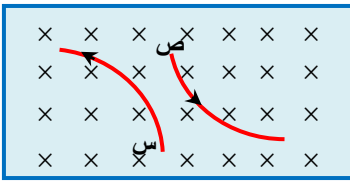
$B = 1.79\text{T}$

b- حدد على الشكل الشحنات الموجبة الصافية والإلكترونات الصافية على حواف القطعة **مبين اتجاه** المجال الكهربائي الناتج واحسب **مقداره** إذا علمت أن عرض القطعة الفضية $d = 12\text{cm}$ ؟؟؟

$E = 1.25 \times 10^{-4} \text{V/m}$

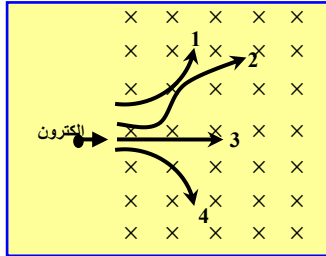
أختر أنسب تكملة لكل مما يلي ثم ضع في المربع أمامها إشارة (✓)

1- في الشكل المجاور الذي يمثل مسار جسيمان مشحونان (س) و (ص) يتحركان في مستوى عمودي على مجال مغناطيسي . نستنتج أن



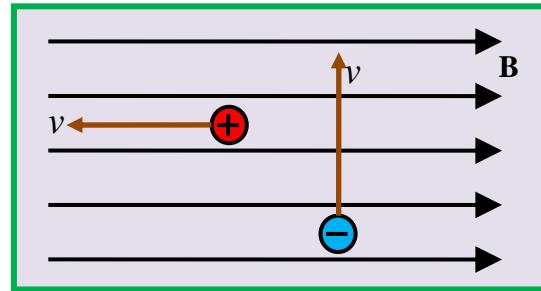
- س موجب و ص سالب
 س موجب و ص موجب
 س و ص سالبان
 س و ص موجبان

2- قذف **إلكترون** عمودياً على مجال مغناطيسي منتظم كما في الشكل المجاور. الذي سيتحرك عليه الإلكترون هو:



- 1
 2
 3
 4

3- كما بالشكل المجار تتحرك شحنتان احدهما **سالبة** والاخرى **موجبة**



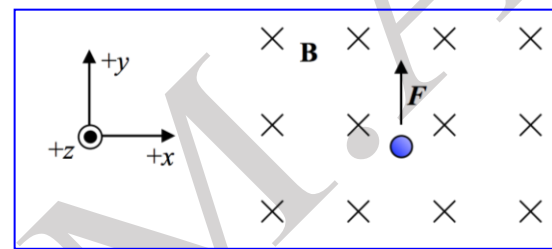
داخل مجال مغناطيسي منتظم فإن القوة **F** المؤثرة على

- الشحنة السالبة لليمين و على الشحنة الموجبة للأسفل
 الشحنة السالبة للداخل و على الشحنة الموجبة صفاً
 الشحنة السالبة للخارج و على الشحنة الموجبة صفاً
 الشحنة السالبة لليساار و على الشحنة الموجبة للأعلى

4- عند انطلاق جسيم مشحون بسرعة **v** و**عمودياً** على مجال مغناطيسي منتظم فإنها تتأثر بقوة مغناطيسية تعمل على:

- زيادة سرعة الجسيم المشحون
 انقاص سرعة الجسيم المشحون.
 تغيير اتجاه حركته فقط دون تغيير في مقدار سرعته
 تغيير من مقدار سرعته واتجه حركته .

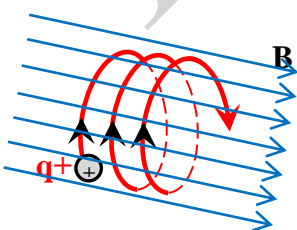
5- **الالكترون** يتحرك بسرعة داخل مجال مغناطيسي منتظم



باتجاه **Z** السالب، فتأثر بقوة مغناطيسية **F** باتجاه **y** الموجب كما بالشكل المجاور فإن اتجاه **سرعة** الالكترون تكون باتجاه

- + x
 - y
 - x
 + z

6- عندما أدخل جسيم مشحون بشحنة **موجبة** في مجال مغناطيسي منتظم، تحرك على المسار الموضح في الشكل المجاور. إن متجه سرعة الجسيم لحظة دخوله للمجال كان:



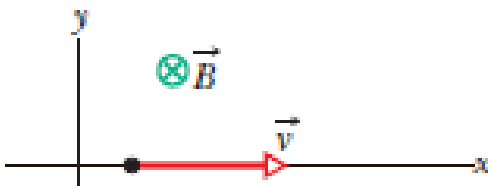
- باتجاه المجال المغناطيسي
 عمودياً على اتجاه المجال المغناطيسي
 باتجاه معاكس لاتجاه المجال المغناطيسي
 يصنع زاوية مع اتجاه المجال المغناطيسي

7- في حجرة **منتقى السرعات** لمطياف الكتلة فإن الأيونات التي يسمح لها بالخروج من منتقى السرعات إلى حجرة قياس الكتلة التي تكون سرعتها تساوي

$$\beta + E \quad \square \quad \beta E \quad \square$$

$$\frac{E}{B} \quad \square \quad \frac{B}{E} \quad \square$$

8- الشكل المجاور يبين **الكثرون** يتحرك بسرعة ثابتة قدرها $v = 100m/s$ باتجاه المحور (x الموجب) عبر مجال مغناطيسي منتظم اتجاهه عمودي على الصفحة نحو الداخل (z السالب) وشدته 5T ، ما مقدار واتجاه المجال الكهربائي الذي يخضع له **الإلكترون** ليبقى متحركاً بنفس السرعة والاتجاه.

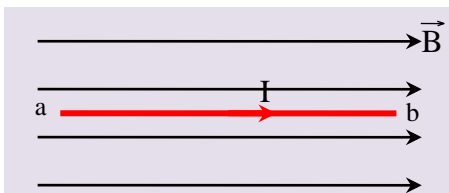


$$20V/m \quad \square \quad \text{باتجاه } (-y)$$

$$0.05V/m \quad \square \quad \text{باتجاه } (-z)$$

$$500V/m \quad \square \quad \text{باتجاه } (-y)$$

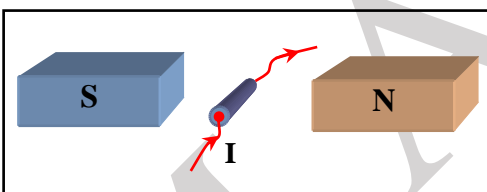
$$105V/m \quad \square \quad \text{باتجاه } (-z)$$



9- في الشكل المجاور إذا كانت شدة التيار المار في السلك (ab) (3.0A) ومقدار المجال المغناطيسي (0.03T) فإن مقدار **القوة المغناطيسية** المؤثرة في **وحدة الأطوال** من السلك تساوي:

$$100N \quad \square \quad 0.09N \quad \square$$

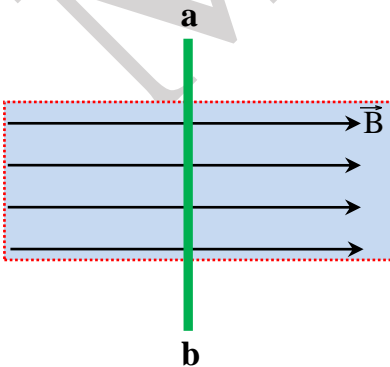
$$\text{صفرًا} \quad \square \quad 0.01N \quad \square$$



10- وضع سلك مستقيم في مجال مغناطيسي منتظم وكان محوره **بعماد** المجال ومستوى الصفحة. إذا مرّر تيار كهربائي في السلك إلى الداخل كما في الشكل المجاور فإن السلك سيتحرك إلى:

$$\text{اليمين} \quad \square \quad \text{اليسار} \quad \square$$

$$\text{الأعلى} \quad \square \quad \text{الأسفل} \quad \square$$



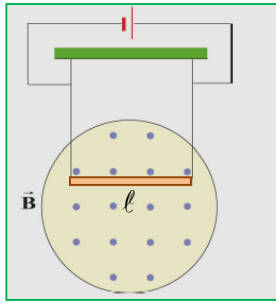
11- يؤثر مجال مغناطيسي منتظم في المنطقة المستطيلة المنقطة والمبينة في الشكل المجاور. وضع السلك المستقيم (ab) وطوله (L) في المجال المغناطيسي كما في الشكل. إذا أمر تيار كهربائي مستمر شدته (I) في السلك اتجاهه من (a) إلى (b) فإن السلك سيتأثر **بقوة مغناطيسية** مقدارها:

$$\text{يساوي } (IBL) \quad \square \quad \text{صفر} \quad \square$$

$$\text{أقل من } (IBL) \quad \square \quad \text{أكبر من } (IBL) \quad \square$$

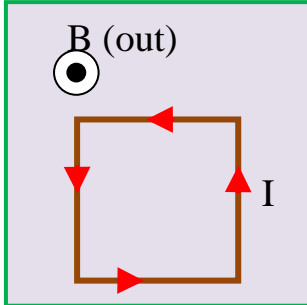
12- من خلال الشكل المجاور ان السلك L يتحرك بفعل القوة المغناطيسية نحو

- الأعلى
- باتجاه المجال المغناطيسي
- الاسفل
- عكس اتجاه المجال المغناطيسي



13- سلك على شكل مربع يمر به تيار واقع في مجال مغناطيسي منتظم عمودي على الصفحة نحو الخارج فإن السلك المربع يتأثر بقوة مغناطيسية

- عمودي على الصفحة نحو الخارج
- نحو اليمين
- نحو اليسار
- صفر



الأسئلة الواجب حلها من كتاب الطالب:

- 13 و14 و16 و18 ص 190 - 25 و26 و28 و29 و30 و33 و34 و36 و37 و38 و ص 191
40 و41 و44 و48 و50 ص 192 - 55 و57 و58 و59 و60 و61 و64 ص 193 تمارين اضافية 194

الاختيار من متعدد

- 1- س و ص موجبان
- 2- الشحنة السالبة للخارج و على الشحنة الموجبة صفر
- 3- تغيير اتجاه حركته فقط دون تغيير في سرعته
- 4- $-x$
- 5- يصنع زاوية مع اتجاه المجال المغناطيسي
- 6- $\frac{E}{B}$
- 7- $500V/m$ باتجاه $(-y)$
- 8- 10 - الأعلى
- 9- صفرأ
- 10- أقل من (IBL)
- 11- 12 - الأعلى
- 12- صفر

مراجعة المفاهيم الخاصة بالكتاب.

7.1. a 7.2. a 7.3. c 7.4. a 7.5. a

الاختيار من متعدد خاص بالكتاب

7.1. b 7.2. c 7.3. e 7.4. b 7.5. a 7.6. a

7.7. a,c,d,e are true; b is false

7.8. b 7.9. e 7.10. d 7.11. d 7.12. d