

امتحان شهادة إتمام الدراسة الثانوية العامة للعام الدراسي ٢٠١٧/٢٠١٦ – الدور الثاني

المادة : الإستاتيكا (باللغة الفرنسية)

نموذج

التاريخ : ٢١/٨/٢٠١٧

زمن الإجابة : ساعتان

عدد صفحات الكراسة (٢٨) صفحة
بخلاف الغلاف (٤) صفحات
وعلى الطالب مسؤولية المراجعة
والتأكد من ذلك قبل تسليم الكراسة

٤

مجموع الدرجات

٣٠

الأسئلة من إلى	الدرجة	توقيع	
		المراجع	المقدر

رقم المراقبة

مجموع الدرجات بالحروف :

إمضاءات المراجعين :

عدد صفحات الكراسة (٢٨) صفحة
بخلاف الغلاف (٤) صفحات
وعلى الطالب مسؤولية المراجعة
والتأكد من ذلك قبل تسليم الكراسة

نموذج

٤

وزارة التربية والتعليم والتعليم الفني

امتحان شهادة إتمام الدراسة الثانوية العامة

للعام الدراسي ٢٠١٧/٢٠١٦ – الدور الثاني

المادة : الإستاتيكا (باللغة الفرنسية)

التاريخ : ٢١/٨/٢٠١٧

زمن الإجابة : ساعتان

رقم المراقبة

اسم الطالب (رباعيا) /

المدرسية :

رقم الجلوس :

الإدارة :

المحافظة :

١ -

٢ -

توقيع الملاحظين بصحة البيانات :
ومطابقة عدد صفحات كراسة الإجابة
عند استلامها من الطالب .

1

Un corps de poids 21 Newton est placé sur un plan horizontal rugueux, deux forces horizontales d'intensités 3 Newton et 5 Newton formant un angle de 60° de mesure agissent sur le corps. si le corps est sur le point de se mouvoir, alors le coefficient de frottement statique est égal à

إذا وضع جسم وزنه ٢١ نيوتن على مستوى أفقي خشن وأثرت على الجسم قوتان أفقيتان مقدارهما ٣ نيوتن، ٥ نيوتن وتحصران بينهما زاوية قياسها 60° فأصبح على وشك الحركة فإن معامل الاحتكاك السكوني يساوي

(a) $\frac{3}{7}$

(b) $\frac{1}{7}$

(ب) $\frac{1}{\sqrt{3}}$

(أ) $\frac{3}{\sqrt{3}}$

(c) $\frac{1}{3}$

(d) $\frac{3}{5}$

(د) $\frac{3}{5}$

(ج) $\frac{1}{3}$

2

2

Si l'intensité de la force de frottement statique limite = 60 newton; la force de réaction résultante = 100N; alors la force de réaction normale = N

(a) 60

(b) 80

(c) 100

(d) 200

إذا كانت قوة الاحتكاك السكوني النهائي = ٦٠ نيوتن ،
قوة رد الفعل المحصل = ١٠٠ نيوتن
فإن رد الفعل العمودي = نيوتن.

(أ) ٦٠ (ب) ٨٠

(ج) ١٠٠ (د) ٢٠٠

3

Un corps de poids (p) est placé sur un plan rugueux incliné d'un angle de mesure (θ) à l'horizontal, on trouve que la plus petite force parallèle à la ligne de plus grande pente du plan et rend le corps sur le point de se mouvoir vers le haut du plan est égale à $(2 p \sin \theta)$. **Démontrez que:**

- (i) La mesure de l'angle de frottement = θ
(ii) L'intensité de la réaction résultante = p

وضع جسم وزنه (و) على مستوى خشن يميل على الأفقي بزاوية قياسها (هـ) فوجد أن أقل قوة توازي خط أكبر ميل للمستوى وتجعل الجسم على وشك الحركة إلى أعلى المستوى تساوي (٢ و جا هـ).

أثبت أن:

- (i) قياس زاوية الاحتكاك = هـ
(ii) مقدار قوة رد الفعل المحصل = و

4

4

Si $\vec{F} = (2; -3; 4)$ agit au point $(1; 1; 1)$, alors la composante du moment de \vec{F} par rapport à l'axe des x est égale à

(a) 7

(b) -2

(c) -5

(d) 2

إذا كانت $\vec{F} = (2, -3, 4)$ تؤثر في النقطة $(1, 1, 1)$ فإن مركبة عزم \vec{F} حول محور س تساوي

(أ) 7

(ب) -2

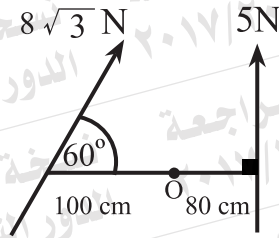
(ج) -5

(د) 2

5

Dans la figure Suivante:

La somme de moments des forces par rapport au point O est égale à N.cm



(a) 800

(b) -800

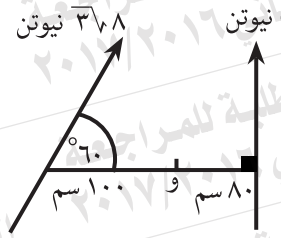
(c) 400

(d) -1200

في الشكل التالي:

مجموع عزوم القوى

حول نقطة (و) يساوي نيوتن .سم.



(ب) ٨٠٠ -

(أ) ٨٠٠

(د) ١٢٠٠ -

(ج) ٤٠٠

6

6

Répondez à une question seulement :

(a) ou (b)

(a) La force $\vec{F} = 2\vec{i} - \vec{j} + 3\vec{k}$ agit au point A (-3; 1; 2) Déterminez le moment de la force \vec{F} par rapport au point B (2; 2; -1), puis calculez la longueur de la perpendiculaire issue de point B sur la ligne d'action de la force.

(b) les forces $\vec{F}_1 = L\vec{i} + m\vec{j}$; $\vec{F}_2 = \vec{i} - 3\vec{j}$ et $\vec{F}_3 = -2\vec{i} + \vec{j}$ agissent aux points A(1; 2); B (0; 4), et C (2; 4) respectivement si la somme de moments des forces par rapport au point d'origine = $-9\vec{k}$ et la somme de moment des forces par rapport au point D (-2; 3) = $-4\vec{k}$. trouvez la valeur de L et m.

أجب عن إحدى الفقرتين الآتيتين:

أ- تؤثر القوة

$$\vec{F} = 2\vec{i} - \vec{j} + 3\vec{k}$$

في النقطة P (٢، ١، ٣) أوجد عزم القوة \vec{F} حول نقطة B (٢، ٢، -١) ثم احسب طول العمود الساقط من B على خط عمل القوة.

ب- تؤثر القوى $\vec{F}_1 = L\vec{i} + m\vec{j}$ ،

$$\vec{F}_2 = \vec{i} - 3\vec{j}$$

$$\vec{F}_3 = -2\vec{i} + \vec{j}$$

في النقط P (٢، ١)، B (٢، ٠)، ج (٢، ٤) على الترتيب.

إذا كان مجموع عزوم القوى بالنسبة لنقطة الأصل = $-9\vec{k}$ ، ومجموع عزوم القوى بالنسبة للنقطة S (-٢، ٣) = $-4\vec{k}$ فأوجد قيمة كل من L، m.

7

Soient \vec{F}_1 et \vec{F}_2 deux forces parallèles de sens contraires $F_1 = 6$ Newton et $F_2 = 8$ Newton, la résultante était à la distance de 15 cm de la deuxième force; alors la distance entre les deux forces est égale àcm

(a) 30

(b) 15

(c) 14

(d) 5

إذا كانت \vec{F}_1 و \vec{F}_2 قوتين متوازيتين وفي اتجاهين متضادين وكانت $F_1 = 6$ نيوتن، وكانت $F_2 = 8$ نيوتن، وكانت المحصلة تبعد عن القوة الثانية بمقدار ١٥ سم فإن البعد بين القوتين يساوي سم.

(أ) ٣٠

(ب) ١٥

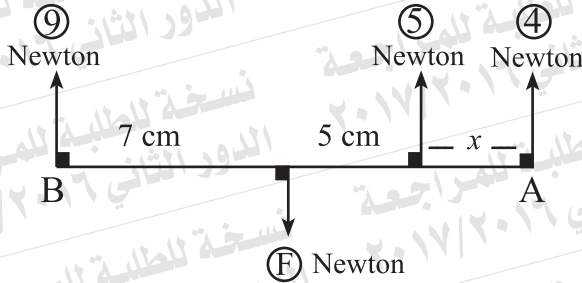
(ج) ١٤

(د) ٥

8

Dans la figure suivante:

Si \overline{AB} est une barre en équilibre horizontalement;
alors la distance $x = \dots\dots\dots$ cm



(a) 9,5

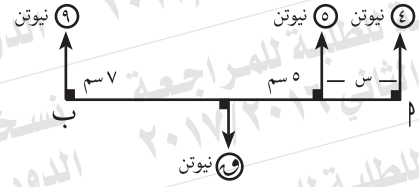
(b) 14,5

(c) 4,5

(d) 18

في الشكل التالي:

إذا كان \overline{AB} قضيباً متزنًا أفقيًا
فإن البعد $x = \dots\dots\dots$ سم.



(أ) 9,5

(ب) 14,5

(ج) 4,5

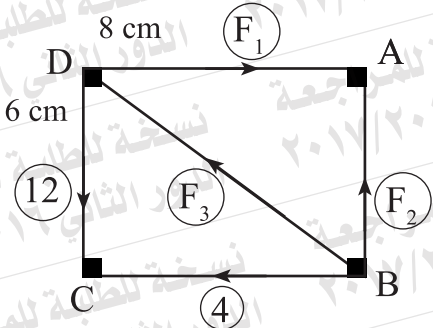
(د) 18

9

Dans la figure suivante:

Si les intensités des forces en Newton et le système en équilibre;

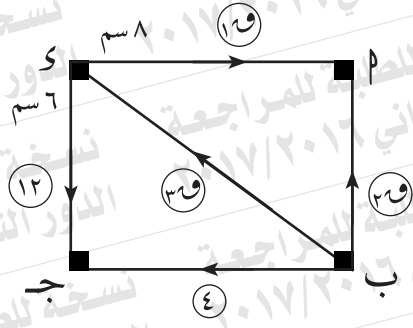
alors $F_1 = \dots\dots\dots$ Newton



- (a) 16 (b) 5
(c) 3 (d) 8

في الشكل التالي:
إذا كانت مقادير القوى بالنيوتن
والمجموعة متزنة فإن:

$F_1 = \dots\dots\dots$ نيوتن.



- (أ) 16 (ب) 5
(ج) 3 (د) 8

10

une barre homogène \overline{AB} de 90 cm de longueur et de poids 60 N est suspendue en position horizontale à deux cordes verticales fixées à ses extrémités A et B.

A quel point de la barre faut-il suspendre un poids de 150 Newton pour que la tension en A soit le double de l'intensité de celle en B?

أب قضيب منتظم طوله ٩٠ سم ووزنه ٦٠ نيوتن معلق في وضع أفقي بخيطين رأسيين من طرفيه Γ ، ب. أين يعلق ثقل مقداره ١٥٠ نيوتن حتى يكون مقدار الشد عند Γ ضعف مقداره عند ب ؟

12

11

Deux forces parallèles et de sens contraires d'intensité 40 Newton et 100 Newton et la distance entre les lignes d'action de deux forces est 240 cm. Trouvez leur résultante et son point d'application.

قوتان متوازيتان ومتضادتان في الاتجاه مقدارهما ٤٠ نيوتن، ١٠٠ نيوتن، والمسافة بين خطي عمليهما ٢٤٠ سم. أوجد محصلتهما ونقطة تأثيرها.

12

si les deux forces

$$\vec{F}_1 = 3\vec{i} - b\vec{j} \text{ et } \vec{F}_2 = a\vec{i} - 5\vec{j} \text{ forment un}$$

couple; alors (a; b) =

(a) (3 ; -4)

(b) (3 ; 5)

(c) (-3 ; 5)

(d) (-3 ; -5)

$$\text{إذا كان } \vec{r} = 3\vec{i} - b\vec{j} \text{ ،}$$

$$\vec{r}' = a\vec{i} - 5\vec{j} \text{ ،}$$

تكونان ازدواجًا فإن (a, b) =

(أ) (٤ ، ٣)

(ب) (٥ ، ٣)

(ج) (٥ ، ٣-)

(د) (٥- ، ٣-)

14

13

Répondez à une question seulement (a) ou (b)

(a) AB est une barre homogène de 120 cm de longueur et de 4 Newton de poids l'extrémité A est attachée à une charnière fixée à un mur vertical. un poids de 3 Newton est attaché en point situé à 40 cm de B.

L'extrémité B est attaché par un fil au point C sur le mur vertical en haut de A où AC = 160 cm si la barre en équilibre statique horizontalement. trouvez la tension dans le fil et ainsi le sens de la réaction de la charnière.

(b) une barre homogène repose par son extrémité supérieure sur un mur vertical dont le coefficient de frottement est égal à $\frac{1}{2}$ et par son extrémité inférieure sur un plan horizontal dont le coefficient de frottement est égale à $\frac{3}{4}$. trouvez la tangente de l'angle d'Inclinaison de la barre sur l'horizontal lorsque'elle est sur le point de se glisser.

أجب عن إحدى الفقرتين الآتيتين:

أ- \overline{AB} قضيب منتظم طوله ١٢٠ سم ووزنه ٤ نيوتن يتصل بطرفه \overline{A} بمفصل في حائط رأسي. علق في القضيب وزن مقداره ٣ نيوتن على بعد ٤٠ سم من \overline{B} وربط طرفه \overline{B} بواسطة خيط بنقطة \overline{C} على الحائط رأسياً أعلى \overline{A} حيث $\overline{AC} = 160$ سم، فإذا كان القضيب في حالة اتزان استاتيكي أفقياً فأوجد مقدار الشد في الخيط ومقدار واتجاه رد فعل المفصل.

ب- قضيب منتظم يرتكز بطرفه العلوي على حائط رأسي معامل الاحتكاك بينه وبين القضيب يساوي $\frac{1}{2}$ وبطرفه السفلي على مستوى أفقي معامل الاحتكاك بينه وبين القضيب يساوي $\frac{3}{4}$. أوجد ظل زاوية ميل القضيب على الأفقي عندما يكون على وشك الانزلاق.

14

ABCD est un carré de côté 100 cm, les deux forces d'intensités 60 Newton et 60 Newton agissent suivant \vec{BA} et \vec{DC} . trouvez deux autres forces de même intensités qui agissent en A ; C et parallèles à \vec{BD} et forment un couple équivalent le couple de deux premières forces.

أ ب ج د مربع طول ضلعه ١٠٠ سم أثرت القوتان ٦٠، ٦٠ نيوتن في الاتجاهين ب أ، د ج . أوجد قوتين متساويتين في المقدار تؤثران في أ، ج وتوازيان ب د وتكونان ازدواجًا متكافئاً مع الازدواج المكون من القوتين الأوليين.

15

ABCD est un rectangle dans lequel $AB = 9\text{cm}$; $BC = 24\text{ cm}$. E et F sont les milieux de \overline{BC} et \overline{AD} respectivement. Des forces d'intensités 18; 48; 30 et 24 gp agissent sur \overrightarrow{AB} , \overrightarrow{BC} , \overrightarrow{CF} et \overrightarrow{FA} respectivement.

Démontrez que l'ensemble de ces forces est équivalent à un couple et trouvez son moment puis trouvez deux forces doivent être appliquées en \overrightarrow{EA} et \overrightarrow{FC} pour équilibrer le système.

١ ب ج د مستطيل فيه $AB = 9\text{ سم}$ ،

ب ج د = ٢٤ سم ، هـ ، و ،

منتصفات \overline{BC} ، \overline{AD} على الترتيب.

أثرت القوى ١٨ ، ٤٨ ، ٣٠ ،

٢٤ ث جم في \overrightarrow{AB} ، \overrightarrow{BC} ، \overrightarrow{CF} ، \overrightarrow{FA} ،

و \overrightarrow{EA} على الترتيب.

أثبت أن هذه القوى تكافئ ازدواجًا ،

وأوجد معيار عزمه. ثم أوجد قوتين تؤثران

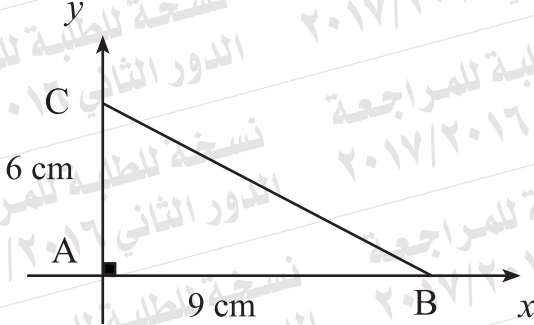
في هـ ، و ج لكي تتزن المجموعة.

18

16

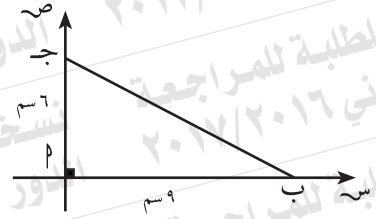
Dans la figure suivante:

Le centre de gravité de trois masses égales ayant 2 kg pour chacune d'elles et sont placées aux sommets d'un triangle rectangle dont les longueurs de côtés de son angle droit sont 6cm et 9cm est:



- (a) (2 ; 3) (b) (4,5 ; 3) (c) (٣ ، ٤,٥) (d) (٣ ، ٢) (e) (٤,٦) (f) (٢,٣)

في الشكل المقابل :
مركز ثقل ثلاث كتل متساوية قيمة كل واحدة ٢ كجم موضوعة عند رؤوس قائم الزاوية طولاه ضلعي القائمة فيه ٦ سم ، ٩ سم هو:



17

Un système composant de deux masses 6kg et 9kg, la distance entre elles 10 mètres; alors le centre de gravité de ce système est distant de la première masse à mètres.

مركز ثقل نظام مؤلف من كتلتين ٦ ، ٩ كجم بينهما مسافة ١٠ أمتار يبعد عن الكتلة الأولى مسافة متر.

Ⓐ 3

Ⓑ 4

Ⓐ ٣

Ⓒ 5

Ⓓ 6

Ⓑ ٤
Ⓒ ٥
Ⓓ ٦

18

quatre masses égales chacune de 100 gm sont placées aux sommets d'un carré ABCD. trouvez le centre de gravité du système par rapport à \vec{AB} et \vec{AD} .

وضعت أربع كتل متساوية مقدار كل منها ١٠٠ جرام عند رؤوس المربع ABCD. عيّن مركز ثقل المجموعة بالنسبة إلى \vec{AB} ، \vec{AD} .

