

تم تحميل هذا الملف من موقع المناهج الإماراتية



almanahj.com

موقع
المناهج الإماراتية

*للحصول على أوراق عمل لجميع الصفوف وجميع المواد اضغط هنا

<https://almanahj.com/ae>

* للحصول على أوراق عمل لجميع مواد الصف العاشر اضغط هنا [10/ae/com.almanahj//:https](https://almanahj.com/ae/10)

* للحصول على جميع أوراق الصف العاشر في مادة اجتماعيات ولجميع الفصول, اضغط هنا [10social/ae/com.almanahj//:https](https://almanahj.com/ae/10social)

* للحصول على أوراق عمل لجميع مواد الصف العاشر في مادة اجتماعيات الخاصة بـ الفصل الأول اضغط هنا

<https://almanahj.com/ae/10social1>

* لتحميل كتب جميع المواد في جميع الفصول للـ الصف العاشر اضغط هنا [grade10/ae/com.almanahj//:https](https://almanahj.com/ae/grade10)

* لتحميل جميع ملفات المدرس السيد نصار اضغط هنا

للتحدث إلى بوت المناهج على تلغرام: اضغط هنا [bot_almanahj/me.t//:https](https://t.me/bot_almanahj)

تدريب (11) : لاحظ خريطة أمريكا الجنوبية السياسية ثم أجب عن الأسئلة التي تليها :



1- من الدول الحبيسة في قارة أمريكا الجنوبية :

- أ- إكوادور
ب- اوروجواي
ج- باراجواي
د- كولومبيا

2- المسطح المائي الذي يفصل قارة أمريكا

الجنوبية عن قارة أفريقيا :

- أ- المحيط الهادي
ب- المحيط الأطلسي
ج- المحيط المتجمد الشمالي
د- المحيط الهندي

3- من الدول الجزرية في قارة أمريكا الجنوبية :

- أ- شيلي
ب- بوليفيا
ج- فنزويلا
د- ترينيداد

4- دائرة العرض الرئيسية التي تمر بدولة

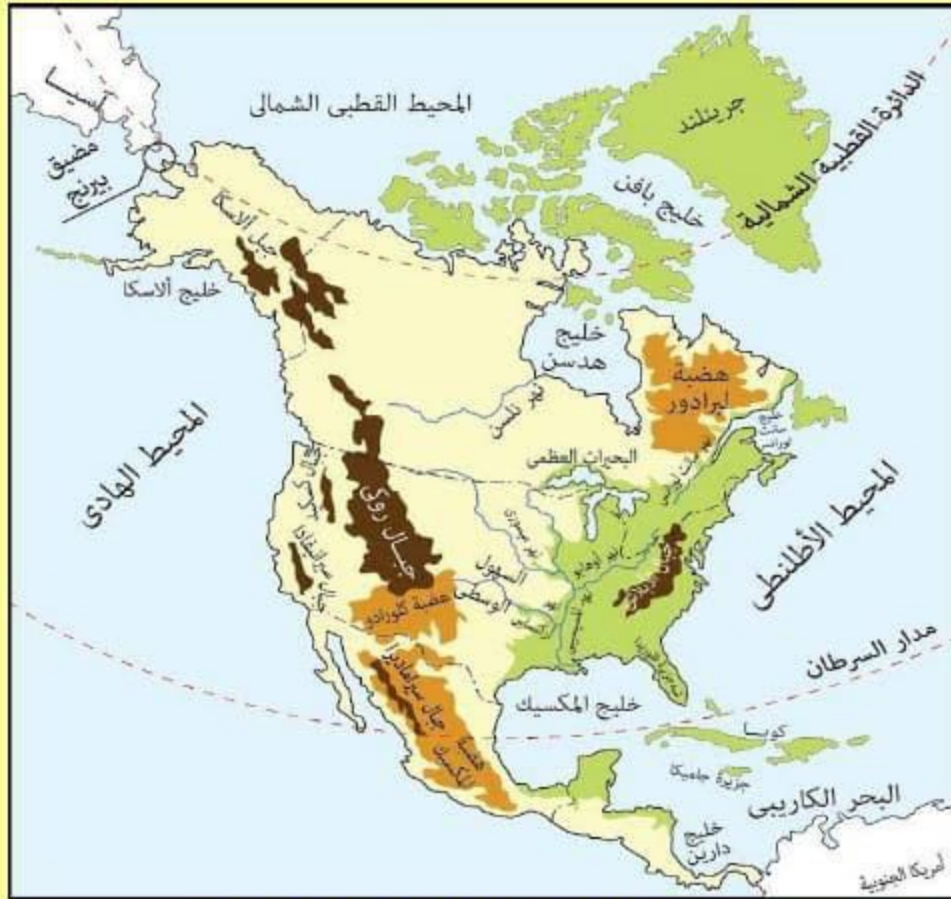
باراجواي :

- أ- مدار الجدي
ب- مدار السرطان
ج- خط الاستواء
د- خط جرينتش

5- تطل دولة البرازيل شرقاً على :

- أ- المحيط الهادي
ب- المحيط الهندي
ج- المحيط المتجمد الشمالي
د- المحيط الأطلسي

تدريب (10) : لاحظ خريطة أمريكا الشمالية الطبيعية ثم أجب عن الأسئلة التي تليها :



1- السلاسل الجبلية التي تمتد بمحاذاة الساحل الشرقي للولايات المتحدة الأمريكية :

- أ- ألاسكا ب- الانديز ج- الأبلاش د- روكي

2- المسطح المائي الذي يفصل قارة أمريكا الشمالية عن قارة أوروبا :

- أ- المحيط الهادي ب- المحيط الأطلسي ج- المحيط المتجمد الشمالي د- المحيط الهندي

3- يحد المحيط الهادي قارة أمريكا الشمالية من جهة :

- أ- الشرق ب- الغرب ج- الشمال د- الجنوب

4- اللون الأخضر على الخريطة يرمز إلى :

- أ- الجبال ب- الهضاب ج- السهول د- المسطحات المائية

5- المضيق الذي يفصل بين قارتي أمريكا الشمالية وآسيا :

- أ- باب المنذب ب- بيرنج ج- البسفور د- المحيط الأطلسي

معلم المادة / السيد نصار

تدريب (6) : لاحظ خريطة دولة الإمارات العربية المتحدة ثم أجب عن الأسئلة التي تليها :



1- تطل إمارة الفجيرة شرقاً على :

أ- الخليج العربي ب- بحر العرب ج- خليج عمان د- البحر الأحمر

2- أصغر الإمارات مساحة في دولة الإمارات العربية المتحدة :

أ- الفجيرة ب- عجمان ج- دبي د- رأس الخيمة

3- الدولة التي تجاور الإمارات من الجنوب والغرب :

أ- سلطنة عمان ب- البحرين ج- الكويت د- السعودية

4- أكبر الإمارات مساحة في دولة الإمارات العربية المتحدة :

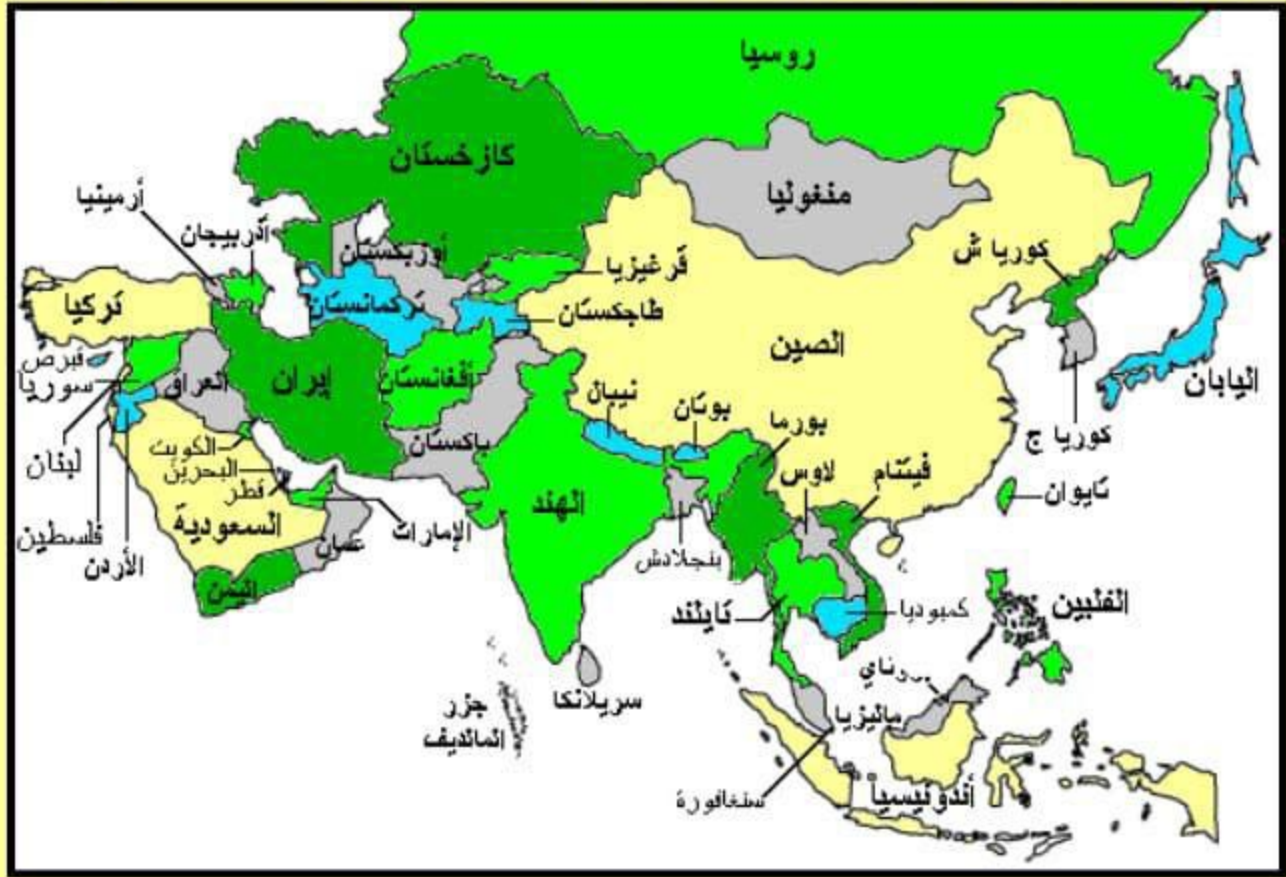
أ- الشارقة ب- أبوظبي ج- رأس الخيمة د- دبي

5- المسطح المائي الذي يفصل دولة الإمارات العربية المتحدة عن إيران :

أ- بحر قزوين ب- بحر العرب ج- بحر اليابان د- الخليج العربي

معلم المادة / السيد نصار

تدريب (7) : لاحظ خريطة آسيا السياسية ثم أجب عن الأسئلة التي تليها : (5 درجات)



1- من الدول الجزرية التابعة لقارة آسيا :

- أ- فيتنام ب- سريلانكا ج- الصين د- تايلاند

2- دولة اسلامية تقع أراضيها في قارتي آسيا وأوروبا :

- أ- تركمانستان ب- العراق ج- تركيا د- روسيا

3- اندونيسيا دولة اسلامية تقع بالنسبة لقارة آسيا في جهة :

- أ- الشمال الشرقي ب- الشمال الغربي ج- الجنوب الشرقي د- الجنوب الغربي

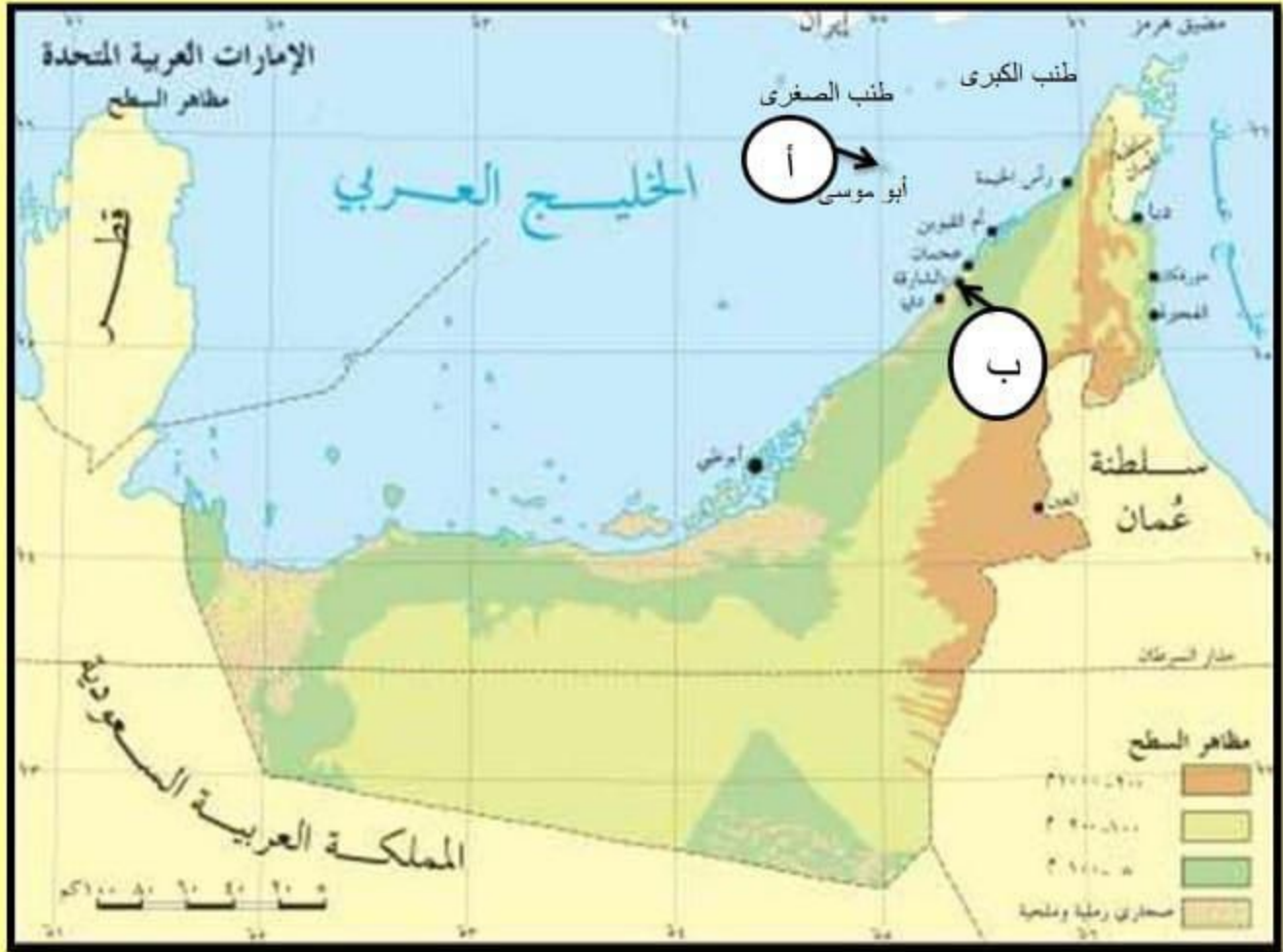
4- دولة اسلامية تقع شرق الأراضي الهندية :

- أ- أفغانستان ب- بنجلاديش ج- لاوس د- باكستان

5- تطل دولة العراق جنوباً على مسطح مائي هو :

- أ- بحر عمان ب- بحر العرب ج- الخليج العربي د- البحر الأحمر

تدريب (5) : لاحظ خريطة دولة الإمارات العربية المتحدة ثم أجب عن الأسئلة التي تليها :



- 1- المظهر التضاريسي الذي يسود دولة سواحل الإمارات العربية المتحدة :
أ- الجبال ب- الهضاب ج- السهول د- الأنهار
- 2- يقع جبل جيس السياحي في إمارة :
أ- رأس الخيمة ب- دبي ج- أم القيوين د- عجمان
- 3- المضيق الذي يصل بين الخليج العربي وخليج عمان :
أ- هرمز ب- جبل طارق ج- باب المندب د- الدردنيل
- 4- يشير الحرف (أ) على الخريطة إلى جزيرة :
أ- طناب الكبرى ب- طناب الصغرى ج- أبو موسى د- قشم
- 5- يدل الحرف (ب) على الخريطة إلى المدينة التي ولد فيها الشيخ صاحب السمو الشيخ سلطان القاسمي :
أ- الفجيرة ب- أبوظبي ج- العين د- الشارقة

معلم المادة / السيد نصار

تدريب (4) : لاحظ الخريطة التالية ثم أجب عن الأسئلة :



- 1- تطل إمارة مدينة خورفكان شرقاً على :
أ- الخليج العربي ب- خليج عمان ج- بحر العرب د- البحر الأحمر
- 2- أول المدن التي زارها الشيخ الدكتور سلطان بن محمد القاسمي في رحلته إلى إيران :
أ- بندر عباس ب- جالوس ج- لنجة د- بندر بهلوي
- 3- المضيق الذي يصل بين الخليج العربي وخليج عمان :
أ- هرمز ب- جبل طارق ج- باب المنذب د- الدردنيل
- 4- أقرب الجزر الإماراتية المحتلة إلى سواحل دولة الإمارات العربية المتحدة :
أ- طناب الكبرى ب- طناب الصغرى ج- أبو موسى د- قشم
- 5- المسطح المائي الذي يفصل دولة الإمارات العربية المتحدة عن إيران :
أ- بحر قزوين ب- بحر العرب ج- بحر اليابان د- الخليج العربي

معلم المادة / السيد نصار



دائرة التعليم والمعرفة
DEPARTMENT OF EDUCATION
AND KNOWLEDGE

مدرسة الدهماء للتعليم الثانوي

المراجعة النهائية

لمهارات مادة الدراسات الإجتماعية



العام الدراسي (2018 – 2019 م)

معلم المادة / السيد نصار