


ative Education for a Knowledge ,pioneering,and global

رؤيتنا ... تعليم إبتكاري لمجتمع معرفي ريادي عالمي

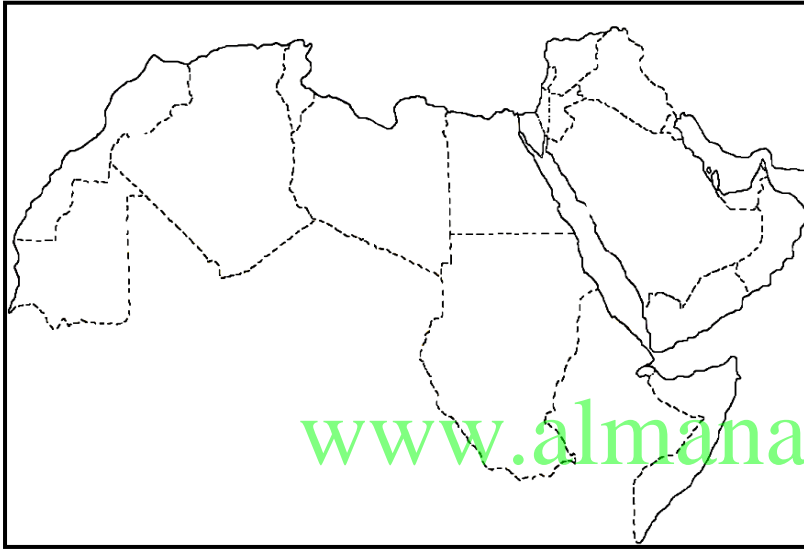


الصف والشعبة : التاسع ( ) اليوم والتاريخ :

اسم الطالبة :

## الموقع الجغرافي للوطن العربي

أولاً: حدد على الخريطة كلا من:



-أكبر دولة في الوطن العربي من حيث المساحة.

بحر يفصل الجناح الاسيوي عن الجناح  
الافريقي-

-مضيق يربط بين البحر المتوسط والمحيط  
الاطلنطي

أصغر دولة في الجناح الاسيوي-

دولة الإمارات-

www.almanahj.com

ثانياً: اجيب عن ما يلي من أسئلة:

- 1- يقع الوطن العربي بين ثلاث قارات هي آسيا و.....و.....
- 2- تكمن أهمية الوطن العربي في انه يتوسط قارات العالم القديم و.....
- 3- يقع الوطن العربي بين دائرتي عرض 37 شمالاً و.....جنوباً وبين خطي طول 60 شرقاً و..... غرباً.
- 4- تبلغ مساحة الوطن العربي ..... مليون كم<sup>2</sup>.
- 5- الجزر الإماراتية المحتلة من قبل إيران هي ظنب الكبرى و.....و.....

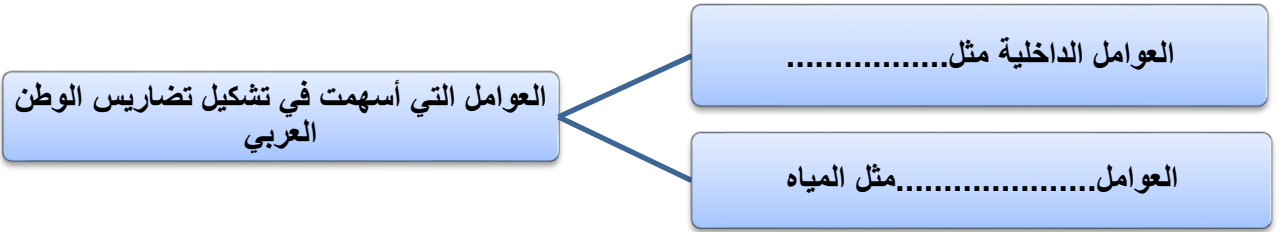
## (التضاريس في الوطن العربي)

أولاً: أصنف الظاهرات الجغرافية الآتية وفق الجدول الآتي:

(الحجاز ،دجله ، ليواء، نجد، الربع الخالي، الشطوط ، النفوذ، بادية الشام ،أطلس ، جوبا)

الواحات	الصحاري	السهول الفيضية	الهضاب	الجبال

ثانياً: استكملي المخطط التالي:



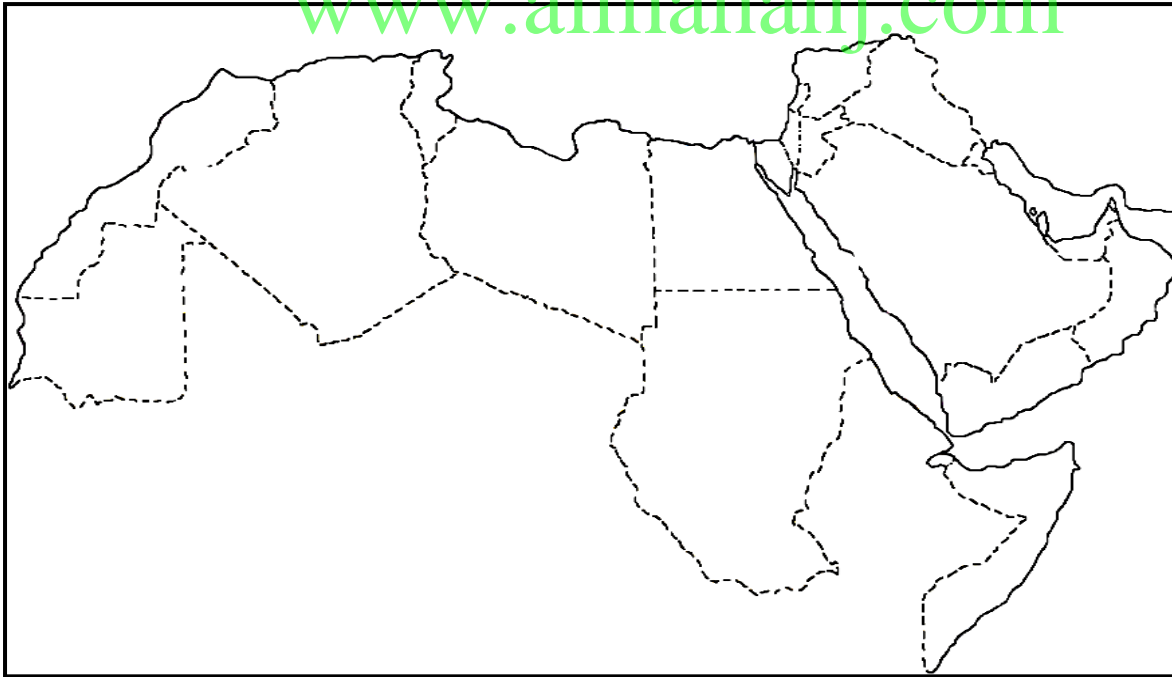
ثالثاً: استكملي الجدول بما يناسب:

الجبال	جبال أطلس	جبال كردستان وزاجروس	جبال البحر الأحمر	جبال عمان
سبب التكوين	إتوائية		انكسارية	
أعلى القمم		هلكرد		الجبل الاخضر

## الأقاليم المناخية في الوطن العربي

اكمل الجدول الآتي الذي يوضح أنواع الأقاليم المناخية في الوطن العربي:

الإقليم المداري	الإقليم الصحراوي الحار	مناخ البحر المتوسط	وجع المقارنخ
			<b>الجهات التي يسود فيها</b>
			<b>المميزات المناخية</b>
			<b>نوع النبات الطبيعي</b>



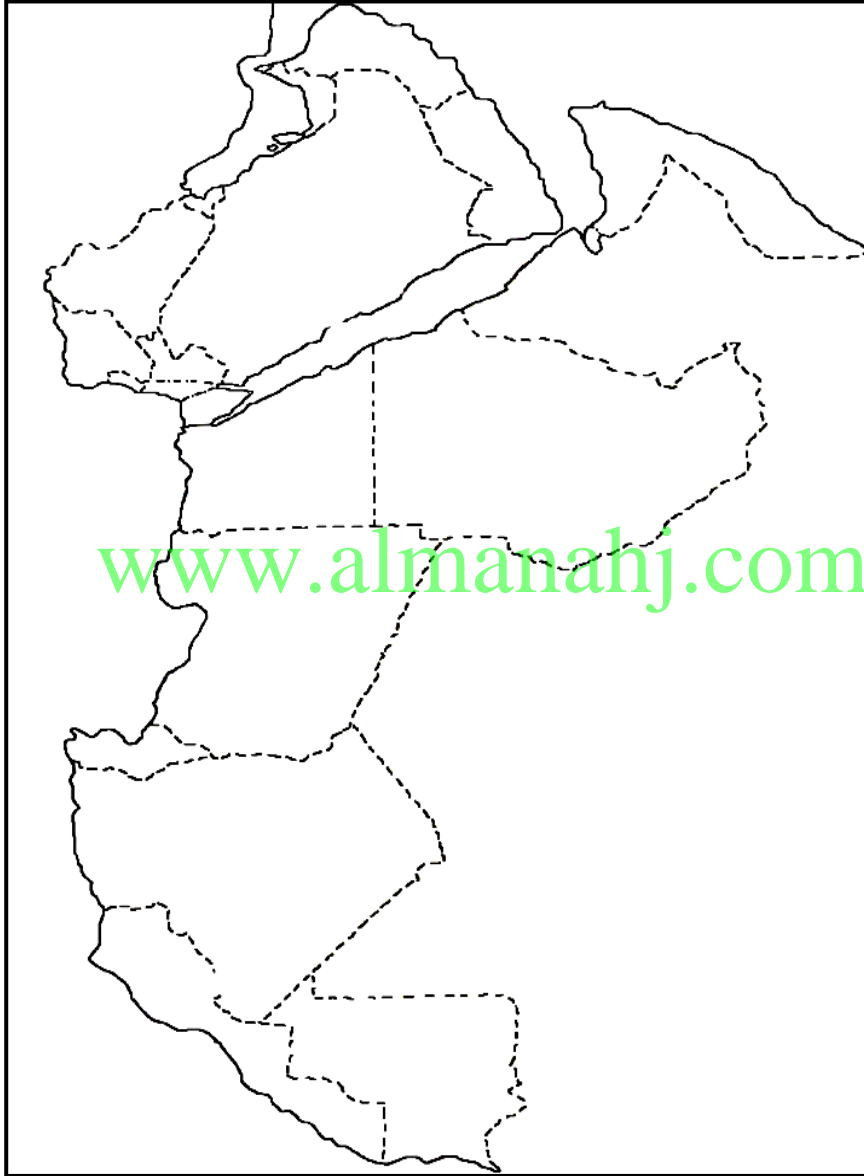
**حددي**  
**على**  
**الخريطة**  
**مواقع**  
**الأقاليم**  
**المناخية**  
**الثلاث:**

من العوامل المؤثرة في مناخ الوطن العربي

..... و..... و.....



## حددي على الخريطة الرياح المحلية في الوطن العربي:



## الدولة العثمانية والوطن العربي

### أولاً: أكمل الجدول بما يناسب:

الموقع	النتيجة	العام	الأطراف المشاركة	المعركة
العراق	الاستيلاء على تبريز وضم العراق للعثمانيين	.....	العثمانيون بقيادة والصفويين.....	معركة جالديران
.....	.....	1516م	العثمانيين و.....	معركة مرج دابق
.....	انتصار سليم الأول على المماليك أسر طومان باي وقتل بعد ذلك.	1517م	العثمانيين بقيادة سليم الأول المماليك (طومان باي)	..... .....

### ثانياً: بم تفسري:

www.almanahj.com

تسمية بايزيد الأول بالصاعقة.

لقب أرطغرل بلقب غازي

### ثالثاً: صوبى الخطأ فيما يلي:

- 1\_ المؤسس الحقيقي للدولة العثمانية هو سليم الأول.....
- 2\_ من أهم الأعمال التي قام بها بايزيد الأول فتح القسطنطينية.....
- 3- عاصرت الدولة العثمانية دولة المماليك وعاصمتها تبريز.....
- 4\_ ينتسب العثمانيون إلى إحدى القبائل المغولية.....

## الاستعمار الأوروبي في الوطن العربي

أولاً: اختر المصطلح المناسب فيما يلي:

القروض المالية	الاحتلال العسكري	الحماية	الغزو الثقافي	الاستيطان
الانتداب	الوصاية	التمييز العنصري	-	-

المصطلح	التعريف
	تشجيع الدول الاستعمارية رعايا على الهجرة للبلاد التي احتلتها
	لجوء الدول الاستعمارية القوية إلى تحقيق أغراضها الاستعمارية باستخدام القوة العسكرية
	تفرض الدول الاستعمارية سيطرتها على الدول بمنحها القروض بفوائد وأرباح كبيره مما يجعلها عاجزة عن السداد ومثقلة بالديون.
	حرمان السكان الأصليين من حقوقهم الاقتصادية والاجتماعية والسياسية والدينية
	أخطر أشكال الاستعمار الجديد ويسهم في إضعاف الشعوب المغلوبة على أمرها في معتقداتها وثقافتها وقيمها.
	احتلال بلد معين وإجبار حكامه على توقيع معاهدات حماية يتم بموجبها وضع الشؤون الخارجية والعسكرية والمالية تحت السيطرة المباشرة.
	تقاسم الدول المنتصرة في الحرب العالمية الأولى ممتلكات الدول المهزومة بحجة الأخذ بيد هذه الشعوب
	تقوم الدولة المستعمرة بإدارة الشعوب التي كانت تقع تحت الانتداب بحجة أن هذه الشعوب لم يصل مستواها إلى أن تدير شؤون نفسها بنفسها.

ثانياً: ميزي الإجابة الصحيحة من الإجابة غير الصحيحة فيما يلي:

- 1-يعرف الاستعمار بأنه السيطرة التي تفرضها دولة قوية على أخرى ضعيفة (.....)
- 2-يعتبر الاحتلال العسكري من أشكال الاستعمار الحديث (.....)

## ورقة عمل أشكال التكتلات الاقتصادية

اكمل الجدول الآتي بما يناسب:

المزايا والبنود	التعريف	وَجَل المقارنات
		المعاهدة التجارية
		المنطقة الحرة
		السوق المشتركة

[www.almanahj.com](http://www.almanahj.com)



### اكمل الجدول الآتي بما يناسب:

النتائج	المقومات	الأهداف	الدول	العاصر	وَجَلَّ المقارنات
					الانفاقية الاقتصادية الموحدة بين دول مجلس التعاون لدول الخليج العربي
					الاتحاد الأوروبي
					منظمة التجارة الدولية [ انفاقية الجات ]

www.almanahj.com





## دستور دولة الإمارات العربية المتحدة

### أولاً: صنف اتجاهات الدستور وفق معطيات الجدول:

رعاية الأمومة والطفولة ، اللغة العربية هي اللغة الرسمية ، احترام الدستور ، عدم التخلي عن أي جزء من أراضي الدولة ، كفالة الحرية الشخصية ، تقدير العمل ، يمارس الاتحاد على أراضي الدولة ، الدفاع عن الاتحاد ، تأييد القضايا العربية والإسلامية .

الواجبات	الحقوق	الاجتماعية والاقتصادية	العربية والإسلامية	الاتجاهات الوطنية

[www.almanahj.com](http://www.almanahj.com)

### ثانياً: ميز العبارة الصحيحة من العبارة غير الصحيحة فيما يلي:

- ١- (.....) يتكون دستور الإمارات من 125
- ٢- (.....) من القضايا الإسلامية التي ساندتها الإمارات قضية أفغانستان.
- ٣- (.....) أصبح دستور الإمارات دائماً في عام 1996
- ٤- (.....) يحتوي دستور الإمارات على عشر أبواب.
- ٥- (.....) نص الدستور على أن الإمارات دولة اتحادية مستقلة ذات سيادة

### ثالثاً: ما المقصود بالدستور:

.....  
.....

## التضامن العربي

### أهمية التضامن العربي:

- ١
- ٢
- ٣

### عوامل التضامن العربي:

- ١
- ٢
- ٣
- ٤
- ٥

### ما المقصود بالتضامن العربي:

مخططات الأعداء لإعاقة العمل العربي المشترك: ١- ..... ٢- .....

[www.almanahj.com](http://www.almanahj.com)

٣

### نماذج من التضامن العربي

				<u>أمثلة للتضامن العربي</u>
				<u>العام</u>

### عاصفة الحزم عام .....

المملكة العربية السعودية بقيادة

دولة الإمارات العربية المتحدة بقيادة

### نتائج حرب أكتوبر 1973

- ١
- ٢
- ٣

### أسباب إطلاق عاصفة الحزم:

- ١
- ٢
- ٣

[www.almanahj.com](http://www.almanahj.com)

دور سياسي وعسكري

الأدوار التي قامت بها دولة الإمارات

دور إنساني

دور تنموي

## التضامن العربي

اكملني:

١-تشكل دولة الإمارات العربية المتحدة والمملكة العربية السعودية أنموذجا للعلاقات الأخوية وأسس دعائمها الشيخ.....والملك.....

٢-وتعززت روابط الأخوة والمصير المشترك في الوقت الراهن بقيادة صاحب السمو..... وأخيه خادم الحرمين الشريفين الملك.....

٣- الروابط المشتركة بين البلدين هي:

١-.....[www.almanahj.com](http://www.almanahj.com)

٣-.....٤-

٥-.....

٤-نماذج من الشراكة الإماراتية – السعودية:

١-.....٢-.....٣-

٥- بما تفسري قيام الشراكة الاقتصادية الإماراتية السعودية.

٦- أبرز الاستثمارات الاقتصادية بين دولة الإمارات والمملكة العربية السعودية:

المملكة العربية السعودية	دولة الإمارات العربية المتحدة





**Vision..** Innovative Education for a Knowledge ,pioneering,and global

**رؤيتنا ...** تعليم إبتكاري لمجتمع معرفي ريادي عالمي

ويهدف التحالف العربي هو.....و.....

١٣- أهداف الشراكة السياسية بين الإمارات والسعودية:

١-.....٢-.....٣-.....

[www.almanahj.com](http://www.almanahj.com)

