

كل ما يحتاجه الطالب في جميع الصفوف من أوراق عمل واختبارات ومذكرات، يجده هنا في الروابط التالية لأفضل مواقع تعليمي إماراتي 100 %

<u>تطبيق المناهج الإماراتية</u>	<u>الاجتماعيات</u>	<u>الرياضيات</u>
<u>الصفحة الرسمية على التلغرام</u>	<u>الاسلامية</u>	<u>العلوم</u>
<u>الصفحة الرسمية على الفيسبوك</u>	<u>الانجليزية</u>	
<u>التربية الاخلاقية لجميع الصفوف</u>	<u>اللغة العربية</u>	
<u>التربية الرياضية</u>		
مجموعات التلغرام.	مجموعات الفيسبوك	قنوات تلغرام
<u>الصف الأول</u>	<u>الصف الأول</u>	<u>الصف الأول</u>
<u>الصف الثاني</u>	<u>الصف الثاني</u>	<u>الصف الثاني</u>
<u>الصف الثالث</u>	<u>الصف الثالث</u>	<u>الصف الثالث</u>
<u>الصف الرابع</u>	<u>الصف الرابع</u>	<u>الصف الرابع</u>
<u>الصف الخامس</u>	<u>الصف الخامس</u>	<u>الصف الخامس</u>
<u>الصف السادس</u>	<u>الصف السادس</u>	<u>الصف السادس</u>
<u>الصف السابع</u>	<u>الصف السابع</u>	<u>الصف السابع</u>
<u>الصف الثامن</u>	<u>الصف الثامن</u>	<u>الصف الثامن</u>
<u>الصف التاسع عام</u>	<u>الصف التاسع عام</u>	<u>الصف التاسع عام</u>
<u>الصف التاسع متقدم</u>	<u>الصف التاسع متقدم</u>	<u>الصف التاسع متقدم</u>
<u>الصف العاشر عام</u>	<u>الصف العاشر عام</u>	<u>الصف العاشر عام</u>
<u>الصف العاشر متقدم</u>	<u>الصف العاشر متقدم</u>	<u>الصف العاشر متقدم</u>
<u>الحادي عشر عام</u>	<u>الحادي عشر عام</u>	<u>الحادي عشر عام</u>
<u>الحادي عشر متقدم</u>	<u>الحادي عشر متقدم</u>	<u>الحادي عشر متقدم</u>
<u>ثاني عشر عام</u>	<u>الثاني عشر عام</u>	<u>الثاني عشر عام</u>
<u>ثاني عشر متقدم</u>	<u>ثاني عشر متقدم</u>	<u>ثاني عشر متقدم</u>

منطقة الظفرة

مدرسة النخبة

100 سؤال

مراجعة في مادة الاجتماعيات
الصف الثامن


الفصل الدراسي الثالث 3

اعداد أ / أيمن أحمد زقزوق





اضغط هنا
قناة ملفات
وطنيه ثامن 8

مراجعة الفصل الدراسي الثالث للصف الثامن في مادة الاجتماعيات اعداد - أيمن زقزوق	ID
<p>الموقع الجغرافي والظروف المناخية لدولة الامارات جعلها تتصف ب</p> <p>A. غنية في النباتات</p> <p>B. فقيرة في النباتات</p> <p>C. متنوعة في النباتات</p>	<p>1</p> 
<p>من أشجار البيئة الساحلية في الامارات</p> <p>A. شجرة السمر</p> <p>B. شجرة الشوع</p> <p>C. شجرة المانجروف</p>	<p>2</p> 
<p>ينمو نبات القرم في</p> <p>A. الحد الفاصل بين البحر واليابسة</p> <p>B. قمم الجبال</p> <p>C. الوديان والسهول المنخفضة</p>	<p>3</p> 
<p>نبات يعتبر نظام بيئي متكامل وقادر علي مقاومة الظروف الصعبة</p> <p>A. نبات عكرش</p> <p>B. نبات نجم</p> <p>C. نبات المانجروف</p>	<p>4</p> 

مراجعة الفصل الدراسي الثالث للصف الثامن في مادة الاجتماعيات اعداد - أيمن زقزوق	ID
<p style="text-align: center;">أشجار القرم في الامارات تسمى بالقرم</p> <p>A. الاحمر</p> <p>B. الاسود</p> <p>C. الرمادي</p>	<p>5</p> 
<p style="text-align: center;">من الفوائد الاقتصادية لنبات القرم</p> <p>A. علف للماشية</p> <p>B. صناعة الادوية</p> <p>C. غذاء للانسان</p>	<p>6</p> 
<p style="text-align: center;">تتم زراعة نبات القرم بطريقتين</p> <p>A. طريقة البذور وطريقة الشتل</p> <p>B. طريقة الغرس وطريقة الشتل</p> <p>C. طريقة الصوب وطريقة التطعيم</p>	<p>7</p> 
<p style="text-align: center;">من مميزات شجرة القرم</p> <p>A. الخضرة الدائمة</p> <p>B. تساقط الأوراق مع شدة الحرارة</p> <p>C. تنمو في المرتفعات الجبلية</p>	<p>8</p> 

مراجعة الفصل الدراسي الثالث للصف الثامن في مادة الاجتماعيات اعداد - أيمن زقزوق	ID
<p style="text-align: center;">من الفوائد البيئية لشجرة القرم</p> <p>A. حاضنة للأسماك والروبيان</p> <p>B. وقف زحف الرمال</p> <p>C. توفير الظل</p>	<p>9</p> 
<p style="text-align: center;">نبات معمر سيقانه متفرعة بغزارة وأوراقه بيضويه الشكل</p> <p>A. نبات الهرم</p> <p>B. نبات نجم</p> <p>C. نبات عكرش</p>	<p>10</p> 
<p style="text-align: center;">نبات سيقانه كثيفة ويوجد في السبخات ويتحمل الملوحة</p> <p>A. نبات القرم</p> <p>B. نبات نجم</p> <p>C. نبات الشيح</p>	<p>11</p> 
<p style="text-align: center;">نبات ينمو في الأرض الملحية وغذاء للإنسان</p> <p>A. نبات عكرش</p> <p>B. نبات نجم</p> <p>C. نبات الحميض</p>	<p>12</p> 

مراجعة الفصل الدراسي الثالث للصف الثامن في مادة الاجتماعيات اعداد - أيمن زقزوق	ID
<p style="text-align: center;">تنمو النباتات الجبلية في مناطق</p> <p>A. ليوا والسلع</p> <p>B. ابوظبي ودلما</p> <p>C. دبا وشعم</p>	<p>13</p> 
<p style="text-align: center;">من فوائد النباتات الجبلية</p> <p>A. صناعة الادوية</p> <p>B. صناعة الزيوت الغذائية</p> <p>C. صناعة السكر</p>	<p>14</p> 
<p style="text-align: center;">اصدر أمرا بمنع قطع شجرة السمر عند التوسع العمراني</p> <p>A. الشيخ زايد رحمه الله</p> <p>B. الشيخ خليفة</p> <p>C. الشيخ محمد بن زايد</p>	<p>15</p> 
<p style="text-align: center;">الشجرة التي لها مكانة كبيرة في نفوس أهل الامارات</p> <p>A. شجرة الأراك</p> <p>B. شجرة المانجروف</p> <p>C. شجرة السمر</p>	<p>16</p> 

مراجعة الفصل الدراسي الثالث للصف الثامن في مادة الاجتماعيات اعداد - أيمن زقزوق	ID
<p style="text-align: center;">تسمي شجرة السمر بشجرة</p> <p>A. الرضوان</p> <p>B. الرحمة</p> <p>C. الفتح</p>	<p>17</p> 
<p style="text-align: center;">الشجرة التي بايع تحتها سيدنا محمد صلي الله عليه وسلم الصحابة في صلح الحديبية هي شجرة</p> <p>A. السمر</p> <p>B. الغاف</p> <p>C. السدر</p>	<p>18</p> 
<p style="text-align: center;">من مميزات شجرة السمر</p> <p>A. تحد من زحف الرمال وسرعة الرياح</p> <p>B. مجتمع أحيائي متكامل</p> <p>C. تقاوم الملوحة</p>	<p>19</p> 
<p style="text-align: center;">شجرة أوصي باستخدامها في التجميل لقدرتها علي تحمل البيئة القاسية</p> <p>A. شجرة الشوع</p> <p>B. شجرة الغاف</p> <p>C. شجرة الاراك</p>	<p>20</p> 

مراجعة الفصل الدراسي الثالث للصف الثامن في مادة الاجتماعيات اعداد - أيمن زقزوق	ID
<p style="text-align: center;">نبات استخدم في صناعة اسقف المنازل وعلاج الجروح</p> <p>A. نبات عكرش</p> <p>B. نبات نجم</p> <p>C. نبات السبج</p>	<p>21</p> 
<p style="text-align: center;">من الإجراءات التي اتخذتها الامارات للحفاظ علي بيئة النباتات الطبيعية</p> <p>A. تنظيم أسبوع التشجير</p> <p>B. استخدام الاسمدة</p> <p>C. التوسع في الصيد</p>	<p>22</p> 
<p style="text-align: center;">تقع قارة أمريكا الاتينية في نصف الكرة</p> <p>A. الشمالي</p> <p>B. الشرقي</p> <p>C. الغربي</p>	<p>23</p> 
<p style="text-align: center;">عدد دوائر العرض في قارة أمريكا الاتينية</p> <p>A. 77 دائرة عرضية</p> <p>B. 88 دائرة عرضية</p> <p>C. 99 دائرة عرضية</p>	<p>24</p> 

مراجعة الفصل الدراسي الثالث للصف الثامن في مادة الاجتماعيات اعداد - أيمن زقزوق	ID
<p data-bbox="427 210 1262 255">دائرة العرض الرئيسية المارة في جنوب قارة أمريكا الجنوبية</p> <p data-bbox="523 286 1251 331">.A مدار السرطان</p> <p data-bbox="523 394 1251 439">.B مدار الجدي</p> <p data-bbox="523 501 1251 546">.C خط الاستواء</p>	<p data-bbox="1305 210 1342 241">25</p> 
<p data-bbox="699 658 1262 703">تطل قارة أمريكا الجنوبية من الغرب علي</p> <p data-bbox="523 734 1251 779">.A المحيط الأطلنطي</p> <p data-bbox="523 842 1251 887">.B البحر الكاريبي</p> <p data-bbox="523 949 1251 994">.C المحيط الهادي</p>	<p data-bbox="1305 658 1342 689">26</p> 
<p data-bbox="603 1050 1262 1095">يقع المناخ الاستوائي في قارة أمريكا الاتينية في</p> <p data-bbox="523 1126 1251 1171">.A حوض الامازون</p> <p data-bbox="523 1234 1251 1279">.B هضبة بتاجونيا</p> <p data-bbox="523 1341 1251 1386">.C شمال المكسيك</p>	<p data-bbox="1305 1050 1342 1081">27</p> 
<p data-bbox="443 1442 1262 1487">تسمى السلسلة الجبلية الواقعة في غرب قارة أمريكا الاتينية</p> <p data-bbox="555 1518 1251 1563">.A جبال الروكي</p> <p data-bbox="571 1671 1251 1715">.B جبال الانديز</p> <p data-bbox="587 1823 1251 1868">.C جبال الألب</p>	<p data-bbox="1305 1442 1342 1473">28</p> 

مراجعة الفصل الدراسي الثالث للصف الثامن في مادة الاجتماعيات اعداد - أيمن زقزوق	ID
<p style="text-align: center;">ينتوع المناخ في قارة أمريكا اللاتينية بسبب</p> <p>A. اتساع المساحة</p> <p>B. ضيق المساحة</p> <p>C. ضيق اليابس في جنوب القارة</p>	<p>29</p> 
<p style="text-align: center;">ينتشر الإقليم شبه الصحراوي في</p> <p>A. هضبة جيانا</p> <p>B. هضبة بتاجونيا</p> <p>C. هضبة المكسيك</p>	<p>30</p> 
<p style="text-align: center;">يوجد إقليم البحر المتوسط في قارة أمريكا اللاتينية في</p> <p>A. شمال الأرجنتين</p> <p>B. وسط شيلي</p> <p>C. جنوب البرازيل</p>	<p>31</p> 
<p style="text-align: center;">الرياح التي تلعب دورا كبيرا في مناخ قارة أمريكا اللاتينية</p> <p>A. الرياح التجارية</p> <p>B. الرياح الموسمية</p> <p>C. الرياح الغربية العكسية</p>	<p>32</p> 





مراجعة الفصل الدراسي الثالث للصف الثامن في مادة الاجتماعيات اعداد - أيمن زقزوق	ID
<p style="text-align: center;">من الأنهار التي تجري في قارة أمريكا اللاتينية</p> <p>A. نهر باراجواي</p> <p>B. نهر المسيسيبي</p> <p>C. نهر السند</p>	<p>33</p> 
<p style="text-align: center;">النهر الذي يفصل بين الولايات المتحدة والمكسيك نهر</p> <p>A. الامازون</p> <p>B. ريوجراندي</p> <p>C. المسيسيبي</p>	<p>34</p> 
<p style="text-align: center;">السهول الغربية اقل اتساعا من السهول الشرقية في قارة أمريكا اللاتينية بسبب</p> <p>A. غزارة الامطار</p> <p>B. التيارات البحرية</p> <p>C. وجود الجبال</p>	<p>35</p> 
<p style="text-align: center;">الدولتان اللتان احتلتا قارة أمريكا اللاتينية هما</p> <p>A. أسبانيا والبرتغال</p> <p>B. إنجلترا وفرنسا</p> <p>C. ألمانيا وإيطاليا</p>	<p>36</p> 

مراجعة الفصل الدراسي الثالث للصف الثامن في مادة الاجتماعيات اعداد - أيمن زقزوق	ID
<p style="text-align: center;">معظم سكان قارة أمريكا اللاتينية يتحدثوا اللغتين</p> <p>A. الإنجليزية والفرنسية</p> <p>B. الألمانية والروسية</p> <p>C. الاسبانية والبرتغالية</p>	<p>37</p>
<p style="text-align: center;">يمثل سكان قارة أمريكا اللاتينية نحو</p> <p>A. 6 % من سكان العالم</p> <p>B. 7 % من سكان العالم</p> <p>C. 8 % من سكان العالم</p>	<p>38</p>
<p style="text-align: center;">هاجروا الي قارة أمريكا اللاتينية واستعمروها</p> <p>A. الزنوج</p> <p>B. الهنود الحمر</p> <p>C. البيض</p>	<p>39</p>
<p style="text-align: center;">من العوامل المؤثرة في مناخ قارة أمريكا اللاتينية</p> <p>A. النشاط السكاني</p> <p>B. التيارات البحرية</p> <p>C. اتساع مساحة المراعي</p>	<p>40</p>

مراجعة الفصل الدراسي الثالث للصف الثامن في مادة الاجتماعيات اعداد - أيمن زقزوق	ID
<p data-bbox="523 208 1252 257" style="text-align: center;">تتصف السهول الساحلية في قارة أمريكا اللاتينية بأنها</p> <p data-bbox="523 338 1252 387">.A قليلة التعاريج</p> <p data-bbox="523 443 1252 492">.B كثيرة التعارية</p> <p data-bbox="523 548 1252 598">.C كثرة الخلجان والاقوار</p>	<p data-bbox="1305 208 1337 235">41</p> 
<p data-bbox="630 665 1252 714" style="text-align: center;">تتصف المرتفعات في قارة أمريكا اللاتينية بأنها</p> <p data-bbox="523 734 1252 784">.A تصل بين الدول</p> <p data-bbox="523 840 1252 889">.B معتدلة المناخ</p> <p data-bbox="523 945 1252 994">.C خالية من النشاط الاقتصادي</p>	<p data-bbox="1305 665 1337 692">42</p> 
<p data-bbox="638 1059 1252 1108" style="text-align: center;">الغابات المنتشرة في البرازيل من نوع الغابات</p> <p data-bbox="547 1128 1252 1178">.A الاستوائية</p> <p data-bbox="523 1234 1252 1283">.B المعتدلة</p> <p data-bbox="523 1339 1252 1388">.C الباردة</p>	<p data-bbox="1305 1059 1337 1086">43</p> 
<p data-bbox="438 1453 1252 1503" style="text-align: center;">الحشائش المدارية في قارة أمريكا اللاتينية تتمثل في حشائش</p> <p data-bbox="547 1523 1252 1572">.A الاستبس</p> <p data-bbox="571 1673 1252 1722">.B التندرا</p> <p data-bbox="579 1823 1252 1872">.C الانوس</p>	<p data-bbox="1305 1453 1337 1480">44</p> 

مراجعة الفصل الدراسي الثالث للصف الثامن في مادة الاجتماعيات اعداد - أيمن زقزوق	ID
<p data-bbox="459 210 1262 259">من شجيرات البحر المتوسط في قارة أمريكا اللاتينية أشجار</p> <p data-bbox="523 286 1251 331">.A الأبنوس</p> <p data-bbox="523 394 1251 439">.B الماهوجني</p> <p data-bbox="523 501 1251 546">.C البلوط</p>	<p data-bbox="1305 215 1347 237">45</p> 
<p data-bbox="464 658 1262 707">من أسباب تواضع استغلال المعادن في قارة أمريكا اللاتينية</p> <p data-bbox="523 730 1251 775">.A كثرة المسوح الجيولوجية</p> <p data-bbox="523 837 1251 882">.B توافر رؤوس الأموال</p> <p data-bbox="523 945 1251 990">.C نهب معظم الثروات من قبل الدول الاستعمارية</p>	<p data-bbox="1305 663 1347 685">46</p> 
<p data-bbox="943 1005 1262 1055">ينتج خام البوكسيت من</p> <p data-bbox="523 1077 1251 1122">.A المكسيك</p> <p data-bbox="523 1184 1251 1229">.B كوبا</p> <p data-bbox="523 1292 1251 1337">.C سورينام</p>	<p data-bbox="1305 1010 1347 1032">47</p> 
<p data-bbox="512 1352 1262 1402">يمثل إنتاج المساقط المانية في قارة أمريكا اللاتينية نحو</p> <p data-bbox="443 1424 1251 1469">.A 5 % من الإنتاج العالمي</p> <p data-bbox="416 1581 1251 1626">.B نحو 6 % من الإنتاج العالمي</p> <p data-bbox="443 1738 1251 1783">.C نحو 7 % من الإنتاج العالمي</p>	<p data-bbox="1305 1357 1347 1379">48</p> 





مراجعة الفصل الدراسي الثالث للصف الثامن في مادة الاجتماعيات اعداد - أيمن زقزوق	ID
<p style="text-align: center;">الطاقة الكهربائية هي الطاقة المولدة من</p> <p>A. الفحم والنفط</p> <p>B. الرياح</p> <p>C. الماء</p>	<p>49</p> 
<p style="text-align: center;">تنتج الطاقة النووية في قارة أمريكا اللاتينية من</p> <p>A. تشيلي</p> <p>B. السلفادور</p> <p>C. الأرجنتين</p>	<p>50</p> 
<p style="text-align: center;">يعمل بالزراعة في قارة أمريكا اللاتينية نحو</p> <p>A. 30 % من الأيدي العاملة</p> <p>B. 40 % من الأيدي العاملة</p> <p>C. 50 % من الأيدي العاملة</p>	<p>51</p> 
<p style="text-align: center;">من المحاصيل النقدية في قارة أمريكا اللاتينية</p> <p>A. القمح</p> <p>B. البن</p> <p>C. الحمضيات</p>	<p>52</p> 

مراجعة الفصل الدراسي الثالث للصف الثامن في مادة الاجتماعيات اعداد - أيمن زقزوق	ID
<p data-bbox="331 210 1262 259">من الصفات التي تتصف بها الثروة الحيوانية في قارة أمريكا اللاتينية</p> <p data-bbox="536 282 1038 331">.A. عدم استخدام التقنيات العلمية الحديثة</p> <p data-bbox="528 394 727 443">.B. ضخامة الانتاج</p> <p data-bbox="536 506 1023 555">.C. تشكل أهمية كبرى لمعظم دول القارة</p>	<p data-bbox="1305 215 1337 237">53</p> 
<p data-bbox="368 658 1262 707">يبلغ نسبة العاملين في قطاع الصناعة في قارة أمريكا اللاتينية نحو</p> <p data-bbox="536 819 983 869">.A. 23 % من اجمالي القوى العاملة</p> <p data-bbox="536 931 983 981">.B. 24 % من اجمالي القوى العاملة</p> <p data-bbox="536 1043 983 1093">.C. 25 % من اجمالي القوى العاملة</p>	<p data-bbox="1305 663 1337 685">54</p> 
<p data-bbox="552 1151 1262 1200">من مميزات النشاط الصناعي في قارة أمريكا اللاتينية</p> <p data-bbox="528 1223 927 1272">.A. وفرة الأيدي العاملة الرخيصة</p> <p data-bbox="528 1335 767 1384">.B. قلة مصادر الطاقة</p> <p data-bbox="528 1447 959 1496">.C. قلة الاستثمار في مجال الصناعة</p>	<p data-bbox="1305 1155 1337 1178">55</p> 
<p data-bbox="568 1547 1262 1597">من الصناعات الاستخراجية في قارة أمريكا اللاتينية</p> <p data-bbox="584 1619 1222 1668">.A. انتاج الكهرباء</p> <p data-bbox="584 1776 1222 1825">.B. الحديد والصلب</p> <p data-bbox="584 1933 1222 1982">.C. النفط والغاز</p>	<p data-bbox="1305 1552 1337 1574">56</p> 





مراجعة الفصل الدراسي الثالث للصف الثامن في مادة الاجتماعيات اعداد - أيمن زقزوق	ID
<p style="text-align: center;">أكبر دول أمريكا اللاتينية من حيث المساحة وعدد السكان</p> <p>A. البرازيل</p> <p>B. الأرجنتين</p> <p>C. المكسيك</p>	<p>57</p> 
<p style="text-align: center;">الهدف من تعزيز العلاقات الإماراتية البرازيلية</p> <p>A. ضمان رعاية المواطنين في الخارج</p> <p>B. ضمان تدفق الاستثمارات البرازيلية</p> <p>C. ضمان استمرارية استيراد الدجاج من البرازيل</p>	<p>58</p> 
<p style="text-align: center;">الهدف من مشروع الامارات للمريخ</p> <p>A. استثمار حقيقي لأجيالنا في المستقبل</p> <p>B. التوسع والاستيطان</p> <p>C. إقامة مشروعات تنموية</p>	<p>59</p> 
<p style="text-align: center;">من الاتفاقيات الموقعة بين الامارات والبرازيل</p> <p>A. اتفاقية التعاون الرياضي</p> <p>B. اتفاقية التعاون العسكري</p> <p>C. اتفاقية التعاون في المجالات الاجتماعية</p>	<p>60</p> 

مراجعة الفصل الدراسي الثالث للصف الثامن في مادة الاجتماعيات اعداد - أيمن زقزوق	ID
<p style="text-align: center;">القناة التي تصل بين البحر الكاريبي والمحيط الهادي هي قناة</p> <p>A. السويس</p> <p>B. استاكبوس</p> <p>C. بنما</p>	<p>61</p> 
<p style="text-align: center;">دائرة العرض الرئيسية التي تمر في دولة الامارات</p> <p>A. مدار السرطان</p> <p>B. خط الاستواء</p> <p>C. مدار الجدي</p>	<p>62</p> 
<p style="text-align: center;">الدولة هي</p> <p>A. مساحة من الأرض تسمح بالانتاج الغذائي</p> <p>B. مساحة من الأرض بها موانع طبيعية</p> <p>C. مجموعة من الأفراد تعيش على مساحة محددة وتخضع لسلطة حاكمة</p>	<p>63</p> 
<p style="text-align: center;">من مقومات قيام الدولة</p> <p>A. الجبال</p> <p>B. الانهار</p> <p>C. السلطة السياسية</p>	<p>64</p> 

مراجعة الفصل الدراسي الثالث للصف الثامن في مادة الاجتماعيات اعداد - أيمن زقزوق	ID
<p style="text-align: center;">من أوجه الاختلافات بين الدول</p> <p>A. الموقع والمساحة</p> <p>B. نوع الغذاء</p> <p>C. حب السفر والرحلات</p>	<p>65</p> 
<p style="text-align: center;">من العوامل الطبيعية لقيام الدول</p> <p>A. الموارد الاقتصادية</p> <p>B. السكان</p> <p>C. الموقع الجغرافي</p>	<p>66</p> 
<p style="text-align: center;">الدولة البسيطة تتمثل في</p> <p>A. استراليا</p> <p>B. الولايات المتحدة</p> <p>C. الجزائر</p>	<p>67</p> 
<p style="text-align: center;">الحدود السياسية هي</p> <p>A. خطوط ترسم على الخرائط لتحديد المناخ والنبات</p> <p>B. خطوط ترسم على الخرائط لتحديد طبيعة النشاط السكاني</p> <p>C. خطوط ترسم على الخرائط لتحديد نطاق سيادة الدولة</p>	<p>68</p> 

مراجعة الفصل الدراسي الثالث للصف الثامن في مادة الاجتماعيات اعداد - أيمن زقزوق	ID
<p style="text-align: center;">من وظائف الحدود السياسية</p> <p>A. التواصل بين الشعوب</p> <p>B. إقامة مناطق سياحية</p> <p>C. حماية الدولة من الأمراض والأوبئة</p>	<p>69</p> 
<p style="text-align: center;">من الحدود التي تساير الظواهر الطبيعية</p> <p>A. الحدود بين الامارات والسعودية</p> <p>B. الحدود التي تستند للتكوين اللغوي</p> <p>C. الحدود التي تستند للجبال بين الدول الاسكندنافية</p>	<p>70</p> 
<p style="text-align: center;">المياه الإقليمية هي</p> <p>A. التي تحاذي سواحل الدولة</p> <p>B. التي تبعد عن سواحل الدولة داخل البحار</p> <p>C. التي تسير فيها السفن بحرية دون إذن مسبق</p>	<p>71</p> 
<p style="text-align: center;">عرض المياه الإقليمية</p> <p>A. 3 م فأكثر</p> <p>B. 3 كم فأكثر</p> <p>C. 3ميل بحري فأكثر</p>	<p>72</p> 

مراجعة الفصل الدراسي الثالث للصف الثامن في مادة الاجتماعيات اعداد - أيمن زقزوق	ID
<p style="text-align: right;">الدولة المفتوحة</p> <p>A. التي لا تطل على شواطئ البحار والمحيطات</p> <p>B. التي توجد بها جبال وأنهار</p> <p>C. الدولة التي تطل على شواطئ البحار والمحيطات</p>	<p>73</p> 
<p style="text-align: right;">صنف دولة الامارات حسب التالي</p> <p>A. دولة الامارات دولة حبيسة</p> <p>B. دولة الامارات دولة برية</p> <p>C. دولة الامارات دولة بحرية</p>	<p>74</p> 
<p style="text-align: right;">من خصائص الدولة المركبة من النوع الثاني</p> <p>A. اتحاد بين دولتين بالقوة العسكرية</p> <p>B. اتحاد بين دولتين لتأمين المصالح المشتركة</p> <p>C. اتحاد بين دولتين بسبب الاختلاف اللغوي</p>	<p>75</p> 
<p style="text-align: right;">الهرطقة هي</p> <p>A. المنطق والأدلة العقلية المسلم بها</p> <p>B. البدع أو الخروج على تعاليم الكنيسة</p> <p>C. الاعتدال وعدم المغالاة في الفكر</p>	<p>76</p> 

مراجعة الفصل الدراسي الثالث للصف الثامن في مادة الاجتماعيات اعداد - أيمن زقزوق	ID
<p data-bbox="868 210 1262 255" style="text-align: right;">تعني كلمة النهضة الأوروبية</p> <p data-bbox="536 282 783 327">.A التنمية الاقتصادية</p> <p data-bbox="528 394 879 439">.B الحفاظ على الدين والتراث</p> <p data-bbox="539 506 759 551">.C البعث أو الاحياء</p>	<p data-bbox="1305 210 1337 255">77</p> 
<p data-bbox="1070 658 1262 703" style="text-align: right;">عصر النهضة</p> <p data-bbox="528 730 1126 775">.A فترة العصور الأولى بعد ميلاد السيد المسيح</p> <p data-bbox="528 842 1054 931">.B فترة الانتقال من العصر الحجري لعصر استخدام البرونز</p> <p data-bbox="528 999 1094 1088">.C المرحلة مابين العصور الوسطى والعصور الحديثة</p>	<p data-bbox="1305 658 1337 703">78</p> 
<p data-bbox="679 1151 1262 1196" style="text-align: right;">أول دولة أوروبية ظهرت فيها النهضة هي</p> <p data-bbox="528 1223 632 1267">.A إنجلترا</p> <p data-bbox="528 1335 608 1379">.B فرنسا</p> <p data-bbox="528 1447 616 1491">.C ايطاليا</p>	<p data-bbox="1305 1151 1337 1196">79</p> 
<p data-bbox="647 1543 1262 1588" style="text-align: right;">ظهرت النهضة الأوروبية في منتصف القرن</p> <p data-bbox="584 1626 1222 1671">.A 13</p> <p data-bbox="584 1783 1222 1827">.B 14</p> <p data-bbox="600 1939 1222 1984">.C 15</p>	<p data-bbox="1305 1543 1337 1588">80</p> 

مراجعة الفصل الدراسي الثالث للصف الثامن في مادة الاجتماعيات اعداد - أيمن زقزوق	ID
<p style="text-align: center;">أسباب قيام النهضة الأوروبية</p> <p>A. قوة سلطة الكنيسة</p> <p>B. اكتشاف طريق رأس الرجاء الصالح</p> <p>C. ظهور المدن في مواجهة الاقطاع</p>	<p>81</p>
<p style="text-align: center;">الانسانيون هم</p> <p>A. الذين اهتموا بالعلوم المجردة والبحث العلمي</p> <p>B. الذين اهتموا بدراسة حياة الانسان في كافة المجالات</p> <p>C. الذين حاولوا البعد عن الدراسات الإنسانية</p>	<p>82</p>
<p style="text-align: center;">فتحت القسطنطينية على يد السلطان</p> <p>A. محمد الفاتح</p> <p>B. سليمان القانوني</p> <p>C. مراد الثاني</p>	<p>83</p>
<p style="text-align: center;">نتج عن فتح القسطنطينية</p> <p>A. توافد العلماء عليها</p> <p>B. هجرة العلماء منها</p> <p>C. انتشار اللغة العربية</p>	<p>84</p>

مراجعة الفصل الدراسي الثالث للصف الثامن في مادة الاجتماعيات اعداد - أيمن زقزوق	ID
<p style="text-align: center;">من عوامل قيام النهضة الإيطالية</p> <p>A. وجود البابوية في روما</p> <p>B. انتشار القوانين والانظمة</p> <p>C. اتساع مساحة الأراضي الزراعية</p>	<p>85</p> 
<p style="text-align: center;">نشأت المدن في أوروبا نتيجة</p> <p>A. ازدهار القوانين</p> <p>B. زيادة السكان</p> <p>C. نمو التجارة والصناعة</p>	<p>86</p> 
<p style="text-align: center;">من الاختراعات التي ظهرت مع بداية عصر النهضة</p> <p>A. البارود</p> <p>B. الحاسوب</p> <p>C. آلة الاحتراق الداخلي</p>	<p>87</p> 
<p style="text-align: center;">تطل قارة أوروبا من الغرب على</p> <p>A. البحر المتوسط</p> <p>B. المحيط الأطلنطي</p> <p>C. البحر الأسود</p>	<p>88</p> 

مراجعة الفصل الدراسي الثالث للصف الثامن في مادة الاجتماعيات اعداد - أيمن زقزوق	ID
<p style="text-align: center;">تقترب قارة أوروبا من قارة أفريقيا عند مضيق</p> <p>A. باب المندب</p> <p>B. ماجلان</p> <p>C. جبل طارق</p>	<p>89</p> 
<p style="text-align: center;">تعني كلمة أوروبا</p> <p>A. شروق الشمس</p> <p>B. غروب الشمس</p> <p>C. منتصف النهار</p>	<p>90</p> 
<p style="text-align: center;">الف كتاب الكوميديا الالهية</p> <p>A. دانتي اليجيرى</p> <p>B. جون كالفن</p> <p>C. ليوناردو دافينشي</p>	<p>91</p> 
<p style="text-align: center;">الف كتاب مدح الجنون ونشر النسخة الاغريقية من الانجيل</p> <p>A. مايكل أنجلو</p> <p>B. مكيافيلي</p> <p>C. أرسموس الروتردامي</p>	<p>92</p> 

مراجعة الفصل الدراسي الثالث للصف الثامن في مادة الاجتماعيات اعداد - أيمن زقزوق	ID
<p style="text-align: center;">قام برسم لوحة العشاء الأخير</p> <p>A. أرسموس الروترdami</p> <p>B. مكيافيلي</p> <p>C. ليوناردو دافينش</p>	<p>93</p> 
<p style="text-align: center;">قام بإنجاز لوحة من الجص في كنيسة القديس بول</p> <p>A. ميكافيلي</p> <p>B. مايكل أنجلو</p> <p>C. دانتي أليجيري</p>	<p>94</p> 
<p style="text-align: center;">ألف كتاب الأمير</p> <p>A. مايكل أنجلو</p> <p>B. دانتي</p> <p>C. ميكافيلي</p>	<p>95</p> 
<p style="text-align: center;">من رواد المجال الديني</p> <p>A. دانتي</p> <p>B. مايكل أنجلو</p> <p>C. جون كالفن</p>	<p>96</p> 

مراجعة الفصل الدراسي الثالث للصف الثامن في مادة الاجتماعيات اعداد - أيمن زقزوق	ID
<p style="text-align: center;">الف كتاب تأسيس الديانة المسيحية</p> <p>A. كوبرنيكوس</p> <p>B. جون كالفن</p> <p>C. مكيافيلي</p>	<p>97</p> 
<p style="text-align: center;">من رواد المجال العلمي</p> <p>A. كوبرنيكوس</p> <p>B. جون كالفن</p> <p>C. ليوناردو دافنشي</p>	<p>98</p> 
<p style="text-align: center;">عالم بولندي خالف آراء بطليموس بأن الأرض ساكنة</p> <p style="text-align: center;">C B A</p> <div style="display: flex; justify-content: space-around; align-items: center;"> <div style="border: 1px solid blue; padding: 5px; text-align: center;">  </div> <div style="border: 1px solid blue; padding: 5px; text-align: center;">  </div> <div style="border: 1px solid blue; padding: 5px; text-align: center;">  </div> </div>	<p>99</p> 
<p style="text-align: center;">الصورة التالية تعبر عن</p> <div style="display: flex; align-items: center;">  <div style="margin-left: 20px;"> <p>A. متحف اللوفر أبوظبي</p> <p>B. مكتبة الاسكندرية</p> <p>C. مسجد الشيخ زايد</p> </div> </div>	<p>100</p> 