

تم تحميل هذا الملف من موقع المناهج الإماراتية



\* للحصول على أوراق عمل لجميع الصفوف وجميع المواد اضغط هنا

<https://almanahj.com/ae>

\* للحصول على أوراق عمل لجميع مواد الصف الثامن اضغط هنا

<https://almanahj.com/ae/8>

\* للحصول على جميع أوراق الصف الثامن في مادة رياضيات وجميع الفصول, اضغط هنا

<https://almanahj.com/ae/8math>

\* للحصول على أوراق عمل لجميع مواد الصف الثامن في مادة رياضيات الخاصة بـ الفصل الثالث اضغط هنا

<https://almanahj.com/ae/8math3>

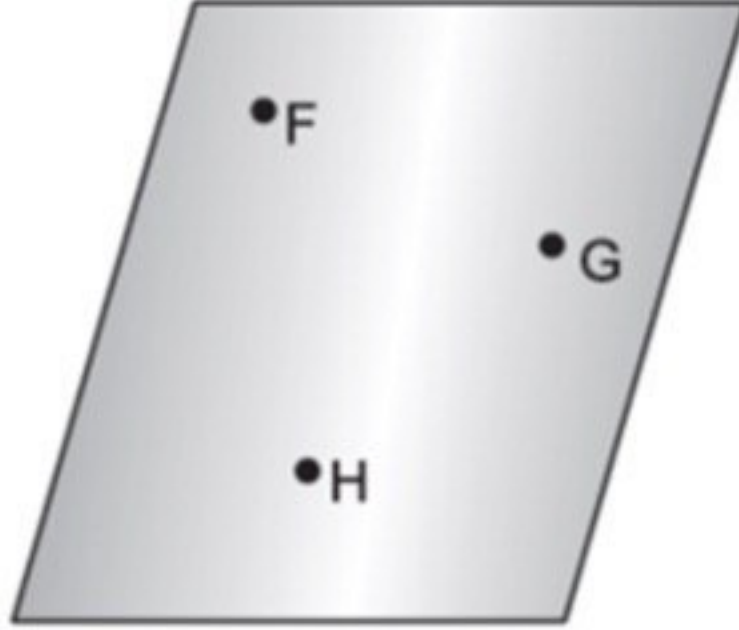
\* لتحميل كتب جميع المواد في جميع الفصول للـ الصف الثامن اضغط هنا

<https://almanahj.com/ae/grade8>

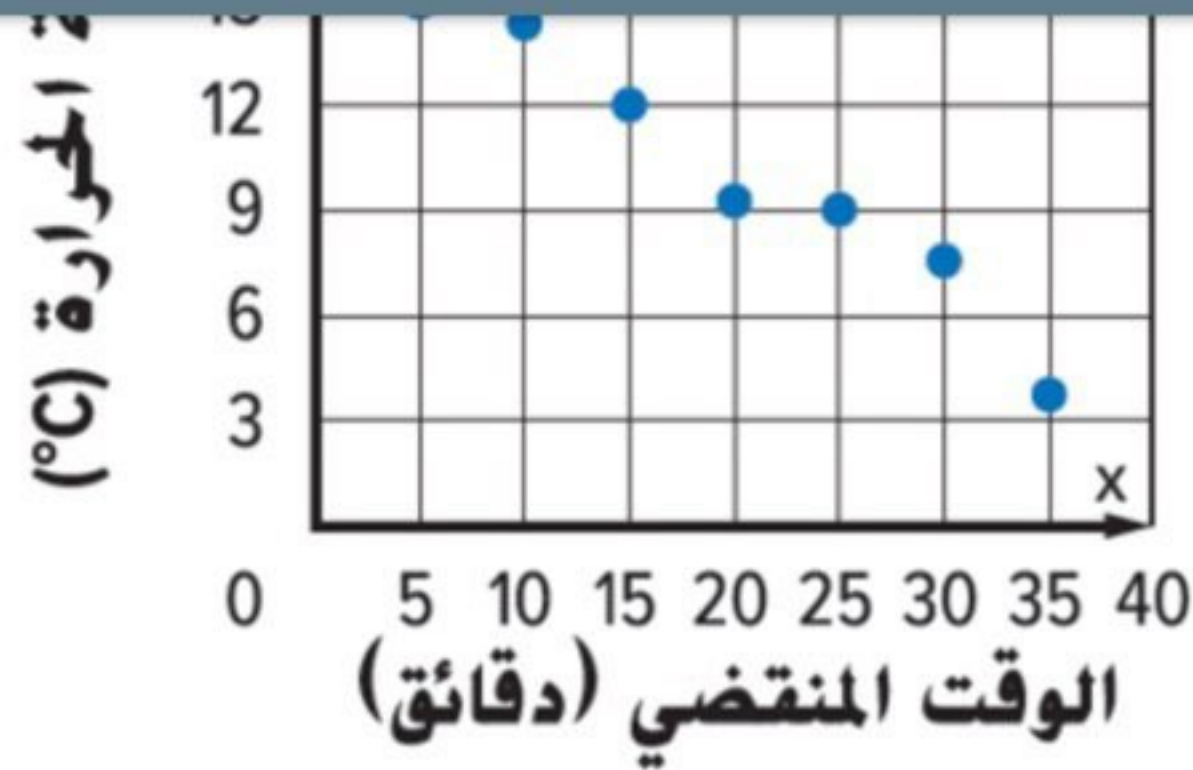
للتحدث إلى بوت المناهج على تلغرام: اضغط هنا

[https://t.me/almanahj\\_bot](https://t.me/almanahj_bot)

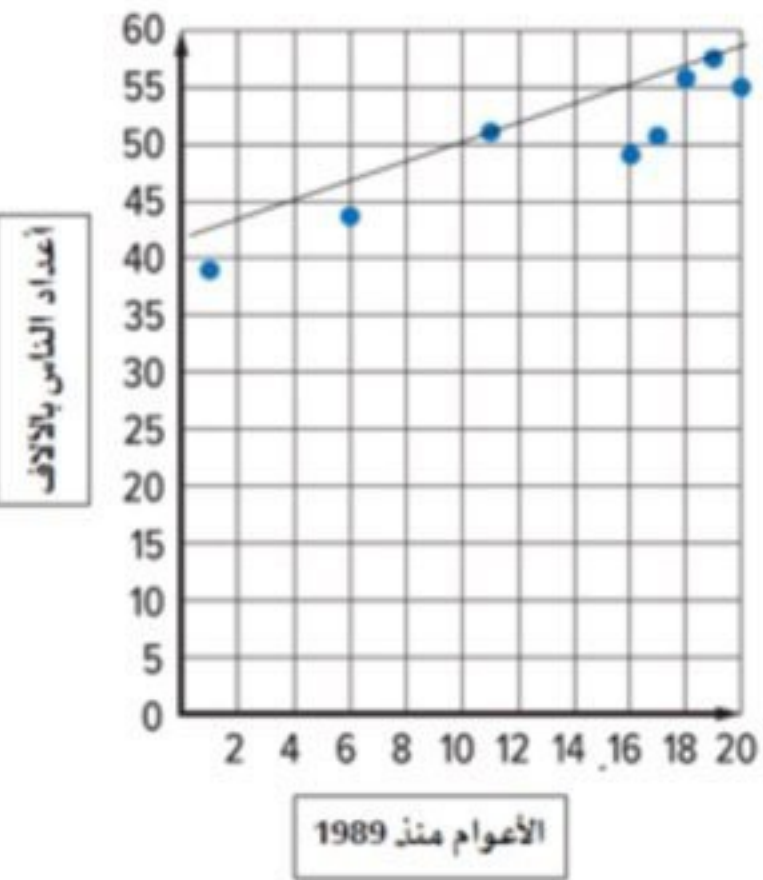
أي من التعبيرات الآتية تعتبر أفضل وصف للنقاط F, G, H ؟



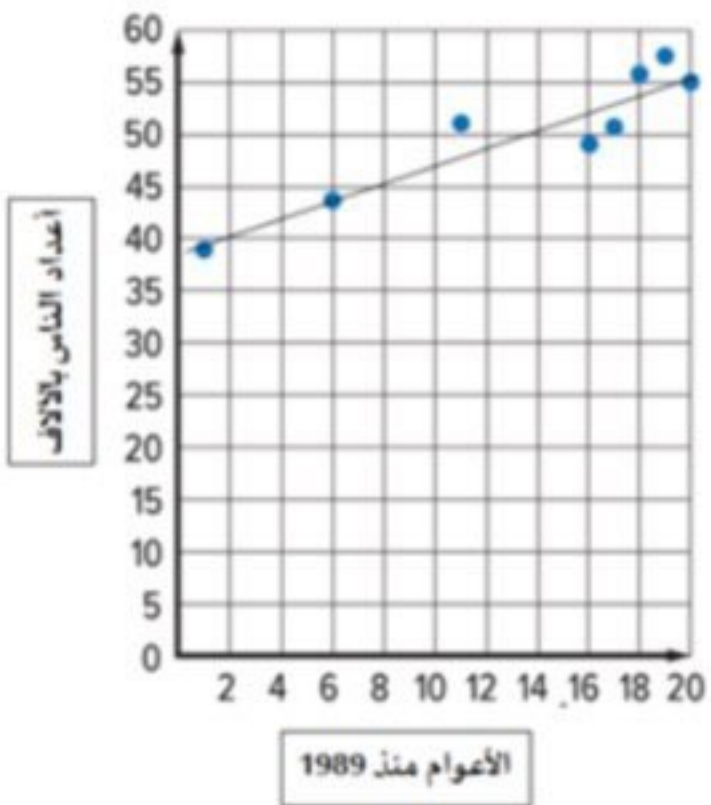
- a. على استقامة واحدة
- b. متطابقة
- c. في مستوى واحد
- d. ليست في نفس المستوى



- a. كلما زاد الوقت المنقضي ارتفعت درجة الحرارة
- b. لا يوجد ارتباط
- c. كلما زاد الوقت المنقضي ثبتت درجة الحرارة
- d. كلما زاد الوقت المنقضي قلت درجة الحرارة



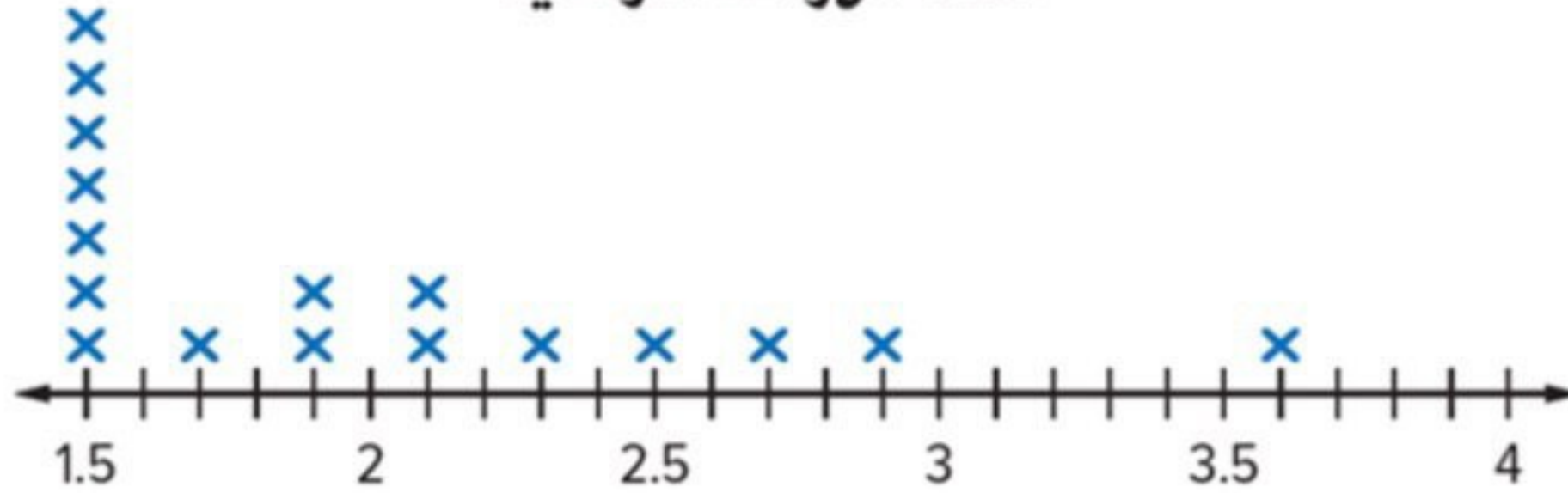
c.



d.

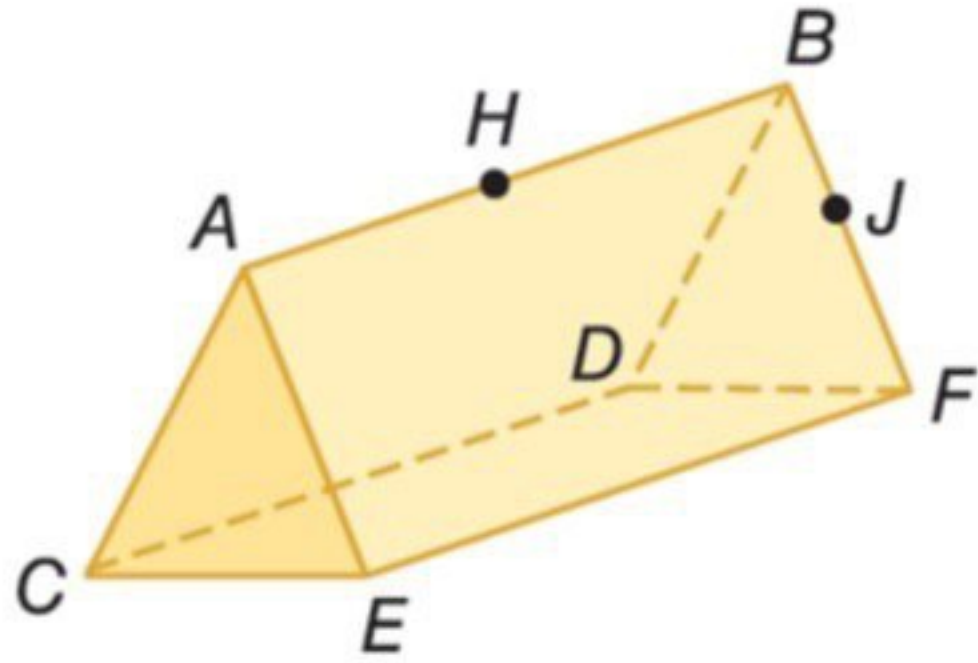
أي من العبارات الآتية صحيحة؟

### شدة الهزات الأرضية



- a. هناك قيمة متطرفة عند 2.9
- b. التوزيع متماثل
- c. لا توجد فجوات
- d. توجد ذروة عند 1.5

كم عدد المستويات الموضحة في الشكل؟



a.

5



b.

3



c.

4



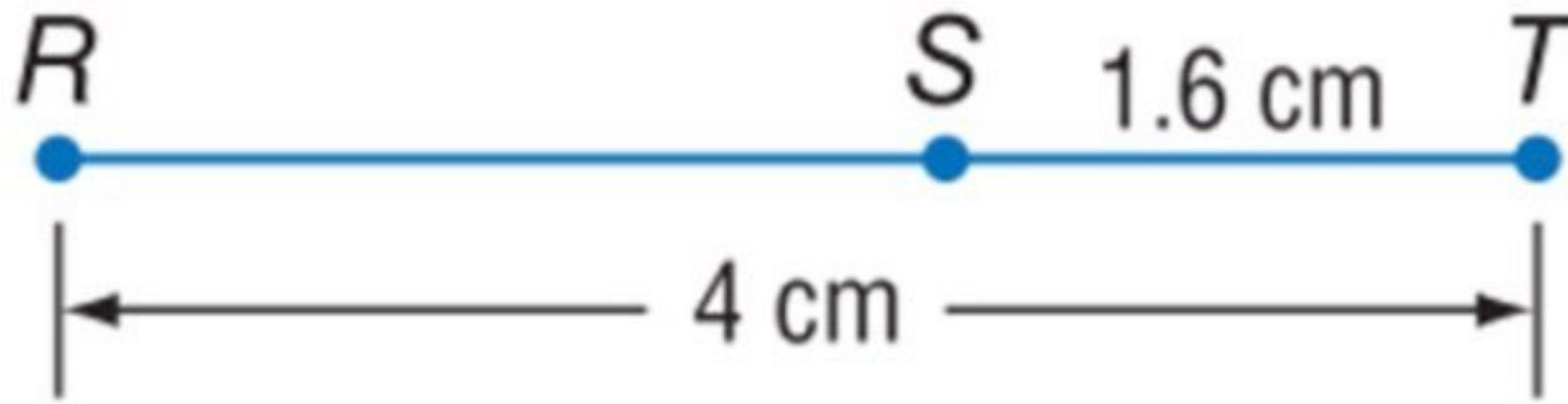
d.

6



حساب قياسات الاطوال

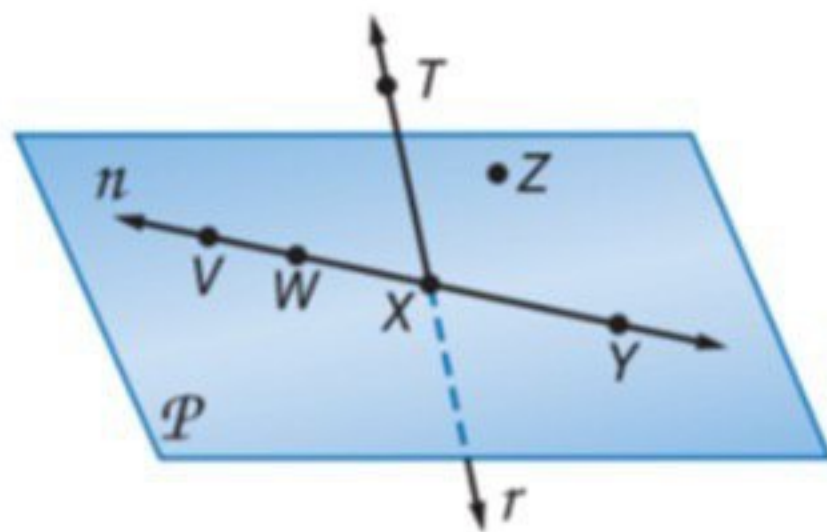
أوجد قياس  $\overline{RS}$ . افترض أن الشكل ليس مرسومًا حسب المقياس.



- a. **2.4 cm**
- b. **3.4 cm**
- c. **4.4 cm**
- d. **5.6 cm**

تسمية المستقيم

استخدم الشكل لتسمية مستقيم يحتوي على النقطة  $W$ .



- a.  $\overleftrightarrow{TX}$
- b.  $\overleftrightarrow{ZY}$
- c.  $\overleftrightarrow{ZX}$
- d.  $\overleftrightarrow{VX}$



قياس القطعة المستقيمة



أوجد طول  $\overline{AB}$  باستخدام المسطرة.

- a. **3.9 cm**
- b. **4.2 cm**
- c. **3.5 cm**
- d. **3.7 cm**

صف البيانات التي تقع ضمن انحراف معياري واحد من الوسط.

الطول (m)			
10	15	15	20

- a.  الأطوال بين 10 و 20 مترًا هي ضمن انحراف معياري واحد من الوسط
- b.  الأطوال بين 3.5 و 15 مترًا هي ضمن انحراف معياري واحد من الوسط
- c.  الأطوال بين 12.5 و 19.5 مترًا هي ضمن انحراف معياري واحد من الوسط
- d.  الأطوال بين 11.5 و 18.5 مترًا هي ضمن انحراف معياري واحد من الوسط



الوسط



تكلفة 5 بيتزا متوسطة الحجم بالدرهم هي: 8, 7, 4, 6, 10 .  
أوجد وسط البيانات أعلاه.

a.

8



b.

5



c.

7



d.

6

