



المادة: الدراسات الاجتماعية والتربية الوطنية

الصف: الثامن

عدد صفحات الأسئلة : (5)

امتحان نهاية الفصل الدراسي الأول
للعام الدراسي 2017 / 2018م

40

السؤال الأول

أولاً: اقرأ النص الآتي ثم أجب عما يليه من أسئلة:

أعلن صاحب السمو الشيخ محمد بن راشد آل مكتوم، نائب رئيس الدولة رئيس مجلس الوزراء حاكم دبي (رعاه الله) عن التشكيل الوزاري الجديد لعام 2017م، وقال سموه: " إن منوية الإمارات تبدأ الآن بإطلاق مشروعات ضخمة، مثل الذكاء الاصطناعي للتأسيس للمرحلة المقبلة... مؤكداً أن الذكاء الاصطناعي هو الموجة الجديدة بعد الحكومة الذكية، التي ستعتمد عليها خدماتنا وقطاعاتنا وبنيتنا التحتية المستقبلية ."

لقد فتح هذا المصطلح أبواباً واسعة للبحث والدراسة لمحاوّر الذكاء الاصطناعي ودوره المنشود في التنمية الوطنية، وهي مظلة لا يحدها أفق، ولا تقف أمام إبداعاتها مساحة جغرافية أو مدى زمني، فالذكاء الاصطناعي هو أسلوب حياة كاملة، ويشمل مساحة كبرى من الخيارات، مثل: طائرات درون، وسيارات ذاتية الحركة، وخيارات التطبيقات الذكية، والروبوتات المفيدة، وخدمات المنازل الذكية، وعناقيد غوغل البحثية، والأسلحة ذاتية العمل، ومئات الخيارات الأخرى التي دخلت حياتنا دون استئذان.

1. استنتج من النص الفكرة الرئيسية.

..... -

2. استخلص من النص حقيقة واحدة.

..... -

3. بين من النص قيمة سلوكية إيجابية واحدة:

4. صغ بأسلوبك تعريفاً مناسباً للذكاء الاصطناعي.

الذكاء الاصطناعي:

5. بم تفسر اهتمام صاحب السمو الشيخ محمد بن راشد آل مكتوم - رعاه الله - بالذكاء الاصطناعي؟

..... -

6. عبّر كتابة في حدود سطرين عن فخرك واعتزازك بقيادات دولة الإمارات العربية المتحدة الداعمين للإبداع والتطور العلمي.

..... -

7. صنّف خيارات الذكاء الاصطناعي التي بين القوسين وفق مجالات الحياة المناسبة في الجدول التالي:

(عناقيد غوغل البحثية - الأسلحة ذاتية العمل - سيارات ذاتية الحركة - المنازل الذكية)

وسائل النقل	المعمار والبناء	العلمي والثقافي	العسكري
.....

ثانيًا: اختر الإجابة الصحيحة من بين البدائل لكل عبارة وضع خطأ تحتها:

8. يُسمى توزيع السكان وفق فئات الأعمار المختلفة في تاريخ محدد بالتركيب:
(- العمري) - الاقتصادي - (- النوعي)
9. يُعد تشكيل مجلس القوة الناعمة لدولة الإمارات العربية المتحدة نقلة نوعية في:
(- السياسة الداخلية) - الخدمات الصحية - (- السياسة الخارجية)
10. قطاع اقتصادي في دولة الإمارات العربية المتحدة:
(- التعليم) - السياحة - (- التنمية الاجتماعية)
11. وزارة تعتبر من أجهزة الأمن الخارجية لدولة الإمارات العربية المتحدة:
(- الداخلية) - العدل - (- الدفاع)
12. نظام اقتصادي يعتمد مبادئه وفقًا لأصول الإسلام:
(- المختلط) - الإسلامي - (- الرأسمالي)
13. من العوامل الطبيعية المؤثرة في توزيع السكان:
(- التضاريس) - الحرفة - (- المواصلات)

ثالثًا: فسّر بذكر سبب واحد لكل مما يلي:

14. تشكيل مجلس القوة الناعمة لدولة الإمارات العربية المتحدة.
..... -
15. ازدياد السكان في السهول الفيضية.
..... -
16. انتشار نمط العمارات متعددة الطوابق بشكل كبير في دولة الإمارات العربية المتحدة.
..... -
17. إصرار الشيخ زايد بن سلطان آل نهيان - رحمه الله - على نشر الزراعة في دولة الإمارات العربية المتحدة.
..... -
18. الاحتلال الإيراني للجزر الإماراتية الثلاث (طناب الكبرى وطناب الكبرى وأبو موسى).
..... -

السؤال الثاني

30

أولاً: سجل نتيجة واحدة ترتبت على كل مما يلي:

19. توطين البدو الرّحل في نطاق الصحراء (الكثبان الرملية) لدولة الإمارات العربية المتحدة.

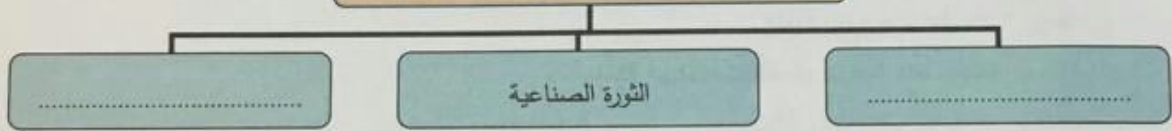
20. تعدّد القطاعات الاقتصادية في دولة الإمارات العربية المتحدة.

21. اهتمام القيادة الرشيدة في دولة الإمارات العربية المتحدة بالتنمية البشرية.

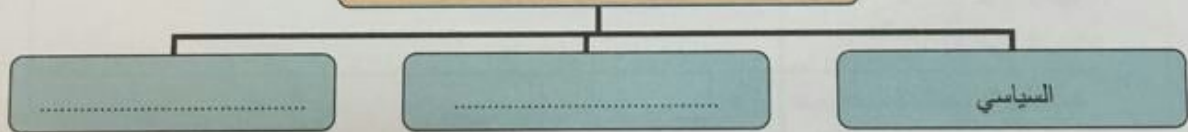
22. قيام حروب أو مشكلات سياسية في منطقة ذات تركيز سكاني.

ثانياً: استكمل بيانات المخططات الذهنية التالية:

23. من العوامل التي أدت إلى النمو العمراني:



24. من مجالات الأمن الوطني:



25. من أنماط المساكن في دولة الإمارات:



ثالثاً: صوّب ما تحته خط لكل عبارة فيما يلي وضع الإجابة بين القوسين:

26. أقدمت إيران على احتلال الجزر الإماراتية الثلاث عام 1972م. (.....)

27. نصّت المادة (43) من دستور دولة الإمارات على أن النفاق عن الاتحاد فرض مقدس على كل مقيم. (.....)

28. تُعتبر سهول نهر النيل من السهول الساحلية. (.....)

29. يُطلق على السكان دون (15) سنة فئة كبار السن. (.....)

30. يقع نطاق السهل الساحلي الشرقي في دولة الإمارات العربية المتحدة على الخليج العربي. (.....)

السؤال الثالث

30

أولاً: وظّف المهارة المناسبة لتنفيذ المطلوب لكل عبارة فيما يلي:

" التوقف والتأخير مضيعة للوقت؛ لأنه يضيع ملايين الأيام من عمر الشعوب في التردد والانتظار، ويؤخر رفاهيتها، وسعادتها وراحتها؛ فالمستقبل يبدأ اليوم وليس غداً ."

م	المهمة	الإجابة
31	حدّد المشكلة التي تتحدث عنها الفقرة السابقة.	
	بيّن نتيجة واحدة تترتب على هذه المشكلة.	
	اقترح حلاً يمكن أن يسهم في حل هذه المشكلة.	

من أهداف الخدمة الوطنية في دولة الإمارات العربية المتحدة:

- تعميق الولاء والانتماء وحب الوطن.
- تحصين الشباب ضد التيارات والمعتقدات الفكرية الهدامة.

- في ضوء ذلك استكمل بيانات الجدول التالي:

م	المهمة	الإجابة
32	اكتب هدفاً ثالثاً من أهداف الخدمة الوطنية.	
	حدد أي الأهداف السابقة يعد الأكثر أهمية من وجهة نظرك.	
	بين مبررات اختيارك لهذا الهدف.	

ثانياً: أجب عن الأسئلة التالية:

33. أعطِ مثالين اثنين من الواقع على الهجرات الخارجية للسكان.

..... -

34. بين اثنين من المعايير والمؤشرات التي تقاس بها القوة الناعمة للدول.

..... -

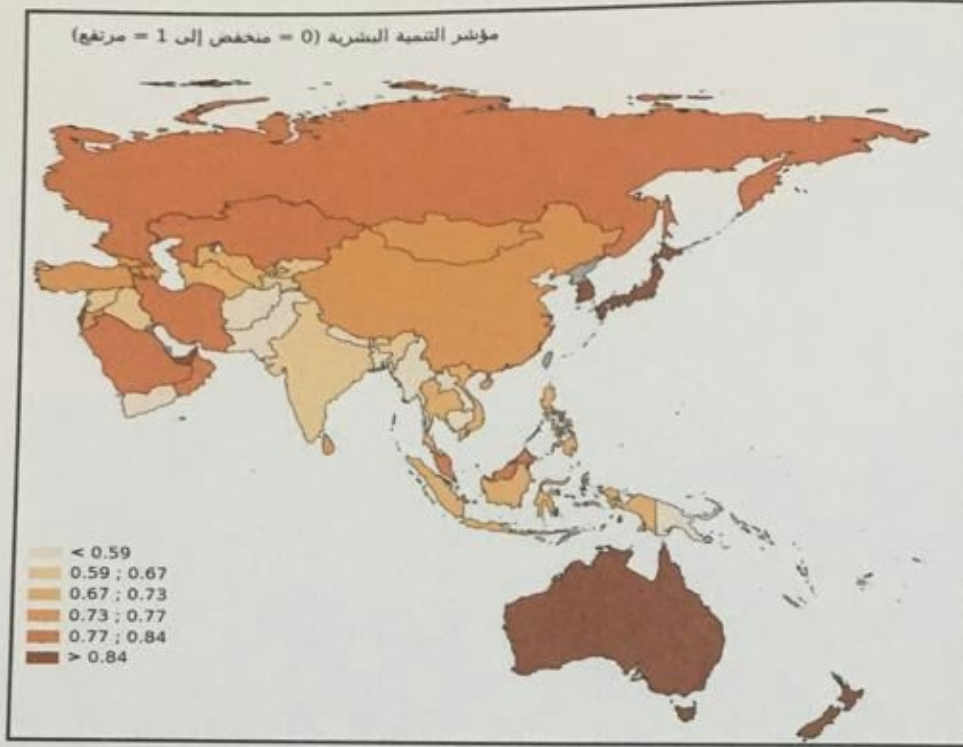
..... -

35. اقترح اثنين من الأفكار التي يمكن تطبيقها للمحافظة على البيئة الثقافية الإماراتية.

..... -

..... -

ثالثاً: حلل الخريطة الآتية ثم استكمل بيانات الجدول التالي:



م	المهمة	الإجابة
.36	- سمّ دولة واحدة من الدول السبّاقة في مجال التنمية البشرية.	
	- سمّ دولة عربية واحدة من الدول المصنفة ضمن الشريحة المنخفضة.	
	- توقع مؤشر التنمية البشرية الذي من الممكن أن تحصل عليه دولة الإمارات العربية المتحدة في عام 2021م.	

انتهت الأسئلة

تمنياتنا بالتوفيق والنجاح