



وضح العناصر لكل من ؟

1- من هو روجر توملنسون؟

عالم كندي على يديه ظهر مفهوم نظم المعلومات الجغرافية سنة 1964.

2- مكونات نظم المعلومات الجغرافية ؟

أ- الأجهزة وهي تشمل الحواسيب والخوادم والشبكات.

ب- البرامج وهي أدوات وأساليب متبعة لتخزين وتحليل وعرض المعلومات.

ج- البيانات وهي وصفية ومكانية.

د- الموارد البشرية وهم التقنيون المتخصصون ومستخدمي النظام.

هـ - التطبيقات المتخصصة وهي كل التطبيقات التي تعمل على تطبيق الخرائط

وتجعلها أكثر فاعلية ووضوحا لتحاكي الواقع.

3- من أنواع البيانات :

أ- الوصفية مثل الإحصاءات السكانية والأشكال البيانية والجدول الرقمية

ب - البيانات المكانية وهي مثل الخرائط الرقمية والصور الجوية.

4 - من التطبيقات الذكية ؟

a- GoogleEarth      b- GoogleMaps      c- Maps

5- ما هي المراحل التي تحتاجها لتصميم تطبيق عن المحميات في الإمارات؟

أ- تحديد مجال المشروع وكان عن المحميات الطبيعية.

ب - سيتم عرض البيانات على شكل صور وخرائط ونصوص وأشكال.

ج- يتم إدخال الصور والخرائط والنصوص وتبويبها باستخدام وورد واكسل

وموفي ميكرو.

د-ربط المكونات مع بعضها .

هـ - عرض البيانات من خلال برنامج سميته «روح الطبيعة»

عرف المقصود بالمصطلحات التالية:

نظم المعلومات الجغرافية : استخدام الحاسوب في تجميع وتخزين

وعرض المعلومات الجغرافية .

ما العوامل التي ساعدت على ظهور نظم المعلومات الجغرافية؟

1- تطور الحاسبات الآلية

2- ضخامة المعلومات الجغرافية

3- التغيرات المستمرة والسريعة في المعلومات.

وضح أهمية نظم المعلومات الجغرافية؟

GIS

1- تخطيط المدن

2- رسم الخرائط

3- التطبيقات البيئية

4- البحوث الجيولوجية

5- النقل والمواصلات

قارن بين قمري دبي سات2 وخليفة سات

المقارنة	دبي سات 2	خليفة سات
سنة الاطلاق		
المميزات		



## ملخص اجتماعيات «2» الفصل الثاني | الصف السابع الإعداد : إبراهيم محمد

ما الفرق بين الصور الجوية وصور الاستشعار ؟

الصور الجوية تصور سطح الأرض فقط  
أما أقمار الاستشعار فتصور سطح الأرض وما  
تحتة أي تصور باطن الأرض أيضاً



1- وضح مزايا نظام تحديد المواقع ؟

- 1- يعمل يومياً وفي كل الأمكنة.
- 2- لا يتأثر بالأحوال الجوية .
- 3-في متناول الجميع.
- 4- تنوع الأجهزة .

2- من أنواع أشعة الاستشعار عن بعد؟

- أ- الأشعة الحرارية المرتدة
- ب- الأشعة الكهرومغناطيسية.
- ج- الأشعة المرتدة.

3- أمثلة لتطبيقات نظام تحديد المواقع العالمية :

- أ- تطبيق مكاني ب- تطبيق سمارت درايف ج- تطبيق الرقابة الشرطية الالكترونية
- 4- ما الذي تعرفه عن تطبيق مكاني؟

تطبيق يحدد مداخل المباني بدقة عالية ولك لتسهيل وصول الخدمات الأمنية والطوارئ والإنقاذ كما ويسهل للمعنيين عمليات التفيتش والمراقبة .

5- ماذا تعرف عن تطبيق سمارت درايف؟

دليل ملاحي لا يعتمد الانترنت يعرض المواقع المختلفة وينبه للسرعة ويجعل الرحلة آمنة وسهلة ومبتكرة.

6- وضح أهم استخدامات الاستشعار عن بعد ؟

- أ- في مجال الخرائط ---- إعداد الخرائط بدقة عالية.
- ب-في مجال الجغرافيا ---- تحديد المواقع المناسبة لتحديد الطرق والسدود.
- ج- في مجال الجيولوجيا ---- تحديد سمك الطبقات وكشف البترول والمياه الجوفية
- د- في مجال المياه ---- تقدير حجم الموارد المائية ورسم خرائط لها وكشف تلوثها.
- هـ - في مجال الأرصاد الجوية --- التنبؤ بالطقس واكتشاف الأعاصير .

عرف المقصود بالمصطلحات التالية:

نظام تحديد المواقع العالمية : نظام تنقل وملاحة عبر الأقمار الصناعية يعمل في كل الأماكن وفي كل الأحوال .

مكونات نظام تحديد المواقع العالمية ؟

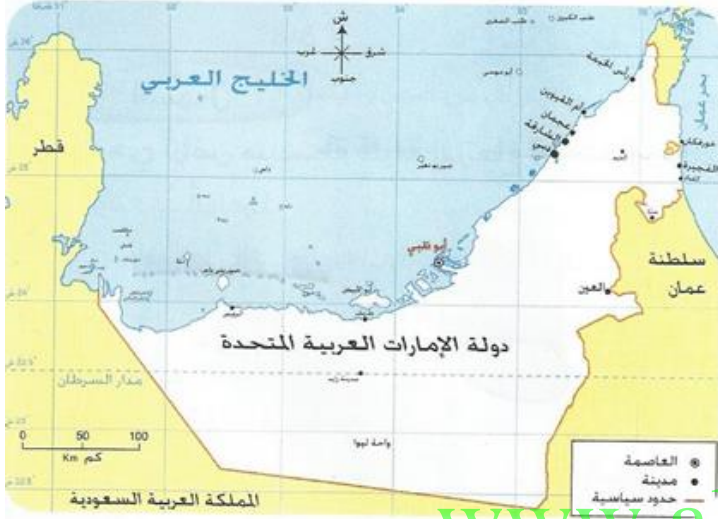
- 1- الأقمار الصناعية.
- 2- نظام التحكم الأرضي «تعقب إشارات الأقمار»
- 3- جهاز الاستقبال «الحصول على المعلومات».

وضح استخدامات نظام تحديد المواقع العالمية ؟

Gps

- 1- تحديد موقع أي نقطة على سطح الأرض.
- 2- حساب المسافات بين الأماكن.
- 3- اكتشاف أقصر الطرق.
- 4- الكشف عن مواقع المستكشفين والمغامرين بدقة.
- 5-النقل والمواصلات

ملخص اجتماعيات «3» الفصل الثاني الصف السابع الإعداد : إبراهيم محمد



الموقع الفلكي للإمارات «خطوط» :

تقع دولة الإمارات بين خطي عرض 22- 26.5 شمال خط الاستواء. كما وتقع دولة الإمارات بين خطي طول 51- 56.5 شرق غرينتش .

الموقع النسبي للإمارات «حدود»

يحد الإمارات من الشمال الخليج العربي ومن الجنوب السعودية ويحد الإمارات من الشرق سلطنة عمان ومن الغرب المملكة العربية السعودية

الموقع المكاني للإمارات «المساحة»

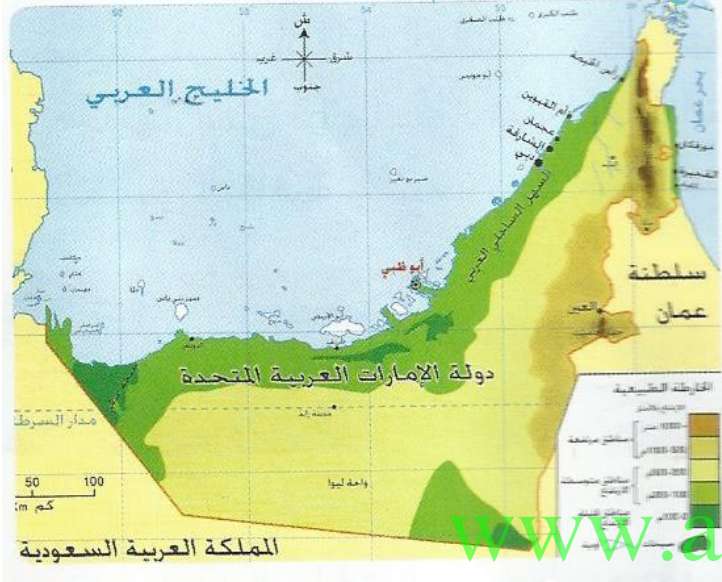
تبلغ مساحة دولة الإمارات العربية المتحدة 83.600 كم2

www.almanahj.com

الصفات	المدن	الطول	
1- ضيق 2- يوجد فيه بعض الأخوار مثل خورفكان	الفجيرة ،كلبا ،دبا ،خورفكان	90 كم	السهل الساحلي الشرقي
1- تكثر فيها السبخات «مطي» والأخوار «خور دبي» 2- يواجه العديد من الجزر الإماراتية وعددها 200 3- يتسع كلما اتها جنوبا 4- يضم أهم المدن.	ابوظبي ،دبي ،الشارقة	640 كم	السهل الساحلي الغربي

مرتفعات رؤوس الجبال	مرتفعات الشمالية	المرتفعات الوسطى
تمتد من شعم – لوادي دبا وأعلى جبالها جيس 1934	تشرف على بحر عمان وتمتد من دبا- لكلبا شديدة الوعورة والانحدار أعلاها جبل مسافي 1153 تمتاز بكثرة الأودية مثل حام والوريفة	تمتد من المنطقة الشمالية والغاية العين وأعلاها جبال الحجر
تشكل الجبال 2.5 من مساحة الدولة + تمتد 150 كم + بينما تشكل الكثبان الرملية 75% من مساحة الدولة وتعرف باسم الصحراء التي أكسبت السكان عادات حميدة مثل الصبر والكرم + أ، الصحراء هي محرك اقتصاد الدولة فهي 1- مصدر المياه 2- مستودع الثروات الطبيعية 3- حاضنة النباتات الرعوية والطبية		

## ملخص اجتماعيات «4» الفصل الثاني الصف السابع الإعداد : إبراهيم محمد



وضح أهم التضاريس الموجودة في دولة الإمارات العربية المتحدة ؟

**أولاً: السهول وتنقسم لثلاث سهول**

أ- السهل الساحلي الشرقي وهو على بحر عمان ويتصف بالضيق لقرب الجبال من البحر وطوله 90 كم.

ب - السهل الساحلي الغربي وطوله 640 كم وهو يتسع كلما اتجهنا جنوبا ويتصف بـ 1- كثرة السبخات والأخوار 2- كثرة الجزر المقابلة له 3- الغنى بالثروات 4- وجود المدن الهامة

ج- السهل الداخلي الحصوي يتصف بـ 1- وفرة المياه 2- خصوبة التربة 3- الحضارات القديمة

**ثانياً : الجبال وتمتد 150 كم وتشكل 2.5 من مساحة الدولة وهي ثلاث أقسام**

أ- مرتفعات رؤوس الجبال ب- مرتفعات الشمالية ج - المرتفعات الوسطى

**ثالثاً : الكثبان الرملية «الصحراء + الهضاب» وتشكل 75% وهي جزء من صحراء الربع الخالي**

أكسبت سكانها عادات الصبر والتحمل والنجدة وهي مصدر مهم للاقتصاد فهي مصدر المياه ومستودع البترول والغاز الطبيعي.

وضح أهم صفات الحرارة والرياح والأمطار في دولة الإمارات العربية المتحدة

الرياح	الرطوبة والأمطار	الحرارة
1- الرياح الموسمية تساعد على سقوط الأمطار في المناطق الشرقية. 2- الرياح الشمالية الغربية تسبب سقوط الأمطار الشتوية 3- الرياح الشمالية تلتف حرارة الجو. 4- الرياح الشرقية شديدة الرطوبة. 5- أهم الرياح المحلية المطلعي، النعشي، البحري، الغربي	1- الرطوبة مرتفعة في السواحل من 60% - 100% 2- الأمطار شتوية تسقط في نوفمبر وإبريل. 3- سبب سقوط الأمطار المنخفضات الجوية الدافئة القادمة من البحر المتوسط. 4- تزيد معدلات الأمطار في المناطق الجبلية لذلك بنت الدولة هناك سدود مثل سد الشويب وسد البيح وسد حام.	1- مرتفعة يصل متوسط نهاياتها العظمى 47 درجة 2- معدل المدى الحراري مرتفع يتراوح بين 35-40 3- تزيد في المناطق الداخلية عن الجبال والسواحل

ما هي أهم جهود الحكومة الإماراتية في حماية البيئة الطبيعية ؟

- 1- إصدار قانون تنظيم الصيد وحماية الحياة الفطرية والبرية قبل 30 عام.
- 2- تخصيص المحميات الطبيعية لتحقيق التوازن البيئي.

ما هو النبات الطبيعي ؟

- هو النبات الذي ينمو دون تدخل الإنسان والنبات الطبيعي نوعان هما
- أ- الحولي مثل الخبز والحميض وهي نباتات تنمو لعدة أشهر فقط
  - ب- المعمر مثل السمر والغاف

المقارنة	الطاقة الشمسية	الطاقة النووية
الوضع الحالي	تعتمد عليها بشكل كبير	ما زالت مصدر غير أساسي
ميزات الطاقة	- متجددة - مستدامة - نظيفة	- آمنة - صديقة للبيئة - مجدية اقتصادياً
أهم مشاريع الدولة	شمس "1" مجمع محمد بن راشد للطاقة الشمسية.	محطة بركة للطاقة النووية والتي تتضمن بناء 4 محطات

## النشاط الفصلي

آخر موعد لتسليم النشاط 10 - 3 - 2018

عرف المقصود بالمصطلحات التالية:  
**عرف التعداد السكاني** : عملية جمع البيانات السكانية الاجتماعية والاقتصادية وتحليلها ونشرها لبلد محدد وفي زمن محدد .

## ما أهمية السكان؟

- 1- من المقومات الرئيسية للدولة .
- 2- دعامة أساسية للحياة الاجتماعية والاقتصادية .
- 3- شكلت جهودهم أساس بناء الحضارات.

## وضح أهمية الهيئة الاتحادية للهوية والجنسية؟

- 1- تسجيل البيانات الشخصية والحيوية للسكان.
- 2- حفظ بيانات السكان بالاتفاق مع الجهات المختصة
- 3- إصدار بطاقات الهوية لكل فرد.

## علل . حرص دولة الإمارات على تطوير قطاع السياحة؟

- 1- لأنه يخدم القطاعات الاقتصادية الأخرى ويتفاعل معها.
- 2- يساهم في تطوير الفنادق والمطاعم والنقل والاتصالات والمصارف.
- 3- يساهم في ازدهار الأنشطة الثقافية .

## علل تطور قطاعات الصناعة في دولة الإمارات العربية؟

- ا- لتقليل الاعتماد على النفط والغاز .
- ب- لتنويع مصادر الدخل.
- ج- لبناء اقتصاد قوي.

أ- تحقيق الاكتفاء الذاتي ب- التقليل من الاستيراد .

2- تعتبر دولة الإمارات من الدول المصدرة للإسماك؟

أ- الموقع الجغرافي للدولة.

ب- حجم الانتاج السمكي

وضح الطرق والأساليب التي اتبعتها الدولة لزيادة الثروة السمكية؟ الجواب أسفل صفحة 65 .

.....

.....

.....

.....



أكمل الجدول التالي بما يناسبه

المقارنة	بريطانيا العظمى "المملكة المتحدة"	الجمهورية الفرنسية
الموقع الفلكي	بين خطي عرض 50-60 شمال الاستواء وبين خطي طول 2 شرقاً - 8 غرب غرينتش	بين خطي عرض 42-51 شمال الاستواء وبين خطي طول 8 شرقاً - 2 غرب غرينتش
الموقع النسبي "الحدود"	بحر الشمال من الشرق والجنوب والمحيط الأطلسي من الشمال والغرب	بحر الشمال من الشمال والمتوسط من الجنوب والمحيط الأطلسي من الغرب ومن الشرق ألمانيا وإيطاليا وسويسرا
أهم المدن	لندن ، نيوكاسل ، مانشستر	باريس ، ديجون ، ليون ، موناكو ، ليل ، نانس
أهمية الموقع	1- انفصال بريطانيا عن أوروبا " جزيرة" أعطاهما الاستقرار السياسي 2- ساعد موقعها بين أمريكا وأوروبا على التفوق التجاري والصناعي	1- سهولة التواصل والاحتكاك بشعوب الدول الأوروبية 2- العلاقات التجارية الواسعة والتأثير الثقافي
المساحة	244000 كم 2	544000 كم 2
أهم السهول	السهل الانجليزي الكبير + سهول شمال إيرلندا	السهول الشمالية الغربية + السهول الساحلية على البحر المتوسط
أهم الأنهار	التايمز + التاين + ترنت	السين + الجارون + اللوار + الرون + الراين
عدد السكان	65.6 مليون نسمة	66.9 مليون نسمة
أهم الجبال	جبال اسكتلندا " نفيس" + البنين " وسط انجلترا + كامبريان	الفوج + الجورا + البروفانس + الألب
المناخ	المعتدل البارد حيث الصيف معتدل والشتاء بارد وتيار الخليج يلطّف + الأمطار طوال العام بسبب الرياح العكسية.	1- إقليم غرب أوروبا + إقليم وسط أوروبا معتدل صيفاً بارداً شتاءً 2- إقليم البحر المتوسط حار جاف صيفاً معتدل شتاءً
النبات الطبيعي	الغابات النفضية والصنوبرية	الغابات النفضية + غابات المتوسط
العلاقات الاقتصادية معنا	حجم التبادل التجاري 57.8 مليار درهم	27.2 مليار درهم
العلاقات الثقافية والعلمية	التعاون الثقافي بين البلدين وإقامة المهرجانات للإطلاع على الثقافة البريطانية العريق والتعريف بثقافة الإمارات	-افتتاح جامعة السوربون في ابوظبي - التنقيب عن الآثار - افتتاح متحف اللوفر أبو ظبي



## ملخص اجتماعيات «8» الفصل الثاني\ الصف السابع\إعداد : إبراهيم محمد

السؤال الأول : انظر الخريطة المجاورة على اليسار وأجب عن الأسئلة التي تليها .

1- من خلال خريطة حدد الموقع الفلكي لدولة فرنسا ؟

2- حدد على الخريطة الدول والبحار المجاورة بكتابتها في مواقعها؟

3- حدد على الخريطة المدن التالية مستخدماً الرمز :

باريس ،ليون ، لندن ، نانت ، مرسيليا . بورجو ، مونكو

4- حدد على الخريطة المظاهر الجغرافية التالية:

السهل الشمالي الغربي الهضاب الجبال الريفيرا

5- حدد كورسيكا 6- حدد أربعاً من الأنهار 7- بريطانيا ومضيق دوفر

www.almanahj.com

السؤال الثاني : انظر الخريطة المجاورة على اليمين وأجب عن الأسئلة التي تليها .

1- من خلال خريطة حدد الموقع الفلكي لدولة بريطانيا ؟

2- حدد على الخريطة الدول والبحار المجاورة بكتابتها في مواقعها؟

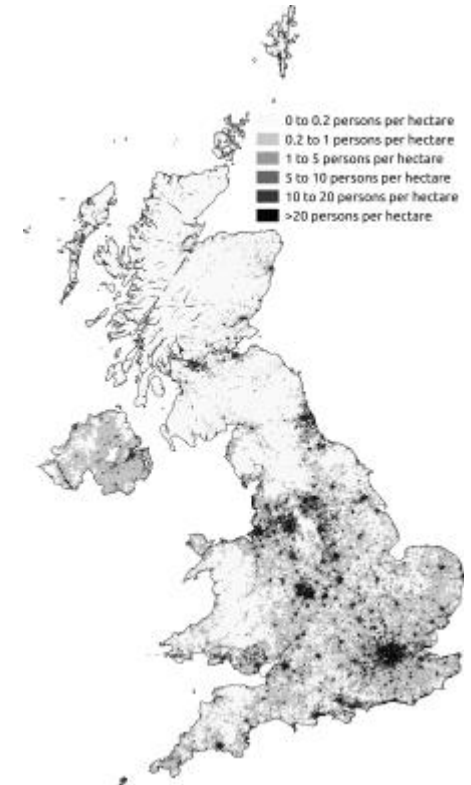
3- حدد على الخريطة المدن التالية مستخدماً الرمز :

لندن ، ليفربول ، ، مانشستر ، نيوكسل . بلفاست ، توتنهام

4- حدد على الخريطة المظاهر الجغرافية التالية:

السهل الساحلي الجبال

5- حدد مضيق دوفر 6- حدد التايمز



السؤال الأول : علل ما يلي

1- يتمتع سكان بريطانيا بمهارات في الملاحة وبناء الأساطيل ؟  
أ- بسبب التكوين الجزي " جزر " للدولة  
ب- بسبب موقعها المهم وتاريخها البحري والعسكري كقوة عظمى

2- يزيد عدد السكان في جنوب بريطانيا ؟  
أ- لأن درجة الحرارة أكثر اعتدالاً  
ب- بسبب وجود السهل الانجليزي العظيم .

3- تم تقطيع معظم الغابات في بريطانيا و فرنسا ؟

أ- وذلك لزراعة الغلات الرئيسية لتوفير الغذاء للسكان : [www.almanahj.com](http://www.almanahj.com)

4- تعتبر الاستثمارات البريطانية والفرنسية في غاية الأهمية بالنسبة للدولة ؟  
أ- لأنها تساهم في نقل التقنية والمعارف للدولة.  
ب- تساعد على بناء اقتصاداً أكثر تنوعاً ومتانة استدامة

5- قوة فرنسا الصناعية والسياسية وعلاقتها الوثيقة بمحيطها الأوروبي ؟  
وذلك بسبب موقعها القريب من الدول الأوروبية وموقعها المهم على المتوسط





اكمل الجدول التالي بما يناسبه

المقارنة	أمريكا الشمالية	أستراليا
الموقع الفلكي		
الموقع النسبي "الحدود"		
أهم الدول		
أهمية الموقع	-1 -2	-1 -2
المساحة		
أهم السهول		
أهم الأنهار		
عدد السكان		
أهم الجبال		
المناخ		
النبات الطبيعي		
العلاقات الاقتصادية معنا		
العلاقات الثقافية والعلمية		

## ملخص اجتماعيات «11» الفصل الثاني الصف السابع العدد : إبراهيم محمد

السؤال الثاني :أكمل الفراغ في الجمل التالية :-

- 1- يُصنع منه مستحلب لعلاج أمراض البرد ومغص المعدة .....
- 2- سميت بشجرة الألف علاج وشجرة العجائب .....
- 3-مشروع تم فيه جمع نباتات القرآن والسنة في حديقة .....
- 4-المبادرون بمشروع بنك الجينات هم .....
- 5- 70 % من نباتات الدولة موجودة في المنطقة .....
- 6- تشكل النباتات الحولية من مجموع نباتات الإمارات ما نسبته .....
- 7- مجمع لبحوث الأعشاب والطب التقليدي .....
- 8- أول من اكتشف المضادات الحيوية العالم الألماني .....
- 9-اكتشف العالم الاسكتلندي فلمنغ المضاد الحيوي الشهير .....
- 10-جراح إماراتي شارك في أول عمليةمستخدما الذكاء الاصطناعي.....
- 11- نبات طبي لا يستخدم إلا عن طريق أهل الخبرة .....
- 12-يستخدم الملح الموجود على أوراقه كبديل لملاح الطعام .....
- 13-يستخدم كعلف.....يستخدم للبناء وصناعة الحبال.....
- 14- شجرة ظللت الأجداد وهي رمز للتحدي .....
- 15 هضبة شمال أمريكا الشمالية تكثر فيها البحيرات .....
- 16- من أشهر شلالات العالم وأسرعا تقع بين كندا وأمريكا .....
- 17- ثالث دولة تقيم علاقات دبلوماسية مع الإمارات .....
- 18- تعد دولة الإمارات أكبر مشغل لطائرة .....
- 19- يفصلان قارة استراليا عن آسيا من جه الشمال.....و.....
- 20- الأبورجيناال هم .....
- 21- يعيش 95 % من سكان استراليا ف الأقاليم .....

السؤال الأول : عرف المفاهيم والمصطلحات التالية:

- 1- النباتات المعمرة :- هي النباتات التي تنمو لأكثر من عام وتتحمل الحرارة والجفاف والملوحة.
- 2- الجعدة :- نبات عطري معمر قصير الساق تنتشر على السفوح الجبلية كانت تستخدم لعلاج المعدة.
- 3- التصحر :- تحول الأراضي الزراعية لأراض صحراوية بفعل الجفاف والعمران .
- 4- الطب الشعبي :- خبرات وتجارب الأطباء القدماء من العرب المسلمين في طرق العلاج والتداوي القديمة.
- 5- الطب الحديث : هو الطب الذي ظهر في مطلع القرن العشرين واستخدم العقاقير والمضادات الحيوية
- 6-جامعة نيويورك أبوظبي :- جامعة إماراتية تأسست سنة 2010 نتيجة التعاون بين جامعة نيويورك و إمارة أبوظبي.
- 7-الآبار الارتوازية : آبار يتم حفرها لاستخراج المياه الجوفية واستخدامها في الزراعة .
- 8- جزيرة الكنغر : جزيرة تعكس تنوع الحياة البرية والجمال الطبيعي الخلاب في أستراليا.

السؤال الرابع : وضح من خلال الجدول أهم المبادرات البيئية الإماراتية ؟

المبادرة	صاحب المبادرة	الغاية من المبادرة
الحديقة الإسلامية 2014	الدكتور سلطان بن محمد القاسمي	- ربط العلم بالدين - حفظ التقاليد الاسلامية
التمييز بين النخيل 2014	وزارة البيئة والتغير المناخي الإماراتية	- حفظ الأصول الوراثية لجميع أشجار النخيل وتوثيق تنوعها. - زيادة انتاج التمور وتوفير البيانات.
بنك الجينات	هيئة البيئة - ابوظبي	- حفظ الخصائص الوراثية للنباتات. - تجميع وتوثيق النباتات البرية وحفظها من الانقراض.

على غرار مبادرة شجرة الغاف "صفحة 25" صمم مبادرة بيئية ؟

السؤال الثالث : عدد أربعة لكل مما يلي

1- خصائص النباتات المعمرة ؟

أ- تتحمل الجفاف ب- تتحمل درجات الحرارة  
العالية ج- تتحمل الملوحة العالية د- تتحمل تقلبات  
الجو .

2- عدد أربعة من فوائد النباتات المعمرة ؟

أ- التخفيف من حدة التغير المناخي وحفظ البيئة.  
ب- توفير الطاقة والوقود.  
ج- توفير المادة الخام للصناعات الخشبية.  
د - تثبيت التربة ومكافحة التصحر .

3- عدد 4 من الأسباب التي جعلت شبه الجزيرة

العربية فقيرة نباتيا ؟

أ- الشتاء الدافئ القصير وقليل الأمطار.  
ب- الصيف الطويل الجاف .  
ج- معدلات الحرارة والتبخر العالية.  
د- التضاريس المختلفة .

4- عدد 4 من النباتات المعمرة والتي تعيش في

دولة الإمارات العربية المتحدة ؟

أ- النخيل شجرة معمرة سيقانها طويلة.  
ب- الأشخر شجرة لها قاعدة خشبية . كثيرة النفرع  
ج- الحنظل نبات زاحف أوراقه مثلثة .  
د- القرم نبات ينمو في المياه البحرية الضحلة.

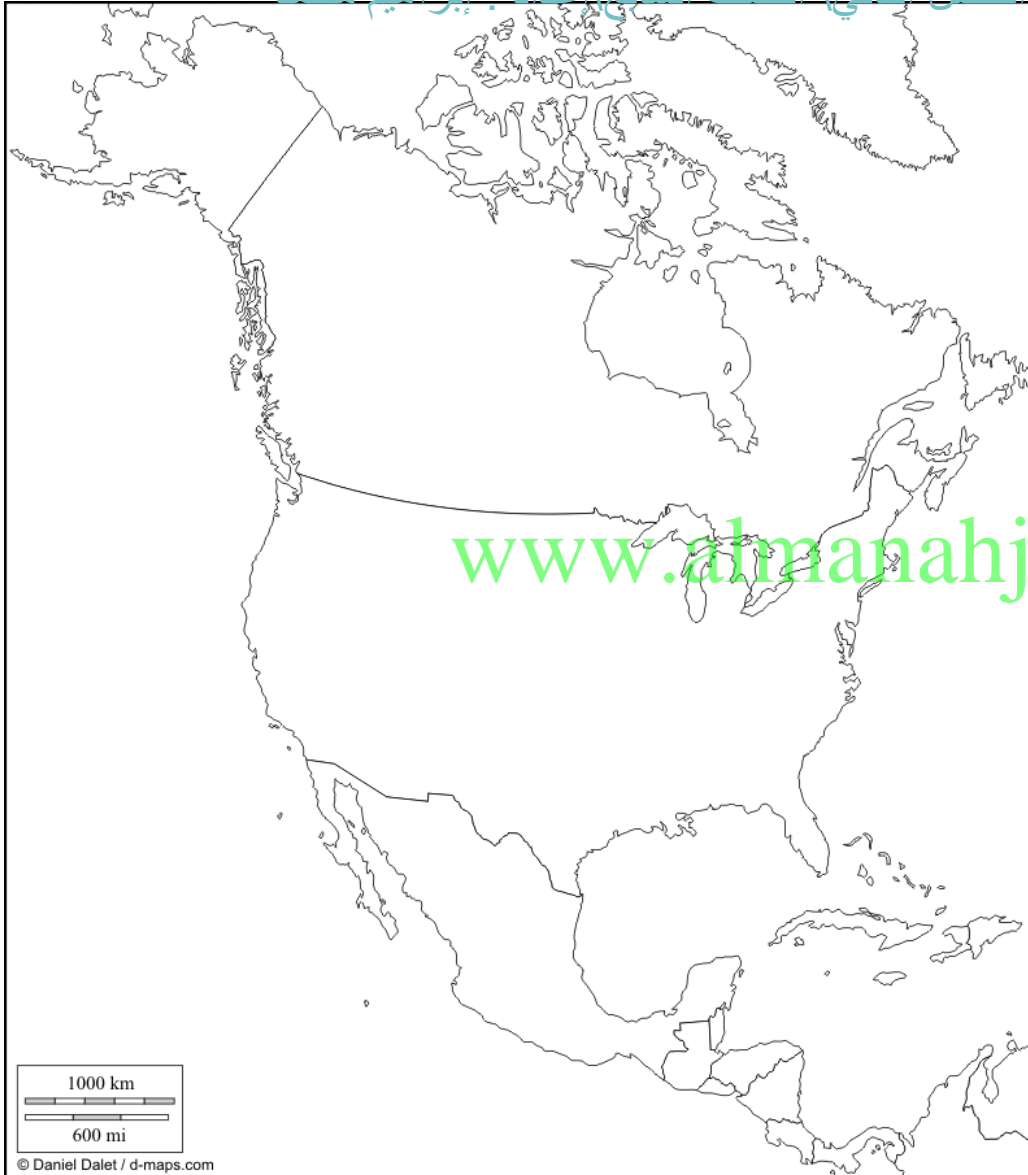
ملخص اجتماعيات «13» الفصل الثاني الصف السابع العدد : إبراهيم محمد

السؤال الأول : انظر الخريطة المجاورة على اليسار  
وأجب عن الأسئلة التي تليها .  
1- من خلال خريطة حدد الموقع الفلكي لقارة أمريكا الشمالية ؟

.....  
.....

2- حدد على الخريطة الدول والبحار المجاورة للقارة بكتابتها في مواقعها؟  
3- حدد على الخريطة المدن التالية مستخدما الرمز  
وشنطن ، ، وشنطن ، أوتاوا ، فانكوفر . نياغارا  
اوس أنجلوس ، سياتل  
4- حدد على الخريطة المظاهر الجغرافية التالية:  
جبال ركي + جبال الأبلش + جبال كاسكيد +  
السهول الوسطى + نهر المسيسيبي + نيوجراند

5- حدد خليج المكسيك + خليج هدسن + خليج كاليفورنيا + بحيرات سوبيريور ، هورن ، متشجن + مضيق بيرنج + المحيط القطبي + ارسم مدار السرطان



## ملخص اجتماعيات «14» الفصل الثاني الصف السابع اعداد : إبراهيم محمد

### علل ارتفاع مستوى معيشة سكان أمريكا الشمالية ؟

نتيجة غناها بالموارد الطبيعية الوفيرة مثل  
الثروات المعدنية والزراعية والحيوانية.

### علل أسباب ضخامة الانتاج الزراعي لقارة أمريكا الشمالية ؟

- 1- استخدام الأساليب العلمية الحديثة.
- 2- اتساع المساحات وتنوع المناخ

### أسباب ضخامة الانتاج السمكي لقارة أمريكا الشمالية

- 1- طول السواحل.
- 2- مرور التيارات البحرية
- 3- أساليب الصيد الحديثة ؟

### استخلص نتائج غنى القارة بالموارد الاقتصادية ؟

- 1- التقدم الاقتصادي.
- 2- ازدهار الصناعة .
- 3- وجود فائض التصدير.
- 4- ارتفاع مستوى المعيشة

### استخلص نتائج امتداد تضاريس القارة من الشمال للجنوب ؟

- 1- توغل المؤثرات المناخية القطبية إلى عمق القارة.
- 2- تنوع الأقاليم المناخية في القارة.
- 3- وقوع معظم القارة في المنطقة المعتدلة

وضح أهم مجالات العلاقات الإماراتية الأمريكية ؟

- 1- العلاقات السياسية = أ- علاقات استراتيجية متجذرة فقد كانت أمريكا 3 دولة تقيم علاقات دبلوماسية مع الإمارات.  
ب- التعاون لحل قضايا الشرق الأوسط
- 2- العلاقات الاقتصادية = الإمارات أكبر شريك تجاري في الشرق الأوسط  
ب- الإمارات أكبر مشغل ل بوينغ 777
- 3- العلاقات العلمية والتكنولوجية = موسم الخريف والتعاون الثقافي ل-  
أ- اطلاق حوار السياسات الاقتصادية بين البلدين.  
ب- تطبيق نظام التأشيرة الجديدة بين البلدين .  
ج- التدريب الهندسي والشاركة في تطوير المهارات.

### من خلال دراستك لقارة استراليا أجب عن الأسئلة التالية :

- 1- تتصدر أستراليا دول العالم في انتاج الصوف الخام ؟  
لأنها تملك أعداد كبيرة من الأغنام.
- 2- يمثل القمح المحصول الرئيسي للدولة ؟  
لأنه يمثل نصف المساحة المزروعة .
- 3- وضح مميزات النظام التعليمي في أستراليا ؟  
أ- أمن وحديث ومتعدد الثقافات وديمقراطي  
ب- معتمد من قبل الحكومة والتدريس ي  
تم من قبل مدرسين عالميين.  
ج- منخفض التكاليف



السؤال الأول : انظر الخريطة المجاورة على اليسار

وأجب عن الأسئلة التي تليها .

1- من خلال الخريطة حدد الموقع الفلكي لقارة أستراليا؟

.....  
 .....

2- حدد على الخريطة الدول والبحار

المجاورة للقارة بكتابتها في مواقعها؟

3- حدد على الخريطة المدن التالية مستخدما الرمز كانبيرا ، ملبورن ، سدني ، أدليد ، بيرث

4- حدد على الخريطة المظاهر الجغرافية التالية:  
 سلسلة المرتفعات الشرقية العظمى

+ السهول الوسطى

+ الهضبة الغربية

نهر فلندرز + نهر دارلنغ

5- حدد تسمانيا + نيوزلندا + خليج كارينتاريا +

بحيرة تورنس + الخليج الأسترالي الكبير

+ مضيق باس + ارسم مدار الجدي

ملخص اجتماعيات «16» الفصل الثاني الصف السابع اعداد : ابراهيم محمد

- السؤال الأول : ضع دائرة حول رمز الجواب الصحيح
- 1- تتميز بسلسلة أشرعة بيضاء وسقف يميزها كدار للموسيقى  
أ- دار أوبرا سيدني ب- أوبرا دبي ج- فانكوفر
- 2- تتخذ شكل مركب " الدهو " يلفت الانتباه لها كدار للفنون:  
أ- دار أوبرا سيدني ب- أوبرا دبي ج- فانكوفر
- 3- "المحافظة على سمعت الإمارات مسؤولية الجميع":  
أ- الشيخ محمد بن زايد ب- الشيخ محمد بن راشد ج- الشيخ زايد
- 4- فرع لجامعة أستراليا في دبي :  
أ- السوربون ب- نيويورك ج- ولونغونغ
- 5- تتصدر دول العالم في تصدير الفحم وهي الخامسة في انتاجه.  
أ- فرنسا ب- أستراليا ج المملكة المتحدة
- 6- تتصدر أستراليا دول العالم في تربية :  
أ- الأبقار ب- الماعز ج- الأغنام
- 7- تعتمد الزراعة على مياه الآبار الإرتوازية في :  
أ- الولايات المتحدة ب- كندا ج- أستراليا
- 8- يحتل نصف المساحة المزروعة وهو المحصول الرئيسي في أستراليا:  
أ- القمح ب- الأرز ج- الذرة
- 9- عددهم 31 مليون ويعيش 95 % منهم في المدن :  
أ- سكان قارة أستراليا ب- سكان دولة فرنسا ج- سكان بريطانيا
- 10- من أبرز المعالم السياحية في أم القيوين :  
أ- قلعة الفجيرة ب- حديقة آيسلند ج- جزيرة السنينية.
- 11- أمر الشيخ زايد رحمه الله ببناء 400 وحدة سكنية ثم أضاف 500 في:  
أ- رأس الخيمة والفجيرة وعجمان ب- في دبي ج- في أبوظبي.
- 12- قام بإعفاء الموزارعين والصيادين من الديون وبنى السدود والطرق  
أ- في كل أنحاء الدولة ب- في دبي ج- في أبوظبي.
- 13- تعادل 1 % من مساحة الدولة :  
أ- الفجيرة ب- أم القيوين ج - عجمان
- 14- الإمارة الوحيدة التي تقع بالكامل على الساحل الشرقي :  
أ- الشارقة ب- الفجيرة ج- رأس الخيمة
- 15- تتبع استراليا عدة جزر أهمها  
أ- تسمانيا ب- جرينلند ج- آيسلند.
- 16- دائرة العرض الرئيسية التي تقطع استراليا  
أ- مدار السرطان ب- دائرة الاستواء ج- مدار الجدي
- 17- يحد استراليا من جهة الشمال بحران هما :  
أ- الكاريبي والمكسيك ب- تيمور وأرافورا ج - المانش وبسكيا
- 18- يتميز الإقليم الموسمي في استراليا بارتفاع الحرارة والأمطار في :  
أ- فصل الصيف الجنوبي ب- الشتاء الجنوبي ج- الشتاء الشمالي
- 19- تولد الطاقة الكهربائية وتزود الولايات المتحدة وكندا بمياه الشرب :  
أ- نهر المسيسيبي ب- شلالات نياجرا ج - الأبار الارتوازية
- 20- مرتفعات قديمة النشأة صنعت بينها وبين الأطلنطي سهول رسوبية :  
أ- البينين ب- مكدونال ج - الأبلاش
- 21- أكبر سلسلة جبلية في قارة أوروبا :  
أ- الألب ب- روكي ج-السلسلة الشرقية
- 22- يستخدم الملح الموجود على أوراقها كبديل للملح:  
أ- الرمث ب- الطرفة ج- القرم
- 23- يستعمل لصناعة الصابون :  
أ- الرمث ب- الأشخر ج- الحنظل
- 24- ضم خبرات وتجارب العلماء المسلمين:  
أ- الطب الشعبي ب- الطب الحديث ج- الطب المعتمد على الذكاء الاصطناعي
- 25- أكثر من 70 % من الأنواع النباتية الإماراتية توجد في :  
أ- غربب الدولة ب- جنوب الدولة ج- شمال الدولة.
- 26- تخزن المياه في أجزائها ومنها من تمتد جذورها عميقاً :  
أ- الغابات النفضية ب- النباتات الصحراوية ج- الغابات الاستوائية.
- 27- المبادرون بمشروع التمييز بين أشجار النخيل :  
أ- وزارة التغير المناخي والبيئة ب- هيئة ابوظبي للبيئة ج -الشارقة
- 28- الشتاء القصير والصيف الجاف والطويل جعل الإمارات تتميز ب :  
أ- الطبيعة النباتية الفقيرة ب- الطبيعة النباتية الغنية ج- الغابات الكثيفة
- 29- تبنى حاكم الشارقة مشروع الحديقة الإسلامية بالتعاون مع :  
أ- السيسكو ب- الإيسكو ج- اليونيسكو



ملخص اجتماعيات «17» الفصل الثاني الصف السابع اعداد : ابراهيم محمد

ما الفرق بين متحف المستقبل ومتحف الشارقة  
للحضارة الإسلامية ؟  
**متحف المستقبل** : هو متحف يضم مختبرات  
للإبتكار في مجالات الخدمات والمدن الذكية  
ويهدف لحل المشكلات التي تواجه مدن  
المستقبل.

**متحف الشارقة للحضارة الإسلامية** : متحف  
يعرض قطع أثرية إسلامية قديمة وتفاصيل  
مهمة من التاريخ الإسلامي كما ويعرض  
الفنون الإسلامية بأبهى صورها.

السؤال الأول : ضع دائرة حول رمز الجواب الصحيح

- 1- تشكل أبوظبي من مساحة الدولة ما نسبته :  
أ- 67 %      ب- 78 %      ج- 87 %
- 2- استلم الشيخ زايد الحكم في إمارة أبوظبي في :  
أ- 6 - 6 - 1966      ب- في 6-8-1966      ج 8-8-1966
- 3- شيد الشيخ زايد المدينة الرياضية في أبوظبي في:  
أ- 1979      ب- 1989      ج 1999
- 4- استغرقت زيارات الشيخ زايد لإمارات الدولة مدة :  
أ- شهرين      ب- شهر      ج- نصف شهر
- 5- متحف المستقبل ومتحف الشارقة .  
أ- الأول في الشارقة      ب- الثاني في دبي      ج الأول في دبي والثاني في الشارقة

وضح أهم الأعمال والمبادرات التي قام بها الشيخ زايد في الإمارات التالية :

أم القيوين

- 1- توفير المساكن والخدمات •
- 2- مساعدة المزارعين والاطلاع على التطور الزراعي في فلج المعلا •

رأس الخيمة

- 1- زيارة الطويين وإعفاء المزارعين والصيادين من نصف ديونهم •
- 2- المساهمة في تخطيط الحدود بين رأس الخيمة والفجيرة •

الفجيرة

- 1- بناء الطرق لربط الفجيرة مع الإمارات الأخرى •
- 2- توفير السكن والخدمات التعليمية والصحية •

دبي

- 1- توظيف خريجي الجامعات من دبي في السلك البلوماسي •
- 2- إنشاء طريق معبد إضافي يربط أبوظبي بدبي •

الشارقة

- 1- تقديم الأراضي الزراعية لـ 70 عائلة محتاجة في الشارقة •
- 2- زيادة المنح لتمكين المواطنين من بناء منازل لهم •

عجمان

- 1- تزويد إمارة عجمان بالكهرباء •
- 2- توفي الخدمات والطرق والوظائف والسكن •

ملخص اجتماعيات «18» الفصل الثاني الصف السابع اعداد : ابراهيم محمد



1- اكتب اسم كل دولة من الدول التالية في داخلها ؟  
- روسيا الاتحادية - الصين - كندا  
- الولايات المتحدة - استراليا - البرازيل  
- جرينلاند

2- لون الدول التالية باللون الأخضر ؟  
فرنسا - الأردن - الإمارات - اليابان  
- المكسيك

2- لون الدول التالية باللون الأحمر ؟  
- بريطانيا - اندونيسيا - نيوزلند  
- بواغينيا

لون الدول باللون الأصفر ؟  
- السعودية - اسبانيا - هولندا  
- اليمن - كولومبيا - ايطاليا