




الإمارات العربية المتحدة
وزارة التربية والتعليم

الدراسات الاجتماعية والتربية الوطنية

دليل المعلم



1

2

3

الصف الرابع

طبعة تجريبية 1438 - 1439 هـ / 2017 - 2018 م

أَعْرِفْ بِلَادِي



رِحْلَةُ الْمَعْرِفَةِ [خُطُوطُ الطُّولِ وَدَوَائِرُ الْعَرْضِ]	الدَّرْسُ الْأَوَّلُ
مَوْقِعُ بِلَادِي	الدَّرْسُ الثَّانِي
طَبِيعَةُ بِلَادِي 1 [الْجِبَالُ وَالسُّهُولُ]	الدَّرْسُ الثَّلَاثُ
طَبِيعَةُ بِلَادِي 2 [الْجُرُزُ وَالْكُثْبَانُ الرَّمْلِيَّةُ]	الدَّرْسُ الرَّابِعُ
المُنَاخُ وَالْحَيَاةُ الطَّبِيعِيَّةُ فِي بِلَادِي	الدَّرْسُ الْخَامِسُ

◀ أَلْوَنُ وَأَدَوْنُ

- أَلْوَنُ الْقَارَاتِ بِاللَّوْنِ ● وَالْبَحَارَ وَالْمُحِيطَاتِ بِاللَّوْنِ ● عَلَى خَرِيطَةِ الْعَالَمِ.



خريطة العالم

- أَسْتَكْمِلُ أَسْمَاءَ الْقَارَاتِ وَالْمُحِيطَاتِ وَفَقَّ الْجَدُولِ الْآتِي:

العَدَدُ	القَارَاتُ	المُحِيطَاتُ
1	القَارَةُ الْقُطْبِيَّةُ الْجَنُوبِيَّةُ	المُحِيطُ الْمُتَجَمِّدُ السَّمَالِيُّ
2	آسِيَا	المحيط الأطلسي
3	أفريقيَا	المحيط الهادي
4	أوروبَا	المحيط الهندي
5	أمريكا الشماليَّة	المحيط المتجمد الجنوبي
6	أمريكا الجنوبيَّة	
7	أسترايَا	
المَجْمُوعُ	عَدَدُ الْقَارَاتِ 7	عَدَدُ الْمُحِيطَاتِ 5

- أتأملُ الخريظة السّياسيّة لِقارة آسيا، ثمّ أحيبُ عَمّا يأتي:



خريظة آسيا السّياسيّة

- 1- تَقَعُ اليابانُ في قارةِ آسيا.....
 - 2- يَحُدُّ قارةَ آسيا مِن جِهَةِ الشّمالِ المُحيطُ المتجمد الشمالي.....
 - 3- تَطُلُّ الهِنْدُ مِن جِهَةِ الجَنوبِ عَلى المُحيطِ الهندي.....
 - 4- تُجاوِزُ دَوْلَةُ الصّينِ مِن جِهَةِ الشّمالِ دَوْلَةَ منغوليا - روسيا.....
- أَسْتنتِجُ أَهَمّيّةُ الخريظةِ السّياسيّةِ:

يترك للمتعلم

التعرف على الحدود السياسية للدول
معرفة أسماء الدول وأماكنها

◀ أختبر معلوماتي

- استكمل الأشكال الآتية بالكلمات المناسبة لها: [جرينتش - الطول - الموقع الفلكي]

يُسمى موقع المكان بالنسبة
إلى خطوط الطول ودوائر
العرض
بالموقع الفلكي

يُعرف خط الطول
الرئيسي بخط
جرينتش



يطلق عليها خطوط
الاستواء

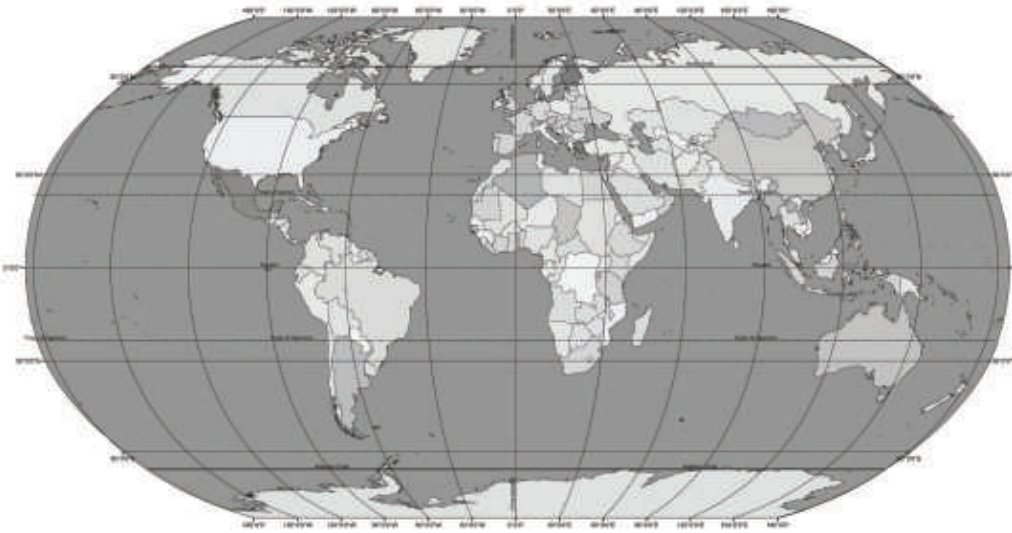
◀ أحدد وألون

- أحدد على الخريطة:

- خط الطول الرئيسي باللون



مهارة للمتعلم



خريطة العالم

◀ أفكر وأحسب

- أتوصل إلى العملية الحسابية الآتية:

- أجمع خطوط الطول: 180 خطاً شرقاً

+

180 خطاً غرباً

المجموع 360 خطاً طولياً

الحصة الثالثة [ثالثاً: الموقع الفلكي (دوائر العرض)]

التمهيد " التهيئة "

- استخدام السرد القصصي وذلك استكمالاً للجزء الثالث من رحلة المعرفة.
- يختار المعلم أي تهيئة تناسب الدرس.

[5 دقائق]

العرض

المدى الزمني	التقويم البنائي	الأساليب والأنشطة	خطوات التنفيذ
[35] دقيقة	<ul style="list-style-type: none"> • ما المقصود بدوائر العرض. • فسر أهمية دراسة دوائر العرض. 	<ul style="list-style-type: none"> - أراجع مراجعه عامه على الدرس الأول والثاني كاملاً واربط موضوعاته ببعضها، لتثبيت في ذهن المتعلمين. - اعزز إجابات المتعلمين مادياً ومعنويات. - توزيع الأدوار بين الطلبة لتمثيل القصة ورفاقه بصور داعمة للقصة باستخدام البوربوينت. - فتح باب الحوار والمناقشة للقصة. 	الحصة الثالثة

خلاصة الدرس - غلق الحصة [5 دقائق]

- اطرح على المتعلمين السؤال التالي: ماذا تعلمنا من هذا الدرس؟

التقويم الختامي

- استكمل الشبكة الذهنية المصورة المتعلقة بالموقع الجغرافي الواردة في ختام الدرس الأول.
- اختر استراتيجية التقويم التي تراها مناسبة لقياس أثر التعلم ونتجه.

• أَطَبُّقُ مَا تَعَلَّمْتُ

◀ أُخْتَبِرُ مَعْلُومَاتِي

أُفَسِّرُ مَا يَأْتِي:

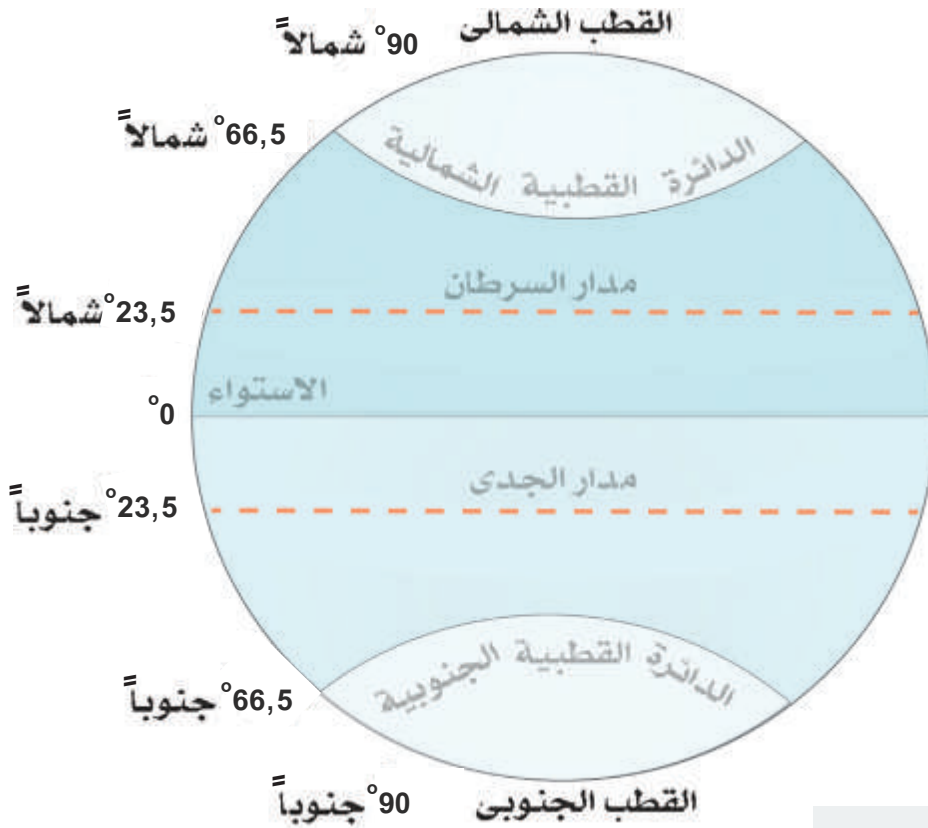
- أَهْمِيَّةُ دِرَاسَةِ دَوَائِرِ الْعَرْضِ؟

- تحديد المواقع - نعرف المناخ والنبات الطبيعي

أَلِحْظْ وَأُجِيبْ

- أَصْعُ عَلامَة (√) أَمَامَ العِبارَة الصَّحيحة وَعَلامَة (×) أَمَامَ العِبار اتِ غَيرِ الصَّحيحة فِيمَا يَلي:

- 1- يَقع مَدَارُ السَّرطانِ في نِصفِ الكُرَة الجَنوبيِّ. [×]
- 2- يُقسَّمُ حَظُّ الاسْتِواءِ الكُرَة الأَرْضِيَّةَ إلى نِصفَينِ شَماليِّ وَجَنوبيِّ. [√]
- 3- مَدَارُ الجِدي يَقعُ شَمالَ حَظِّ الاسْتِواءِ. [×]
- 4- تُعرَّفُ دائِرَة العَرَضِ الرِّئِيسَة بِحَظِّ جَرِنتش. [×]
- 5- يَمُرُّ حَظُّ الاسْتِواءِ عِنْدَ دائِرَة عَرَضِ صِفْر. [√]
- 6- القُطبُ الشَّماليُّ عِنْدَ دائِرَة عَرَضِ 23,5 شَمالاً. [×]



اربط مع الرِّياضيَّات

أفكِّرْ وَأحْسِبْ

- اتَّوَصَّلْ إلى العَمَلِيَّةِ الحِسابِيَّةِ الآتيَّةِ :

- أطرَحْ دوائِرَ العَرَضِ: 180 دائِرَة عَرَضِيَّة

90 دائِرَة شَمالاً

المَجْموعُ90..... دائِرَة جَنوباً

الموقع الجغرافي

الموقع الفلكي هو:
موقع المكان بالنسبة إلى

الموقع النسبي هو:
موقع المكان بالنسبة إلى

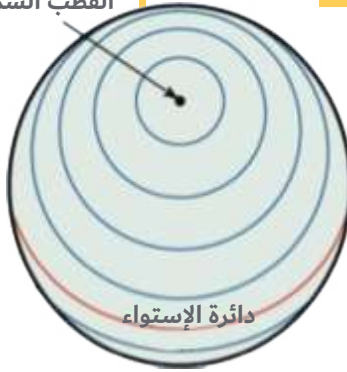


القارات

الدول

الخط الرئيسي

القطب الشمالي



خطوط الطول

دوائر العرض

◀ أَفَكِّرُ وَأَسَجِّلُ

- أَسْتَكْمِلُ الْجَدُولَ الْآتِيَّ مِنْ خِلَالِ تَوْصِيلِ الْمَجْمُوعَةِ (أ) بِالْمَجْمُوعَةِ (ب):

ب

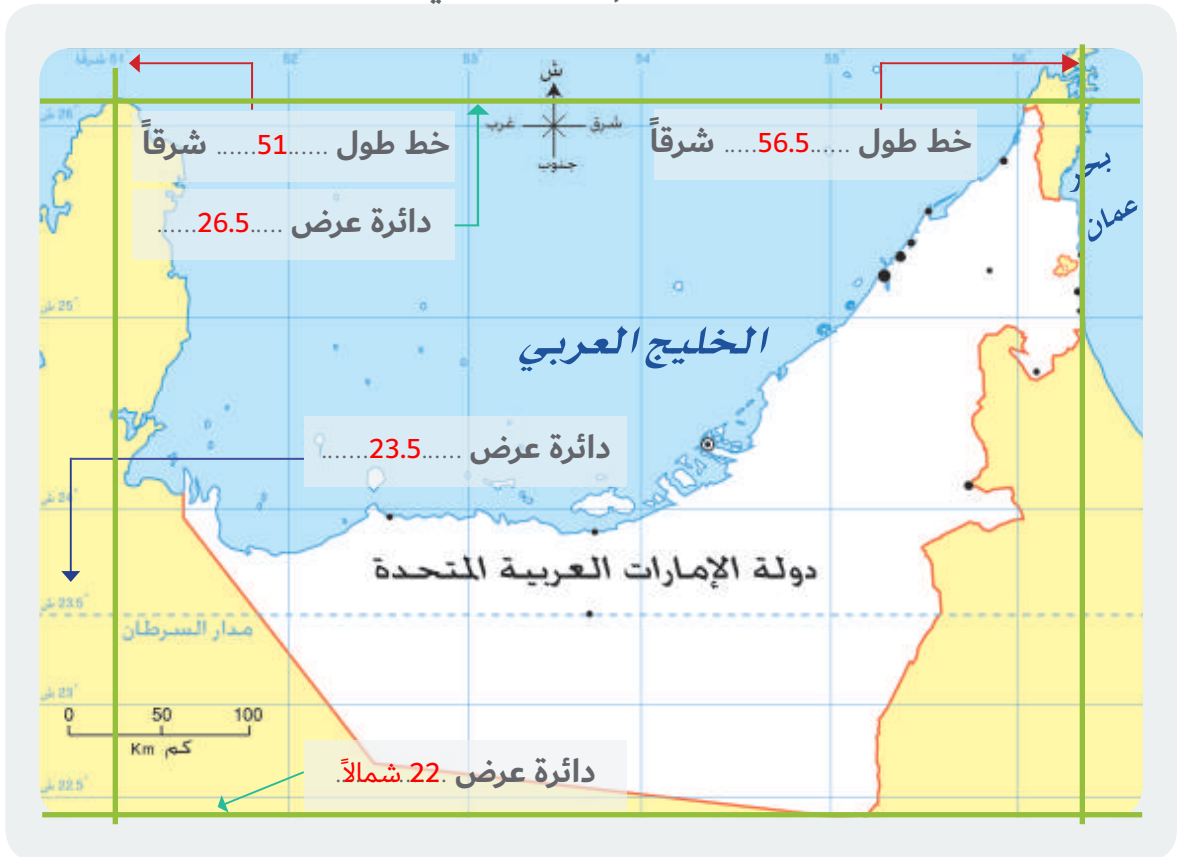
- خليفة بن زايد آل نهيان
- أبوظبي
- 83,600 كم²
- 2 ديسمبر 1971م

أ

- تُسَمَّى عَاصِمَةَ دَوْلَةِ الْإِمَارَاتِ الْعَرَبِيَّةِ الْمُتَحَدَةِ
- تَبْلُغُ مَسَاحَةَ دَوْلَةِ الْإِمَارَاتِ الْعَرَبِيَّةِ الْمُتَحَدَةِ
- تَأَسَّسَتْ دَوْلَةُ الْإِمَارَاتِ الْعَرَبِيَّةِ الْمُتَحَدَةِ فِي
- يَحْكُمُ دَوْلَةَ الْإِمَارَاتِ الْعَرَبِيَّةِ الْمُتَحَدَةِ صَاحِبُ السُّمُوِّ الشَّيْخِ

◀ الْأَحِظُ وَأَسْتَكْشِفُ

- أَقْرَأُ خَرِيْطَةَ دَوْلَةِ الْإِمَارَاتِ الْعَرَبِيَّةِ الْمُتَحَدَةِ، ثُمَّ أَسْتَكْمِلُ الْآتِيَّ:



اربط مع الرياضيات

◀ أَفَكِّرُ وَأَحْسِبُ

- أَتَوَصَّلُ إِلَى الْعَمَلِيَّةِ الْحَسَابِيَّةِ الْآتِيَّةِ:

- عَدَّدُ دَوَائِرَ الْعَرْضِ الَّتِي تَقَعُ عَلَيْهَا دَوْلَةُ الْإِمَارَاتِ الْعَرَبِيَّةِ الْمُتَحَدَةِ:

26.5 شَمَالاً
22 شَمَالاً

المجموع 4.5 دائرة عرضية



خريطة الوطن العربي

أبحث: في أي قارات العالم تَمْتَدُّ الدُولُ العَرَبِيَّةُ؟

أفريقيا - آسيا

■ الإمارات والعالم:

أصبحت دولة الإمارات العربية المتحدة بهذا الموقع المُمَيِّزِ دولة تَمْتَعُ بالتجانس وحسن الجوار مع شقيقاتها الدول العَرَبِيَّةِ المُجاوِرة ودول العالم. وقد تَأَصَّلَت قِيَمُ السَّنَعِ المُتَعَلِّقَةِ بالجيرانِ في مُجْتَمَعِنَا المَحَلِّيِّ مُنْذُ وُجِدَ هذا المُجْتَمَعُ، وَمِنْ أُنْبَرِ مَظَاهِرِهِ اخْتِرَامُ حُرْمَةِ الجارِ وَمَدُّ يَدِ العَوْنِ لَهُم.

◀ أَحْتَبِرُ مَعْلُومَاتِي

- أَكُونُ حَقَائِقَ جُغْرَافِيَّةً مِنْ خِلَالِ وَضْعِ الْكَلِمَاتِ الْآتِيَةِ بِمَكَانِهَا الْمُنَاسِبِ:

[الشَّرْقِيَّةُ - شِبْهُ الْجَزِيرَةِ الْعَرَبِيَّةِ - وَسْطُ]

تَقَعُ دَوْلَةُ الْإِمَارَاتِ الْعَرَبِيَّةِ
الْمُتَّحِدَةِ فِي وَسْطِ الْعَالَمِ.



تَمْتَدُّ دَوْلَةُ الْإِمَارَاتِ الْعَرَبِيَّةِ
الْمُتَّحِدَةِ فِي شَرْقِ
شِبْهِ الْجَزِيرَةِ الْعَرَبِيَّةِ



تَقَعُ دَوْلَةُ الْإِمَارَاتِ
الْعَرَبِيَّةِ الْمُتَّحِدَةِ فِي
النَّاحِيَةِ الشَّرْقِيَّةِ مِنَ
الْوَطَنِ الْعَرَبِيِّ.



- اسْجَلْ حُدُودَ دَوْلَةِ الإِمَارَاتِ العَرَبِيَّةِ المِتَّحِدَةِ فِي الخَرِيْطَةِ الآتِيَةِ:

الخَلِيجُ العَرَبِي

دَوْلَةُ قَطْر
السَّعُودِيَّة



بَحْرُ عَمَان

دَوْلَةُ عَمَان

دولة.....السعودية.....



■ اِكْتُبِ الدُّرُوسَ المُسْتَفَادَةَ مِنْ

المَقُولَةِ الآتِيَةِ:

[إِنَّا نَسْعَى إِلَى السَّلَامِ وَنَحْتَرِمُ حَقَّ

الجَوَارِ وَنَزْعَى الصَّدِيقِ]

المَغْفُورُ لَهُ - بِإِذْنِ اللّٰهِ- الشَّيْخُ زَايِدُ بِنِ سُلْطَانَ

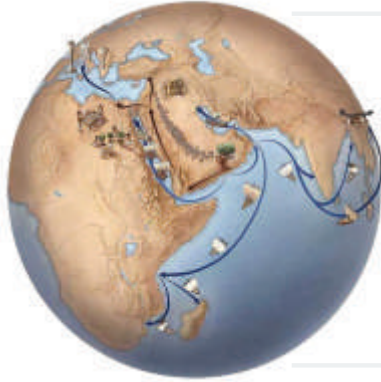
عَلَاقَاتِ الجَوَارِ الجَيِّدَةِ مَعَ
الدُّوَلِ المَجَاوِرَةِ وَمَعَ جَمِيعِ
دُولِ العَالَمِ.

◀ الأحيظ وأصنّف

- استخلص أهميّة الموقع الجغرافي بناءً على الصور الآتية:



تاريخية



تقبل الإجابة الصحيحة

اقتصادية



استراتيجية

◀ أفكّر وأجيب

- ما المقصود بتجارة الترانزيت؟

..... استيراد السلع وإعادة تصديرها إلى دول العالم

◀ أختبر معلوماتي

- من خلال دراستك لأهميّة الموقع الجغرافي لدولة الإمارات العربيّة المتّحدة، استخرج ما يأتي:

تقع في قلب العالم القديم

1- حقيقة جغرافية:

على طرق التجارة العالمية

2- حقيقة اقتصادية:

مهد للحضارات

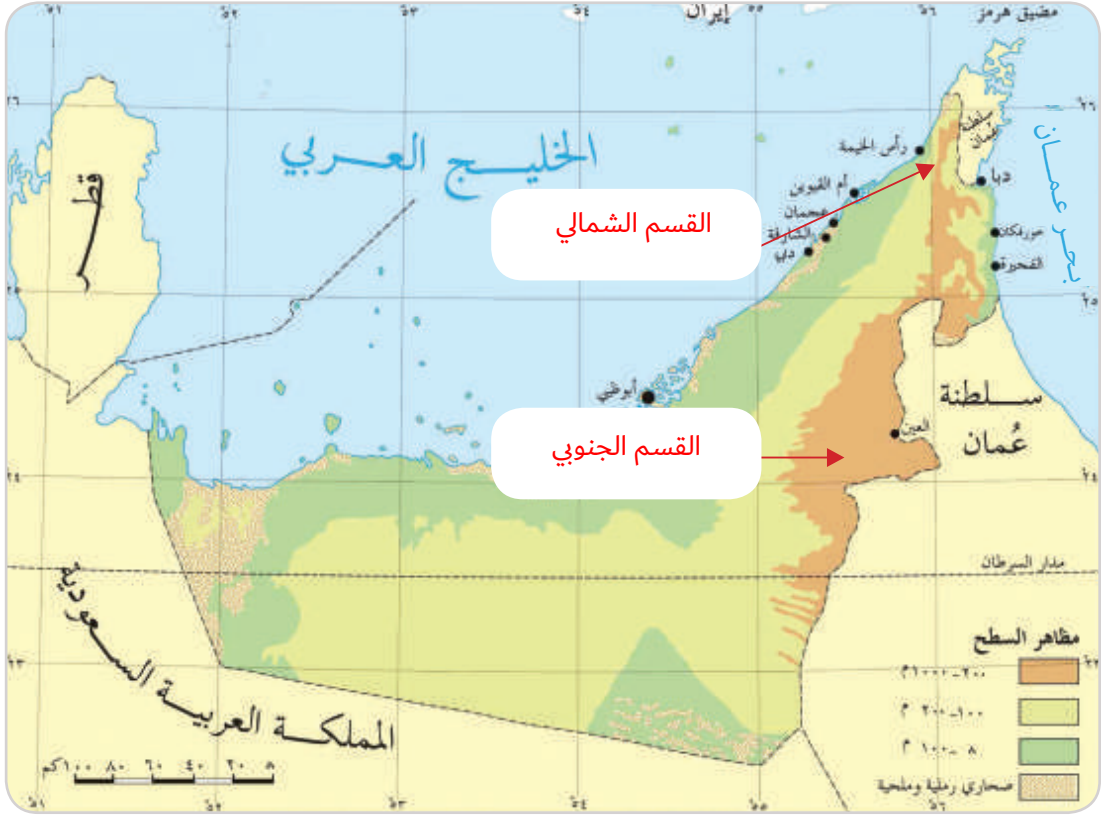
3- حقيقة تاريخية:

القيادة الحكيمة والأمن والأمان

4- نعمة نَشْكُرُ اللهَ عَلَيْهَا.

◀ الأَحِظْ وَأَحَدِّدْ

- أَضَعُ مُسَمِّيَاتِ الْجِبَالِ فِي مَوْجِعِهَا الْمُنَاسِبِ عَلَى الْخَرِيْطَةِ: [الْقِسْمُ الشَّمَالِيُّ - الْقِسْمُ الْجَنُوبِيُّ]



تضاريس دولة الإمارات العربية المتحدة

◀ أَتَأَمَّلُ وَأَسْتَكْشِفُ

- أَتَأَمَّلُ الصُّورَةَ، ثُمَّ أَجِيبُ عَمَّا يَأْتِي:



• وَجَّهْ نَصِيحَةً لِأَصْدِقَائِكَ عِنْدَ جَرْيَانِ الْأُودِيَّةِ؟

تقبل الإجابة الصحيحة

.....

الابتعاد عن مجرى
الأودية لعدم التعرض
للخطر

أفكر وأقتر

- أضع إشارة (√) على الصورة الأكثر فائدة للدولة عن أهمية الجبال من وجهة نظري الشخصية مع ذكر السبب.

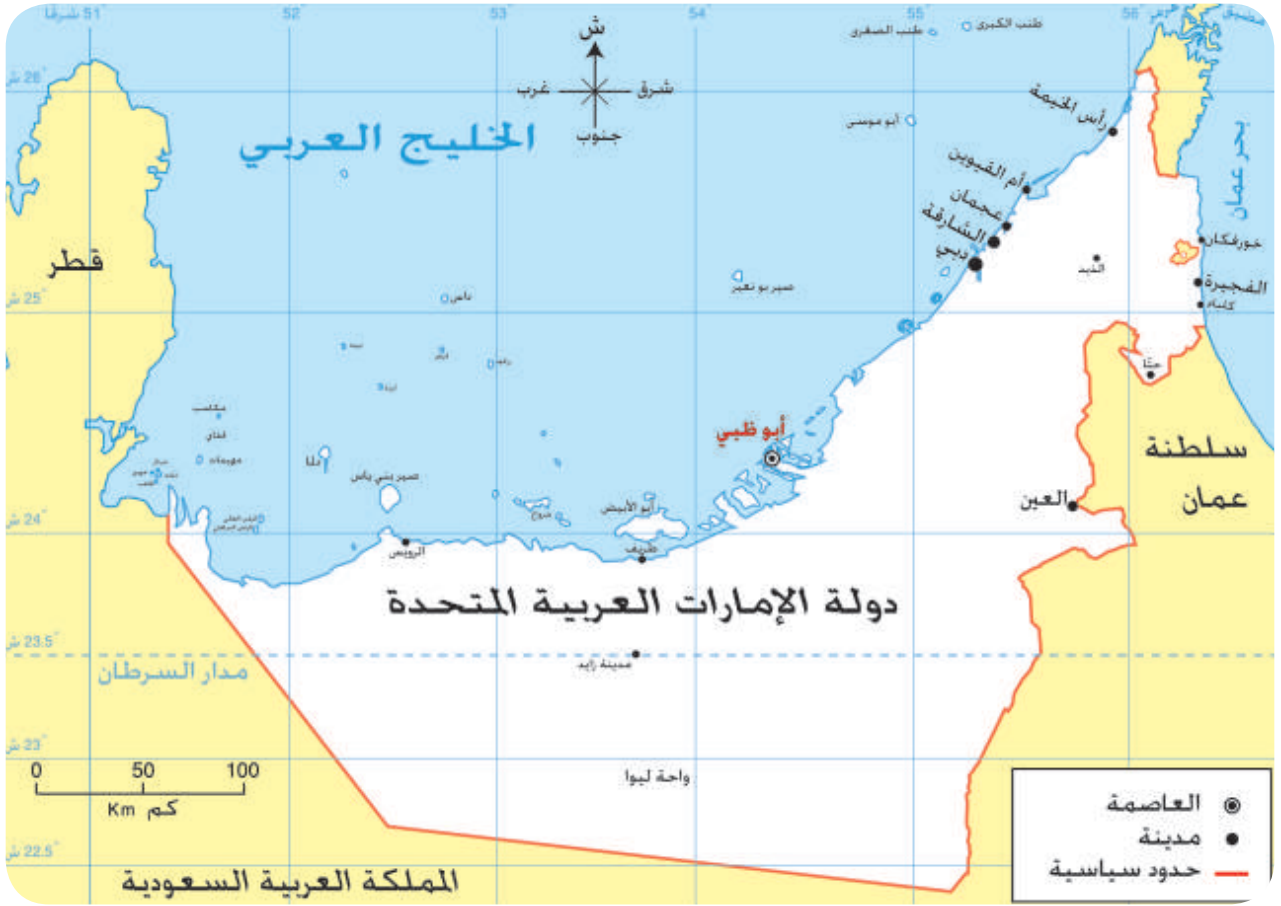


• السبب:

لان المياه هي أساس الحياة ومنها تأتي الزراعة
وتستغل موارد البناء وتنشط الحركة السياحية

◀ الْأِحْظُ وَأَسْجَلُ

- الْأِحْظُ الْخَرِيْطَةُ وَأَجِيبُ عَنِ الْأَسْئَلَةِ الْآتِيَةِ:



خريطة دولة الإمارات العربية المتحدة

- اسْتَكْمِلُ الْفَرَائِغَاتُ الْآتِيَةَ بِمَا يُنَاسِبُهَا مِنَ الْكَلِمَاتِ:

- 1- السهول تُعْتَبَرُ أَرْضٌ مُسَطَّحَةٌ قَلِيلَةَ الْإِرْتِفَاعِ.
- 2- يَتَمَيَّزُ السَّهْلُ السَّاحِلِيُّ الشَّرْقِيُّ بِضَيْقِهِ وَقِصْرِهِ وَذَلِكَ بِسَبَبِ قِرب الجبال
- 3- السَّهْلُ السَّاحِلِيُّ الْغَرْبِيِّ يَتَمَيَّزُ بِاتْسَاعِهِ وَطُولِهِ.

الشُّهُولُ السَّاحِلِيَّةُ



1- التجارة [الاستيراد والتصدير]



2- صيد الأسماك



3- ممارسة الهوايات البحرية

السُّهُولُ الدَّاخِلِيَّةُ

1- الزراعة



2- مياه العذبة



3- صناعة الفخار



أَحْطَظْ وَأَبْتَكِرْ

- أنا مواطنٌ مُبْتَكِرٌ أَحْطَظْ لِمَشَارِعِ مُسْتَقْبَلِيَّةٍ صَدِيقَةٍ لِلْبِيئَةِ فِي بِلَادِي:

• حَدَّدَ اسْمَ الْمَشْرُوعِ: إعادة التدوير (جمع كرتون البيض وعمل مجسم)

• مَوْقِعُ الْمَشْرُوعِ: المدرسة

• سَبَبُ اخْتِيَارِ الْمَوْقِعِ: حماية البيئة

◀ الأحيظ وأصِفْ

- أَسْتَتِيحُ تَعْرِيفاً لِلجَزيرة مِنْ جِلال الصُّورة الآتية؟

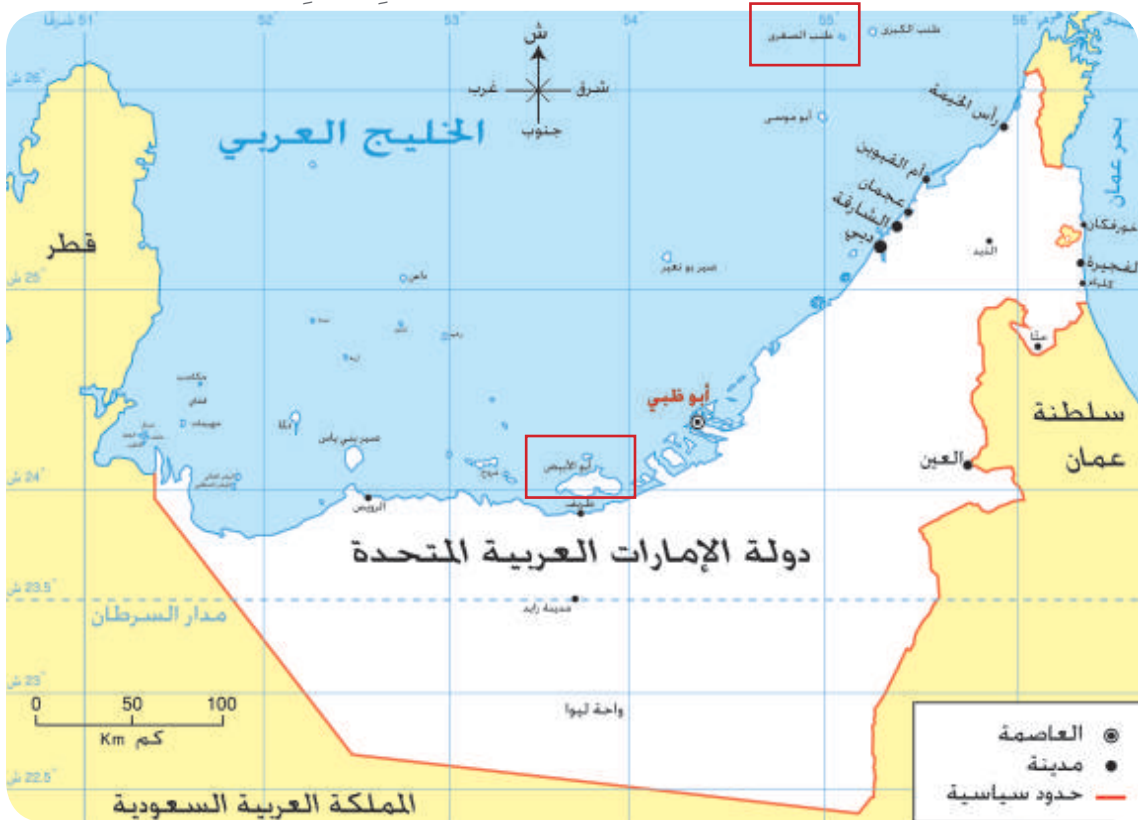
• الجَزيرة هي: **قطعة من اليابس محاطة بالمياه من جميع الجهات.**



◀ أفكِّر وأحدِّدْ

- أحدِّدْ عَلَى الخَريطةِ ما يَأْتِي:

- 1- أكْبَرُ الجُزرِ الإِمَاراتِيَّةِ **أبو الأبيض**
- 2- مِنْ أصْغَرِ الجُزرِ الإِمَاراتِيَّةِ **طنب الصغرى**



أفكّر وأحدّد

- أحدّد على الخريظة ما يأتي:
- 1- أكثر الجزر الإماراتية
 - 2- من أصغر الجزر الإماراتية



الأجظ وأصل

- أصل الأهميّة بالجزيرة المناسبة لها:



◀ الْأَحْظُ وَأَجِيبُ

- اسْتَخْلِصْ مِنَ الصُّورَةِ خَصَائِصَ الصَّحْرَاءِ، وَأَدَوِّئْهَا فِي مَكَانِهَا الْمُنَاسِبِ فِي الْجَدُولِ:



قلة النبات

قلة الأمطار

ارتفاع الحرارة

◀ أَخْتَبِرُ مَعْلُومَاتِي

- أَضَعُ عَلَامَةَ (√) أَوْ (x) أَمَامَ الْعِبَارَاتِ الْآتِيَةِ:

- 1- تَحْتَنِزُ صَحَارِي دَوْلَةِ الْإِمَارَاتِ الْعَرَبِيَّةِ الْمُتَّحِدَةِ فِي جَوْفِهَا كَمِّيَّاتٍ كَبِيرَةٍ مِنَ الْمِيَاهِ الْجَوْفِيَّةِ. [√]
- 2- اعْتَمَدَ سُكَّانُ الصَّحْرَاءِ عَلَى الصَّنَاعَةِ كَمَصْدَرٍ أَسَاسِيٍّ مِنْ مَصَادِرِ التَّنْمِيَّةِ الْاِقْتِصَادِيَّةِ. [x]
- 3- عَمَلَ سُكَّانُ الصَّحْرَاءِ عَلَى تَرْبِيَةِ الْإِبِلِ وَالْأَعْنَامِ وَالْأَبْقَارِ. [√]

◀ أَتَخَيَّلُ وَأَرْسُمُ

- أَرْسُمُ وَاحَةً فِي هَذِهِ الصَّحْرَاءِ.



◀ أَخْتَبِرُ مَعْلُومَاتِي

- تَحَيَّلْ نَفْسَكَ تَقُومُ بِرِحْلَةٍ فِي رُبُوعِ دَوْلَةِ الإِمَارَاتِ العَرَبِيَّةِ المِتْحَدَةِ - سَجِّلِ الظَّوَاهِرَ الَّتِي سَنَشَاهِدُهَا فِي هَذِهِ الرِّحْلَةِ:

جَوَانِبُ اسْتِغْلَالِهَا	الظَّوَاهِرُ الطَّبِيعِيَّةُ
الزراعة	الواحات
تربية الحيوانات	الصحراء
الزراعة - المياه	الوادي

تَضَارِيصُ بِلَادِي



سهول



جبال



جزر

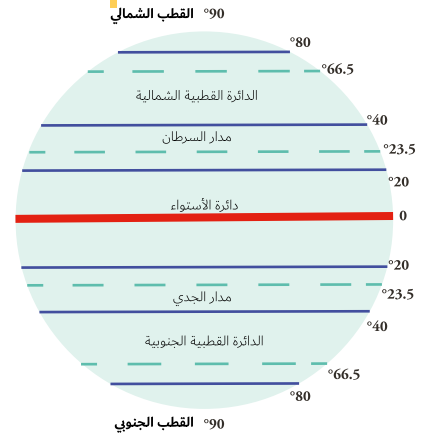


واحة

◀ **الْوَنُّ وَأَدَوْنُ**

- اسْتَكْمِلُ الشَّبَكَةَ الذَّهْنِيَّةَ الْآتِيَةَ:

العوامل المؤثرة في مناخ دولة الإمارات العربية المتحدة



3- التضاريس



1- الموقع بالنسبة لدوائر العرض

2- توزيع اليابس والماء

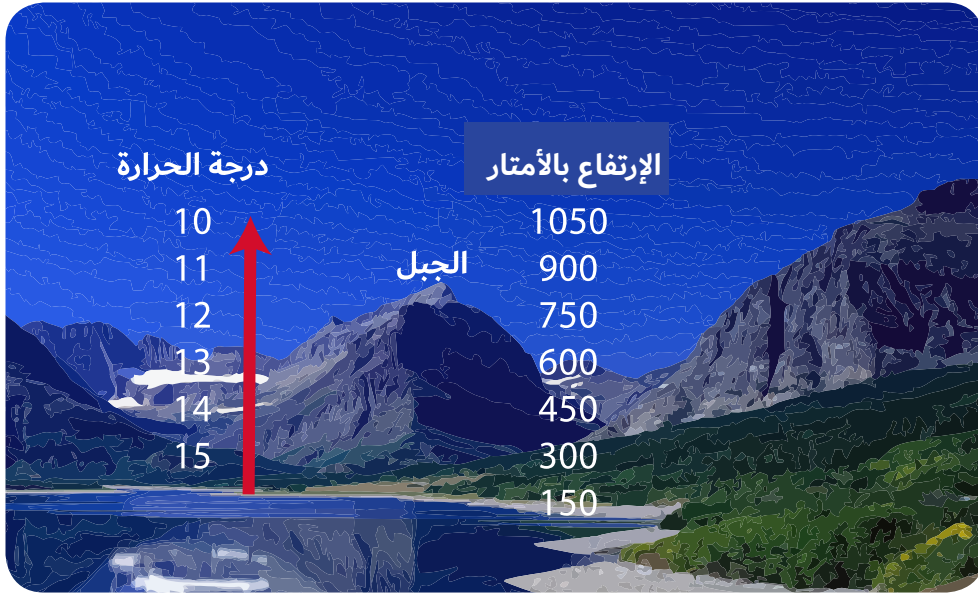
◀ **أَفْكَرْ وَأَقَارِنْ**

- أَقَارِنْ بَيْنَ فَصْلِي الشِّتَاءِ وَالصَّيْفِ فِي دَوْلَةِ الْإِمَارَاتِ الْعَرَبِيَّةِ الْمُتَّحِدَةِ، بِنَاءً عَلَى الْجَدْوَلِ الْآتِي:

فَصْلُ الشِّتَاءِ	فَصْلُ الصَّيْفِ	وَجْهُ الْمُقَارَنَةِ
منخفضة	مرتفعه	دَرَجَةُ الْحَرَارَةِ
ممطر	جاف	الْأَمْطَارِ

أَفَكِّرُ وَأُكَوِّنُ

- أَكُونُ تَعْمِيمًا جُغْرَافِيًّا مُسْتَعِينًا بِالصُّورَةِ وَالْكَلِمَاتِ الْمُسَاعِدَةِ:



• الكَلِمَاتُ الْمُسَاعِدَةُ: [الجِبَالُ - الحَرَارَةُ - الإِرْتِفَاعُ]

• التَّعْمِيمُ: كلما ارتفعنا إلى أعلى الجبال، انخفضت درجات الحرارة.

أَقْرَأُ وَأَحْلُلُ

- أَقْرَأُ الْجَدْوَلَ الْآتِيَّ لِمُتَوَسِّطَاتِ دَرَجَةِ الحَرَارَةِ لِمَدِينَةِ أَبُوطَيْبِي عَلَى مَدَى الْعَامِ، ثُمَّ أُجِيبُ عَلَى الْآتِي:

أشهُرُ السَّنَةِ	يناير	فبراير	مارس	أبريل	مايو	يونيو	يوليو	أغسطس	سبتمبر	أكتوبر	نوفمبر	ديسمبر
دَرَجَةُ الحَرَارَةِ	17.9	19	22	26.1	30.4	32.1	34.3	34.4	32.2	28.4	24	19.9

1- أَلَوْنُ أَعْلَى شَهْرٍ مِنْ حَيْثُ دَرَجَةُ الحَرَارَةِ [شَهْرُ... **أغسطس**.....]

2- أَسْتَخْرِجُ حَقِيقَةً جُغْرَافِيَّةً مِنَ الْجَدْوَلِ.

يترك للمتعلم

3- أَحَدُّ أَفْضَلِ شَهْرًا لِلسِّيَاحَةِ فِي إِمَارَةِ أَبُوطَيْبِي؟ [شَهْرُ... **يناير / فبراير / ديسمبر**.....]

◀ أَمَيِّرُ وَالْوَنُ

- أَلْوَنُ النَّبَاتَاتِ الْحَوْلِيَّةِ فِي دَوْلَةِ الْإِمَارَاتِ الْعَرَبِيَّةِ الْمُتَّحِدَةِ:

السَّمْرُ

الغافُ

الحميْضُ

المَرَاوُ

الْحُبَيْرُ

سدرٌ

◀ أَلْحِظْ وَاسْتَكْشِفْ

- أَفَسَّرْ تَنَوُّعَ الثَّرْوَةِ الْبَرِّيَّةِ بِدَوْلَةِ الْإِمَارَاتِ الْعَرَبِيَّةِ الْمُتَّحِدَةِ؟

تنوع المناخ

تنوع النبات

◀ أَصَمِّمْ وَأَعْبِّرْ

- أَصَمِّمْ بِطَاقَةِ شُكْرِ لِحُكُومَةِ الْإِمَارَاتِ الْعَرَبِيَّةِ الْمُتَّحِدَةِ لِمَا تَبَدَّلَهُ مِنْ جُھُودٍ لِلْحِفَاظِ عَلَى الْحَيَاةِ الطَّبِيعِيَّةِ فِي دَوْلَةِ الْإِمَارَاتِ الْعَرَبِيَّةِ الْمُتَّحِدَةِ.

يترك للمتعلم

مُنَاخٌ يَلَادِي

ما أَثَرُ الْمُنَاخِ فِي الْحَيَاةِ
الطَّبِيعِيَّةِ؟

ما نَوْعُهُ؟

قَارِي (حَار جَاف)




نَدْرَةُ الْغَطَاءِ النَّبَاتِي

نَدْرَةُ الثَّرْوَةِ الْحَيَوَانِيَّةِ




المشروع الثاني

- استكمل القصة المصورة ليلاذي مُستعينًا بِالِعبَارَاتِ المُرَفَّقةِ فِي صفحَة (113).







الإماراتُ قَبْلَ الاتِحَادِ	الدرس الأول
الفِكرُ الوَحْدَوِيُّ	الدرس الثاني
رِكَائِذُ مَنْ بِلَادِي	الدرس الثالث
مشروع الوحدة الثانية	

◀ مكانة الأجداد
بيت الأجداد هو الملتقى
الرئيس لأفراد الأسرة كافة
كباراً، وصغاراً، ورجالاً،
ونساءً، فالجميع يسعون
إلى التواصل مع آبائهم
الكبار، وأجدادهم، وقضاء
احتياجاتهم، مما يتيح
الفرصة أمام أبناء الأسرة
الواحدة ليجتمعوا ويلتقوا.

ذهبت مع جدي إلى بيتي القديم، فرأيت في عيني جنيًا للماضي العريق حيث أخذ يتذكر كيف كان يعيش مع أبيه وأعمامه وأبناءهم في بيت واحد تسوده المحبة والألفة، وأخبرني عن التمسك السائد للأسرة في دولة الإمارات العربية المتحدة قديماً هي الأسرة الممتدة التي تتكوّن من: ثلاثة أجيال أو أكثر، وهم [الجدان وأبناؤهما وزوجات آبائهم وأحفادهم]، ويُقيمون في مسكن واحد. فعلمت أن الأسرة هي الخلية الأساسية لبناء المجتمع.

• السنغ والمواجيب

عند زيارتك لجدك قبل رأسه ويده واجلس بقربه
وادع له بطول العمر.



- ◀ سمات الأسرة الإماراتية الممتدة قديماً
- 1- التعاون والتكافل والترابط بين أفراد الأسرة.
 - 2- تنعم الأسرة بالاستقرار الاجتماعي رغم صعوبة الحياة.
 - 3- يُعتبر الجد هو رب الأسرة.

◀ أفكّر

- أفسر ما يأتي:

• يعدّ الجد صاحب القرار في الأسرة الإماراتية القديمة.

كبار السن - الحكمة - الخبرة - تجارب الحياة

• أَطَبَّقُ مَا تَعَلَّمْتُ

◀ أَفَكَّرَ وَأَجِيبُ

- أَسَجِّلُ سِمَاتِ الْأُسْرَةِ الْمُمْتَدَّةِ فِي دَوْلَةِ الْإِمَارَاتِ الْعَرَبِيَّةِ الْمُتَّحِدَةِ قَدِيمًا.

الاحترام
المتبادل



التماسك

◀ أَسْتَنْبِحُ

- أَضَعُ الْمَفْهُومَ أَوْ الْمَصْطَلَحَ الدَّالَّ عَلَى الْعِبَارَةِ الْآتِيَةِ.

- تَتَكَوَّنُ مِنْ ثَلَاثَةِ أَجْزَالٍ أَوْ أَكْثَرَ هُمْ [الْحَدَاتُ] وَأَنَاؤُهُمَا وَرَوَّجَاتُ أَبْنَائِهِمْ وَأَحْفَادِهِمْ] وَيُقِيمُونَ فِي

الأسرة الممتدة

◀ أَلَا حِظُّ وَأَسْتَكْشِفُ

- أَسْتَخْلَصُ مِنَ الصُّورِ الْآتِيَةِ أَعْمَالَ الْمَرَأَةِ فِي دَوْلَةِ الْإِمَارَاتِ الْعَرَبِيَّةِ الْمُتَّحِدَةِ قَدِيمًا.



مطوعة



نقل الماء



طحن الحبوب



■ الإنسان الإماراتي والنخلة

النخلة كانت وما زالت في حياة الإنسان الإماراتي عنصراً مهماً، وهي شجرة معمرة، كما أنها شجرة صديقة للبيئة، وطالما أن فكرة الاستدامة قائمة في زراعة النخيل، فإن الثمر تظل باقية ومستمرة للأجيال القادمة.

فوائد النخلة

- ثمارها غذاءٌ
- يُصنَع من ليفها الجبالُ
- وُجِدَها وسَعَفُها للبناءِ

3- البيوت الجبلية: هي بيوت تُبنى فوق سفوح الجبال من الأحجار الجبلية مَرصُوصةً بَعْضُها بِجَانِبِ البَعْضِ وَلَهَا سُقُوفٌ مِنْ سَعَفِ النخيلِ مُنخَفِصَةِ المُستوى.



◀ أقوال التابي المؤسس:



"على شغينا ألا يتسى ماضية
وأسلافه، كيف عاشوا وعلى ماذا
اعتمدوا في حياتهم، وكلما أحس
الناس بماضيهم أكثر، وعرفوا ثرائهم،
أصبحوا أكثر اهتماماً ببلادهم، وأكثر
استعداداً للدفاع عنها"

المغفور له - بإذن الله - الشيخ زايد بن سلطان آل نهيان

4- بيت الشعير: هو أشهر البيوت البدوية، ويُعتبر من رموز التراث الإماراتي الأصيل، من خلاله نُقدِّمُ واجبات الضيافة وأصول السنع والمواجيب للضيوف، ويُصنَع من شجر الماعز وصوف الغنم الذي يتم عزله إلى أشكال جميلة وصناعته (جرفة السدو).



هو أحد أنواع النسيج البدوي التقليدي الذي ينتشر في التقاليد البدوية، وخاصة في شبه الجزيرة العربية

■ إبحث

ما المقصود بالسدو [...]

◀ أَرَبَطُ وَأَدَوُّنُ

- مِنْ خِلَالِ الصُّورِ أَكْتُبُ مَوَادِّ الْبِنَاءِ الْمُسْتَحْدَمَةَ فِي الْمَبَانِي الْآتِيَةِ:



شعر الماعز



الحجر



سعف النخيل

◀ أَقْرَأُ وَأَصْنَفُ

- أَصْنَفُ الْكَلِمَاتُ التَّالِيَةَ حَسَبَ مُعْطِيَاتِ الْجَدُولِ الْآتِي:

[تَيْتُ الشَّعْرِ - الْعَرِيشُ - تَيْتُ الْحَصَى - تَيْتُ الظَّنِّ]

المشكن

بيت الحصى

بيت الشعر

العريش

البيئة

الجبليَّة

البدويَّة

السَّاحِلِيَّة [الْحَضْرِيَّة]

◀ أَفَكِّرُ وَأُجِيبُ

- أَضَعُ دَائِرَةً حَوْلَ الْإِجَابَةِ الصَّحِيحَةِ مِنْ بَيْنِ الْبَدَائِلِ:

1- مِنْ أَشْهُرِ بِيوتِ الْبَدْوِ هِيَ:

تَيْتُ الْجِبَالِ - تَيْتُ الظَّنِّ - تَيْتُ الشَّعْرِ

2- يَعْْمَلُ عَلَى إِدْخَالِ الْهَوَاءِ الْبَارِدِ إِلَى أَهْلِ الدَّارِ

التَّراجيلُ - الْبَابُ - الْجِدَارُ

3- يُصْنَعُ مِنْ لَيْفِ النَّخْلِ:

الْعَرِيشُ - الْجِبَالُ - السَّرْوَدُ

■ **الميلادُ الأوَّلُ لِمَدَارِسِ التَّعْلِيمِ شِبْهُ النِّظَامِيِّ**
 النِّظَامِيِّ كَانَ فِي الشَّارِقَةِ بِالمَدْرَسَةِ [التَّيْمِيَّةِ
 المَحْمُودِيَّةِ] الَّتِي أسَّسَهَا الشَّيْخُ عَلِيُّ بْنُ مُحَمَّدِ
 المَحْمُودِ التَّمِيمِيِّ، وَهَذِهِ المَدْرَاسُ لَمْ تَكُنْ مَجَانِيَّةً
 فَحَسَبُ بَلْ كَانَتْ تُقَدِّمُ لِطُلَّابِهَا المَطْعَمَ وَالمَشْرَبَ
 وَالكِسَاءَ إِلَى جَانِبِ الكُتُبِ وَالأَدْوَاتِ.

تَعْلِيمٌ شِبْهُ النِّظَامِيِّ

بَدَأَ التَّعْلِيمُ فِي دَوْلَةِ الإِمَارَاتِ العَرَبِيَةِ المَتَّحِدَةِ قَدِيمًا يَنْتَظِرُ فَظَهَرَ التَّعْلِيمُ شِبْهُ النِّظَامِيِّ.
 حَيْثُ اهْتَمَّتْ تِجَارَةُ اللُّؤْلُؤِ الكِبَارُ بِفَتْحِ المَدَارِسِ فِي المَدُنِ، وَكَانَتْ أَوَّلَ مَدْرَسَةٍ لِلتَّعْلِيمِ شِبْهُ
 النِّظَامِيِّ فِي إِمَارَةِ الشَّارِقَةِ، وَفِي عَامِ 1906 م عُرِفَتْ بِالمَدْرَسَةِ [التَّيْمِيَّةِ المَحْمُودِيَّةِ].
 وَفِي إِمَارَةِ أبُو ظَبْيٍ تَمَّ إِنْشَاءُ مَدْرَسَةٍ ابْنِ خَلْفِ عَلِيِّ يَدِ التَّاجِرِ خَلْفِ بِنِ عُنَيْبَةَ عَامَ 1912 م.



■ **وَسَّعَ مَعْرِفَتَكَ:**
 تاجر اللؤلؤ: خلف بن
 عبد الله العتيبة



هو أحد أشهر تجار اللؤلؤ في أبوظبي، فهو
 باني أول جامع كبير في أبوظبي عرف باسم
 مسجد خلفه وأول مدرسة شبه نظامية
 مجانية في أبوظبي تزامن افتتاحها مع
 افتتاح مدرستي الأحمدية بدبي والتيمية
 بالشارقة عام 1912 م .



طالبة وطالبات مدرسة التيمية المحمودية

■ **إِبْحَثْ**

ما هُوَ التَّعْلِيمُ شِبْهُ النِّظَامِيِّ]

الذي يشبه التعليم الحالي من حيث
 استخدام الغرف الصفية وتدریس
 المواد المختلفة

◀ الْأَحِظْ وَأَرْبِطْ

- أَصْنَفُ الْمِهْنَ الْآتِيَةَ حَسَبَ الْمَنَاطِقِ الْمُخْتَلِفَةِ فِي دَوْلَةِ الْإِمَارَاتِ الْعَرَبِيَّةِ الْمُتَّحِدَةِ قَدِيمًا وَفَقًا لِلشَّكْلِ الْآتِي: [الغوص على اللؤلؤ - الرعي - الزراعة - صيد الأسماك]



◀ أفكّر وأقرّر

- أضع إشارة (√) أمام العبارة الصحيحة وإشارة (x) أمام العبارة غير الصحيحة فيما يلي.

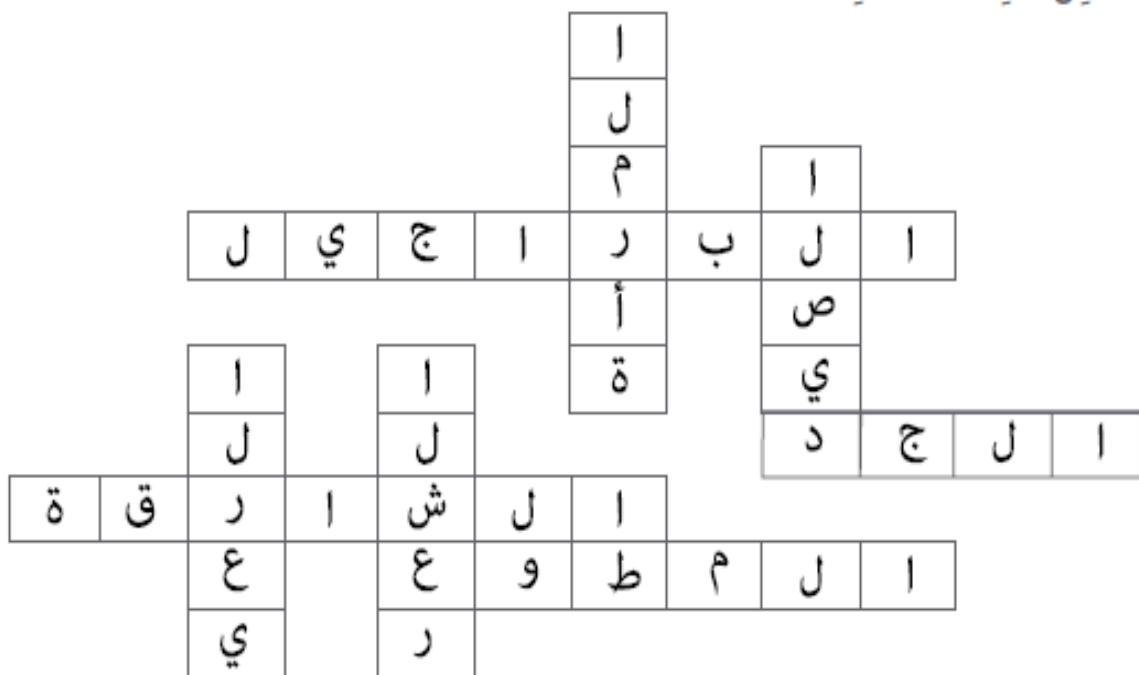
- 1- أوّل مَدْرَسَةٍ سُنِّيَّةٍ نِظَامِيَّةٍ فِي دَوْلَةِ الْإِمَارَاتِ الْعَرَبِيَّةِ الْمُتَّحِدَةِ هِيَ مَدْرَسَةُ التَّيْمِيَّةِ فِي دُبَي. []
- 2- اعْتَمَدَ التَّعْلِيمُ فِي دَوْلَةِ الْإِمَارَاتِ الْعَرَبِيَّةِ الْمُتَّحِدَةِ قَدِيمًا عَلَى الْمَطْوَعِ أَوْ الْمَطْوَعَةِ. []
- 3- انْتَشَرَتْ جِرْفَةُ الصَّيْدِ وَالغَوْصِ عَلَى اللُّؤْلُؤِ عَلَى سَوَاحِلِ الْإِمَارَاتِ الْعَرَبِيَّةِ الْمُتَّحِدَةِ قَدِيمًا. []

◀ أتوقّع

• ماذا يُمكنُ أَنْ يَحْدِثَ لَوْ لَمْ تَقَعْ بِلَادِي عَلَى السَّاحِلِ.

تراجع الحركة التجارية
تراجع التواصل مع الحضارات الأخرى
تراجع في عدد السكان

- أَكْمِلِ الْكَلِمَاتِ الْمُتَقاطِعَةَ.



الرعي

الشعر

الصيد

المرأة

الجد

الشارقة

المطوع

البراجيل

■ عمودي:

- 1 - جَزْفَةٌ ظَهَرَتْ فِي الْمَنَاطِقِ الدَّاخِلِيَّةِ
- 2 - أَشْهُدُ التُّبُوتِ البَدَوِيَّةِ
- 3 - مِنْ جَزْفِ الْإِمَارَاتِ قَدِيمًا وَظَهَرَتْ عَلَى السَّاحِلِ
- 4- لَعِبَتْ أَدْوَارًا رَئِيسَةً فِي عَمَلِيَّةِ التَّنْمِيَةِ قَبْلَ ظُهُورِ النُّقْطِ

■ أفقي:

- 1 - يُعْتَبَرُ صَاحِبُ القَرَارِ فِي الأُسْرَةِ الإِمَارَاتِيَّةِ قَدِيمًا هُوَ
- 2 - ظَهَرَتْ أَوَّلُ مَدْرَسَةٍ سَبَّهَ نِظَامِيَّةِ فِي إِمَارَةِ
- 3 - كَانَ يُعْتَمَدُ عَلَى التَّعْلِيمِ التَّقْلِيدِيِّ
- 4 - أَهْمُ أَجْزَاءِ بَيْتِ الطَّيْنِ

أَفَكِّرُ وَأَقَرَّرُ:

- أضع علامة (✓) داخل المربع الدال على العبارة الصحيحة:

- 1- تَزَجُّجُ أَصُولُ سُكَّانِ الإِمَارَاتِ العَرَبِيَّةِ المَتَّحِدَةِ إِلَى قَبَائِلِ عَرَبِيَّةٍ قَحْطَانِيَّةٍ وَعَدْنَانِيَّةٍ.
- 2- يَنْتَسِبُ الرَّسُولُ - صَلَّى اللَّهُ عَلَيْهِ وَسَلَّمَ - إِلَى قَبِيلَةِ الأُوَيْسِ وَالْحَزْرَجِ.
- 3- اسْتَقَرَّتْ قَبِيلَةُ بَنِي يَاسٍ فِي الظَّفَرَةِ وَأَبُو ظَبِي.
- 4- القَبِيلَةُ مَجْمُوعَةٌ مِنَ النَّاسِ لَا يَنْتَمُونَ إِلَى أَصْلٍ وَاحِدٍ مُسْتَرَكٍ.

أَفَكِّرُ وَأَقَارِنُ:

- أَقَارِنُ بَيْنَ جِلْفِ بَنِي يَاسٍ وَالْقَوَاسِمِ، وَفَقْ مُعْطِيَاتِ الجَدْوَلِ الآتِي:

القواسم	بني ياس	المقارنة
القواسم	آل نهبان	الزعامة
بحرية	برية	نوع القوة
الظفرة وأبو ظبي	الشارقة ورأس الخيمة	مقرهم

أَحَدِّدُ وَأَدَوِّنُ:

- أَحَدِّدُ عَلَى الخَارِطَةِ أَسْمَاءَ القَبَائِلِ فِي دَوْلَةِ الإِمَارَاتِ العَرَبِيَّةِ المَتَّحِدَةِ:

The map shows the United Arab Emirates with tribal regions highlighted in orange. Lines connect these regions to boxes containing tribal names:

- القواسم (Qawasim) - connected to the northern coastal region.
- الشرقي (Ashraqi) - connected to the eastern coastal region.
- آل علي (Al Ali) - connected to the northern inland region.
- النعيم (An-Naim) - connected to the central inland region.
- آل مكتوم (Al Maktoum) - connected to the southern inland region.
- آل نهبان (Al Naban) - connected to the southern inland region.

The map also includes a compass rose, a scale bar (0-100 km), and labels for the Gulf of Arabia (الخليج العربي) and the Sultanate of Oman (سلطنة عُمان).

■ وَفَاةُ الشَّيْخِ زَايِدِ الْأَوَّلِ:
تُوْفِي فِي شَهْرِ مَآيُو عَامِ 1909م مُؤَسَّسًا إِمَارَةً قَوِيَّةً وَنَمُوذَجًا أَصِيلًا فِي إِدَارَةِ الْحُكْمِ.

• أَطَبَّقُ مَا تَعَلَّمْتُ

◀ أَمَيَّرُ وَأَسَجِّلُ

- أَصَنَّفُ الْكَلِمَاتَ وَالْجُمَلِ الْآتِيَةَ حَسَبَ مُعْطِيَاتِ الشُّكْلِ.

[الْفُرُوسِيَّةُ - بِنَاءُ الْأَفْلَاجِ - قَلْعَةُ الْجَاهِلِيِّ - الشَّجَاعَةُ - الْحَنْكَةُ السِّيَاسِيَّةُ - نَشْرُ الْأَمْنِ وَالْأَمَانِ]

الصِّفَاتُ

الفروسية

الشجاعة

الحنكة

الإنجازات

بناء الأفلاج

نشر الأمن

قلعة

الجاهلي

◀ أَفَكَّرُ وَاجِبٌ

- أَكْمِلُ الْعِبَارَاتِ الْآتِيَةَ بِمَا يُنَاسِبُهَا:

1- لُقِّبَ الشَّيْخُ زَايِدُ بْنُ خَلِيفَةَ آلِ نَهْيَانَ بِلَقَبِ

2- حَكَّمَ الشَّيْخُ زَايِدُ الْأَوَّلُ إِمَارَةَ أَبُو ظَبْيٍ وَهُوَ فِي سَنِّ

3- أَوَّلُ مَنْ نَادَى إِلَى فِكْرَةِ الْإِتِّحَادِ بَيْنَ الْإِمَارَاتِ هُوَ الشَّيْخُ

◀ مِنْ إِبْدَاعَاتِي

- أَرْسَمُ صُورَةً لِقَلْعَةِ الْجَاهِلِيِّ.

زيد الأول

العشرين

زيد الأول

واجب

◀ أَفْرَأُ وَأَجِيبُ

- أَسْتَكْمِلُ الْمُحَظَّظَ الزَّمَنِيَّ التَّالِيَّ:

وُلِدَ الشَّيْخُ زَايِدُ بْنُ سُلْطَانَ آلِ نَهْيَانَ فِي قَصْرِ الْحِصْنِ بِإِمَارَةِ أَبُو ظَبْيِ عام 1918م، وَهُوَ الْإِبْنُ الْأَصْغَرُ بَيْنَ أَرْبَعَةِ أَبْنَاءِ لِلشَّيْخِ سُلْطَانَ بْنِ زَايِدِ آلِ نَهْيَانَ -رَحِمَهُ اللهُ- حَاكِمِ إِمَارَةِ أَبُو ظَبْيِ. وَاتَّقَلَّ الشَّيْخُ زَايِدُ إِلَى مَنْطِقَةِ الْعَيْنِ بَعْدَ وَفَاةِ وَالِدِهِ حَيْثُ نَشَأَ بِهَا وَتَلَّقَى تَعْلِيمَهُ عَلَى يَدِ الْمُطَوِّعِ، فَحَفِظَ الْقُرْآنَ الْكَرِيمَ وَنَشَأَ عَلَى الْعَادَاتِ وَالتَّقَالِيدِ الْعَرَبِيَّةِ الْأَصِيلَةِ، فَسَبَّ عَلَى حُبِّ الْعُرُوبَةِ وَالاعْتِزَازِ بِهَا وَالْحِفَاطِ عَلَى تَقَالِيدِ وَعَادَاتِ الشَّعْبِ الْإِمَارَاتِيِّ.

• أَسْخَلُ، مَكَانَ، وَتَارِيخَ مِيلَادِ الشَّيْخِ زَايِدِ بْنِ سُلْطَانَ -رَحِمَهُ اللهُ-.

أبو ظبي - قصر الحصن - 1918

• أَسْتَخْلُصُ الصِّفَاتِ الَّتِي اكْتَسَبَهَا الشَّيْخُ زَايِدُ بْنُ سُلْطَانَ خِلالَ نَشَأَتِهِ فِي مَدِينَةِ الْعَيْنِ.

الشجاعة - الفروسية - الحكمة - العطف - الحكمة -
التواضع

◀ أَتَتَّبِعُ وَأَدَوِّنُ:

- أَسْتَكْمِلُ الْمُحَظَّظَ الزَّمَنِيَّ الْآتِيَّ:

◀ اجْتِمَاعُ عَرْقُوبِ السَّيْدِيَّةِ ◀ **دبي الأول** ◀ **دبي الثاني** ◀ إِبْلَانُ قِيَامِ دَوْلَةِ

الإمارات العربية

المتحدة

4

3

2

1

2-ديسمبر
1971-

18-يوليو
1971-

25 - فبراير - 1968م

18-فبراير
1968-

◀ أَبْحَثُ وَالصَّقُّ

- أَبْحَثُ عَنِ صُورِ مَرَاكِلِ قِيَامِ الْإِتِّحَادِ:



في الاتحاد قوة وفي التفرقة ضعف

• التَّقْوِيمُ الْخِتَامِي

- أَكْمِلِ الْخَرِيْطَةَ الذَّهْنِيَّةَ وَفُقِ الشَّكْلَ الْآتِي:

اتحاد إماراتنا

إنجازاته

نشر الأمن

قلعة
الجاهلي

زايد الأول

أهم القبائل في دولة الإمارات
العربية المتحدة

آل مكتوم

آل
نهبان

آل علي

القواسم

النعيم

الشرقي

خطوات قيام الاتحاد

عرقوب السديرة

دبي الأول

دبي الثاني

قيام
الاتحاد

الدَّرْسُ الثَّالِثُ: رَكَائِزُ مِنْ بِلَادِي

◀ نَوَاتِجُ التَّعَلُّمِ:

- يَتَعَرَّفُ الْمَفَاهِيمَ وَالْمُصْطَلَحَاتِ الْوَارِدَةَ فِي الدَّرْسِ.
- يُبْدِي اخْتِرَامَهُ لِلدُّسْتُورِ
- يَجْمَعُ مَعْلُومَاتٍ مِنْ مَصَادِرَ مُتَعَدِّدَةٍ حَوْلَ شُهَدَاءِ دَوْلَةِ الْإِمَارَاتِ الْعَرَبِيَّةِ الْمُتَّحِدَةِ.

◀ الْكَلِمَاتُ الْجَدِيدَةُ:

- الْحُكُومَةُ
- الدُّسْتُورُ
- يَوْمُ الشَّهِيدِ
- عَاصِفَةُ الْحَرَمِ



◀ الْقِيَمُ وَالْمَوَاطَنَةُ:

الاحترام - الولاء - الدفاع

أولاً: الحُكُومَةُ

ثانياً: الدُّسْتُورُ

ثالثاً: شُهَدَاءُ الْإِتِّحَادِ

مخطط الدرس



الهيكل التنظيمي لحكومة بلادي



رئيس الدولة
صاحب السمو الشيخ خليفة بن زايد آل نهيان - حفظه الله -



نائب رئيس الدولة
صاحب السمو الشيخ محمد بن راشد آل مكتوم - رعاه الله -



المجلس الأعلى
يمثل السلطة العليا ويتكون من حكام الإمارات السبع



مجلس الوزراء
يتكون من رئيس مجلس الوزراء ونائبيه وعدد من الوزراء

المجلس الوطني
يتكون من 40 عضواً يمثلون الإمارات السبع



القضاء الاتحادي
المحاكم بمختلف درجاتها

• أَطَبُّ مَا تَعَلَّمْتُ

◀ أَمِّزْ وَأَلَوِّنْ

- أَلَوِّنِ الْمَرْبَعَ الَّذِي يُمَثِّلُ الْعِبَارَاتِ الصَّحِيحَةَ.

العبارات



1- الحُكُومَةُ هِيَ السُّلْطَةُ الَّتِي تَتَوَلَّى إِدَارَةَ شُؤُونِ الدَّوْلَةِ.



2- يَتَكَوَّنُ الْمَجْلِسُ الْأَعْلَى مِنْ حُكَّامِ الْإِمَارَاتِ السَّبْعِ.



3- يَتَكَوَّنُ الْمَجْلِسُ الْوَطَنِيُّ مِنْ 30 عُضْوًا يُمَثِّلُونَ الْإِمَارَاتِ السَّبْعِ.

◀ أَفَكِّرْ وَأَجِيبْ

- أَكْمِلِ الْمُحَظَّطَ التَّالِيَّ.

مَهَامُ الْحُكُومَةِ

وضع القوانين

وَضْعُ خُطَطًا لِتَطْوِيرِ الْبِلَادِ

الدفاع عن
الوطن

واجب
5/

◀ أَصَمِّمْ

- أَعْبِّرْ عَن حَبِّي لِقِيَادَتِنَا الْحَكِيمَةِ بِتَضْمِيمِ بِطَاقَةِ سُكْرِي.

لكل دولة دستور والدستور هو مجموعة من القواعد والقوانين تنظم الحكم في الدولة وتبين حقوق كل فرد وواجباته.

صدر دستور دولة الإمارات العربية المتحدة في الثاني من ديسمبر عام 1971م وكان مؤقتاً وأصبح دستوراً دائماً عام 1996م. ويعتد الدستور من أهم الإنجازات التي تحققت في دولة الإمارات العربية المتحدة والذي يكفل الاستقرار للمواطنين.

أفكر

• أتبين أهمية وجود الدستور لكل دولة؟

يحدد الواجبات والحقوق للوطن والمواطن



■ من قيمتي الوطنية
احترام القادة
احترام الدستور

دستور بلادي يؤكد حوقي وواجباتي

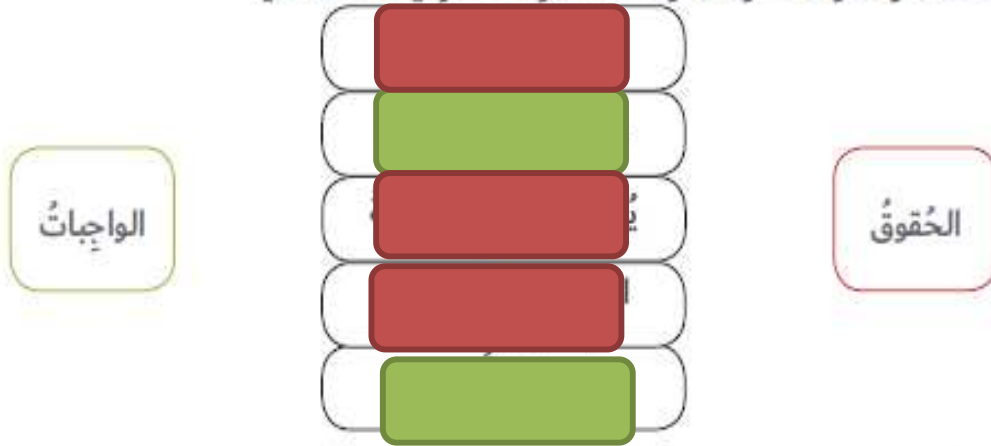
■ الواجبات
• احترام الدستور.
• الدفاع عن الدولة.
• حماية الأموال العامة.

■ الحقوق
• يحمي ممتلكاتي
• يوفر الحقوق الأساسية
[العلاج - العلم - الصحة - العمل]
• المساواة أمام القانون.

• أَطَبُّ مَا تَعَلَّمْتُ

◀ أَصْنَفُ وَالْوَنُ

- أَلْوَنُ الْحُقُوقِ بِاللُّوْنِ الْأَحْمَرِ وَالْوَاجِبَاتِ بِاللُّوْنِ الْأَخْضَرِ فِي الشَّكْلِ الْآتِي:



◀ أَفَكَّرُ وَأَفَسَّرُ

- أَكْمِلِ الْجَدْوَلَ الْآتِي حَسَبَ مُعْطِيَاتِهِ:

مُبَدَّرَاتُ الْإِلْتِمَامِ

القَوَاعِدُ

الحصول على العلم

النظام واحترام الآخرين

احترام الرأي الآخر

الانتباه لشرح المُعَلِّمِ

الالتزام بالحضور في المواعيد المُحَدَّدَة

إتاحة الفرصة لزملائي للمناقشة وإبداء
الرأي

◀ أَمَيِّزُ وَأَصِلُ:

- أَحَدِّدُ الْقِيَمَ الْإِيجَابِيَّةَ وَأَصْعَمُهَا فِي السُّنْدُوقِ:

التَّعَاوُنُ

الانتماء

الأنانية

طاعة رئيس الدولة

التَّضْحِيَّةُ

حُبُّ النَّفْسِ

الطاعة

الانتماء

التضحية

التعاون



■ نافذة المعرفة
اخْتَلَّتْ إيران ثلاث جُزُرٍ
لِدَوْلَةِ الإمارات العَرَبِيَّةِ
الْمُتَّحِدَةِ هي طُنْب
الكُبْرَى وطُنْب الصُّغْرَى
وَجَزِيرَةَ أَبُو موسى.

اِكْتَمَلَ صَرْحُ دَوْلَتِنَا بِنِائِ صَرْحِ الاِتِّحَادِ الَّذِي تَرَعَمَهُ الشَّيْخُ زَايِدُ بنِ سلطان آل نهيان والشيخ راشد بن سعيد آل مكتوم -رَحِمَهُمَا اللهُ- بِمَا سَكَلَ حَافِزاً قَوِيًّا لِأَنْبَائِهِمَا لِإِكْمَالِ مَسِيرَةِ البِنَاءِ. فَكَانَ [سالم سهيل خميس] أَوَّلَ شَهِيدٍ تُسَفِّكُ دِمَاؤُهُ الظَّاهِرَةَ دِفَاعاً عَنِ تَرَابِ الوَطَنِ، حَيْثُ كانَ يَعمَلُ في مَرَكِزِ الشُّرْطَةِ التَّابِعَةِ لِجَزِيرَةِ طُنْبِ الكُبْرَى التَّابِعَةِ لِإِمَارَةِ رَأْسِ الخَيْمَةِ، الَّتِي تَعَرَّضَتْ لِلعدوانِ مِنْ قِبَلِ إيرانِ طَمَعاً في مَوقِعِهَا الاستراتيجي وَتَرَوَاتِهَا. وَتَبَعَهُ شُهَدَاءٌ وَطَنِيَّونَ لا يَقلُّونَ وَطَنِيَّةً عَنهُ وَهُمُ مَنْ قامُوا بالدِّفاعِ عَنِ أراضِي اليمن، الَّتِي تُمَثِّلُ امْتِدَاداً جُغرافِيًّا وتاريخِيًّا لِشِبهِ الجَزِيرَةِ العَرَبِيَّةِ كَوَحْدَةٍ واحِدَةٍ تَدْفَعُنَا جَمِيعاً للدِّفاعِ عَنِ أراضِهَا. حَيْثُ تَمَّ تَشْكِيلُ جَيْشٍ مِنْ قِوَاةِ التَّحَالِفِ العَرَبِيِّ بِقِيادَةِ المَمْلَكَةِ العَرَبِيَّةِ السُّعُودِيَّةِ وَدَوْلَةِ الإماراتِ العَرَبِيَّةِ المُتَّحِدَةِ وَأُظْلِقَ عَلَيْهَا اسْمُ "عاصِفَةُ الخَزْمِ" وَتَمَّ تَسْبِيهُ قُوَاةِ التَّحَالِفِ بالعاصِفَةِ القُوِيَّةِ الدَّالَّةِ عَلَى قُوَّتِهَا وَسُرْعَتِهَا.

◀ مِنْ أسبابِ مُشارَكَةِ دولةِ الإماراتِ العربيةِ المتحدةِ في عاصِفَةِ الخَزْمِ:



خريطة شبه الجزيرة العربية

- الجُرْصُ عَلَى أَمَنِ الخَلِيجِ واستِقرارِهِ.
- العَمَلُ عَلَى عَوْدَةِ الاستِقرارِ لِلْيَمَنِ.

سَارَعَتْ الْقِيَادَةُ الرَّشِيدَةُ لِتَسْبِيغِ الشُّهَدَاءِ وَتَقْدِيمِ وَاجِبِ الْعَزَاءِ. فَتَجِدُهَا فِي كُلِّ عَزَاءٍ، وَحُضُورِهَا يَرْفَعُ الْمَعْنَوِيَّاتِ وَيَزِيدُ أَسْرَ الشُّهَدَاءِ فَحَرًا لِيَعْكِسَ هَذَا التَّشَارُكُ مَفْهُومَ التَّيِّبِ الْمُتَوَحِّدِ فِزْيَارَاتِ صَاحِبِ السُّمُوِّ الشَّيْخِ مُحَمَّدِ بْنِ رَاشِدِ آلِ مَكْتُومِ نَائِبِ رَئِيسِ الدَّوْلَةِ رَئِيسِ مَجْلِسِ الوُزَرَاءِ حَاكِمِ دُبَي -رِعَاةُ اللَّهِ- وَصَاحِبِ السُّمُوِّ الشَّيْخِ مُحَمَّدِ بْنِ زَايِدِ آلِ نَهْيَانِ وَوَلِيِّ عَهْدِ أَبُو ظَبْيِ نَائِبِ الْقَائِدِ الْأَعْلَى لِلْقُوَّاتِ الْمُسَلَّحَةِ -حَفِظَهُ اللَّهُ- وَأَصْحَابِ السُّمُوِّ أَعْضَاءِ الْمَجْلِسِ الْأَعْلَى حُكْمِ الْإِمَارَاتِ وَأَوْلِيَاءِ الْعَهْدِ لِأَسْرِ الشُّهَدَاءِ لَهَا الْأَثَرِ الْكَبِيرِ فِي نَفُوسِ أَسْرِ الشُّهَدَاءِ إِذْ تَعْمُرُهُمْ مَشَاعِرَ الْفَخْرِ بِهَذِهِ اللَّفْتَةِ الْأَبُويَّةِ الْكَرِيمَةِ.



تَحْصِيصُ [30 نَوْفَمْبَر] يَوْمًا لِلشَّهِيدِ، وَفَاءً يَعْكِسُ التَّقْدِيرَ الْكَبِيرَ لِمَنْ صَحَّى مِنْ أَجْلِ الْوَطَنِ. وَإِطْلَاقُ أَسْمَاءِ الشُّهَدَاءِ عَلَى الشُّوَارِعِ وَالْمَسَاجِدِ وَالْمَدَارِسِ وَالْقَاعَاتِ يُخَلِّدُ ذِكْرَهُمْ. وَمَشْرُوعُ [أَرْشِيفُ الشُّهَدَاءِ] وَإِنْشَاءُ مُتَّحِفًا يُخَلِّدُ بَطُولَاتِ الشُّهَدَاءِ يُسَكِّلُ سِجْلًا تَارِيخِيًّا حَافِلًا بِالْإِنْجَازَاتِ.



• أَطَبَّقْ مَا تَعَلَّمْتَ

◀ أَفْرَأُ وَأُحَدِّدُ

- أختارُ الإجابةَ الصحيحةَ مِنْ بَيْنِ البَدَائِلِ الآتيةِ:

1- أوَّلُ شَهِيدٍ فِي تَارِيخِ دَوْلَةِ الإِمَارَاتِ العَرَبِيَّةِ المِتَّحِدَةِ هُوَ:

عبدالله الحمادي

سالم سهيل

طارق الشحي

2- اسْمُ الجِلْفِ الذِي سَكَّنَتْهُ الدُّوَلُ العَرَبِيَّةُ لِنُصْرَةِ قَضِيَّةِ اليَمَنِ:

عاصفة الحزم

عاصفة الصحراء

جلف بغداد

◀ أَفَكِّرُ وَأَفَسِّرُ

1- احتلالُ إيرانَ للجزرِ الثلاثِ.

الفكر العدواني وموقع الجزر المهم على مدخل الخليج العربي

2- سببُ تَشْكِيلِ قُوَّةِ عاصفةِ الحزمِ.

استعادة الشرعية في اليمن

◀ إِبْدَاعَاتِي

- أَصَمُّمُ بَطَاقَةً تُعَبِّرُ عَنُ اعْتِزَالِي بِالشَّهِيدِ.

واجب 5 /

- استكْمِلْ حَقَائِقَ عَن بِلَادِي.

اسْمُ دَوْلَتِي
دَوْلَةُ الْإِمَارَاتِ الْعَرَبِيَّةِ الْمُتَّحِدَةِ



رئيسُ دَوْلَةِ الْإِمَارَاتِ الْعَرَبِيَّةِ الْمُتَّحِدَةِ
الشيخ خليفة بن زايد رعاہ
الله



نائبُ رئيسِ الدَّوْلَةِ
الشيخ محمد بن راشد رعاہ
الله

تَقَعُ دَوْلَتِي فِي قَارَةِ
في
آسيا

الواجباتُ من الدَّستورِ

طاعة ولي الأمر

احترام القانون

حماية الممتلكات
العامة

الحقوقُ من الدَّستورِ

التعليم

الصحة

الأمن

عاصمةُ دَوْلَتِي

أبوظبي

عَدَدُ إِمَارَاتِ دَوْلَتِي

7

شعارُ بِلادِي



دَوْلٌ سَانَدَتْهَا دَوْلَةُ الْإِمَارَاتِ فِي
مَحْتِئِهَا

الكويت

اليمن

أجِبْ بِلَادِي لِأَنْهَاءِ:

تقدم لي الجنسية والحماية والأمن وفيها طاعة
للقيادة الرشيدة

اختبار

- اسْتَعِينُ بِالْمَعْلُومَاتِ وَالصُّوَرِ فِي الصَّفْحَةِ (115) لِأَكْمِلَ مَلَفَ دَوْلَتِي.

■ صُوْرٌ مَنَ الْمَاضِي الْجَمِيْلُ

الْمَرَاةُ	الْمِهْنُ	الْأُسْرَةُ	التَّعْلِيمُ

◀ أَقْرَأُ وَالْحُصْنُ

■ مَعْلُومَاتٌ وَحَقَائِقٌ عَنَ الْأَحْلَافِ

القواسم قبيلةٌ عربيَّةٌ كَوْنَتْ إمارةً كبيرةً في رأس الخيمة والشارقة، ثُمَّ انتشرت لِتَشْمَلَ أجزاءً من شَرْقِ الْخَلِيْجِ الْعَرَبِيِّ، إِضَافَةً لِلْجَزْرِ وَتَمَكَّنَ الْقَوَاسِمُ فِي الْقَرْنِ السَّابِعِ عَشَرَ الْمِيْلَادِي مِنْ تَكْوِينِ أَصْحَمٍ قُوَّةً بَحْرِيَّةً فِي الْمَنْطِقَةِ ثُمَّ اصْطَدَمُوا مَعَ بَرِيْطَانِيَا، الْأَمْرَ الَّذِي دَفَعَ الْإِنْجِلِيْزَ لِإِرْسَالِ حَمَلَاتٍ بَحْرِيَّةٍ لِمَهَاجِمَةِ الْقَوَاسِمِ.

بني ياس قبيلةٌ عربيَّةٌ لها وجودٌ قويٌّ على ساحلِ الْخَلِيْجِ الْعَرَبِيِّ، تَمَرَّكَزَتْ بِمَنْطِقَةِ الطَّفْرَةِ جَنُوبَ مَدِيْنَةِ أَبُوْظَبِي إِلَى أَنْ تَمَّ اكْتِشَافُ بئرِ مَاءٍ فِي جَزِيْرَةِ أَبُوْظَبِي فِي عَامِ 1761م بَعْدَهَا انْتَقَلُوا إِلَى جَزِيْرَةِ أَبُوْظَبِي، قَامَتْ قَبِيْلَةُ آلِ بُوْفَلَحِ بِتَأْسِيْسِ إِمَارَةِ أَبُوْظَبِي عَلَى يَدِ الشَّيْخِ ذِيَابِ بْنِ عَيْسَى بْنِ نَهْيَانَ. كَمَا قَامَ بَعْدَهَا آلُ مَكْتُومِ بِتَأْسِيْسِ إِمَارَةِ دُبَي.

- اسْتَعِينُ بِالْمَعْلُومَاتِ لِأَكْمِلَ مَلَفَ دَوْلَتِي.

جَلْفُ الْقَوَاسِمِ

..... -

.....

.....

.....

.....

جَلْفُ بَنِي يَاسٍ

..... -

.....

.....

.....

.....