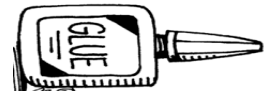




<p>الصف:الاول الأساسي المادة: رياضيات الدرس :وحدات الطول الغير قياسيه التاريخ : 2018 /4 /15 إعداد المعلمة : JANA RABII</p>	 <p>مدرسة الرؤية الخاصة VISION PRIVATE SCHOOL</p> <p>عام 2018</p>	 <p>دائرة التعليم و المعرفة DEPARTMENT OF EDUCATION AND KNOWLEDGE</p> <p>دائرة التعليم و المعرفة مدرسة الرؤية الخاصة الفصل الدراسي الثالث</p>
<p><u>مؤشرات الأداء :</u> ان يقارن التلميذ بين الاطوال</p>		

ضع رقم (1) على الشيء القصير ورقم(2) على الشيء الاقصر ورقم (3) على الاقصر علي الاطلاق.




:




JANA RABII

مدرسة الرؤية الخاصة

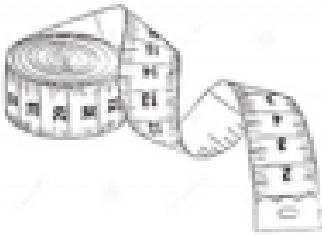

اكتب 1 للجسم الطويل و 2 للجسم الاطول و 3 للجسم الاطول علي الاطلاق



St-Takla.org



3SLAY.COM





JANA RABII

مدرسه الرؤيه الخاصه

استخدم للقياس






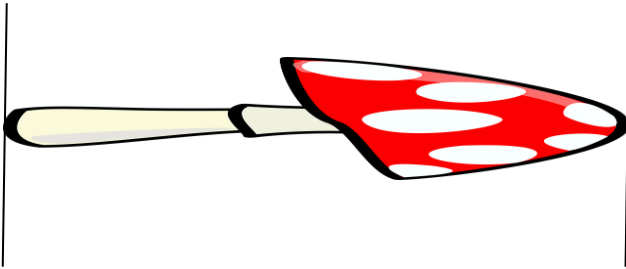





استخدم العملات المعدنية للقياس








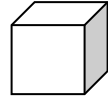
ثمره موز تنمو بمقدار 1 مكعب كل يوم. وفي يوم الاربعاء كان طولها 4 مكعبات. فكم يبلغ طولها يوم الجمعة.



المكعبات	الايام
4	الاربعاء
	الخميس
	الجمعه

محمود اكل جزره طولها مكعبين. بينما عاطف اكل جزره طولها 4 مكعبات. فكم يزيد طول الجزره التي اكلها عاطف عن التي اكلها محمود؟





ارسم جسما يبلغ طوله 8 مكعبات





ارسم جسما يبلغ طوله 5 عملات معدنيه.



قلم التحديد اطول من عبوه الصمغ وعبوه الصمغ اطول من مشبك الورق. هل مشبك الورق اطول من قلم التحديد ام اقصر منه؟

