

الوجبة الخفيفة المفضلة

تفاح						
بسكوت مملح						
عصير						

1. ما الوجبة الخفيفة الاكثر تفضيلاً؟

تفاح بسكوت مملح عصير

www.almanahj.com

2. ما الوجبة الخفيفة الأقل تفضيلاً؟

تفاح بسكوت مملح عصير

3. بكم يقل المصوتين للعصير عن التفاح؟

3 2 1


















4. بكم يزيد المصوتين للعصير و البسكوت المملح معاً؟

7 4 3

5. ما عدد المشاركين في الاستطلاع؟

12 9 7

الفاكهة المفضلة

						تفاح	
						موز	
						فراولة	

1. ما الفاكهة الأكثر تفضيلاً؟



2. ما الفاكهتان المتساويتان؟



3. بكم يزيد عدد الذين يفضلون الفراولة على الموز؟

3

2

1

4. ما عدد المصوتين لفاكحتي التفاح و الموز ؟

8

6

4















5. ما عدد المشاركين في التصويت ؟

14

8

4

الحيوان المفضل

 السلاحف					
 الطيور					
 الأسماك					

1. ما الحيوان الأقل تفضيلاً؟

2. ما الحيوان الأكثر تفضيلاً؟

www.almanahj.com

3. بكم يزيد عدد المفضلين للأسماك على السلاحف؟

4. بكم يزيد عدد المصوتين للطيور على السلاحف؟

5. ما عدد المصوتين للسلاحف و الطيور معاً؟

6. ما عدد المصوتين للطيور و الأسماك؟

7. ما عدد المشاركين في التصويت؟

الرياضة المفضلة	العدد	علامات العد
كرة القدم		//// //
ركوب الخيل		////
الركض		////

أكمل
الجدول

اصنع تمثيل بياني مصور باستخدام جدول البيانات

كرة القدم									
ركوب الخيل									
الركض									

www.almanahj.com

اصنع تمثيل
بياني بالأعمدة
باستخدام جدول
البيانات

كرة القدم ركوب الخيل الركض

اللون المفضل	العدد	علامات العد
الأزرق	7	
الأصفر	5	
الأخضر	9	

أكمل
الجدول

اصنع تمثيل بياني مصور باستخدام جدول البيانات

الأزرق

الأصفر

الأخضر

www.almanahj.com

اصنع تمثيل
بياني بالأعمدة
باستخدام جدول
البيانات

الأزرق

الأصفر

الأخضر