



اعداد بالكلمات



اثنان 2

واحد 1

ثلاثة 3

تسعة 9

اربعة 4

ثمانية 8

خمسة 5

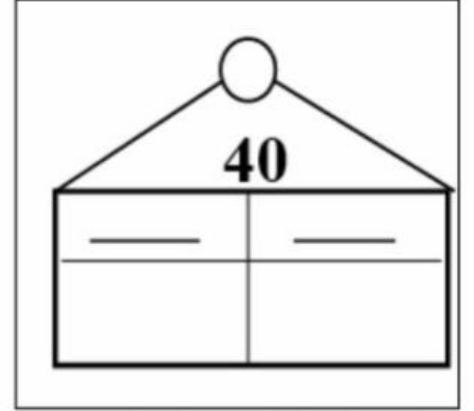
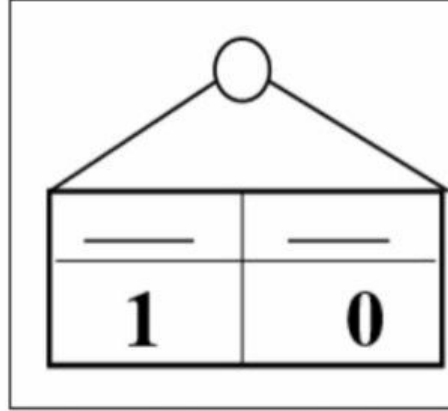
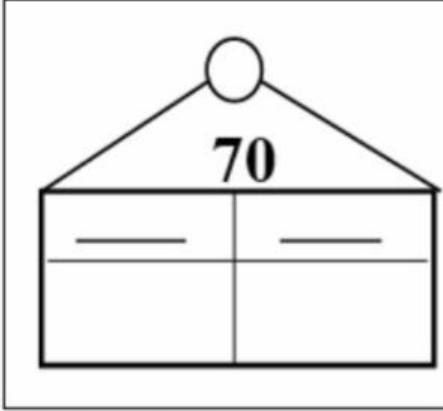
سبعة 7

سته 6

www.almanahj.com

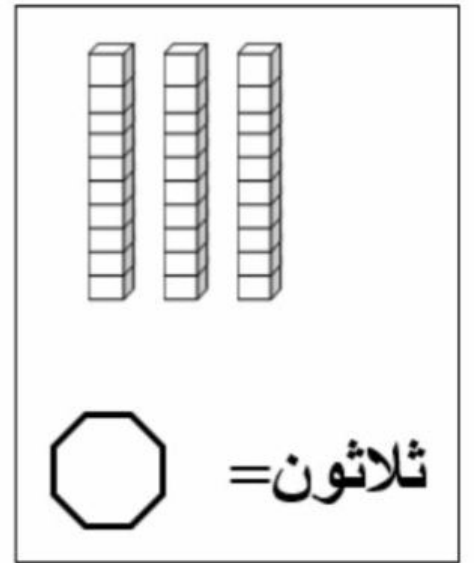
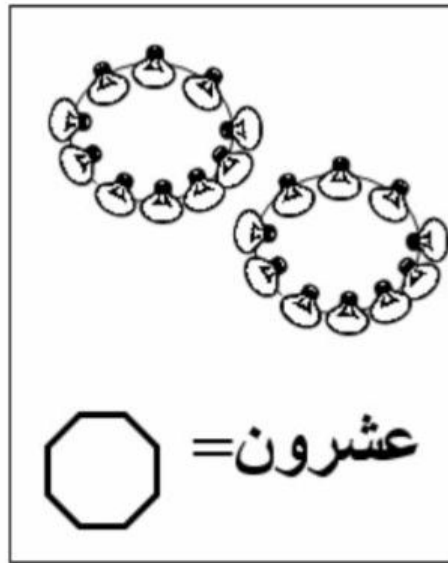
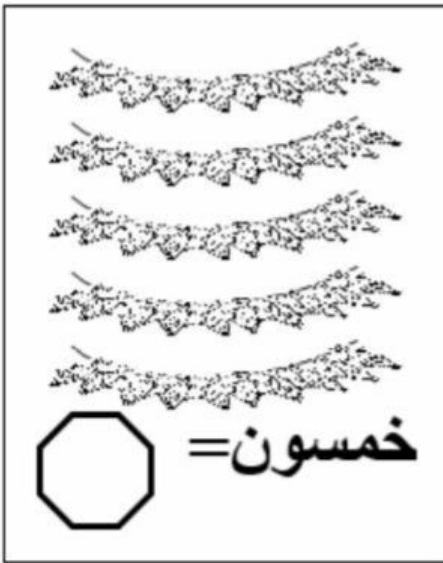
هيا نحفظ الاعداد
بالحروف يا اصدقائي

العقود (2)



اكتب بالأرقام:

8 عشرات - = سبعون = تسعون =
عشرتان = أربعون =



تقدير الكميات



اقدر العدد فيما يأتي ، وأحوظ الإجابة :



30 تقريباً 90 تقريباً

؟

10 أزرار





10 تقريباً 40 تقريباً

؟

20 وجه

www.almanahj.com

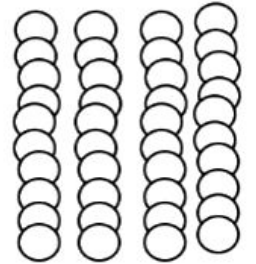
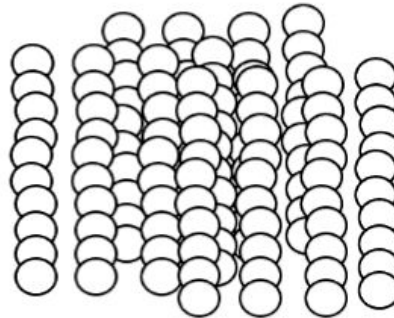


30 تقريباً 60 تقريباً

؟

30 قلب

20 تقريباً 80 تقريباً

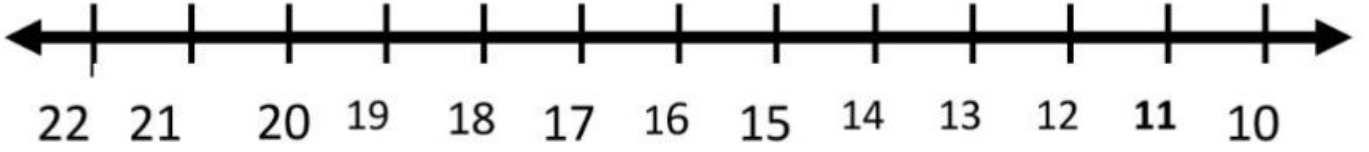


؟

40 كرة

ترتيب الأعداد

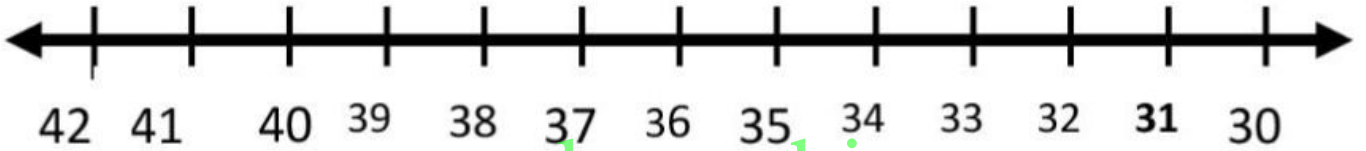
أستعمل خط الأعداد ، وأكتب الأعداد المناسبة .



22 ، ، 20

15 ، ، 13

17 ، ، 15

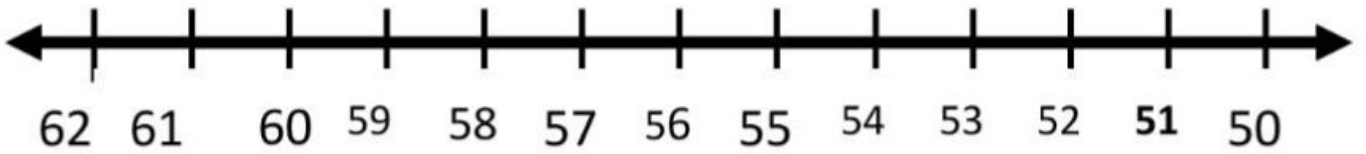


41 ، ، 39

37 ، ، 35

32 ، ، 30

www.almanahj.com



61 ، ، 59

57 ، ، 55

53 ، ، 51

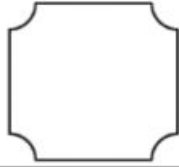
أرتب الأعداد الآتية من الأصغر إلى الأكبر:.

45 ، 30 ، 40 ، 50 ، 35 ، 55

.....

أعدّ وأكتب العدد.

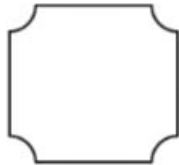
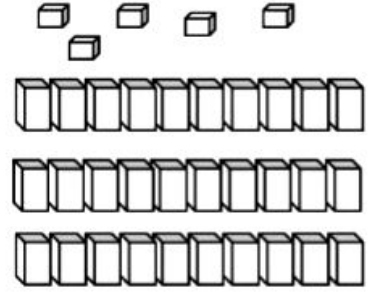
ضع دائرة حول الجواب الصحيح ثم اكتبها .



يُكتب

53

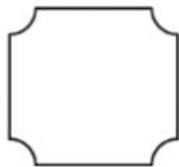
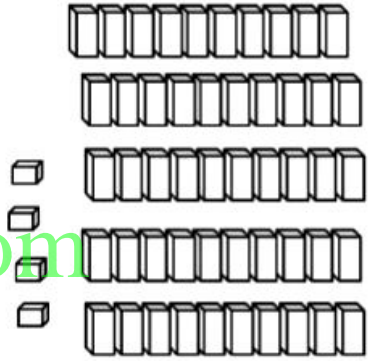
35



يُكتب

54

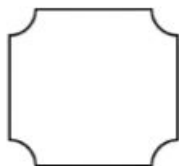
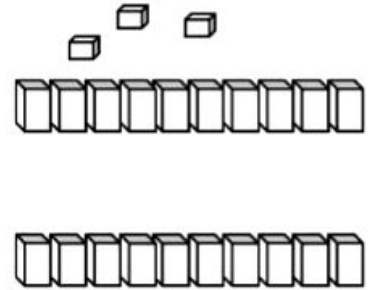
45



يُكتب

23

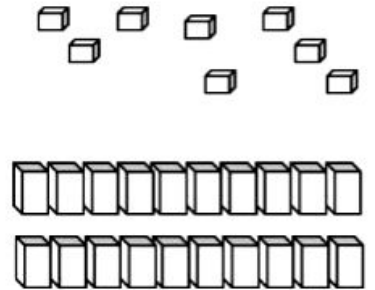
32



يُكتب

82

28



الأحاد والعشرات

أكتب العدد :-

19 أحاداً = أحادٍ و عشرات .



..... = +



17 أحاداً = أحادٍ و عشرات .



..... = +



14 أحاداً = أحادٍ و عشرات .



..... = +



12 أحاداً = أحادٍ و عشرات .



..... = +



18 أحاداً = أحادٍ و عشرات .



..... = +



11 أحاداً = أحادٍ و عشرات .



..... = +



13 أحاداً = أحادٍ و عشرات .



..... = +



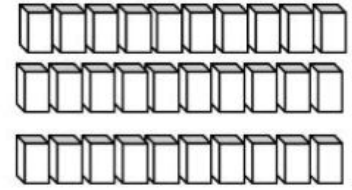
15 أحاداً = أحادٍ و عشرات .



..... = +

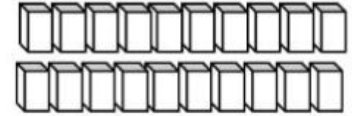


www.almanahj.com



39 آحاداً = آحادٍ و عشرات .

..... = +



27 آحاداً = آحادٍ و عشرات

..... = +

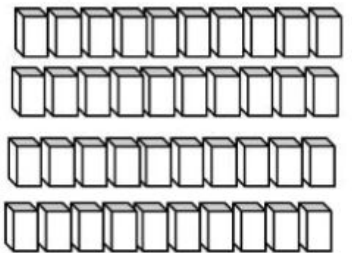
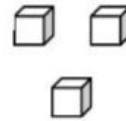


www.almanahj.com



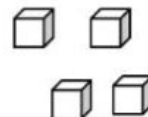
53 آحاداً = آحادٍ و عشرات .

..... = +



44 آحاداً = آحادٍ و عشرات .

..... = +



مع دانة 3 أكياس من البسكويت ، في كل كيس 10 قطع . فإذا كان في

جيبها 4 قطع أخرى ، فكم قطعة بسكويت معها ؟ قطعة بسكويت .



القيمة المنزلية للأعداد ضمن 100

أحط القيمة المنزلية للرقم الذي تحته خط

23

عشرات	آحاد

3 او 30

34

عشرات	آحاد

3 او 30

42

عشرات	آحاد

2 او 20

51

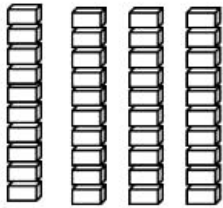
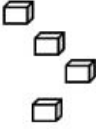
عشرات	آحاد

5 او 50

هل 5 عشرات و 2 آحاد أكبر من 2 عشرات و 5 آحاد؟ أفسر ذلك؟

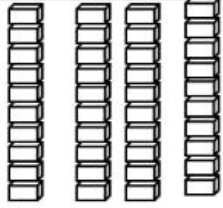

.....<.....

اقرأ العدد ، ثم اكتبه.

عشرات	آحاد
	



آحاد

عشرات

عشرات	آحاد
	

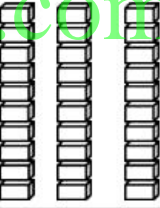

آحاد

عشرات

عشرات	آحاد
	

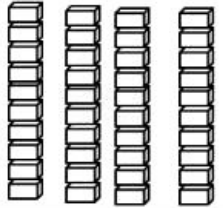

آحاد

عشرات

عشرات	آحاد
	

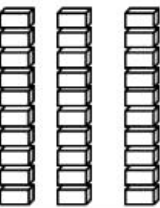
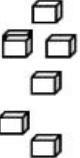
آحاد

عشرات

عشرات	آحاد
	

آحاد

عشرات





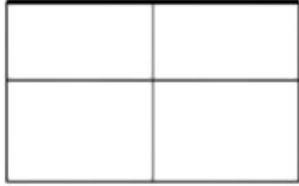
عشرات	آحاد
	

آحاد

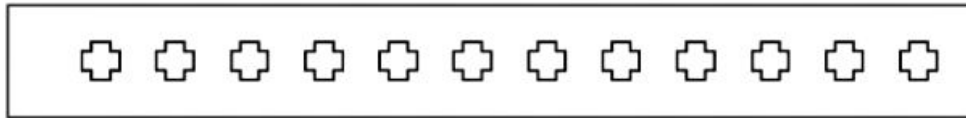
عشرات

www.almanahj.com

العد حتى 19 (1)



اكتب الأعداد بالترتيب



صل:

13

12

قراءة الأعداد وكتابتها.

أكتب الأعداد الآتية بالأرقام ، أو الكلمات:

..... خمسة وستون

..... ثلاثة وثلاثون

..... واحد ستون

..... تسعة وتسعون

..... ستة سبعون

..... أربعة عشر

..... سبعة

..... عشرون

..... 15 www.almanahj.com

..... 28

..... 100

..... 80

..... 91

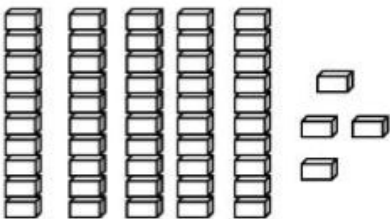
..... 17

..... 1

النموذج الآتي يمثل عدداً ، أكتبه بطريقتين .

..... 1

..... 2



تقدير الكميات



اقدر العدد فيما يأتي ، وأحوظ الإجابة :



30 تقريباً 90 تقريباً

؟

10 أزرار

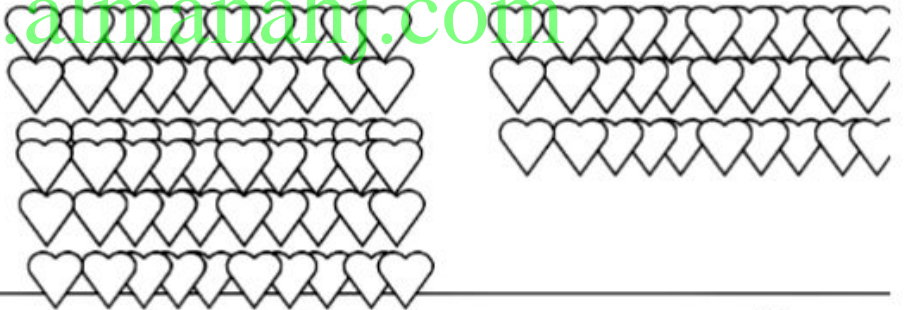


10 تقريباً 40 تقريباً

؟

20 وجه

www.almanahj.com

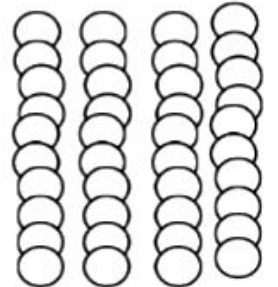
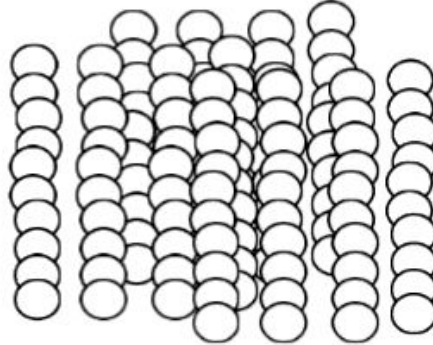


30 تقريباً 60 تقريباً

؟

30 قلب

20 تقريباً 80 تقريباً



؟

40 كرة

اكتب عدد الآحاد والعشرات.

54 آحاد = آحادٍ و..... عشرات

20 آحاد = آحادٍ و..... عشرات

13 آحاد = آحادٍ و..... عشرات

07 آحاد = آحادٍ و..... عشرات

58 آحاد = آحادٍ و..... عشرات

80 آحاد = آحادٍ و..... عشرات

89 آحاد = آحادٍ و..... عشرات

64 آحاد = آحادٍ و..... عشرات

59 آحاد = آحادٍ و..... عشرات

10 آحاد = آحادٍ و..... عشرات

قراءة الأعداد وكتابتها.

أكتب الأعداد الآتية بالأرقام ، أو الكلمات:

..... خمسة وستون

..... ثلاثة وثلاثون

www.almanahj.com