

تم تحميل هذا الملف من موقع المناهج الإماراتية



almanahj.com

موقع
المناهج الإماراتية

*للحصول على أوراق عمل لجميع الصفوف وجميع المواد اضغط هنا

<https://almanahj.com/ae>

* للحصول على أوراق عمل لجميع مواد KG2 اضغط هنا [22/ae/com.almanahj//:https](https://almanahj.com/ae/22)

* للحصول على جميع أوراق KG2 في مادة رياضيات ولجميع الفصول, اضغط هنا [22math/ae/com.almanahj//:https](https://almanahj.com/ae/22math)

* للحصول على أوراق عمل لجميع مواد KG2 في مادة رياضيات الخاصة بـ الفصل الثاني اضغط هنا


<https://almanahj.com/ae/22math2>

* لتحميل كتب جميع المواد في جميع الفصول لـ KG2 اضغط هنا [grade22/ae/com.almanahj//:https](https://almanahj.com/ae/grade22)

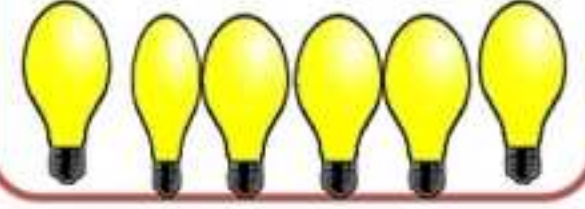
للتحدث إلى بوت المناهج على تلغرام: اضغط هنا [bot_almanahj/me.t//:https](https://t.me/bot_almanahj)

أرأيت يا صغيري بأنه عملية الطرح سهلة وممتعة فهيا
لنتدرب عليها أكثر من خلال المسائل التالية :-

هيا يا صديقي المتميز .. ركز جيداً على الجمل التالية واشطب لتري جملة الطرح العددية كما في المثال



$$8 - 2 = \text{-----}$$



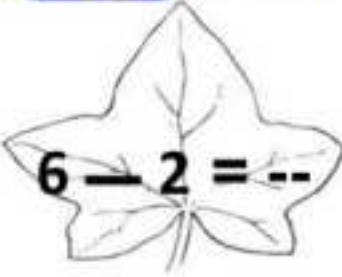
$$6 - 4 = \text{-----}$$




$$3 - 3 = \text{-----}$$



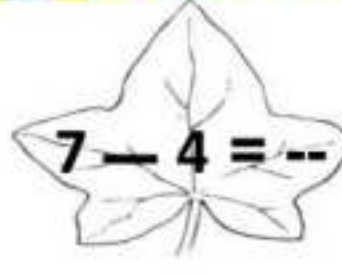
$$5 - 1 = \text{-----}$$




$$6 - 2 = \text{--}$$



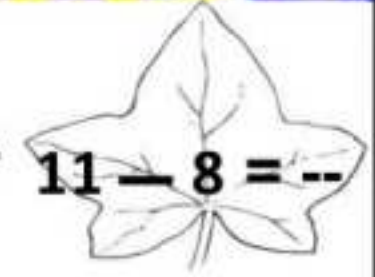
$$5 - 5 = \text{--}$$



$$7 - 4 = \text{--}$$



$$10 - 6 = \text{--}$$



$$11 - 8 = \text{--}$$

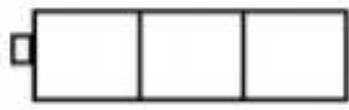
قروب رياض الاطفال على تلغرام

KG

أنقر فوق الصفحات

تذكر يا صغيري بأن عملية الطرح الأفقية والرأسية لها نفس الناتج فهيا لتتدرب عليها أكثر من خلال المسائل

هيا يا صديقي المتميز . ركز جيداً على الجمل التالية: اشطب، وجد ناتج الطرح؟

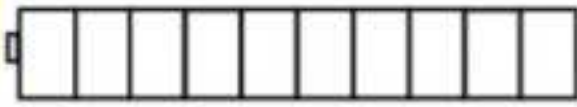


$$3 - 2 = \text{-----}$$



3

- 2




$$10 - 7 = \text{-----}$$



10

- 7

4




$$6 - 4 = \text{-----}$$




6

- 4



$$7 - 1 = \text{-----}$$



7

- 1

هيا يا صديقي المتميز .. ركز جيداً على الجمل التالية وأوجد ناتج طرح الجمل العددية؟

$$7 - 3 = \text{--}$$

$$12 - 6 = \text{--}$$

$$\begin{array}{r} 10 \\ - 0 \\ \hline \end{array}$$

$$\begin{array}{r} 3 \\ - 2 \\ \hline \end{array}$$

$$\begin{array}{r} 9 \\ - 6 \\ \hline \end{array}$$

قروب رياض الاطفال على تلغرام

KG

أنقر فوق الصفحات