

نموذج مراجعة لدرس افريقيا
الصف السادس الفصل الدراسي الثالث (2017-2018 م)
إعداد المعلمة موزة درويش الرئيسي

جميع الأسئلة اختيار من متعدد :
السؤال الأول :

- 1- أفريقيا تسمى بالقارة -----
A. الصفراء
B. السمراء
C. البيضاء
D. الخضراء

- 2- أحسب عدد خطوط الطول التي تمتد عليها قارة أفريقيا (17 غرباً و 51 شرقاً)
A. $86 = 17 + 51$ خط طول
B. $867 = 17 \times 51$ خط طول
C. $34 = 17 - 51$ خط طول
D. $3 = 17 \div 51$ خط طول

- 3- تعد قارة أفريقيا ----- قارات العالم مساحة
A. أولى
B. ثاني
C. ثالث
D. رابع

- 4- تمتد قارة أفريقيا بين دائرتي عرض ----- و -----
A. 37 شمالاً و 36 جنوباً
B. 36 شمالاً و 37 جنوباً
C. 38 شمالاً و 35 جنوباً
D. 40 شمالاً و 36 جنوباً



5- قارة أفريقيا هي القارة الوحيدة التي يخترقها -----

- A. خط الاستواء ومدار السرطان
- B. خط الاستواء ومدار الجدي
- C. خط الاستواء فقط
- D. خط الاستواء ومدار السرطان ومدار الجدي

6- يفصل قارة أفريقيا ----- و ----- عن قارة آسيا

- A. البحر المتوسط وقناة السويس
- B. البحر الأحمر وقناة السويس
- C. البحر المتوسط والمحيط الهندي
- D. البحر الأحمر ومضيق جبل طارق

7- يفصل قارة أفريقيا عن قارة أوروبا ----- و -----

- A. البحر المتوسط ومضيق جبل طارق
- B. البحر المتوسط والمحيط الأطلنطي
- C. البحر المتوسط والمحيط الهندي
- D. البحر المتوسط والبحر الأحمر

8- يمر خط الاستواء بمنتصف قارة أفريقيا وتمر بها دائرتي عرض مدار السرطان

ومدار الجدي وهذا أدى إلى وقوع معظم القارة في -----

A. العروض المدارية الباردة

B. العروض المدارية الحارة

C. العروض المدارية الرطبة

D. العروض المدارية

9- تتميز قارة أفريقيا عن باقي القارات بأنها عبارة عن -----

متوسطة الارتفاع

A. أرض صحراوية

B. جبل عال

C. هضبة عظيمة المساحة

D. أرض خضراء

10- أقسام مظاهر السطح في أفريقيا

A. أقسام مظاهر السطح في أفريقيا

الهضاب

الجبال

B. أقسام مظاهر السطح في أفريقيا

السهول

الجبال

C. أقسام مظاهر السطح في أفريقيا

السهول

الهضاب

D. أقسام مظاهر السطح في أفريقيا

السهول

الهضاب

الجبال

11- توجد جبال أطلس في -----

- A. شمال غرب القارة الأفريقية
- B. شرق القارة في مصر والسودان
- C. شرق القارة الأفريقية
- D. غرب القارة الأفريقية

12- توجد جبال البحر الأحمر في -----

- A. الشمال الشرقي من القارة الأفريقية
- B. الشمال الغربي من القارة الأفريقية
- C. جنوب القارة الأفريقية
- D. شرق القارة الأفريقية في مصر والسودان

13- تقع جبال كلمنجارو في -----

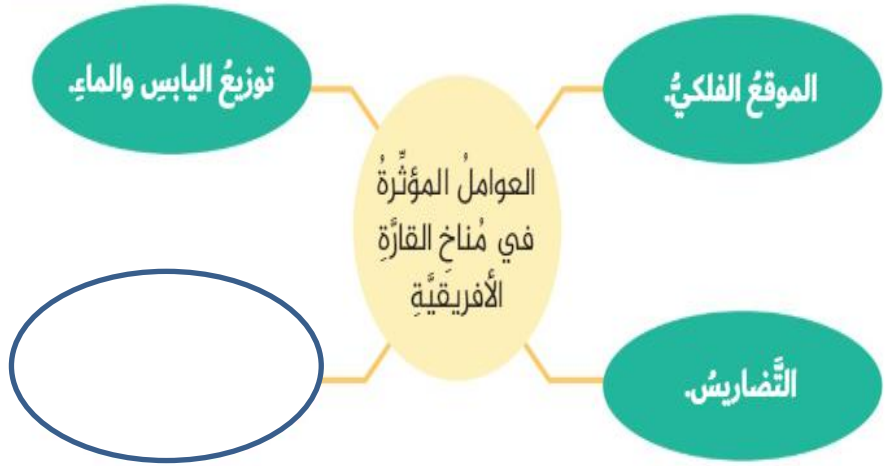
- A. شرق القارة الأفريقية
- B. غرب القارة الأفريقية
- C. جنوب القارة الأفريقية
- D. شمال القارة الأفريقية

14- تتميز القارة الأفريقية بكثرة هضابها المنتشرة على نطاق واسع ومنها -----

- A. السهول الفيضية
- B. السهول الساحلية
- C. هضبة الحبشة
- D. هضبة الدكن

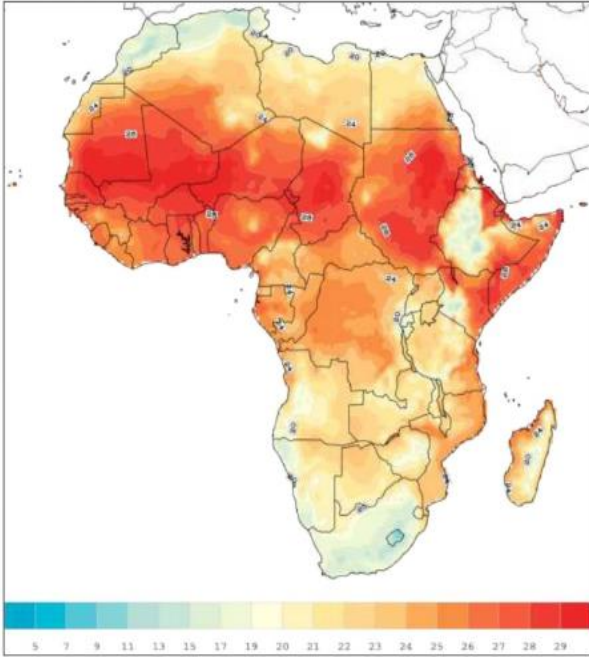
15- تتصف غالبية السهول الساحلية بالضيق وذلك بسبب -----

- A. كونتها الأنهار الكبرى
- B. تتبع منها روافد نهر النيل
- C. قرب حافات الجبال والهضاب من السواحل
- D. جميع ما ذكر



16- أكمل ما يلي

- A. الدلتا
- B. الأقمار
- C. الأحواض المائية
- D. التيارات البحرية



17- تدل الخريطة التالية على -----

- A. توزيع السكان في قارة أفريقيا
- B. خريطة الأقاليم النباتية في أفريقيا
- C. معدل درجات الحرارة في أفريقيا
- D. خريطة الأقاليم المناخية في أفريقيا

18- هي أعظم هضاب أفريقيا اتساعاً وأقفاً

وتشمل الصحراء الكبرى

- A. هضبة الحبشة
- B. هضبة أفريقيا الشمالية
- C. هضبة بركانية
- D. هضبة أفريقيا الجنوبية



19- هي أعلى هضاب أفريقيا ولها قمم عالية ووديان عميقة وتتبع منها روافد نهر النيل



- A. هضبة الحبشة
- B. هضبة أفريقيا الشمالية
- C. منخفض القطارة
- D. هضبة أفريقيا الجنوبية

20 - فسر تميز السهول الفيضية بأنها سهول عريضة

- A. كونتها الأنهار الكبرى
- B. قرب حافات الجبال والهضاب من الساحل
- C. بسبب أنها تطل على البحر المتوسط
- D. جميع ما ذكر غي صحيح

21- تعد قارة افريقيا ----- وخاصة في فصل الصيف وتعد القارة الوحيدة التي ليس فيها مكان تنخفض فيه درجة الحرارة عن 10 درجات مئوية لشهر من شهور السنة



خريطة الأقاليم النباتية

- A. أشد القارات حرارة
- B. أقل القارات حرارة
- C. أبرد القارات
- D. أكثر القارات رطوبة

22- اللون الأصفر في الخريطة يدل على -----

- A. حشائش السافانا
- B. الغابات الاستوائية
- C. الغابات الموسمية
- D. نباتات صحراوية

وجه المقارنة	الإقليم الاستوائي	الإقليم المداري (السوداني)	الإقليم الصحراوي الحار
التوزيع الجغرافي	• حوض الكونغو. • ساحل غانا.	• شمال الإقليم الاستوائي وجنوبه، مثل وسط وجنوب السودان.	• الصحراء الكبرى. • صحراء الصومال. • صحراء كلهاري.
الخصائص المناخية	• ارتفاع درجة الحرارة طول العام. • سقوط أمطار دائمة وغزيرة.	• حرارة مرتفعة صيفًا وأمطار غزيرة. • الشتاء جاف بشكل عام.	• ارتفاع درجة الحرارة معظم العام خاصة في النهار. • المدى الحراري الكبير، وخصوصًا اليومي. • الأمطار نادرة، ومفاجئة.
النبات الطبيعي	• تنمو غابات كثيفة، ومن أشجارها: المطاط - الكاكاو - نخيل الزيت - الماهونجي.	• حشائش السافانا.	• نباتات شوكة أو الصبار، فهي تتحمل الجفاف. • أشجار النخيل في الواحات، فتمتد جذورها إلى المياه الجوفية.

23- انظر الجدول التالي ثم أجب عن الأسئلة التالية الخصائص المناخية

----- هي الشتاء جاف بشكل عام

A. الإقليم المداري السوداني

B. الإقليم الصحراوي الحار

C. الإقليم الاستوائي

D. ساحل غانا

24- تنمو غابات كثيفة ومن أشجارها الماهونجي في الإقليم

A. الاستوائي

B. السوداني

C. المداري

D. الصحراوي الحار

25- صحراء كلهاري موجودة ضمن الإقليم

A. المداري

B. السوداني

C. الاستوائي

D. الصحراوي الحار

26- اللون البنفسجي في الخريطة

التالية يدل على

A. إقليم البحر المتوسط

B. الإقليم الموسمي

C. الإقليم المداري السوداني

D. الإقليم الاستوائي وشبه الاستوائي



خريطة الأقاليم المناخية



27 - ألاحظ خريطة آسيا وأفريقيا ثم أجب عن الأسئلة التالية سواحل قارة أفريقيا هي

سواحل مستقيمة أما سواحل قارة آسيا هي سواحل -----

A. مستقيمة جداً

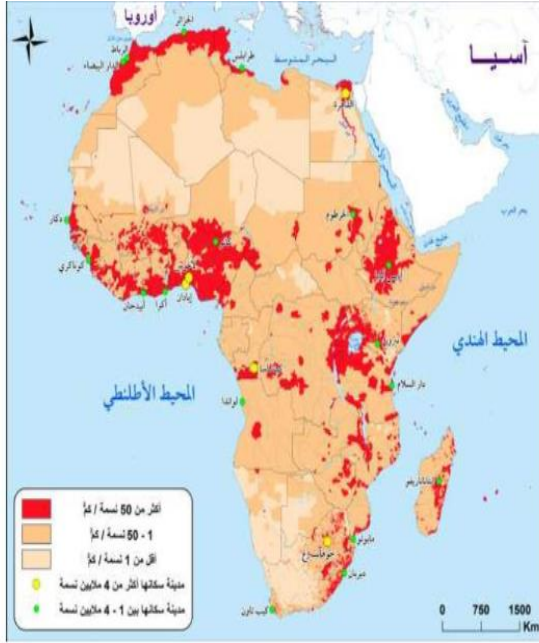
B. متعرجة

C. طويلة

D. عريضة

28- انظر إلى الخريطة التالية وأجب عن الأسئلة التالية : فسر تركيز السكان حول الأنهار والدلتا

- A. وفرة المياه
- B. خصوبة التربة
- C. ممارسة الزراعة
- D. جميع ما ذكر



29 - اللون الأحمر في الخريطة يدل على -----

- A. 1- 50 نسمة / كم مربع
- B. أكثر من 50 نسمة / كم مربع
- C. أقل من 1 نسمة / كم مربع
- D. مدن سكانية بين 10 4 مليون نسمة



30- من خلال الخريطة التالية :
أجب عن الأسئلة (س 31 إلى س 34)

ما هي عاصمة مصر ؟

- A. الإسكندرية
- B. الفيوم
- C. القاهرة
- D. السويس

31- تقع جمهورية مصر في أقصى ----- من قارة افريقيا

- A. الشمال الغربي
- B. الشمال الشرقي
- C. الجنوب الشرقي
- D. الجنوب الغربي

32- هو جزء من أراضي مصر في قارة آسيا -----

A. شبه جزيرة سيناء

B. الفيوم

C. سوهاج

D. الغردقة

33 - تشترك مصر بحدودها من الشمال الشرقي مع -----

A. ليبيا

B. فلسطين

C. السودان

D. البحر الأحمر

34- أهمية موقع مصر الجغرافي

A. قلب الوطن الأوروبي

B. حلقة وصل بين قارة أمريكا وأوروبا

C. نشوء أعظم الحضارات

D. مناخ حار ورطب جداً

35- اسم رئيس مصر الحالي هو -----

A. جمال عبدالناصر

B. حسني مبارك

C. أنور السادات

D. عبدالفتاح السيسي

36- ترتبط مصر ودولة الإمارات بعلاقات وثيقة ومن المواقف التي تدل على ذلك هو

موقف الشيخ زايد رحمه الله باتخاذ قرار تاريخي بدعم الحركة القومية في مصر في

حرب -----

A. نوفمبر 1973 م

B. أكتوبر 1974 م

C. أكتوبر 1973 م

D. نوفمبر 1974 م

- 37- من المواقف التي تؤكد العلاقات بين مصر والإمارات
- A. مشاركة دولة الإمارات في تنفيذ عدد من المشروعات التنموية في مصر
 - B. كانت من الدول التي تأخرت في تأييد الثورة المصرية
 - C. وقفت الإمارات مكتوفة اليدين ولم تساهم في خروج مصر من أزمتها الاقتصادية
 - D. جميع ما ذكر

38 - (أنها قلب الأمة العربية النابض) من قائل هذه العبارة

- A. الشيخ محمد بن زايد
- B. الشيخ زايد بن سلطان آل نهيان
- C. الشيخ محمد بن راشد
- D. الرئيس المصري عبدالفتاح السيسي

39- يرجع تاريخ العلاقات المصرية - الإماراتية إلى ما قبل عام -----

- A. 1976 م
- B. 1978 م
- C. 1975 م
- D. 1971 م

40- صدر اول دستور لمصر عام -----

- A. 1922 م
- B. 1923 م
- C. 1914 م
- D. 1882 م

نموذج الإجابة

نموذج مراجعة لدرس افريقيا
الصف السادس الفصل الدراسي الثالث (2017-2018 م)
إعداد المعلمة موزة درويش الرئيسي

جميع الأسئلة اختيار من متعدد :
السؤال الأول :

1- أفريقيا تسمى بالقارة -----

- A. الصفراء
- B. السمراء**
- C. البيضاء
- D. الخضراء

2- أحسب عدد خطوط الطول التي تمتد عليها قارة أفريقيا (17 غرباً و 51 شرقاً)

- A. $86 = 17 + 51$ خط طول
- B. $867 = 17 \times 51$ خط طول
- C. $34 = 17 - 51$ خط طول**
- D. $3 = 17 \div 51$ خط طول

3- تعد قارة أفريقيا ----- قارات العالم مساحة

- A. أولى
- B. ثاني**
- C. ثالث
- D. رابع

4- تمتد قارة أفريقيا بين دائرتي عرض ----- و -----

- A. 37 شمالاً و 36 جنوباً**
- B. 36 شمالاً و 37 جنوباً
- C. 38 شمالاً و 35 جنوباً
- D. 40 شمالاً و 36 جنوباً

نموذج الإجابة



5- قارة أفريقيا هي القارة الوحيدة التي يخترقها -----

A. خط الاستواء ومدار السرطان

B. خط الاستواء ومدار الجدي

C. خط الاستواء فقط

D. خط الاستواء ومدار السرطان ومدار الجدي

6- يفصل قارة أفريقيا ----- و ----- عن قارة آسيا

A. البحر المتوسط وقناة السويس

B. البحر الأحمر وقناة السويس

C. البحر المتوسط والمحيط الهندي

D. البحر الأحمر ومضيق جبل طارق

7- يفصل قارة أفريقيا عن قارة أوروبا ----- و -----

A. البحر المتوسط ومضيق جبل طارق

B. البحر المتوسط والمحيط الأطلنطي

C. البحر المتوسط والمحيط الهندي

D. البحر المتوسط والبحر الأحمر

8- يمر خط الاستواء بمنتصف قارة أفريقيا وتمر بها دائرتي عرض مدار السرطان ومدار الجدي وهذا أدى إلى وقوع معظم القارة في

نموذج الإجابة

- A. العروض المدارية الباردة
B. العروض المدارية الحارة
C. العروض المدارية الرطبة
D. العروض المدارية

9- تتميز قارة أفريقيا عن باقي القارات بأنها عبارة عن
متوسطة الارتفاع

- A. أرض صحراوية
B. جبل عال
C. هضبة عظيمة المساحة
D. أرض خضراء

10- أقسام مظاهر السطح في أفريقيا

A. أقسام مظاهر السطح في أفريقيا

الهضاب الجبال

B. أقسام مظاهر السطح في أفريقيا

السهول الجبال

C. أقسام مظاهر السطح في أفريقيا

السهول الهضاب

D. أقسام مظاهر السطح في أفريقيا

السهول الهضاب الجبال

نموذج الإجابة

- 11- توجد جبال أطلس في -----
A. شمال غرب القارة الأفريقية
B. شرق القارة في مصر والسودان
C. شرق القارة الأفريقية
D. غرب القارة الأفريقية

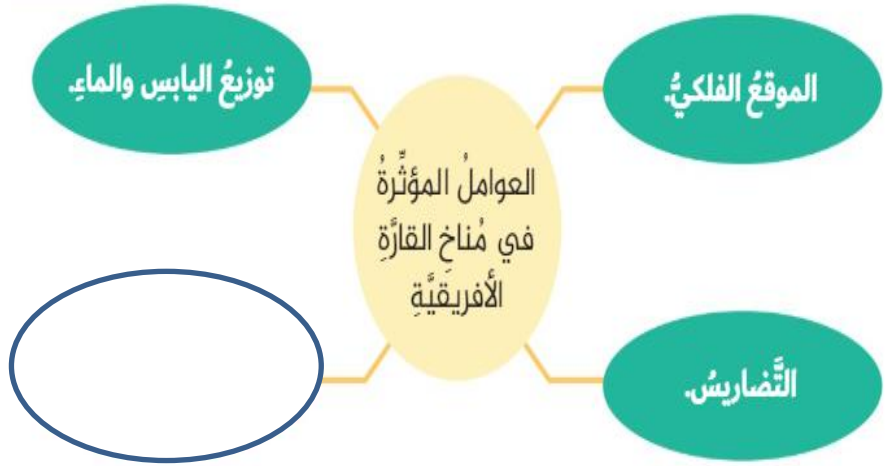
- 12- توجد جبال البحر الأحمر في -----
A. الشمال الشرقي من القارة الأفريقية
B. الشمال الغربي من القارة الأفريقية
C. جنوب القارة الأفريقية
D. شرق القارة الأفريقية في مصر والسودان

- 13- تقع جبال كلمنجارو في -----
A. شرق القارة الأفريقية
B. غرب القارة الأفريقية
C. جنوب القارة الأفريقية
D. شمال القارة الأفريقية

- 14- تتميز القارة الأفريقية بكثرة هضابها المنتشرة على نطاق واسع ومنها -----
A. السهول الفيضية
B. السهول الساحلية
C. هضبة الحبشة
D. هضبة الدكن

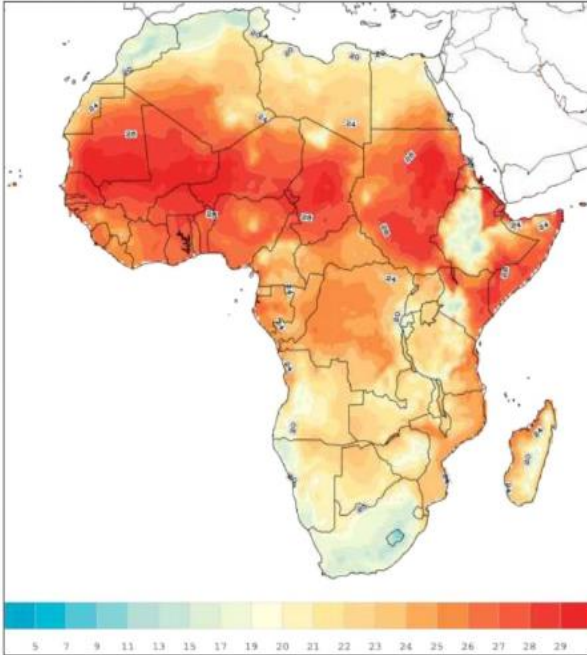
- 15- تتصف غالبية السهول الساحلية بالضيق وذلك بسبب -----
A. كونتها الأنهار الكبرى
B. تتبع منها روافد نهر النيل
C. قرب حافات الجبال والهضاب من السواحل
D. جميع ما ذكر

نموذج الإجابة



16- أكمل ما يلي

- A. الدلتا
- B. الأقمار
- C. الأحواض المائية
- D. التيارات البحرية



17- تدل الخريطة التالية على -----

- A. توزيع السكان في قارة أفريقيا
- B. خريطة الأقاليم النباتية في أفريقيا
- C. معدل درجات الحرارة في أفريقيا
- D. خريطة الأقاليم المناخية في أفريقيا

18- هي أعظم هضاب أفريقيا اتساعاً وأقفاً

وتشمل الصحراء الكبرى

- A. هضبة الحبشة
- B. هضبة أفريقيا الشمالية
- C. هضبة بركانية
- D. هضبة أفريقيا الجنوبية



19- هي أعلى هضاب أفريقيا ولها قمم عالية ووديان عميقة وتتبع منها روافد نهر النيل



A. هضبة الحبشة

B. هضبة أفريقيا الشمالية

C. منخفض القطارة

D. هضبة أفريقيا الجنوبية

نموذج الإجابة

20 - فسر تميز السهول الفيضية بأنها سهول عريضة

A. كونتها الأنهار الكبرى

B. قرب حافات الجبال والهضاب من الساحل

C. بسبب أنها تطل على البحر المتوسط

D. جميع ما ذكر غي صحيح

21- تعد قارة افريقيا ----- وخاصة في فصل الصيف وتعد القارة الوحيدة التي ليس فيها مكان تنخفض فيه درجة الحرارة عن 10 درجات مئوية لشهر من شهور السنة

A. أشد القارات حرارة

B. أقل القارات حرارة

C. أبرد القارات

D. أكثر القارات رطوبة



خريطة الأقاليم النباتية

22- اللون الأصفر في الخريطة يدل

على -----

A. حشائش السافانا

B. الغابات الاستوائية

C. الغابات الموسمية

D. نباتات صحراوية

وجه المقارنة	الإقليم الاستوائي	الإقليم المداري (السوداني)	الإقليم الصحراوي الحار
التوزيع الجغرافي	• حوض الكونغو. • ساحل غانا.	• شمال الإقليم الاستوائي وجنوبه، مثل وسط وجنوب السودان.	• الصحراء الكبرى. • صحراء الصومال. • صحراء كلهاري.
الخصائص المناخية	• ارتفاع درجة الحرارة طول العام. • سقوط أمطار دائمة وجزيرة.	• حرارة مرتفعة صيفًا وأمطار جزيرة. • الشتاء جاف بشكل عام.	• ارتفاع درجة الحرارة معظم العام خاصة في النهار. • المدى الحراري الكبير، وخصوصًا اليومي. • الأمطار نادرة، ومفاجئة.
النبات الطبيعي	• تنمو غابات كثيفة، ومن أشجارها: المطاط - الكاكاو - نخيل الزيت - الماهونجي.	• حشائش السافانا.	• نباتات شوكة أو الصبار، فهي تتحمل الجفاف. • أشجار النخيل في الواحات، فتمتد جذورها إلى المياه الجوفية.

23- انظر الجدول التالي ثم أجب عن الأسئلة التالية الخصائص المناخية

----- هي الشتاء جاف بشكل عام

- A. الإقليم المداري السوداني
B. الإقليم الصحراوي الحار
C. الإقليم الاستوائي
D. ساحل غانا

24- تنمو غابات كثيفة ومن أشجارها الماهونجي في الإقليم

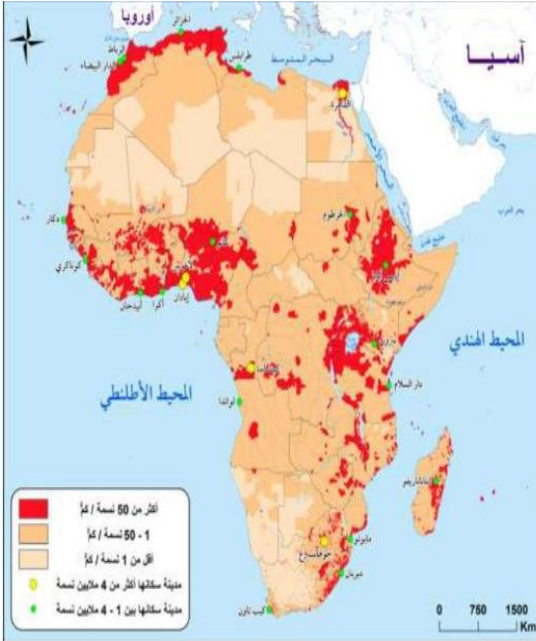
- A. الاستوائي
B. السوداني
C. المداري
D. الصحراوي الحار

25- صحراء كلهاري موجودة ضمن الإقليم

- A. المداري
B. السوداني
C. الاستوائي
D. الصحراوي الحار

نموذج
الإجابة

28- انظر إلى الخريطة التالية وأجب عن الأسئلة التالية : فسر تركيز السكان حول الأنهار والدلتا



- A. وفرة المياه
- B. خصوبة التربة
- C. ممارسة الزراعة
- D. جميع ما ذكر

29 - اللون الأحمر في الخريطة يدل على -----

- A. 1- 50 نسمة / كم مربع
- B. أكثر من 50 نسمة / كم مربع
- C. أقل من 1 نسمة / كم مربع
- D. مدن سكانية بين 10 4 مليون نسمة



30- من خلال الخريطة التالية :
أجب عن الأسئلة (س31 إلى س34)

ما هي عاصمة مصر ؟

- A. الإسكندرية
- B. الفيوم
- C. القاهرة
- D. السويس

31- تقع جمهورية مصر في أقصى ----- من قارة افريقيا

- A. الشمال الغربي
- B. الشمال الشرقي
- C. الجنوب الشرقي
- D. الجنوب الغربي

نموذج
الإجابة

نموذج الإجابة

32- هو جزء من أراضي مصر في قارة آسيا -----

- A. شبه جزيرة سيناء
- B. الفيوم
- C. سوهاج
- D. الغردقة

33 - تشترك مصر بحدودها من الشمال الشرقي مع -----

- A. ليبيا
- B. فلسطين
- C. السودان
- D. البحر الأحمر

34- أهمية موقع مصر الجغرافي

- A. قلب الوطن الأوروبي
- B. حلقة وصل بين قارة أمريكا وأوروبا
- C. نشوء أعظم الحضارات
- D. مناخ حار ورطب جداً

35- اسم رئيس مصر الحالي هو -----

- A. جمال عبدالناصر
- B. حسني مبارك
- C. أنور السادات
- D. عبدالفتاح السيسي

36- ترتبط مصر ودولة الإمارات بعلاقات وثيقة ومن المواقف التي تدل على ذلك هو موقف الشيخ زايد رحمه الله باتخاذ قرار تاريخي بدعم الحركة القومية في مصر في

حرب -----

- A. نوفمبر 1973 م
- B. أكتوبر 1974 م
- C. أكتوبر 1973 م
- D. نوفمبر 1974 م

- 37- من المواقف التي تؤكد العلاقات بين مصر والإمارات
- A. مشاركة دولة الإمارات في تنفيذ عدد من المشروعات التنموية في مصر
 - B. كانت من الدول التي تأخرت في تأييد الثورة المصرية
 - C. وقفت الإمارات مكتوفة اليدين ولم تساهم في خروج مصر من أزمتها الاقتصادية
 - D. جميع ما ذكر

- 38 - (أنها قلب الأمة العربية النابض) من قائل هذه العبارة
- A. الشيخ محمد بن زايد
 - B. الشيخ زايد بن سلطان آل نهيان
 - C. الشيخ محمد بن راشد
 - D. الرئيس المصري عبدالفتاح السيسي

- 39- يرجع تاريخ العلاقات المصرية - الإماراتية إلى ما قبل عام -----
- A. 1976 م
 - B. 1978 م
 - C. 1975 م
 - D. 1971 م

- 40- صدر اول دستور لمصر عام -----
- A. 1922 م
 - B. 1923 م
 - C. 1914 م
 - D. 1882 م

نموذج
الإجابة