



المادة: الدراسات الاجتماعية والتربية الوطنية

الصف: السادس

امتحان نهاية الفصل الدراسي الأول  
للعام الدراسي 2017 / 2018 م  
عدد صفحات الأسئلة : ( 5 )

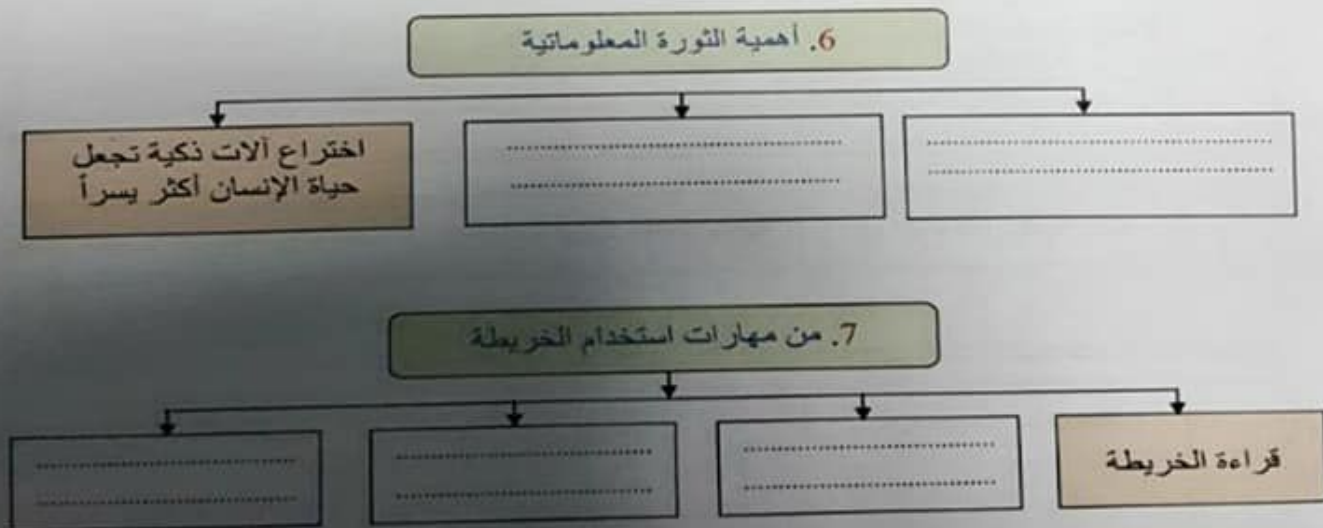
34

السؤال الأول

أولاً: اكتب ( اسم المفهوم / المصطلح ) الموجود بين القوسين أمام كل تعريف يناسبه حسب معطيات الجدول:  
( الموسوعات - الثورة الصناعية - الواجبات - الخريطة - المواطنة )

م	المفهوم / المصطلح	التعريف
1.	.....	موروث مشترك من المبادئ والقيم والعادات بين الأفراد في الدولة الواحدة.
2.	.....	تمثيل لسطح الأرض الكروي أو جزء منه على سطح مستوي لتوضيح الظواهر بمقياس رسم معين ورموز معينة.
3.	.....	الاتجاه نحو الإنتاج باستخدام الآلات الصناعية كبديل عن العمل اليدوي للإنسان.
4.	.....	الالتزام الذي ينبغي أن يؤديه الفرد تجاه الوطن الذي يعيش فيه.
5.	.....	مؤلفات تحوي معلومات حول موضوعات المعرفة الإنسانية أو متخصصة في موضوع معين.

ثانياً: أتم بناء المخططات الذهنية الآتية بما يناسب:



ثالثاً : قدم تفسيرين اثنين لكل مما يلي:

8. ظهور الثورة الصناعية في إنجلترا دون غيرها من الدول الأوروبية.

.....  
.....

9. تعد دولة الإمارات العربية المتحدة عاصمة إنسانية عالمية.

.....  
.....




10. قيام الحضارات القديمة.

.....  
.....

34

### السؤال الثاني

أولاً: - سجل في الفراغ الصفة المشتركة التي تجمع بين الكلمات الواردة في الجدول:

			.11
التجارة الإلكترونية	البريد الإلكتروني	الشبكة المعلوماتية ( الإنترنت )	
.....			

الإيمان بالوحدة الوطنية	الولاء للقيادة الرشيدة للوطن	حب الوطن والانتماء له	.12
.....			

خدمة الوطن	التطوع	المسؤولية المجتمعية	.13
.....			

ثانياً: - قم بإجراء العمليات الحسابية التالية:

14- احسب المسافة بين مدينة أبوظبي التي تقع قرب دائرة 25 درجة شمالاً وبين القطب الجنوبي (90 درجة)

على خريطة خلت من مقياس الرسم.

.....

.....

.....

15- إذا كانت الساعة في مدينة رأس الخيمة العاشرة صباحاً الواقعة على خط طول 56 شرقاً، فكم تكون

الساعة في مدينة الدار البيضاء الواقعة على خط طول 8 غرباً.

.....

.....

.....

ثالثاً: استكمل المقارنة بين الآثار الإيجابية والآثار السلبية للثورة المعلوماتية وفق معطيات الجدول الآتي :

الآثار السلبية	الآثار الإيجابية	16.
.....	- توفر المعلومات بسرعة فائقة وجودة عالية.	
.....	.....	
- ازدياد معدلات الجريمة وظهور جرائم إلكترونية.	.....	

رابعاً : ضع الرقم المناسب من العمود ( أ ) بين القوسين أمام العبارة التي يناسبه في العمود ( ب ):

العمود ( ب )	العمود ( أ )
( ) مبين الجهات - مفتاح - إطار	17- أشكال مقياس الرسم
( ) الانتماء - الحقوق - الواجبات	18- من مراحل الثورة الصناعية
( ) الكتابي - البياني - الخطي	19- مكونات المواطنة الإيجابية
( ) الآلات البخارية - المصانع والمدن - تعدين الفحم	20- من عناصر الخريطة

### السؤال الثالث

أولاً: أكمل الفراغات في الجمل التالية بما يناسبها :

21. بابل كلمة تعني .....

22. كل جهد فردي أو جماعي يهدف إلى تحقيق منفعة عامة دون مقابل أو أجر يسمى .....

23. يقصد بأسلوب جمع المعلومات والحقائق المتصلة بظاهرة معينة من خلال زيارة المنطقة بـ .....

24. ينطبق خطا طول 180 شرقاً وغرباً ليكونا خطأ واحداً يعرف باسم .....

ثانياً: سجل إجابتين لكل مما يلي :

25. إنجازات دولة العربية المتحدة في مجال الثورة المعلوماتية.

26. واجبات المواطن التي يؤديها إلزامياً.

27. إنجازات حمورابي.

ثالثاً: اقرأ النص الآتي ثم أجب:

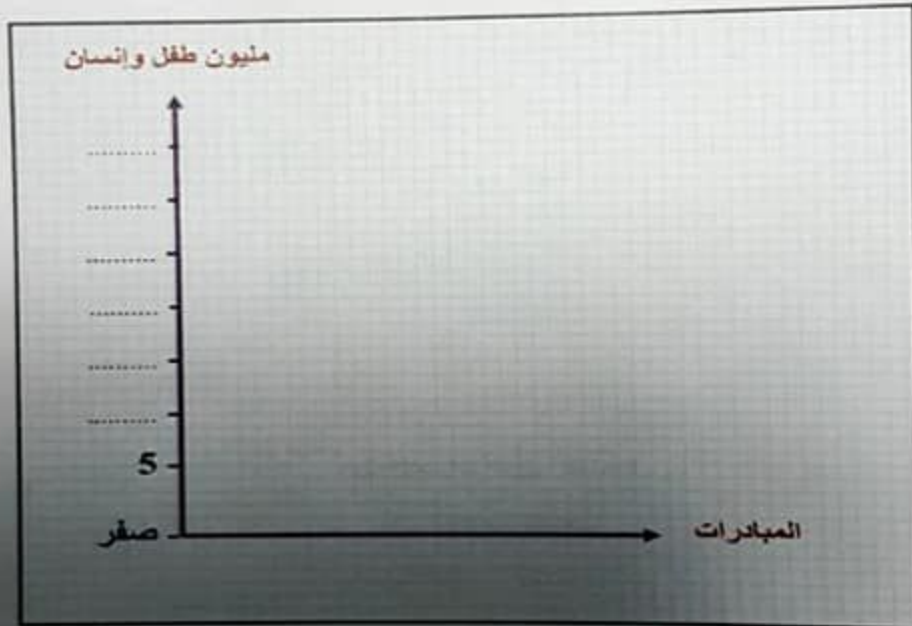
تهدف رؤية صاحب السمو الشيخ محمد بن راشد آل مكتوم - رعااه الله - في مجال العمل الإنساني إلى تغيير حياة 130 مليون إنسان حتى عام 2025م، وتضم المبادرات قطاعات رئيسية هي مكافحة الفقر ونشر المعرفة وتمكين المجتمع وابتكار المستقبل، ومن مبادراته دعم وتعليم 20 مليون طفل ووقاية وعلاج 30 مليون إنسان من العمى وأمراض العيون حتى عام 2025م، وطباعة 10 ملايين كتاب، واستثمار 2 مليار درهم في إنشاء الأبحاث الطبية والمستشفيات، ورصد 500 مليون درهم لأبحاث المياه.

28. صغ تعريفاً مناسباً للعمل الإنساني.

29. استخلص اثنين من القطاعات الرئيسية التي تضمها مبادرات الشيخ محمد بن راشد آل مكتوم - رعاه الله -

30. مثل بطريقة الأعمدة مبادرات ودعم كل من:

( التعليم - الوقاية والعلاج ) .



انتهت الأسئلة بالتوفيق والنجاح